

1) Lea las siguientes características

1 Búsqueda de nuevos mercados para la colocación de excedentes de producción y adquisición de materias primas a bajo costo.

2 Visualización colonialista como una acción civilizadora para llevar el progreso a las regiones atrasadas en Asia, África y Oceanía.

3 Promoción de la fisiocracia con la finalidad de que las colonias explotaran los recursos para acumular grandes capitales y excedentes de producción.
--

4 Sometimiento de regiones “descubiertas” producto de las exploraciones e imposición de los elementos culturales propios de la población europea.

¿Cuál número de los anteriores identifica una causa económica que contribuyó con el proceso de expansión desarrollado por el imperio británico?

- A) 1
- B) 2
- C) 3
- D) 4

2) Lea la siguiente información

Las potencias imperialistas de finales del siglo XIX, consideraron atrasadas a las poblaciones de las colonias y sustentaron su hegemonía desde una visión eurocentrista.

De acuerdo con la información anterior se puede establecer que durante el proceso de expansionismo las potencias europeas

- A) Explotaron nuevas tierras ampliando de esta forma sus conocimientos geográficos y científicos
- B) Propiciaron el desarrollo económico y modernización de todos los medios productivos de sus colonias.
- C) Respetaron las costumbres, patrones culturales y variables idiomáticas de los pueblos primitivos ubicados en sus áreas de dominio.
- D) Se fundamentaron en postulados como el de la superioridad y supervivencia de las especies más aptas para civilizar las personas que consideraban inferiores

3) Lea el siguiente texto

Las personas que volvieron a sus hogares después de la guerra no siempre se adaptaban, algunas regresaron con sus rostros desfigurados, sin extremidades, otras recordaban los terrores nocturnos de los ataques o estallidos de las bombas. En muchas de ellas los traumas no siempre desaparecían, hablar de sus experiencias les costaba y en ocasiones ni siquiera tenían a nadie que las escuchara o entendiera.

En el contexto de la Primera Guerra Mundial, en el texto anterior, se describen situaciones que

- A) Vivieron los niños y adultos mayores en los campos de concentración
- B) Experimentaron los líderes políticos en las líneas de guerra o trincheras
- C) Padecieron poblaciones como los judíos y gitanos, producto de los exterminios en serie
- D) Sufrieron los soldados en la vida cotidiana después de haber participado en los combates

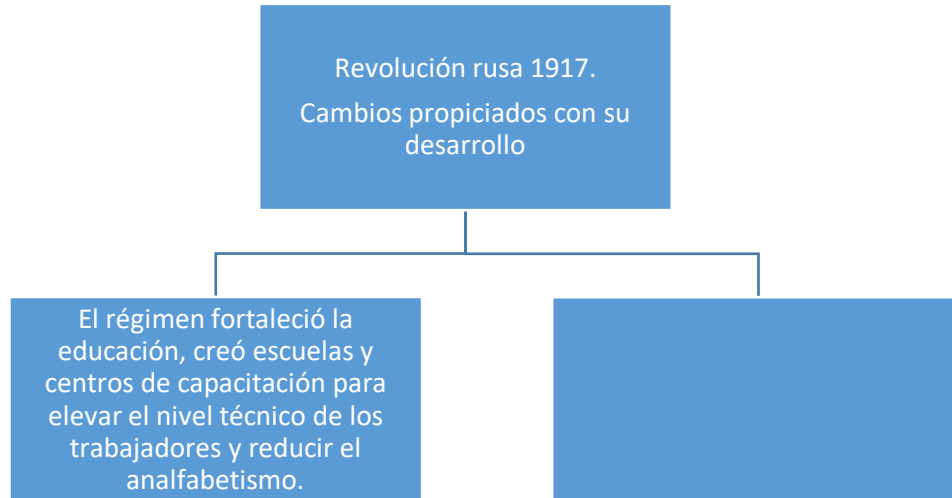
4) Lea el siguiente texto

Otra de las consecuencias producidas por la Segunda Guerra Mundial fueron las pérdidas de vidas humanas. Se calcula que entre 10 y 13 millones de personas murieron como resultado de los avances tecnológicos utilizados en la fabricación de armas.

A partir del texto anterior, ¿cuál fue un impacto de la Segunda Guerra en la estructura social y económica de las sociedades que entraron en conflicto?

- A) Crecimiento vertiginoso de la mano de obra femenina especializada en las labores industriales
- B) Contracción de los índices de desempleo, pobreza, inseguridad, delincuencia y de las zonas de exclusión
- C) Separación de los núcleos familiares, niños en estado de abandono y estancamiento de la producción
- D) Desplazamiento de personas de la ciudad hacia el campo con el objetivo de reactivar las actividades agrícolas.

5) Lea el siguiente esquema



¿Cuál opción completa correctamente el esquema anterior?

- A) La ideología socialista se propagó y fue puesta en práctica en todos los países del mundo occidental
- B) El poderío de la Unión de Repúblicas Socialistas Soviéticas se basó en la creación del Partido Central Nacionalista
- C) La autoridad de los soviets fue destituida, razón por la que se estableció el régimen autocrático de los zares
- D) El Estado nacionalizó las entidades bancarias, las minas, los ferrocarriles y recursos naturales dejándolos en manos de los obreros


6) Lea la siguiente información

Paralelamente a los cambios sociales, la Unión de Repúblicas Socialistas Soviéticas logró desarrollar aceleradamente la industria, principalmente la de maquinaria pesada.

De acuerdo con la información anterior, ¿cuál fue una de las transformaciones producto del desarrollo de la Revolución Rusa?

- A) El nuevo modelo de desarrollo económico generó mayores fuentes de empleo en la ciudad y el aumento de la población urbana
- B) Los sectores aristocráticos y las élites dominantes asumieron el control supremo y absoluto de los medios de producción
- C) Los procesos de industrialización permitieron la erradicación de la pobreza y mejores salarios para los obreros
- D) La Unión de Repúblicas Socialistas Soviéticas se perfiló como la única potencia económica del mundo

7) Observe la siguiente imagen



De acuerdo con la imagen anterior, ¿cuál fue un efecto que tuvo la crisis económica de 1929 y depresión de 1930 en la cotidianidad del ser humano?

- A) El aumento en los costos de los artículos de primera necesidad
- B) El exceso de productos agrícolas generó un colapso en la generación de empleos
- C) La ruina de los inversionistas, el cierre de empresas y por ende, el aumento de la capacidad adquisitiva de la población
- D) La reducción de los índices de pobreza situación que incidió en el mejoramiento de las condiciones de vida de la población

8) Lea la siguiente información

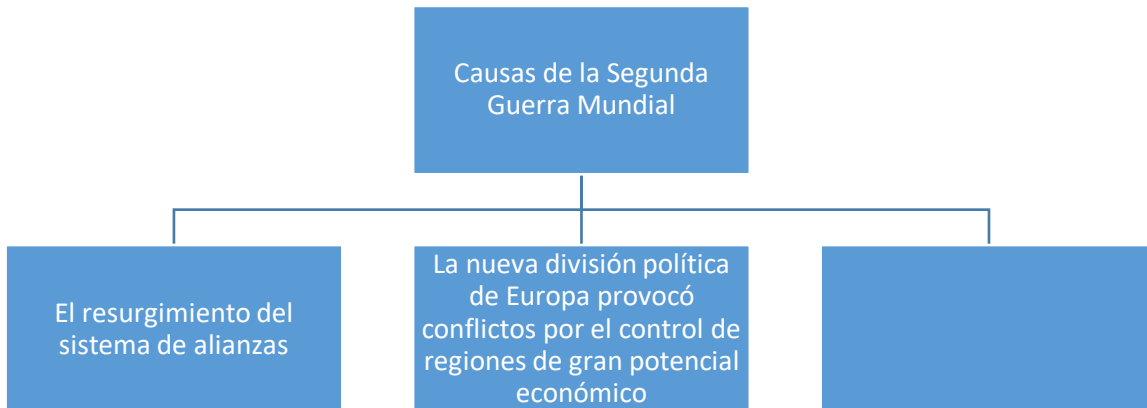
1 Aumento de la indigencia y la mendicidad	2 Abaratamiento de los costos de los alquileres
3 Fortalecimiento del Estado Liberal	4 Empobrecimiento de la población

¿Cuáles números de los anteriores identifican dos efectos ocasionados por la crisis económica de 1929 y depresión de 1930 en la cotidianidad del ser humano?

- A) 1 y 3
- B) 1 y 4
- C) 2 y 3
- D) 2 y 4

9) Durante la primera mitad del siglo XX se desarrollaron dos guerras a escala global que afectaron a la población de diversos países del mundo, ¿cuál fue una razón que explica el desarrollo de la Segunda Guerra Mundial?

- A) La rivalidad y los enfrentamientos de las potencias imperialistas con el fin de ampliar su espacio vital en los países latinoamericanos
- B) Las tensiones y rivalidades entre los países del Medio Oriente y África por participar activamente en los procesos de expansión territorial
- C) Disputas entre Estados Unidos de América, como potencia capitalista y la Unión Soviética como potencia socialista, con el objetivo de consolidar sus hegemonías políticas y económicas
- D) El ascenso al poder de gobiernos de corte totalitarista, tales como el nazismo alemán y el fascismo italiano, que robustecieron sus fuerzas armadas para expandir sus dominios sobre otros espacios geográficos



¿Cuál opción completa correctamente la información anterior?

- A) La invasión de Alemania a Polonia tras la operación denominada "Plan Blanco"
- B) La rivalidad de las potencias europeas por el agotamiento de los mercados a nivel mundial
- C) El uso de armas químicas y tanques de guerra por parte de las naciones del eje en los diferentes frentes de batalla
- D) El descontento de Alemania por las medidas asumidas en la Conferencia de Berlín, en cuanto a la distribución territorial de los continentes asiático y africano

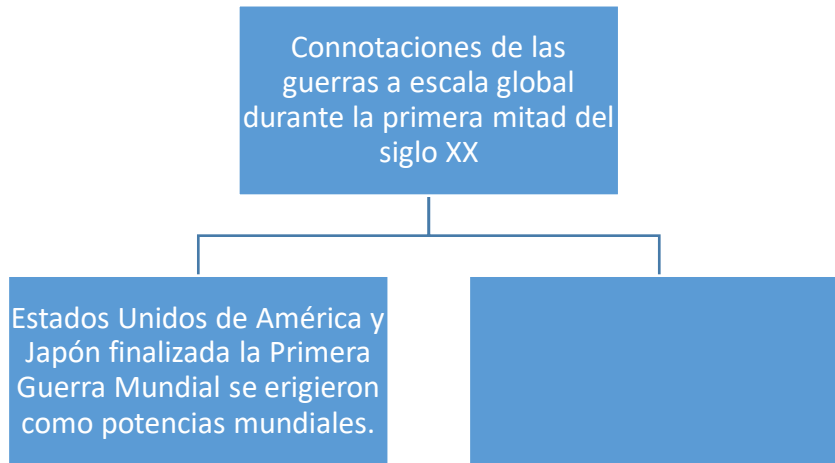
11) Observe el siguiente croquis del mapa de Alemania



De acuerdo con el croquis anterior, una connotación territorial y geopolítica posterior a la Segunda Guerra Mundial consistió en que

- A) La Organización de las Naciones Unidas creó el Estado de Palestina
- B) El territorio alemán quedó bajo la influencia de dos ideologías antagónicas
- C) Alemania se perfiló como el país europeo con mayor poderío militar y económico
- D) Los países del continente europeo fueron los únicos en implementar la Guerra Fría

12) Lea el siguiente esquema



¿Cuál opción completa correctamente el esquema anterior?

- A) El territorio de Checoslovaquia se dividió en dos países: la República Checa y Eslovaquia
- B) Surgió la Organización de las Naciones Unidas con el objetivo de velar por la paz en el mundo
- C) En la Conferencia de Bretton Woods los países miembros acordaron crear la Organización Mundial de Comercio
- D) La Unión de Repúblicas Socialistas Soviéticas se fragmentó dando origen a la Comunidad de Estados Independientes

13) Lea el siguiente texto

El avance de los ejércitos de los aliados sobre los territorios dominados por los alemanes hizo evidente la faceta más aterradora del conflicto, los campos de concentración, en los cuales los nazis asesinaron cerca de seis millones de personas. Esto es lo que se conoce como el holocausto y se evidenció en lugares como Auschwitz, Treblinka y Sobibor. Estos campos de concentración quedaron como lugares donde el horror y la crueldad llegaron a los límites desconocidos hasta entonces.

De acuerdo con el texto anterior, se infiere que uno de los impactos de la Segunda Guerra Mundial estuvo relacionado con

- A) Las manifestaciones de odio, maltrato y exterminio masivo de personas judías
- B) La construcción de espacios neutrales para los diferentes grupos étnicos que fueron perseguidos por las fuerzas militares alemanas
- C) Las torturas y mutilaciones de niños, adultos mayores y gran parte de la población civil por las bombas detonadas en el desarrollo de los frentes de guerra
- D) El racionamiento alimenticio que sufrió la población civil durante la reconstrucción de las ciudades que fueron afectadas por el desarrollo de los conflictos bélicos

14) Lea los siguientes enunciados

1 Los campos de concentración representaron un medio de acercamiento inclusivo entre los arios y judíos.

2 En la Alemania gobernada por Adolfo Hitler se valoró y respetó únicamente las costumbres y obras artísticas de la población judía.

3 Para alivianar las secuelas tan dolorosas y mutilaciones que sufrieron los soldados alemanes, producto del desarrollo de los conflictos bélicos, se les aplicó la eutanasia.

4 El antisemitismo consistió en aislamiento, discriminación, racismo y xenofobia practicada por los nazis hacia todas aquellas poblaciones que consideraron inferiores.

¿Cuál número de los anteriores identifica una de las implicaciones sociales que supuso la persecución y exterminio de grupos étnicos durante la Segunda Guerra Mundial?

- A) 1
- B) 2
- C) 3
- D) 4

15) En el marco de la defensa de los derechos fundamentales del ser humano, es de gran importancia la implementación del Estado de derecho pues a través de este se

- A) Garantiza el disfrute pleno de la seguridad ciudadana a las personas en cada uno de sus países de origen
- B) Ha erradicado la pobreza y todos los problemas de violencia que sufren las personas en la sociedad
- C) Busca la protección de la población de tratamientos crueles e inhumanos, de la esclavitud, de arrestos y detenciones arbitrarias
- D) Pueden restringir las libertades individuales, tales como la de reunión o asociación y evitar así el aumento de delitos, robos e inseguridad

16) Lea las siguientes alternativas

1 Los gobiernos deben proteger y garantizar las libertades de la población sin distinción de origen étnico, color de piel, nacionalidad o credo religioso.

2 Las agrupaciones políticas tienen el compromiso de velar de forma exclusiva por el respeto de las libertades de los sectores que ostentan el poder económico.

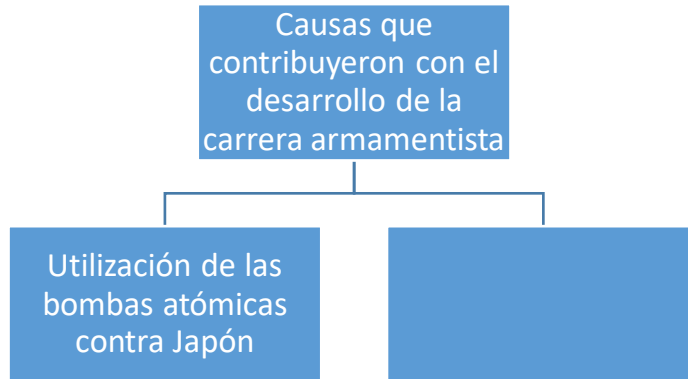
3 Las entidades supranacionales están obligadas a erradicar todos los problemas de hambruna y desigualdad social con el fin de mejorar las condiciones de vida de la humanidad.

4 Los Estados deben prohibir las organizaciones sociales que realicen reuniones pacíficas y que expresen la libertad de pensamiento, ya que atentan contra los derechos y garantías individuales.

¿Cuál número de los anteriores identifica una acción relacionada con la defensa y aplicación correcta de los derechos fundamentales del ser humano que le permite alcanzar la paz y la convivencia social?

- A) 1
- B) 2
- C) 3
- D) 4


17) Lea el siguiente esquema



¿Cuál opción completa correctamente el esquema anterior?

- A) La disminución de las tensiones que mantenían las regiones del planeta con pensamiento fascista
- B) Las rivalidades y constantes confrontaciones que surgieron entre las potencias imperialistas y sus colonias
- C) La aplicación del Plan Molotov que brindó colaboración y ayuda económica a los países con ideología capitalista y de libre mercado
- D) El debilitamiento de las potencias europeas tras la Segunda Guerra Mundial, como Francia e Inglaterra, que vieron una nueva opción económica en la industria bélica

18) Observe la siguiente imagen



En relación con el conflicto de Guerra Fría desarrollado en la segunda mitad del siglo XX, ¿cuál es la expresión de rivalidad geopolítica que se infiere a partir de la imagen anterior?

- A) Práctica del espionaje mediante organismos especializados, tales como la Agencia Central de Inteligencia y el Comité de Seguridad del Estado Soviético
- B) Desarrollo de una industria armamentística, como soporte de las economías estadounidense y soviética, que puso en riesgo al mundo de un nuevo conflicto bélico
- C) Implementación de una campaña propagandística entre las dos superpotencias con el objetivo de mostrar a las sociedades las virtudes o defectos del capitalismo o en caso contrario, del socialismo
- D) Invención de instrumentos tecnológicos, entre estos los transbordadores y satélites por parte de Estados Unidos de América y la Unión de Repúblicas Socialistas Soviéticas, que les permitieron explorar y conquistar todos los planetas del sistema solar

19) Durante la Guerra Fría surgieron líderes que desempeñaron un papel importante en la obtención de reivindicaciones sociales y políticas de algunos sectores de la sociedad, por ejemplo, en Estados Unidos de América sobresalió Martin Luther King porque

- A) Luchó por la erradicación del *apartheid* del que era víctima la población nativa de África
- B) Dirigió las luchas por la igualdad y los derechos civiles de los afroamericanos y las formas de segregación racial
- C) Organizó la revolución de las flores como medio de protesta ante las imposiciones del consumismo del modelo capitalista
- D) Concientizó a la ciudadanía estadounidense para que expresaran su rechazo por el uso de armas nucleares y biológicas en la guerra de Vietnam

20) Lea la siguiente información

Con la culminación de la Segunda Guerra Mundial las potencias europeas perdieron sus zonas de influencia en los territorios ubicados en los continentes africano y asiático, situación que dio origen a los procesos de descolonización.

¿Cuál es un impacto de dicho proceso en la actualidad?

- A) El desarrollo de una sociedad inclusiva que favorece la tolerancia religiosa y política
- B) La implementación de los procesos de independencia mediante el diálogo y el consenso con las metrópolis
- C) El predominio de gobiernos estables que luchan por resolver el retraso social y económico heredado por las potencias
- D) La aparición de rivalidades por la delimitación de fronteras entre diferentes grupos originando conflictos étnicos y políticos, por ejemplo, entre hutus y tutsis en Ruanda

21) Lea la siguiente información

- Durante la dictadura de Augusto Pinochet Ugarte fue común la desaparición de ciudadanos, la tortura, el destierro y el exilio de miles de personas.
- En los primeros cinco meses de la dictadura ejercida en Guatemala por Efraín Ríos Montt se asesinaron a más de 10 000 campesinos, la mayoría indígenas.

Según la información anterior, ¿cuál es una repercusión que tuvieron los pueblos latinoamericanos durante el contexto de la Guerra Fría?

- A) Las manifestaciones de violencia contaron con el apoyo de todos los ciudadanos de las distintas regiones de la región
- B) Fueron sometidos en contra de su voluntad a trabajos forzados y campos de concentraciones en donde perdieron la vida
- C) Los gobiernos militares aplicaron en su mayoría políticas represivas que culminaron en violaciones de los derechos humanos
- D) Todos los organismos internacionales respaldaban la idea de que los gobiernos represivos eran la única alternativa para resolver los problemas políticos del área

22) Lea las siguientes características

1 Favorece a las empresas privadas y a la sociedad de consumo.
2 Los medios de producción son de la colectividad y pertenecen al Estado.
3 Todas las actividades productivas son dirigidas por el Estado a través de instituciones planificadas.
4 Realiza una distribución de los bienes en función de las necesidades de cada integrante de la sociedad.

¿Cuál número de los anteriores identifica una característica del modelo económico capitalista?

- A) 1
- B) 2
- C) 3
- D) 4

23) Lea el siguiente esquema



¿Cuál opción completa correctamente el esquema anterior?

- A) Se consolidó la Comunidad Económica Europea y se creó el Banco Central Europeo
- B) Tras la desintegración de Yugoslavia se originaron seis nuevas repúblicas, entre estas Serbia, Croacia y Eslovenia
- C) Se reunificaron los territorios de Eslovaquia y República Checa en una única república llamada Checoslovaquia
- D) A partir de la caída del Muro de Berlín, Alemania continuó separada en dos secciones, una oriental y la otra, occidental

24) Lea la siguiente información

- En el año 2011 estallaron las primeras revueltas en Siria contra el régimen de Bashar al-Asad. Este conflicto se intensificó con la participación del grupo terrorista Estado Islámico (IS, por sus siglas en inglés).
- A finales de setiembre las fuerzas rusas orchestaron una serie de bombardeos aéreos con aviones de guerra y misiles lanzados sobre los grupos rebeldes sirios.
- Se calcula que al 2016 la guerra civil dejó más de 300 000 muertos, millones refugiados y ciudades destruidas.

La información anterior describe parte del conflicto desarrollado en Siria, ¿cuál es uno de los efectos que este ha generado en la sociedad actual?

- A) Los enfrentamientos bélicos son considerados el único medio que tienen los pueblos para defender su identidad nacional, independencia y soberanía nacional
- B) La percepción de las personas como una amenaza a la paz, libertad, seguridad internacional y catástrofe humanitaria que violenta el disfrute de los derechos humanos
- C) La expansión de las redes del terrorismo ha disminuido por acciones ejecutadas desde la ciudad de Moscú logrando la tranquilidad en la convivencia del ser humano
- D) La desaparición de las relaciones de tensión que existieron desde la segunda mitad del siglo XX, entre el bloque capitalista y comunista, brindando tranquilidad y confianza en los ciudadanos

25) Lea el siguiente texto

Después de desalojar a los japoneses en 1945 la península de Corea fue dividida en el paralelo 38° en dos zonas de ocupación: la Unión de Repúblicas Socialistas Soviéticas al norte y Estados Unidos de América en el sur, pero después de organizarlas se retiraron. Las diferencias ideológicas de ambos gobiernos propiciaron la invasión de Corea del Sur en junio de 1950. La Organización de las Naciones Unidas condenó tal agresión, se fomentó la formación de un ejército multinacional en el que participaron también los Estados Unidos de América y los surcoreanos. Corea se convirtió en el escenario perfecto para la Guerra Fría.

En el contexto de Guerra Fría y de acuerdo con el texto anterior, uno de los efectos ocasionados por el conflicto de las Coreas en la actualidad se relaciona con

- A) La tensión que vive la humanidad por el desarrollo de programas de armamentos nucleares
- B) El malestar y rechazo de la población hacia el desarrollo del comercio internacional
- C) El surgimiento de movimientos insurgentes y de rebelión que se opongan o rechacen la autoridad del Estado
- D) La desaprobación de las personas hacia el papel que ha desempeñado la Unión Europea en los conflictos armados

26) Lea la siguiente información

Actualmente es uno de los países con mayor crisis en el mundo, no solo por problemas económicos, de disminución en su desarrollo o revueltas por temas sociales o políticos, sino que, por la guerra interna, genocidio, escasez de alimentos y de su distribución. Millones de personas han sufrido la muerte y cientos de miles padecen hambruna cada día.



En la información anterior, se describe uno de los conflictos del continente africano que se desarrolla en

- A) Libia
- B) Egipto
- C) Sudán
- D) Argelia

27) Lea los siguientes hechos históricos

- El desplazamiento y asesinato de los indígenas estadounidenses por los colonialistas ingleses, quienes venían por sus tierras.
- Los desplazamientos masivos de minorías étnicas que ordenó Joseph Stalin por considerarlos como amenaza para el poder soviético
- Las luchas entre los bandos afro estadounidenses y latinos en ciudades estadounidenses.

De acuerdo con los hechos históricos anteriores, se puede afirmar que en la sociedad contemporánea para garantizar el respeto de los derechos humanos se debe

- A) Obligar a todos los gobernantes a aplicar políticas universales relacionadas con el ámbito laboral
- B) Limitar el tránsito de personas ilegales o migrantes de un lugar a otro para evitar problemas sociales
- C) Erradicar la práctica y tendencias sustentadas en las formas de discriminación, tales como la xenofobia y el racismo
- D) Ignorar el hecho de que muchos países del mundo suministran armamento bélico a sus colonias para que luchen por su independencia

28) Lea el siguiente texto

De orientación socialista Salvador Allende Gossens implementó el fortalecimiento del Estado para respaldar la microempresa, la industrialización y la nacionalización de sectores clave como los hidrocarburos, la minería y las telecomunicaciones. En pocos años logró superar los 20 años de gobiernos liberales: aumentó la economía del país y los ingresos por habitante, redujo la pobreza extrema, aumentó la inversión pública, redujo los salarios de los burócratas, realizó una reforma agraria y aumentó el salario mínimo, entre otros.

En relación con el contexto político y geopolítico de los pueblos latinoamericanos, el texto anterior describe implicaciones sociales llevadas a cabo en

- A) Chile
- B) Bolivia
- C) México
- D) Colombia

- 29) En relación con la dinámica de población y los patrones espaciales, uno de los factores que explica el crecimiento demográfico a nivel mundial obedece a que
- A) Las tasas de fecundidad se han contraído generando que el tamaño de los núcleos familiares se haya reducido
 - B) Las personas migran de la ciudad hacia el campo por motivos del desabastecimiento de agua y de fuentes de empleo
 - C) Los grandes avances del conocimiento científico, en la agricultura, la industria y la medicina han repercutido significativamente en el control de enfermedades y reducción de la mortalidad
 - D) Históricamente en las zonas rurales se dispone de espacio geográficos, los cuales permiten la práctica y el desarrollo de actividades del sector secundario, situación que incide en la mejora de hábitos alimenticios y nutricionales

30) Lea el siguiente texto

Las proyecciones de los demógrafos para Costa Rica en el 2050 establecen que la población en edades entre los 50 y 60 años será numerosa en relación con el grupo etario comprendido entre los 0 y 10 años, por lo que la base de la pirámide de población costarricense será cada vez menor.

¿Cuál es una de las implicaciones que tiene para la sociedad costarricense la situación descrita en el texto anterior?

- A) Las campañas de vacunación implementadas por el Estado contribuyen al aumento paulatino de la tasa de natalidad
- B) El índice de esperanza de vida experimentará una contracción, la cual obedece a la disminución de la población más joven
- C) El mejoramiento en la atención médica y de primera necesidad tienen un aporte importante en el crecimiento de la fecundidad
- D) Habrá una tendencia de envejecimiento de la población, la cual va a requerir mayores cuidados y atenciones en la salud pública

31) Lea la siguiente información

Existen marcadas diferencias en las tasas de embarazo en mujeres menores de edad entre los países desarrollados y en vías de desarrollo. Según el Banco Mundial, datos a 2016, en Suiza es de 3 y en Holanda de 4 embarazos adolescentes, mientras en países en vías de desarrollo esta cifra se sitúa en 68 en Ghana, 69 en Bolivia y 154 en Angola, para citar algunos ejemplos.

¿Cuál es una implicación ética que se desprende de la información anterior?

- A) En los países de mayor progreso existen leyes que evitan los embarazos adolescentes, situación de la que carecen los países pobres del mundo
- B) En los países en vías de desarrollo se presentan limitaciones para acceder a servicios de educación, salud sexual y reproductiva lo que incide en las altas tasas de embarazo adolescente
- C) En los países subdesarrollados la implementación de la educación sexual es universal y por tal razón la incidencia de embarazos muestra mayores porcentajes en relación con los países desarrollados
- D) La diferencia de los porcentajes de embarazo adolescente entre las naciones prósperas y las que no, guarda estrecha relación con la necesidad de los gobiernos de disponer de mano de obra en el futuro

32) Actualmente existen países donde son permitidos los matrimonios forzados, entre estos se pueden mencionar a Egipto, Níger, Afganistán, Bangladesh, Pakistán, Kosovo, Bolivia y Guatemala, entre otros. En relación con la práctica de los matrimonios forzados, ¿cuál es una repercusión para la sociedad actual?

- A) Reduce el número de personas que los progenitores deben alimentar
- B) Obedece a una tradición cultural, la cual debe perpetuarse a través de los tiempos
- C) Permite mantener un crecimiento vegetativo equilibrado entre el número de nacimientos por año y la cantidad de decesos ocurridos por cada cien mil habitantes
- D) Genera riesgos en la salud reproductiva, pues muchas veces las personas menores de edad no han alcanzado la madurez física ni emocional para mantener este tipo de relaciones

33) Lea la siguiente información

1 Prohibir el desplazamiento de migrantes a escala global, pero especialmente hacia las ciudades más densamente pobladas.

2 Aprobar y ejecutar leyes blandas que permitan identificar y perseguir únicamente a las organizaciones dedicadas al tráfico y remoción de órganos.

3 Promover el funcionamiento de centros especializados para la identificación y la denuncia de situaciones de vulnerabilidad ante la explotación laboral o sexual.

4 Desarrollar campañas publicitarias en donde se enfatice la importancia que tienen las redes sociales en la prevención de los delitos asociados con esta problemática.

¿Cuál número de los anteriores identifica una medida que se debe implementar en las diferentes regiones del planeta para combatir el problema de la trata de personas?

- A) 1
- B) 2
- C) 3
- D) 4

34) Lea la siguiente información

- Impulsar programas sociales de educación en derechos humanos.
- Crear leyes que prohíban la unión de personas menores de edad.
- Generar debates en las sociedades muy tradicionalistas o fundamentalistas que permitan concientizar a la población y provocar cambios de actitud sobre esta problemática.

En la información anterior se proponen acciones orientadas hacia la búsqueda de soluciones relacionadas con el problema poblacional de

- A) La planificación familiar
- B) Los matrimonios forzados
- C) El tráfico y trata de personas
- D) Las formas de discriminación étnica

35) Lea la siguiente información relacionada con los procesos de movilidad espacial

- Un aspecto distintivo de América Latina es que su población migrante se dirige a Estados Unidos de América. Desde la década de 1980, los mexicanos representan el grupo que más emigra hacia dicha nación, para el 2015 esta cifra alcanzó aproximadamente 25 millones de personas.
- Los corredores migratorios intrarregionales más destacados corresponden al de nicaragüenses y otros centroamericanos que se mudan al territorio costarricense de manera temporal o permanente.

De acuerdo con lo descrito en la información anterior, ¿cuál es una razón económica que explica la migración de personas de su país natal hacia otro territorio?

- A) Los emigrantes envían parte de su sueldo en divisas a su país de origen, con lo que se produce un ingreso monetario para la presidencia de turno.
- B) La poca disponibilidad o ausencia de fuentes de empleo dignas en el lugar de procedencia y la búsqueda de oportunidades que mejoren sus condiciones de vida
- C) La falta de compromiso de los gobiernos en la implementación de políticas públicas que garanticen el acceso gratuito a la educación y a los servicios de salud
- D) La ocurrencia de desastres naturales, entre estas, las erupciones volcánicas, los desbordamientos de los ríos y procesos tectónicos de gran intensidad que ponen en riesgo la integridad de las personas

36) En relación con los flujos de movilidad espacial de migrantes a nivel internacional están los casos de población de origen sirio, afgano e iraquí, ¿cuál es una situación que tienen en común los desplazamientos de refugiados de dichas poblaciones?

- A) Inseguridad ciudadana producto de la inestabilidad política y del desarrollo de conflictos bélicos
- B) Condiciones climáticas de selva tropical y existencia de grandes reservas de agua con altos grados de contaminación
- C) Persecuciones políticas por parte de los grupos terroristas hacia las personas con algún ligamen a las redes de trata de personas y trasiego de drogas
- D) Afectación de la salud por la fuga de gases tóxicos y venenosos utilizados por las empresas transnacionales en el desarrollo industrial, tecnológico y agropecuario

37) Lea la siguiente información

- Por ejemplo, la ola de calor y sequía extrema que golpearon a Siria entre el 2006 y 2011 causaron la muerte de la mayor parte del ganado y el desplazamiento de dos millones de personas sin trabajo a las ciudades. El agua se volvió un bien escaso y de difícil acceso.
- El 3 de diciembre de 1984 en Bhopal (India) se dio una fuga de gas venenoso en la planta química de pesticidas de la compañía estadounidense *Union Carbide* provocándola muerte por envenenamiento de 30 000 personas y la migración forzosa de otros cientos de miles ante la imposibilidad de la vida en la zona.

Los ejemplos de la información anterior, evidencian casos específicos de

- A) Inmigrantes nativos
- B) Crecimiento vegetativo
- C) Refugiados ambientales
- D) Concentración poblacional

38) Observe la siguiente imagen relacionada con el proceso de globalización



De acuerdo con la imagen anterior, se infiere que una implicación de la globalización en la vida cotidiana está relacionada con

- A) El desplazamiento total de los patrones culturales de los pueblos originarios
- B) La homogenización de las costumbres y tradiciones de cada uno de los habitantes a nivel mundial
- C) Los procesos de revitalización de las identidades de los pueblos ancestrales y de sus variables idiomáticas
- D) La utilización de herramientas tecnológicas que permiten la interconectividad y la comunicación a nivel planetario

39) Lea el siguiente texto

Esta fase de la globalización se gestó entre 1750 y 1850, precisamente en este periodo se desarrolló la etapa de industrialización en Europa beneficiada por los nacientes Estados que sustituían los reinos señoriales. Esta es la época de los grandes procesos revolucionarios que promovieron la modernización de la economía y con ello la consolidación del sistema capitalista mundial, pues fue precisamente la Revolución Industrial, quien generó un abaratamiento de los costos energéticos y del transporte.

El texto anterior hace referencia a procesos históricos que favorecieron el desarrollo de la globalización, la cual propició en aquel momento

- A) Los avances en el campo de la navegación que permitieron la exploración y el descubrimiento de nuevos territorios por parte de los países asiáticos
- B) La reducción de los tiempos de viaje para las personas y el traslado de productos de manufactura europea a diversas regiones del mundo
- C) El desarrollo tecnológico y científico que incidió, de manera negativa, en los procesos productivos, específicamente en el campo agropecuario
- D) La nacionalización de la economía y con ello una serie de limitaciones comerciales y productivas entre los mercados europeos

40) En relación con los flujos espaciales de producción, la Organización Mundial del Comercio los clasifica en diferentes grupos, uno de ellos está integrado por países desarrollados, entre estos Estados Unidos de América, Alemania y Japón, los cuales en el orden mundial

- A) Brindan las materias primas y mano de obra barata y necesaria para que las actividades del sector primario de la economía se puedan desarrollar
- B) Concentran abundancia de yacimientos minerales y reservas de residuos fósiles que utilizan en la generación de productos de manufactura
- C) Se especializan exclusivamente en la venta de servicios, tales como la salud, ecoturismo, centros de servicios de llamadas “call center”
- D) Presentan altos volúmenes en el campo de las exportaciones y facilidades para la generación de productos tecnológicos e industrializados

41) Lea la siguiente información relacionada con variaciones espaciales de producción en el marco de la globalización

Centros de producción

Los países de medio oriente son grandes productores de petróleo, sobresalen Qatar, Emiratos Árabes Unidos, Irán, entre otros.	En la producción automotriz existen marcas japonesas (Toyota), alemanas (BMW) y estadounidenses (Jeep), entre otras.	Países como China e India se han destacado por ser exportadores de venta de servicios.
---	--	--

A partir de la información anterior se interpreta que

- A) El espacio de mayor intercambio comercial del mundo se ubica en China
- B) En el contexto planetario las naciones desarrolladas concentran gran parte de la producción industrial
- C) Los países menos adelantados a nivel mundial dependen de la venta del sector terciario de la economía para subsistir
- D) Las naciones del medio oriente representan las economías más rezagadas del planeta, debido a la venta de los hidrocarburos

42) Lea las siguientes características

1 Ejercen el control absoluto del desarrollo de las economías del planeta.
2 Representan puntos estratégicos en donde se localizan las empresas artesanales de prestigio mundial.
3 Concentran las sedes de los principales bancos, empresas transnacionales y mercados financieros.
4 Mediante sus inversiones garantizan que los países en vías de desarrollo preparen profesionales competentes en el campo tecnológico.

¿Cuál número de los anteriores identifica el rol que actualmente desempeñan las ciudades globales como Tokio, París, Londres y Nueva York?

- A) 1
- B) 2
- C) 3
- D) 4

43) Lea la siguiente información

La empresa Intelligent Sense es una pyme tecnológica que desde el 2008 implementó que los empleados realicen sus tareas en un lugar diferente a la oficina por medio de las tecnologías de la información o comunicación (TIC). De esta manera se ahorran recursos de tiempo y combustible de sus empleados y el empleador no requiere de infraestructura o equipo para la realización de las tareas que deben llevar a cabo sus colaboradores.

¿Cuál es la relación laboral que en el marco de la reducción de las barreras espacio-temporales se reconoce en la situación anterior?

- A) Teletrabajo
- B) Subcontratación
- C) Trabajador independiente
- D) Trabajo según husos horarios

44) Lea la siguiente información

Población que vive con menos de \$1,90 al día 2015

Región	%
África Subsahariana	35,2
Asia Meridional	13,5
Promedio mundial	9,6
América Latina y el Caribe	5,6
Este de Asia y Pacífico	4,1
Europa y Asia Central	1,7

De acuerdo con la información anterior y desde una perspectiva geográfica se puede afirmar que

- A) En conjunto la población en estado de pobreza de América Latina, el Caribe y Europa supera el promedio mundial
- B) Los habitantes de África Subsahariana presentan un reducido nivel vida en comparación con el este asiático y Pacífico
- C) La mayor cantidad de personas que sobreviven con menos de \$1,90 están ubicadas en el continente europeo y el centro asiático
- D) Los países de primer mundo localizados en Asia como Japón, China y Corea del Sur carecen de problemas de pobreza y de desigualdades socioeconómicas

45) En el contexto de la globalización, un indicador social que diferencia a los países más pobres del mundo en relación con los ricos radica en que

- A) Carecen de afectación de desastres medioambientales
- B) La distribución de los recursos monetarios y de la riqueza es inequitativa
- C) El acceso a la educación es inexistente y carecen de problemas migratorios
- D) La cobertura de los niveles de salud pública y saneamiento es universal, situación que repercute en el mejoramiento de la calidad de vida de las personas

46) En el contexto de la globalización, ¿cuál es uno de los efectos que tienen los medios de comunicación y tecnológicos en los patrones de convergencia cultural en los diferentes grupos humanos?

- A) Permiten que las identidades nacionales de los pueblos se conserven y perduren a través del tiempo gracias al uso de las redes sociales como el Facebook y WhatsApp
- B) Generan rechazo o descontento ante la imposición de modas, gustos y consumismo de los países desarrollados u occidentales
- C) Contribuyen en el análisis y la lucha contra problemas globales como la contaminación y el calentamiento del planeta
- D) Fortalecen la valoración y recuperación de las tradiciones y costumbres de los pueblos originarios

47) Lea el siguiente texto

En relación con la economía agroexportadora costarricense de inicios del siglo XX, un factor externo que influyó en su crisis fue la Primera Guerra Mundial, la cual incidió negativamente en el ámbito económico, pues redujo significativamente los ingresos por concepto de exportación.

De acuerdo con la información anterior una alternativa implementada por Alfredo González Flores para atenuar los estragos ocasionados por dicho conflicto bélico se sustentó en

- A) La promoción de actividades de manufactura e industrializadas y la eliminación de la codependencia del monocultivo del café y banano
- B) La privatización del Banco Internacional de Costa Rica y de esta forma brindar el acceso a créditos a los pequeños y medianos productores
- C) El establecimiento de un paquete tributario justo, en donde cada persona debía pagar impuestos de acuerdo a sus ingresos, capitales y propiedades
- D) La creación de beneficios para los sectores oligárquicos, entre estos la exoneración en el cobro de impuestos a las tierras utilizadas para actividades productivas

48) Lea la siguiente información

- Su representante más destacado fue Manuel Mora Valverde.
- Desempeñó un papel importante en la vigilancia y defensa de los grupos sociales más necesitados, en especial la clase obrera
- Dentro de su programa mínimo buscaba: el seguro social, una reforma agraria, el derecho a la huelga, jornada de ocho horas, ley de salario mínimo, entre otros.

La información anterior contiene algunas características de la organización social denominada

- A) Partido Comunista
- B) Partido Reformista
- C) Centro de Estudios Germinal
- D) La Confederación Nacional de Trabajadores

49) Lea la siguiente información

1 Con la crisis de 1929 en el país se generó una disminución de los productos importados con una tendencia al aumento de los precios, mientras que en el 2008 escasearon los productos de primera necesidad.

2 Para 1929 tras el agotamiento del modelo liberal la producción de café y banano crecieron aumentando las divisas del Estado, mientras que muchas empresas y bancos abrieron sus puertas durante la crisis del 2008.

3 A partir del 2008 el Estado brindó subsidios a toda la población para que aumentaran su capacidad adquisitiva, situación adversa a lo ocurrido en la crisis de 1929 donde los salarios de la clase trabajadora aumentaron.

4 Ante los efectos de la crisis de la crisis del 2008 una medida gubernamental fue el Plan Escudo, que generó una baja de la mortalidad infantil y aumento de la esperanza de vida, pero en 1929 hubo un mejoramiento en el ámbito de la salud y desnutrición.

¿Cuál número de los anteriores identifica características de las crisis económicas que afectaron a Costa Rica durante la segunda mitad del siglo XX e inicios del siglo XXI?

- A) 1
- B) 2
- C) 3
- D) 4

50) En los albores del siglo XX en la sociedad costarricense surgieron diferentes agrupaciones sociales, entre estas los movimientos de los trabajadores que aglutinaron pequeños productores de café, trabajadores urbanos, campesinos y trabajadores bananeros, ¿cuál fue una lucha que tuvieron en común estas agrupaciones sociales?

- A) El restablecimiento de la estructura política y económica del Estado liberal
- B) El mejoramiento de las condiciones laborales, tales como el aumento salarial y la protección ante riesgos laborales
- C) La oposición a la expansión de las organizaciones sindicalistas debido a que proponían cambios radicales en la sociedad
- D) El favorecimiento de los intereses de los patronos y de los sectores inversionistas con el objetivo de reactivar la economía y fortalecer el modelo agroexportador

51) Lea la siguiente información

1 En 1913 se estableció el ejercicio del voto directo.
2 En 1925 Ricardo Jiménez aprobó el voto secreto.
3 Surgieron y se consolidaron los partidos políticos personalistas.
4 En 1923 la Liga Feminista logró la aprobación del voto femenino.

¿Cuáles números de los anteriores identifican dos aspectos relacionados con las reformas electorales implementadas en Costa Rica durante la primera mitad del siglo XX?

- A) 1 y 2
- B) 1 y 4
- C) 2 y 3
- D) 3 y 4

52) Lea la siguiente información

1 La creciente organización de la clase trabajadora mediante grupos sindicales liderados por el Partido Comunista que abogaban por mejoras en sus condiciones sociales y de vida.

2 El deterioro en las condiciones de vida de la población producto de las crisis económicas de la primera mitad del siglo XX y de los efectos del desarrollo de la Segunda Guerra Mundial.

3 La aplicación del Programa Reformista promovido por Rafael Ángel Calderón Guardia que facilitó la creación de instituciones con el objetivo de atender los problemas emergentes de la sociedad civil.

4 La participación directa del Estado a través de medidas interventoras en el área económica, con políticas bancarias y monetarias para mediar en los conflictos sociales existentes entre pequeños productores cafetaleros y beneficiadores.

¿Cuál número de los anteriores identifica un factor externo que influyó en la aprobación de las Reformas Sociales en Costa Rica durante la década de 1940?

- A) 1
- B) 2
- C) 3
- D) 4

53) Como parte de la reforma social de la década 1940 en Costa Rica se creó la Caja Costarricense de Seguro Social, ¿cuál es la importancia que ha tenido desde su creación esta institución para la sociedad?

- A) Ha contribuido con la erradicación de todas las enfermedades que afectan a la población
- B) Da consultas, medicinas y tratamientos mediante el servicio de médico de empresa o medicina mixta exclusivamente
- C) Brinda los servicios de medicina preventiva y curativa, acciones que han elevado la calidad de vida y los niveles de salud de las personas
- D) Aporta subsidios económicos y pensiones a través del Régimen no Contributivo a la población adulta mayor sin importar su nivel socioeconómico

54) Lea el siguiente texto

Como resultado de los comicios llevados a cabo el 8 de febrero de 1948 en Costa Rica, resultó ganador Otilio Ulate Blanco, pero dicho resultado no fue aceptado por el candidato oficialista alegando que durante el desarrollo de dichos comicios hubo anomalías y coacción sobre el voto de los funcionarios públicos.

¿Cuál es la causa del desarrollo de la Guerra Civil de 1948 que se menciona en el texto anterior?

- A) Nepotismo administrativo
- B) Vicios y fraudes electorales
- C) Reacción contra la legislación social
- D) Malestar por el clima de la Guerra Fría

55) Como parte de las consecuencias de la Guerra Civil de 1948, en el rango constitucional se estableció el Régimen de Servicio Civil con el objetivo de

- A) Garantizar el acceso oportuno al trabajo en igualdad de condiciones para todos los habitantes
- B) Promover una mayor participación activa de la población civil en los asuntos de interés público
- C) Vigilar el buen funcionamiento de los servicios que brindan a la ciudadanía las entidades públicas y privadas
- D) Reducir la injerencia del Poder Ejecutivo y de los partidos políticos en los procesos de nombramiento de los funcionarios públicos

56) Como efecto del desarrollo de la Guerra Civil de 1948, en la sociedad costarricense se manifestaron focos de violencia que afectaron la vida cotidiana de la población, esta situación estuvo relacionada con

- A) La suspensión de las garantías sociales y libertades individuales del sector obrero y a los trabajadores bananeros
- B) La persecución política que sufrieron personas militantes de la ideología comunista y ligadas a las organizaciones sindicales
- C) Las manifestaciones de la Huelga de los Brazos Caídos como malestar de los sectores populares por los abusos de poder de las fuerzas militares
- D) Las marchas de mujeres que apoyaban las decisiones de Teodoro Picado Michalski por la declaración de guerra al régimen nazista alemán y del fascismo italiano

57) A partir de la segunda mitad del siglo XX el modelo institucional de Costa Rica transformó la estructura económica y social y como parte de ello se crearon las instituciones autónomas, ¿cuál es la importancia que tienen dichas instituciones para la sociedad costarricense?

- A) Atienden y resuelven los conflictos laborales y jurídicos que se presentan entre la población civil y el Estado
- B) Velan por la neutralidad, veracidad y confianza al desarrollo de los procesos electorales y garantizan el respeto de la voluntad popular
- C) Ofrecen una serie de servicios que contribuyen con el mejoramiento de la calidad de vida de la población, entre estos el acceso al agua potable, salud y educación superior, entre otros
- D) Facilitan diversas opciones crediticias a toda la población en estado de vulnerabilidad como medio para eliminar los problemas de pobreza extrema y asegurar el acceso a la vivienda

58) Lea las siguientes afirmaciones

1 Mejoró las condiciones de vida de los costarricenses al tener nuevas opciones de expansión económica.
2 Impulsó políticas para robustecer la economía agroexportadora, específicamente la producción de café y banano.
3 Limitó la inversión de capital extranjero con ello promovió el desarrollo y consolidación del mercado y la pequeña industria nacional.
4 Creó instituciones como el Instituto Nacional de Aprendizaje y colegios técnicos para contribuir en la propagación de la educación como un medio de ascenso social.

¿Cuáles números de los anteriores identifican dos repercusiones que tuvo el modelo de sustitución de importaciones y el Estado benefactor en la sociedad costarricense durante la segunda mitad del siglo XX?

- A) 1 y 2
- B) 1 y 4
- C) 2 y 3
- D) 3 y 4

59) Lea la siguiente información

- Fueron creadas en Costa Rica durante la segunda mitad del siglo XX.
- Constituyeron un mecanismo de resistencia por parte de los sectores populares y cumplieron un papel importante en las comunidades contra los abusos del Estado.
- Las luchas más importantes las dieron en contra del mal servicio y elevado precio del agua potable y el alza de las tarifas eléctricas.

En la información anterior se reconoce el papel de desempeñado a nivel comunal para la búsqueda de soluciones a los problemas cotidianos de la sociedad costarricense por las

- A) Cámaras de comercio
- B) Cooperativas de crédito
- C) Asociaciones solidaristas
- D) Asociaciones de desarrollo

60) Lea la siguiente información

A finales de la década de 1970 el mundo enfrentó una crisis de grandes dimensiones, originada por el acelerado aumento de los precios de los hidrocarburos, situación que afectó a los países con economías emergentes como Costa Rica que dependían en muy alto grado, de los derivados de los hidrocarburos para el desarrollo de las actividades económicas, incluidas el transporte y las manufacturas.

De acuerdo con la información anterior, ¿cuál fue una causa del agotamiento del modelo de sustitución de importaciones en Costa Rica?

- A) Aumento en los precios del petróleo en el mercado mundial
- B) Crecimiento desmedido de la burocracia estatal y de los empleados del sector público
- C) Incremento de los intereses de los préstamos que tenía el Estado con el Fondo Monetario Internacional
- D) Disminución del ingreso del Estado del erario público producto de la paralización de los mercados mundiales

61) Lea las siguientes características

1 Prohibición de la participación de las agrupaciones u organizaciones sociales con ideología anticomunista.
--

2 Persecución y maltrato de grupos o personas que intentaron inscribir partidos políticos con tendencia ideológica comunista.

3 Consolidación del bipartidismo en la alternancia del gobierno, sustentada en el respeto pleno de los derechos y libertades de la ciudadanía.
--

4 Manifestaciones de descontento por parte de la sociedad civil, por la participación de los partidos de izquierda en la aprobación de las garantías sociales en el rango constitucional.

¿Cuál número de los anteriores identifica una característica del sistema político electoral costarricense entre 1950 – 1980 en el marco del desarrollo de la Guerra Fría?

- A) 1
- B) 2
- C) 3
- D) 4

62) Lea la siguiente información

Causas internas de la crisis económica de la década de 1980 en Costa Rica

Uso inadecuado de los recursos públicos por parte de los gobiernos de turno.	
--	--

¿Cuál opción completa correctamente el esquema anterior?

- A) Sobreoferta a nivel mundial de los productos agrícolas y disminución de su demanda
- B) Recesión económica provocada por el aumento de los precios de los hidrocarburos
- C) Agudización del déficit fiscal, producto del desequilibrio existente entre los gastos e ingresos de capital
- D) Reducción de los salarios reales de los trabajadores y disminución de su capacidad adquisitiva

63) Lea la siguiente información

La inflación aumentó casi 80% por año, como consecuencia, los precios al consumidor se incrementaron hasta en un 225% y la inflación acumulada superó el 100% en 1982. Hubo escasez de alimentos y especulación. Muchas personas tuvieron que hacer fila en los estancos del gobierno (abastecedores que dependían del Consejo Nacional de Producción) para adquirir una ración de algunos productos.

¿Cuál fue una consecuencia que tuvo la crisis de 1980 en las condiciones de vida de la sociedad costarricense que se infiere a partir de la información anterior?

- A) Contracción en la producción internacional, específicamente de la industria pesada
- B) Racionamiento de productos de consumo básico en las ciudades con mayor densidad de población
- C) Deterioro de las condiciones sociales por la pérdida de poder adquisitivo de la mayor parte de la población
- D) Disminución de los problemas de inseguridad social asociado con el acceso oportuno a fuentes de trabajo

64) Algunos gobiernos del Estado costarricense, como respuesta a la crisis de la década de 1980, implementaron los Programas de Ajuste Estructural como medidas correctivas y como parte de ellos se

- A) Nacionalizó la banca estatal con la finalidad de brindar subsidios a los pequeños y medianos productores de las zonas rurales
- B) Aplicaron políticas públicas de movilidad social ascendente que permitieran la consolidación de los sectores medios de las zonas rurales
- C) Fomentó la desgravación de los productos importados para reactivar las actividades económicas del sector terciario, específicamente, el financiero y el de servicios
- D) Impulsó un modelo de desarrollo económico orientado hacia la promoción de las exportaciones en donde se incluyeron productos no tradicionales con el objetivo de ampliar la oferta de mercados de exportación

65) A partir del segundo lustro de la década de 1980, en Costa Rica se inició un proceso de apertura comercial mediante la implementación de los Tratados de Libre Comercio, uno de los cambios promovidos en la sociedad costarricense está vinculado con

- A) Las políticas de financiamiento competitivo dirigidas a las empresas transnacionales con el propósito de fortalecer sus actividades dentro del país
- B) El establecimiento de parques industriales y zonas francas en los sectores costeros para eliminar todas las tasas de desempleo y el trabajo informal
- C) La importación de productos suntuosos a costos bajos y la colocación de productos nacionales en diferentes mercados externos
- D) Los procesos orientados a robustecer la industria nacional, el modelo sustitutivo de importaciones y a reducir los gastos del Estado

66) ¿Cuál es un ejemplo de los movimientos sociales y ciudadanos que mostraron descontento por la aplicación de los Programas de Ajustes Estructurales a partir de la década de 1980 en Costa Rica?

- A) Los pequeños y medianos productores exigieron al representante de los gobiernos locales la generación de fuentes de empleo en las zonas urbanas
- B) Las concentraciones y piquetes de los sectores del solidarismo que exigieron a los diputados de la Asamblea Legislativa el retiro del proyecto de ley sobre la movilidad laboral voluntaria
- C) El descontento que manifestó la sociedad civil ante el plan del Poder Ejecutivo, establecido vía decreto, del pago de impuesto del 13% a todos los servicios y productos de la canasta básica
- D) La huelga del “Combo – ICE”, en donde participaron grupos sindicales, trabajadores y estudiantes universitario, ante el plan de transformación del Instituto Costarricense de Electricidad interpretado como un esfuerzo por privatizar las instituciones estatales

67) Uno de los efectos que sufrió la institucionalidad costarricense desde inicios de la década de 1980 tiene estrecha relación con

- A) El aumento gradual de las tasas de crédito preferenciales destinadas a la producción del sector primario de la economía, específicamente al desarrollo agrícola
- B) La disminución de la cobertura en materia de políticas de planificación familiar y el descenso de los temores que experimentaba la ciudadanía sobre la seguridad ciudadana
- C) La reducción de la inversión estatal en el ámbito social, principalmente en la medicina preventiva, situación que generó un rebrote de enfermedades, por ejemplo, el dengue y el cólera
- D) El intervencionismo directo de los gobiernos municipales en la búsqueda de soluciones a todas las problemáticas de índole socioeconómicas en la escala nacional, tales como la erradicación del subempleo

68) En Costa Rica desde la década de 1980 surgió la alternancia del poder comandada por dos agrupaciones políticas, ¿cuál fue una causa que contribuyó con la crisis del bipartidismo?

- A) Los procesos de segunda ronda electoral desgastaron y mostraron las debilidades en la organización y estructura orgánica de las agrupaciones políticas minoritarias
- B) La insatisfacción de la ciudadanía por la poca capacidad del gobierno para resolver los problemas, esto conllevó al aumento del abstencionismo en los procesos electorales
- C) La exigencia al Congreso Nacional por parte de los gremios sindicales sobre la aprobación de un proyecto de ley que permitiera la participación de agrupaciones políticas con ideologías de izquierda
- D) El Tribunal Supremo de Elecciones dotó de recursos a todos los partidos provinciales, cantonales y comunales para que financiaran su campaña electoral y de esta manera contrarrestaran el caudal electoral de los partidos tradicionales

69) Lea los siguientes aspectos

1 Incentivar la práctica del reciclaje con fines comerciales y de manera esporádica.
--

2 Establecer un marco legal que prohíba la explotación racional de los recursos naturales.
--

3 Impulsar en el sistema educativo la enseñanza de valores del desarrollo humano sostenible y en armonía con la naturaleza.

4 Promover el progreso económico, sin importar la alteración de nuestros bosques, ecosistemas naturales y disponibilidad de los recursos hídricos.
--

¿Cuál número de los anteriores identifica una alternativa de solución que debe implementar el Estado y la sociedad costarricense para enfrentar el deterioro ambiental?

- A) 1
- B) 2
- C) 3
- D) 4

70) Lea la siguiente información

En el artículo 29 de la Constitución Política de Costa Rica se establece que todos los habitantes pueden comunicar sus pensamientos de palabra o por escrito.

A partir de la información anterior, ¿cuál opción evidencia la importancia que tiene la libertad de expresión en el sistema democrático?

- A) Limita a las personas la posibilidad de manifestar un trato respetuoso e igualitario en la sociedad
- B) Facilita el desarrollo de competencias ciudadanas como la deliberación, el disenso y consenso
- C) Condiciona los comentarios positivos sobre el desempeño de las instituciones públicas a la ciudadanía
- D) Prohíbe a los integrantes de la sociedad expresar ideas y posibles soluciones a los problemas presentes en su entorno inmediato

