

คู่มือการอบรมสัมมนาพัฒนาวิชาชีพระยะสั้น

# เคล็ดวิชา การวิเคราะห์โครงสร้าง

เทคนิคการวิเคราะห์โครงสร้างสำหรับ  
การทำงาน เรียน ต่อยอด สอบ เลื่อนระดับ

FIRST EDITION FOR ONLINE

- การหาโมเมนต์อิเนอร์เซียของหน้าตัดเชิงประกอบ
- การหาแรงภายในโครงข้อหมุน : เทคนิคหน้าเดียว
- การหาแรงปฏิกิริยาอย่างรวดเร็ว
- การหาแรงปฏิกิริยาในคานแบบอินดีเทอริมีแบก : การรวมผล
- การเขียน SFD : เส้นผบบังภูเขา
- การเขียน BMD : การแยกและซ้อนทับ
- สมการสามโมเมนต์ : รูปแบบใหม่
- วิธีกระจายโมเมนต์ : ทำง่าย ๆ
- เส้นอิทธิพล : การนำไปใช้ในงานอาคาร
- วิธีโครงประตู่ : แบบไม่ยุ่งเหยิง




เข้ากลุ่มเรียน FB

เคล็ดลับวิชา

การวิเคราะห์โครงสร้าง

TUMCIVIL.COM

โดย



ดร. สรกานต์ ศรีตองอ่อน

ภาควิชาเทคโนโลยีวิศวกรรมโยธาและสิ่งแวดล้อม

วิทยาลัยเทคโนโลยีอุตสาหกรรม

มหาวิทยาลัยเทคโนโลยีพระจอมเกล้าพระนครเหนือ



TUMCIVIL.COM

# คำนำ

หนังสือเล่มนี้ใช้ประกอบการอบรมออนไลน์เรื่อง การวิเคราะห์โครงสร้างเพื่อการต่อยอด โดยมีวัตถุประสงค์หลักเพื่อเน้นในเรื่องของเทคนิคพื้นฐานการแก้ปัญหาการวิเคราะห์โครงสร้าง ทั้งในระดับปวช. ปวส. และปริญญาตรี สำหรับเป็นพื้นฐานเพื่อศึกษาต่อในระดับที่สูงขึ้น เพื่อการสอบเพื่อขอรับใบประกอบวิชาชีพระดับภาคีวิศวกร ภาคีวิศวกรพิเศษ และสามัญวิศวกร รวมถึงเพื่อนำไปใช้ในการทำงานจริง เพราะการวิเคราะห์โครงสร้างจะต้องนำมาใช้อยู่เสมอ ไม่ว่าจะเป็นการวิเคราะห์เพื่อออกแบบของค์อาคาร หรือวิเคราะห์เพื่อแก้ปัญหาทางานที่กำลังก่อสร้างอยู่

เนื้อหาในเล่มเขียนในลักษณะที่ตั้งสมมติฐานว่าผู้อ่านมีความรู้เบื้องต้นในการวิเคราะห์โครงสร้างมาบ้างแล้ว เพราะจะไม่ได้อธิบายถึงที่มาของวิธีต่างๆ ในการวิเคราะห์โครงสร้างมากนัก แต่จะเขียนในแนวทางนำเสนอเทคนิควิธีลัดที่ต่างออกไปจากหนังสือเล่มอื่นทั้งต่างประเทศและในประเทศ เพราะเป็นเทคนิคเฉพาะที่ผู้เขียนพัฒนาขึ้นมาเอง ซึ่งเทคนิคเหล่านี้จะทำให้การคำนวณง่ายขึ้น และมีแนวทางในการตรวจสอบคำตอบได้

เนื้อหาแบ่งเป็น 3 ส่วน คือ

- ก) เนื้อหาหลัก แบ่งเป็น 10 หัวข้อ
- ข) ภาคผนวก ได้แก่ ตารางต่างๆ ที่น่าสนใจ และวิธีเสาะอุปमानที่เน้นไปในการใช้งานแผ่นพื้นไร้คาน
- ค) ภาคผนวก ได้แก่ เฉลยข้อสอบแบบแสดงวิธีทำของวิชา Theory of Structures และ Structural Analysis



ผู้เขียนขอขอบพระคุณ รองศาสตราจารย์ดร. สมิตร ส่งพิริยะกิจ คณบดีวิทยาลัย  
เทคโนโลยีอุตสาหกรรม มหาวิทยาลัยเทคโนโลยีพระจอมเกล้าพระนครเหนือ ผู้ส่งเสริม  
สนับสนุนผู้เขียนให้ทำงานได้อย่างสะดวกราบรื่น ขอขอบคุณ คุณอชิพัทธ์ ศรีเกตู แห่ง  
Tumcivil.com ผู้ออกแบบปกหนังสือและช่วยจัดการงานฝึกอบรมนี้ และขอขอบคุณ  
ผู้เข้าร่วมอบรมทุกท่านที่ช่วยสนับสนุนผลงานของผู้เขียน มา ณ โอกาสนี้

ดร. สรกานต์ ศรีทองอ่อน

กรกฎาคม ๒๕๖๔

TUMCIVIL.COM

# สารบัญ

	หน้า
คำนำ	ก-ข
การทำโมเมนต์อินเนอร์เซียของหน้าตัดเชิงประกอบ	1-8
การทำแรงภายในโครงข้อหมุน : เทคนิคหน้าเดียว	9-24
การทำแรงปฏิกิริยาอย่างรวดเร็ว	25-32
การทำแรงปฏิกิริยาในโครงสร้างแบบอินดีเทอร์มิเนท : การรวมผล	33-36
การเขียน SFD : เส้นผมบังภูเขา	37-40
การเขียน BMD : การแยกและซ้อนทับ	41-50
สมการสามโมเมนต์ : รูปแบบใหม่	51-62
วิธีกระจายโมเมนต์ : ทำง่ายๆ	63-70
เส้นอิทธิพล : การนำไปใช้ในงานอาคาร	71-88
วิธีโครงประตู่ : แบบไม่ยุ่งเหยิง	89-100
บรรณานุกรม	101-102
ภาคผนวก	103-104
สัญลักษณ์กรีก	105
ตาราง แผนภาพโมเมนต์ตัด และ สมการระยะแอนสูงสุด	106
ตาราง สมบัติของพื้นที่	107
วิธีเสาะอุปมากับแผ่นพื้นไร้คาน	109-126



เฉลยวิธีทำ Theory of Structures 258 ข้อ

เฉลยวิธีทำ Structural Analysis 251 ข้อ

เฉลยวิธีทำ Structural Analysis 6 ข้อ

TUMCIVIL.COM

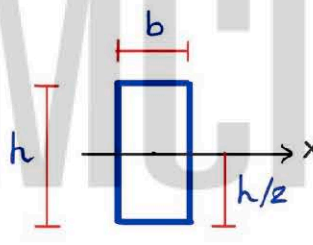
# การหาโมเมนต์อินเนอร์เซียของหน้าตัดเชิงประกอบ

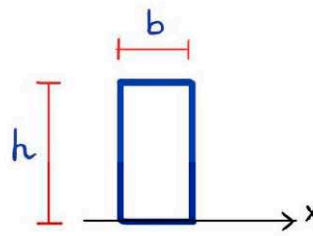
## ความนำ

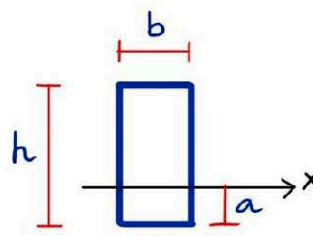
หน้าตัดเชิงประกอบในที่นี้หมายถึงหน้าตัดที่เป็นรูปหลายเหลี่ยม ซึ่งสามารถแบ่งออกเป็นรูปสี่เหลี่ยมมุมฉากย่อยๆ ได้ เช่น หน้าตัดรูปตัวที , ตัวยู เป็นต้น ซึ่งโดยทั่วไปแล้ว การหาโมเมนต์อินเนอร์เซียรอบแกนสะเทิน ( $I_{N.A.}$ ) ของหน้าตัดประเภทนี้จะใช้ทฤษฎีย้ายแกนเข้าช่วย ซึ่งมีความซับซ้อน อาจเกิดข้อผิดพลาดในการคำนวณได้ง่าย ผู้เขียนมีวิธีที่ดีกว่า และง่ายกว่านั้น

## เคล็ดลับวิชา

ใช้สูตรหาค่า  $I$  รอบแกนต่างๆ ของหน้าตัดสี่เหลี่ยมผืนผ้า ดังรูป


$$I_x = I_{N.A.} = \frac{bh^3}{12} \quad \text{สูตร 1}$$


$$I_x = \frac{bh^3}{3} \quad \text{สูตร 2}$$


$$I_x = \frac{b}{3} [ch - a^3 + a^3] \quad \text{สูตร 3}$$

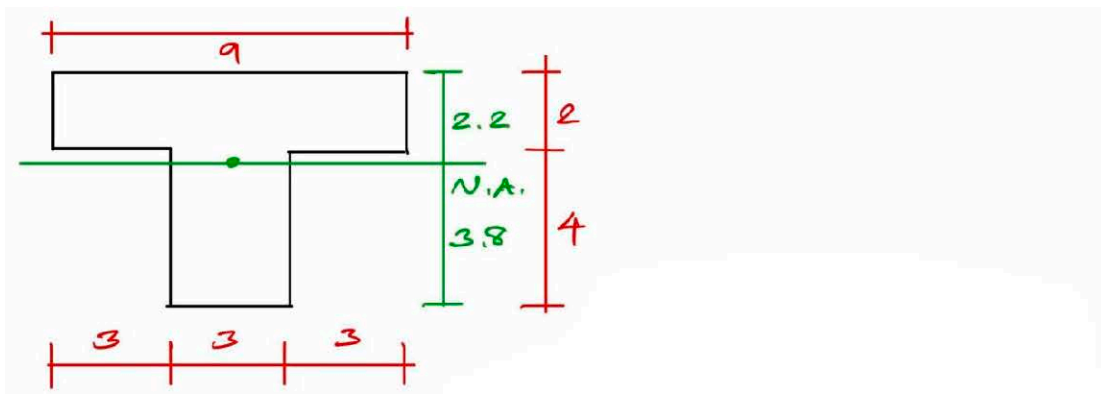
เมื่อแยกหน้าตัดเชิงประกอบเป็นรูปสี่เหลี่ยมมุมฉากย่อย แล้วเลือกใช้สูตรตามความเหมาะสม จะคำนวณหาค่า  $I$  ได้เร็วกว่าการใช้ทฤษฎีย้ายแกน

หน้าตัดเชิงประกอบแต่ละแบบ สามารถเลือกคำนวณตามเทคนิคนี้ได้หลายวิธี ทำให้สามารถเช็คคำตอบได้

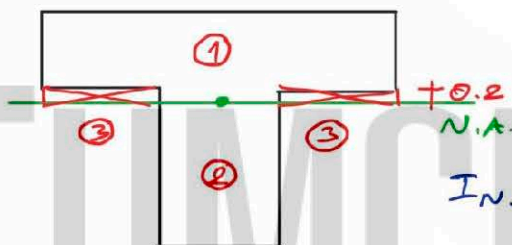


## ตัวอย่าง

1) หา  $I_{N.A.}$



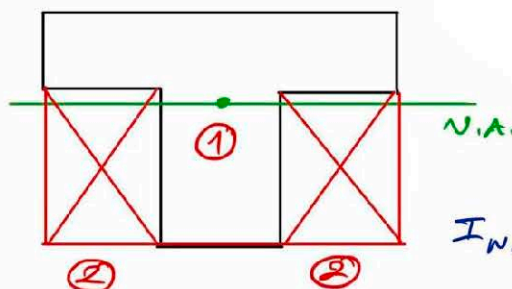
วิธีที่ 1



วิธีที่ 1 : แบ่งเป็น 3 รูป

$$\begin{aligned}
 I_{N.A.} &= I_1 + I_2 - 2I_3 \\
 &= \frac{9(2.2)^3}{3} + \frac{3(3.8)^3}{3} - 2 \frac{3(0.2)^3}{3} \\
 &= 31.944 + 54.872 - 0.016 \\
 &= 86.8
 \end{aligned}$$

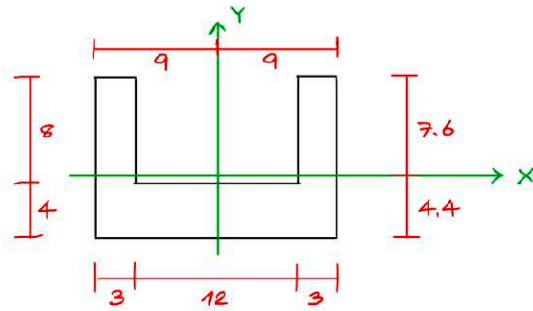
วิธีที่ 2



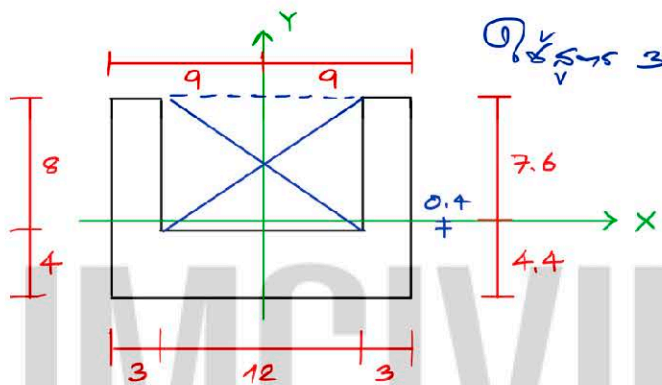
วิธีที่ 2 : แบ่งเป็น 3 รูป

$$\begin{aligned}
 I_{N.A.} &= I_1 - 2I_2 \\
 &= \frac{9}{3} [(6-3.8)^2 + (3.8)^2] \\
 &\quad - 2 \cdot \frac{3}{3} [(4-3.8)^2 + (3.8)^2] \\
 &= 196.56 - 109.76 \\
 &= 86.8
 \end{aligned}$$

2) หา  $I_x$  และ  $I_y$

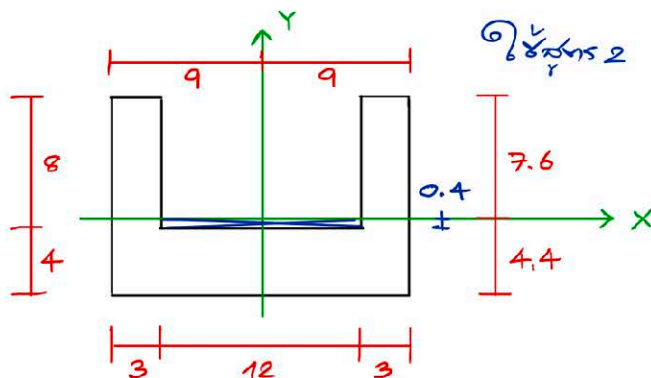


หา  $I_x$  วิธีที่ 1



$$\begin{aligned}
 I_x &= \frac{18}{3} [(12-4.4)^3 + (4.4)^3] - \frac{12}{3} [(8-0.4)^3 + (0.4)^3] \\
 &= 3144.96 - 1756.16 \\
 &= 1388.8
 \end{aligned}$$

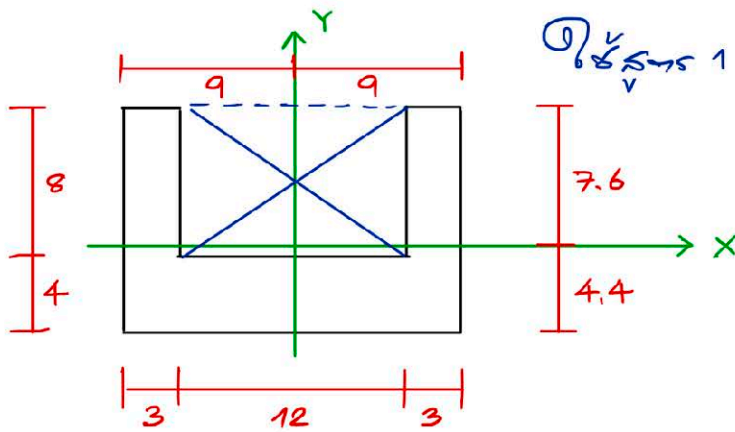
หา  $I_x$  วิธีที่ 2



$$\begin{aligned}
 I_x &= 2 \left[ \frac{3(7.6)^3}{3} \right] + \frac{18(4.4)^3}{3} - \frac{12(0.4)^3}{3} \\
 &= 877.952 + 511.104 - 0.256 \\
 &= 1388.8
 \end{aligned}$$

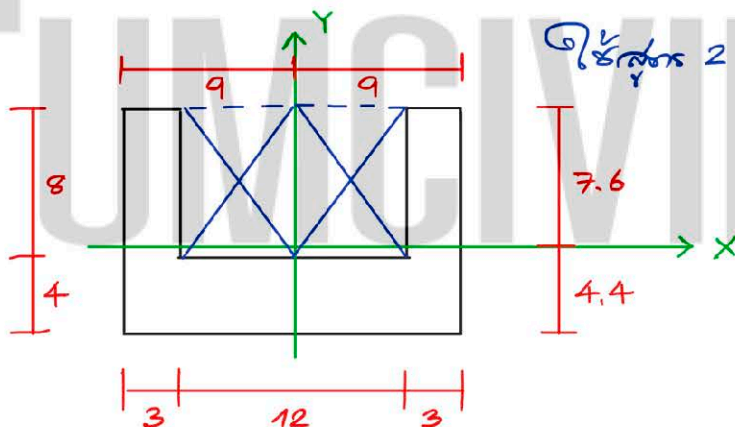


หา  $I_y$  วิธีที่ 1



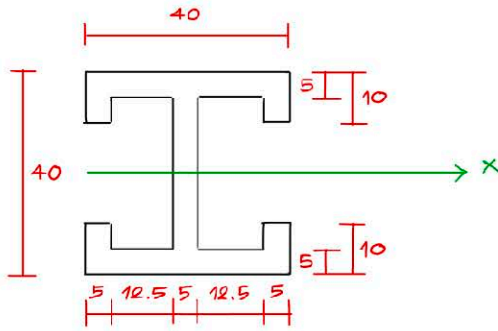
$$I_y = \frac{12(18)^3}{12} - \frac{8(12)^3}{12} = 4680$$

หา  $I_y$  วิธีที่ 2

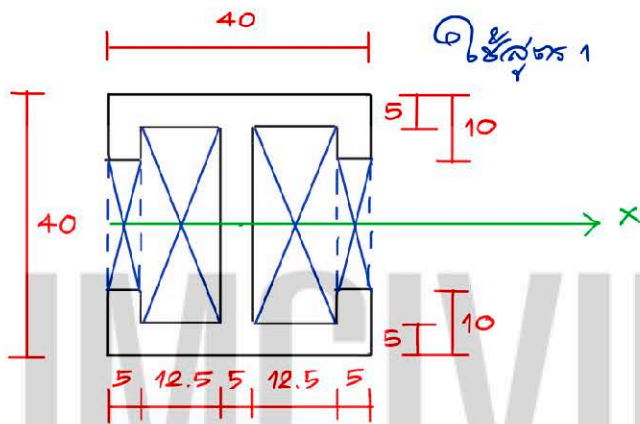


$$I_y = 2 \left[ \frac{12(9)^3}{3} - \frac{8(6)^3}{3} \right] = 4680$$

3) หา  $I_x$



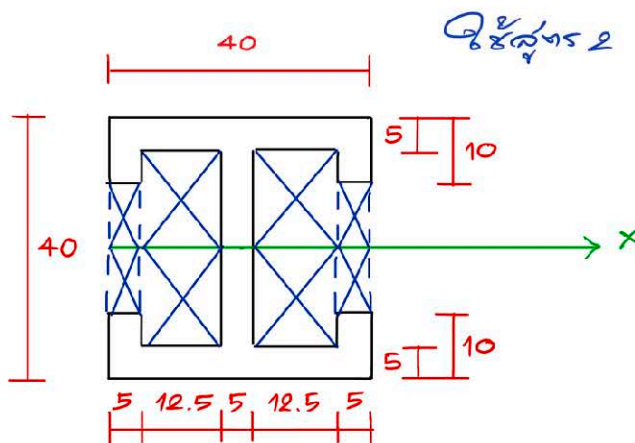
วิธีที่ 1



$$I_x = \frac{40}{12}(40)^3 - 2 \left[ \frac{5}{12}(20)^3 \right] - 2 \left[ \frac{12.5}{12}(20)^3 \right]$$

$$= 213333.33 - 6666.67 - 56250 = 150416.67$$

วิธีที่ 2

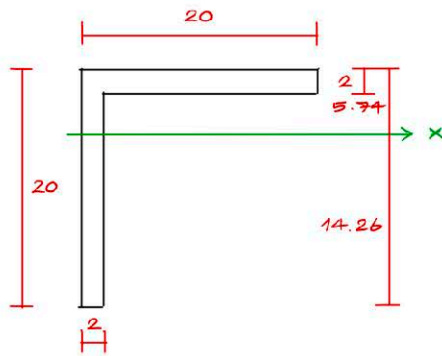


$$I_x = 2 \left\{ \frac{40}{3}(20)^3 - 2 \left[ \frac{5}{3}(10)^3 \right] - 2 \left[ \frac{12.5}{3}(15)^3 \right] \right\}$$

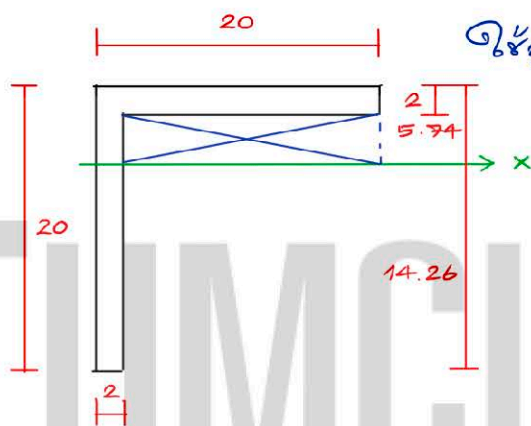
$$= 2(106666.67 - 3333.33 - 28125)$$

$$= 150416.67$$

4) หา  $I_x$

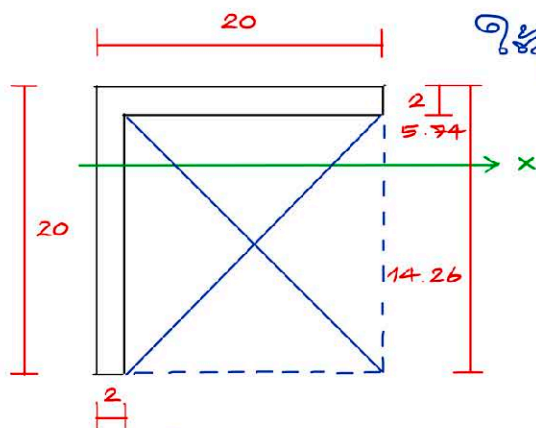


วิธีที่ 1



$$\begin{aligned}
 I_x &= \frac{2}{3} (14.26)^3 + \frac{20}{3} (5.74)^3 - \frac{18}{3} (3.74)^3 \\
 &= 1933.16 + 1260.79 - 313.88 \\
 &= 2880.07
 \end{aligned}$$

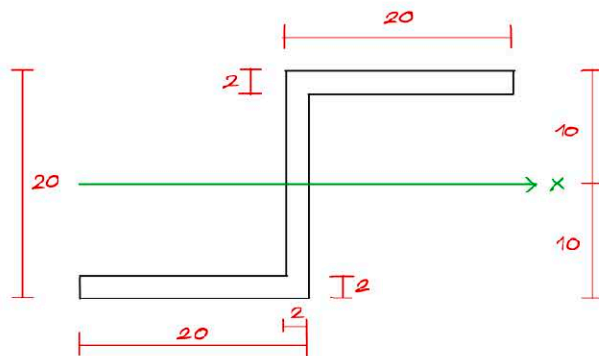
วิธีที่ 2



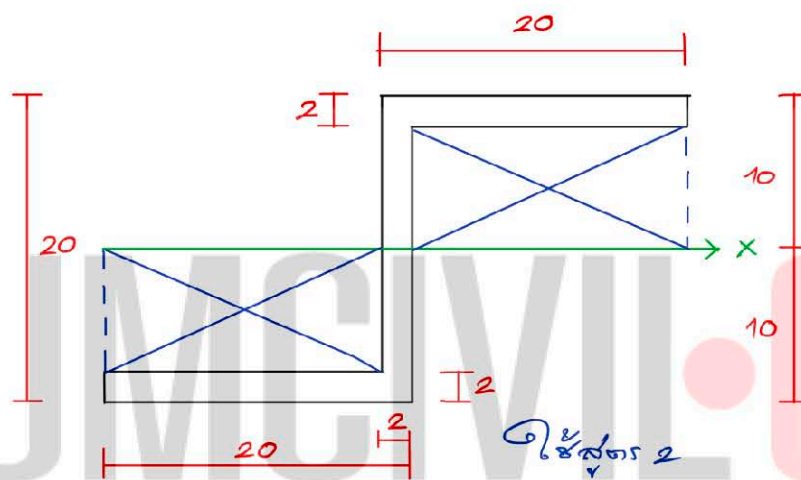
$$\begin{aligned}
 I_x &= \frac{20}{3} \left[ (20-14.26)^3 + (14.26)^3 \right] - \frac{18}{3} \left[ (18-14.26)^3 + (14.26)^3 \right] \\
 &= 20592.37 - 17712.30 \\
 &= 2880.07
 \end{aligned}$$



5) ทา  $I_x$

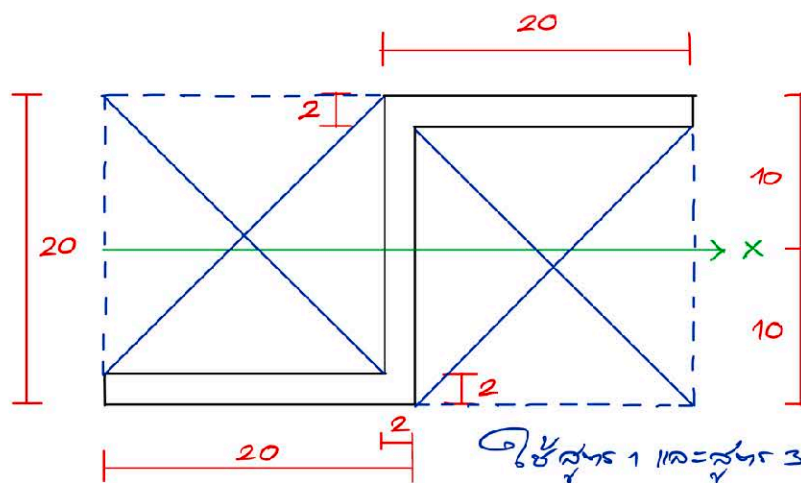


วิธีที่ 1



$$I_x = 2 \left[ \frac{20}{3} (10)^3 - \frac{18}{3} (8)^3 \right] = 7189.33$$

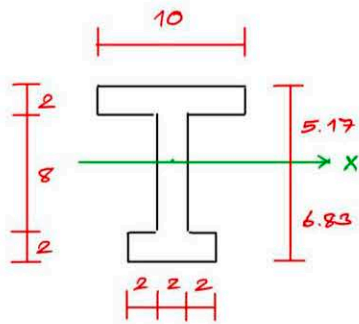
วิธีที่ 2



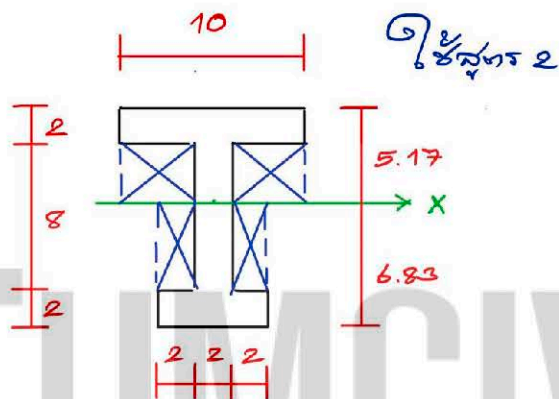
$$I_x = \frac{38}{12} (20)^3 - \frac{18}{3} [(18-8)^3 + 8^3] - \frac{18}{3} [(18-10)^3 + (10)^3]$$

$$= 25333.33 - 9072 - 9072 = 7189.33$$

6) ทา  $I_x$

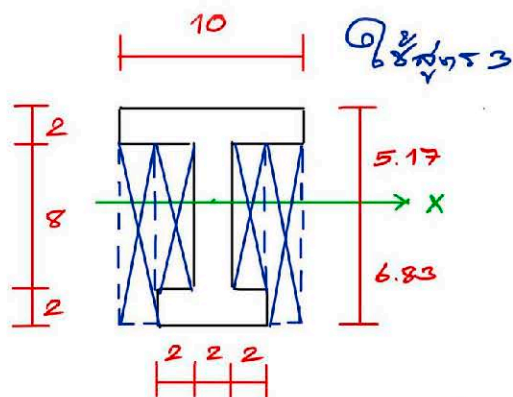


วิธีที่ 1



$$\begin{aligned}
 I_x &= \frac{10}{3}(5.17)^3 - 2 \left[ \frac{4}{3}(3.17)^3 \right] + \frac{6}{3}(6.83)^3 - 2 \left[ \frac{2}{3}(4.83)^3 \right] \\
 &= 460.63 - 84.95 + 637.22 - 150.24 \\
 &= 862.67
 \end{aligned}$$

วิธีที่ 2



$$\begin{aligned}
 I_x &= \frac{10}{3} \left[ (12-6.83)^3 + (6.83)^3 \right] - 2 \left( \frac{2}{3} \right) \left[ (10-6.83)^3 + (6.83)^3 \right] \\
 &\quad - 2 \left( \frac{2}{3} \right) \left[ (8-4.83)^3 + (4.83)^3 \right] \\
 &= 1522.67 - 467.29 - 192.71 = 862.67
 \end{aligned}$$

# การหาแรงภายในโครงข้อหมุน : เทคนิคหน้าเดียว

## ความนำ

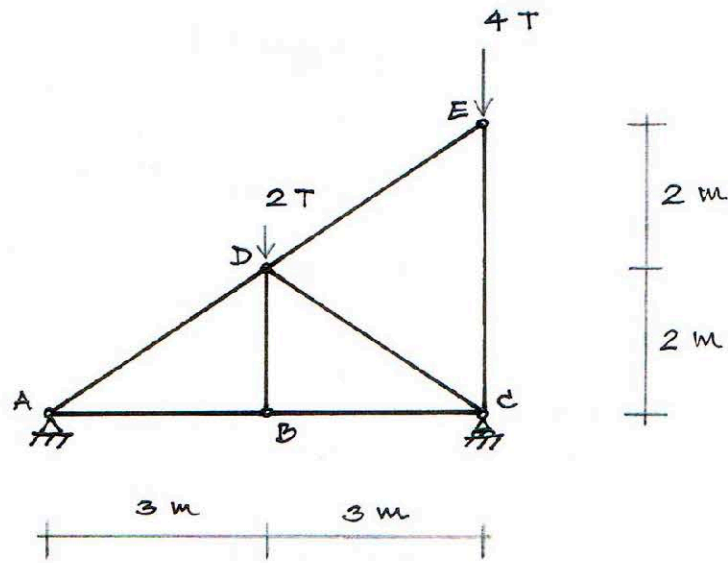
บทนี้อธิบายถึงเทคนิคในการคำนวณอย่างรวดเร็ว เพื่อหาค่าแรงภายในทุกชิ้นส่วนของโครงข้อหมุน โดยอาศัยวิธีข้อต่อ (method of joint) เป็นพื้นฐาน โดยผู้เขียนเรียกว่า “เทคนิคหน้าเดียว” เพราะสามารถคำนวณได้ภายใน 1 หน้ากระดาษเท่านั้น

ก่อนที่จะอธิบายถึงเทคนิคดังกล่าวนี้ ผู้เขียนมีความเห็นว่าควรที่จะกล่าวถึงขั้นตอนการคำนวณด้วยวิธีข้อต่อนี้ก่อน เพื่อปรับความเข้าใจให้ตรงกัน เพราะวิธีข้อต่อนั้นเป็นการใช้สมมูลของแต่ละจุดต่อเพื่อคำนวณหาแรงภายในที่ไม่ทราบค่า โดยหากเป็นชิ้นส่วนในแนวตั้งหรือแนวตั้ง สามารถใช้สมมูลในแนวตั้งและแนวราบคำนวณหาแรงภายในได้ทันที แต่หากเป็นชิ้นส่วนทแยง จะต้องพิจารณาแตกแรงย่อยในแนวตั้งและแนวราบ ซึ่งการหาแรงภายในชิ้นส่วนทแยงนี้ อาจแบ่งออกได้เป็น 2 วิธีคือ

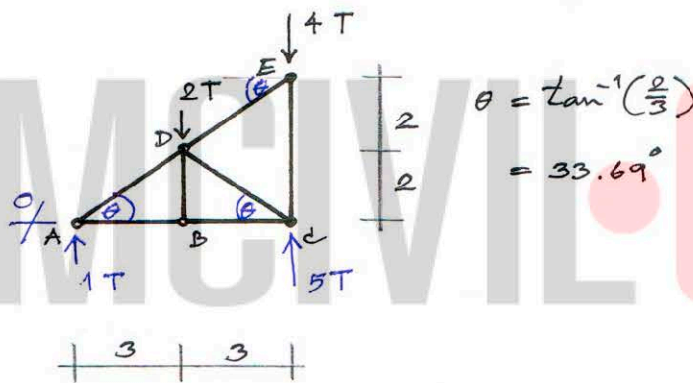
- 1) หาแรงลัพธ์จากความสัมพันธ์ของแรงย่อยกับมุมภายใน
- 2) หาแรงย่อยก่อนแล้วจึงหาแรงลัพธ์

## ตัวอย่างการคำนวณ

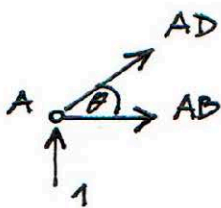
โครงข้อหมุนรับน้ำหนักบรรทุกทุก จะคำนวณหาแรงภายในทุกชิ้นส่วนด้วยวิธีข้อต่อ โดยแบ่งเป็น 2 วิธีในการคำนวณหาแรงภายใน



การคำนวณโดยวิธีที่ 1



จุดต่อ A



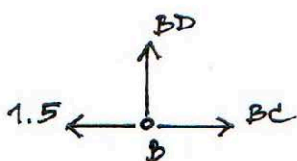
$$\uparrow + \sum F_y = 0 = +1 + AD \sin \theta$$

$$\begin{aligned} \therefore AD &= -1 / \sin \theta \\ &= -1.803 T \quad \# \end{aligned}$$

$$\rightarrow + \sum F_x = 0 = AD \cos \theta + AB$$

$$\begin{aligned} \therefore AB &= -(-1.803) \cos \theta \\ &= +1.5 T \quad \# \end{aligned}$$

จุดต่อ B



$$\sum F_y = 0 = BD$$

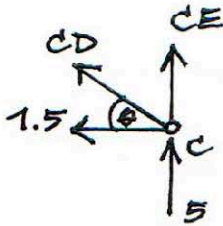
$$\therefore BD = 0 \quad \#$$

$$\rightarrow + \sum F_x = 0 = -1.5 + BC$$

$$\therefore BC = +1.5 T \quad \#$$



จุดต่อ C



$$\leftarrow + \sum F_x = 0 = +1.5 + CD \cos \theta$$

$$\therefore CD = -1.5 / \cos \theta$$

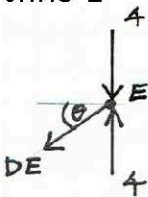
$$= -1.803 \text{ T} \quad \#$$

$$\uparrow + \sum F_y = 0 = +5 + CD \sin \theta + CE$$

$$= +5 + (-1.803) \sin \theta + CE$$

$$\therefore CE = -4 \text{ T} \quad \#$$

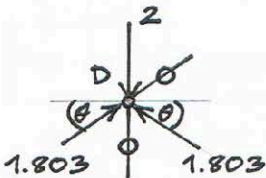
จุดต่อ E



$$\leftarrow + \sum F_x = 0 = DE \cos \theta$$

$$\therefore DE = 0 \quad \#$$

จุดต่อ D (ตรวจสอบ)



$$\rightarrow + \sum F_x = 0 = +1.803 \cos \theta - 1.803 \cos \theta$$

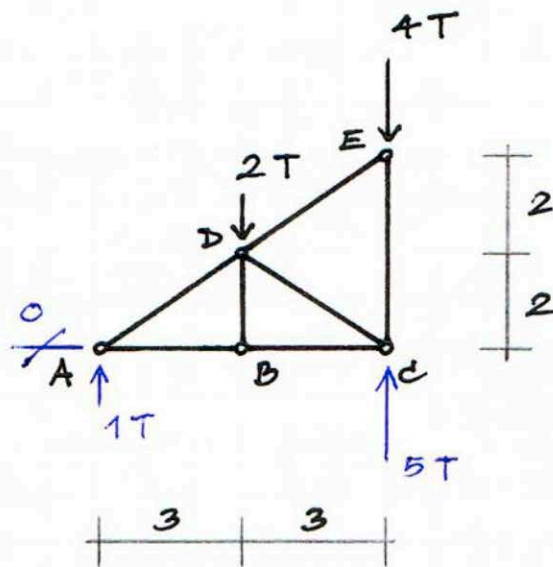
OK

$$\uparrow + \sum F_y = 0 = +1.803 \sin \theta + 1.803 \sin \theta - 2$$

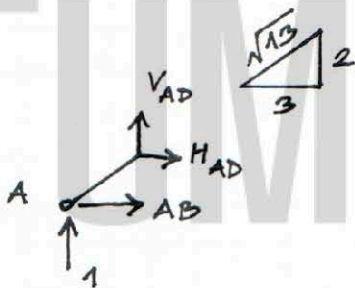
$$= 2 - 2$$

OK

การคำนวณโดยวิธีที่ 2



จุดต่อ A



$$\uparrow + \sum V = 0 = +1 + V_{AD}$$

$$\therefore V_{AD} = -1 \text{ T}$$

$$V_{AD}/2 = H_{AD}/3 = AD/\sqrt{13}$$

$$\therefore H_{AD} = -3(1)/2 = -1.5 \text{ T}$$

$$\therefore AD = -\sqrt{13} (1)/2$$

$$= -1.803 \text{ T} \quad \#$$

หรือ  $AD = -\sqrt{1^2 + 1.5^2}$

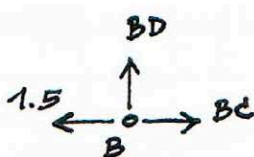
$$= -1.803 \text{ T}$$

$$\rightarrow + \sum H = 0 = AB + H_{AD}$$

$$= AB + (-1.5)$$

$$\therefore AB = +1.5 \text{ T} \quad \#$$

จุดต่อ B



$$\sum V = 0 = BD$$

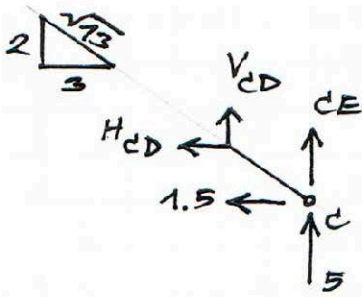
$$\therefore BD = 0 \quad \#$$

$$\rightarrow + \sum H = 0 = -1.5 + BC$$

$$\therefore BC = +1.5 \text{ T} \quad \#$$

จุดต่อ C

$$\leftarrow + \sum H = 0 = H_{CD} + 1.5$$



$$\therefore H_{CD} = -1.5 \text{ T}$$

$$V_{CD} = -2(1.5)/3$$

$$= -1 \text{ T}$$

$$CD = -\sqrt{13}(1.5)/3$$

$$= -1.803 \text{ T}$$

#

$$\uparrow + \sum V = 0 = +5 + V_{CD} + CE$$

$$= +5 - 1 + CE$$

$$\therefore CE = -4 \text{ T}$$

#

จุดต่อ E

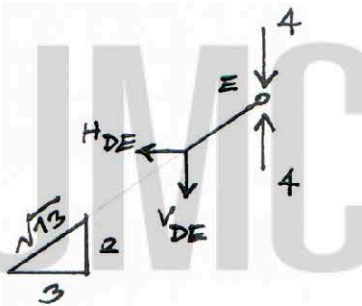
$$\leftarrow + \sum H = 0 = H_{DE}$$

$$\therefore H_{DE} = 0$$

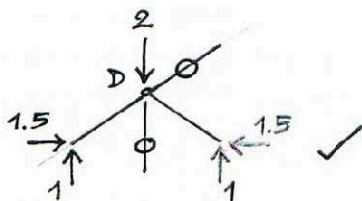
$$V_{DE} = 0$$

$$DE = 0$$

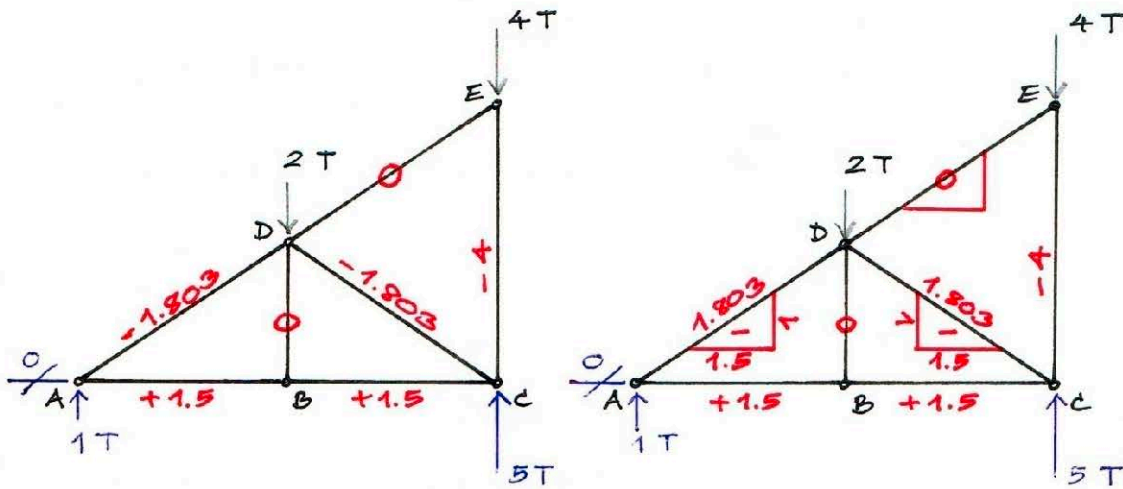
#



จุดต่อ D (ตรวจสอบ)



## เปรียบเทียบผลลัพธ์ของทั้งสองวิธี



ก) วิธีที่ 1

ข) วิธีที่ 2

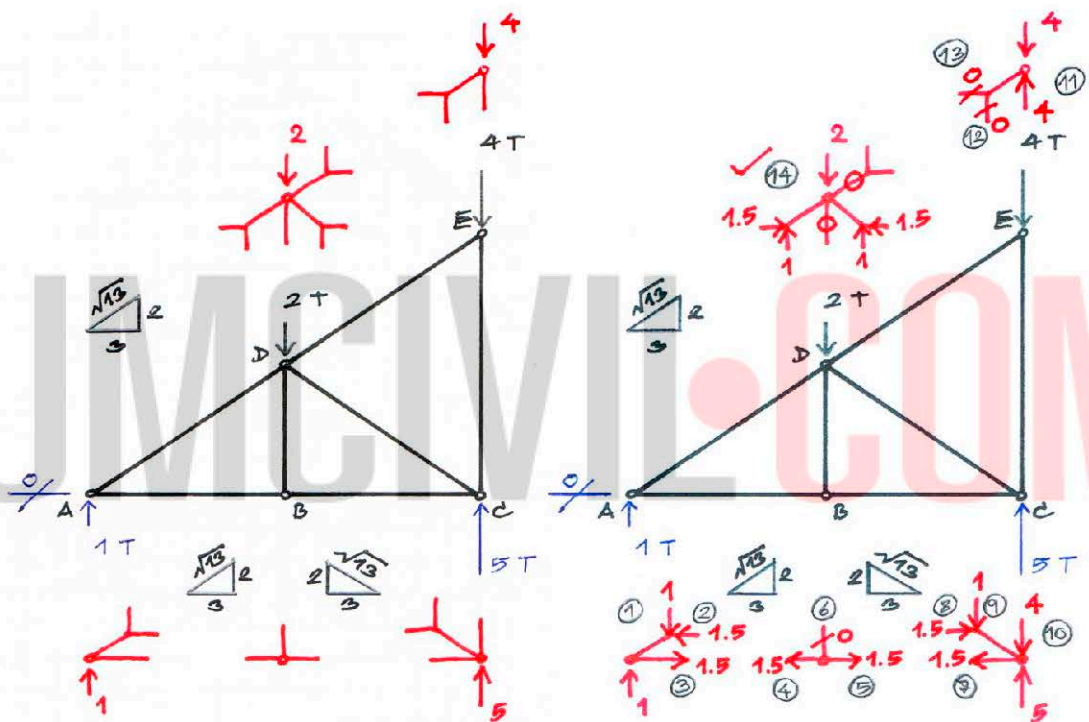
โดยหลักการแล้ว ค่าของแรงภายในที่คำนวณได้จากทั้งสองวิธีจะต้องเท่ากัน แต่มีข้อสังเกตว่า แผนภาพของผลลัพธ์โดยวิธีที่ 2 จะสามารถตรวจสอบความถูกต้องของการคำนวณได้ง่ายกว่า เพราะในชิ้นส่วนทแยงนั้น แสดงทั้งแรงลัพธ์และแรงย่อย ซึ่งในกรณีแรงย่อยจะใช้ในการตรวจสอบผลลัพธ์ โดยการพิจารณาสมดุลในแต่ละจุดต่อ ผลรวมของแรงในแนวตั้งและแนวราบจะต้องเท่ากับศูนย์ในทุก ๆ จุดต่อ ผลลัพธ์จึงถูกต้อง แต่แผนภาพจากวิธีที่ 1 ไม่สามารถพิจารณาสมดุลของแต่ละจุดต่อได้ (โดยตรง) ดังนั้น เมื่อพิจารณาในแง่นี้ จะเห็นว่าการคำนวณโดยวิธีที่ 2 มีประโยชน์กว่า

และจากการคำนวณโดยวิธีที่ 2 นี้เอง ผู้เขียนจะขอแนะนำเสนอประโยชน์สำคัญอีกข้อหนึ่งซึ่งเป็นหัวใจสำคัญของบทนี้คือ เทคนิคในการคำนวณหาแรงภายในโครงข้อหมุนอย่างรวดเร็ว ดังนี้

### เคล็ดลับวิชา

เนื่องจากโดยวิธีนี้ สำหรับชิ้นส่วนทแยงนั้นจะหาแรงย่อยก่อนแล้วจึงหาแรงลัพธ์ ส่วนการพิจารณาทิศทางแรงในแต่ละจุดต่อนั้น ถ้าเป็นแรงดึงคือพุ่งออกจากจุดต่อ และถ้าเป็นแรงอัดคือพุ่งเข้าหาจุดต่อ ทำให้เราสามารถเขียนค่าการถ่ายเทของแรงภายในชิ้นส่วน

จากจุดต่อหนึ่งไปยังจุดต่อข้างเคียงได้ กล่าวคือ เมื่อเราได้ค่าแรงภายใน (แรงลัพธ์สำหรับ ชิ้นส่วนตั้งกับชิ้นส่วนนอน และแรงย่อยแนวตั้งกับแนวราบสำหรับชิ้นส่วนทแยง) ของ ชิ้นส่วนใด ๆ ที่จุดต่อด้านหนึ่งของชิ้นส่วนนั้นแล้ว จุดต่ออีกด้านหนึ่งก็จะมีค่าเดียวกัน (เพราะเป็นชิ้นส่วนเดียวกัน) ดังนั้น หลังจากที่คำนวณหาแรงปฏิกิริยาเสร็จแล้ว การหาแรง ภายในชิ้นส่วน จะเริ่มต้นด้วยการเขียนเส้นของแนวแรงในแต่ละจุดต่อไว้รอบๆ โครง ข้อหมุน ก่อนที่จะคำนวณค่า ดังรูปด้านล่าง ก) ซึ่งนำโครงข้อหมุนจากตัวอย่างมาทำใหม่ โดยอาศัยเทคนิคที่จะอธิบายต่อไป



ก) เขียนแนวแรงที่จุดต่อก่อนคำนวณค่า

ข) ลำดับขั้นตอนการคำนวณ

จากนั้นจึงเริ่มการคำนวณหาแรงภายใน โดยในรูปด้านบน ข) แสดงลำดับขั้นตอน ในการคำนวณที่เขียนเป็นตัวเลขในวงกลม ซึ่งมีคำอธิบายดังนี้

1) จุดต่อ A มีแรงปฏิกิริยา 1 T ทิศทางขึ้น ดังนั้น จากสมดุลแนวตั้ง แรงย่อยแนวตั้ง AD จึงเท่ากับ 1 T ทิศทางลง โดยเมื่อพิจารณาที่จุดต่อ A แล้ว แรงย่อยแนวตั้งนี้มีทิศทาง พุ่งเข้าหาจุดต่อ จึงเป็นแรงอัด ซึ่งหมายถึงแรงย่อยแนวราบและแรงลัพธ์คือแรงอัดด้วย



2) แรงแย่งแนวราบ AD หาได้จากอัตราส่วนสามเหลี่ยมคล้าย จึงเท่ากับ  $(1)(3/2)$  เท่ากับ 1.5 T (สังเกตว่าระยะของชิ้นส่วนจะสัมพันธ์กับค่าของแรงด้วย เช่นในกรณีนี้ ระยะแนวตั้งคือ 2 m แนวนอน 3 m ความยาวของชิ้นส่วน  $\sqrt{13}$  m ดังนั้น ค่าของแรงแย่งแนวตั้งจะมีค่าต่ำสุด สูงขึ้นมาคือค่าของแรงแย่งแนวราบ ส่วนค่าแรงลัพธ์เป็นค่าสูงสุด)

3) จากสมดุลแนวราบ แรงแย่ง 1.5 T มีทิศทางไปทางซ้าย ดังนั้น แรง AB จึงมีค่า 1.5 T ทิศทางไปทางขวา ซึ่งเมื่อพิจารณาที่จุดต่อ A จะเห็นว่าแรง AB นี้มีทิศทางพุ่งออกจากจุดต่อ จึงเป็นแรงดึง

4) จุดต่อ B ใส่ค่าแรง AB 1.5 T ซึ่งเป็นแรงดึงลงไป โดยเมื่อพิจารณาที่จุดต่อ B จึงมีทิศทางพุ่งออกจากจุดต่อ

5) จากสมดุลแนวราบ แรง BC จึงมีค่าเท่ากับ 1.5 T ทิศทางพุ่งออกจากจุดต่อ จึงเป็นแรงดึง

6) จากสมดุลแนวตั้ง แรง BD ไม่ได้ต้านแรงภายนอกใด ๆ (เมื่อพิจารณาที่จุดต่อ B นี้) จึงเท่ากับ 0 (zero force member)

7) จุดต่อ C ใส่ค่าแรงภายในที่ทราบค่าลงไป ในที่นี้คือแรง BC 1.5 T เป็นแรงดึงจึงมีทิศทางพุ่งออกจากจุดต่อ

8) จากสมดุลแนวราบ แรงแย่งแนวราบ CD จึงมีค่าเท่ากับ 1.5 T ทิศทางพุ่งเข้าจุดต่อ เป็นแรงอัด

9) แรงแย่งแนวตั้ง CD หาได้จากอัตราส่วนสามเหลี่ยมคล้าย ซึ่งเท่ากับ  $(1.5)(2/3)$  เท่ากับ 1 T ทิศทางพุ่งเข้าจุดต่อ (แรงอัด เพราะแรงแย่งแนวราบเป็นแรงอัด)

10) จากสมมูลแนวตั้ง แรง CE จึงเท่ากับ 5-1 เท่ากับ 4 T ทิศทางพุ่งเข้าจุดต่อเป็นแรงอัด

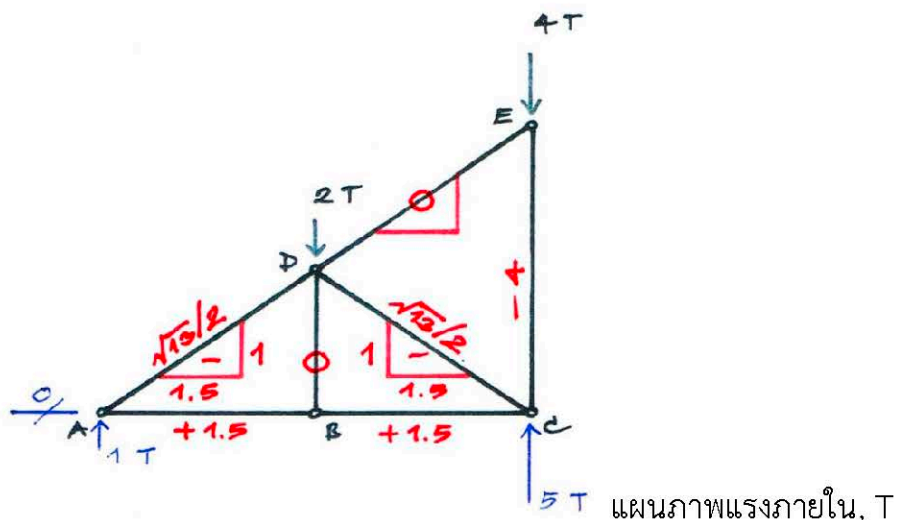
11) จุดต่อ E ใส่ค่าแรงภายในที่ทราบค่าแล้ว คือแรง CE 4 T ทิศทางพุ่งเข้าจุดต่อ (เพราะเป็นแรงอัด)

12) จากสมมูลแนวตั้ง แรงย่อยแนวตั้ง DE จึงเท่ากับ 4-4 เท่ากับ 0

13) ดังนั้น แรงย่อยแนวราบ DE จึงเท่ากับ 0 ซึ่งหมายถึงแรงลัพธ์ DE เท่ากับ 0

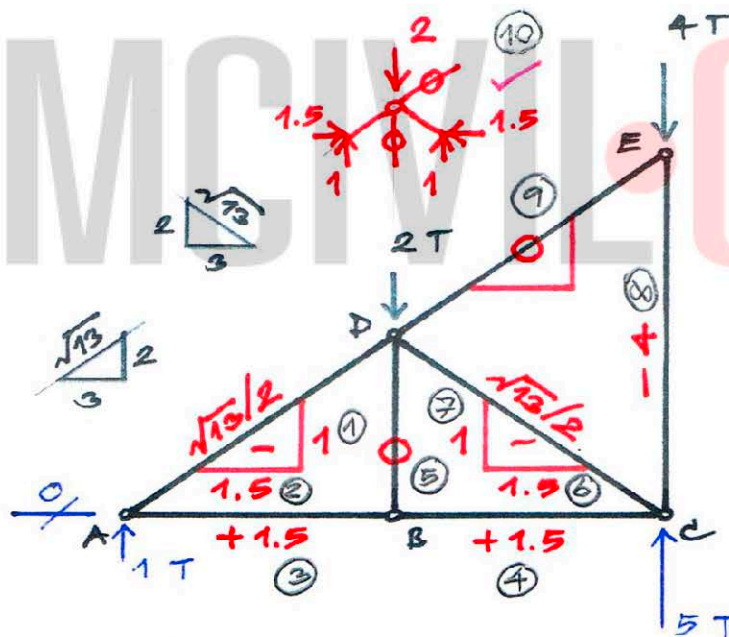
14) จุดต่อ D เป็นการตรวจสอบผลการคำนวณ โดยการนำแรงที่คำนวณแล้วมาใส่ ซึ่งถ้าเป็นชิ้นส่วนทแยง ให้ใส่แรงย่อยแนวตั้งและแนวราบ โดยไม่ต้องใส่แรงลัพธ์ จากนั้นพิจารณาว่าสมมูลทั้งแนวตั้งและแนวราบต้องเท่ากับ 0 แสดงถึงการคำนวณที่ทำมานั้นถูกต้อง

จากนั้น นำแรงที่คำนวณได้มาใส่เป็นแผนภาพของแรงภายใน โดยชิ้นส่วนทแยงนั้น เขียนแรงย่อยประกอบด้วยในรูปแบบสามเหลี่ยมของแรง แล้วใส่เครื่องหมายของแรงในสามเหลี่ยมนั้น (โดยทั่วไปคือ + หมายถึงแรงดึง และ - หมายถึงแรงอัด) แล้วจึงคำนวณหาแรงลัพธ์ในชิ้นส่วนทแยง ซึ่งได้จากอัตราส่วนสามเหลี่ยมคล้าย (หรือใช้ทฤษฎีบทพีทาโกรัส) เป็นการจบขั้นตอนการคำนวณ แสดงดังรูปด้านล่าง



## การคำนวณให้รวดเร็วยิ่งขึ้น

จากเทคนิคที่กล่าวในหัวข้อที่ผ่านมา ซึ่งทำให้การคำนวณทำได้อย่างรวดเร็วกว่าวิธีดั้งเดิม (ตามที่แสดงไว้ในหัวข้อ ตัวอย่างการคำนวณ) หากแต่เมื่อเรามีความชำนาญยิ่งขึ้น ก็มีเทคนิคที่ทำให้การคำนวณทำได้อย่างรวดเร็วยิ่งขึ้นไปอีก และสามารถตรวจสอบความถูกต้องของผลลัพธ์ได้ โดยการคำนวณหาแรงภายในชิ้นส่วนในโครงข้อหมุนในแผนภาพแรงภายในนั้นได้เลย โดยไม่ต้องเขียนแนวแรงของแต่ละจุดต่อ ซึ่งวิธีการคือเขียนแผนภาพของโครงข้อหมุนที่คำนวณหาแรงปฏิกิริยาแล้ว จากนั้น เขียนสามเหลี่ยมของแรงในแต่ละชิ้นส่วนทแยง แล้วจึงคำนวณหาค่าแรงภายในแต่ละชิ้นส่วน โดยรูปด้านล่างเป็นการนำโครงข้อหมุนจากตัวอย่างมาทำใหม่ด้วยเทคนิคนี้ ซึ่งตัวเลขในวงกลมคือลำดับขั้นตอนในการคำนวณ



### คำอธิบาย

1) เริ่มต้นพิจารณาที่จุดต่อ A จากสมดุลแนวตั้ง แรงย่อยแนวตั้ง AD จึงเท่ากับ 1 T ทิศทางพุ่งเข้าจุดต่อ เป็นแรงอัด จึงใส่เครื่องหมายลบในช่องสามเหลี่ยมของแรง

2) แรงย่อยแนวราบ AD คำนวณได้จากอัตราส่วนสามเหลี่ยมคล้าย ซึ่งได้ค่าเท่ากับ 1.5 T

- 3) จากสมมูลแนวราบ แรง AB จึงเท่ากับ  $+ 1.5 \text{ T}$  (แรงดึง)
- 4) ต่อมา พิจารณาจุดต่อ B จากสมมูลแนวราบ แรง BC จึงเท่ากับ  $+ 1.5 \text{ T}$  (แรงดึง)
- 5) จากสมมูลแนวตั้ง แรง BD จึงเท่ากับ  $0$
- 6) ต่อมา พิจารณาจุดต่อ C จากสมมูลแนวราบ ได้ค่าแรงย่อยแนวราบ CD เท่ากับ  $1.5 \text{ T}$  ทิศทางพุ่งเข้าจุดต่อ เป็นแรงอัด จึงใส่เครื่องหมายลบในช่องสามเหลี่ยมของแรง
- 7) แรงย่อยแนวตั้ง CD คำนวณได้จากอัตราส่วนสามเหลี่ยมคล้าย ได้ค่าเท่ากับ  $1 \text{ T}$
- 8) จากสมมูลแนวตั้ง แรง CE จึงเท่ากับ  $5-1$  เท่ากับ  $4 \text{ T}$  ทิศทางพุ่งเข้าจุดต่อ เป็นแรงอัด จึงใส่สัญลักษณ์ - ข้างหน้าค่าของแรง  $4 \text{ T}$
- 9) ต่อมา พิจารณาจุดต่อ E จากสมมูลแนวตั้ง ทำให้ทราบว่าแรงย่อยแนวตั้ง DE เท่ากับ  $0$  ซึ่งหมายถึงแรงย่อยแนวอนและแรงลัพธ์ DE มีค่าเท่ากับ  $0$  ด้วย หลังจากนั้น เมื่อพิจารณาสมมูลแนวราบ ผลรวมของแรงแนวราบเท่ากับ  $0$  เป็นการตรวจสอบผลลัพธ์ไปในตัว
- 10) จุดต่อ D เป็นการตรวจสอบผลลัพธ์ เพราะคำนวณค่าแรงได้ครบทุกชิ้นส่วนแล้ว ซึ่งถ้าให้พิจารณาง่าย อาจเขียนแยกเฉพาะจุดต่อนี้ออกมา แล้วใส่แรงที่ทราบค่าลงไป โดยแรงของชิ้นส่วนทแยงนั้น ใส่ในรูปแบบของแรงย่อยแนวตั้งและแนวราบ จากนั้น เมื่อใส่แรงครบแล้วจึงพิจารณาสมมูลในแนวตั้งและแนวราบ ซึ่งจะเห็นว่าผลรวมเท่ากับ  $0$  ทั้งสองแนว จึงสรุปได้ว่าการคำนวณหาแรงภายในทุกชิ้นส่วนนี้ถูกต้อง

จากนั้นจึงคำนวณหาแรงลัพธ์ในชิ้นส่วนทแยง ซึ่งได้จากอัตราส่วนสามเหลี่ยมคล้าย (หรือใช้ทฤษฎีบทพีทาโกรัส) เป็นการจบขั้นตอนการคำนวณ



## สรุป

เทคนิคการคำนวณหาแรงภายในโครงข้อหมุนอย่างรวดเร็ว ตามที่ผู้เขียนนำเสนอ มานี้ อาจสรุปวิธีการโดยย่อได้ดังนี้

- 1) พิจารณา FBD ของแต่ละจุดต่อในมุมมองของแรงในแนวตั้งและแรงในแนวราบ คือ ถ้าชิ้นส่วนอยู่ในแนวตั้งหรือแนวนอนอยู่แล้ว ก็พิจารณาเป็นแรงลัพธ์ แต่ถ้าเป็นชิ้นส่วนเอียง ให้พิจารณาเป็นแรงย่อยแนวตั้งและแนวราบ
2. ในกรณีชิ้นส่วนเอียง แรงย่อยหนึ่ง (แนวตั้งหรือแนวราบ) จะคำนวณได้โดยใช้สมการสมดุล
3. ในกรณีชิ้นส่วนเอียง อีกแรงย่อยหนึ่งจะหาได้โดยใช้หลักการสามเหลี่ยมคล้าย และแรงลัพธ์สามารถหาได้จากหลักการสามเหลี่ยมคล้าย หรือ ทฤษฎีบทพีทาโกรัส (แต่ควรคำนวณหาในภายหลังจากคำนวณหา/ตรวจสอบความถูกต้องของสมดุลในทุกจุดต่อแล้ว)
4. จากนั้น คำนวณหาแรงอื่นโดยใช้สมการสมดุล
5. ทำแบบนี้กับทุกจุดต่อ ซึ่งโดยทั่วไปแล้ว จะหาค่าของแรงได้ครบก่อนถึงจุดต่อท้ายสุด แล้วจุดต่อท้ายสุดจะเป็นการตรวจสอบความถูกต้องของสมดุลแรง

การคำนวณหาค่าแรงภายในชิ้นส่วนซึ่งทำโดยใช้เทคนิคที่ได้อธิบายไว้ในหัวข้อ การคำนวณให้รวดเร็วยิ่งขึ้น ส่วนใหญ่แล้วจะใช้ได้เลย ยกเว้นบางกรณี (เช่นในตัวอย่างข้อ 2) ที่ต้องมีการแก้สมการหาแรงย่อยในบางชิ้นส่วนก่อน โดยการหาความสัมพันธ์ของแรงย่อยจากอัตราส่วนสามเหลี่ยมคล้าย เพื่อลดตัวไม่ทราบค่าลง แต่ถือว่ายังเป็นการคำนวณตามวิธีที่ 2 และยังใช้เทคนิคตามที่ได้นำเสนอมานี้ได้

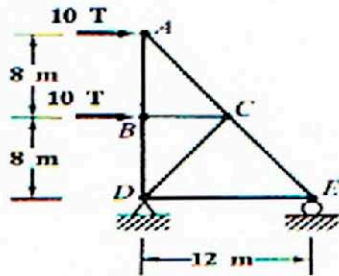
ดังนั้น จากประสบการณ์ของผู้เขียน อาจกล่าวได้ว่า เทคนิคที่นำเสนอในบทความนี้ สามารถใช้ได้กับโครงข้อหมุนทั้งแบบดีเทอร์มิเนทและอินดีเทอร์มิเนท โดยในแบบอินดีเทอร์มิเนทนั้น จะหาได้หลังจากที่หาแรงตัวเกินได้แล้ว



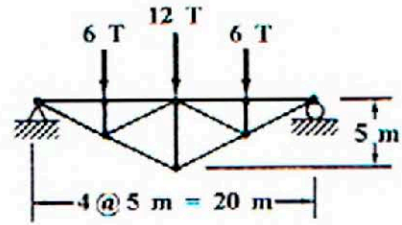
## ตัวอย่าง

คำนวณหาแรงภายในทุกชิ้นส่วนของโครงข้อหมุน ดังต่อไปนี้

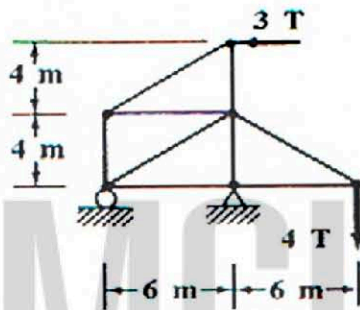
1)



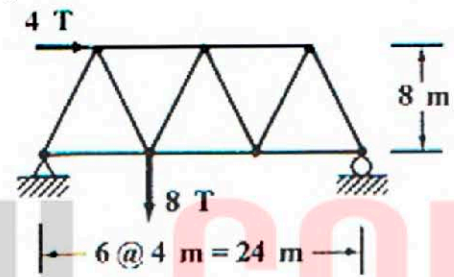
2)



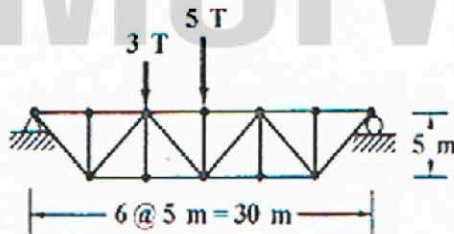
3)



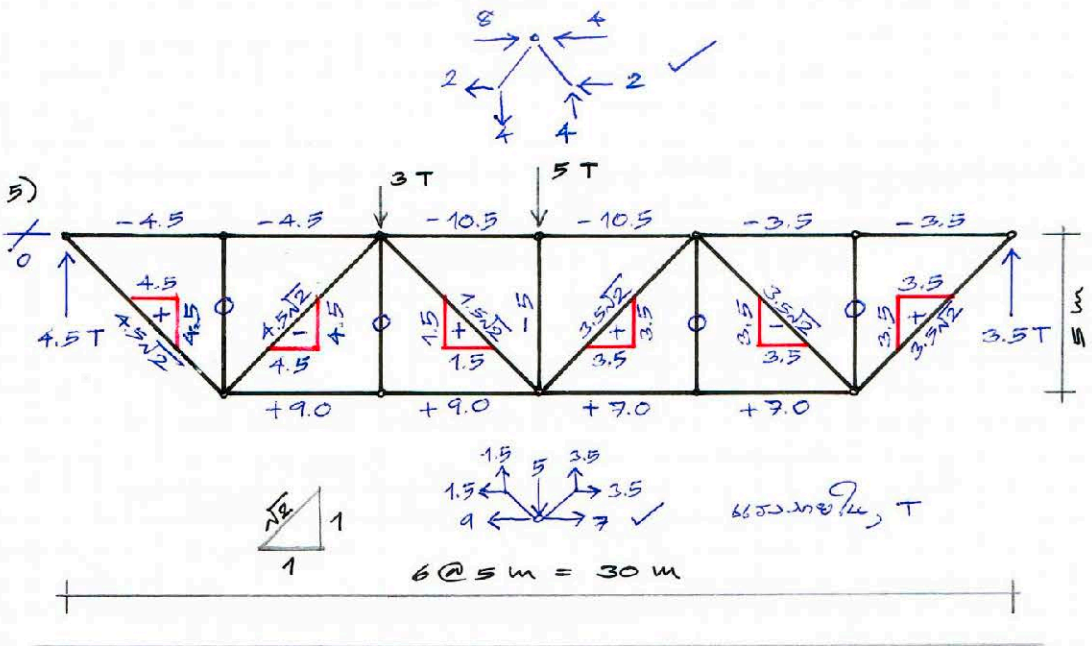
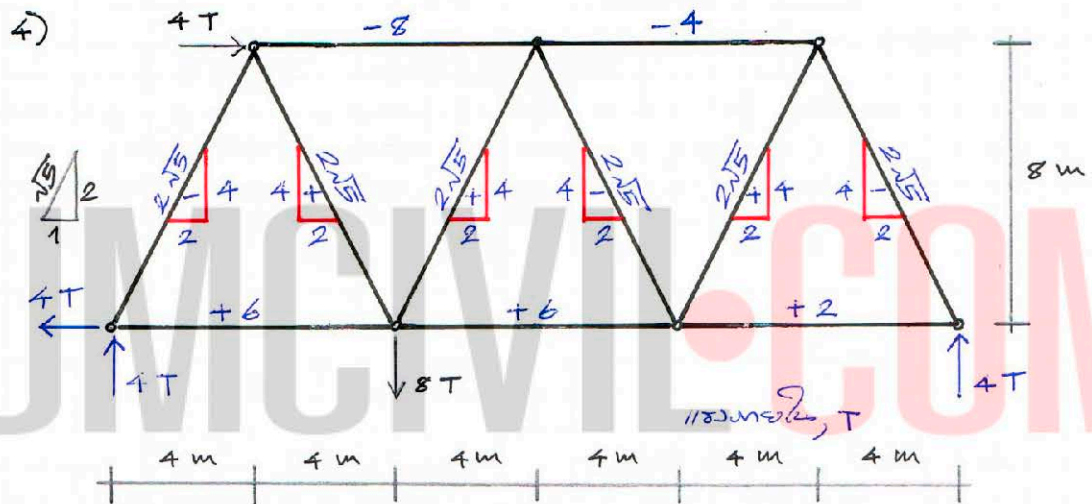
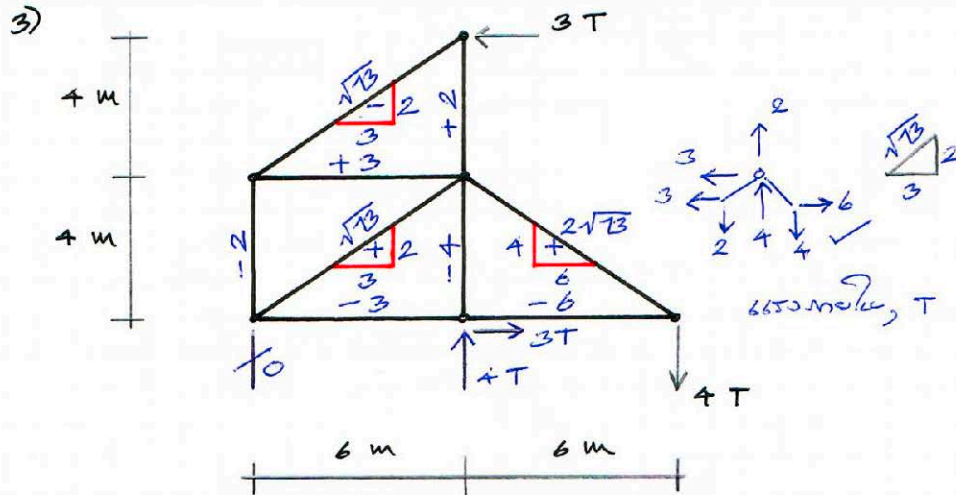
4)



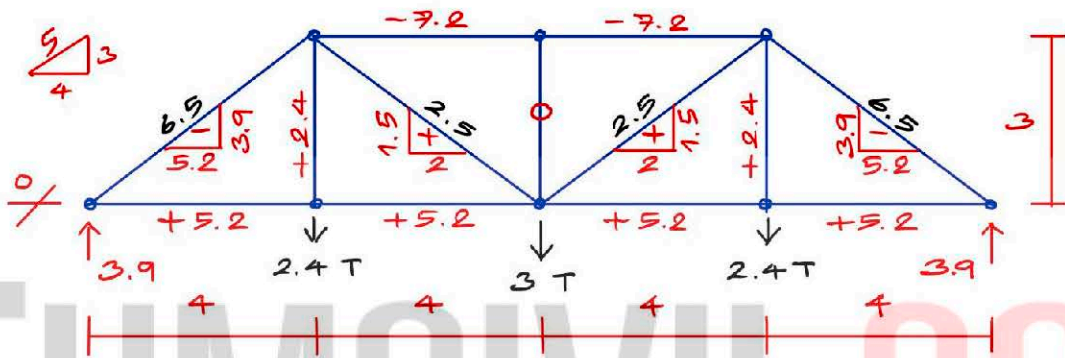
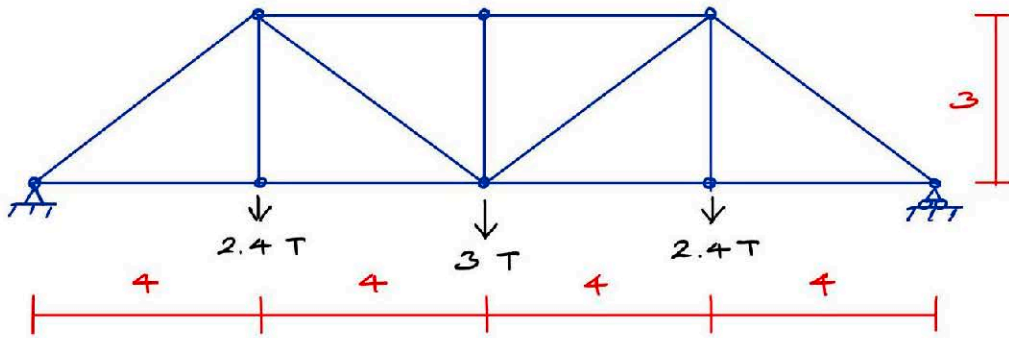
5)







6)



แรงภายใน, T

## การหาแรงปฏิกิริยาอย่างรวดเร็ว

### ความนำ

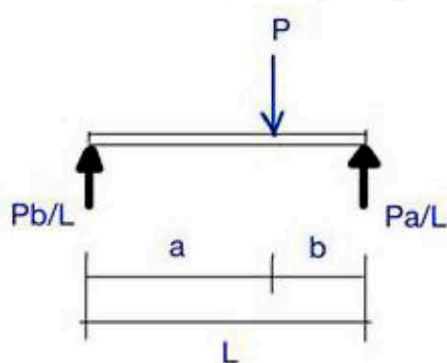
โดยหลักการของการวิเคราะห์โครงสร้างคือ การหาสมดุลของแรงภายนอกกับแรงต้านทานภายในโครงสร้าง ซึ่งถ้าวิเคราะห์ในระบบ 2 มิติ สมการที่ใช้จะมี 3 สมการคือ ผลรวมของแรงในแนวราบเท่ากับ 0 ( $\sum F_x = 0$  หรือ  $\sum H = 0$ ) ผลรวมของแรงในแนวตั้งเท่ากับ 0 ( $\sum F_y = 0$  หรือ  $\sum V = 0$ ) และผลรวมของโมเมนต์รอบจุดใดๆ (รอบแกน Z) เท่ากับ 0 ( $\sum M_z = 0$ ) ซึ่งโดยทั่วไปในการคำนวณหาแรงปฏิกิริยา จะใช้การตั้ง 3 สมการนี้ทุกครั้ง

แต่ที่จริงแล้ว เราไม่จำเป็นต้องใช้การตั้ง 3 สมการนี้ในการคำนวณหาค่าเสมอไป คือยังใช้หลักการสมดุลของแรงนี้อยู่ แต่สามารถคำนวณลัดขั้นตอนไปได้อย่างรวดเร็ว ดังนี้

### เคล็ดลับวิชา

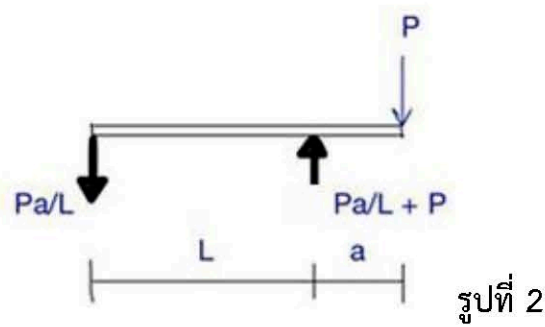
1. ใช้หลักการรวมผล (superposition) แยกแรงออกเป็นแรงย่อยที่สามารถใช้สูตรได้
2. หาแรงลัพธ์ของน้ำหนักกระจาย ซึ่งอยู่ในรูปของน้ำหนักบรรทุกทุกแบบจุด (point load)
3. ดังนั้น สูตรการหาแรงปฏิกิริยาที่ใช้บ่อย มี 3 สูตร คือ

ก. คานช่วงเดียวรับน้ำหนักบรรทุกทุกแบบจุด ดังรูปที่ 1



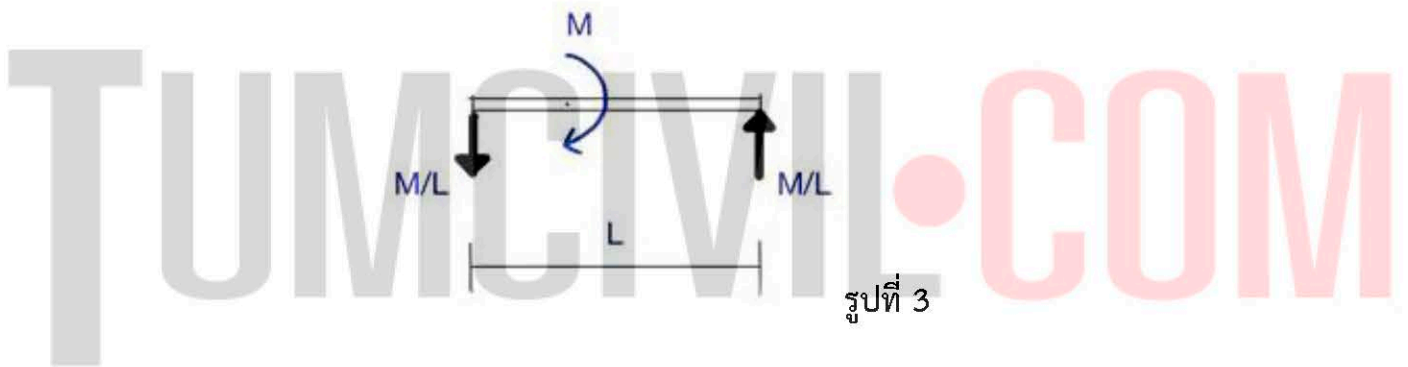
รูปที่ 1

ข. คานช่วงเดียวปลายยื่นรับน้ำหนักบรรทุกทุกแบบจุด ดังรูปที่ 2



ค. คานช่วงเดียวรับโมเมนต์คู่ควบ ดังรูปที่ 3

(ถ้าโมเมนต์คู่ควบกระทำทวนเข็มนาฬิกา แรงปฏิกิริยาจะกลับทิศจากในรูป)

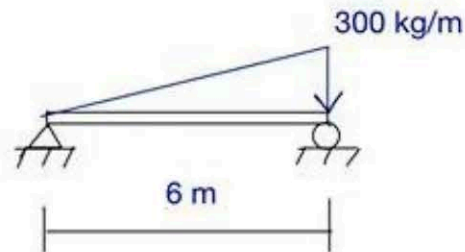




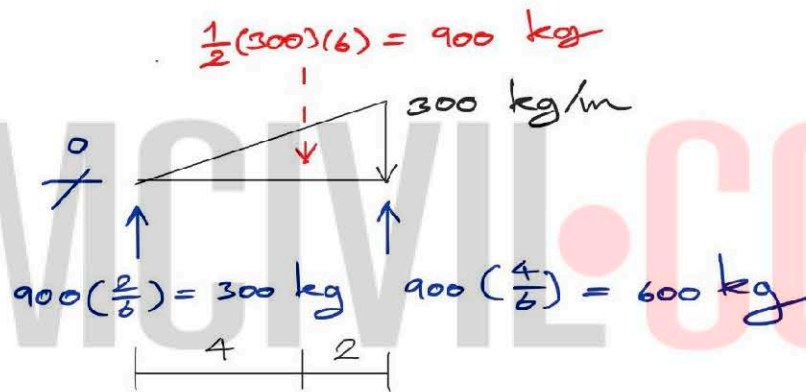
## ตัวอย่าง

หาแรงปฏิกิริยา ณ ที่รองรับของคานรับน้ำหนักบรรทุกดังรูป

1)



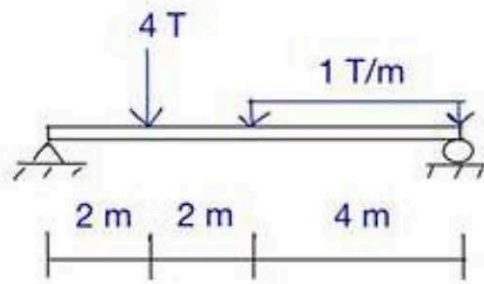
## วิธีทำ



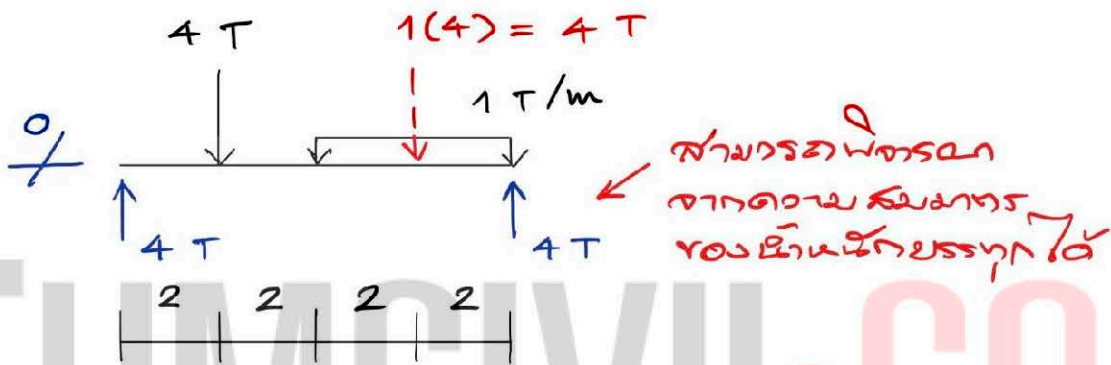
## อธิบาย

- หาแรงลัพธ์ของน้ำหนักแผ่กระจายแบบรูปสามเหลี่ยม ซึ่งเท่ากับพื้นที่สามเหลี่ยม
- แรงลัพธ์นี้กระทำที่ตำแหน่งเซนทรอยด์ของสามเหลี่ยม
- หาแรงปฏิกิริยาจากสูตรรูปที่ 1

2)



วิธีทำ

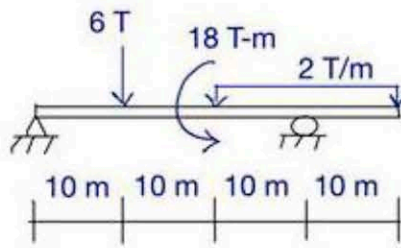


อธิบาย

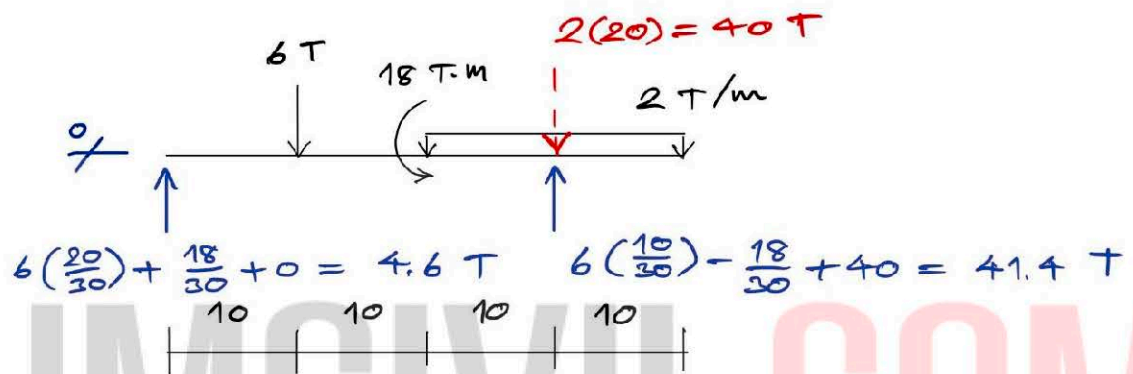
- หาแรงลัพธ์ของน้ำหนักแผ่กระจายสม่ำเสมอ ซึ่งเท่ากับพื้นที่สี่เหลี่ยม
- แรงลัพธ์นี้กระทำที่ตำแหน่งเซนทรอยด์ของสี่เหลี่ยม
- แรงลัพธ์ 4 T นี้กระทำในตำแหน่งที่สมมาตรกับน้ำหนัก 4 T ด้านซ้ายมือ และมีค่าเท่ากัน ดังนั้น สามารถหาแรงปฏิกิริยาจากความสมมาตรนี้ได้ทันที
- แต่ถ้าใช้หลักการรวมผล และสูตรตามรูปที่ 1 จะได้ว่า

$$R_{ซ้าย} = 4(6)/8 + 4(2)/8 = 4 T = R_{ขวา}$$

3)



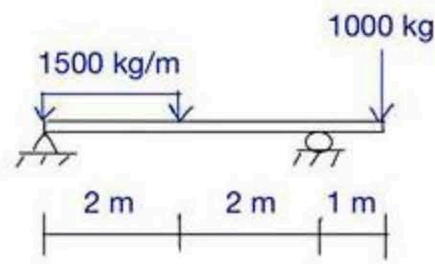
วิธีทำ



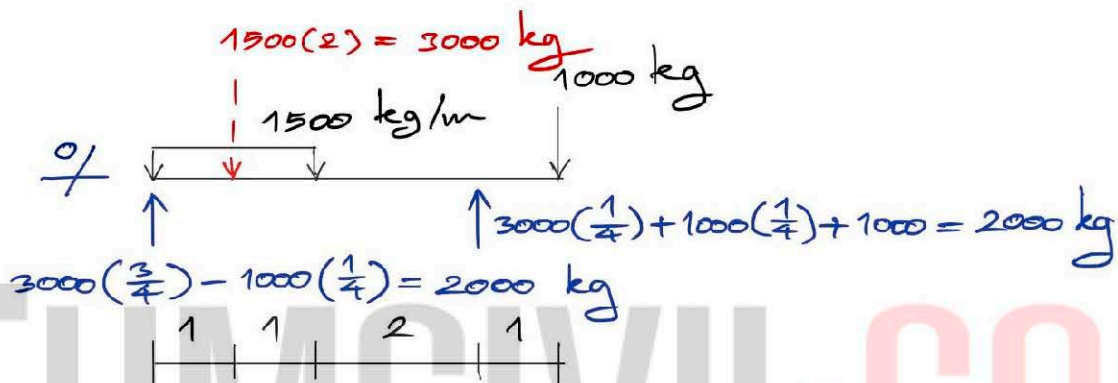
อธิบาย

- หาแรงลัพธ์ของน้ำหนักแผ่กระจายสม่ำเสมอ ซึ่งเท่ากับพื้นที่สี่เหลี่ยม
- แรงลัพธ์นี้กระทำที่ตำแหน่งเซนทรอยด์ของสี่เหลี่ยม
- ใช้หลักการรวมผล สูตรตามรูปที่ 1 และรูปที่ 3 คำนวณหาแรงปฏิกิริยา

4)



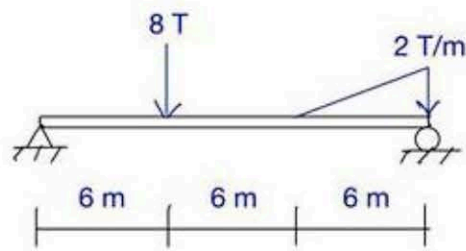
วิธีทำ



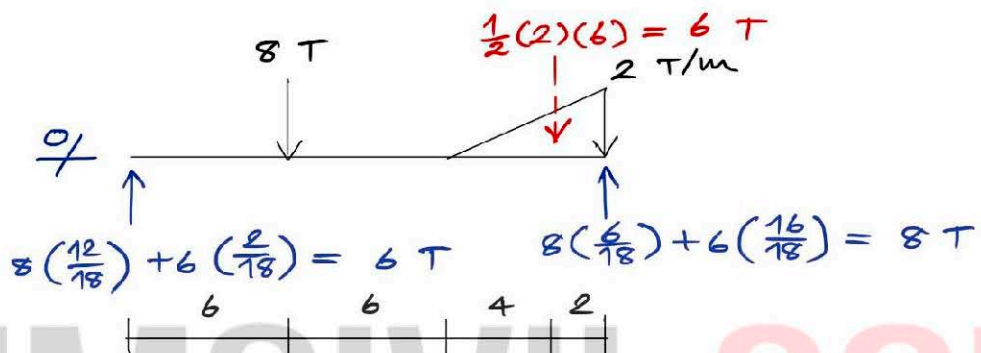
อธิบาย

- หาแรงลัพธ์ของน้ำหนักแผ่กระจายสม่ำเสมอ ซึ่งเท่ากับพื้นที่สี่เหลี่ยม
- แรงลัพธ์นี้กระทำที่ตำแหน่งเซนทรอยด์ของสี่เหลี่ยม
- ใช้หลักการรวมผล สูตรตามรูปที่ 1 และรูปที่ 2 คำนวณหาแรงปฏิกิริยา

5)



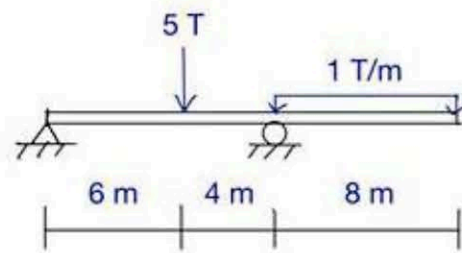
วิธีทำ



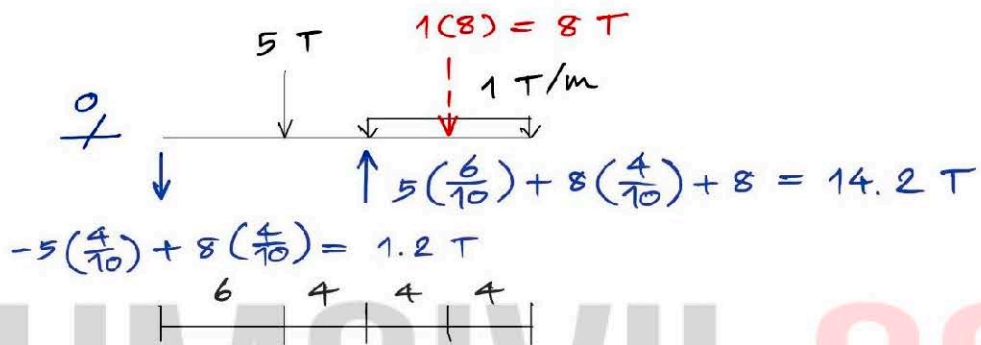
อธิบาย

- หาแรงลัพธ์ของน้ำหนักแผ่กระจายแบบรูปสามเหลี่ยม ซึ่งเท่ากับพื้นที่สามเหลี่ยม
- แรงลัพธ์นี้กระทำที่ตำแหน่งเซนทรอยด์ของสามเหลี่ยม
- ใช้หลักการรวมผล และสูตรตามรูปที่ 1 คำนวณหาแรงปฏิกิริยา

6)



วิธีทำ



อธิบาย

- หาแรงลัพธ์ของน้ำหนักแผ่นกระจายสม่ำเสมอ ซึ่งเท่ากับพื้นที่สี่เหลี่ยม
- แรงลัพธ์นี้กระทำที่ตำแหน่งเซนทรอยด์ของสี่เหลี่ยม
- ใช้หลักการรวมผล สูตรตามรูปที่ 1 และรูปที่ 2 คำนวณหาแรงปฏิกิริยา



# การหาแรงปฏิกิริยาในโครงสร้าง แบบอินดีเทอร์มิเนท : การรวมผล

## ความนำ

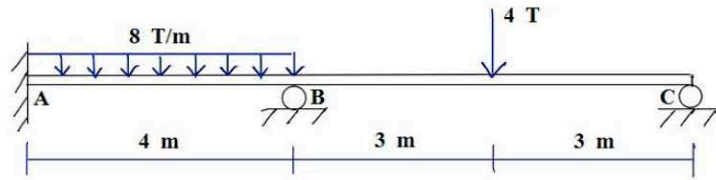
โดยทั่วไป วิธีการวิเคราะห์โครงสร้างคาน/โครงข้อแข็งแบบอินดีเทอร์มิเนทโดยการคำนวณด้วยมือนั้น ค่าแรกที่ได้คือ โมเมนต์ดัดภายในที่กระทำในแต่ละจุดต่อ เช่นวิธีสมการสามโมเมนต์ มุมลาด-ระยะแอน โมเมนต์กระจาย เป็นต้น ซึ่งในกรณีของคานนั้น จุดต่อที่เกิดโมเมนต์ภายในคือ ที่รองรับ (support) จากนั้น ขั้นตอนต่อไปคือ การหาแรงปฏิกิริยา ซึ่งทำได้โดยใช้สมการสมดุล โดยบทนี้จะนำเสนอเทคนิคการคำนวณหาแรงปฏิกิริยาในคานแบบอินดีเทอร์มิเนท ซึ่งสามารถนำไปประยุกต์ใช้กับโครงข้อแข็งได้ด้วย

## เคล็ดลับวิชา

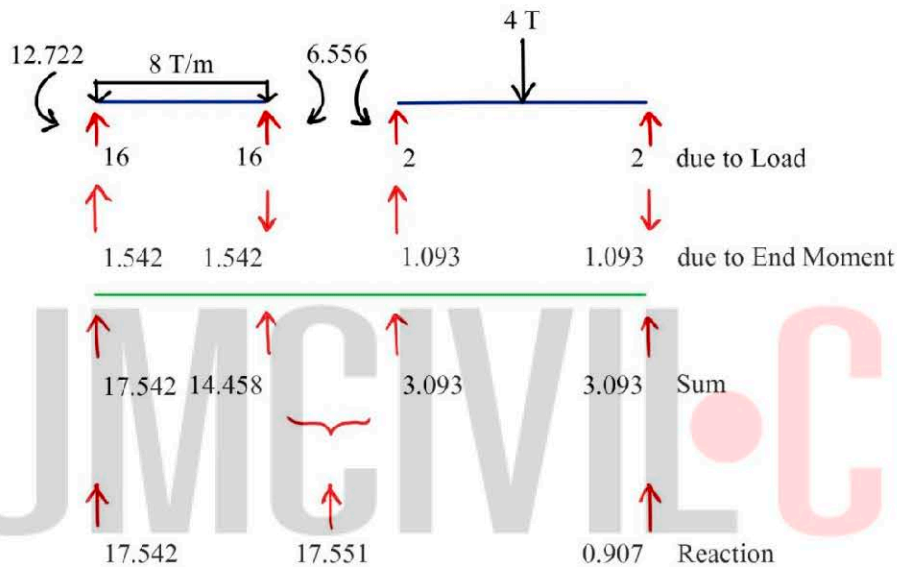
1. แยกคานต่อเนื่องออกมาเป็นคานแต่ละช่วง ซึ่งรับน้ำหนักบรรทุกทุกภายนอก และโมเมนต์ที่ปลายคานซึ่งคำนวณมาได้แล้ว
2. ใช้หลักการรวมผล แยกการหาแรงปฏิกิริยาย่อยของแต่ละช่วงคาน ออกเป็น แรงปฏิกิริยาเนื่องจากน้ำหนักบรรทุก (due to Load) และแรงปฏิกิริยาเนื่องจากโมเมนต์ที่ปลายคาน (due to End Moment)
3. การหาแรงปฏิกิริยาเนื่องจากน้ำหนักบรรทุก สามารถใช้เคล็ดลับวิชาในบทที่ 1 ได้
4. การหาแรงปฏิกิริยาเนื่องจากโมเมนต์ที่ปลายคาน ด้านซ้ายและด้านขวาของคาน ย่อยนั้น จะมีค่าเท่ากันแต่ทิศทางตรงกันข้าม
5. แรงปฏิกิริยาเนื่องจากโมเมนต์ที่ปลายคาน ผลรวมตามเครื่องหมายของโมเมนต์ที่ปลายคานด้านซ้าย ( $M_L$ ) และขวา ( $M_R$ ) หาด้วยความยาวของคานช่วงนั้น ( $L$ ) นั่นคือ  $[M_L + M_R]/L$
6. การพิจารณาทิศทางของแรงปฏิกิริยาอย่างง่ายคือ การดูว่าผลรวมของโมเมนต์ที่ปลายนั้น พยายามทำให้คานหมุนตามเข็มนาฬิกาหรือทวนเข็มนาฬิกา ซึ่งแรงปฏิกิริยาจะมีทิศทางที่ต้านการหมุนของแรงปฏิกิริยานั้น และเมื่อด้านหนึ่งทิศทางเป็นอย่างไร อีกด้านหนึ่งจะกลับทิศกัน

ตัวอย่าง หาแรงปฏิกิริยา (Reaction, R) ณ ที่รองรับของคานรับน้ำหนักบรรทุก  
ดังรูป

1)  $M_A = -12.722 \text{ T-m}$ ,  $M_B = -6.556 \text{ T-m}$



วิธีทำ



อธิบาย

- หลังจากที่เราหาโมเมนต์ ณ ที่รองรับได้แล้ว เขียน FBD ของคานแต่ละช่วง
- ใช้หลักการรวมผล แยกหา R เนื่องจากน้ำหนักบรรทุกและโมเมนต์ที่ปลาย
- R เนื่องจากน.บรรทุกของทั้งสองคานรับเท่ากันทั้งสองด้านเพราะมีความสมมาตร
- คานด้านซ้าย โมเมนต์ที่ปลายหักล้างกัน =  $12.722 - 6.556 = 6.166$  โดยพยายามทำให้คานหมุนทวนเข็มนาฬิกา ดังนั้น R ด้านขวาจะต้องมีทิศทางลง ด้านทานการหมุนทวนเข็มนาฬิกา ทำให้ R ด้านซ้ายต้องมีทิศทางขึ้น (เพราะผลรวมในแนวตั้งต้องเท่ากับศูนย์) โดยค่าของ R เท่ากันคือ  $6.166/4 = 1.542$
- ในทำนองเดียวกัน คานด้านขวา โมเมนต์ที่ปลายพยายามทำให้คานหมุนทวนเข็มนาฬิกา ดังนั้น R ขวา ทิศทางลงด้านการหมุนนี้ ซึ่งทำให้ R ด้านซ้ายทิศทางขึ้น โดยมีค่าเท่ากันคือ  $6.556/6 = 1.093$
- รวม R ย่อยทั้งสองเข้าด้วยกันตามเครื่องหมาย ได้เป็น R ของแต่ละช่วงคาน

- R ของคานจริง คือ ผลรวมตามเครื่องหมายของ R แต่ละช่วงคาน ซึ่งถ้าเป็นที่รองรับปลายคานด้านนอก ค่า R จะมีค่าเดียว คือ 17.542 และ 0.907 ส่วนที่รองรับด้านในคือ  $14.458 + 3.093 = 17.551$
- ควรนำขนาดและทิศทางของ R ในคานจริงมาเขียนสรุปอีกครั้ง
- ควรตรวจสอบว่า คานจริงมีความสมดุลหรือไม่อีกครั้ง โดยการใช้สมการสมดุล คือ  $\sum V = 0$  (และ  $\sum M = 0$  ในกรณีที่แรงปฏิกิริยามีค่าโมเมนต์ด้วย)

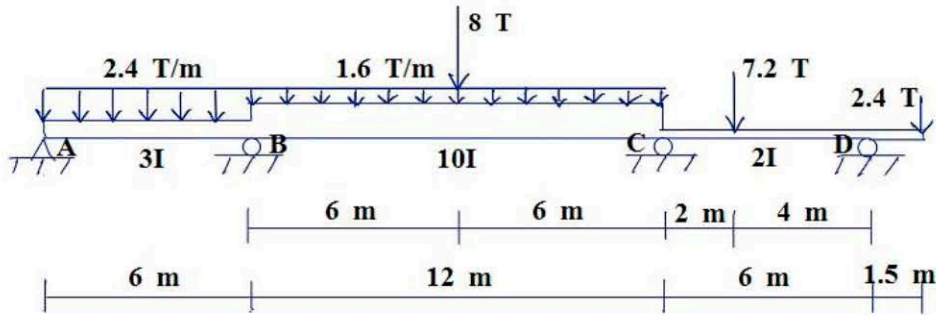
จากตัวอย่างคือ

$$\begin{aligned} \uparrow + \sum V = 0 &= 17.542 + 17.551 + 0.907 - 8(4) - 4 \\ &= 36 - 36 \quad \checkmark \end{aligned}$$

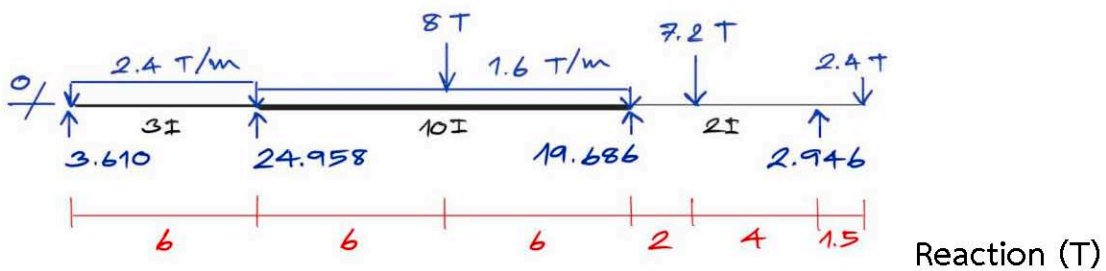
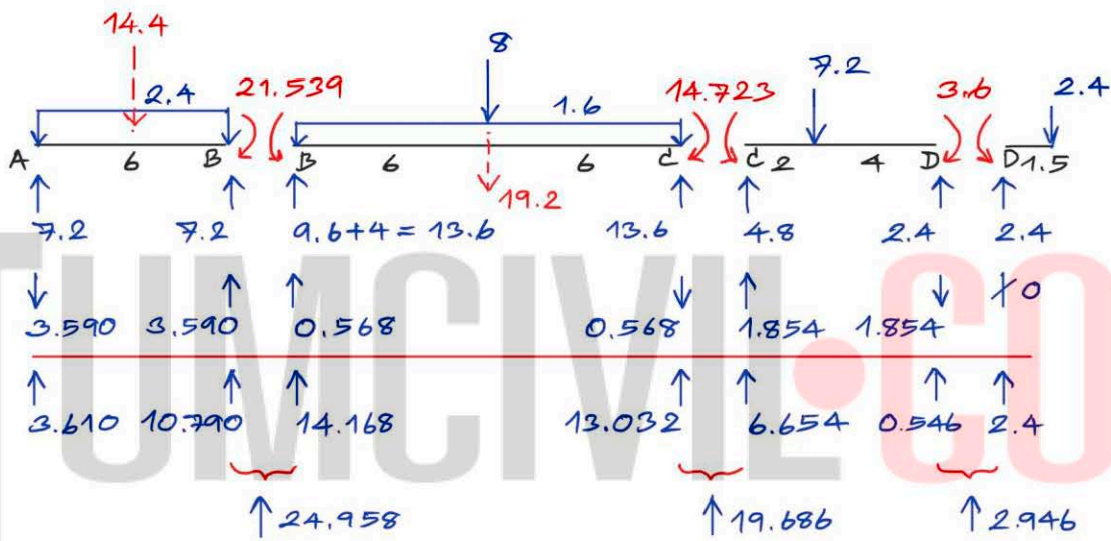
$$\begin{aligned} \curvearrowright + \sum M_A = 0 &= 12.722 + 17.551(4) + 0.907(10) - 8(4)(2) - 4(7) \\ &= 92 - 92 \quad \checkmark \end{aligned}$$

TUMCIVIL.COM

2)  $M_B = -21.539 \text{ T-m}$ ,  $M_C = -14.723 \text{ T-m}$ ,  $M_D = -3.6 \text{ T-m}$



วิธีทำ



อธิบาย

- ในทำนองเดียวกับตัวอย่างที่ 1 แต่ที่เพิ่มเข้ามาคือ ช่วงยื่นด้านขวาของปลายคาน ซึ่งจะมีค่า R ย่อยของช่วงยื่นนั้น มารวมกับ R ย่อยช่วงใน เพื่อรวมเป็น R ของคานจริงด้วย
- R ของคานช่วงยื่น ก็คือขนาดและทิศทางแรงเฉือนในคานจริง ณ ตำแหน่งนั้น เช่นเดียวกัน

## การเขียน SFD : เส้นผมบังภูเขา

### ความนำ

บทนี้กล่าวถึงการเขียนแผนภาพแรงเฉือน (Shear Force Diagram, SFD) ในคานแบบอินดีเทอร์มิเนทอย่างรวดเร็ว โดยสามารถประยุกต์ใช้ได้กับแผนภาพแรงเฉือนในโครงข้อแข็งได้ด้วย ซึ่งถ้าใช้เทคนิคการหาแรงปฏิกิริยาในบทก่อนหน้า การเขียน SFD ก็ถือเป็นผลพลอยได้ที่ได้ค่า ณ ตำแหน่งที่รองรับมาโดยปริยาย คล้ายกับสำนวนไทยที่ว่า “เส้นผมบังภูเขา”

### เคล็ดลับวิชา

เมื่อเราแยกคานแบบอินดีเทอร์มิเนทออกเป็นช่วงย่อย เพื่อหาแรงปฏิกิริยานั้น มีข้อสังเกตว่า  $R$  ของแต่ละช่วงคานย่อยนั้น คือขนาดพร้อมทิศทาง (ที่ทำให้ได้เครื่องหมาย + หรือ -) ของแรงเฉือนในคานจริง ณ ตำแหน่งนั้นนั่นเอง



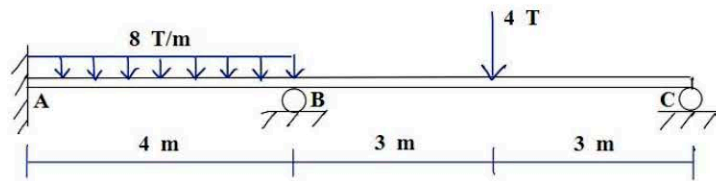
ทิศทางที่เป็นบวกของแรงเฉือน

ทิศทางที่เป็นลบของแรงเฉือน

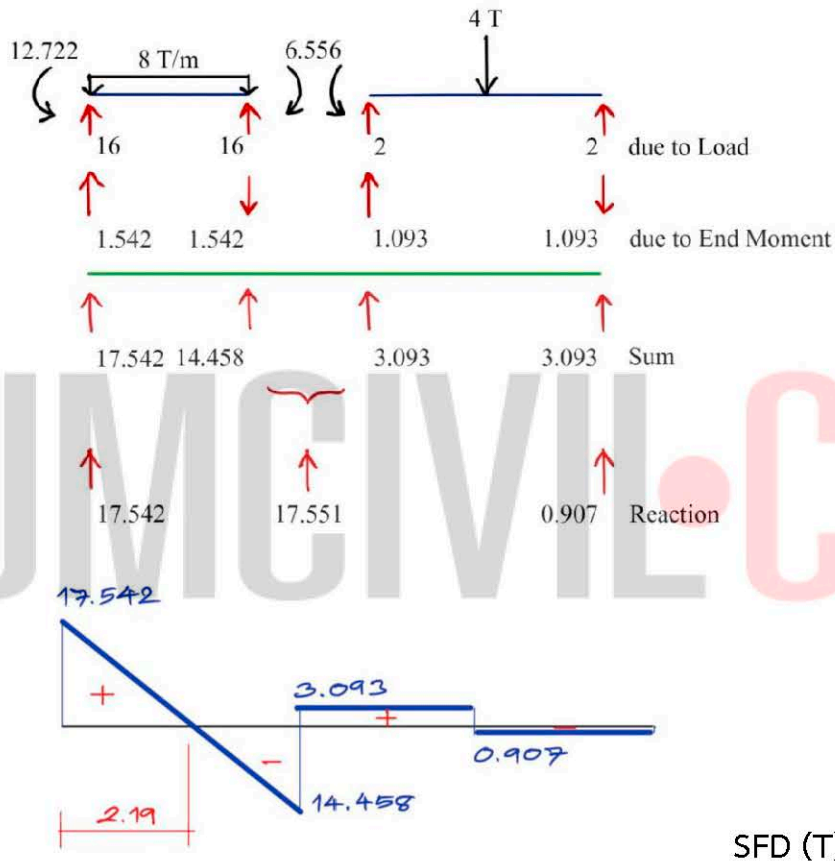


ตัวอย่าง เขียนแผนภาพแรงเฉือนคานรับน้ำหนักบรรทุกดังรูป

1)  $M_A = -12.722 \text{ T-m}$ ,  $M_B = -6.556 \text{ T-m}$



วิธีทำ



อธิบาย

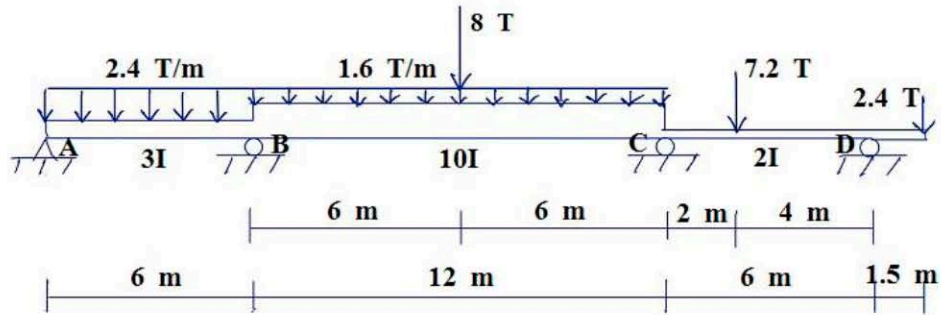
- เริ่มต้นด้วยการหาแรงปฏิกิริยาของคานแบบอินดีเทอริเมนต์ แบบแยกหาแล้วรวมผล ตามที่อธิบายไว้ในบทก่อนหน้า

- จากนั้น พิจารณาคานแต่ละช่วงย่อย (ค่าในแนว Sum) ค่า R ของคานนั้นคือ ค่าแรงเฉือนพร้อมเครื่องหมาย ณ ตำแหน่งที่รองรับนั่นเอง (พิจารณาตามทิศทางของแรงเฉือน) โดยที่รองรับช่วงในจะมีแรงเฉือน 2 ค่า คือค่าด้านขวาของคานซ้ายและค่าด้านซ้ายของคานขวา ของที่รองรับที่พิจารณาอยู่

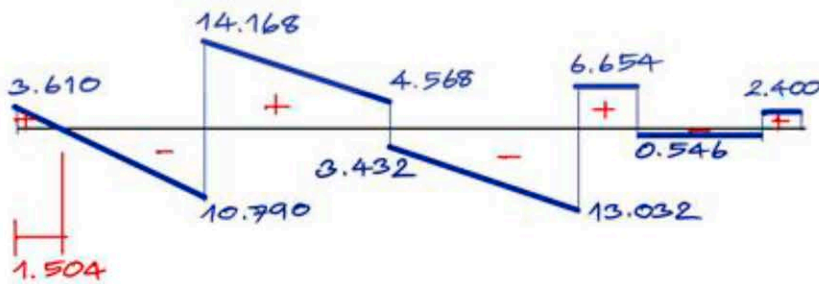
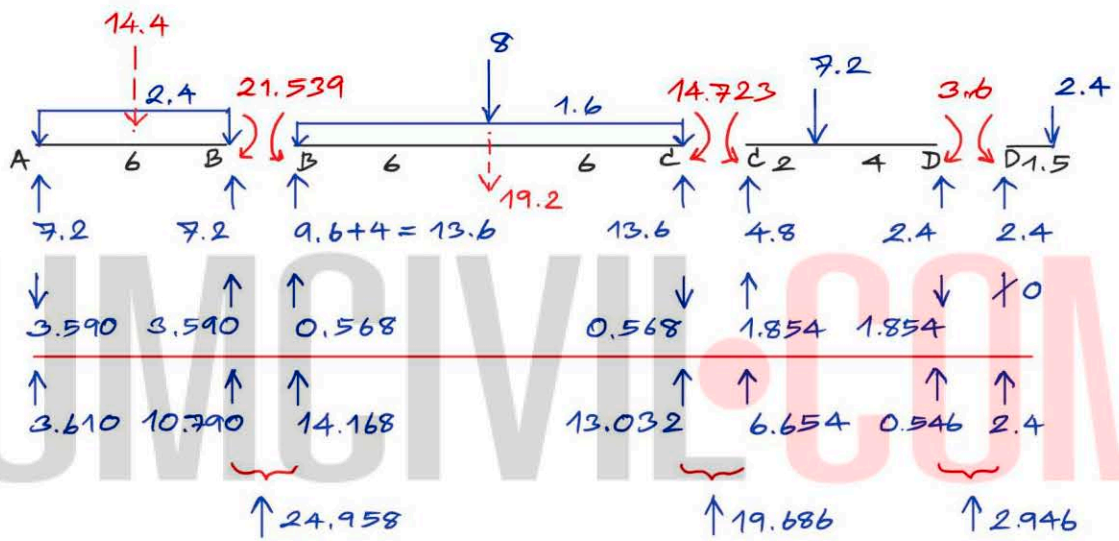
- ระยะที่  $V = 0$  หาได้ง่ายๆ จาก  $V/w$  เช่นในตัวอย่างคือ  $17.542/8 = 2.19 \text{ m}$



2)  $M_B = -21.539 \text{ T-m}$ ,  $M_C = -14.723 \text{ T-m}$ ,  $M_D = -3.6 \text{ T-m}$



วิธีทำ

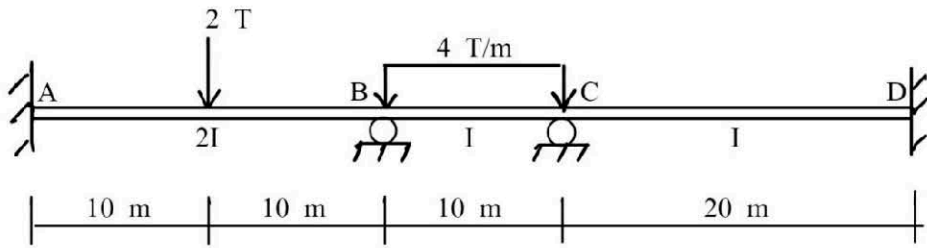


SFD (T)

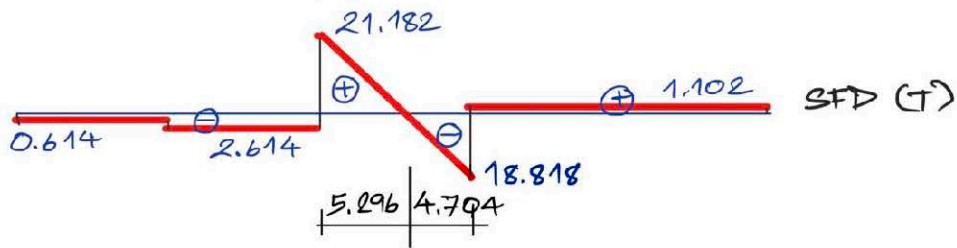
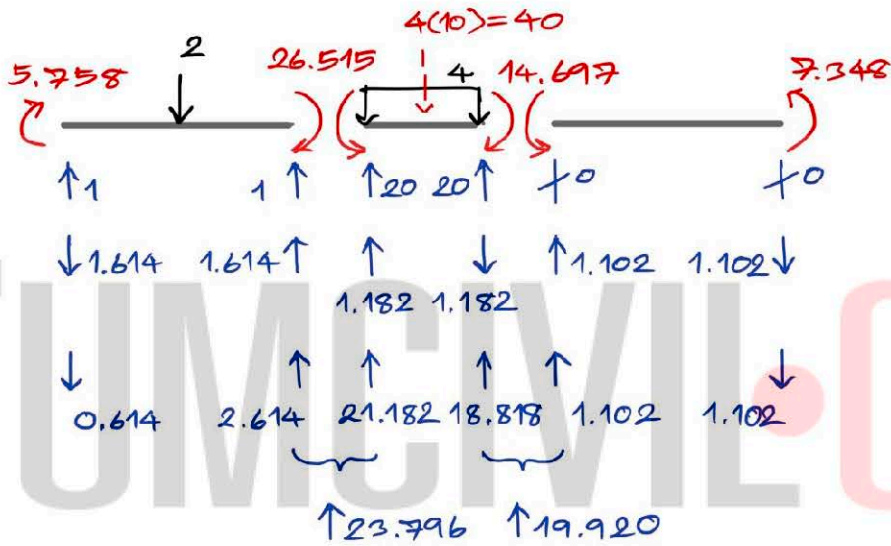
อธิบาย

- ค่าแรงเฉือน ณ ที่รองรับพร้อมเครื่องหมาย (+ หรือ -) คือค่า R ของคานย่อยแต่ละช่วง (R ที่ยังไม่ได้รวมกันในกรณีทีรองรับด้านใน)
- ค่าแรงเฉือน ณ ตำแหน่งอื่น คำนวณตามวิธีปกติ เช่น 4.568 ได้จาก  $14.168 - 1.6(6)$

3)  $M_A = 5.758 \text{ T-m}$ ,  $M_B = -26.515 \text{ T-m}$ ,  $M_C = -14.697 \text{ T-m}$ ,  $M_D = 7.348 \text{ T-m}$



วิธีทำ



อธิบาย

- ค่าแรงเฉือน 0.614 ทิศทางลงด้านซ้ายของคานย่อๆ มีเครื่องหมายเป็นลบ
- ค่าแรงเฉือน 2.614 ทิศทางขึ้นด้านขวาของคานย่อๆ มีเครื่องหมายเป็นลบ
- ค่าแรงเฉือน 21.182 ทิศทางขึ้นด้านซ้ายของคานย่อๆ มีเครื่องหมายเป็นบวก
- ค่าแรงเฉือน 18.818 ทิศทางขึ้นด้านขวาของคานย่อๆ มีเครื่องหมายเป็นลบ
- ค่าแรงเฉือน 1.102 ทิศทางขึ้นด้านซ้ายของคานย่อๆ มีเครื่องหมายเป็นบวก
- ค่าแรงเฉือน 1.102 ทิศทางลงด้านขวาของคานย่อๆ มีเครื่องหมายเป็นบวก

# การเขียน BMD : การแยกและซ้อนทับ

## ความนำ

บทนี้กล่าวถึงเทคนิคการเขียนแผนภาพโมเมนต์ดัด (Bending Moment Diagram, BMD) อย่างรวดเร็ว โดยจะเน้นที่การเขียน BMD ในคาน แต่เมื่อเข้าใจดีแล้ว ก็สามารถนำไปใช้เขียน BMD ในโครงข้อแข็งได้ไม่ยาก เทคนิคการเขียน BMD อย่างรวดเร็วนี้ ผู้เขียนขอเรียกว่า “การแยกและการซ้อนทับ”

## เคล็ดลับวิชา

### 1) ความสัมพันธ์ของการแอนตัวและ BMD


พิจารณาสัญลักษณ์ของโมเมนต์ดัด ดังรูป



ความหมายคือ โมเมนต์ที่มีค่าบวก หมายถึง คานแอนตัวลง และ โมเมนต์ที่มีค่าลบ หมายถึง คานแอนตัวขึ้น

ดังนั้น ในทำนองกลับกัน ถ้ารู้ว่าคานแอนตัวลง ก็แสดงว่า ตำแหน่งช่วงนั้นเป็นโมเมนต์ดัดบวก และถ้ารู้ว่าคานแอนตัวขึ้น ก็แสดงว่า ตำแหน่งช่วงนั้นเป็นโมเมนต์ดัดลบ

ตัวอย่างดังรูป



## 2) รูปทรงของ BMD

ก. ที่ปลายอิสระของคาน โมเมนต์ตัดมีค่าเท่ากับศูนย์ ยกเว้นมีโมเมนต์ภายนอก (local moment) หรือแรงคู่ควบ (couple) กระทำอยู่ ซึ่งทำให้ค่าโมเมนต์ตัดมีขนาดเท่ากับโมเมนต์ภายนอกหรือแรงคู่ควบนั้น

ข. ที่รองรับของคานแบบบานพับ หรือล้อเลื่อน โมเมนต์ตัดมีค่าเท่ากับศูนย์ ยกเว้นมีโมเมนต์ภายนอก หรือแรงคู่ควบ กระทำอยู่

ค. ที่รองรับ ณ ตำแหน่งของคานแบบปลายยื่น ค่าโมเมนต์ตัดไม่เท่ากับศูนย์

ง. ที่รองรับของคานแบบยึดแน่น (โดยทั่วไป) ค่าโมเมนต์ตัดไม่เท่ากับศูนย์

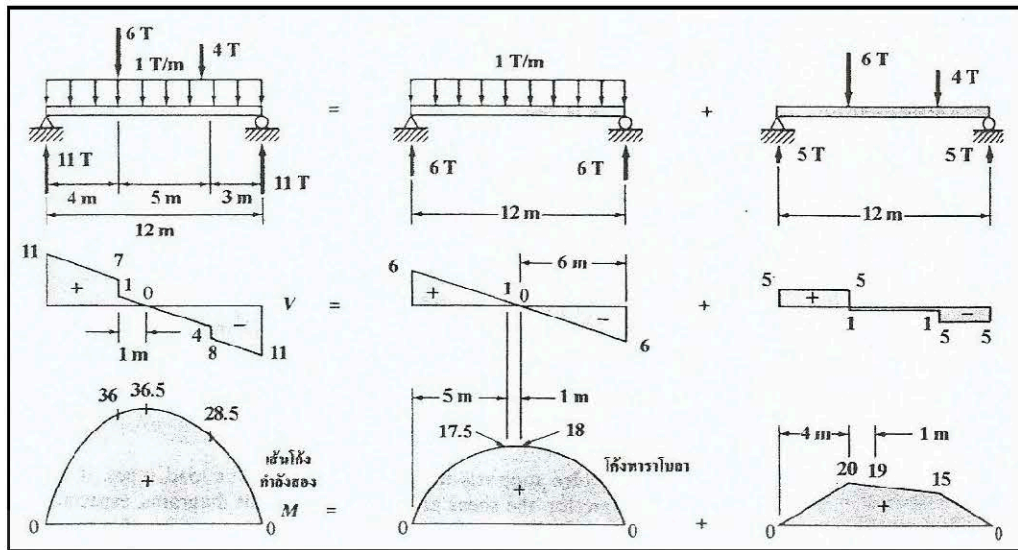
จ. ที่รองรับของคานแบบบานพับภายใน โมเมนต์ตัดมีค่าเท่ากับศูนย์

## 3) หลักการรวมผล

เราสามารถใชหลักการรวมผล/ทับซ้อน (principle of superposition) ในการเขียน BMD ได้เป็นอย่างดี โดยหลักการมีอยู่ว่าเราสามารถหาโมเมนต์ตัดของคานเมื่อรับหลายน้ำหนักได้โดยการแบ่งคานให้น้ำหนักบรรทุกย่อยๆ ซึ่งอยู่ในรูปแบบที่คำนวณหา



ค่าได้ง่าย แล้วนำค่าโมเมนต์ตัดมารวมกัน (ตามเครื่องหมาย) ก็จะได้โมเมนต์ของคาน  
เมื่อรับหลายน้ำหนักนั้นได้ ตัวอย่างดังรูป



และในการเขียน BMD สามารถเขียนแบบแยกส่วน (by part) ได้ดังรูป

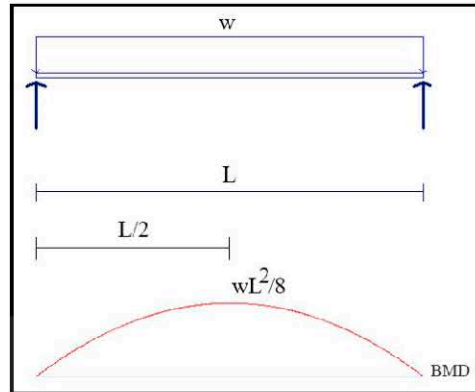
กรณี	แผนภาพโมเมนต์ตัด แยกส่วน	แผนภาพโมเมนต์ตัดรวม
1.		
2.		
3.		
4.		
5.		
6.		



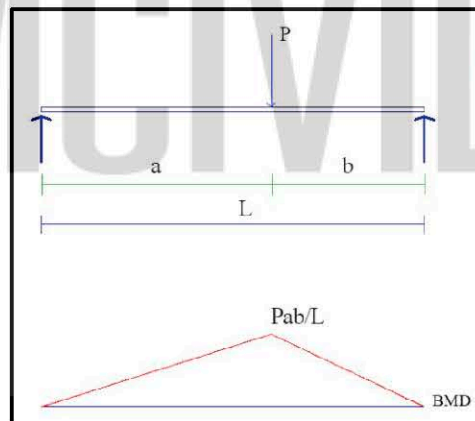
#### 4) จำสูตรพื้นฐาน

เมื่อเราใช้หลักการรวมผล พอดีแบ่งคานาออกมาให้รับน้ำหนักบรรทุกย่อยๆ แล้ว BMD ของคานานั้นควรเป็นรูปพื้นฐานที่เราสามารถจำได้โดยไม่ยาก เพราะใช้บ่อย ซึ่งมีอยู่ 3 รูปคือ

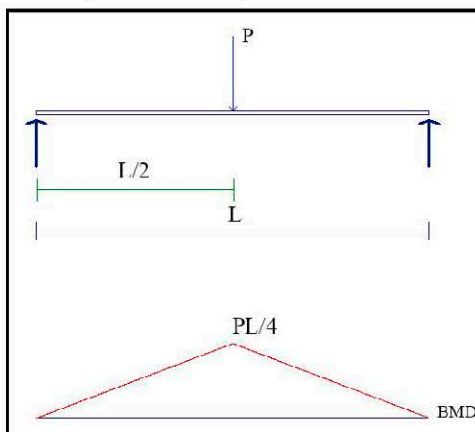
ก. คานารับน้ำหนักบรรทุกแบบแผ่กระจายเต็มช่วงคาน (w)



ข. คานารับน้ำหนักบรรทุกแบบแบบจุด (P) ไม่ตรงกลางคาน

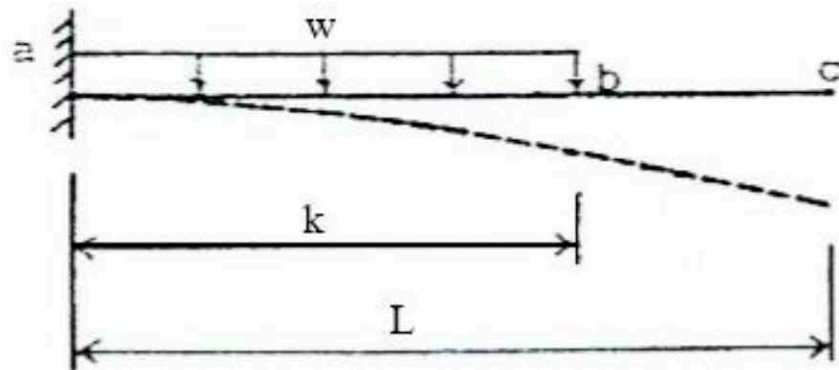


ค. คานารับน้ำหนักบรรทุกแบบแบบจุด (P) ตรงกลางคาน



ตัวอย่าง เขียน BMD ของคานรับน้ำหนักบรรทุกทุกดังรูป

1)



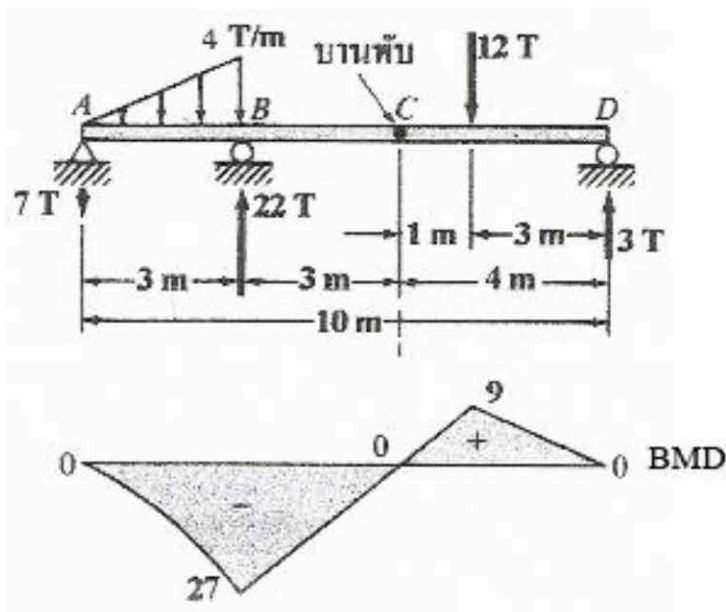
อธิบาย

- คานยื่นรับน้ำหนักบรรทุกทุกทำให้เกิดการแอ่นตัวโค้งขึ้นทั้งหมด แสดงว่าโมเมนต์ดัดที่เกิดขึ้นจะมีค่าลบทั้งหมด ตามเครื่องหมายของโมเมนต์ดัด



- น้ำหนักบรรทุกทุกแบบแผ่กระจายสม่ำเสมอ BMD เป็นเส้นโค้ง

2)

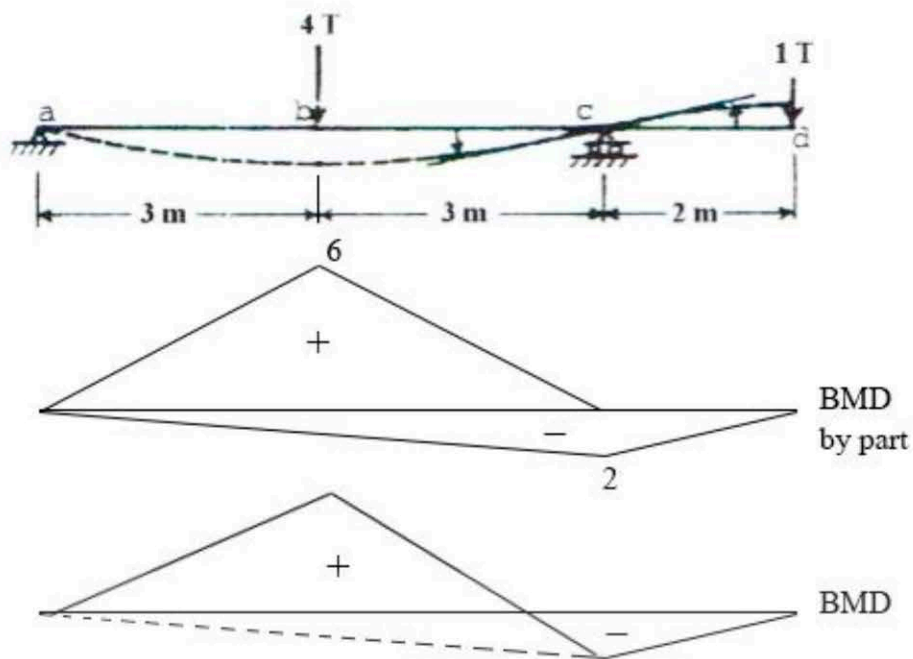


อธิบาย

- $M = 0$  ที่จุด C
- สามารถแบ่งการเขียน BMD ได้เป็นช่วง ABC และ CD นำมาต่อกัน
- BMD ช่วง AB เป็นเส้นโค้ง แต่จะมีค่าบวกบ้างหรือค่าลบทั้งหมด พิจารณาได้จากค่าแรงปฏิกิริยาที่ A จากตัวอย่างได้ค่า 7 T ทิศทางลง แสดงว่า BMD ช่วง AB มีค่าเป็นลบทั้งหมด

- BMD ช่วง BC เป็นเส้นตรงที่มีความชันโดยมีค่าศูนย์ที่ C
- ค่า M ที่ B คำนวณได้จาก  $-7(3) - [0.5(3)(4)](1) = -27$
- BMD ช่วง CD เป็นรูปสามเหลี่ยมเพราะรับ point load ซึ่งคำนวณค่า M สูงสุดได้เท่ากับ  $12(1)(3)/4 = 9$

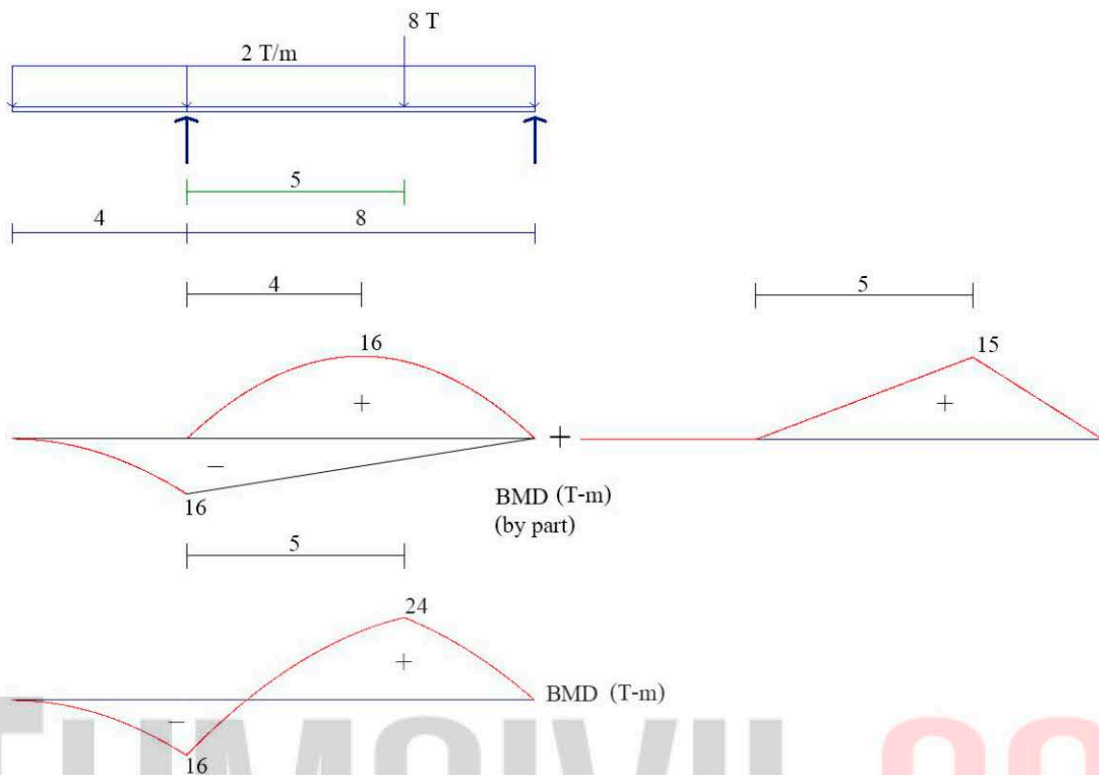
3)



อธิบาย

- เขียน BMD แบบ by part คือแบ่งการเขียนเป็น 2 หน้าที่ครบทุก
- ค่า M ที่จุด b เท่ากับ  $4(6)/4 = 6$
- ค่า M ที่จุด c เท่ากับ  $-1(2) = -2$
- สามารถเขียน BMD ปกติ ได้จากนำฐานของ BMD เนื่องจากน. 4 T มาซ้อนทับกับฐานของ BMD เนื่องจากน. 1 T โดยตำแหน่งใดที่มีทั้งค่าบวกและค่าลบ ตำแหน่งนั้นค่าจะหักล้างกันเป็นศูนย์ (ตามเส้นประ)

4)



อธิบาย

- แนวทางเดียวกับข้อ 3 แต่แยกส่วนได้เป็น 3 หน้าหน้าบรรทุก
- ที่ BMD แบบ by part

$M$  สูงสุดเนื่องจาก uniform load ช่วงในมีค่าเท่ากับ  $2(8)^2/8 = 16$

$M$  สูงสุดเนื่องจาก uniform load ช่วงนอกมีค่าเท่ากับ  $-2(4)^2/2 = -16$

$M$  สูงสุดเนื่องจาก point load ช่วงในมีค่าเท่ากับ  $8(5)(3)/8 = 15$

- ที่ BMD ปกติ

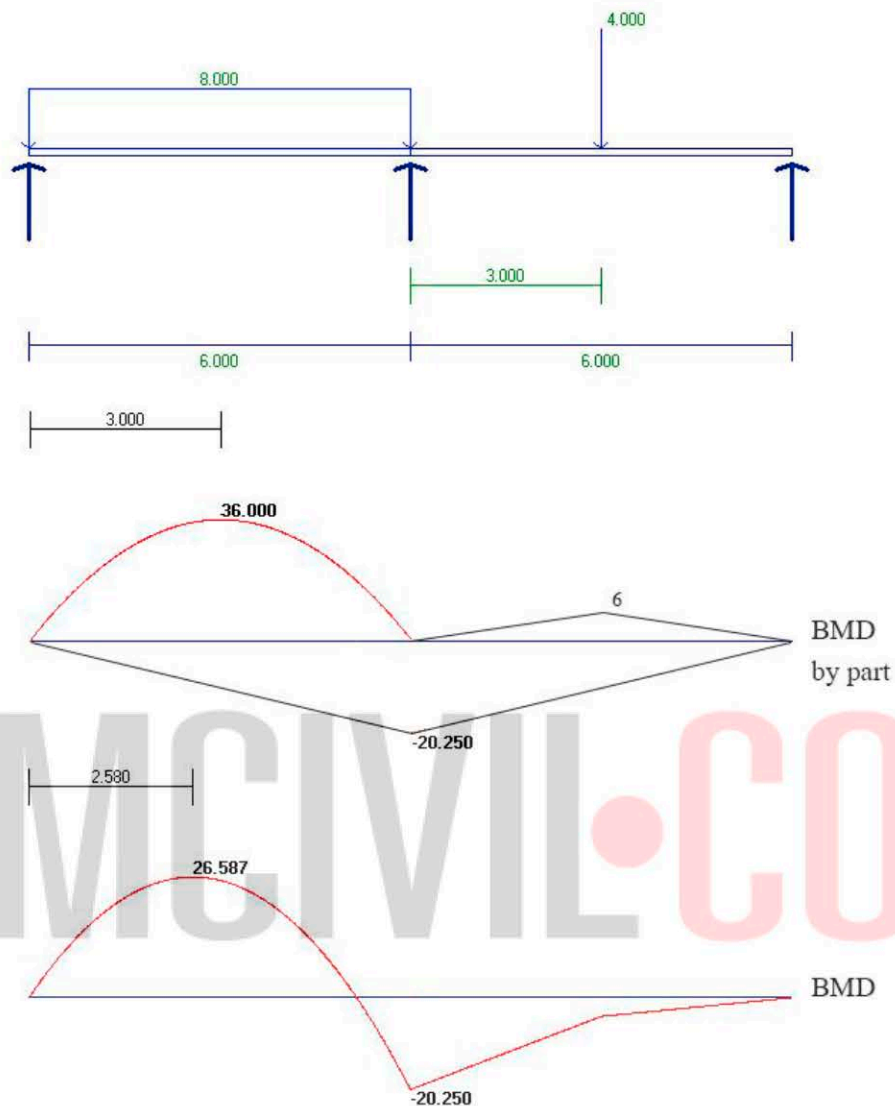
ค่า  $M$ - สูงสุดเท่ากับ -16 เพราะเมื่อซ้อนทับกันแล้ว ไม่มีการหักล้างค่าบวก

และค่าลบ

$M$ + มีค่าสูงสุดที่ตำแหน่ง point load กระทำ



5) เมื่อทราบค่าโมเมนต์ตัด ณ ที่รองรับช่วงในเท่ากับ -20.250



### อธิบาย

- ถ้าเป็นคานแบบอินดีเทอริมีเนท เมื่อวิเคราะห์โครงสร้างได้ค่า  $M$  ณ ที่รองรับแล้ว ก็สามารถใช้แนวทางที่อธิบายมาในบทนี้ได้

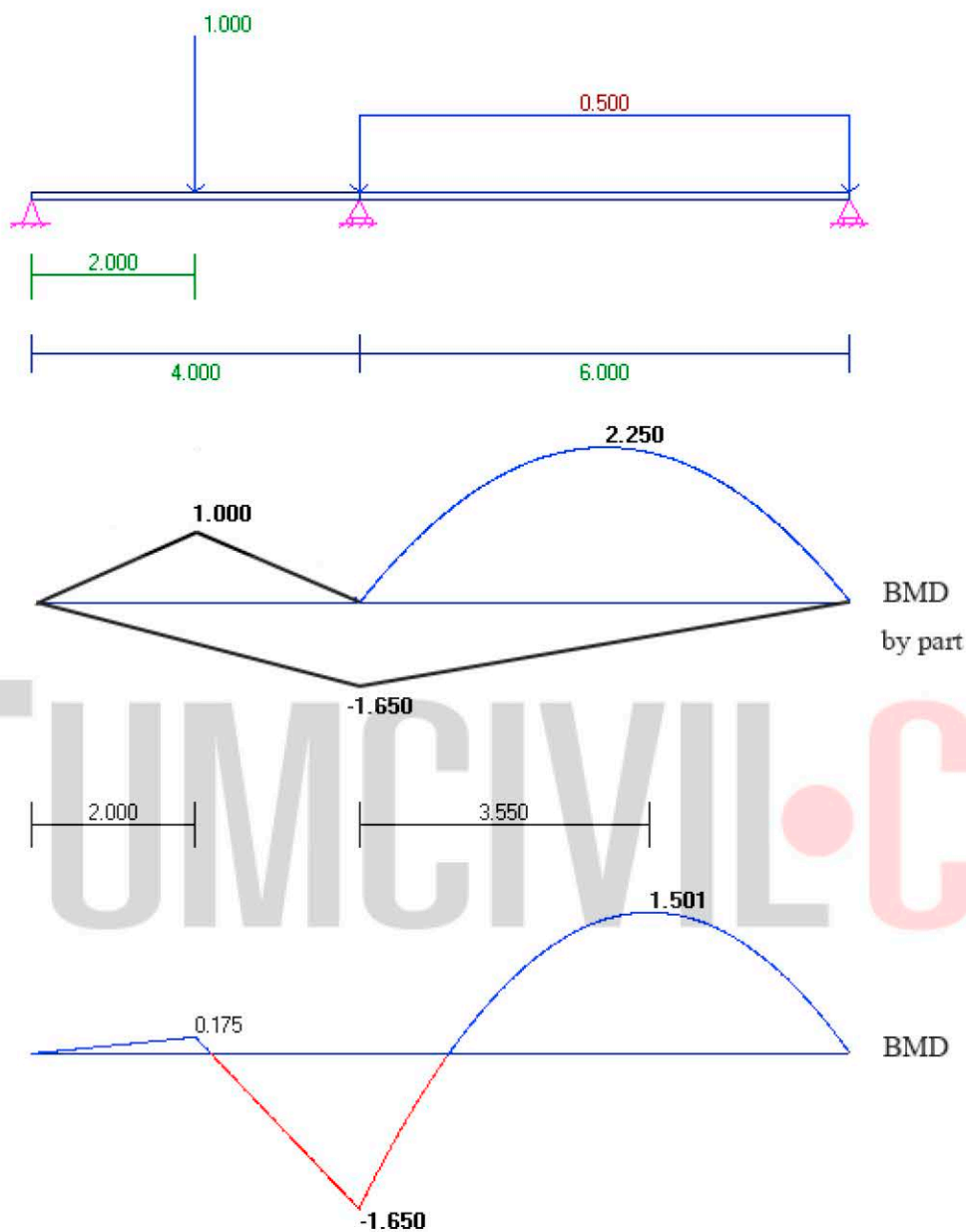
- เขียน BMD แบบ by part โดยแบ่งเป็น 3 กรณี คือ uniform load , point load และ  $M$ - ณ ที่รองรับ โดย

$$M \text{ สูงสุดเนื่องจาก uniform load มีค่าเท่ากับ } 8(6)^2/8 = 36$$

$$M \text{ สูงสุดเนื่องจาก point load มีค่าเท่ากับ } 4(6)/4 = 6$$

- สามารถเขียน BMD ปกติ ได้จากนำฐานของ BMD เนื่องจาก uniform load และ point load มาซ้อนทับกับฐานของ BMD เนื่องจาก  $M$ - ณ ที่รองรับ

6) เมื่อทราบค่าโมเมนต์ตัด ณ ที่รองรับช่วงในเท่ากับ -1.650



### อธิบาย

- แนวทางเดียวกับข้อ 5 แต่มีข้อแตกต่างที่ BMD ปกติ ค่า  $M$  ที่ตำแหน่ง point load มีค่าบวก ซึ่งขึ้นอยู่กับหลายปัจจัยคือ ค่าน้ำหนักบรรทุก หรือตำแหน่งที่น้ำหนักกระทำ หรือความยาวคาน ซึ่งสามารถหาค่าได้จาก BMD by part คือ  $1 + (2/4)(-1.650)$  เท่ากับ 0.175

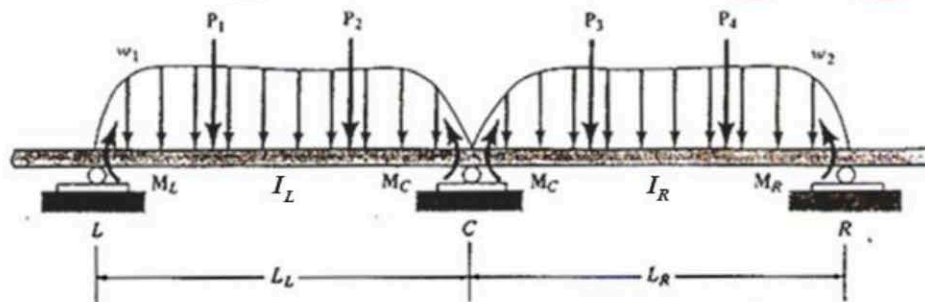
## สมการสามโมเมนต์ : รูปแบบใหม่

### ความนำ

บทนี้กล่าวถึงวิธีวิเคราะห์โครงสร้างคานแบบอินดิเทอร์มิเนตแบบหนึ่งซึ่งชื่อ สมการสามโมเมนต์ (Three Moment Equation) ซึ่งเป็นวิธีที่เหมาะสมมากสำหรับวิเคราะห์คานต่อเนื่อง แต่ในปัจจุบันวิธีนี้ไม่ค่อยพบในตำราวิเคราะห์โครงสร้างฉบับพิมพ์ใหม่ อาจเป็นเพราะวิธีการวิเคราะห์ตามรูปแบบเดิมที่หากจำนวนคานมากขึ้น ก็ทำให้การคำนวณมีความซับซ้อนขึ้น แต่ผู้เขียนได้คิดค้นเทคนิคการคำนวณโดยใช้สมการสามโมเมนต์นี้ให้กระชับและรวดเร็วกว่าเดิม จึงนำมาเสนอในบทนี้ และขอเรียกว่าเป็น “รูปแบบใหม่” ของสมการสามโมเมนต์

### ขั้นตอนการวิเคราะห์ที่ใช้สมการสามโมเมนต์

พิจารณาคานต่อเนื่อง 2 ช่วงรับน้ำหนักบรรทุกใดๆ ดังรูป



เมื่อคานใช้วัสดุเดียวกันตลอด (ค่า  $E$  คงที่) สมมติฐานที่รองรับเป็นแบบยึดหมุน (หากที่รองรับที่ปลายเป็นแบบยึดแน่น จะมีวิธีในการประยุกต์เพื่อใช้สมการสามโมเมนต์ได้ ดูรายละเอียดในตัวอย่างที่ 2 ) และไม่พิจารณาการทรุดตัวของคาน ขั้นตอนการวิเคราะห์คานโดยใช้สมการสามโมเมนต์ ทำได้โดย

- พิจารณาคานที่ละ 2 ช่วงที่อยู่ติดกัน จากซ้ายไปขวา แล้วใช้สมการดังนี้ กำหนดให้ครบทุกคาน

ก) ถ้าค่า  $I_L$  และ  $I_R$  ไม่เท่ากัน

$$\frac{M_L L_L}{I_L} + 2M_C \left( \frac{L_L}{I_L} + \frac{L_R}{I_R} \right) + \frac{M_R L_R}{I_R} = -\frac{L_O}{I_L} - \frac{R_O}{I_R}$$

ข) ถ้าค่า  $I_L$  และ  $I_R$  เท่ากัน

$$M_L L_L + 2M_C (L_L + L_R) + M_R L_R = -L_O - R_O$$

โดย

$M_L, M_C$  และ  $M_R$  คือ โมเมนต์ดัด ณ ที่รองรับด้านซ้าย ตรงกลาง และด้านขวา ตามลำดับ ของช่วงคานที่พิจารณา

$L_L$  และ  $L_R$  ความยาวของช่วงซ้ายและขวาตามลำดับ ของช่วงคานที่พิจารณา

$I_L$  และ  $I_R$  โมเมนต์ของความเฉื่อยช่วงซ้ายและขวาตามลำดับ ของช่วงคานที่พิจารณา

$L_O$  และ  $R_O$  ค่าคงที่กรณีน้ำหนักบรรทุกทุกแบบต่างๆ หาได้จากตารางที่ 1

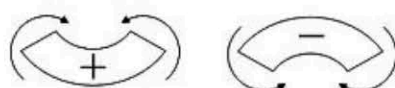
- สำหรับที่รองรับภายนอกทั้งด้านซ้ายและขวา เราสามารถทราบค่าได้โดย

2.1 ถ้าไม่มีช่วงยื่น โมเมนต์ดัด ณ ที่รองรับมีค่าเท่ากับ 0

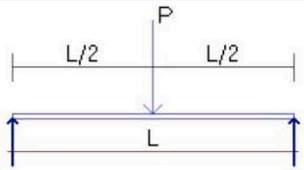
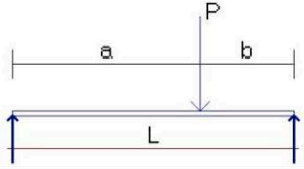
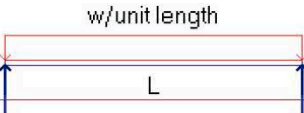
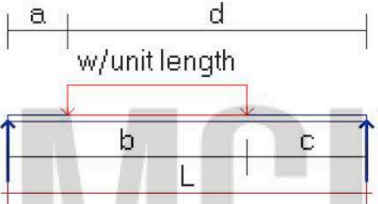
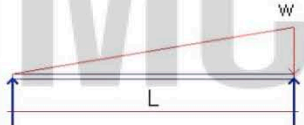
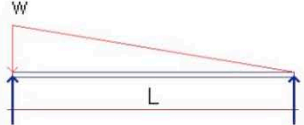
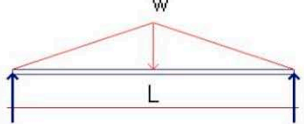
2.2 ถ้ามีช่วงยื่น โมเมนต์ดัด ณ ที่รองรับมีค่าเท่ากับ โมเมนต์เนื่องจากน้ำหนักบรรทุกภายนอกของช่วงยื่นนั้น ซึ่งน้ำหนักบรรทุกโดยทั่วไปมีทิศทางลง ดังนั้น โมเมนต์ดัด ณ ที่รองรับโดยทั่วไปจึงมีค่าลบ

- แก้สมการหาค่าโมเมนต์ดัด ณ ที่รองรับภายในได้

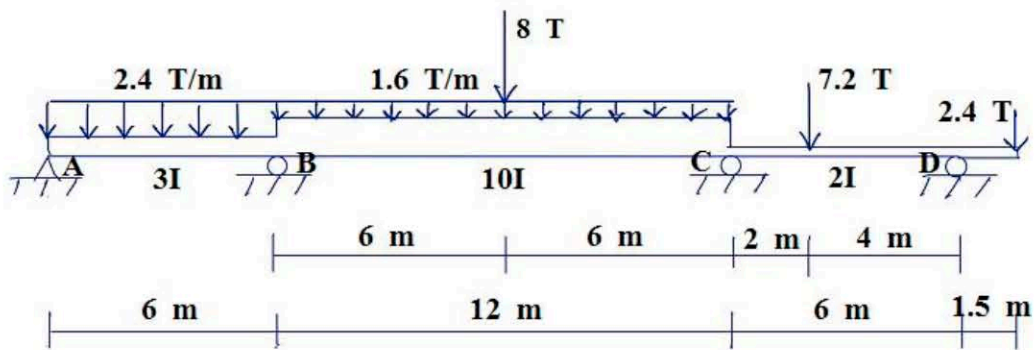
เครื่องหมายของโมเมนต์ดัดในสมการสามโมเมนต์ใช้เครื่องหมายเดียวกันกับโมเมนต์ดัด คือ



ตารางที่ 1 ค่า  $L_0$  และ  $R_0$

รูปแบบของน้ำหนักบรรทุก	$L_0$	$R_0$
	$\frac{3PL^2}{8}$	$\frac{3PL^2}{8}$
	$\frac{Pa}{L}(L^2 - a^2)$	$\frac{Pb}{L}(L^2 - b^2)$
	$\frac{wL^3}{4}$	$\frac{wL^3}{4}$
	$\frac{w}{4L} [b^2(2L^2 - b^2) - a^2(2L^2 - a^2)]$	$\frac{w}{4L} [d^2(2L^2 - d^2) - c^2(2L^2 - c^2)]$
	$\frac{8wL^3}{60}$	$\frac{7wL^3}{60}$
	$\frac{7wL^3}{60}$	$\frac{8wL^3}{60}$
	$\frac{5wL^3}{32}$	$\frac{5wL^3}{32}$

ตัวอย่างที่ 1 วิเคราะห์หา M ณ ที่รองรับของโครงสร้างคานรับน้ำหนักบรรทุกดังรูป



วิธีทำ

$$\frac{M_L L_L}{I_L} + 2M_C \left( \frac{L_L}{I_L} + \frac{L_R}{I_R} \right) + \frac{M_R L_R}{I_R} = -\frac{L_O}{I_L} - \frac{R_O}{I_R}$$

ช่วงคาน ABC

$$\frac{M_A(6)}{3I} + 2M_B \left( \frac{6}{3I} + \frac{12}{10I} \right) + \frac{M_C(12)}{10I} = -\frac{2.4(6^3)}{4(3I)} - \left( \frac{1.6(12^3)}{4(10I)} + \frac{3(8)(12^2)}{8(10I)} \right)$$

คูณตลอด

$$6.4 M_B + 1.2 M_C = -43.2 - 112.32 = -155.52 \quad (1)$$

ช่วงคาน BCD

$$\frac{M_B(12)}{10I} + 2M_C \left( \frac{12}{10I} + \frac{6}{2I} \right) + \frac{(-3.6)(6)}{2I} = -\left( \frac{1.6(12^3)}{4(10I)} + \frac{3(8)(12^2)}{8(10I)} \right) - \frac{(7.2)(4)(6^2-4^2)}{6(2I)}$$

คูณตลอด

$$1.2 M_B + 8.4 M_C = -112.32 - 48 + 10.8 = -149.52 \quad (2)$$

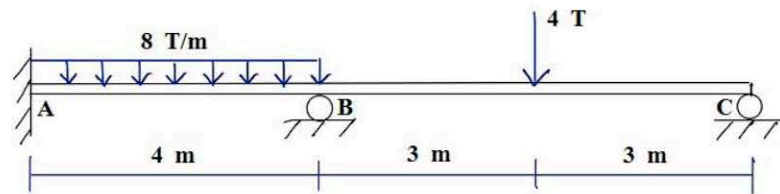
แก้สมการ (1) และ (2)

$$\therefore M_B = -21.539 \text{ T}\cdot\text{m}$$

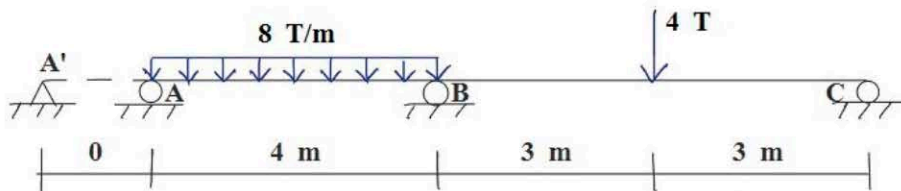
$$M_C = -14.723 \text{ T}\cdot\text{m}$$



ตัวอย่างที่ 2 วิเคราะห์หา M ณ ที่รองรับของโครงสร้างคานรับน้ำหนักบรรทุกดังรูป กำหนด I คงที่



วิธีทำ ในกรณีของที่รองรับแบบยึดแน่น เช่นที่จุด A นี้ จะใช้วิธีขยายคานออกไปเป็นช่วงปลายแบบจินตภาพ (imaginary end span) ที่มีความยาวเท่ากับศูนย์ เพื่อให้สามารถจัดรูปของสมการสามโมเมนต์ได้ โดยมีที่รองรับเป็นแบบยึดหมุน (pin)



จากโจทย์ I คงที่ ดังนั้น

$$M_L L_L + 2M_C(L_L + L_R) + M_R L_R = -L_o - R_o$$

ช่วงคาน A'AB

$$\begin{aligned} M_A(0) + 2M_A(0+4) + M_B(4) &= -L_o - R_o \\ 8M_A + 4M_B &= -0 - \frac{8(4)^3}{4} \\ 8M_A + 4M_B &= -128 \end{aligned} \quad (1)$$

ช่วงคาน ABC

$$\begin{aligned} M_A(4) + 2M_B(4+6) + M_C(6) &= -L_o - R_o \\ 4M_A + 20M_B &= -\frac{8(4)^3}{4} - \frac{3(4)(6)^2}{8} \\ 4M_A + 20M_B &= -182 \end{aligned} \quad (2)$$

แก้สมการ (1) และ (2)

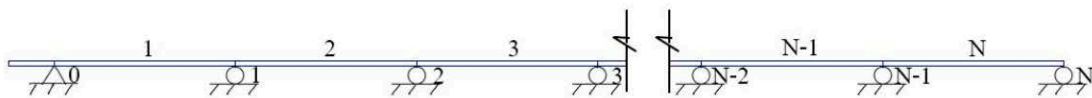
$$M_A = -12.722 \text{ T-m}$$

$$M_B = -6.556 \text{ T-m}$$

## รูปแบบใหม่ของสมการสามโมเมนต์

หัวข้อนี้นำเสนอรูปแบบใหม่ของสมการสามโมเมนต์ที่พัฒนาโดยผู้เขียน ซึ่งเป็นการนำสมการสามโมเมนต์มาจัดอยู่ในรูปเมตริกซ์เพื่อให้ง่ายต่อการคำนวณและลดขั้นตอนลงไปได้อย่างมาก ทำให้การวิเคราะห์โมเมนต์ดัด ณ ที่รองรับด้วยมือ รวดเร็วขึ้นอย่างมาก และได้ค่าที่แม่นยำ (exact) ด้วย อีกทั้งยังสามารถนำขั้นตอนนี้ไปพัฒนาโปรแกรมคอมพิวเตอร์ในการวิเคราะห์โครงสร้างได้อีกด้วย

พิจารณาคานรับน้ำหนักบรรทุกใดๆ จำนวน  $N$  ช่วง ดังรูป



จากรูป แสดงถึงคาน 3 ช่วงแรก และละไว้ในช่วงอื่น จนถึง 2 ช่วงท้ายคือ  $N-1$  และ  $N$  โดยอาจมีช่วงยื่นปลายหรือไม่ก็ได้ ซึ่งจากรูปสมมติให้มีช่วงปลายยื่นซ้าย ส่วนปลายขวาไม่มีช่วงยื่น แล้วกำหนดให้

ความยาวคานแต่ละช่วง (ไม่รวมช่วงยื่น) จากซ้ายไปขวา เท่ากับ  $L_1, L_2, L_3, \dots, L_{(N-1)}$  ถึง  $L_N$  ตามลำดับ

โมเมนต์ความเฉื่อยของคานแต่ละช่วง (ไม่รวมช่วงยื่น) จากซ้ายไปขวา เท่ากับ  $I_1, I_2, I_3, \dots, I_{(N-1)}$  ถึง  $I_N$  ตามลำดับ

โมเมนต์ดัด ณ ที่รองรับ จากซ้ายไปขวา เท่ากับ  $M_0, M_1, M_2, M_3, \dots, M_{(N-1)}$  ถึง  $M_N$  ตามลำดับ

จากสมการสามโมเมนต์

$$\frac{M_L L_L}{I_L} + 2M_C \left( \frac{L_L}{I_L} + \frac{L_R}{I_R} \right) + \frac{M_R L_R}{I_R} = -\frac{L_O}{I_L} - \frac{R_O}{I_R}$$

กำหนดให้

$$a_i = \frac{L_i}{I_i}$$

$$k_i = -\frac{L_{O_i}}{I_i} - \frac{R_{O_{(i+1)}}}{I_{(i+1)}}$$

โดยที่  $i$  คือจำนวนช่วงคาน (ไม่รวมช่วงยื่น) จากซ้ายไปขวาตามลำดับ

ดังนั้น พิจารณาคานทีละ 2 ช่วง จากซ้ายไปขวา จะได้ว่า

### ช่วงคาน 1\_2

$$M_0 a_1 + 2M_1(a_1 + a_2) + M_2 a_2 = k_1$$

เพราะว่า  $M_0$  หาค่าได้ โดย

ถ้าไม่มีช่วงอื่น  $M_0$  เท่ากับ 0 ตามสมมติฐานของที่รองรับแบบยึดหมุน (pin)

ถ้ามีช่วงอื่น  $M_0$  เท่ากับ โมเมนต์ตัดด้านทานโมเมนต์ของน้ำหนักบรรทุกภายนอกที่กระทำต่อช่วงอื่นของคาน (มีค่าเท่ากันทิศทางตรงกันข้าม) ซึ่งถ้าน้ำหนักบรรทุกโดยทั่วไปคือกระทำในแนวตั้งทิศทางลงแล้ว  $M_0$  จะมีค่าลบ

ดังนั้น

$$2M_1(a_1 + a_2) + M_2 a_2 = k_1 - M_0 a_1$$

### ช่วงคาน 2\_3

$$M_1 a_2 + 2(a_2 + a_3) M_2 + M_3 a_3 = k_2$$

----- (รูปสมการมีลักษณะอนุกรมในช่วงคานภายในอื่น คล้ายกับช่วงคาน 2\_3)

### ช่วงคาน (N-1)\_N

$$M_{(N-2)} a_{(N-1)} + 2M_{(N-1)} (a_{(N-1)} + a_N) + M_N a_N = k_{(N-1)}$$

เ

เพราะว่า  $M_N$  หาค่าได้ ในทำนองเดียวกับ  $M_0$

ดังนั้น

$$M_{(N-2)} a_{(N-1)} + 2(a_{(N-1)} + a_N) M_{(N-1)} = k_{(N-1)} - M_N a_N$$

จัดรูปเมตริกซ์ของสมการสามโมเมนต์ทุกช่วงคานได้ว่า

$$\begin{bmatrix} 2(a_1 + a_2) & a_2 & 0 & 0 \\ a_2 & 2(a_2 + a_3) & a_3 & \dots \\ \dots & \dots & \dots & a_{(N-1)} \\ \text{สมมาตรแนวทแยง} & & & 2[a_{(N-1)} + a_N] \end{bmatrix} \begin{Bmatrix} M_1 \\ M_2 \\ \dots \\ M_{(N-1)} \end{Bmatrix} = \begin{Bmatrix} k_1 - M_0 a_1 \\ k_2 \\ \dots \\ k_{(N-1)} - M_N a_N \end{Bmatrix}$$

นั่นคือ  $[A]_{N-1,N-1} \{M\}_{N-1} = \{K\}_{N-1}$

ดังนั้น  $\{M\}_{N-1} = [A]_{N-1,N-1}^{-1} \{K\}_{N-1}$

โดย

N คือ จำนวนช่วงคาน (ไม่ต้องนับช่วงปลายยื่นถ้ามี)

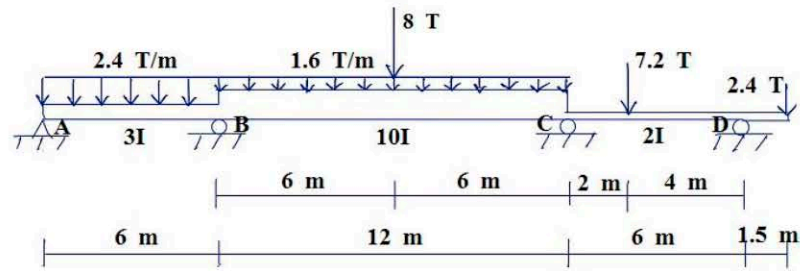
$$a_i = \frac{L_i}{I_i}$$

$$k_i = -\frac{L_0 i}{I_i} - \frac{R_0 (i+1)}{I(i+1)}$$

สรุปขั้นตอน

1. พิจารณาจำนวนช่วงคาน (N) โดยไม่ต้องนับช่วงปลายยื่น (ถ้ามี)
2. โมเมนต์ดัด (M) ณ ที่รองรับมีจำนวนเท่ากับ N+1 โดยกำหนดเริ่มลำดับที่  $M_0$  ถึง  $M_N$  จากซ้ายไปขวา (ในทางปฏิบัติอาจกำหนดเป็นตัวอักษรก็ได้ แต่เรียงลำดับจากซ้ายไปขวา)
3. M ที่ไม่ทราบค่า คือ M ของที่รองรับภายใน มีจำนวนเท่ากับ N-1 ตั้งแต่  $M_1$  ถึง  $M_{N-1}$  ได้เมตริกซ์ {M} ขนาด  $(N-1) \times 1$
4. เมตริกซ์ [A] มีขนาด  $(N-1) \times (N-1)$
5. เมตริกซ์ {K} มีขนาด  $(N-1) \times 1$
6.  $M_0$  (ที่รองรับปลายซ้าย) และ  $M_N$  (ที่รองรับปลายขวา) จะทราบค่าโดย
  - 6.1 ถ้าไม่มีช่วงปลายยื่น มีค่าเท่ากับ 0
  - 6.2 ถ้ามีช่วงปลายยื่น มีค่าเท่ากับโมเมนต์เนื่องจากน้ำหนักบรรทุกทุกที่กระทำ ณ ช่วงปลายยื่นนั้น แต่มีทิศทางตรงกันข้าม ซึ่งโดยทั่วไป M ณ ที่รองรับช่วงปลายยื่นมีค่าเป็นลบ
7. จัดรูปเมตริกซ์ ตามสมการ (ค)
8. แก้สมการได้คำตอบ {M}

ตัวอย่างที่ 3 วิเคราะห์หา M ณ ที่รองรับของโครงสร้างคานจากตัวอย่างที่ 1 ดังรูป



วิธีทำ

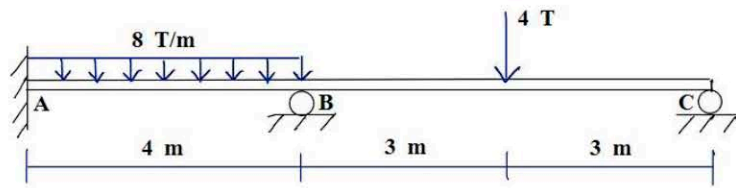
$$\begin{aligned} \begin{Bmatrix} M_B \\ M_C \end{Bmatrix} &= \begin{bmatrix} 2 \left( \frac{L_1}{I_1} + \frac{L_2}{I_2} \right) & \frac{L_2}{I_2} \\ \frac{L_2}{I_2} & 2 \left( \frac{L_2}{I_2} + \frac{L_3}{I_3} \right) \end{bmatrix}^{-1} \begin{Bmatrix} -\frac{L_0 1}{I_1} - \frac{R_0 2}{I_2} - M_A \frac{L_1}{I_1} \\ -\frac{L_0 2}{I_2} - \frac{R_0 3}{I_3} - M_D \frac{L_3}{I_3} \end{Bmatrix} \\ &= \begin{bmatrix} 2 \left( \frac{6}{3} + \frac{12}{10} \right) & \frac{12}{10} \\ \frac{12}{10} & 2 \left( \frac{12}{10} + \frac{6}{2} \right) \end{bmatrix}^{-1} \begin{Bmatrix} -\frac{2.4(6^3)}{4(3)} - \left( \frac{1.6(12^3)}{4(10)} + \frac{3(8)(12^2)}{8(10)} \right) - (0) \frac{6}{3} \\ -\left( \frac{1.6(12^3)}{4(10)} + \frac{3(8)(12^2)}{8(10)} \right) - \frac{(7.2)(4)(6^2 - 4^2)}{6(2I)} - (-3.6) \frac{6}{2} \end{Bmatrix} \\ &= \begin{bmatrix} 6.4 & 1.2 \\ 1.2 & 8.4 \end{bmatrix}^{-1} \begin{Bmatrix} -155.52 \\ -149.52 \end{Bmatrix} \\ \begin{Bmatrix} M_B \\ M_C \end{Bmatrix} &= \begin{Bmatrix} -21.539 \\ -14.723 \end{Bmatrix} \text{ T}\cdot\text{m} \end{aligned}$$

อธิบาย

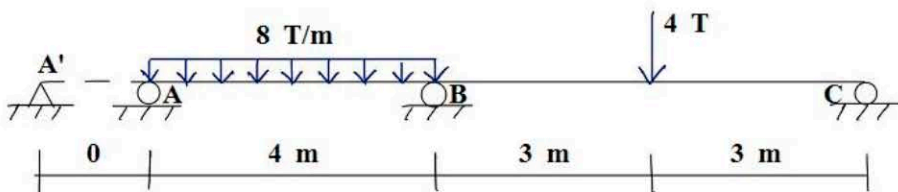
1. คานมีจำนวนช่วง (N) เท่ากับ 3
2. ดังนั้น M ณ ที่รองรับมีจำนวน N+1 เท่ากับ 4 เริ่มที่  $M_0$  ถึง  $M_3$  จากซ้ายไปขวา
2. M ที่ไม่ทราบค่ามีจำนวน N-1 เท่ากับ 2 ได้แก่ M ของที่รองรับภายใน คือ  $M_1$  ( $M_B$ ) และ  $M_2$  ( $M_C$ ) โดย [A] เป็นเมตริกซ์ 2x2 และ {K} เป็นเมตริกซ์ 2x1
3. ทราบค่า  $M_0$  ( $M_A$ ) เท่ากับ 0 เพราะไม่มีช่วงยื่น และ  $M_3$  ( $M_D$ ) ด้านทานโมเมนต์ของน้ำหนักบรรทุกทุกช่วงยื่น เท่ากับ  $-2.4(1.5)$  เท่ากับ  $-3.6$  T·m
4. คานแต่ละช่วงค่า I ไม่เท่ากันโดยเทียบเป็นสัดส่วน (ไม่ได้ให้มาเป็นค่าตัวเลข) ดังนั้นเทียบ I เท่ากับ 1 แล้วใส่เฉพาะค่าสัดส่วนลงไปเมตริกซ์ A



ตัวอย่างที่ 4 วิเคราะห์หา M ณ ที่รองรับของโครงสร้างคานจากตัวอย่างที่ 2 ดังรูป



วิธีทำ ขยายคานช่วง A ออกไปเป็นช่วงปลายแบบจินตภาพ ที่มีความยาวเท่ากับศูนย์ โดยมีที่รองรับเป็นแบบยึดหมุน (pin)

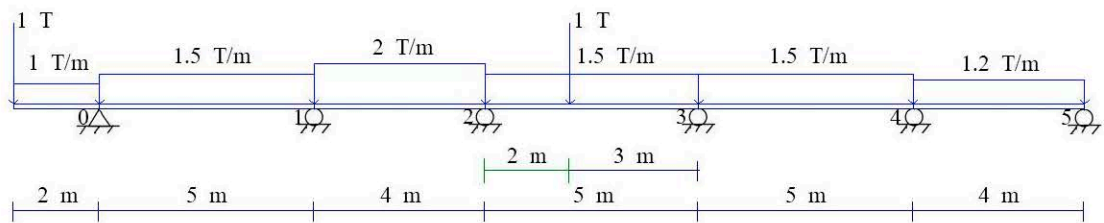


$$\begin{aligned} \begin{Bmatrix} M_A \\ M_B \end{Bmatrix} &= \begin{bmatrix} 2(0+4) & 4 \\ 4 & 2(4+6) \end{bmatrix}^{-1} \begin{Bmatrix} -0 - \frac{8(4^3)}{4} - M_{A'}(0) \\ -\frac{8(4^3)}{4} - \frac{3(4)6^2}{8} - 0(6) \end{Bmatrix} \\ &= \begin{bmatrix} 8 & 4 \\ 4 & 20 \end{bmatrix}^{-1} \begin{Bmatrix} -128 \\ -149.52 \end{Bmatrix} \\ \begin{Bmatrix} M_A \\ M_B \end{Bmatrix} &= \begin{Bmatrix} -12.723 \\ -6.556 \end{Bmatrix} \text{ T}\cdot\text{m} \end{aligned}$$

อธิบาย

1. คานมีจำนวนช่วง (N) เท่ากับ 3 (รวมช่วงจินตภาพด้วย)
2. M ณ ที่รองรับมีจำนวน N+1 เท่ากับ 4 เริ่มที่  $M_{A'}$  ( $M_0$ ) ถึง  $M_C$  ( $M_3$ ) จากซ้ายไปขวา
2. M ที่ไม่ทราบค่ามีจำนวน N-1 เท่ากับ 2 ได้แก่ M ของที่รองรับภายใน คือ  $M_A$  และ  $M_B$  โดย [A] เป็นเมตริกซ์ 2x2 และ {K} เป็นเมตริกซ์ 2x1
3. ช่วงคานที่ 1 เป็นช่วงจินตภาพ กำหนดความยาวเท่ากับ 0 ดังนั้น  $M_{A'}$  จึงเท่ากับ 0 (นั่นคือ  $M_{A'}$  เป็น M จินตภาพ) และ  $M_C$  เท่ากับ 0 เพราะเป็นที่รองรับแบบยึดหมุน
4. คานแต่ละช่วงค่า I เท่ากัน ดังนั้น จึงสามารถตัดตัวหาร / ออกได้หมดทุกตำแหน่ง (หรืออาจกล่าวได้ว่า เทียบ I เท่ากับ 1)

ตัวอย่างที่ 5 วิเคราะห์โครงสร้างคานรับน้ำหนักบรรทุกทุกรูป กำหนด 1 คองที่



วิธีทำ

$$\begin{Bmatrix} M_1 \\ M_2 \\ M_3 \\ M_4 \end{Bmatrix} = \begin{bmatrix} 2(5+4) & 4 & 0 & 0 \\ 4 & 2(4+5) & 5 & 0 \\ 0 & 5 & 2(5+5) & 5 \\ 0 & 0 & 5 & 2(5+4) \end{bmatrix}^{-1} \begin{Bmatrix} -\frac{1.5(5^3)}{4} - \frac{2(4^3)}{4} - (-4)(5) \\ -\frac{2(4^3)}{4} - \left(\frac{1.5(5^3)}{4} + \frac{1(3)(5^2-3^2)}{5}\right) \\ -\left(\frac{1.5(5^3)}{4} + \frac{1(2)(5^2-2^2)}{5}\right) - \frac{1.5(5^3)}{4} \\ -\frac{1.5(5^3)}{4} - \frac{1.2(4^3)}{4} \end{Bmatrix}$$

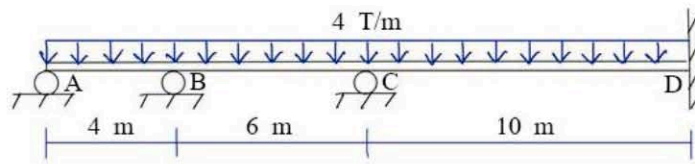
$$= \begin{bmatrix} 18 & 4 & 0 & 0 \\ 4 & 18 & 5 & 0 \\ 0 & 5 & 20 & 5 \\ 0 & 0 & 5 & 18 \end{bmatrix}^{-1} \begin{Bmatrix} -58.875 \\ -88.475 \\ -102.150 \\ -66.075 \end{Bmatrix}$$

$$\begin{Bmatrix} M_1 \\ M_2 \\ M_3 \\ M_4 \end{Bmatrix} = \begin{Bmatrix} -2.526 \\ -3.354 \\ -3.601 \\ -2.670 \end{Bmatrix} \text{ T}\cdot\text{m}$$

อธิบาย


1. คานมีจำนวนช่วง (N) เท่ากับ 5 (ไม่ต้องนับช่วงยื่น)
  2. M ณ ที่รองรับมีจำนวน N+1 เท่ากับ 6 เริ่มที่  $M_0$  ถึง  $M_5$  จากซ้ายไปขวา
  2. M ที่ไม่ทราบค่ามีจำนวน N-1 เท่ากับ 4 ได้แก่ M ของที่รองรับภายใน คือ  $M_1$  ถึง  $M_4$
- โดย [A] เป็นเมตริกซ์ 4x4 และ {K} เป็นเมตริกซ์ 4x1
3.  $M_0$  ด้านทานโมเมนต์ของน้ำหนักบรรทุกทุกช่วงยื่น เท่ากับ  $-[1(2) + (1)(2)(1)]$  เท่ากับ  $-4 \text{ T}\cdot\text{m}$
  4.  $M_5$  เท่ากับ 0 เพราะเป็นที่รองรับแบบยึดหมุน
  5. คานแต่ละช่วงค่า l เท่ากัน ดังนั้น จึงสามารถตัดตัวหาร / ออกได้หมดทุกตำแหน่ง

ตัวอย่างที่ 6 วิเคราะห์โครงสร้างคานรับน้ำหนักบรรทุกดั่งรูป กำหนด I คงที่



วิธีทำ

สมมติขยับตามข้อ DD' ออกไป โดยไม่ตามพิกัดเท่าที่รับน้ำหนัก



$$\therefore M_A = 0$$

$$\begin{bmatrix} M_B \\ M_C \\ M_D \end{bmatrix} = \begin{bmatrix} 2(4+6) & 6 & 0 \\ 6 & 2(6+10) & 10 \\ 0 & 10 & 2(10+0) \end{bmatrix} \begin{bmatrix} -1 \\ -1 \\ -1 \end{bmatrix} \begin{bmatrix} -\frac{4(4)^3}{4} - \frac{4(6)^3}{4} - \cancel{M_A(4)} \\ -\frac{4(6)^3}{4} - \frac{4(10)^3}{4} \\ -\frac{4(10)^3}{4} - 0 - \cancel{\frac{M_D}{4}(0)} \end{bmatrix}$$

$$= \begin{bmatrix} 20 & 6 & 0 \\ 6 & 32 & 10 \\ 0 & 10 & 20 \end{bmatrix} \begin{bmatrix} -280 \\ -1216 \\ -1000 \end{bmatrix}$$

$$\begin{bmatrix} -6.476 \\ -25.079 \\ -37.460 \end{bmatrix} \text{ T.m}$$

#

# วิธีการกระจายโมเมนต์ : ทำง่ายๆ

## ความนำ

วิธีการกระจายโมเมนต์ (Moment Distribution Method) เป็นวิธีวิเคราะห์โครงสร้างคานและโครงข้อแข็งแบบอินดีเทอร์มิเนท ที่ถือว่าเหมาะสมมากในการคำนวณมือ เพราะใช้การบวกลบลูกศรเท่านั้น ไม่ต้องแก้สมการแต่อย่างใด แต่ปัญหาหนึ่งของวิธีนี้คือ รูปแบบการเขียนขั้นตอนการคำนวณ ซึ่งในแต่ละตำราจะมีรูปแบบที่ต่างกันอย่างบ้าง ผู้เขียนจึงขอแนะนำเสนอรูปแบบที่ “ทำง่ายๆ” เพื่อให้การคำนวณทำได้อย่างสะดวกรวดเร็ว

## เครื่องหมาย

โมเมนต์ดัด ตามเข็มนาฬิกามีค่าเป็นบวก  $\cup +$

## สรุปขั้นตอนการวิเคราะห์โครงสร้างด้วยวิธีการกระจายโมเมนต์

1. หา  $K = I/L$
2. ถ้าที่รองรับที่ปลายคานเป็นแบบยึดหมุน (Hinge หรือ Roller) สามารถใช้ค่า Modified  $K \left( K^M = \frac{3}{4}K \right)$  ที่ชิ้นส่วนนั้น ซึ่งทำให้ส่งถ่ายโมเมนต์นำข้ามจากที่รองรับปลายคานไปที่จุดต่ออีกด้านของชิ้นส่วนนั้นเพียงครั้งเดียว และไม่ต้องส่งถ่ายโมเมนต์นำข้ามกลับไปยังที่รองรับปลายคานนั้น
3. หา  $DF = K/\sum K$
4. หา FEM
5. กระจายโมเมนต์ที่แต่ละจุดต่อตามขั้นตอน คือ
  - ก) หาโมเมนต์ไม่สมดุลของแต่ละจุดต่อ
  - ข) คำนวณโมเมนต์กระจายในแต่ละชิ้นส่วนที่อยู่ติดกับแต่ละจุดต่อนั้น
  - ค) นำข้ามค่าครึ่งหนึ่งของโมเมนต์กระจายไปยังจุดต่ออีกด้านหนึ่งของชิ้นส่วนนั้น
  - ง) ขั้นตอนที่ ก ถึง ค อาจเรียกว่า ครอบรอบ ให้ทำซ้ำขั้นตอนที่ ก ถึง ค จนได้จำนวนรอบตามที่ต้องการ ซึ่งโดยทั่วไปจะทำประมาณสองถึงสามรอบ จะทำให้ได้ค่า



โมเมนต์ดัดที่ใกล้เคียงกับค่าแม่นยำโดยมีความแตกต่างประมาณ 20 เปอร์เซ็นต์ หรือถ้าหากต้องการค่าที่เท่ากับหรือใกล้เคียงกับค่าแม่นยำมากขึ้น ก็ทำจำนวนรอบให้มากขึ้นจนกระทั่งค่าเข้าใกล้ศูนย์ทุกจุดต่อ หรือได้ค่าที่ซ้ำกันในแต่ละรอบ

6. หาโมเมนต์ดัด ณ ที่รองรับ (Final Moments) ที่แต่ละจุดต่อ โดยรวมค่า (ตามเครื่องหมายบวกหรือลบ) ของโมเมนต์ดัดตั้งแต่ FEM ลงมาในแต่ละจุดต่อ

7. เมื่อได้ค่าโมเมนต์ดัดที่จุดต่อแล้ว สามารถวิเคราะห์หาแรงอื่นได้ด้วยสมการสมดุล

$$FEM_{AB} = \frac{PL}{8} \quad \left( A \right) \quad \begin{array}{c} \xrightarrow{L/2} \downarrow P \xrightarrow{L/2} \\ \xrightarrow{L} \end{array} \quad \left( B \right) \quad FEM_{BA} = \frac{PL}{8}$$

$$FEM_{AB} = \frac{Pb^2a}{L^2} \quad \left( A \right) \quad \begin{array}{c} \xrightarrow{a} \downarrow P \xrightarrow{b} \\ \xrightarrow{L} \end{array} \quad \left( B \right) \quad FEM_{BA} = \frac{Pa^2b}{L^2}$$

$$FEM_{AB} = \frac{wL^2}{12} \quad \left( A \right) \quad \begin{array}{c} \xrightarrow{L} \\ \downarrow w \end{array} \quad \left( B \right) \quad FEM_{BA} = \frac{wL^2}{12}$$

$$FEM_{AB} = \frac{11wL^2}{192} \quad \left( A \right) \quad \begin{array}{c} \xrightarrow{L/2} \downarrow w \xrightarrow{L/2} \\ \xrightarrow{L} \end{array} \quad \left( B \right) \quad FEM_{BA} = \frac{5wL^2}{192}$$

$$FEM_{AB} = \frac{wL^2}{20} \quad \left( A \right) \quad \begin{array}{c} \xrightarrow{L} \\ \downarrow w \end{array} \quad \left( B \right) \quad FEM_{BA} = \frac{wL^2}{30}$$

$$FEM_{AB} = \frac{5wL^2}{96} \quad \left( A \right) \quad \begin{array}{c} \xrightarrow{L/2} \downarrow w \xrightarrow{L/2} \\ \xrightarrow{L} \end{array} \quad \left( B \right) \quad FEM_{BA} = \frac{5wL^2}{96}$$

$$FEM_{AB} = \frac{6EI\Delta}{L^2} \quad \left( A \right) \quad \begin{array}{c} \xrightarrow{L} \\ \uparrow \Delta \end{array} \quad \left( B \right) \quad FEM_{BA} = \frac{6EI\Delta}{L^2}$$

$$FEM_{AB} = M(1-k)(1-3k) \quad \left( A \right) \quad \begin{array}{c} \xrightarrow{kL} \circlearrowleft M \\ \xrightarrow{L} \end{array} \quad \left( B \right) \quad FEM_{BA} = Mk(2-3k)$$

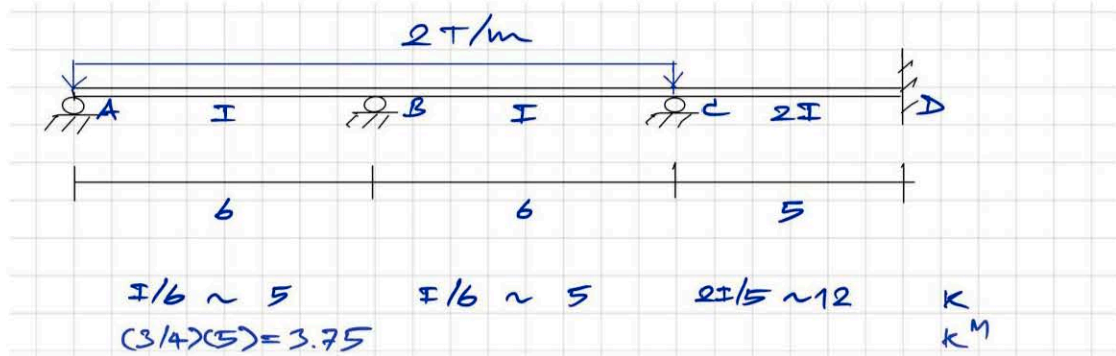
FEM ของนำหนักบรรทุกแต่ละรูปแบบ



ตัวอย่าง คำนวณหาโมเมนต์ดัด ณ ที่รองรับทั้งหมดของคานารับน้ำหนักบรรทุกดังรูป โดยวิธีกระจายโมเมนต์

1) กำหนด E คงที่

วิธีทำ



1	3/7	4/7	5/17	12/17	0	DF
-6	+6	-6	+6	0	0	FEM
+6	0	0	-1.7647	-4.2353	0	Dist
	+3	-0.8824	0	0	-2.1176	CO
	-0.9075	-1.2101	0	0	0	Dist
		0	-0.6050	0	0	CO
			+0.1979	+0.4271	0	Dist
		+0.0890			+0.2135	CO
	-0.0382	-0.0908			0	Dist
0	+8.054	-8.054	+3.808	-3.808	-1.904	Final Moments
	↺ ↻		↺ ↻		↗	

$$\therefore M_A = 0$$

$$M_B = -8.054 \text{ T.m}$$

$$M_C = -3.808 \text{ T.m}$$

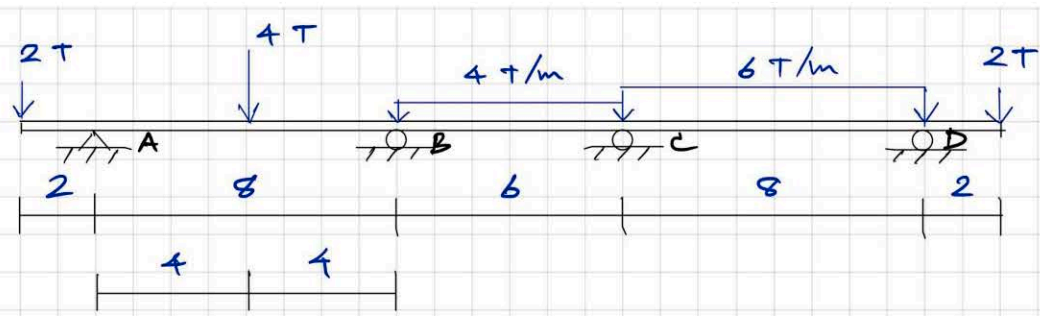
$$M_D = +1.904 \text{ T.m}$$

(ดึง 4006 ← 502)

#

2) กำหนด E คงที่

วิธีทำ



$I/8 \sim 3 \quad (3/4)(3) = 9/4$      
  $I/6 \sim 4$      
  $I/8 \sim 3 \quad (3/4)(3) = 9/4$      
 K  
 K<sub>M</sub>

	1	0.36	0.64	0.64	0.36	1	DF
+4	-4	+4	-12	+12	-32	+32	-4 FEM
	0	+2.88	+5.12	+12.8	+7.2	-28	Dist
		0	+6.4	+2.56	-14		C0
		-2.304	-4.096	+7.3216	+4.1184		Dist
			+3.6608	-2.048			C0
		-1.3179	-2.3429	+1.3107	+0.7573		Dist
			+0.6554	-1.1715			C0
		-0.2359	-0.4195	+0.7498	+0.4217		Dist
			+0.3749	-0.2097			C0
		-0.1350	-0.2399	+0.1342	+0.0755		Dist
+4	-4	+2.887	-2.887	+33.447	-33.447	+4	-4 Final Moments
	2	8	6	8	2		

$\therefore M_A = -4 \quad \text{t.m}$

$M_B = -2.887$

$M_C = -33.447$

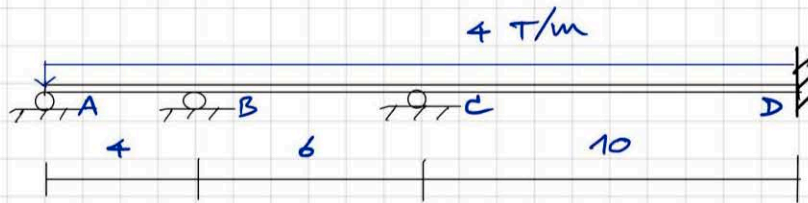
$M_D = -4$

(ค่าบวก 5 ร้อย)

≠

3) กำหนด E คงที่

วิธีทำ



$I/4 \sim 15$      $I/6 \sim 10$      $I/10 \sim 6$   
 $(3/4) \times 15 = 11.25$

K  
K<sup>m</sup>

1	9/17	8/17	5/17	3/17	0
-16/3	+16/3	-12	+12	-100/3	+100/3
+16/3	+60/17	+160/51	+40/3	+8	0
	+8/3	+20/3	+80/51		+4
	-84/17	-224/51	-50/51	-10/17	
		-25/51	-112/51		-5/17
	+75/289	+200/867	+70/51	+14/17	
	+35/51	+100/867			+7/17
	-105/289	-280/867	-125/1734	-25/578	
0	+6.484	-6.484	+25.141	-25.141	+37.451

DF  
FEM  
Dist  
C0  
Dist  
C0  
Dist  
C0  
Dist  
Final Moments

$\therefore M_A = 0$

$M_B = -6.484 \text{ T.m}$

$M_C = -25.141$

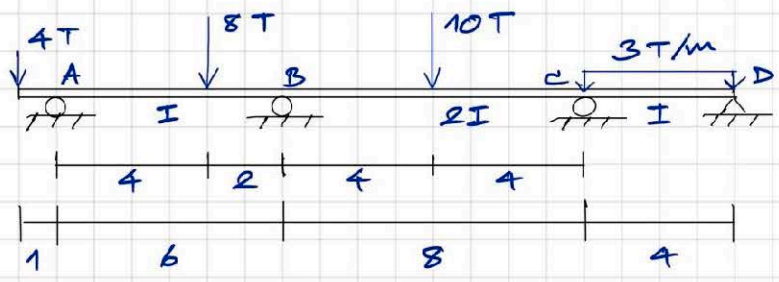
$M_D = -37.451$

(คำนวณ 4 รอบ)

#

4) กำหนด E คงที่

วิธีทำ



$I/6 \sim 4 \quad (3/4)(4) = 3$      
  $2I/8 \sim 6$      
  $I/4 \sim 6 \quad (3/4)(6) = 9/2$      
 K  
 $K^m$

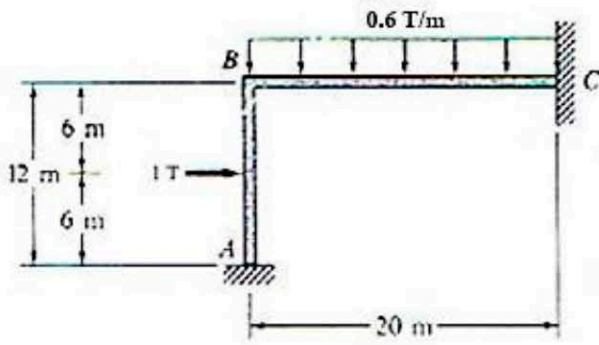
	1	1/3	2/3	4/7	3/7	1	DF
+4	-32/9	+64/9	-10	+10	-4	+4	FEM
	-4/9	+26/27	+52/27	-24/7	-18/7	-4	Dist
		-2/9	-12/7	+26/27	-2		CO
		+122/189	+244/189	+16/27	+4/9		Dist
			+8/27	+122/189			CO
		-8/81	-16/81	-488/1323	-122/441		Dist
			-244/1323	-8/81			CO
		+244/3969	+488/3969	+32/567	+8/189		Dist
+4	-4	+8.460	-8.460	+8.361	-8.361	0	Final Moments
	↘		↘		↘		

$\therefore M_A = -4 \text{ T.m}$   
 $M_B = -8.460$   
 $M_C = -8.361$   
 $M_D = 0$   
 (ค่าบวก + ลบ)

#



5) คำนวณหาโมเมนต์ดัดที่จุดต่อทั้งหมดของโครงข้อแข็งดังรูป กำหนด EI คงที่

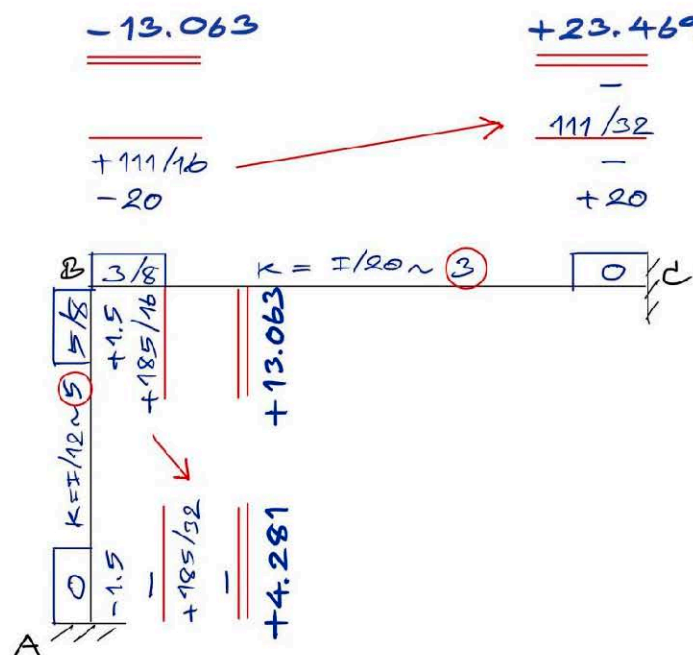


วิธีทำ

โจทย์ข้อนี้โครงจะไม่มีทางเซทางข้าง จึงสามารถวิเคราะห์ตามขั้นตอนที่อธิบายไว้ในบทนี้ได้

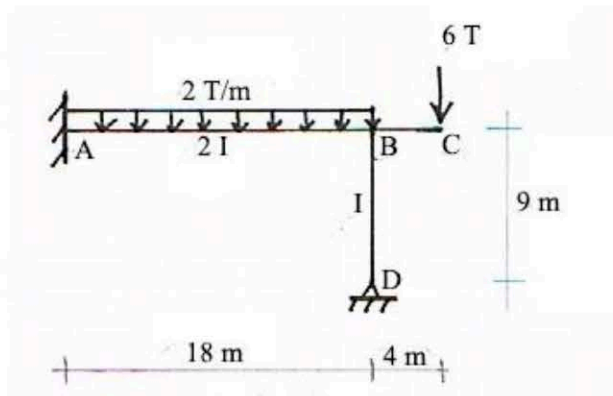
ขั้นตอนการคำนวณทำเช่นเดียวกับคาน แต่เนื่องจากโครงข้อแข็งมีทั้งชั้นส่วนในแนวราบ (คาน) และชั้นส่วนในแนวตั้ง (เสา) หรือบางข้ออาจมีชั้นส่วนเอียง ดังนั้น การเขียนตัวเลขจึงมีหลายวิธีด้วยกัน เช่น พิจารณาโครงข้อแข็งโดยสมมติให้ชั้นส่วนทุกชั้นอยู่ในแนวราบ เพื่อเขียนขั้นตอนการคำนวณเหมือนคาน หรือ เขียนขั้นตอนตามแนวของชั้นส่วน

ผู้เขียนเลือกเขียนขั้นตอนตามแนวของชั้นส่วน โดยตัดข้อความตัวอย่างที่ระบุในแต่ละขั้นตอนทิ้ง ถือว่าละไว้ในฐานที่เข้าใจ ข้อดีของการเขียนแบบนี้คือ สามารถดูได้ชัดเจนว่าค่าโมเมนต์ที่คำนวณได้นั้น เป็นค่าที่จุดต่อใด เพราะเขียนค่าตัวเลขไว้ที่ตำแหน่งใกล้จุดต่อนั้น

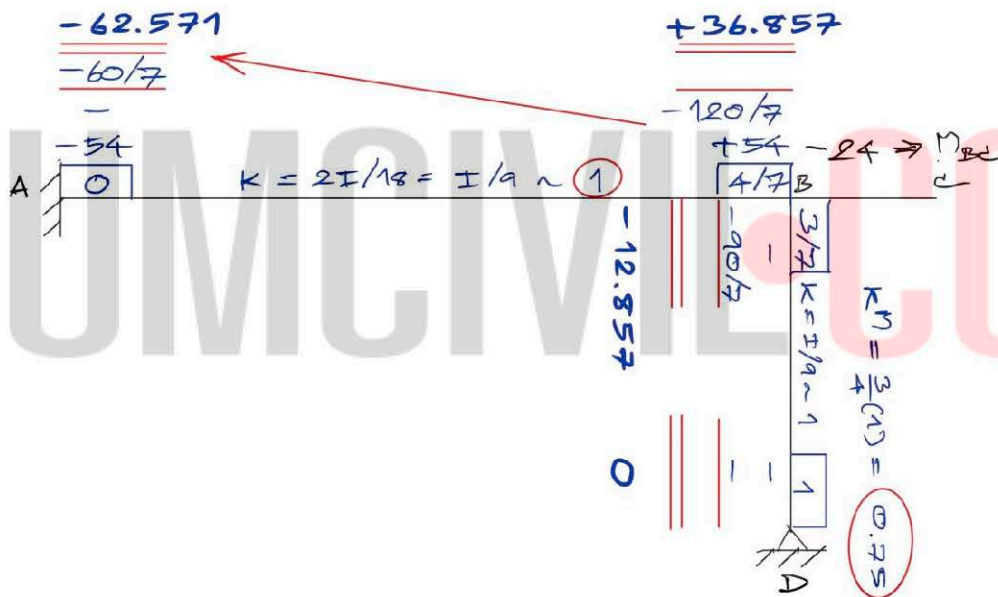




6) คำนวณหาโมเมนต์ดัดที่จุดต่อทั้งหมดของโครงข้อแข็งดังรูป



วิธีทำ



อธิบาย

- 1) โจทย์ข้อนี้โครงข้อแข็งไม่มีการเซทางข้าง จึงสามารถใช้ขั้นตอนตามท้อธิบายมาวิเคราะห์ได้
- 2) มีข้อสังเกตว่า ที่รองรับ D เป็นแบบยึดหมุน จึงสามารถใช้สติเฟเนสแปลงได้เช่นเดียวกับการวิเคราะห์คาน
- 3) คานยื่นรับน้ำหนักบรรทุกทุกทำให้เกิด  $M_{BC} = -24 \text{ T-m}$  (ทวนเข็มนาฬิกา) ซึ่งจะนำค่านี้ไปรวมกับค่า  $M_{BA} = +54 \text{ T-m}$  ในขั้นตอนการหาโมเมนต์ไม่สมดุล (รวมแล้วเปลี่ยนเครื่องหมาย) เพื่อนำมาหาโมเมนต์กระจายต่อไป

# เส้นอิทธิพล : การนำไปใช้ในงานอาคาร

## ความนำ

บทนี้กล่าวถึง เส้นอิทธิพล (Influence Lines) ในแง่ของการประยุกต์ใช้ในการวิเคราะห์โครงสร้างคานและโครงข้อแข็ง โดยยังไม่ได้กล่าวถึงการนำไปใช้ในการวิเคราะห์ถนน สะพาน หรืองานโยธาอื่นที่รับน้ำหนักที่มีการเคลื่อนที่ เช่น รถ รถไฟ เป็นต้น

การออกแบบโครงสร้างนั้น จะต้องพิจารณาการรับน้ำหนักบรรทุกคงที่และน้ำหนักบรรทุกจร หากน้ำหนักบรรทุกจรมีค่ามาก เราอาจต้องพิจารณาว่าน้ำหนักบรรทุกจรที่มากกระทำ ณ ตำแหน่งใดจึงจะเกิดค่าแรงภายในสูงสุด วิธีหนึ่งที่ใช้ในการพิจารณาคือ การใช้เส้นอิทธิพล

เส้นอิทธิพล หมายถึง แผนภาพที่แสดงถึงการแปรเปลี่ยนของฟังก์ชันในการออกแบบ (design function) ซึ่งเกิดขึ้นเนื่องจากอิทธิพลของน้ำหนักบรรทุก 1 หน่วย ที่กระทำ ณ ตำแหน่งใดๆ บนโครงสร้าง ฟังก์ชันในการออกแบบนี้ได้แก่ แรงภายในชิ้นส่วนของโครงข้อหมุน, แรงเฉือนในคาน/โครงข้อแข็ง, โมเมนต์ดัดในคาน/โครงข้อแข็ง, แรงปฏิกิริยาในโครงข้อหมุน/คาน/โครงข้อแข็ง เป็นต้น

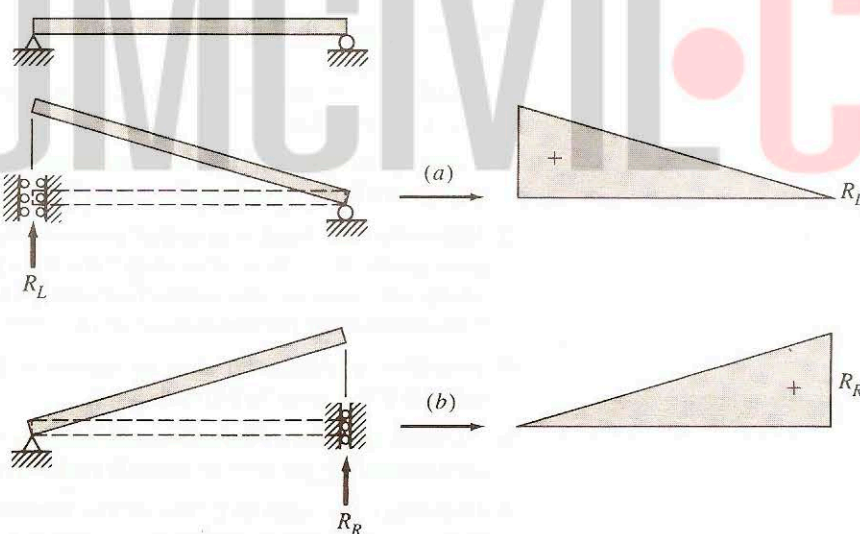
เส้นอิทธิพล 1 แผนภาพ จะแสดงค่าของฟังก์ชันออกแบบที่พิจารณาเฉพาะค่าใดค่าหนึ่งเมื่อรับน้ำหนักบรรทุก 1 หน่วย ณ ตำแหน่งต่างๆ ซึ่งโดยทั่วไปจะเริ่มต้นวางตำแหน่งน้ำหนักบรรทุก 1 หน่วยนี้ทางด้านซ้ายของโครงสร้าง ไปจนถึงทางด้านขวาของโครงสร้างที่พิจารณาอยู่นั้น

## หลักการของมิลเลอร์-เบรสโล

ในปีค.ศ. 1886 ศาสตราจารย์ Heinrich Muller-Breslau ได้นำเสนอวิธีการอย่างง่ายในการเขียนแผนภาพของเส้นอิทธิพลของแรงปฏิกิริยา, แรงเฉือน และโมเมนต์ดัด ซึ่งต่อมาวิธีนี้เรียกว่าหลักการของมิลเลอร์-เบรสโล (Muller-Breslau principle) โดยมีใจความสำคัญคือ

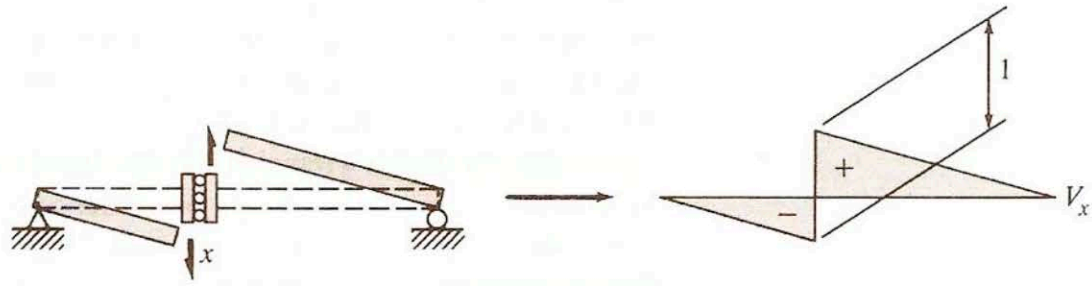
เส้นอิทธิพลของแรงปฏิกิริยา หรือ แรงเฉือน หรือ โมเมนต์ดัด ที่ตำแหน่งใดๆ ของคาน จะมีรูปร่างคล้ายกับรูปทรงของการเปลี่ยนรูปของคานที่ตำแหน่งนั้น โดยสมมุติว่าตำแหน่งนั้นไม่มีการยึดรั้ง ซึ่งการเปลี่ยนรูปจะเป็นไปตามทิศทางของแรงที่พิจารณา

ดังนั้น โดยอาศัยหลักการนี้ เส้นอิทธิพลของแรงปฏิกิริยาของคานช่วงเดียว (คานแบบทีเทอร์มินต์) สามารถเขียนได้โดยไม่ต้องคำนวณ ดังรูปที่ 1



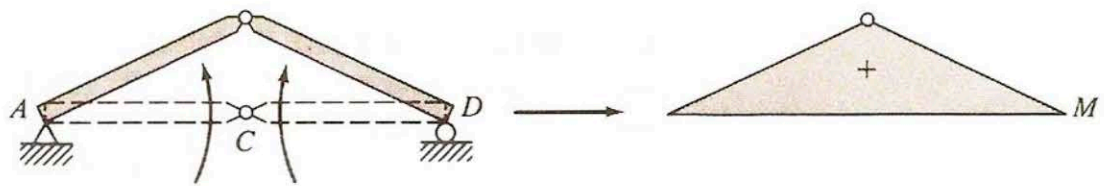
รูปที่ 1 IL ของแรงปฏิกิริยา ของคานช่วงเดียว

เส้นอิทธิพลของแรงเฉือนของคานช่วงเดียว สามารถเขียนได้ดังรูปที่ 2



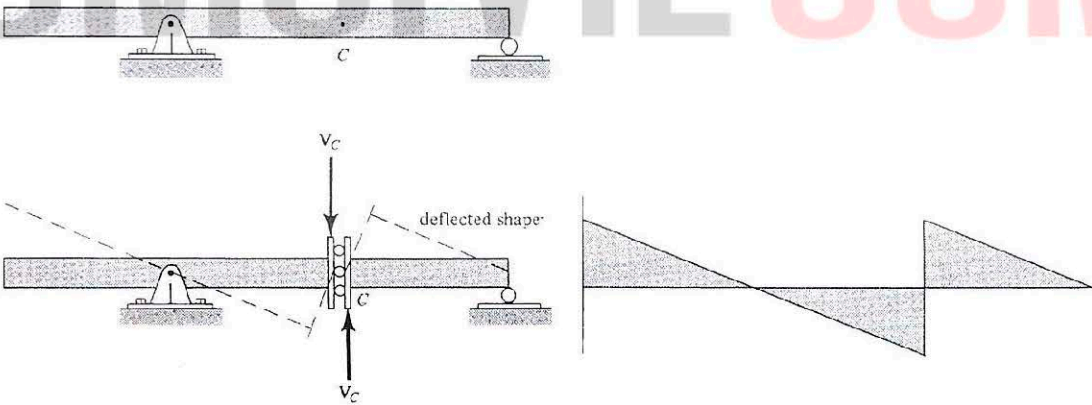
รูปที่ 2 IL ของแรงเฉือน ของคานช่วงเดียว

เส้นอิทธิพลของโมเมนต์ของคานช่วงเดียว สามารถเขียนได้ ดังรูปที่ 3



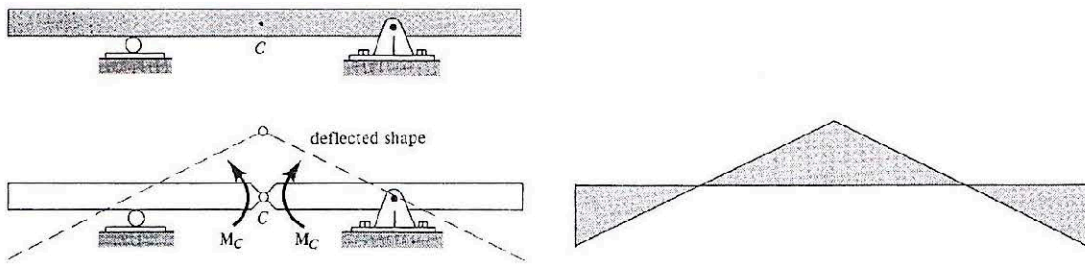
รูปที่ 3 IL ของโมเมนต์คัต ของคานช่วงเดียว

เส้นอิทธิพลของแรงเฉือนของคานช่วงเดียวปลายยื่น สามารถเขียนได้ ดังรูปที่ 4



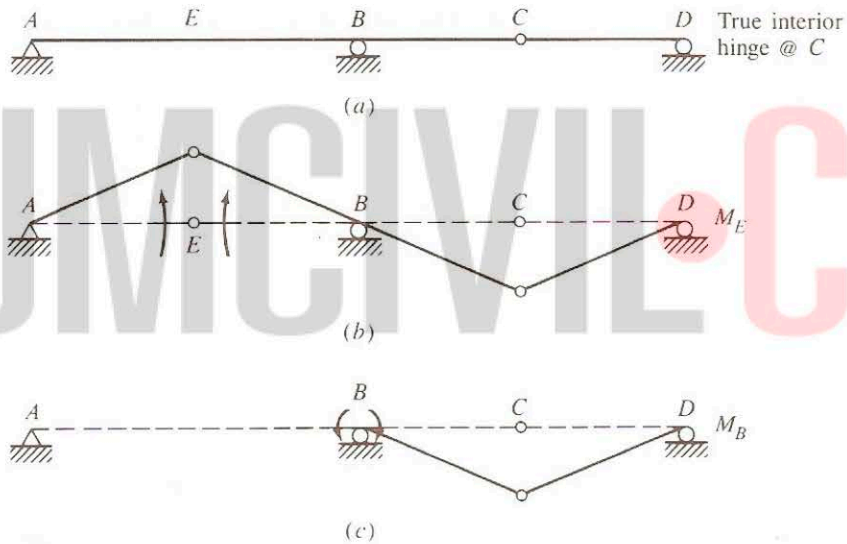
รูปที่ 4 IL of  $V_c$  ของคานช่วงเดียวปลายยื่น

เส้นอิทธิพลของโมเมนต์ของคานช่วงเดียวปลายยื่น สามารถเขียนได้ ดังรูปที่ 5



รูปที่ 5 IL of  $M_C$  ของคานช่วงเดียวปลายยื่น

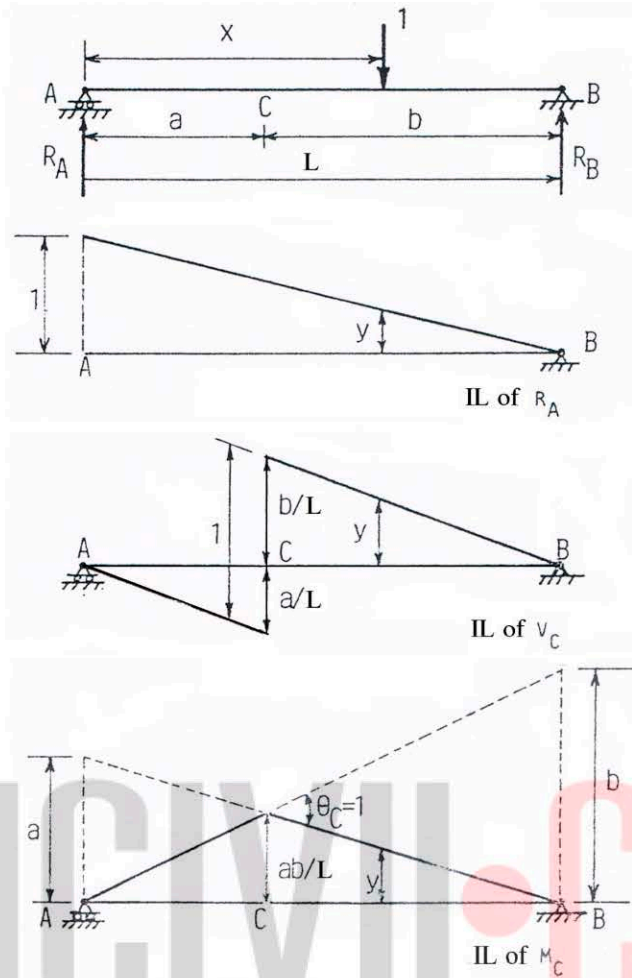
เส้นอิทธิพลของโมเมนต์ของคานสองช่วงที่มีบานพับภายใน (interior hinge) ซึ่งทำให้คานยังคงมีสภาพเป็นแบบดีเทอร์มิเนต สามารถเขียนได้ ดังรูปที่ 6



รูปที่ 6 ตัวอย่าง I.L. ของคาน 2 ช่วงที่มี hinge ภายใน

สำหรับค่าสูงสุดของเส้นอิทธิพลของแรงต่างๆ ที่พิจารณา สำหรับคานช่วงเดียวนั้น แสดงดังรูปที่ 7

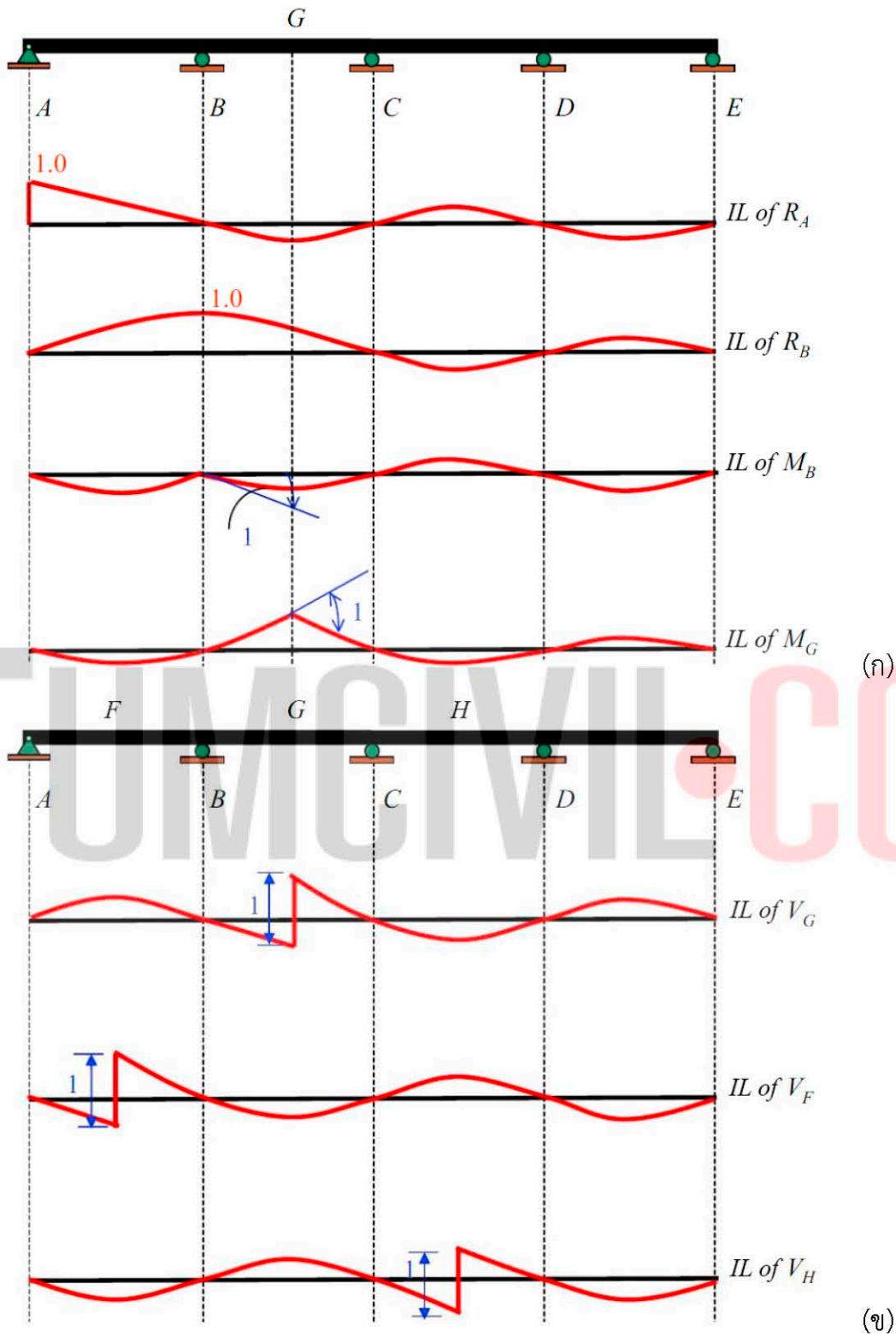




รูปที่ 7 เส้นอิทธิพลพร้อมค่าสูงสุดของแรงต่างๆ ของคานช่วงเดียว

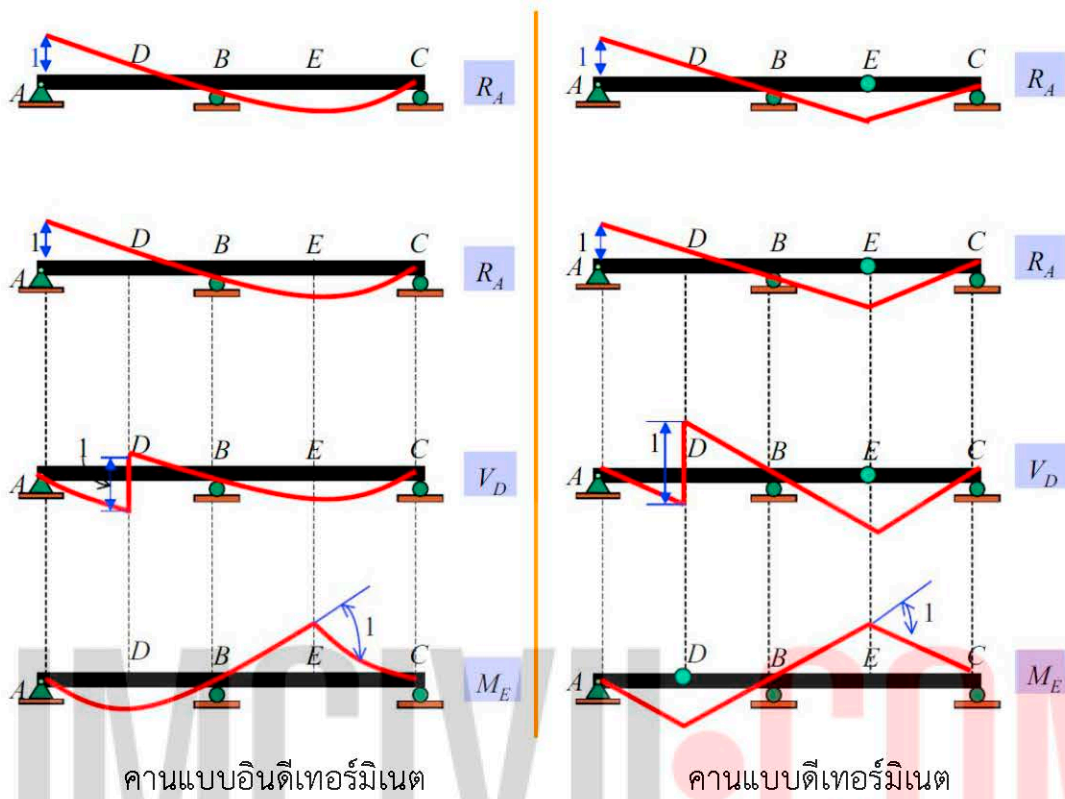
สำหรับคานแบบอินดีเทอ์มีเนต สามารถเขียนเส้นอิทธิพลโดยใช้หลักการของ มิลเลอร์-เบอร์สโต ได้เช่นเดียวกัน แต่ความแตกต่างจากคานแบบดีเทอ์มีเนตคือ เส้นใน แผนภาพนั้นจะเป็นเส้นโค้ง ตัวอย่างดังรูปที่ 8





รูปที่ 8 ตัวอย่าง I.L. ของคานแบบอินดีเทอริมีเนต

เปรียบเทียบเส้นอิทธิพลของแรงต่างๆ ของคานแบบอินดีเทอร์มิเนต กับคานแบบดีเทอร์มิเนต ได้ดังตัวอย่างรูปที่ 9



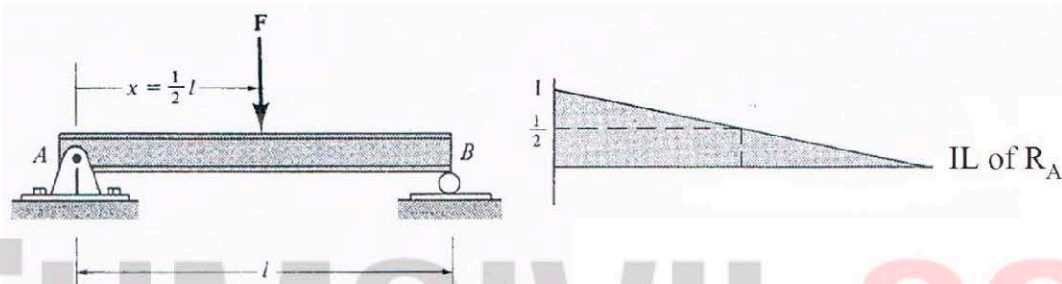
รูปที่ 9 ตัวอย่างเปรียบเทียบ I.L. ของคานแบบอินดีเทอร์มิเนต และคานแบบดีเทอร์มิเนต

## การประยุกต์ใช้เส้นอิทธิพลสำหรับคาน

ก) น้ำหนักบรรทุกแบบจุด (Point Load/ Concentrated Load)

เมื่อเรามีเส้นอิทธิพลของแรงภายในของคานใดๆที่พิจารณาแล้ว ซึ่งแผนภาพนั้นเกิดจากน้ำหนักบรรทุกหนึ่งหน่วยกระทำ ดังนั้น หากมีน้ำหนักบรรทุกแบบจุด ๑ หน่วยกระทำที่ตำแหน่งใดๆของคาน เราก็สามารถหาค่าของแรงภายในเมื่อรับน้ำหนักบรรทุกแบบจุดนั้นได้ โดยการคูณค่าของน้ำหนักกับค่าของเส้นอิทธิพล ณ ตำแหน่งนั้น

ตัวอย่างเส้นอิทธิพลของ  $R_A$  (IL of  $R_A$ ) ดังรูปที่ 10 เมื่อมีน้ำหนัก  $F$  ๑ หน่วยกระทำที่ตำแหน่ง  $l/2$  ดังนั้น ค่าของ  $R_A$  จะเท่ากับ  $F \cdot (1/2)$



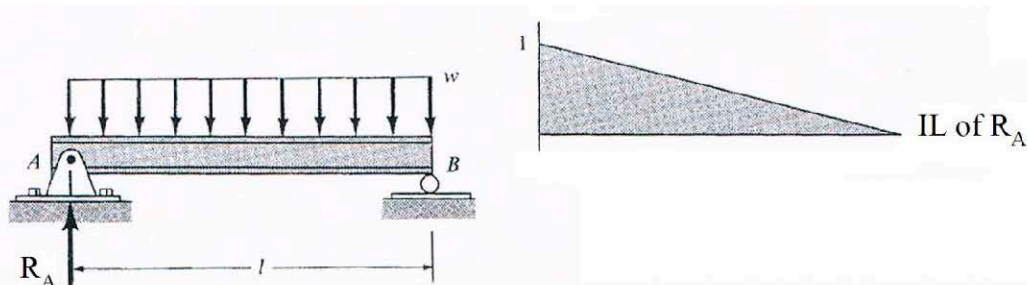
รูปที่ 10 การวางตำแหน่งของน้ำหนักแบบจุด พิจารณาจาก IL of  $R_A$

ด้วยหลักการนี้ เราจึงสามารถบอกได้ว่า น้ำหนัก  $F$  นี้ จะให้ค่า  $R_A$  สูงสุด ก็ต่อเมื่อน้ำหนัก  $F$  กระทำที่จุด A ของคานดังรูป และมีค่าเท่ากับ  $F \cdot 1$

ข) น้ำหนักบรรทุกแบบแผ่กระจายสม่ำเสมอ (Uniform Load)

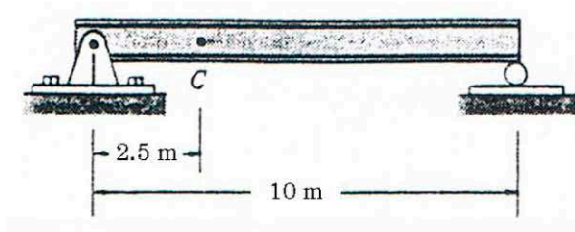
สำหรับการหาค่าของแรงภายในใดๆ เมื่อรับน้ำหนักบรรทุกแบบแผ่กระจายสม่ำเสมอ จะมีค่าเท่ากับน้ำหนักแผ่นั้นคูณกับพื้นที่ใต้เส้นอิทธิพล

ตัวอย่างเส้นอิทธิพลของ  $R_A$  (IL of  $R_A$ ) ดังรูปที่ 11 เมื่อมีน้ำหนักแผ่  $w$  ๑ หน่วยกระทำเต็มช่วงคาน ดังนั้น ค่าของ  $R_A$  จะเท่ากับ  $w \cdot [(1/2) \cdot 1 \cdot l]$



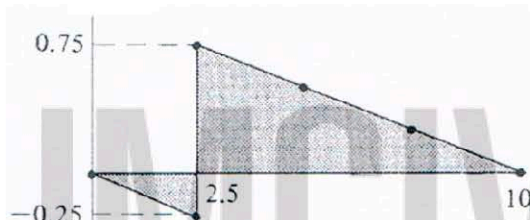
รูปที่ 11 การวางตำแหน่งของน้ำหนักแบบแผ่กระจายสม่ำเสมอ พิจารณาจาก IL of  $R_A$

ตัวอย่างที่ 1 จงหาตำแหน่งการวางน้ำหนักบรรทุกจรแบบจุด 4 T และน้ำหนักจรแบบกระจายสม่ำเสมอ 2 T/m เพื่อให้ได้ค่าแรงเฉือนจรรยาบวกสูงสุดที่จุด C ของคานดังรูป พร้อมทั้งหาค่าแรงเฉือนจรรยาบวกนั้น



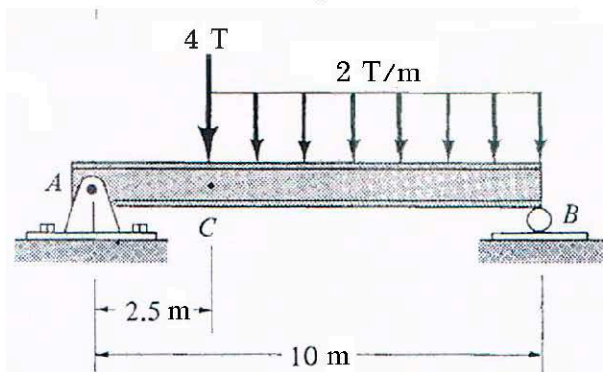
วิธีทำ

เขียนเส้นอิทธิพลของแรงเฉือนที่จุด C



IL of  $V_C$

ดังนั้น เพื่อให้ได้ค่าแรงเฉือนจรรยาบวกสูงสุดที่จุด C จึงต้องวางน้ำหนักจรแบบจุดที่ C และน้ำหนักจรแบบกระจายเฉพาะช่วงเส้นอิทธิพลที่มีค่าบวก ซึ่งพิจารณาจากเส้นอิทธิพลแล้ว จึงวางตั้งแต่จุด C ไปถึงที่รองรับด้านขวา



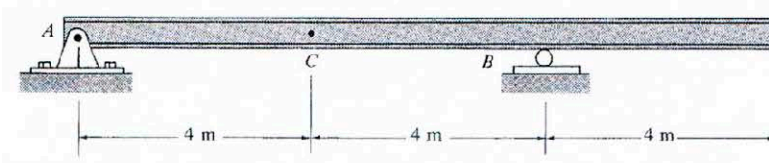
ตอบ

$$\begin{aligned} \therefore V_C \text{ max } + &= (4)(0.75) + (2)\left[\frac{1}{2}(0.75)(7.5)\right] \\ &= 8.625 \text{ T} \end{aligned}$$

ตอบ

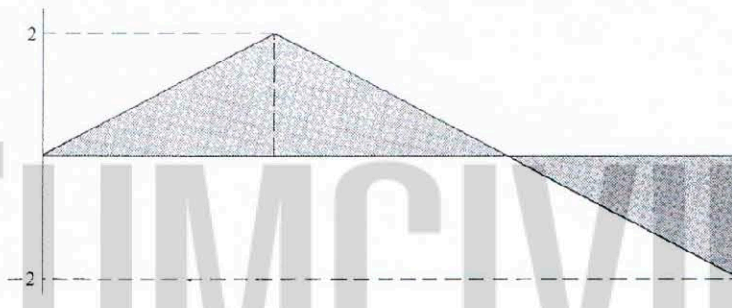


ตัวอย่างที่ 2 จงหาตำแหน่งการวางน้ำหนักบรรทุกทุกจรแบบจุด 8 T และน้ำหนักจรแบบกระจายสม่ำเสมอ 3 T/m เพื่อให้ได้ค่าโมเมนต์บวกสูงสุดที่จุด C ของคานซึ่งมีน้ำหนักตัวเอง 1 T/m ดังรูป พร้อมทั้งหาค่าโมเมนต์บวกสูงสุดนั้น



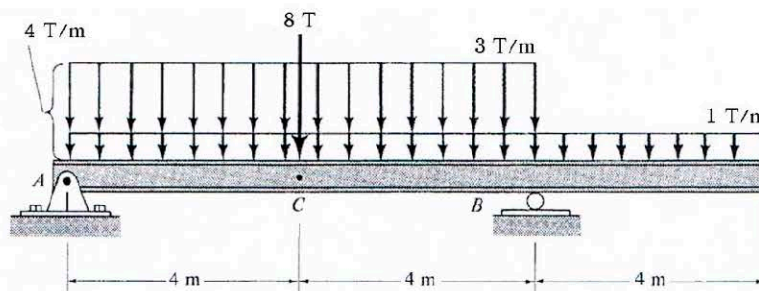
วิธีทำ

เขียนเส้นอิทธิพลของโมเมนต์ที่จุด C



IL of  $M_C$

ดังนั้น เพื่อให้ได้ค่าโมเมนต์บวกสูงสุดที่จุด C จึงต้องวางน้ำหนักจรแบบจุดที่ C และน้ำหนักจรแบบกระจายเฉพาะช่วงเส้นอิทธิพลที่มีค่าบวก ซึ่งพิจารณาจากเส้นอิทธิพลแล้วจึงวางตั้งแต่จุด A ถึงจุด B ส่วนน้ำหนักกระจายของตัวคานเอง จะมีตลอดความยาวคาน



ตอบ

$$\begin{aligned} \therefore M_C \text{ max } + &= (8)(2) + (3)[(1/2)(2)(8)] + \\ & (1)[(1/2)(2)(8) - (1/2)(2)(4)] \\ &= 44 \text{ T-m} \end{aligned}$$

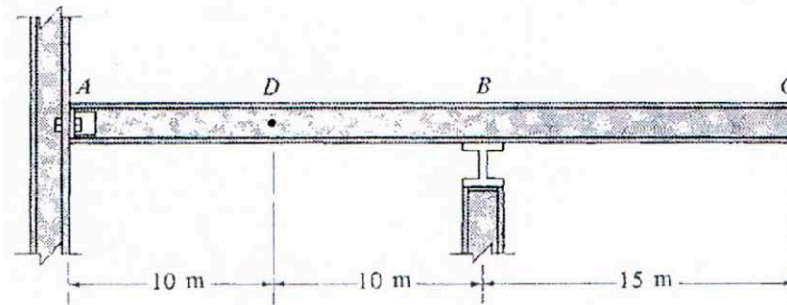
ตอบ




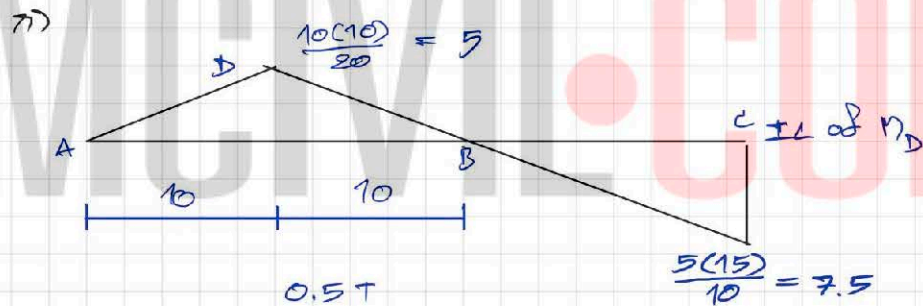
ตัวอย่างที่ 3 คานมีที่รองรับ A เป็นแบบบานพับ และที่รองรับ B เป็นแบบล้อเลื่อน ดังรูป รับน้ำหนักจรแบบกระจาย  $0.8 \text{ T/m}$  และน้ำหนักจรแบบจุด  $0.5 \text{ T}$  จงหา

ก) ตำแหน่งการวางน้ำหนักบรรทุกทุกจรเพื่อให้ได้ค่าโมเมนต์บวกสูงสุดที่จุด D พร้อมทั้งค่าของโมเมนต์บวกนั้น

ข) ตำแหน่งการวางน้ำหนักบรรทุกทุกจรเพื่อให้ได้ค่าแรงปฏิกิริยาแนวตั้งสูงสุด ณ ที่รองรับ B พร้อมทั้งค่าของแรงปฏิกิริยานั้น

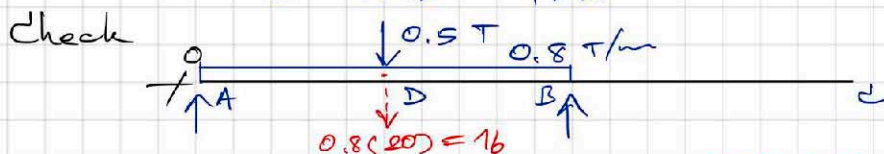


วิธีทำ



$$\therefore M_D \text{ max} = (0.5)(5) + (0.8) \left[ \frac{1}{2} (5) (20) \right]$$

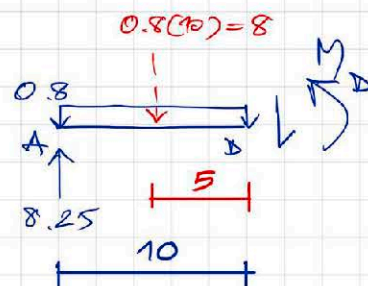
$$= 42.5 \text{ T-m}$$



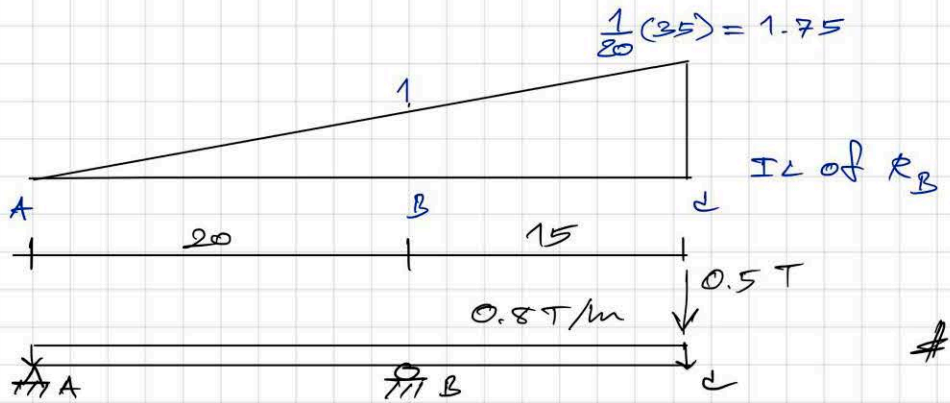
$$\frac{0.5}{2} + \frac{16}{2} = 8.25$$

$$\therefore M_D = 8.25(10) - 8(5)$$

$$= 42.5 \text{ T-m} \quad \checkmark$$



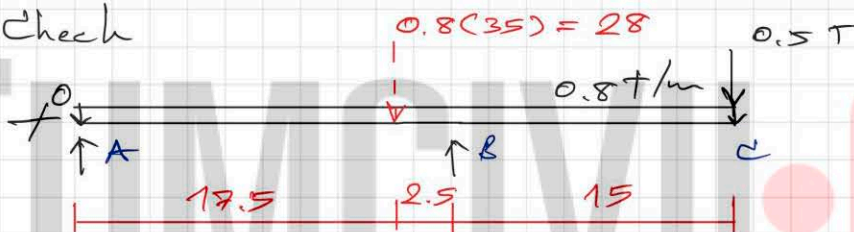
γ)



$$\therefore R_B \text{ max} = 0.5(1.75) + 0.8 \left[ \frac{1}{2}(1.75)(35) \right]$$

$$= 25.375 \text{ T} \quad \#$$

Check



$$\therefore R_B = \frac{28(17.5)}{20} + \frac{0.5(35)}{20}$$

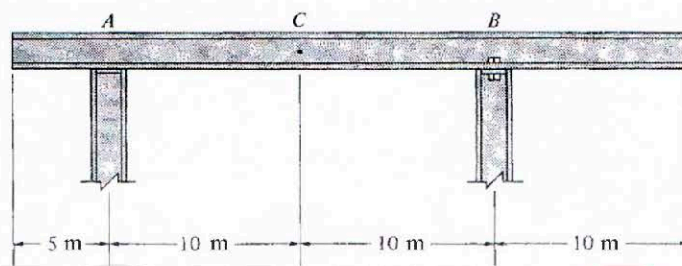
$$= 25.375 \text{ T} \quad \checkmark$$

ตัวอย่างที่ 4 คานมีที่รองรับ A เป็นแบบล้อเลื่อน และที่รองรับ B เป็นแบบบานพับ ดังรูป รับน้ำหนักจรแบบกระจาย 0.7 T/m และน้ำหนักจรแบบจุด 10 T จงหา

ก) ตำแหน่งการวางน้ำหนักบรรทุกทุกจรเพื่อให้ได้ค่าแรงปฏิกิริยาแนวตั้งสูงสุด ณ ที่รองรับ A พร้อมทั้งค่าของแรงปฏิกิริยานั้น

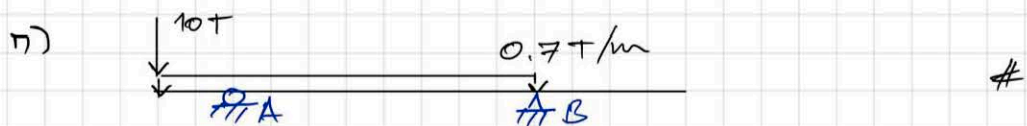
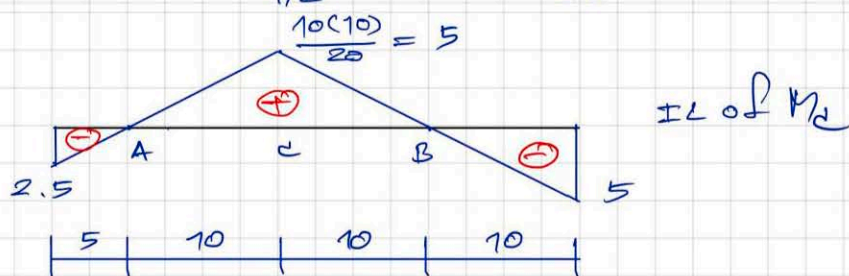
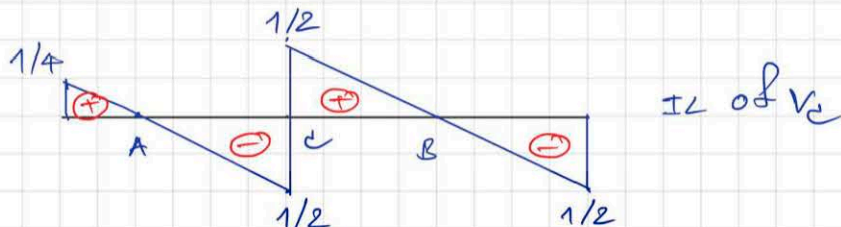

ข) ตำแหน่งการวางน้ำหนักบรรทุกทุกจรเพื่อให้ได้ค่าแรงเฉือนค่าบวกสูงสุดที่จุด C พร้อมทั้งค่าของแรงเฉือนนั้น

ค) ตำแหน่งการวางน้ำหนักบรรทุกทุกจรเพื่อให้ได้ค่าโมเมนต์บวกสูงสุดที่จุด C พร้อมทั้งค่าของโมเมนต์บวกนั้น

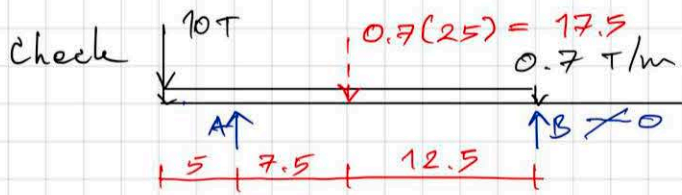


วิธีทำ

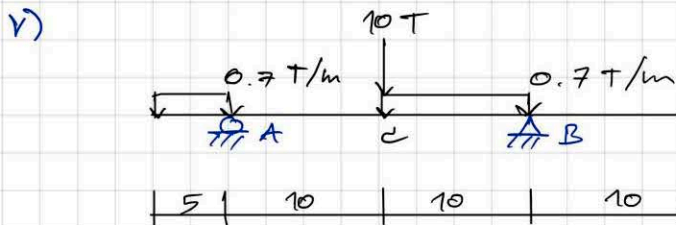
$$\frac{1}{20}(25) = 1.25$$



$$\begin{aligned} \therefore R_A \text{ max} &= 10(1.25) + 0.7 \left[ \frac{1}{2}(1.25)(25) \right] \\ &= 23.4375 \text{ T} \end{aligned}$$

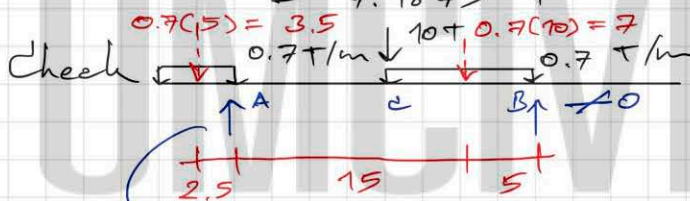


$$\therefore R_A = \frac{17.5(12.5)}{20} + \frac{10(20)}{20} = 23.4375 \text{ T} \checkmark$$




$$\therefore V_c \text{ max} + = 10(1/2) + 0.7 \left[ \frac{1}{2}(1/4)(5) \right] + 0.7 \left[ \frac{1}{2}(1/2)(10) \right]$$

$$= 7.1875 \text{ T}$$



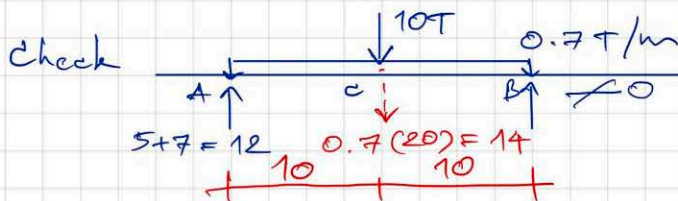
$$\frac{3.5(22.5)}{20} + \frac{7(5)}{20} + \frac{10}{2} = 10.6875$$

$$\therefore V_c = 10.6875 - 3.5 = 7.1875 \text{ T}$$

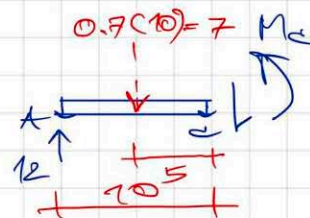


$$\therefore M_c \text{ max} + = 10(5) + 0.7 \left[ \frac{1}{2}(5)(20) \right]$$

$$= 85 \text{ T-m}$$



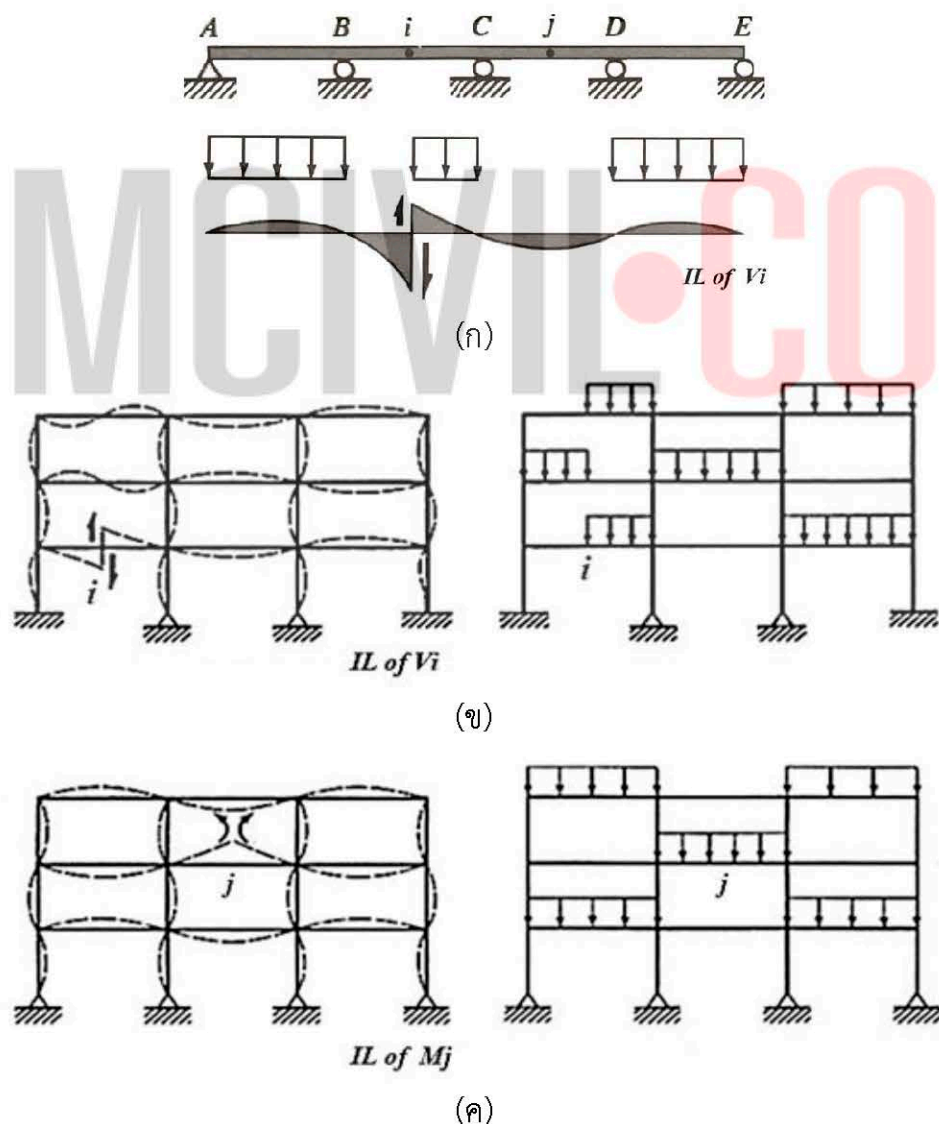
$$\therefore M_c = 12(10) - 7(5) = 85 \text{ T-m} \checkmark$$





## การจัดวางน้ำหนักบรรทุก

จากความรู้เรื่องเส้นอิทธิพลที่อธิบายมาแล้วข้างต้น จะเห็นได้ว่า การกำหนดน้ำหนักบรรทุกจรแบบวางเต็มทุกช่วงคานานั้น จะไม่ทำให้ได้ค่าแรงภายในสูงสุด เพราะค่าสูงสุดของแรงภายในที่พิจารณา จะเป็นการวางตามแนวเส้นอิทธิพลของแรงภายในนั้น เพียงแต่ว่า ในการออกแบบโดยทั่วไป หากน้ำหนักบรรทุกจรมีค่าไม่เกิน 3 ใน 4 เท่าของน้ำหนักบรรทุกคงที่ ความแตกต่างของค่าแรงภายในสูงสุดระหว่างการวางน้ำหนักบรรทุกจรเต็มทุกช่วงคานากับวางตามแนวเส้นอิทธิพล มีค่าไม่ต่างกันนัก แต่ถ้าน้ำหนักบรรทุกจรมีค่ามากกว่านั้น การพิจารณารูปแบบการวางน้ำหนักบรรทุกจรจะถือเป็นเรื่องที่ต้องพิจารณาเพื่อให้ได้ค่าแรงภายในสูงสุด ณ ตำแหน่งที่ต้องการ ตัวอย่างดังรูปที่ 12



รูปที่ 12 ตัวอย่างการวางน้ำหนักบรรทุก โดยพิจารณาจากเส้นอิทธิพล



ตัวอย่างที่ 5 ทำไมมาตรฐานการออกแบบอาคารจึงแนะนำว่า โมเมนต์ตัดค่าบวกสูงสุด ในช่วงคานใดๆ ที่เกิดขึ้นเนื่องจากน้ำหนักบรรทุกจรแบบแผ่สม่ำเสมอ (LL) ได้จากการวาง LL ในช่วงนั้น และวาง LL ช่วงเว้นช่วงถัดไป

วิธีทำ

$M_{max}^+$  ในช่วงคานที่พิจารณา เกิดจากการวางน้ำหนัก (ในที่นี้คือ LL) ที่ช่วงคานนั้น และวางเว้นช่วงถัดไปแบบช่วงเว้นช่วง โดยพิสูจน์ได้จากเส้นอิทธิพลและการประยุกต์ใช้ คือค่าโมเมนต์ตัดเท่ากับ LL คูณด้วยพื้นที่ของเส้นอิทธิพลระหว่าง LL นั้น

ตัวอย่างคาน 4 ช่วง

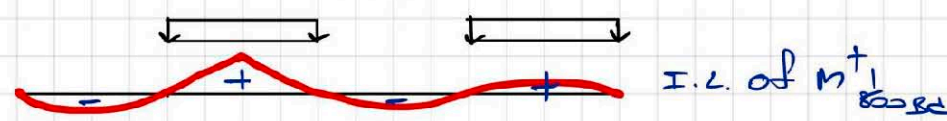


ก) หากต้องการหาค่า  $M_{max}^+$  ช่วง AB



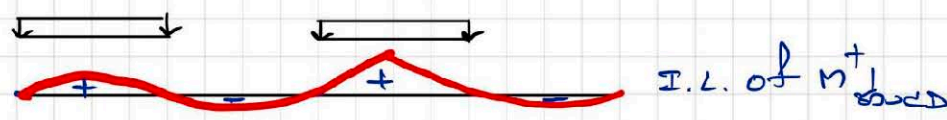
ดังนั้น จึงต้องวาง LL เฉพาะช่วงที่ I.L. มีค่าบวก เพราะถ้าวาง LL ช่วงที่ I.L. มีค่าลบ ด้วยนั้น จะทำให้ค่าโมเมนต์ตัดมีการหักล้างกัน

ข) หากต้องการหาค่า  $M_{max}^+$  ช่วง BC



เหตุผลเดียวกับข้อ ก)

ค) หากต้องการหาค่า  $M_{max}^+$  ช่วง CD



เหตุผลเดียวกับข้อ ก)

ตัวอย่างที่ 6 ทำไมมาตรฐานการออกแบบอาคารจึงแนะนำว่า โมเมนต์ดัดค่าลบสูงสุด ณ ที่รองรับในช่วงคานใดๆ ที่เกิดขึ้นเนื่องจากน้ำหนักบรรทุกจรแบบแผ่นสม่ำเสมอ (LL) ได้จากการวาง LL ลงในช่วงคานทั้งสองด้านของที่รองรับนั้น และวาง LL ช่วงเว้นช่วงถัดไป

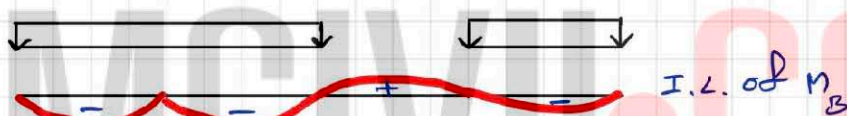
วิธีทำ

$M_{max}^-$  ณ ที่รองรับในช่วงคานที่พิจารณา เกิดจากการวาง LL ที่ช่วงคานทั้งสองของ ที่รองรับนั้น และวาง LL ช่วงเว้นช่วงถัดไป โดยมีเหตุผลทำนองเดียวกับข้อ 3

ตัวอย่างคาน 4 ช่วง

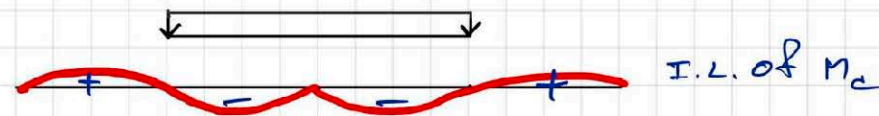


ก) หากต้องการหาค่า  $M_{max}^-$  ที่ B




ดังนั้น จึงต้องว่า LL เฉพาะช่วงที่ I.L. มีค่าลบ เพราะถ้าวาง LL ช่วงที่ I.L. มีค่าบวกด้วย นั้น จะทำให้ค่าโมเมนต์ดัดมีการหักล้างกัน

ข) หากต้องการหาค่า  $M_{max}^-$  ที่ C



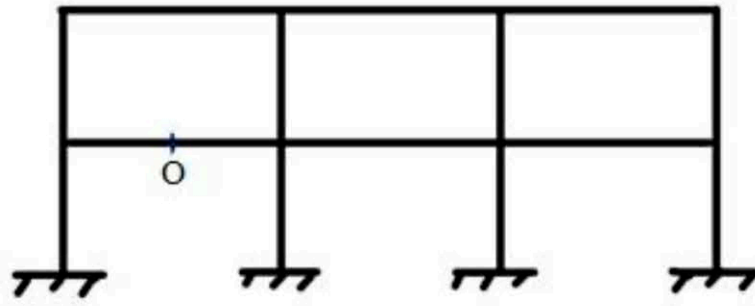
เหตุผลเดียวกับข้อ ก)

ค) หากต้องการหาค่า  $M_{max}^-$  ที่ D

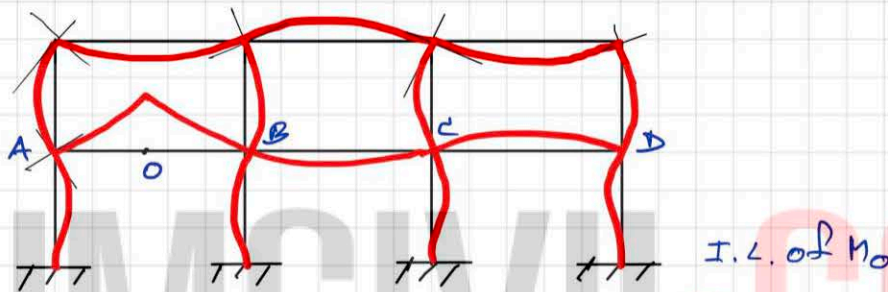


เหตุผลเดียวกับข้อ ก)

ตัวอย่างที่ 7 เขียนเส้นอิทธิพลของโมเมนต์ตัดที่จุด O ของโครงข้อแข็งดังรูป



วิธีทำ



ขั้นตอน

1. ใช้หลักการของ Muller-Breslau จินตนาการว่าที่จุด O เคลื่อนที่ได้ และเปลี่ยนรูปไปในทิศทางที่เป็นบวกของโมเมนต์
2. เขียนเส้นการเปลี่ยนรูปจากการจินตนาการตามข้อ 1 ในแนวนอน ABCD
3. เส้นการเปลี่ยนรูปนี้จะมีผลกระทบต่อทั้งโครงสร้าง ซึ่งสามารถเขียนต่อเนื่องไปยังตำแหน่งอื่นได้โดยใช้สมมติฐานว่า ที่จุดต่อของโครงสร้างเมื่อเกิดการเปลี่ยนรูปจะยังคงเป็นมุมฉากอยู่
4. ที่รองรับแบบยึดแน่น มุมลาดไม่มี ( $\theta = 0$ ) ดังนั้นเส้นการเปลี่ยนรูปจะเป็นเส้นตรงก่อนถึงที่รองรับ
5. เส้นการเปลี่ยนรูปในจินตนาการนี้จะเหมือนกับเส้นอิทธิพลของ  $M_O$

## วิธีโครงสร้าง : แบบไม่ยุ่งเหยิง

### ความนำ

บทนี้กล่าวถึง การวิเคราะห์โครงสร้างแบบอินดิเทอร์มิเนทโดยประมาณ เมื่อโครงสร้างนั้นรับแรงด้านข้าง ซึ่งแรงด้านข้างอาจเป็นไปได้หลายรูปแบบ เช่น แรงลม แรงเนื่องจากแผ่นดินไหว แรงเนื่องจากเครื่องจักร เป็นต้น

หลักการวิเคราะห์โดยประมาณนี้คือ เปลี่ยนโครงสร้างแบบอินดิเทอร์มิเนทให้เป็นแบบดีเทอร์มิเนท โดยกำหนดสมมติฐานบางอย่างขึ้นมาเพื่อให้โครงสร้างนั้นง่ายขึ้น (แม้ว่าในสภาพโครงสร้างจริง จะไม่ได้มีพฤติกรรมตามสมมติฐานที่ตั้งขึ้นมา) เพื่อสามารถคำนวณด้วยมือได้โดยไม่ยากนัก สำหรับนำค่าที่ได้จากการวิเคราะห์โดยประมาณนี้ ไปออกแบบอาคารเบื้องต้น เพื่อหาขนาดที่เหมาะสมของเสาและคาน แล้วจึงนำไปวิเคราะห์โดยละเอียดต่อไป ซึ่งในปัจจุบันสามารถทำได้โดยใช้โปรแกรมคอมพิวเตอร์ช่วยในการวิเคราะห์โดยละเอียดนั้น

สำหรับแรงภายในที่พิจารณา เพื่อนำไปออกแบบเบื้องต้นนี้คือ แรงเฉือนในคานและเสา , โมเมนต์ในคานและเสา และแรงตามแนวแกนในเสา โดยแรงตามแนวแกนในคานนั้นจะตัดทิ้งไป เพื่อให้การวิเคราะห์ทำได้ง่ายขึ้นและลดขั้นตอนการคำนวณ เพราะค่าแรงภายในที่ใช้ควบคุมในการออกแบบคานนั้น คือค่าโมเมนต์ดัดและแรงเฉือนในคานเป็นหลัก

วิธีที่จะนำเสนอในการวิเคราะห์แรงด้านข้างโดยประมาณ คือ วิธีโครงสร้าง (Portal Method) โดยเริ่มต้นด้วยวิธีที่อธิบายกันโดยทั่วไป ซึ่งมีขั้นตอนที่ค่อนข้างซับซ้อนยุ่งเหยิง

จากนั้นจะนำเสนอเทคนิควิธีลัดที่ผู้เขียนพัฒนาขึ้น เพื่อให้การวิเคราะห์ทำได้ง่ายรวดเร็ว “แบบไม่ยุ่งเหยิง” ทำให้การคำนวณเรียบง่ายขึ้น

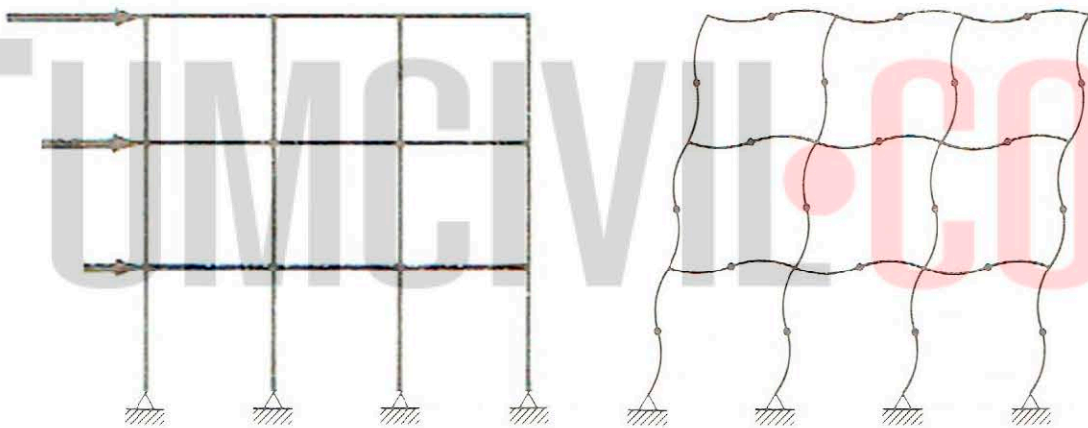


## วิธีโครงประตู่

วิธีนี้เป็นวิธีโดยประมาณในการวิเคราะห์แรงด้านข้างที่ให้ผลลัพธ์ที่น่าพอใจสำหรับโครงสร้างแบบอาคารสูงปานกลาง แต่มีข้อควรพิจารณาว่า ผลลัพธ์ของสองชั้นบนและสองชั้นล่างของอาคารนั้น อาจเกิดข้อผิดพลาดจากค่าจริงได้ถึง 50 เปอร์เซ็นต์ แต่อย่างไรก็ตาม เนื่องจากเป็นวิธีโดยประมาณเพื่อนำค่าไปออกแบบเบื้องต้น วิธีนี้จึงยังเป็นที่นิยมใช้อยู่

ก) สมมติฐานของวิธีโครงประตู่

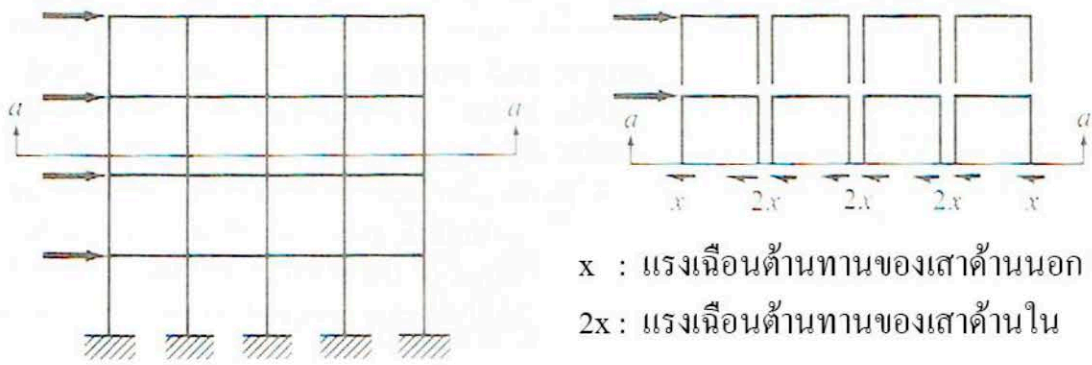
1. แรงด้านข้างกระทำที่จุดต่อเท่านั้น
2. จุดดัดกลับที่เกิดขึ้นในเสาและคาน เกิดขึ้นที่กึ่งกลางของชิ้นส่วน แสดงตัวอย่างดังรูปที่ 1



รูปที่ 1 สมมติฐานจุดดัดกลับของวิธีโครงประตู่

3. ผลรวมของแรงด้านข้างที่กระทำเหนือชั้นและในชั้นที่พิจารณา จะเท่ากับผลรวมของแรงเฉือนต้านทานในเสาชั้นที่พิจารณา โดยการกระจายแรงเฉือนต้านทานในเสานั้น แรงเฉือนที่เกิดขึ้นในเสาด้านใน มีค่าเป็นสองเท่าของเสาด้านนอก แสดงตัวอย่างดังรูปที่ 2





รูปที่ 2 สมมติฐานการกระจายแรงเคลื่อนต้านทานในเสา

ข) ขั้นตอนการวิเคราะห์

เมื่อใช้สมมติฐาน 3 ข้อดังกล่าวข้างต้นแล้ว สามารถวิเคราะห์โครงสร้างในแบบตีเทอร์มินेटได้ โดยมีขั้นตอนในการวิเคราะห์ตามลำดับ ดังนี้

1. แรงเฉือนในเสา จากสมมติฐานว่าแรงเฉือนในเสาด้านในมีค่าเป็นสองเท่าของแรงเฉือนในเสาด้านนอก จึงพิจารณาโดยใช้สมการผลรวมของแรงในแนวราบเท่ากับศูนย์ ( $\sum H = 0$ ) เพื่อหาแรงต้านทานแรงต้านข้างของแต่ละชั้นได้

2. โมเมนต์ในเสา จากสมมติฐานว่าจุดตัดกลับเกิดขึ้นที่กึ่งกลางเสา เมื่อได้แรงเฉือนในเสามาแล้ว จึงนำค่าแรงเฉือนในเสาคูณด้วยระยะกึ่งกลางเสาของแต่ละชั้นนี้ เป็นค่าโมเมนต์ในเสาได้

3. โมเมนต์ในคาน จากสมการสมดุล คือผลรวมของโมเมนต์ที่จุดต่อต้องเท่ากับศูนย์ เมื่อได้โมเมนต์ในเสามาแล้ว จะได้ว่าในแต่ละจุดต่อนั้น ผลรวมของโมเมนต์ในคานจะเท่ากับผลรวมของโมเมนต์ในเสา ( $\sum M_{คาน} = \sum M_{เสา}$ ) และโดยการพิจารณาแต่ละแนวคานทีละจุดต่อโดยพิจารณาชั้นบนสุดและจุดต่อปลายก่อน (เพราะมีตัวไม่ทราบค่าน้อยที่สุด) ก็จะสามารถหาโมเมนต์ในคานได้

4. แรงเฉือนในคาน จากสมมติฐานว่าจุดตัดกลับเกิดขึ้นที่กึ่งกลางคาน ดังนั้น แรงเฉือนในคานจึงเท่ากับโมเมนต์ในคานหารด้วยระยะครึ่งหนึ่งของคานที่พิจารณา

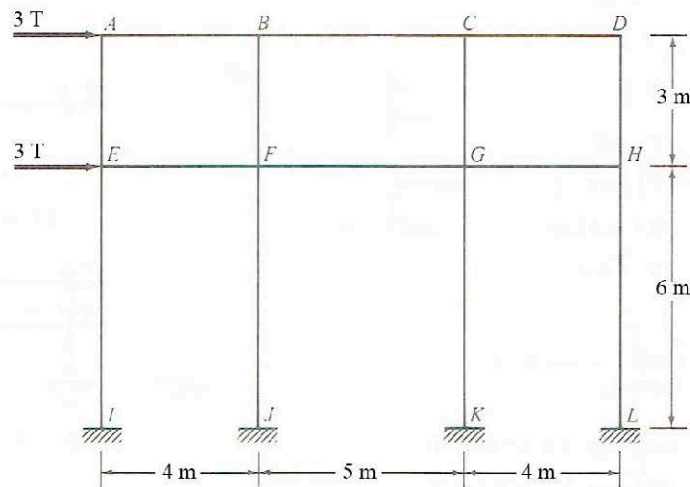
อย่างไรก็ตาม สำหรับชั้นตอนที่ 3 และ 4 นี้ อาจทำสลับกันได้ คือ หาแรงเฉือนก่อน หรือหาโมเมนต์ก่อน แล้วแต่ความสะดวกในการพิจารณา

5. แรงตามแนวแกนในเสา โดยการพิจารณาทีละจุดต่อ โดยเริ่มจากชั้นบนสุดและจุดต่อปลายก่อน สามารถหาค่าได้โดยใช้สมการสมดุล ผลรวมของแรงในแนวตั้งเท่ากับศูนย์ ( $\sum V = 0$ ) ของแรงเฉือนในคาน และแรงตามแนวแกนในเสา

ค) ข้อสังเกต

1. วิธีนี้จะคำนวณแรงเฉือนในแต่ละเสาเป็นแรงชุดแรกก่อนแรงภายในอื่น
2. การตรวจสอบค่าที่ได้จากการคำนวณ ให้ตรวจสอบผลรวมของแรงตามแนวแกนในเสาของชั้นที่พิจารณาต้องเท่ากับศูนย์ ( $\sum S = 0$ )
3. แรงเฉือนในแต่ละเสา จะมีทิศทางตรงกันข้ามกับแรงด้านข้าง
4. ค่าโมเมนต์ในเสาและคานของแต่ละชั้นส่วน จะมีค่าเดียวกันทั้งค่าบวกและค่าลบ เพราะสมมติฐานคือจุดตัดกลับเกิดขึ้นที่กึ่งกลางชั้นส่วน
5. แรงตามแนวแกนในเสา จะมีทั้งค่าบวกและค่าลบ ซึ่งในการออกแบบเสานั้นจะใช้ค่าลบ คือแรงอัด โดยในทางปฏิบัติคือ จะนำค่าลบสูงสุดที่ได้ของเสาแต่ละชั้น ไปรวมกับแรงอัดสูงสุดในเสาที่เกิดจากการต้านทานแรงในแนวตั้ง (Gravity Load) ของชั้นนั้น (อาจจะได้จากวิเคราะห์โดยประมาณมาเช่นกัน) เพื่อนำไปออกแบบขนาดของเสาเบื้องต้นของแต่ละชั้น
6. แรงตามแนวแกนในเสาด้านนอกที่รับแรงด้านข้าง จะมีค่าเป็นบวก (แรงดึง) ส่วนแรงตามแนวแกนในเสาด้านนอกที่ไม่ได้รับแรงด้านข้าง จะมีค่าเป็นลบ (แรงอัด)

ตัวอย่างที่ 1 โครงข้อแข็งรับแรงด้านข้างดังรูป ให้ใช้วิธีโครงสร้างวิเคราะห์หาแรงภายใน  
 ชั้นส่วนเสาและคาน (ไม่ต้องหาแรงตามแนวแกนในคาน)

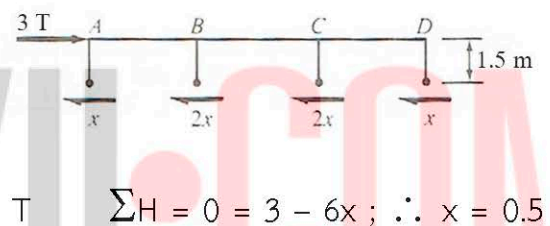


วิธีทำ

1. แรงเฉือนในเสา

$$AE = DH = x = 0.5 T$$

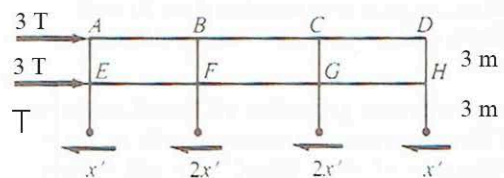
$$BF = CG = 2x = 1$$



$$\sum H = 0 = 3 - 6x ; \therefore x = 0.5$$

$$EI = HL = x' = 1 T$$

$$FJ = GK = 2x' = 2$$



$$\sum H = 0 = 3 + 3 - 6x' ; \therefore x' = 1 T$$

2. โมเมนต์ในเสา

$$AE = DH = 0.5(1.5) = 0.75 T \cdot m$$

$$BF = CG = 1(1.5) = 1.5 T \cdot m$$

$$EI = HL = 1(3) = 3 T \cdot m$$

$$FJ = GK = 2(3) = 6 T \cdot m$$

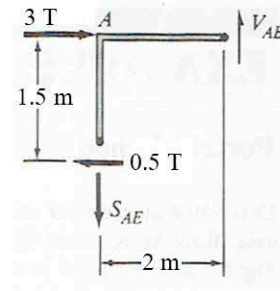
3. แรงเฉือนและโมเมนต์ในคาน , แรงตามแนวแกนในเสา

จุดต่อ A :  $\sum M_{คาน} = \sum M_{เสา}$

$\therefore M_{AB} = M_{AE} = 0.75 \text{ T}\cdot\text{m}$

$V_{AB} = M_{AB}/2 = 0.375 \text{ T}$

$\sum V = 0 = S_{AE} - V_{AB} ; \therefore S_{AE} = +0.375 \text{ T}$



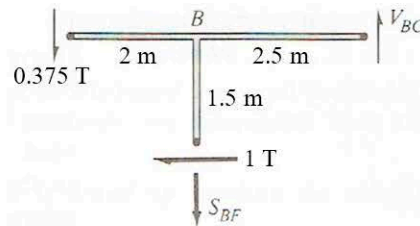
จุดต่อ B :  $\sum M_{คาน} = \sum M_{เสา}$

$0.375(2) + V_{BC}(2.5) = 1(1.5)$

$\therefore V_{BC} = (1.5 - 0.75)/2.5 = 0.3 \text{ T}$

$M_{BC} = 0.3(2.5) = 0.75 \text{ T}\cdot\text{m}$

$\sum V = 0 = 0.375 + S_{BF} - 0.3 \therefore S_{BF} = -0.300 \text{ T}$



0.075 T

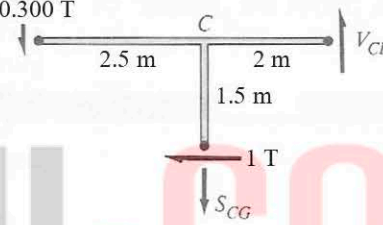
จุดต่อ C :  $\sum M_{คาน} = \sum M_{เสา}$

$0.3(2.5) + V_{CD}(2) = 1(1.5)$

$\therefore V_{CD} = (1.5 - 0.75)/2 = 0.375 \text{ T}$

$M_{CD} = 0.375(2) = 0.75 \text{ T}\cdot\text{m}$

$\sum V = 0 = 0.3 + S_{CG} - 0.375 ; \therefore S_{CG} = +0.075 \text{ T}$



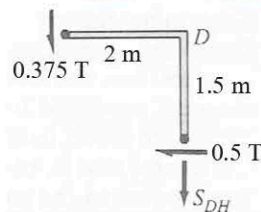
จุดต่อ D :  $\sum M_{คาน} = \sum M_{เสา}$

$0.375(2) = 0.5(1.5) ; \therefore 0.75 = 0.75 \checkmark$

$\sum V = 0 = 0.375 + S_{DH} ; \therefore S_{DH} = -0.375 \text{ T}$

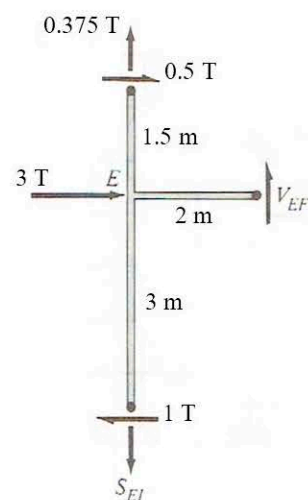
ตรวจสอบชั้นที่ 2

$\sum S = 0 = +0.375 - 0.075 + 0.075 - 0.375 \checkmark$



จุดต่อ E :  $\sum M_{คาน} = \sum M_{เสา}$

$V_{EF}(2) = 0.5(1.5) + 1(3)$



$$\therefore V_{EF} = 3.75/2 = 1.875 \text{ T}$$

$$M_{EF} = 1.875(2) = 3.75 \text{ T}\cdot\text{m}$$

$$\sum V = 0 = 0.375 + 1.875 - S_{EI} ; \therefore S_{EI} = +2.25$$

T

$$\text{จุดต่อ F : } \sum M_{คาน} = \sum M_{เสา}$$

$$1.875(2) + V_{FG}(2.5) = 1(1.5) + 2(3)$$

$$V_{FG} = (7.5 - 3.75)/2.5 = 1.5 \text{ T}$$

$$M_{FG} = 1.5(2.5) = 3.75 \text{ T}\cdot\text{m}$$

$$\sum V = 0 = 1.875 + 0.075 + S_{FJ} - 1.5$$

$$\therefore S_{FJ} = -0.45 \text{ T}$$

$$\text{จุดต่อ G : } \sum M_{คาน} = \sum M_{เสา}$$

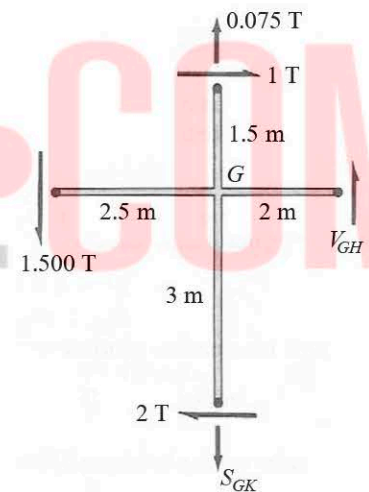
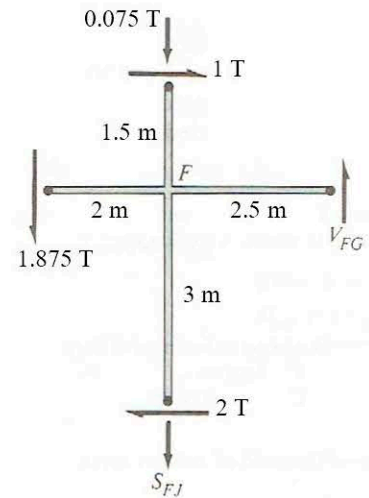
$$1.5(2.5) + V_{GH}(2) = 1(1.5) + 2(3)$$

$$V_{GH} = (7.5 - 3.75)/2 = 1.875 \text{ T}$$

$$M_{FG} = 1.875(2) = 3.75 \text{ T}\cdot\text{m}$$

$$\sum V = 0 = 1.5 - 0.075 + S_{GK} - 1.875$$

$$\therefore S_{FG} = +0.45 \text{ T}$$



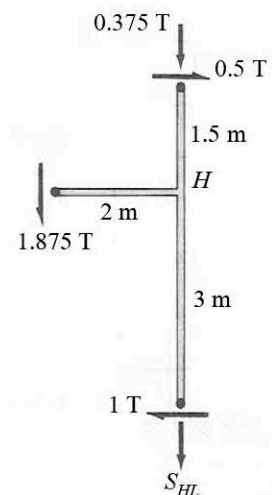
$$\text{จุดต่อ H : } \sum M_{คาน} = \sum M_{เสา}$$

$$1.875(2) = 0.5(1.5) + 1(3) ; \therefore 3.75 = 3.75 \checkmark$$

$$\sum V = 0 = 1.875 + 0.375 + S_{HL} ; \therefore S_{HL} = -2.25 \text{ T}$$

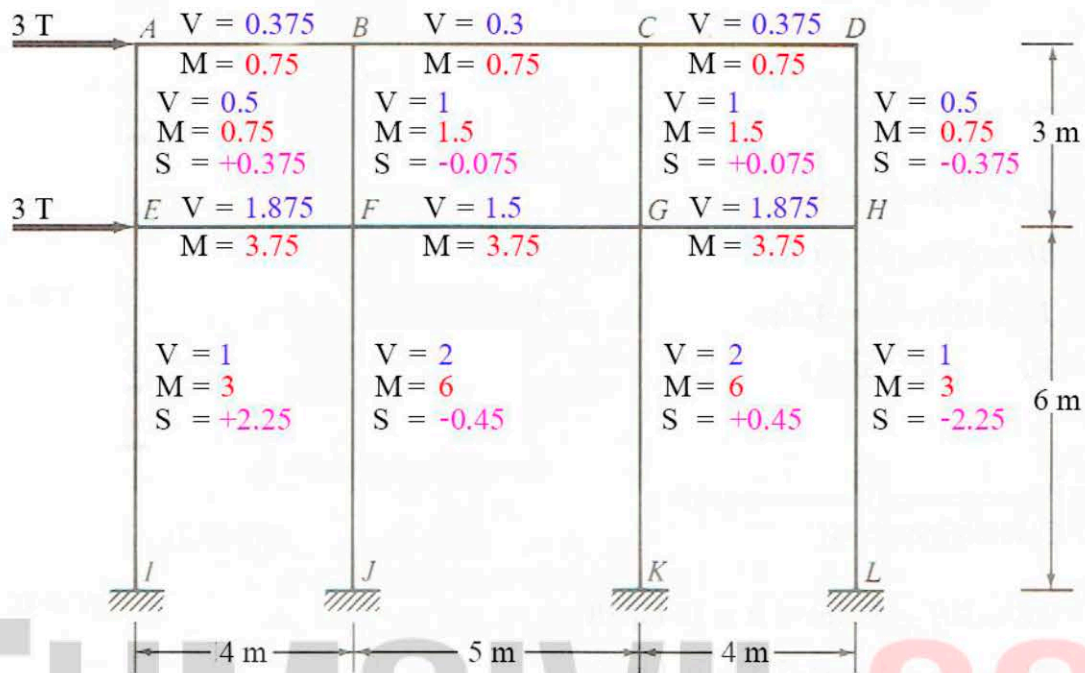
ตรวจสอบชั้นที่ 1

$$\sum S = 0 = +2.25 - 0.45 + 0.45 - 2.25 \quad \checkmark$$





สรุปค่าแรงภายในของแต่ละตำแหน่ง (V, S หน่วย T, M หน่วย T·m)



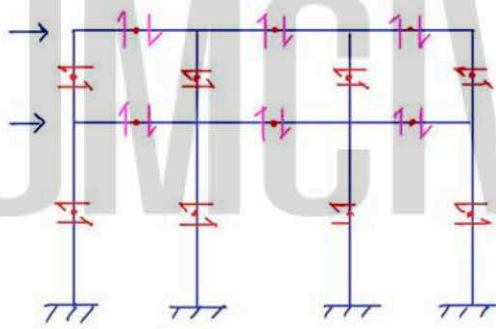
TUMCIVIL.COM

### เทคนิควิธีลัด

ขั้นตอนการคำนวณของวิธีโครงสร้างนั้น จะคล้ายกับการคำนวณหาแรงภายใน โครงข้อหมุน คือพิจารณาทีละจุดต่อ ซึ่งในทางปฏิบัติแล้วจะใช้เวลาพอสมควรในการทำ และอาจเกิดข้อผิดพลาดได้ง่ายเนื่องจากต้องเขียนหลายหน้า ผู้เขียนจึงขอแนะนำเสนอเทคนิค วิธีลัดที่ผู้เขียนได้พัฒนาขึ้น

ข้อสังเกตเบื้องต้นคือ โดยทั่วไปเราจะคำนวณแรงต้านข้างกระทำที่ด้านซ้ายของ โครงข้อแข็ง ทิศทางจากซ้ายไปขวา ดังนั้น

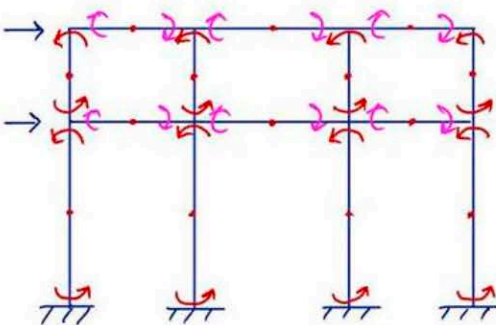
1)  $V_{เสา}$  จะมีค่าบวก และ  $V_{คาน}$  จะมีค่าลบ ซึ่งสามารถเขียนทิศทางของ  $V$  เมื่อ พิจารณาตัดช่วงเสาและคานตรงจุดตัดกลับ (สมมติว่าเกิดขึ้นที่ระยะกึ่งกลางของแต่ละช่วง) ได้ดังรูปที่ 3



รูปที่ 3 ทิศทางของ  $V$  ในเสาและคาน

ทิศทางของ  $V$  จากรูปนี้ จะทำให้สามารถหาขนาดและทิศทางของแรงตาม แนวแกนในเสา ( $S$ ) ได้อย่างรวดเร็ว

2)  $M$  เสาและคาน มีทั้งค่าบวกและลบ (สมมติฐานจุดตัดกลับเกิดขึ้นที่กึ่งกลาง ช่วง ทำให้ขนาดของโมเมนต์บวกและลบเท่ากัน) โดยมีทิศทางของโมเมนต์ตัดดังรูปที่ 4



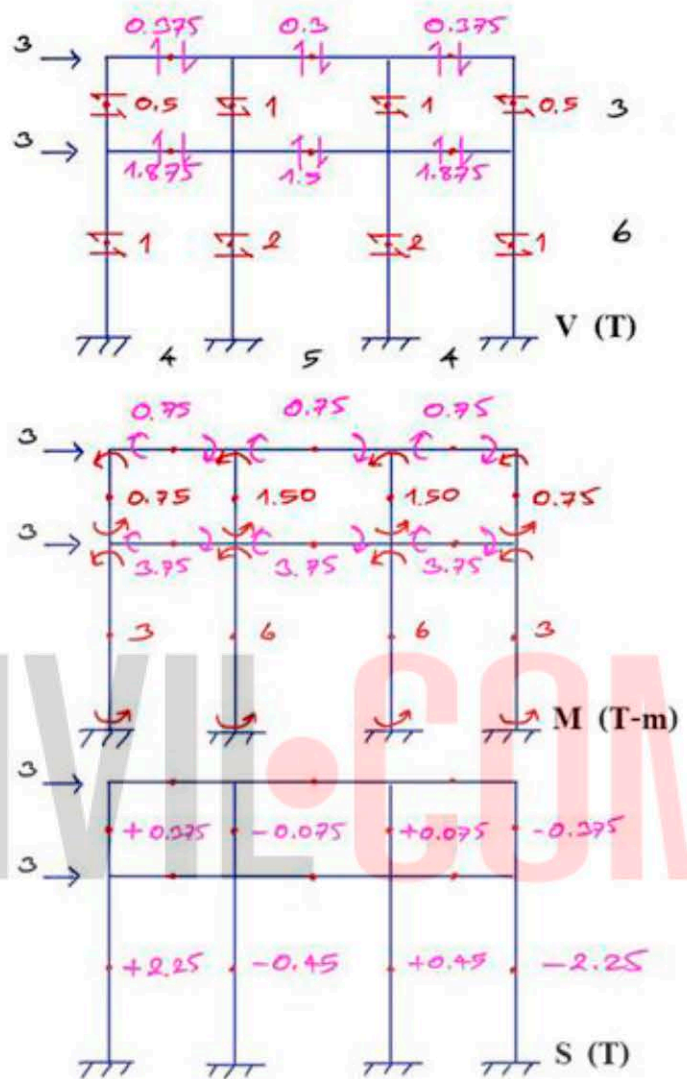
รูปที่ 4 ทิศทางของ  $M$  ในเสาและคาน

ทิศทางของ  $M$  จากรูปนี้ จะทำให้สามารถหาค่าของ  $M_{คาน}$  ได้เมื่อทราบค่า  $M_{เสา}$  หรือกลับกัน หาค่าของ  $M_{เสา}$  ได้เมื่อทราบค่า  $M_{คาน}$  ได้อย่างรวดเร็ว

จาก 2 ข้อสังเกตข้างต้น สามารถคำนวณโดยใช้เทคนิควิธีลัด โดยมีขั้นตอนดังนี้

- 1) เขียนแผนภาพของโครง 3 รูป คือ  $V$ ,  $M$  และ  $S$  (เฉพาะเสา) โดยกำหนดทิศทางของแรงเฉือนและโมเมนต์ดัด ตามแนวทางดังรูปที่ 3 และ 4 ตามลำดับ
- 2) หา  $V_{เสา}$  ได้จากสมมติฐาน  $V$  ด้านใน มีค่าเป็นสองเท่าของ  $V$  ด้านนอก แล้วใช้  $\sum H = 0$  เริ่มจากชั้นบนสุดถึงชั้นล่าง แล้วเขียนลงในแผนภาพ  $V$
- 3) หา  $M_{เสา}$  ได้จาก  $V_{เสา} \times (\text{ความสูงเสา}/2)$  แล้วเขียนลงในแผนภาพ  $M$
- 4) หา  $M_{คาน}$  ได้จากการพิจารณา  $\sum M = 0$  ในแต่ละจุดต่อ กับค่า  $M_{เสา}$  เริ่มจากชั้นบนสุดถึงชั้นล่าง แล้วเขียนลงในแผนภาพ  $M$
- 5) หา  $V_{คาน}$  ได้จาก  $M_{คาน}/(\text{ความยาวคาน}/2)$  แล้วเขียนลงในแผนภาพ  $V$
- 6) หา  $S_{เสา}$  ได้จากการพิจารณา  $V_{คาน}$  แล้วใช้  $\sum V = 0$  ในแต่ละจุดต่อ เริ่มจากชั้นบนสุดถึงชั้นล่าง ดูทิศทางของ  $S$  ที่คำนวณได้จาก ถ้าพุ่งออกจากจุดต่อ มีค่า  $+$ , ถ้าพุ่งเข้าจุดต่อ มีค่า  $-$  แล้วเขียนลงในแผนภาพ  $S$

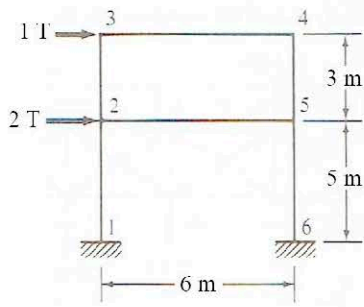
ตัวอย่างที่ 2 วิเคราะห์โครงสร้างข้อแข็งจากตัวอย่างที่ 1 วิธีโครงสร้าง โดยใช้เทคนิควิธิลัด  
วิธีทำ



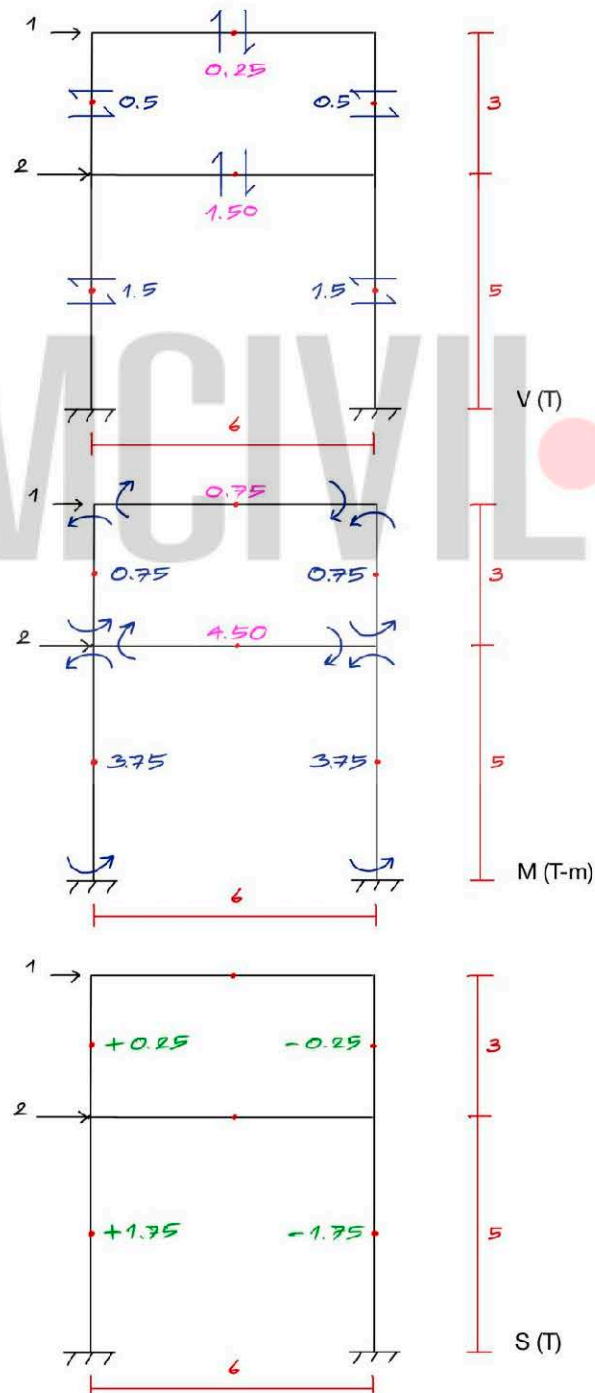
### อธิบาย

- 1) เขียนแผนภาพของโครงสร้าง 3 รูป คือ V, M และ S (เฉพาะเสา)
- 2) หา  $V_{เสา}$  ได้จากสมมติฐาน  $V$  ด้านในมีค่าเป็นสองเท่าของ  $V$  ด้านนอก แล้วใช้  $\sum H = 0$  เริ่มจากชั้นบนสุดถึงชั้นล่าง แล้วเขียนลงในแผนภาพ V
- 3) หา  $M_{เสา}$  ได้จาก  $V_{เสา} \times (\text{ความสูงเสา}/2)$  แล้วเขียนลงในแผนภาพ M
- 4) หา  $M_{คาน}$  ได้จากการพิจารณา  $\sum M = 0$  ในแต่ละจุดต่อ กับค่า  $M_{เสา}$  เริ่มจากชั้นบนสุดถึงชั้นล่าง แล้วเขียนลงในแผนภาพ M
- 5) หา  $V_{คาน}$  ได้จาก  $M_{คาน}/(\text{ความยาวคาน}/2)$  แล้วเขียนลงในแผนภาพ V
- 6) หา  $S_{เสา}$  ได้จากการพิจารณา  $V_{คาน}$  แล้วใช้  $\sum V = 0$  ในแต่ละจุดต่อ เริ่มจากชั้นบนสุดถึงชั้นล่าง ดูทิศทางของ S ที่คำนวณได้จาก ถ้าพุ่งออกจากจุดต่อ มีค่า + , ถ้าพุ่งเข้าจุดต่อ มีค่า - แล้วเขียนลงในแผนภาพ S

ตัวอย่างที่ 3 วิเคราะห์โครงสร้างข้อแข็งรับแรงด้านข้างดังรูป โดยวิธีโครงสร้างประตู่



วิธีทำ





## บรรณานุกรม

### ภาษาไทย

นิพนธ์ เขียวศิริพิพัฒน์. ทฤษฎีโครงสร้าง. : ม.ป.ท. , ม.ป.ป.

บัญชา สุปรินายก. การวิเคราะห์โครงสร้าง. กรุงเทพฯ: ประชาชน, 2535.

วินิต ช่อวิเชียร. ทฤษฎีโครงสร้าง. พิมพ์ครั้งที่ 3. กรุงเทพฯ: ป.สัมพันธ์พาณิชย์, 2526.

สรกานต์ ศรีตองอ่อน. การวิเคราะห์โครงสร้าง. พิมพ์ครั้งที่ 4. กรุงเทพฯ: เอ็มแอนด์เอ็ม เลเซอร์พริ้นต์, 2563.

\_\_\_\_\_. คู่มือทฤษฎีโครงสร้าง. กรุงเทพฯ: เอ็มแอนด์เอ็ม เลเซอร์พริ้นต์, 2559.

\_\_\_\_\_. คู่มือแก้ปัญหาโจทย์ ประกอบวิชา การวิเคราะห์โครงสร้าง. พิมพ์ครั้งที่ 2. กรุงเทพฯ: เอ็มแอนด์เอ็ม เลเซอร์พริ้นต์, 2563.

### ภาษาอังกฤษ

Everard, Noel J. and Tanner III, John L. **Reinforced Concrete Design.**

2<sup>nd</sup> Edition. Singapore: McGraw-Hill, Inc, 1989.

Leet, Kenneth M., Uang, Chia-Ming and Gilbert, Anne M. **Fundamentals of Structural Analysis.** Singapore: McGraw-Hill, Inc, 2008.

Hibbeler, Russell C. **Structural Analysis.** 9<sup>th</sup> Edition. London: Pearson Education, Inc., 2015.

Tartaglione, Louis C. **Solutions Manual to Accompany Structural Analysis.** Singapore: McGraw-Hill, Inc, 1991.

\_\_\_\_\_. **Structural Analysis.** Singapore: McGraw-Hill, Inc, 1991.

เว็บไซต์

[www.scribd.com/document/363410427/Structural-Analysis-2-Influence-Line-Diagrams-ILD-for-Statically-Indeterminate-Beams-pdf](http://www.scribd.com/document/363410427/Structural-Analysis-2-Influence-Line-Diagrams-ILD-for-Statically-Indeterminate-Beams-pdf).

[www.sorakarn-kmutnb.com](http://www.sorakarn-kmutnb.com).

TUMCIVIL.COM

ภาคผนวก

TUMCIVIL.COM

ภาคผนวกมีเนื้อหา 7 เรื่องคือ

- สัญลักษณ์กรีก
- ตาราง แผนภาพโมเมนต์ดัด และ สมการระยะแอนสูงสุด
- ตาราง สมบัติของพื้นที่
- วิธีเสาอุ้มน้ำกับแผ่นพื้นไร้คาน
- เฉลยวิธีทำ Theory of Structures 258 ข้อ
- เฉลยวิธีทำ Structural Analysis 251 ข้อ
- เฉลยวิธีทำ Structural Analysis 6 ข้อ

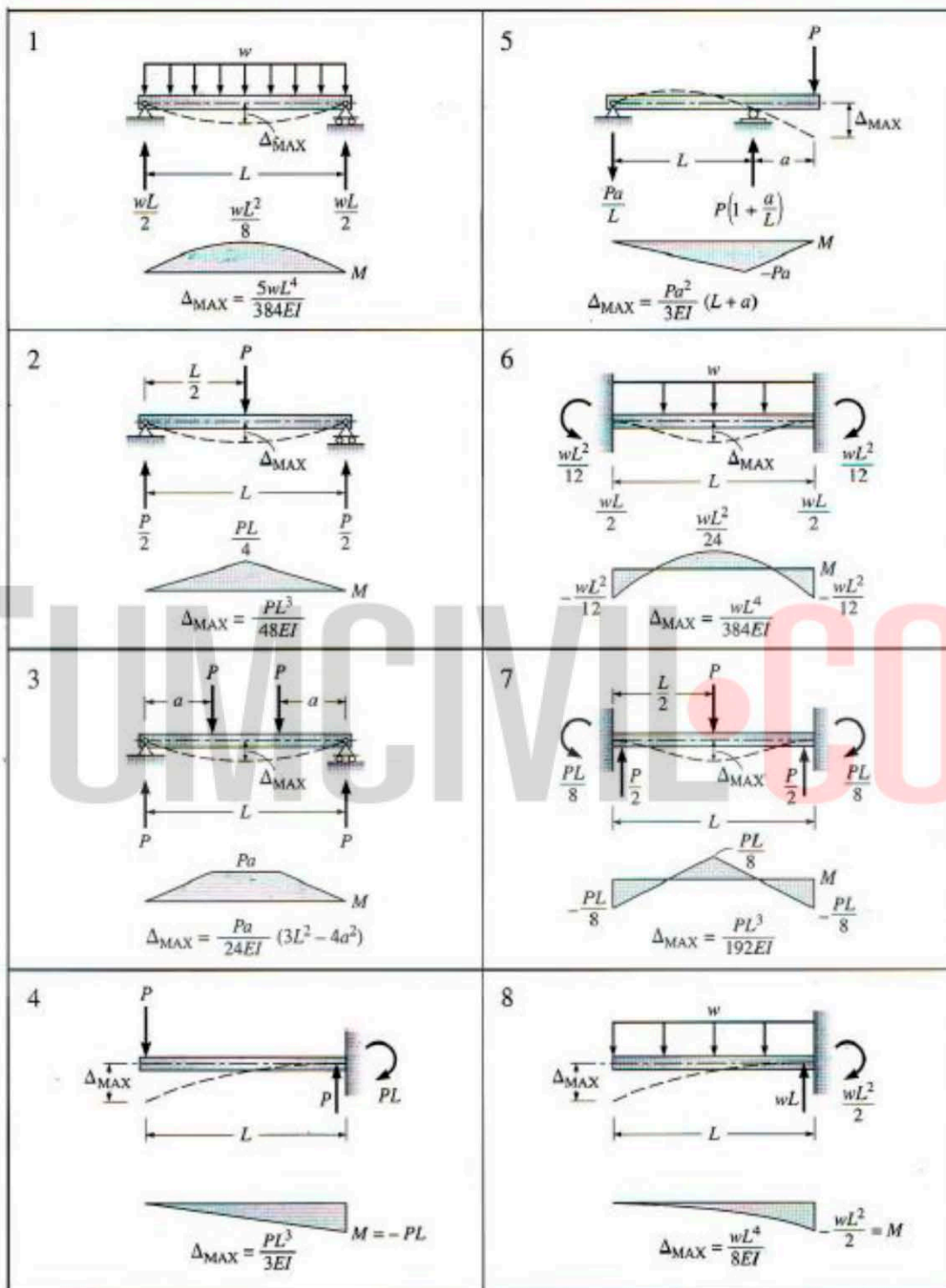
## สัญลักษณ์กรีก

สัญลักษณ์	คำสะกด	สัญลักษณ์	คำสะกด	สัญลักษณ์	คำสะกด
A α	<i>Alpha</i>	I ι	<i>Iota</i>	P ρ	<i>Rho</i>
B β	<i>Beta</i>	K κ	<i>Kappa</i>	Σ σ	<i>Sigma</i>
Γ γ	<i>Gamma</i>	Λ λ	<i>Lambda</i>	T τ	<i>Tau</i>
Δ δ	<i>Delta</i>	M μ	<i>Mu</i>	Υ υ	<i>Upsilon</i>
E ε	<i>Epsilon</i>	N ν	<i>Nu</i>	Φ φ	<i>Phi</i>
Z ζ	<i>Zeta</i>	Ξ ξ	<i>Xi</i>	X χ	<i>Chi</i>
H η	<i>Eta</i>	O ο	<i>Omicron</i>	Ψ ψ	<i>Psi</i>
Θ θ	<i>Theta</i>	Π π	<i>Pi</i>	Ω ω	<i>Omega</i>

TUMCIVIL.COM



## ตาราง แผนภาพโมเมนต์ตัด และ สมการระยะแอนสูงสุด

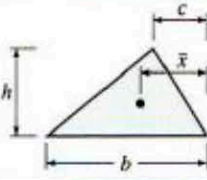
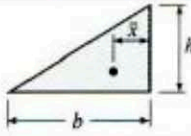
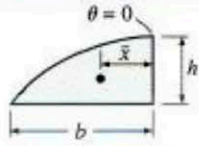
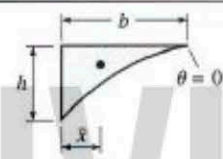
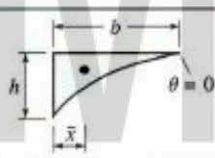
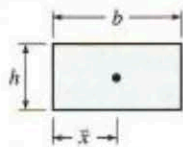
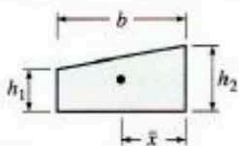


อ้างอิง :

Fundamentals of Structural Analysis

Kenneth M. Leet, Chia-Ming Uang and Anne M. Gilbert

## ตาราง สมบัติของพื้นที่

Shape	Figure	Area	Centroidal Distance $\bar{x}$
(a) Triangle		$\frac{bh}{2}$	$\frac{b+c}{3}$
(b) Right triangle		$\frac{bh}{2}$	$\frac{b}{3}$
(c) Parabola		$\frac{2bh}{3}$	$\frac{3b}{8}$
(d) Parabola		$\frac{bh}{3}$	$\frac{b}{4}$
(e) Third-degree parabola		$\frac{bh}{4}$	$0.2b$
(f) Rectangle		$bh$	$\frac{b}{2}$
(g) Trapezoid		$\frac{b}{2}(h_1 + h_2)$	$\frac{b(2h_1 + h_2)}{3(h_1 + h_2)}$

อ้างอิง :

Fundamentals of Structural Analysis

Kenneth M. Leet, Chia-Ming Uang and Anne M. Gilbert

บันทึก

TUMCIVIL.COM

## วิธีเสาอุปมานกับแผ่นพื้นไร้คาน

### ความนำ

วิธีเสาอุปมาน (column analogy method) เป็นหนึ่งในการวิเคราะห์โครงสร้างแบบอินดีเทอร์มิเนต ที่มีจำนวนตัวไม่ทราบค่าไม่เกินสาม ดังนั้น จึงเหมาะมากในการคำนวณตัวไม่ทราบค่าของชิ้นส่วนที่มีที่รองรับแบบยึดแน่นทั้งสองด้าน เพราะมีความรวดเร็วเป็นอย่างมากในการวิเคราะห์ อีกทั้งสามารถใช้ได้เป็นอย่างดีกับชิ้นส่วนที่มีขนาดหน้าตัดไม่เท่ากันในแต่ละช่วง (non-prismatic member)

การวิเคราะห์แผ่นพื้นไร้คานวิธีหนึ่งที่นิยมกันคือ วิธีโครงข้อแข็งเทียบเท่า (equivalent frame method) ซึ่งจะพิจารณาแผ่นพื้นเสมือนว่าเป็นคานที่มีขนาดหน้าตัดไม่เท่ากันในแต่ละช่วง แล้วนำไปวิเคราะห์แบบคานด้วยวิธีโมเมนต์กระจาย (moment distribution method)

ดังนั้น จึงมีความจำเป็นในการหาค่า โมเมนต์ที่ปลายชิ้นส่วนซึ่งมีที่รองรับแบบยึดแน่น หรือที่เรียกกันว่า โมเมนต์ที่ปลายยึดแน่น (Fixed End Moment, FEM) , สติฟเนสของแผ่นพื้นไร้คาน และเสา , ตัวประกอบนำข้าม (Carry Over Factor, COF) ซึ่งเหมาะสมมากที่จะหาด้วยวิธีเสาอุปมาน

### สัญลักษณ์และความหมาย

- $I_s$  = โมเมนต์ความเฉื่อยของแผ่นพื้น-คาน (slab - beam)
- $L_1$  = ความยาวช่วงเสา โดยวัดจากศูนย์กลางเสาในทิศทางที่จะหาค่าสติฟเนส
- $L_2$  = ช่วงกว้างของแผ่นพื้นในทิศทางด้านลึก
- $L_n$  = ความยาวของช่วงพื้นวัดจากขอบเสาถึงขอบเสา
- $L_{1d}$  = ขนาดของแป้นหัวเสา ด้านขนาน  $L_1$
- $c_1$  = ด้านกว้างของเสาในทิศทางด้านกว้าง
- $c_2$  = ด้านกว้างของเสาในทิศทางด้านลึก
- $K_s$  = สติฟเนสของแผ่นพื้น-คาน
- $K_c$  = สติฟเนสของเสา
- $K_{sL}$  = สติฟเนสของพื้น-คานด้านซ้ายของช่วงพื้น
- $K_{sR}$  = สติฟเนสของพื้น-คานด้านขวาของช่วงพื้น
- $E_{cs}$  = โมดูลัสยืดหยุ่นของคอนกรีตแผ่นพื้นไร้คาน

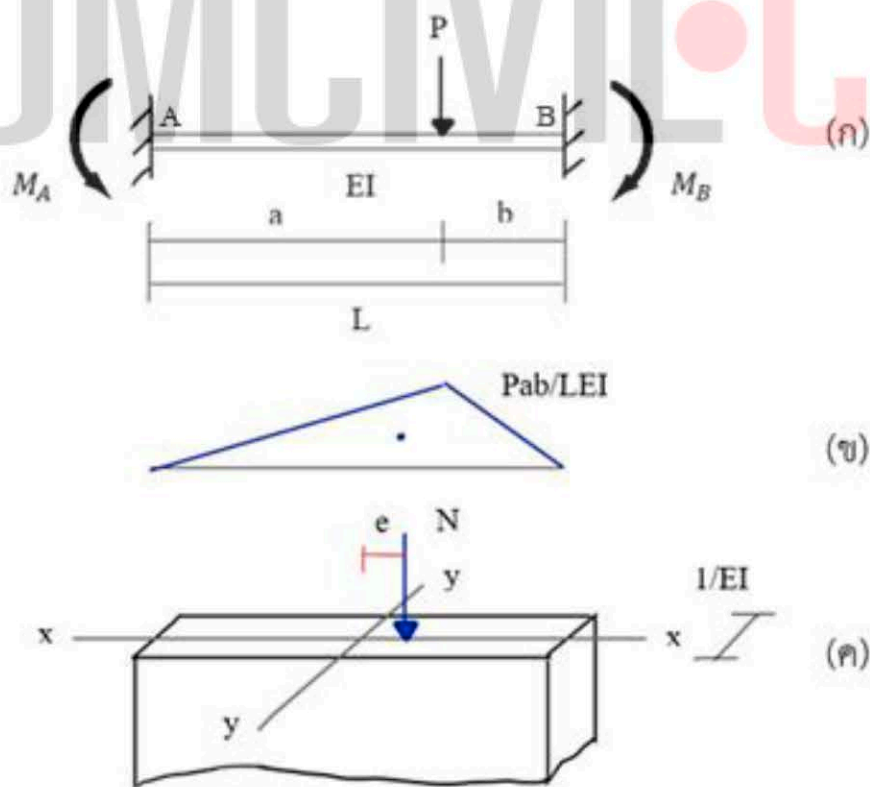
- $A_{ac}$  = พื้นที่ของเสาอุปมาน
- $I_{ac}$  = โมเมนต์ความเฉื่อยของเสาอุปมานรอบแกนสะเทิน
- $M$  = โมเมนต์เนื่องจากแรง 1 หน่วยกระทำที่ขอบของเสาอุปมาน คูณด้วยระยะทาง

จาก ขอบเสาอุปมานถึงศูนย์กลางเสาอุปมาน  $\left(\frac{L_1}{2}\right)$

- $c$  = ระยะทางจากแกนสะเทินถึงขอบเสาอุปมาน  $\left(\frac{L_1}{2}\right)$
- FEM** = โมเมนต์ที่ปลายแบบยึดแน่น (Fixed End Moment)
- $W_u$  = น้ำหนักบรรทุกต่อหน่วยความยาวที่กระทำที่ช่วงพื้น
- $W_d$  = น้ำหนักของแป้นหัวเสาต่อหน่วยความยาว
- $P_{ac}$  = พื้นที่ของแผนภาพโมเมนต์ตัด ทหารด้วย **EI**

**ทฤษฎี**

คาน AB มีปลายยึดแน่นที่จุด A และจุด B รับแรงกระทำ P ใดๆ ดังแสดงในรูปที่ 1 สิ่งที่ต้องการหาค่าคือ โมเมนต์ตัดที่ปลายคาน ได้แก่  $M_A$  และ  $M_B$



**รูปที่ 1** ทฤษฎีของวิธีเสาอุปมาน



ทฤษฎีของวิธีเสาอุปมานคือ โมเมนต์ดัดที่ปลายคานจริง มีค่าเท่ากับหน่วยแรงที่ปลายเสาอุปมานซึ่งรับแรงที่เกิดจากโมเมนต์ของน้ำหนักบรรทุกในคานจริงหารด้วย EI

จากรูปที่ 1 (ก) น้ำหนักบรรทุก P ทำให้เกิดแผนภาพโมเมนต์เป็นรูปสามเหลี่ยมที่มีค่าสูงสุดคือ  $Pab/L$  นำค่านี้นำหารด้วย EI (จากรูป EI คงที่) จะเป็นแรงที่กระทำกับเสาอุปมาน ดังรูปที่ 1 (ข)

เสาอุปมาน คือเสาที่สมมติขึ้นมา โดยมีด้านแคบของหน้าตัดมีค่าเท่ากับ  $1/EI$  และด้านกว้างเท่ากับ L คือความยาวคาน ดังรูปที่ 1 (ค)

หน่วยแรงที่เกิดขึ้นในเสาอุปมานเป็นไปได้ 2 ประเภทคือ

1. หน่วยแรงอัดเนื่องจากแรงลัพธ์ N ของ  $M/EI$  ที่กระทำกับเสาอุปมาน ซึ่งเท่ากับ  $N/A$
2. หน่วยแรงดัดหากจุดเซนทรอยด์ของแรงลัพธ์ N ไม่ตรงกับจุดเซนทรอยด์ของเสา ซึ่งเท่ากับ  $M \cdot c/I$  เท่ากับ  $(N \cdot e)(L/2)/I_y$

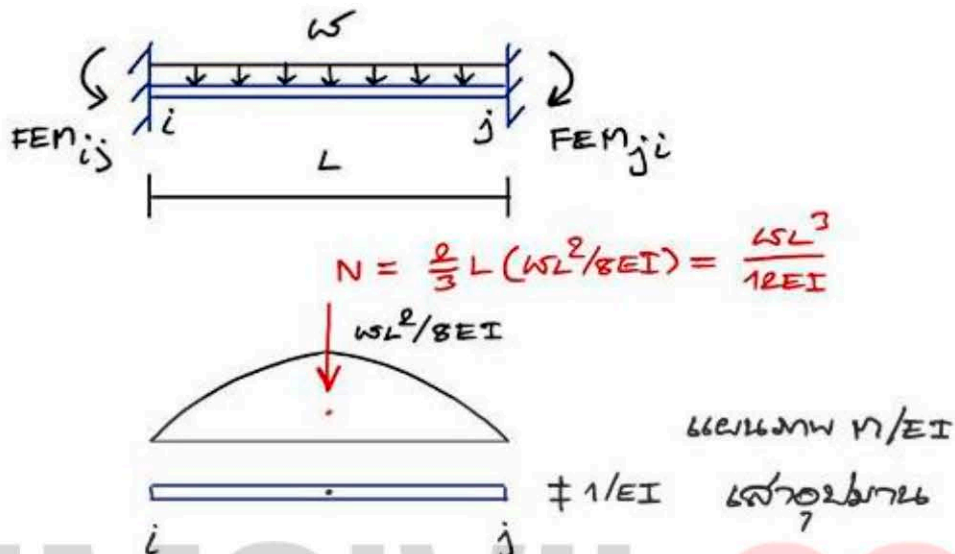
จากรูปที่ 1 เนื่องจากจุดเซนทรอยด์ของแรงลัพธ์ N ไม่ตรงกับจุดเซนทรอยด์ของเสา จึงทำให้หน่วยแรงในเสาอุปมานมีทั้งหน่วยแรงอัดและหน่วยแรงดัด ซึ่งปลายด้านซ้ายของเสาจะเกิดหน่วยแรงดัดที่เป็นแรงดึง และปลายด้านขวาเกิดหน่วยแรงดัดที่เป็นแรงอัด

ดังนั้น ถ้ากำหนดให้แรงอัดเป็น + และแรงดึงเป็น - จะได้ว่า

$$M_A = +\frac{N}{A} - \frac{(N \cdot e)(L/2)}{I_y}$$
$$M_B = +\frac{N}{A} + \frac{(N \cdot e)(L/2)}{I_y}$$

### ตัวอย่างการหาโมเมนต์ที่ปลายแบบยึดแน่น

ก) กรณีรับน้ำหนักแผ่กระจายสม่ำเสมอเต็มช่วงคาน



$$A \text{ เสออุปมาน} = L \left( \frac{1}{EI} \right) = \frac{L}{EI}$$

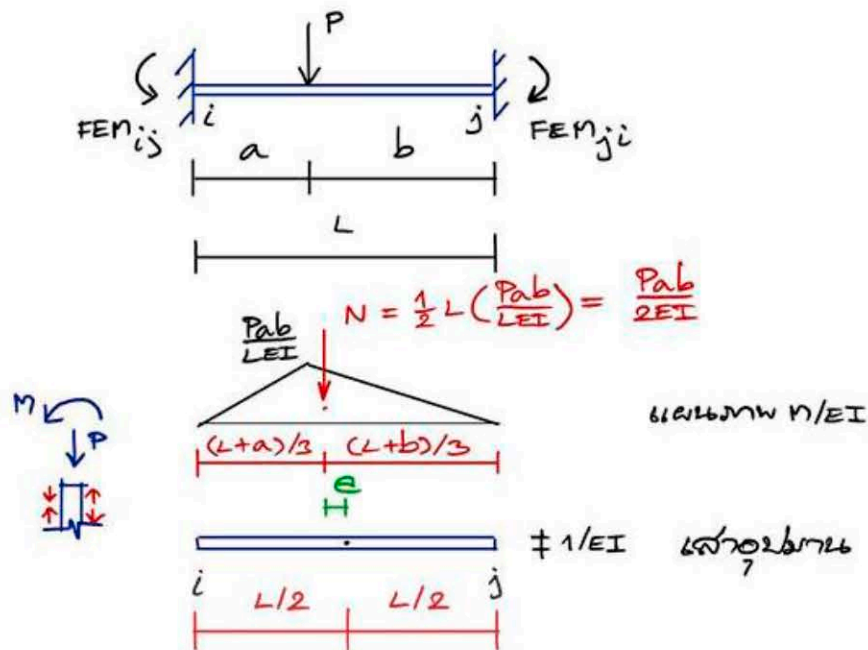
$$\therefore b_i = b_j = \frac{N}{A} = \frac{wL^3}{12EI} \cdot \frac{EI}{L} = \frac{wL^2}{12}$$

$$FEM_{ij} = FEM_{ji} = \frac{wL^2}{12}$$

### อธิบาย

- เซนทรอยด์ของแรงลัพธ์อยู่ตำแหน่งเดียวกับเซนทรอยด์ของเสออุปมาน ดังนั้น หน่วยแรงที่เกิดขึ้น จะมีเฉพาะหน่วยแรงอัด ไม่มีหน่วยแรงดัด
- หน่วยแรงอัดที่ปลายเสออุปมานทั้งสองด้านมีค่าเท่ากัน นั่นคือ FEM ทั้งสองด้านในคานจริงมีค่ากัน

ข) กรณีรับน้ำหนักแบบจุด



$$\therefore \delta_i = \frac{N}{A} + \frac{M_c}{I}, \quad \delta_j = \frac{N}{A} - \frac{M_c}{I} \quad (\text{ให้ } \delta_i = +)$$

$$A = L \left( \frac{1}{EI} \right) = L/EI, \quad I = \left( \frac{1}{EI} \right) \left( \frac{L^3}{12} \right) = \frac{L^3}{12EI}, \quad c = \frac{L}{2}$$

$$e = \frac{L}{2} - \frac{L+a}{3} = \frac{1}{6} [3L - 2L - 2a] = \frac{(L-2a)}{6}$$

$$\frac{N}{A} = \frac{Pab}{2EI} \cdot \frac{EI}{L} = \frac{Pab}{2L}, \quad M_c/I = \frac{Pab(L-2a)}{12EI} \cdot \frac{12EI}{L} = \frac{Pab(L-2a)}{L^2}$$

$$c/I = \frac{L}{2} \cdot \frac{12EI}{L^3} = \frac{6EI}{L^2}$$

$$M_c/I = \frac{Pab(L-2a)}{12EI} \cdot \frac{6EI}{L^2} = \frac{Pab(L-2a)}{2L^2}$$

$$\delta_i = \frac{Pab}{2L} + \frac{Pab(L-2a)}{2L^2} = \frac{Pab}{2L^2} (L+L-2a) = \frac{2Pab}{2L^2} (L-a) = \frac{Pab^2}{L^2}$$

$$\delta_j = \frac{Pab}{2L} - \frac{Pab(L-2a)}{2L^2} = \frac{Pab}{2L^2} (L-L+2a) = \frac{2Pab}{2L^2} (a) = \frac{Pa^2b}{L^2}$$

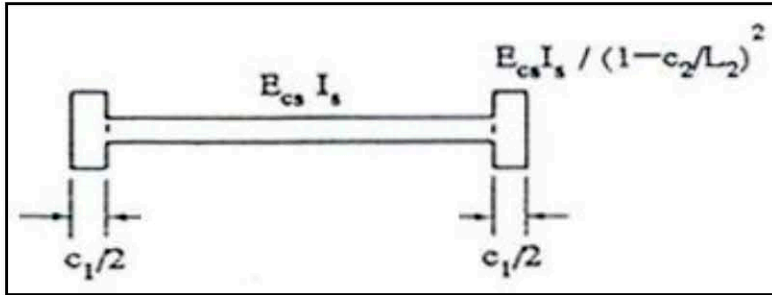
$$FEM_{ij} = \frac{Pab^2}{L^2}, \quad FEM_{ji} = \frac{Pa^2b}{L^2}$$

### อธิบาย

- เซนทรอยด์ของแรงลัพธ์ไม่อยู่ในตำแหน่งเดียวกับเซนทรอยด์ของเสาอุปมาน ซึ่งทำให้หน่วยแรงที่เกิดขึ้น มีทั้งหน่วยแรงอัดและหน่วยแรงตึง
- FEM ที่ปลายคานทั้งสองด้านจึงมีค่าไม่เท่ากัน

## แผ่นพื้นไร้คานแบบไม่มีแป้นหัวเสา

ตามสมมติฐานการวิเคราะห์โดยวิธีโครงข้อแข็งเทียบเท่า จะพิจารณาแผ่นพื้นไร้คานว่าเป็นคานรูปแบบหนึ่งเรียกว่า แผ่นพื้น-คาน (slab-beam) ซึ่งมีขนาดหน้าตัดไม่เท่ากันในแต่ละช่วง สำหรับกรณีของแผ่นพื้นไร้คานแบบไม่มีแป้นหัวเสา แผนภาพสถิติฟเนสของแผ่นพื้น-คาน แสดงได้ดังรูปที่ 2

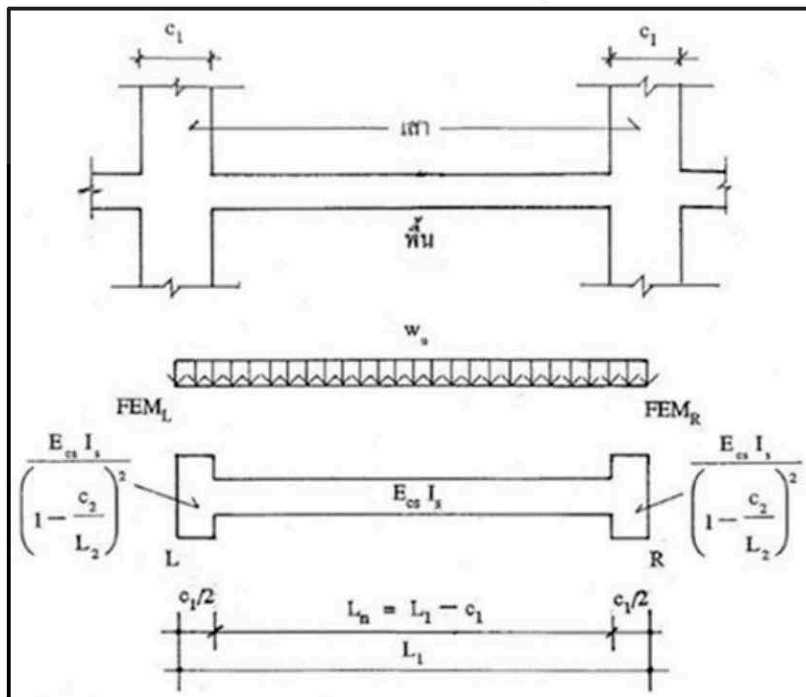


รูปที่ 2 แผนภาพสถิติฟเนสของแผ่นพื้น-คานแบบไม่มีแป้นหัวเสา

ทำให้หาค่าต่างๆ ที่จำเป็นในการวิเคราะห์ได้ดังนี้

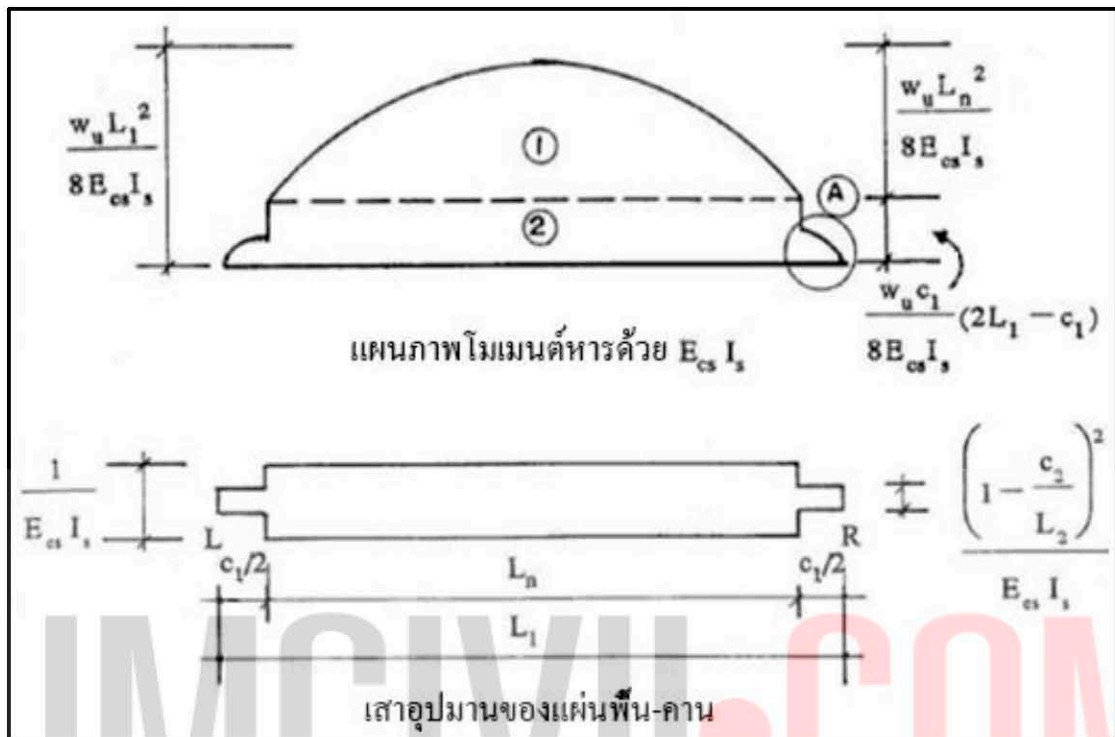
ก) โมเมนต์ที่ปลายแบบยึดแน่น

ในกรณีที่หน้าตัดเสาทั้งสองข้างของช่วงแผ่นพื้น-คานที่พิจารณามีขนาดเท่ากัน จะทำให้โครงสร้างมีความสมมาตร แผนภาพวัตถุอิสระเพื่อหาค่าโมเมนต์ที่ปลายแบบยึดแน่นโดย เนื่องจากน้ำหนักบรรทุกทุกแบบแผ่กระจายสม่ำเสมอเต็มช่วงคาน แสดงดังรูปที่ 3



รูปที่ 3 แผนภาพวัตถุอิสระของแผ่นพื้น-คานแบบไม่มีแป้นหัวเสารับน้ำหนักแผ่เต็มช่วงคาน

ดังนั้น แผนภาพโมเมนต์หารด้วย  $EI$  ที่กระทำบนเสาอุปมานของแผ่นพื้น-คาน แสดงดังรูป  
ที่ 4



รูปที่ 4 การหาโมเมนต์ที่ปลายยึดแน่น โดยวิธีเสาอุปมาน

แรงลัพท์ของแผนภาพ  $M/EI$  นี้คือแรงที่กระทำบนเสาอุปมานซึ่งกรณีนี้มีความสมมาตร คือมีจุดศูนย์ถ่วงของแรงลัพท์กระทำที่กึ่งกลาง และเสาอุปมานก็มีความสมมาตรคือมีจุดศูนย์ถ่วงกระทำที่กึ่งกลางเช่นกัน ดังนั้น หน่วยแรงที่เกิดขึ้นในเสาอุปมาน (ซึ่งหมายถึง FEM ของแผ่นพื้น-คาน) จึงเกิดจากแรงตามแนวแกนเท่านั้น นั่นคือ

$$FEM_L = FEM_R = \frac{P_{ac}}{A_{ac}}$$

โดย

$$P_{ac} = A_{\textcircled{1}} + A_{\textcircled{2}} + 2A_{\textcircled{3}}$$

ซึ่ง

$$E_{cs} I_s A_{\textcircled{1}} = \frac{2}{3} L_n \frac{W L_n^2}{8} = \frac{W L_n^3}{12}$$



$$E_{cs}I_s A_{\text{②}} = \frac{WL_n c_1}{8} (2L_1 - c_1)$$

กำหนดให้  $kc = \left(1 - \frac{c_2}{L_2}\right)^2$

$$\begin{aligned} (E_{cs}I_s)2A_{\text{③}} &= 2kc \int_0^{c_1/2} \left(\frac{WL_1 x}{2} - \frac{Wx^2}{2}\right) dx = 2kc \left[\frac{WL_1 x^2}{4} - \frac{Wx^3}{6}\right]_0^{c_1/2} \\ &= 2kc \left[\frac{WL_1 c_1^2}{16} - \frac{Wc_1^3}{48}\right] = 2kc \frac{Wc_1^2}{48} [3L_1 - c_1] \\ &= \frac{Wkcc_1^2}{24} [3L_1 - c_1] \end{aligned}$$

ดังนั้น

$$\begin{aligned} (E_{cs}I_s)P_{ac} &= \frac{WL_n^3}{12} + \frac{WL_n c_1}{8} (2L_1 - c_1) + \frac{Wkcc_1^2}{24} [3L_1 - c_1] \\ &= \frac{W}{24} [2L_n^3 + 3L_n c_1 (2L_1 - c_1) + kc \cdot c_1^2 (3L_1 - c_1)] \end{aligned}$$

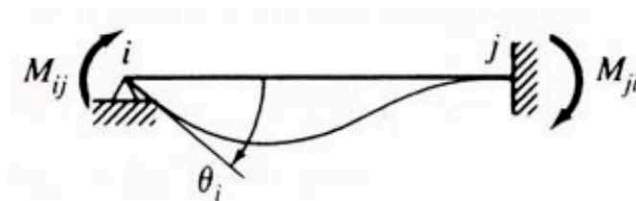
$$\begin{aligned} (E_{cs}I_s)A_{ac} &= \text{พื้นที่ของเสาอุโมงค์ของพื้น-คาน} \\ &= L_n + c_1 kc \end{aligned}$$

∴ จะได้ว่า

$$FEM_L = FEM_R = \frac{W[2L_n^3 + 3L_n c_1 (2L_1 - c_1) + kc \cdot c_1^2 (3L_1 - c_1)]}{24(L_n + c_1 kc)} \quad (1)$$

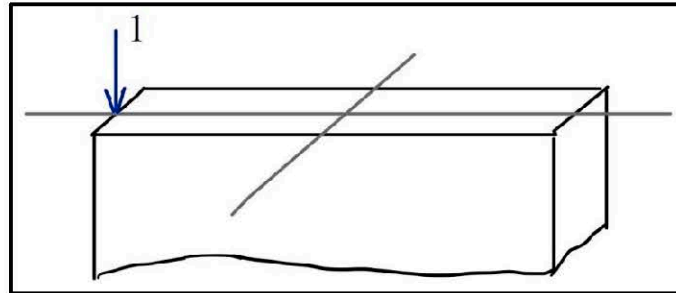
ข) สติฟเนสของแผ่นพื้น-คาน ( $K_s$ )

ความหมายของสติฟเนสเนื่องจากโมเมนต์ดัดในชิ้นส่วน คือ โมเมนต์ดัดที่ปลายชิ้นส่วนที่ทำให้เกิดมุมลาด ณ ปลายด้านนั้นมีค่า 1 เรเดียน และอีกปลายอีกด้านหนึ่งมุมลาดเป็นศูนย์ นั่นคือเป็นลักษณะของคานที่มีที่รองรับเป็นแบบยึดหมุนด้านหนึ่ง และอีกด้านหนึ่งเป็นแบบยึดแน่น ดังรูปที่ 5



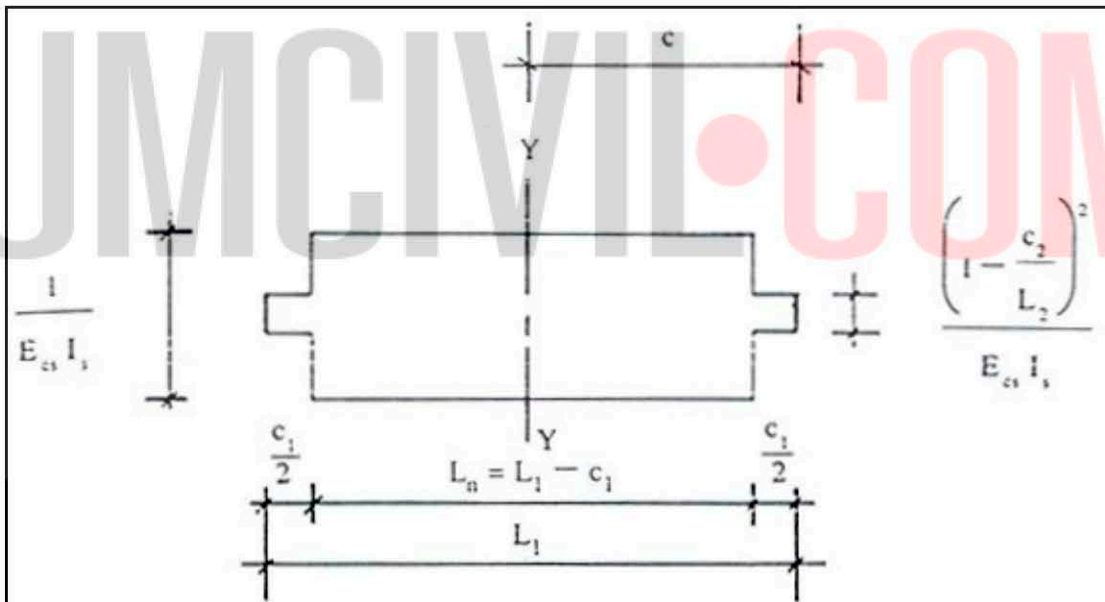
รูปที่ 5 สติฟเนสของชิ้นส่วน

จากรูป สติฟเนสของปลายชิ้นส่วนด้าน  $i$  คือค่า  $M_{ij}$  ที่ทำให้  $\theta_i$  เท่ากับ 1  
 ในมุมมองของวิธีเสาอุปมาน โมเมนต์ดัดนี้ เทียบได้กับแรง 1 หน่วยซึ่งกระทำที่ปลายของเสา  
 อุปมานด้านที่พิจารณา ดังรูปที่ 6



รูปที่ 6 การหาสติฟเนสของแผ่นพื้น-คานโดยวิธีเสาอุปมาน

มิติต่างๆ ของขนาดหน้าตัดเสาอุปมานของแผ่นพื้น-คาน แสดง ดังรูปที่ 7



รูปที่ 7 ขนาดหน้าตัดเสาอุปมานของแผ่นพื้น-คาน

เห็นได้ว่า ในกรณีที่โครงสร้างมีความสมมาตร แรง 1 หน่วยกระทำที่เสาอุปมานด้านซ้าย  
 หรือด้านขวา ก็จะทำให้ค่าสติฟเนสเท่ากัน นั่นคือ

$$K_{sL} \text{ เท่ากับ } K_{sR} \quad \text{กำหนดให้เท่ากับ } K_s$$

$$\text{ดังนั้น} \quad K_s = \frac{1}{A_{ac}} + \frac{Mc}{I_{ac}} \quad (2)$$

โดย

$$\begin{aligned}
 Mc &= 1(c)(c) = 1\left(\frac{L_1}{2}\right)\left(\frac{L_1}{2}\right) = L_1^2/4 \\
 A_{ac} &= L_n \frac{1}{E_{cs}I_s} + 2 \left[ \frac{c_1 \left(1 - \frac{c_2}{L_2}\right)^2}{E_{cs}I_s} \right] \\
 &= \frac{L_n + c_1 \left(1 - \frac{c_2}{L_2}\right)^2}{E_{cs}I_s} \\
 I_{ac} &= \left[ \frac{\left(1 - \frac{c_2}{L_2}\right)^2 L_1^3}{E_{cs}I_s} \right] + \left[ \frac{1}{E_{cs}I_s} - \frac{\left(1 - \frac{c_2}{L_2}\right)^2}{E_{cs}I_s} \right] \frac{L_n^3}{12} \\
 &= \frac{1}{12E_{cs}I_s} \left[ L_n^3 + \left(1 - \frac{c_2}{L_2}\right)^2 (L_1^3 - L_n^3) \right]
 \end{aligned}$$

แทนใน (2);  $K_s = \frac{E_{cs}I_s}{L_n + c_1 \left(1 - \frac{c_2}{L_2}\right)^2} + \frac{(L_1^2/4)(12E_{cs}I_s)}{L_n^3 + \left(1 - \frac{c_2}{L_2}\right)^2 (L_1^3 - L_n^3)}$

จัดรูปสูตรได้ว่า

$$\frac{K_s}{E_{cs}I_s} = \frac{1}{L_n + c_1 \left(1 - \frac{c_2}{L_2}\right)^2} + \frac{3L_1^2}{L_n^3 + \left(1 - \frac{c_2}{L_2}\right)^2 (L_1^3 - L_n^3)} \quad (3)$$

ถ้ากำหนดให้  $kc = \left(1 - \frac{c_2}{L_2}\right)^2$  แล้วนำมาแทนในสมการ (3) ดังนี้

$$\boxed{\frac{K_s}{E_{cs}I_s} = \frac{1}{L_n + c_1 kc} + \frac{3L_1^2}{L_n^3 + kc(L_1^3 - L_n^3)}} \quad (4)$$

ค) ตัวประกอบนำข้าม (Carry Over Factor, COF)

จากรูปที่ 5 ค่าของ  $M_{ji}$  จะขึ้นอยู่กับค่าของ  $M_{ij}$  ซึ่งในมุมมองของการวิเคราะห์โดยวิธีโมเมนต์กระจายคือ  $M_{ji} = (COF)M_{ij}$  นั่นคือ

$$COF = \frac{M_{ji}}{M_{ij}}$$

ในมุมมองของวิธีเสาอุปมาน  $M_{ij}$  คือหน่วยแรงด้านตรงข้ามกับแรง 1 หน่วยกระทำ ดังนั้น จึงมีค่าเท่ากับ หน่วยแรงอัดรวมกับหน่วยแรงดัดที่เป็นแรงดึง ส่วน  $M_{ji}$  คือหน่วยแรงด้านเดียวกับแรง 1 หน่วยกระทำ ดังนั้น จึงมีค่าเท่ากับ หน่วยแรงอัดรวมกับหน่วยแรงดัดที่เป็นแรงอัด ดังนั้น จากคำอธิบายในข้อ ข) จะได้ว่า

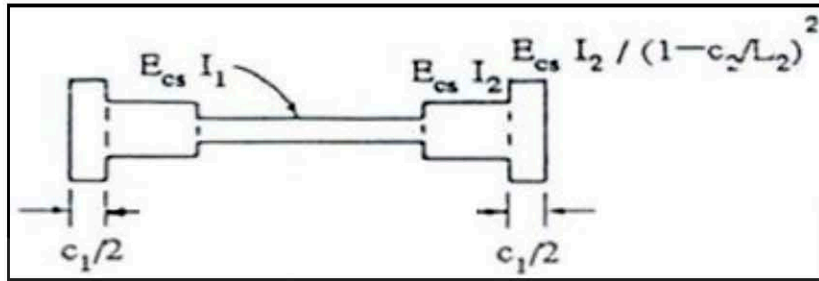
$$\text{COF} = \left| \frac{\frac{1}{A_{ac}} - \frac{(L_1^2/4)}{I_{ac}}}{\frac{1}{A_{ac}} + \frac{(L_1^2/4)}{I_{ac}}} \right| \quad (5)$$

ในกรณีชิ้นส่วนที่มีขนาดหน้าตัดคงที่ COF จะเท่ากับ 0.5 แต่ในกรณีของแผ่นพื้นไร้คานที่มีขนาดหน้าตัดไม่คงที่ COF จะไม่เท่ากับ 0.5 แต่มีค่าไม่เกิน 1

TUMCIVIL.COM

## แผ่นพื้นไร้คานแบบมีแป้นหัวเสา

ในการทำงานเดียวกับแผ่นพื้นไร้คานแบบไม่มีแป้นหัวเสา ตามสมมติฐานการวิเคราะห์ โดยวิธีโครงข้อแข็งเทียบเท่า (รายละเอียดอยู่ในบทที่ 5) จะพิจารณาแผ่นพื้นไร้คานว่าเป็นคานรูปแบบหนึ่งเรียกว่า แผ่นพื้น-คาน (slab-beam) ซึ่งมีขนาดหน้าตัดไม่เท่ากันในแต่ละช่วง สำหรับกรณีของแผ่นพื้นไร้คานแบบมีแป้นหัวเสา แผนภาพสติเฟเนสของแผ่นพื้น-คาน แสดงได้ดังรูปที่ 8 ซึ่งมีความซับซ้อนกว่าแบบไม่มีแป้นหัวเสา



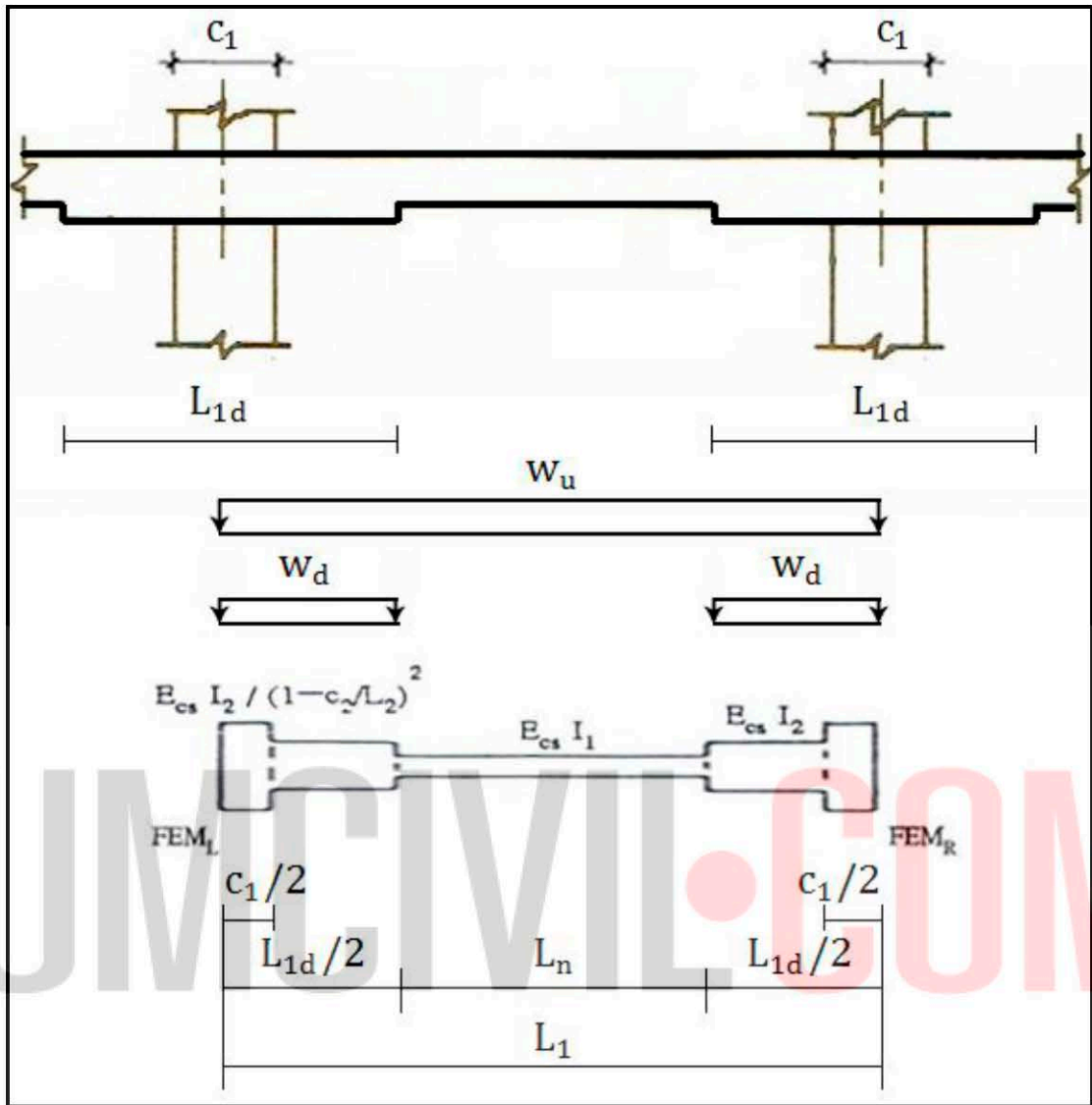
รูปที่ 8 แผนภาพสติเฟเนสของแผ่นพื้น-คานแบบมีแป้นหัวเสา

ทำให้หาค่าต่างๆ ที่จำเป็นในการวิเคราะห์ได้ดังนี้

ก) โมเมนต์ที่ปลายแบบยึดแน่น

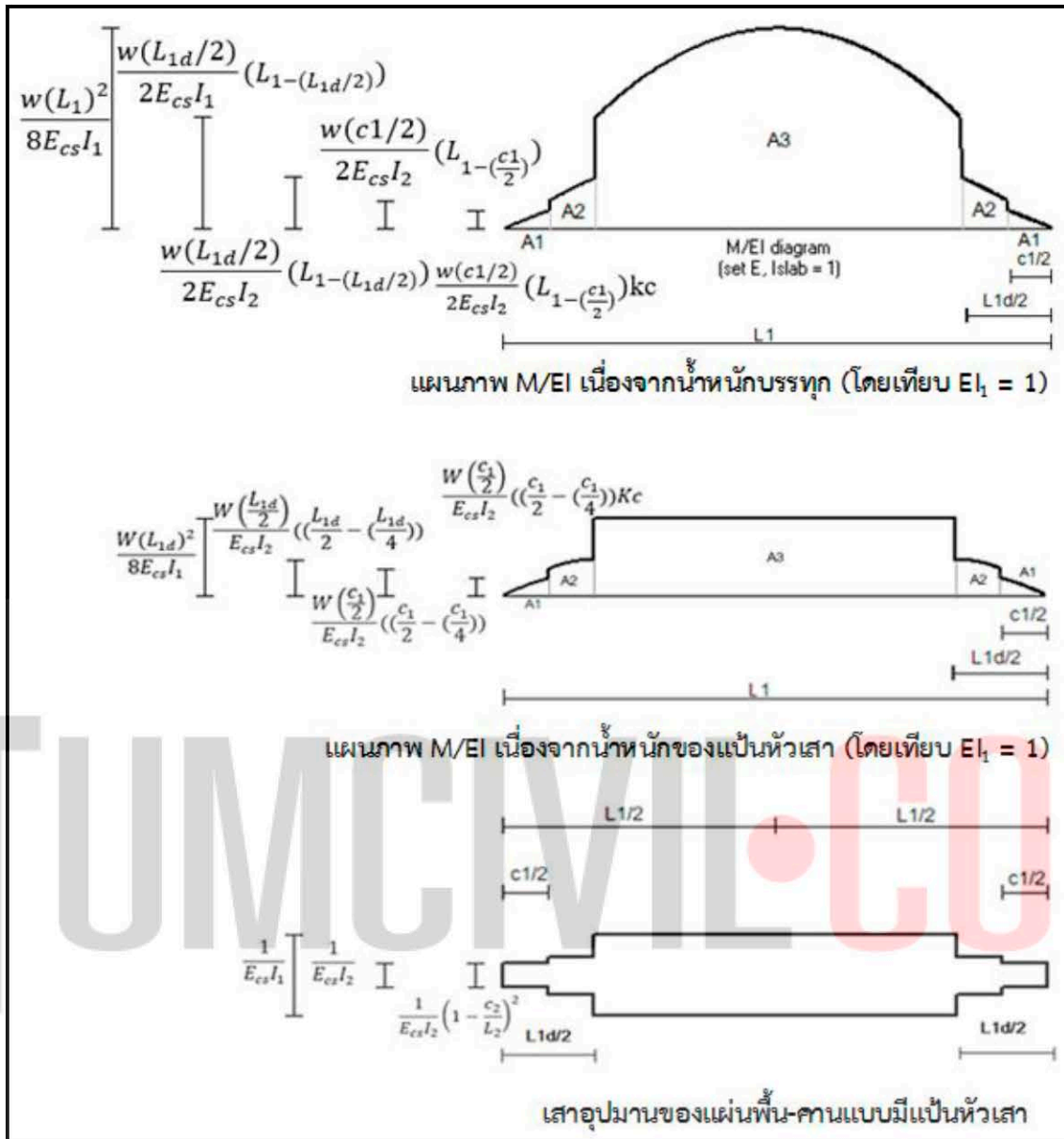
ในกรณีที่หน้าตัดเสาทั้งสองข้างของช่วงแผ่นพื้น-คานที่พิจารณามีขนาดเท่ากัน จะทำให้โครงสร้างมีความสมมาตร แผนภาพวัตถุอิสระเพื่อหาค่าโมเมนต์ที่ปลายแบบยึดแน่นโดย เนื่องจากน้ำหนักบรรทุกทุกแบบแผ่กระจายสม่ำเสมอเต็มช่วงคาน แสดงดังรูปที่ 9





รูปที่ 9 แผนภาพวัตถุอิสระของแผ่นพื้น-คานแบบมีแป้นหัวเสารับน้ำหนักแผ่เต็มช่วงคาน

ดังนั้น แผนภาพโมเมนต์หารด้วย  $EI$  ที่กระทำบนเสาอุปมานของแผ่นพื้น-คาน จะมีสองส่วน คือ โมเมนต์เนื่องจากน้ำหนักบรรทุกภายนอก และโมเมนต์เนื่องจากน้ำหนักของแป้นหัวเสา แสดงดังรูปที่ 10



รูปที่ 10 การหาโมเมนต์ที่ปลายยึดแน่น โดยวิธีเสาคูปลาน

แรงลัพธ์ของแผนภาพ M/EI นี้คือแรงที่กระทำบนเสาคูปลานซึ่งกรณีนี้ ทั้งแผนภาพเนื่องจากน้ำหนักบรรทุกทุกและเนื่องจากน้ำหนักของแป้นหัวเสามีความสมมาตร คือมีจุดศูนย์กลางของแรงลัพธ์กระทำที่กึ่งกลาง และเสาคูปลานก็มีความสมมาตรคือมีจุดศูนย์กลางกระทำที่กึ่งกลางเช่นกัน ดังนั้นหน่วยแรงที่เกิดขึ้นในเสาคูปลาน (ซึ่งหมายถึง FEM ของแผ่นพื้น-คาน) จึงเกิดจากแรงตามแนวแกนเท่านั้น นั่นคือ

$$FEM_L = FEM_R = \frac{P_{ac}(\text{slab}) + P_{ac}(\text{drop panel})}{A_{ac}} \quad (6)$$

โดย

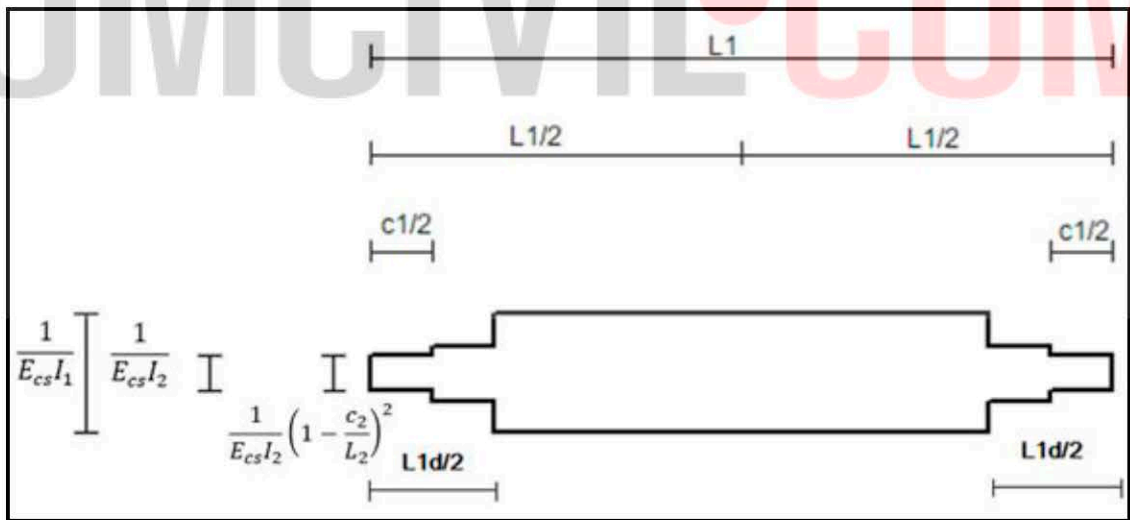
$P_{ac} (slab)$  คือ แรงลัพท์ของ แผนภาพ  $M/EI$  เนื่องจากน้ำหนักบรรทุกที่กระทำบนของแผ่นพื้นไร้คาน

$P_{ac} (drop panel)$  คือ แรงลัพท์ของ แผนภาพ  $M/EI$  เนื่องจากน้ำหนักบรรทุกของแป้นหัวเสา

จากรูปที่ 10 เห็นได้ว่าการจัดรูปสูตร FEM ของแผ่นพื้นไร้คานแบบมีแป้นหัวเสานี้ ได้รูปสูตรที่ยาวเกินไปไม่เหมาะสมในทางปฏิบัติ ซึ่งวิธีแก้ไขโดยทั่วไปคือ ทำเป็นตารางหาค่า FEM ขึ้นมา แต่ผู้เขียนได้แก้ไขด้วยการพัฒนาซอฟต์แวร์ขึ้นมาช่วยในการคำนวณชื่อว่า DON\_Slab (เผยแพร่ในงานเก่า 2019 จัดโดย TumCivil.com)

ข) สติฟเนสของแผ่นพื้น-คาน ( $K_s$ )

ในทำนองเดียวกับแผ่นพื้นไร้คานแบบไม่มีแป้นหัวเสา กรณีที่โครงสร้างมีความสมมาตร แรง 1 หน่วยกระทำที่เสาอุปมานด้านซ้ายหรือด้านขวา ก็จะทำให้ค่าความแข็งเท่ากัน โดยสิ่งที่ต่างออกไปจากแผ่นพื้นไร้คานแบบไม่มีแป้นหัวเสา คือรูปทรงของเสาอุปมานที่ซับซ้อนขึ้น ดังรูปที่ 11



รูปที่ 11 ขนาดหน้าตัดเสาอุปมานของแผ่นพื้น-คาน

เห็นได้ว่า ในกรณีที่โครงสร้างมีความสมมาตร แรง 1 หน่วยกระทำที่เสาอุปมานด้านซ้ายหรือด้านขวา ก็จะทำให้ค่าสติฟเนสเท่ากัน นั่นคือ

$K_{sL}$  เท่ากับ  $K_{sR}$  กำหนดให้เท่ากับ  $K_s$  ซึ่งเมื่อเทียบกับแผ่นพื้นไร้คานแบบไม่มีแป้นหัวเสา แล้ว ความแตกต่างคือค่า  $A_{ac}$  และ  $I_{ac}$  เท่านั้น ซึ่งหากจัดเป็นรูปสูตรก็จะยาวซึ่งไม่เหมาะสมในทางปฏิบัติ ผู้เขียนจึงพัฒนาให้ DON\_Slab ช่วยคำนวณเช่นเดียวกับการหาค่า FEM

ดังนั้นจึงสรุปได้ว่า

$$K_s = \frac{1}{A_{ac}} + \frac{(L_1^2/4)}{I_{ac}} \quad (7)$$

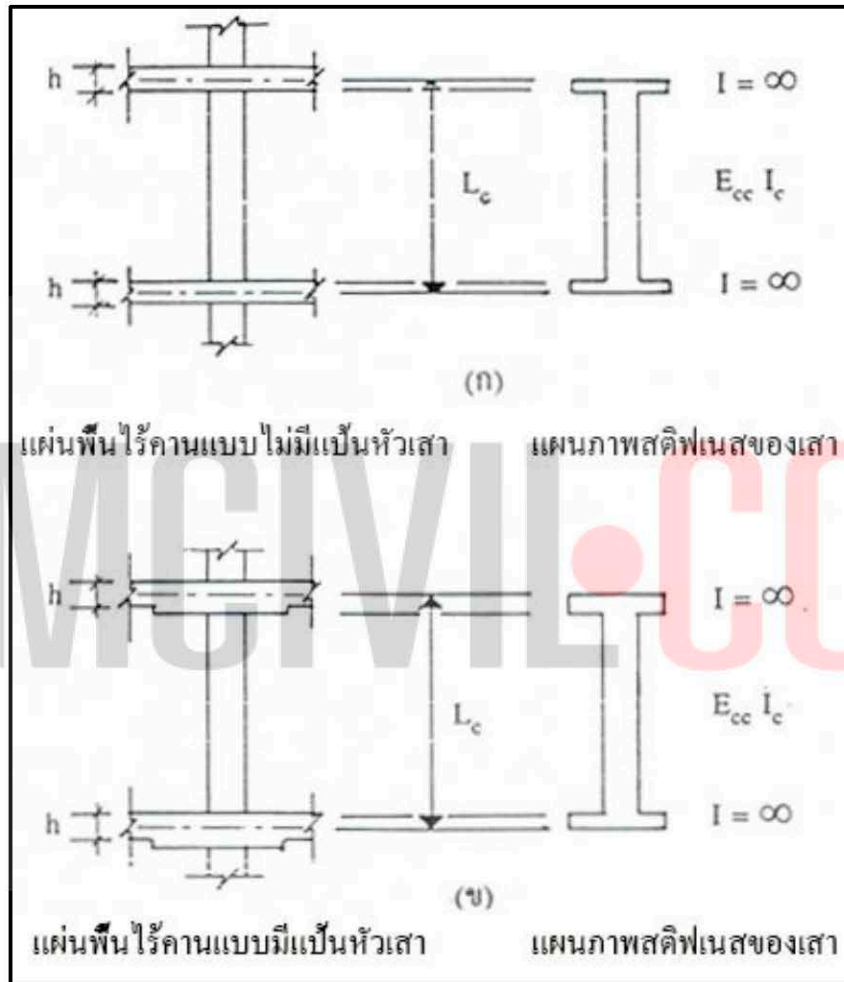
ค) ตัวประกอบนำข้าม

คำอธิบายและรูปสูตรคล้ายกับแผ่นพื้นไร้คานแบบไม่มีแป้นหัวเสา คือสูตรที่ (5) โดยความแตกต่างคือค่า  $A_{ac}$  และ  $I_{ac}$  ซึ่ง DON\_Slab จะช่วยคำนวณให้เช่นเดียวกัน

TUMCIVIL.COM

### การหาค่าสติฟเนสด้านทานแรงดัดของเสา

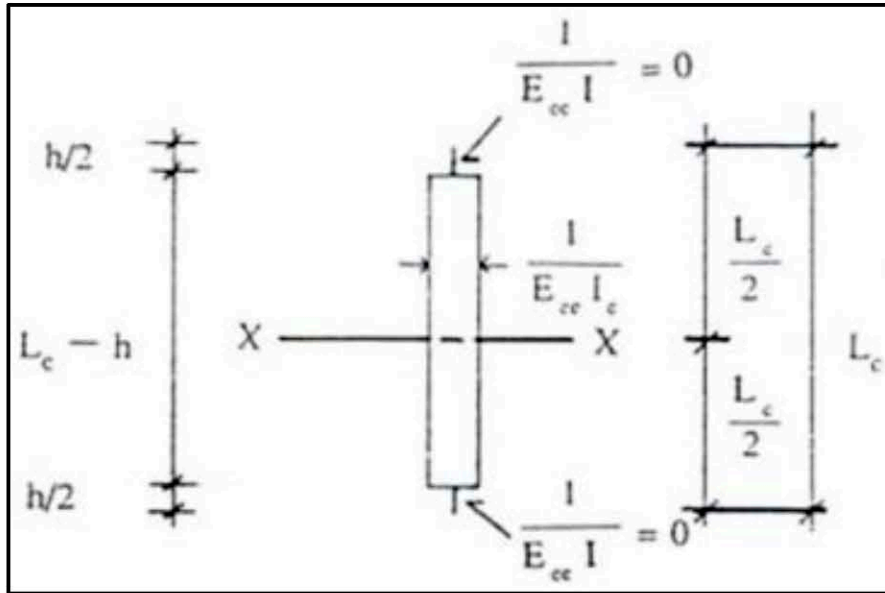
เสาที่รองรับแผ่นพื้นไร้คาน จะคล้ายคลึงกับแผ่นพื้น-คาน คือขนาดหน้าตัดจะไม่เท่ากันในแต่ละช่วงเสา โดยมีสมมติฐานว่า เสาในช่วงที่วัดจากเส้นผ่านศูนย์กลางของแผ่นพื้นถึงขอบเสา (บนและล่าง) มีค่าโมเมนต์ความเฉื่อยเป็นอนันต์ (Infinity) ดังนั้น แผนภาพสติฟเนสของเสา (column stiffness diagram) สำหรับด้านทานแรงดัด แสดงดังรูปที่ 12



รูปที่ 12 แผนภาพสติฟเนสของเสา

เห็นได้ว่า สติฟเนสของเสา ( $K_c$ ) สำหรับแผ่นพื้นไร้คานทั้งแบบไม่มีเป็นหัวเสา และแบบมีเป็นหัวเสา มีค่าเท่ากัน ซึ่งจัดอยู่ในรูปเสาอุปมานได้ดังรูปที่ 13





รูปที่ 13 เสาอุปมานของเสาจริง

ดังนั้น 
$$K_c = \frac{1}{A_{ac}} + \frac{Mc}{I_{ac}} \quad (8)$$

ซึ่ง 
$$A_{ac} = \frac{L_c - h}{E_{cc}I_c}$$

$$I_{ac} = \frac{1}{E_{cc}I_c} \frac{(L_c - h)^3}{12}$$

แทนใน (4)

$$K_c = \frac{E_{cc}I_c}{L_c - h} + \frac{(1)\left(\frac{L_c}{2}\right)\left(\frac{L_c}{2}\right)(12E_{cc}I_c)}{(L_c - h)^3}$$

จัดรูปสูตรได้ว่า

$$\frac{K_c}{E_{cc}I_c} = \frac{1}{(L_c - h)^3} [(L_c - h)^2 + 3L_c^2] \quad (9)$$

เฉลยข้อสอบ สภาวิศวกร  
วิชา Theory of Structures

TUMCIVIL.COM  
Engineering Software Center  
engfanatic CLUB  
& member

โดย ดอน สอนกาน

เผยแพร่ฟรี

จำนวนข้อสอบ 258 ข้อ


หัวข้อ	ข้อ	จำนวน
รูปแบบของโครงสร้าง	1 2 3 4 5 6 19 20 21 22 23 233 234 235 236 237 238 239 240 241 242 243 244 245 246 247 248 249 250 251 252 253 254 255 256	35
แรงปฏิกิริยา - โครงข้อหมุน - คาน - โครงข้อแข็ง	35 65 70 52 93 94 102 103 37 45 46 74	12
แรงภายใน - โครงข้อหมุน - คาน - โครงข้อแข็ง - เสา - คานคสมท่อนเหล็ก	7 8 9 10 11 12 13 14 15 16 17 18 24 36 66 67 68 69 75 257 25 30 31 32 33 34 41 42 43 44 50 51 53 54 55 76 77 92 95 96 97 98 99 100 101 26 27 28 29 38 39 40 47 48 49 71 72 73 81 82 83 84 85 86 78 79 80 56 57 58 59 60 61 62 63 64 87 88 89 90 91	81
เส้นอิทธิพล	104 105 106 107 108 109 110 111 112 113 114 115 116 117 118 119 120 121 122 123 124 125 126 127 128 129 130 131 132 133 134 135 136 137 138 139 140 141 142 143 144 145 146 147 148 149 150 151 152 153 154 155 156	53
การเปลี่ยนรูปของโครงสร้าง	157 158 159 160 161 162 163 164 165 166 167 168 169 170 171 172 173 174 175 176 177 178 179 180 181 182 183 184 185 186 187 188 189 190 191 192 193 194 195 196 197 198 199 200 201 202 203 204 205 206 207 208 209	53
โครงสร้างแบบ อินทีเทอรั่มิตเบืองตัน	210 211 212 213 214 215 216 217 218 219 220 221 222 223 224 225 226 227 228 229 230 231 232 258	24
	รวม	258

สาขา : โยธา  
 วิชา : Theory of Structures

เนื้อหาวิชา : 529 : Introduction to structural analysis

ข้อที่ 1 :

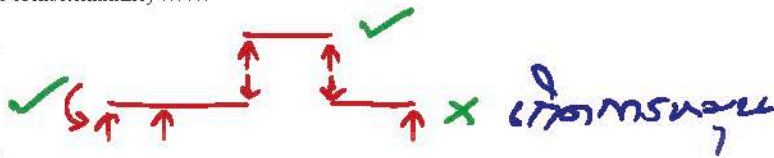
จากโครงสร้างคานดังแสดงในรูป จงวิเคราะห์ว่าโครงสร้างนี้มีเสถียรภาพ (Stable) หรือไม่ เป็นโครงสร้างแบบ determinate หรือ indeterminate ถ้าเป็นโครงสร้างแบบ indeterminate โครงสร้างนี้มี degree of indeterminacy เท่าไร



- 1: ไม่มีเสถียรภาพ
  - 2: มีเสถียรภาพ, เป็นโครงสร้างแบบ determinate
  - 3: มีเสถียรภาพ, เป็นโครงสร้างแบบ indeterminate มี degree of indeterminacy = 1
  - 4: มีเสถียรภาพ, เป็นโครงสร้างแบบ indeterminate มี degree of indeterminacy = 2
  - 5: มีเสถียรภาพ, เป็นโครงสร้างแบบ indeterminate มี degree of indeterminacy = 3
- คำตอบที่ถูกต้อง : 1

ข้อที่ 2 :


จากโครงสร้างคานดังแสดงในรูป จงวิเคราะห์ว่าโครงสร้างนี้มีเสถียรภาพ (Stable) หรือไม่ เป็นโครงสร้างแบบ determinate หรือ indeterminate ถ้าเป็นโครงสร้างแบบ indeterminate โครงสร้างนี้มี degree of indeterminacy เท่าไร



- 1: ไม่มีเสถียรภาพ
  - 2: มีเสถียรภาพ, เป็นโครงสร้างแบบ determinate
  - 3: มีเสถียรภาพ, เป็นโครงสร้างแบบ indeterminate มี degree of indeterminacy = 1
  - 4: มีเสถียรภาพ, เป็นโครงสร้างแบบ indeterminate มี degree of indeterminacy = 2
  - 5: มีเสถียรภาพ, เป็นโครงสร้างแบบ indeterminate มี degree of indeterminacy = 3
- คำตอบที่ถูกต้อง : 1

ข้อที่ 3 :

โครงสร้างข้อข้างต้นรูปมีเสถียรภาพทางโครงสร้างเป็นอย่างไร



$$\begin{aligned} m &= 8 \\ r &= 9 \\ j &= 8 \\ c &= 3 \end{aligned}$$

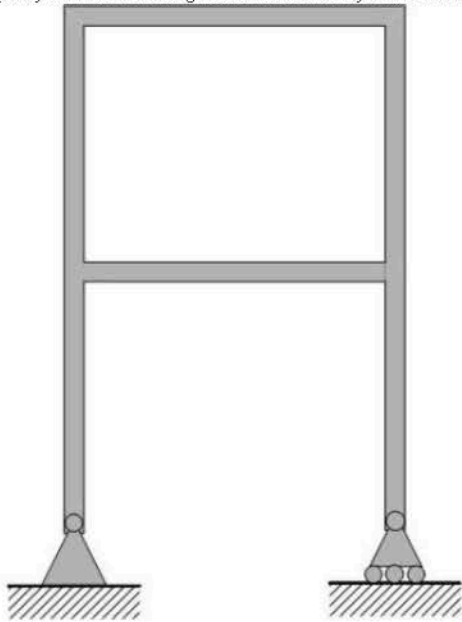
$$\begin{aligned} 3m + r &= 24 + 9 = 33 \\ 3j + c &= 24 + 3 = 27 \\ \therefore DI &= 33 - 27 = 6 \end{aligned}$$

- 1: stable - indeterminate - degree of indeterminacy = 3
  - 2: stable - indeterminate - degree of indeterminacy = 4
  - 3: stable - indeterminate - degree of indeterminacy = 5
  - 4: stable - indeterminate - degree of indeterminacy = 6
- คำตอบที่ถูกต้อง : 4



ข้อที่ 4 :

Specify the number of degrees of indeterminacy of the frame shown below.



$$m = 6$$

$$r = 3$$

$$j = 6$$

$$\therefore 3m + r = 3(6) + 3 = 21$$

$$3j = 3(6) = 18$$


$$DI = 21 - 18 = 3$$

- 1: 3
  - 2: 6
  - 3: 9
  - 4: 12
- คำตอบที่ถูกต้อง : 1



ข้อที่ 5 :

Specify the number of degrees of indeterminacy of the frame shown below.



$$m = 10$$

$$r = 9$$

$$j = 9$$

$$\therefore 3m + r = 3(10) + 9 = 39$$

$$3j = 3(9) = 27$$

$$DI = 39 - 27 = 12$$

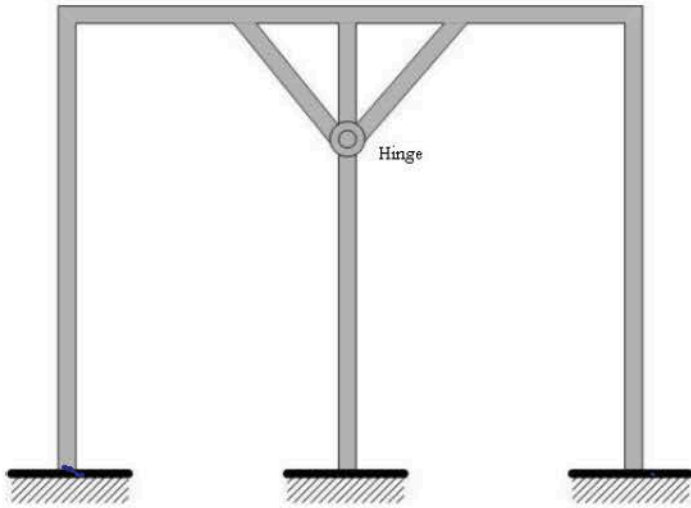
- 1: 9
  - 2: 10
  - 3: 11
  - 4: 12
- คำตอบที่ถูกต้อง : 4



ข้อที่ 6 :



Specify the number of degrees of indeterminacy of the frame shown below.



$$m = 10$$

$$r = 9$$

$$j = 9$$

$$c = 4 - 1 = 3$$

$$3m + r = 39$$

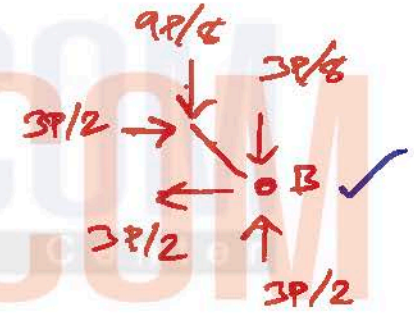
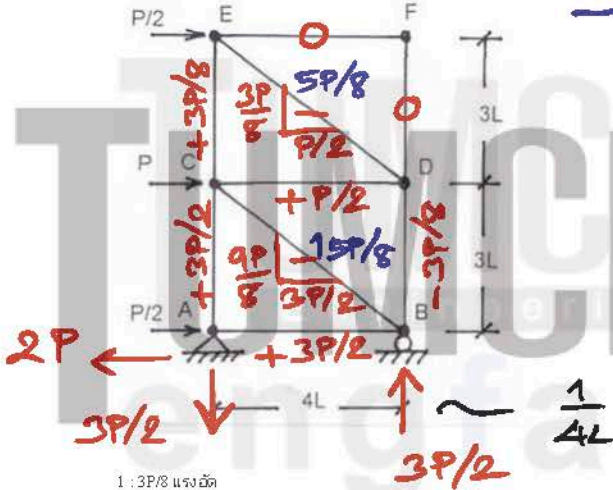
$$3j + c = 30$$

$$\therefore \text{DI} = 9$$

- 1: 8
  - 2: 9
  - 3: 10
  - 4: 11
- คำตอบที่ถูกต้อง : 2

ข้อที่ 7 :

จากโครง truss รับแรงกระทำ ดังรูป จงหาแรงภายในชิ้นส่วน AC



$$\frac{1}{4L} \left[ \frac{P}{2}(6L) + P(3L) \right]$$

$$\text{Moment } 7 - 9$$

- 1: 3P/8 แรงอัด
  - 2: 3P/8 แรงดึง
  - 3: P/2 แรงดึง
  - 4: 3P/2 แรงดึง
- คำตอบที่ถูกต้อง : 4

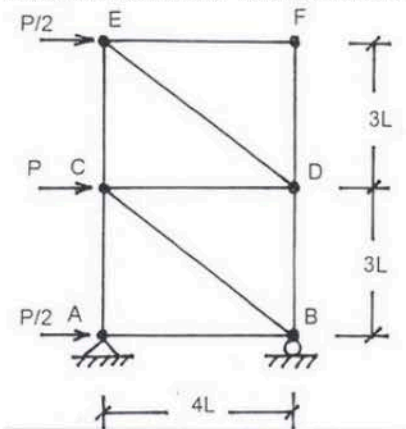
$$AC = + \frac{3P}{2}$$

$$BD = - \frac{3P}{8}$$

$$BC = - \frac{15P}{8}$$

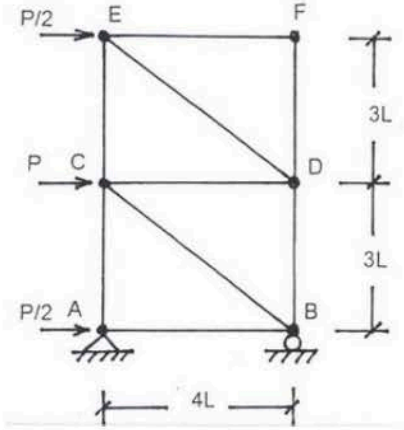
ข้อที่ 8 :

จากโครง truss รับแรงกระทำ ดังรูป จงหาแรงภายในชิ้นส่วน BD



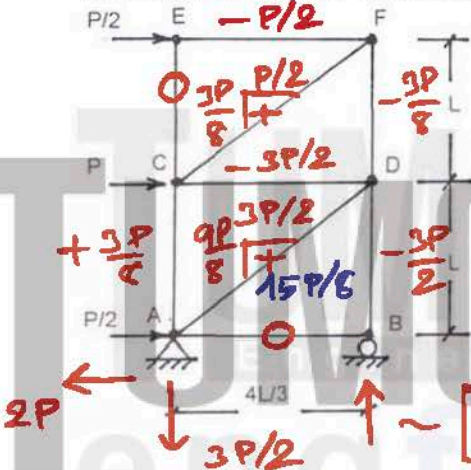
- 1: 5P/8 แรงอัด
  - 2: 3P/2 แรงดึง
  - 3: 3P/8 แรงอัด
  - 4: 3P/8 แรงดึง
- คำตอบที่ถูกต้อง : 3

ข้อที่ 9 : จากโครง truss รับแรงกระทำ ดังรูป จงหาแรงภายในชิ้นส่วน BC



- 1: 3P/8 แรงอัด
  - 2: 5P/8 แรงดึง
  - 3: 15P/8 แรงอัด
  - 4: 15P/4 แรงดึง
- คำตอบที่ถูกต้อง : 3

ข้อที่ 10 : จากโครง truss รับแรงกระทำ ดังรูป จงหาแรงภายในชิ้นส่วน AC



- 1: 3P/8 แรงอัด
  - 2: 3P/8 แรงดึง
  - 3: P/2 แรงดึง
  - 4: 3P/2 แรงดึง
- คำตอบที่ถูกต้อง : 2

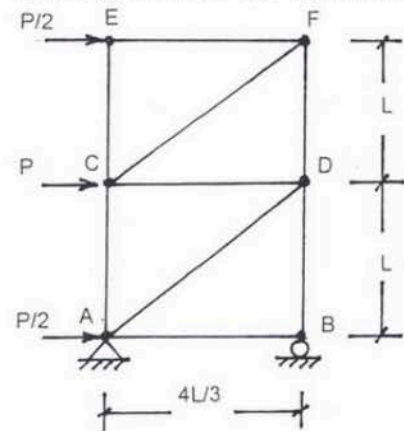
$$\sum \text{โอบ } \uparrow 10-12$$

$$AC = + \frac{3P}{8}$$

$$BD = - \frac{3P}{2}$$

$$AD = + \frac{15P}{8}$$

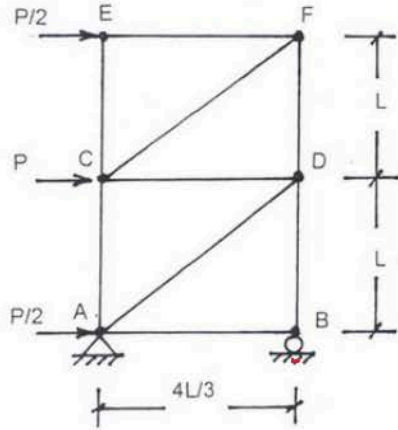
ข้อที่ 11 : จากโครง truss รับแรงกระทำ ดังรูป จงหาแรงภายในชิ้นส่วน BD



- 1: 3P/8 แรงอัด
  - 2: 3P/8 แรงดึง
  - 3: 5P/8 แรงอัด
  - 4: 3P/2 แรงอัด
- คำตอบที่ถูกต้อง : 4

ข้อที่ 12 :

จากโครง truss รับแรงกระทำ ดังรูป จงหาแรงภายในชิ้นส่วน AD

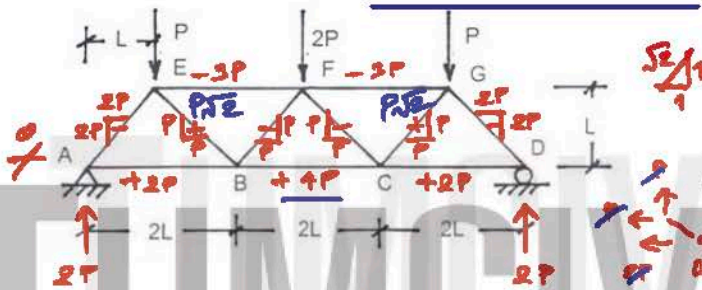


- 1:  $3P/8$  แรงอัด
- 2:  $5P/8$  แรงดึง
- 3:  $15P/8$  แรงดึง
- 4:  $15P/4$  แรงดึง
- คำตอบที่ถูกต้อง : 3



ข้อที่ 13:

จากโครง truss รับแรงกระทำ ดังรูป จงหาแรงภายในมากที่สุดชิ้นส่วน lower chord



- 1:  $2P$  แรงดึง
- 2:  $3P$  แรงดึง
- 3:  $4P$  แรงดึง
- 4:  $3P$  แรงอัด
- คำตอบที่ถูกต้อง : 3

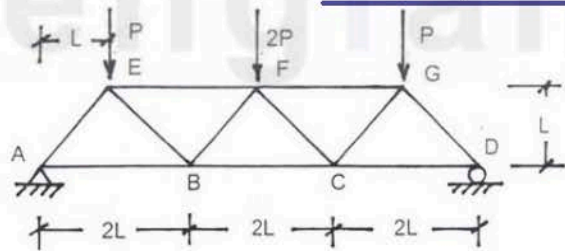


ข้อที่ 13-15

แรงภายในใน lower chord  
ข้อ  $BC = +4P$

ข้อที่ 14:

จากโครง truss รับแรงกระทำ ดังรูป จงหาแรงภายในมากที่สุดชิ้นส่วน upper chord



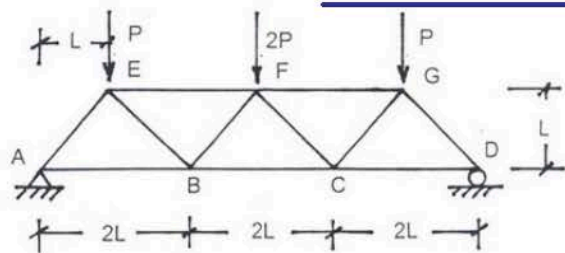
- 1:  $2P$  แรงอัด
- 2:  $3P$  แรงอัด
- 3:  $4P$  แรงอัด
- 4:  $3P$  แรงดึง
- คำตอบที่ถูกต้อง : 2



แรงภายในใน upper chord  
ข้อ  $EF$  และ  $FG = -3P$

ข้อที่ 15:

จากโครง truss รับแรงกระทำ ดังรูป จงหาแรงภายในที่มากที่สุดชิ้นส่วน ทแยง



- 1:  $P/\sqrt{2}$
- 2:  $\sqrt{2}P$



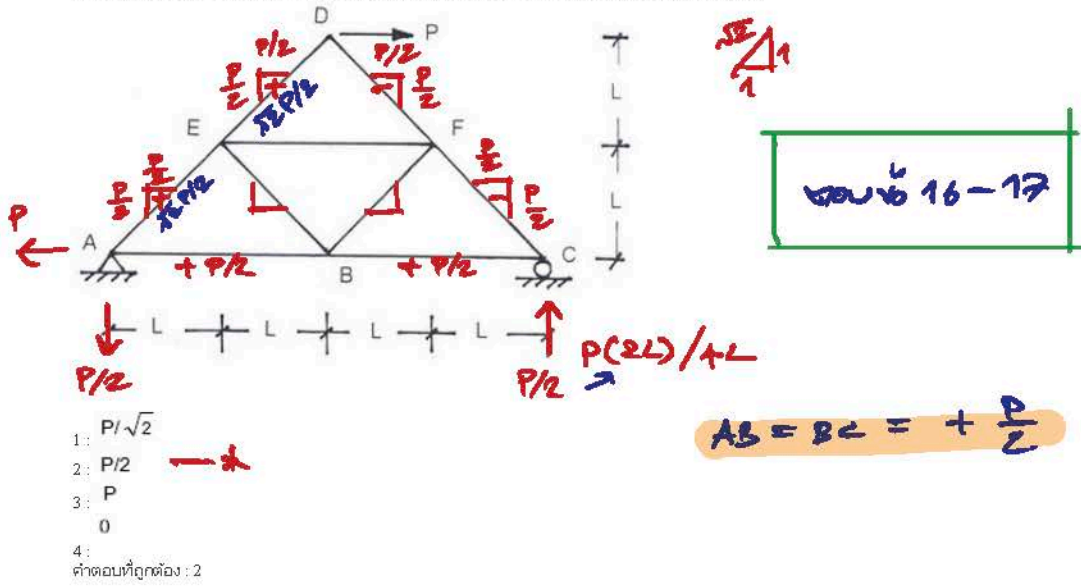
แรงดึงภายในชิ้นส่วนทแยง  
ข้อ  $BE$  และ  $CF = +\sqrt{2}P$



- 3:  $2\sqrt{2}P$
- 4:  $2P$
- คำตอบที่ถูกต้อง : 2

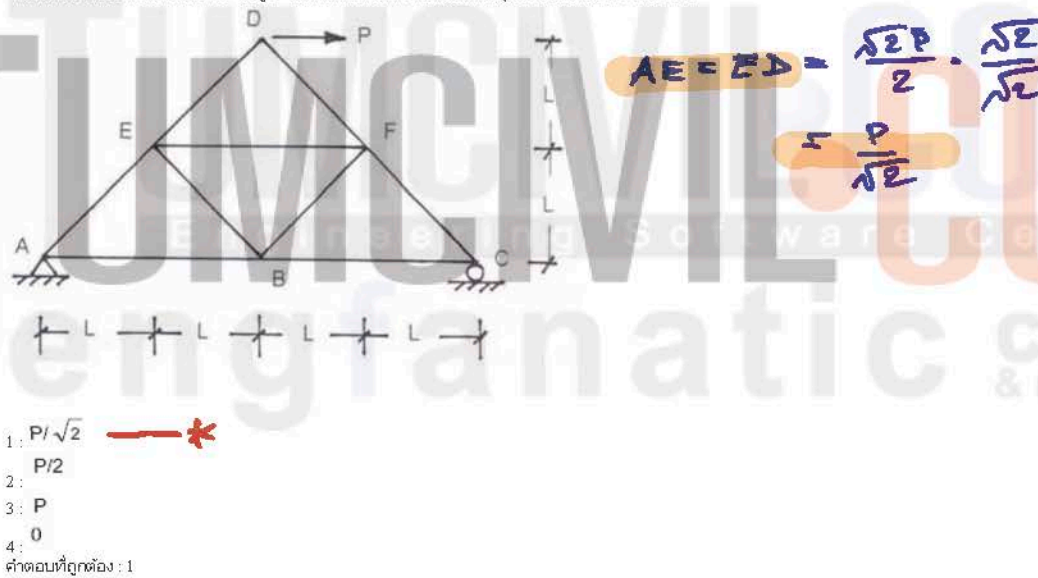
ข้อที่ 16:

จากโครง truss รับแรงกระทำ ดังรูป จงหาแรงดึงภายในที่มากที่สุดในส่วน AB หรือ BC



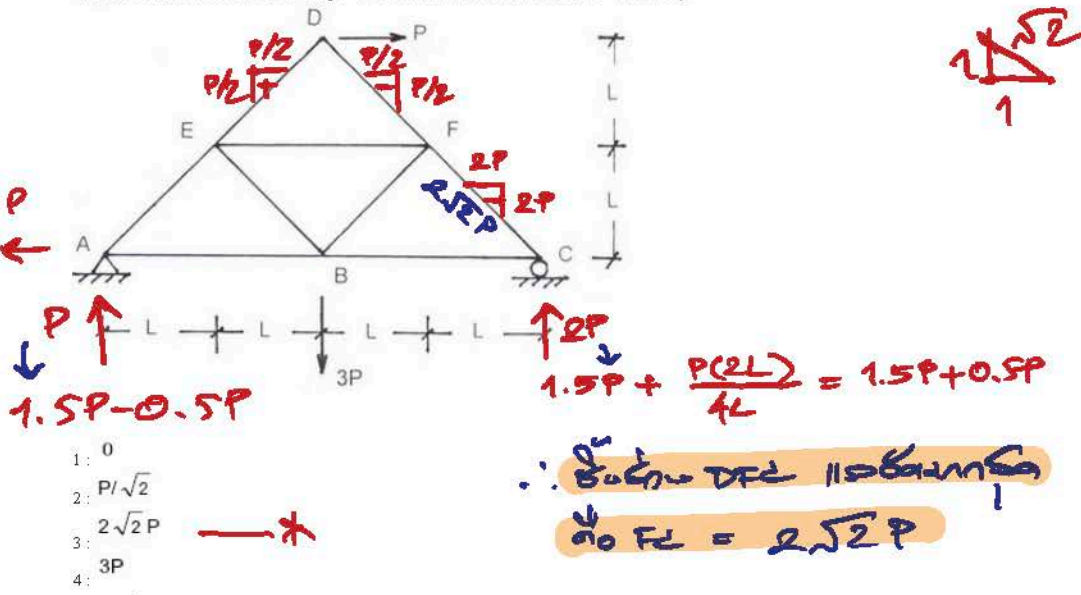
ข้อที่ 17:

จากโครง truss รับแรงกระทำ ดังรูป จงหาแรงดึงภายในที่มากที่สุดในส่วน AE หรือ ED



ข้อที่ 18:

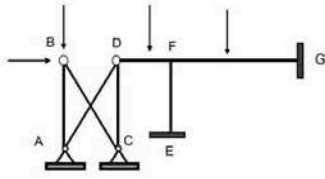
จากโครง truss รับแรงกระทำ ดังรูป จงหาแรงอัดภายในที่มากที่สุดในส่วน DFC ที่มากที่สุด



คำตอบที่ถูกต้อง : 3

ข้อที่ 19 :

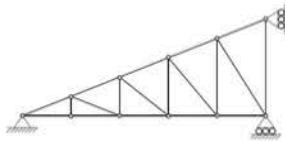
โครงสร้าง 2 มิติ (plane structure) ที่แสดงในรูปมี unknown displacements อยู่ที่ปริมาณ



- 1: 5
  - 2: 7
  - 3: 8
  - 4: คำตอบ 1, คำตอบ 2, คำตอบ 3 เป็นคำตอบที่ผิดทุกคำตอบ
- คำตอบที่ถูกต้อง : 3

ข้อที่ 20 :

โครงข้อหมุนดังรูปมีเสถียรภาพทางโครงสร้างอย่างไร




$m = 19$   
 $r = 4$   
 $j = 11$   
 $m + r = 23$   
 $2j = 22$   
 $\therefore > 1 = 1$

- 1: unstable
  - 2: stable+determinate
  - 3: stable+indeterminate ภายในอดิศร 1
  - 4: stable+indeterminate ภายในอดิศร 1
- คำตอบที่ถูกต้อง : 3

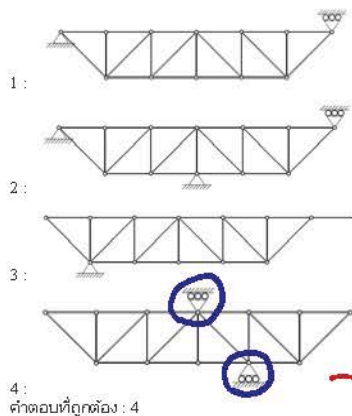
ข้อที่ 21 :

คานาดัดใดไม่มีเสถียรภาพ



ข้อที่ 22 :

โครงข้อหมุนใดไม่มีเสถียรภาพ (unstable)



จำนวนแรงปฏิกิริยา = 2 < 3 (ไม่ครบจุด)  
 จำนวนแรงดัดเข้า จะไม่ครบจุด

ข้อที่ 23 :

จงอธิบายเสถียรภาพของโครงข้อหมุนที่กำหนด



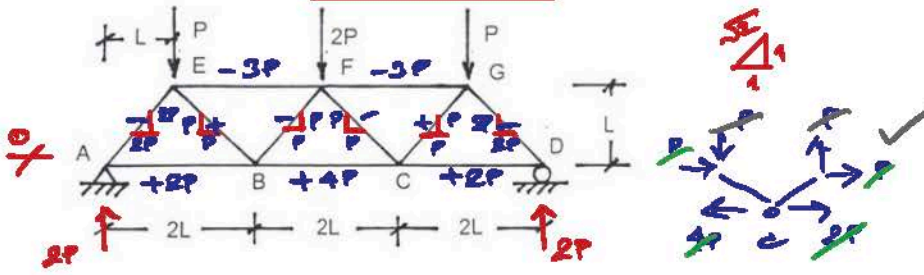
จำนวน  $m + r < 2j$

- 1: ไม่มีเสถียรภาพแบบ determinate
  - 2: ไม่มีเสถียรภาพแบบ indeterminate [if] p+o 5 (Ix•akNewLine]
  - 3: ไม่มีเสถียรภาพ
  - 4: มีเสถียรภาพแบบ determinate
- คำตอบที่ถูกต้อง : 3

ข้อที่ 24 :



จากโครงสร้างรับแรงกระทำดังรูป จงหาชิ้นส่วนที่รับแรงดึงและแรงอัดสูงสุด



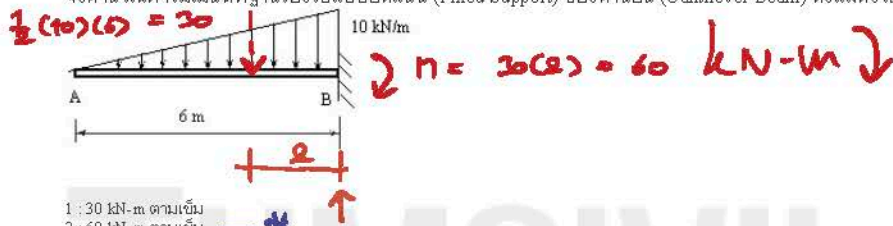
- 1: AB รับแรงดึงสูงสุด EF รับแรงอัดสูงสุด
  - 2: AB รับแรงดึงสูงสุด AE รับแรงอัดสูงสุด
  - 3: BC รับแรงดึงสูงสุด EF รับแรงอัดสูงสุด
  - 4: CD รับแรงดึงสูงสุด GD รับแรงอัดสูงสุด
- คำตอบที่ถูกต้อง : 3

∴ Max<sup>+</sup> คือ BC  
 Min<sup>-</sup> คือ EF, FG

เนื้อหาวิชา : 530 : Reactions, shears and moments in statically determinate structures

ข้อที่ 25 :

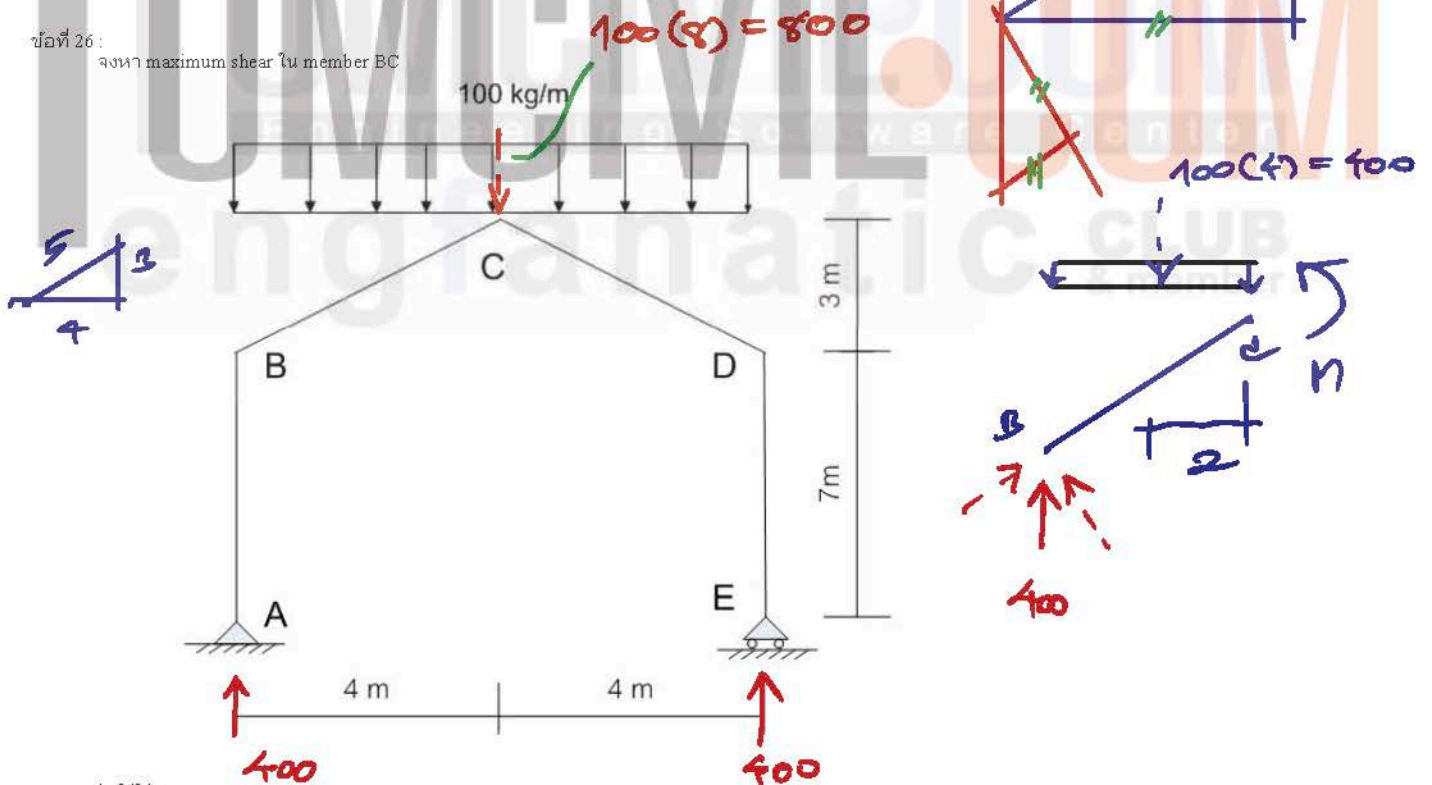
จงคำนวณหาโมเมนต์ที่ฐานรองรับแบบยึดแน่น (Fixed Support) ของคานยื่น (Cantilever Beam) ดังแสดงในรูป



- 1: 30 kN-m ตามเข็มนาฬิกา
  - 2: 60 kN-m ตามเข็มนาฬิกา
  - 3: 90 kN-m ตามเข็มนาฬิกา
  - 4: 120 kN-m ตามเข็มนาฬิกา
- คำตอบที่ถูกต้อง : 2

ข้อที่ 26 :

จงหา maximum shear ใน member BC

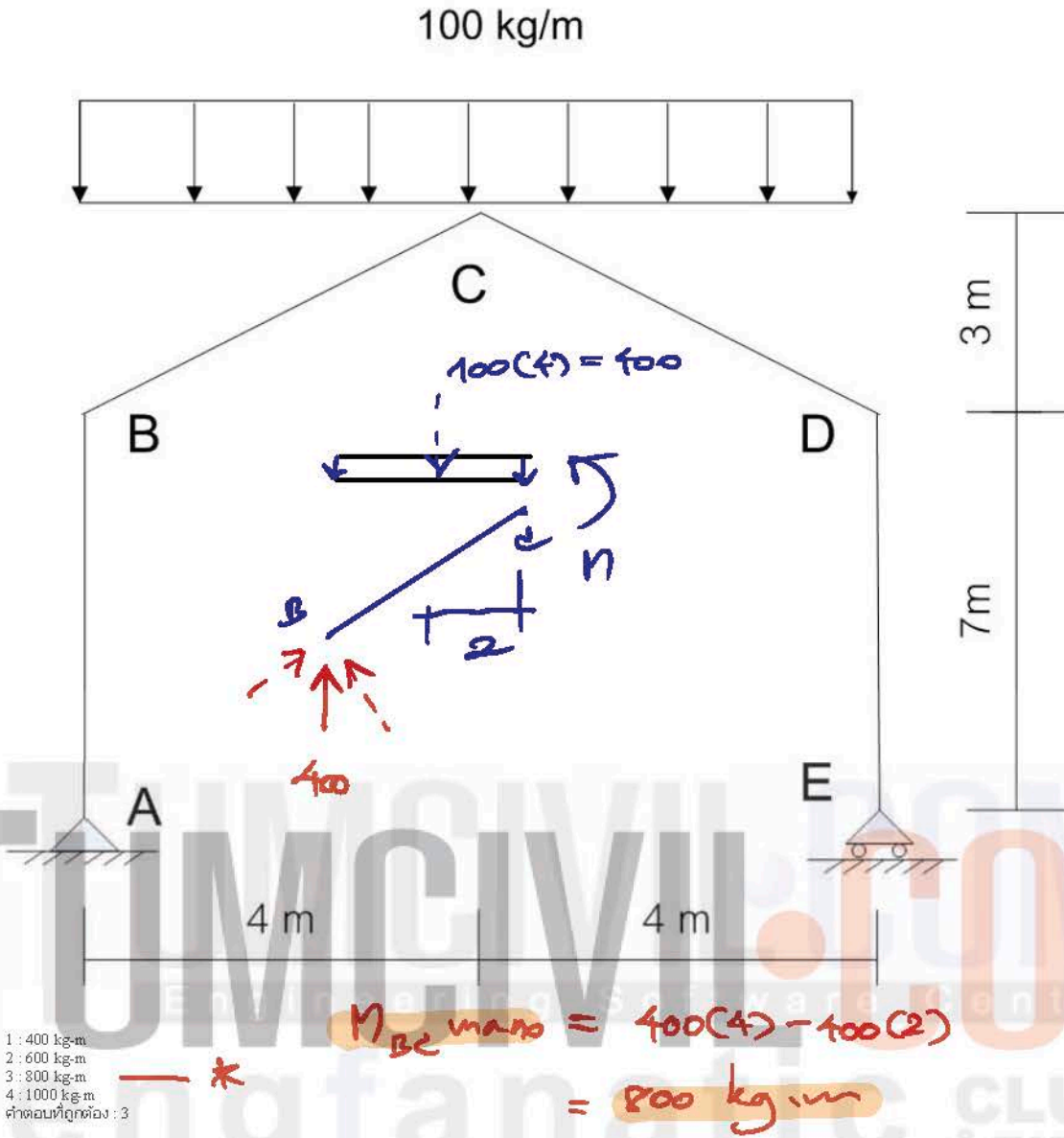


- 1: 240 kg
  - 2: 320 kg
  - 3: 300 kg
  - 4: 400 kg
- คำตอบที่ถูกต้อง : 2

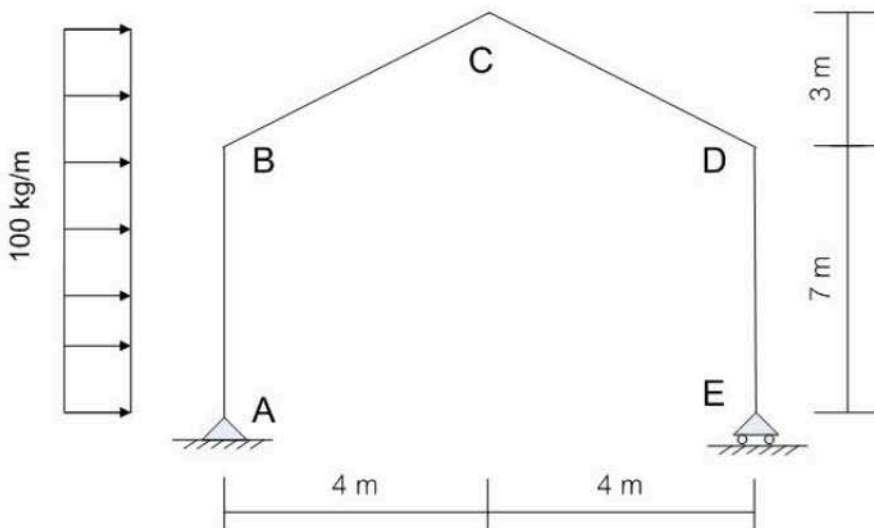
∴  $V_{max} = 400 \left(\frac{4}{5}\right) = 320 \text{ kg}$

ข้อที่ 27 :

จงหา maximum moment ใน member BC

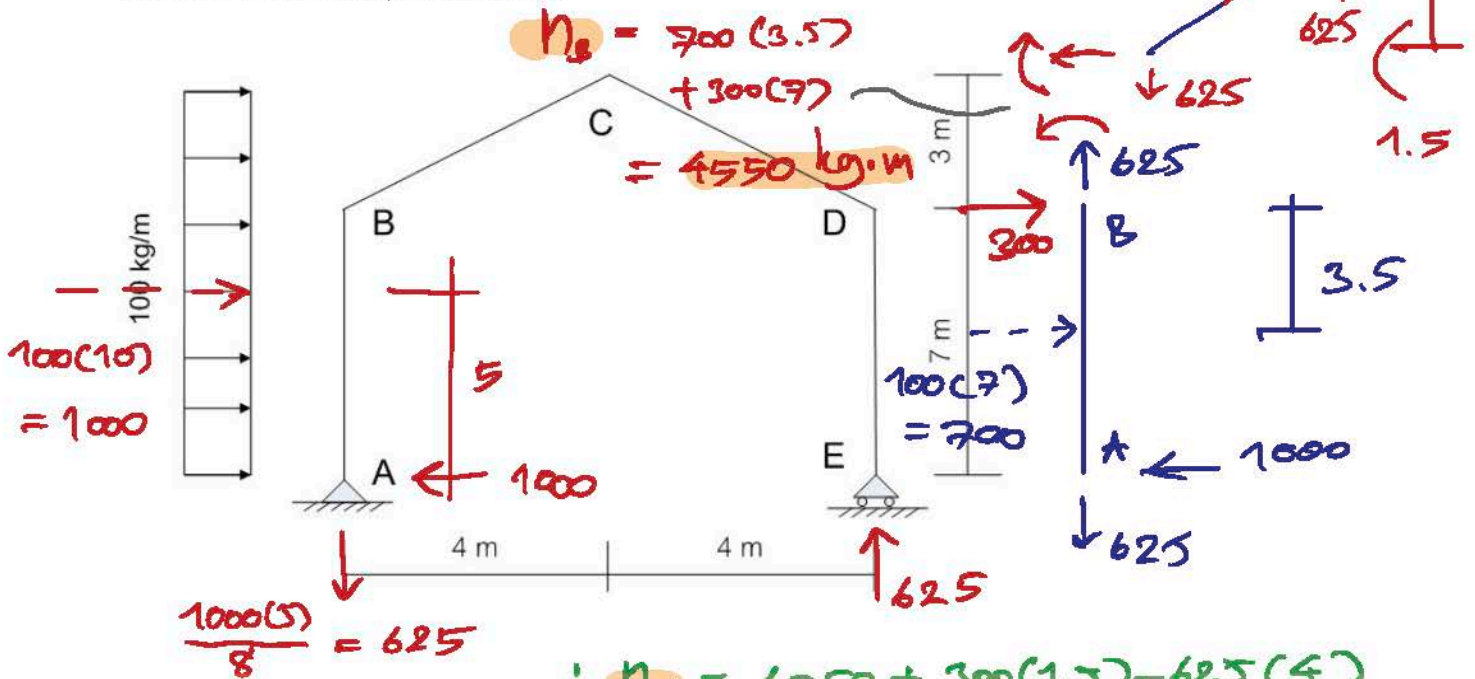


ข้อที่ 28 : จงหา Axial Force ใน member BC ที่จุด B และ C ตามลำดับ




- 1: 375 kg(T), 615 kg(T)  
 2: 375 kg(C), 615 kg(C)  
 3: 615 kg(T), 375 kg(T)  
 4: 615 kg(C), 375 kg(C)  
 คำตอบที่ถูกต้อง: 3

ข้อที่ 29 : จงหา moment ใน member BC ที่จุด B และ C ตามลำดับ



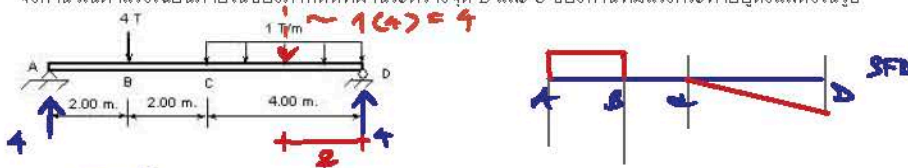
- 1: 3850 kg-m, 5950 kg-m
  - 2: 4550 kg-m, 2500 kg-m
  - 3: 2500 kg-m, 4550 kg-m
  - 4: 5950 kg-m, 3850 kg-m
- คำตอบที่ถูกต้อง : 2

ข้อที่ 30 : จงคำนวณหาโมเมนต์ตัดที่กระทำต่อคานของภาคตัดที่ผ่านจุด C ดังแสดงในรูป



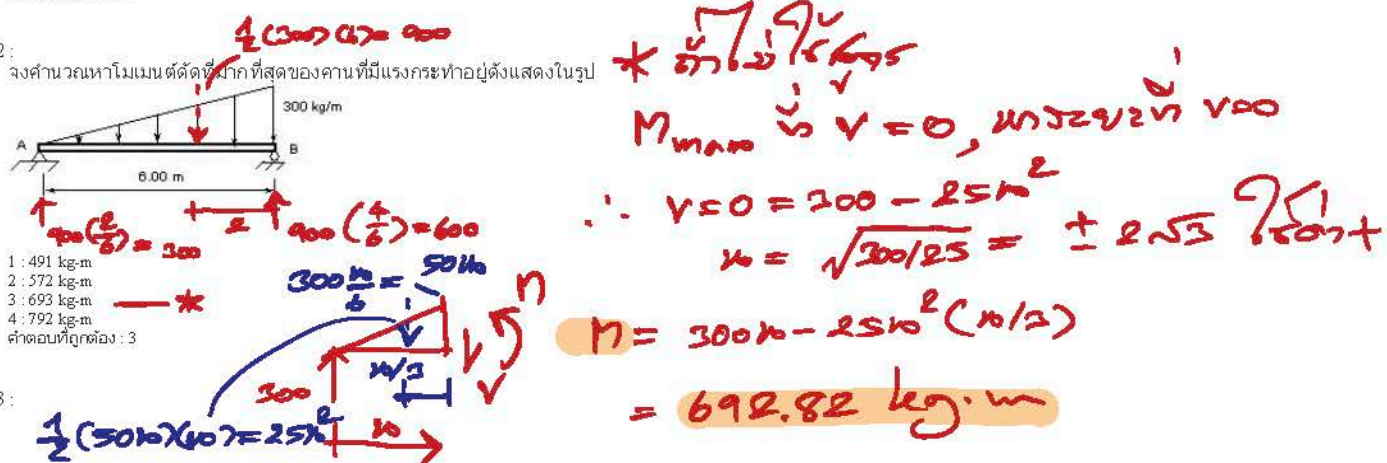
- 1: 166.7 kg-m
  - 2: 333.3 kg-m
  - 3: 533.3 kg-m
  - 4: 666.7 kg-m
- คำตอบที่ถูกต้อง : 3

ข้อที่ 31 : จงคำนวณหาแรงเฉือนภายในของภาคตัดที่ผ่านระหว่างจุด B และ C ของคานที่มีแรงกระทำอยู่ดังแสดงในรูป



- 1: 0
  - 2: 1 T
  - 3: 2 T
  - 4: 3 T
  - 5: 4 T
- คำตอบที่ถูกต้อง : 1

ข้อที่ 32 : จงคำนวณหาโมเมนต์ตัดที่มากที่สุดของคานที่มีแรงกระทำอยู่ดังแสดงในรูป



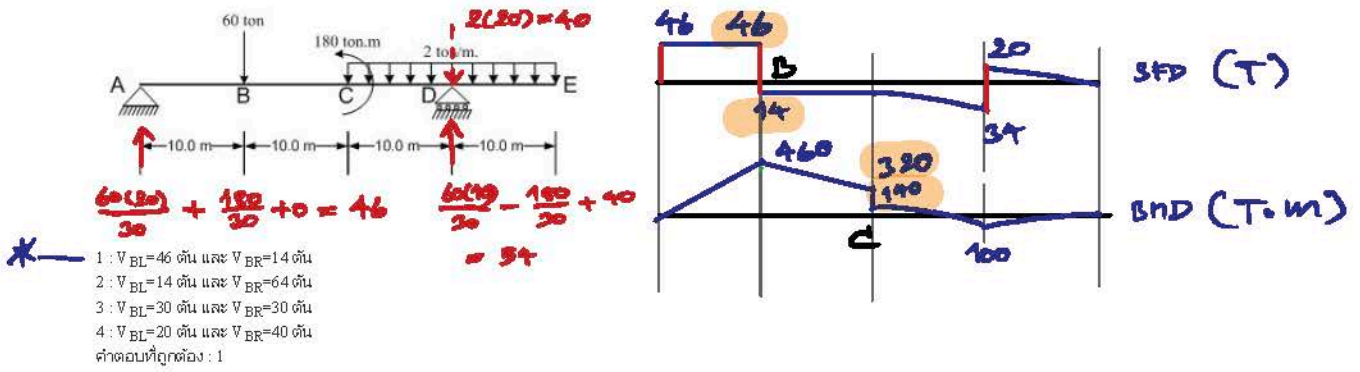
- 1: 491 kg-m
  - 2: 572 kg-m
  - 3: 693 kg-m
  - 4: 792 kg-m
- คำตอบที่ถูกต้อง : 3

ข้อที่ 33 :

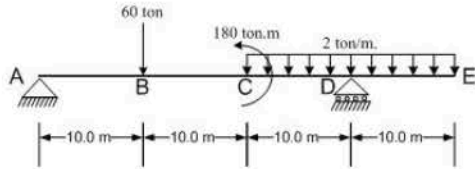




จงคำนวณหาแรงเฉือน (Shear force)  $V_{BL}$  ที่ฝั่งซ้ายของจุด B และ  $V_{BR}$  ที่ฝั่งขวาของจุด B ของคาน (Beam) ABCDE ดังแสดงในรูป

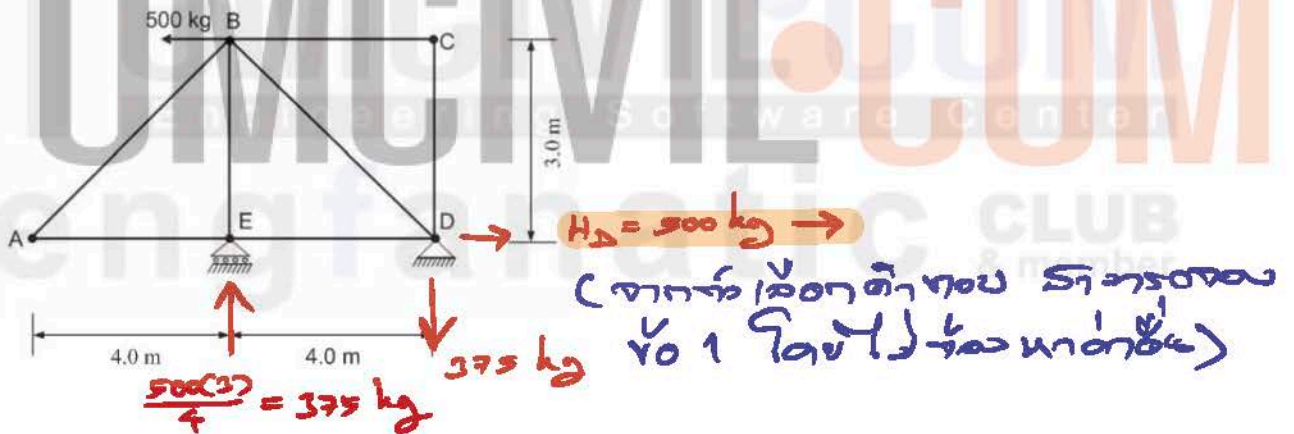


ข้อที่ 34 : จงคำนวณหาโมเมนต์ดัด (Bending Moment)  $M_{CL}$  ที่ฝั่งซ้ายของจุด C และ  $M_{CR}$  ที่ฝั่งขวาของจุด C ของคาน (Beam) ABCDE ดังแสดงในรูป



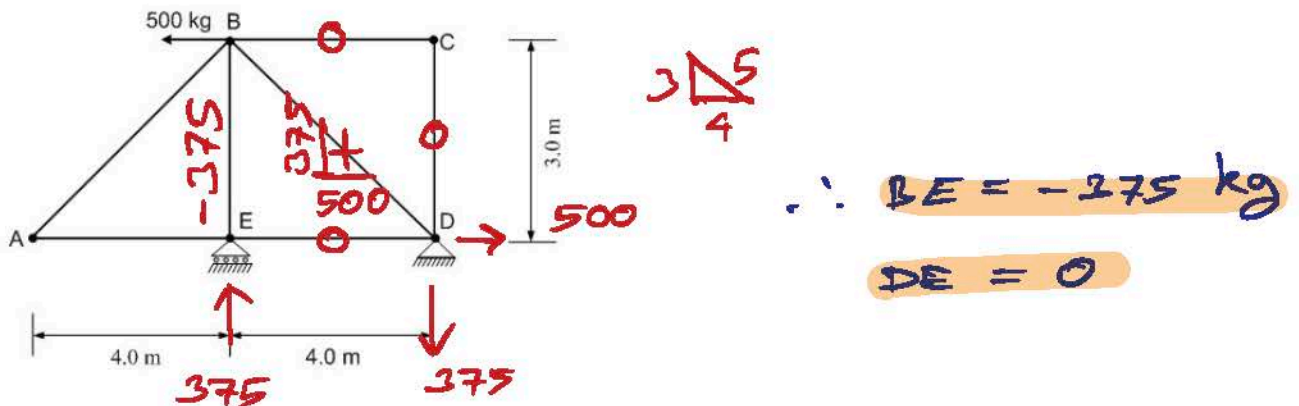
- 1:  $M_{CL} = 420$  ตัน.เมตร และ  $M_{CR} = 240$  ตัน.เมตร  
 2:  $M_{CL} = 140$  ตัน.เมตร และ  $M_{CR} = 320$  ตัน.เมตร  
 3:  $M_{CL} = 320$  ตัน.เมตร และ  $M_{CR} = 140$  ตัน.เมตร  
 4:  $M_{CL} = 220$  ตัน.เมตร และ  $M_{CR} = 40$  ตัน.เมตร  
 คำตอบที่ถูกต้อง : 3

ข้อที่ 35 : จงคำนวณหาขนาดและทิศทางของแรงปฏิกิริยา (Reaction forces)  $R_D$  และ  $H_D$  ที่จุด D และ  $R_E$  ที่จุด E ของโครงข้อหมุน (Truss) ดังแสดงในรูป



- 1:  $H_D = 500$  kg ทิศทางไปทางขวา,  $R_D = 375$  kg ทิศทางลง และ  $R_E = 375$  kg ทิศทางขึ้น \*  
 2:  $H_D = 250$  kg ทิศทางไปทางขวา,  $R_D = 375$  kg ทิศทางลง และ  $R_E = 375$  kg ทิศทางลง  
 3:  $H_D = 250$  kg ทิศทางไปทางซ้าย,  $R_D = 187.5$  kg ทิศทางขึ้น และ  $R_E = 375$  kg ทิศทางขึ้น  
 4:  $H_D = 500$  kg ทิศทางไปทางซ้าย,  $R_D = 187.5$  kg ทิศทางขึ้น และ  $R_E = 375$  kg ทิศทางขึ้น  
 คำตอบที่ถูกต้อง : 1

ข้อที่ 36 : จงคำนวณหาขนาดและประเภทของแรงตามแนวแกน (Axial forces) ในชิ้นส่วน BE และชิ้นส่วน DE ของโครงข้อหมุน (Truss) ABCDE ดังแสดงในรูป

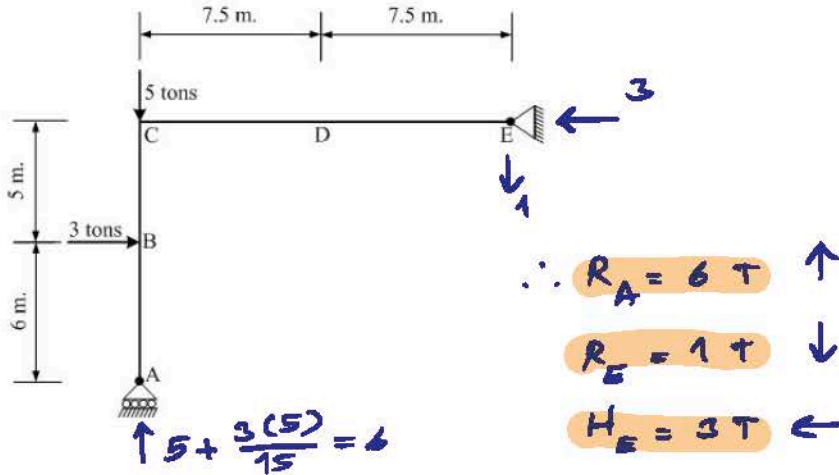


- 1 :  $F_{BE} = 0 \text{ kg}$  และ  $F_{DE} = 375 \text{ kg}$  เป็นแรงดึง
  - 2 :  $F_{BE} = 375 \text{ kg}$  เป็นแรงดึง และ  $F_{DE} = 375 \text{ kg}$  เป็นแรงอัด
  - 3 :  $F_{BE} = 375 \text{ kg}$  เป็นแรงอัด และ  $F_{DE} = 0 \text{ kg}$
  - 4 :  $F_{BE} = 0 \text{ kg}$  และ  $F_{DE} = 0 \text{ kg}$
- คำตอบที่ถูกต้อง : 3



ข้อที่ 37 :

จงคำนวณหาขนาดและทิศทางของแรงปฏิกิริยา (Reaction forces)  $R_A$ ,  $R_E$  และ  $H_E$  ที่ฐานรองรับ A และ E ของโครงข้อแข็ง (Frame) ดังแสดงในรูป

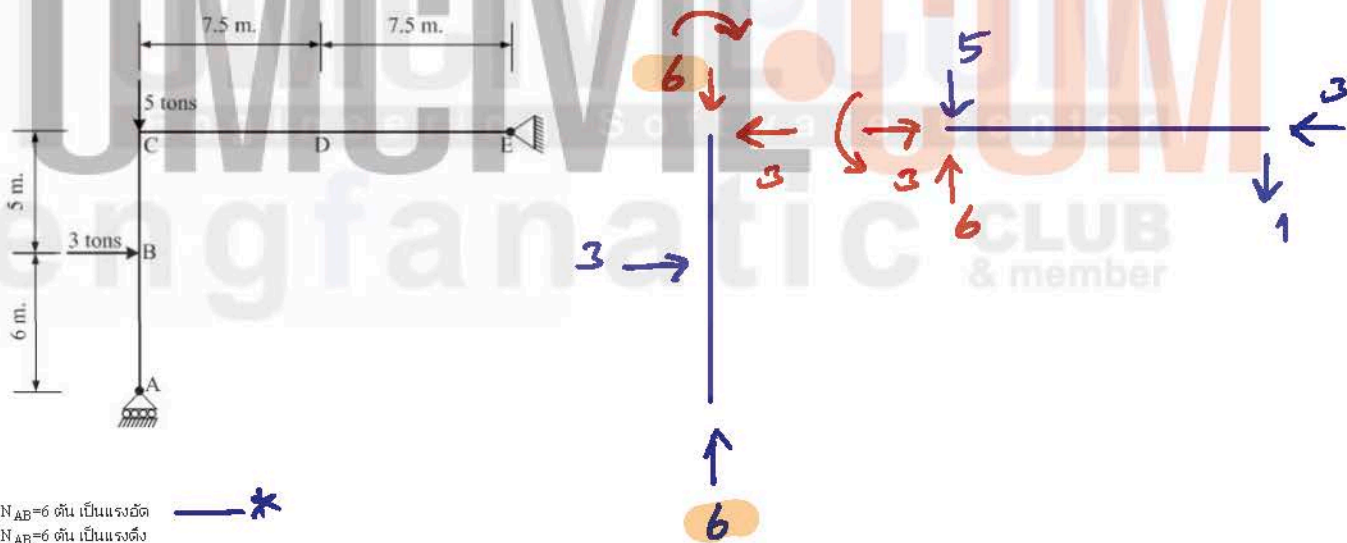


- 1 :  $R_A = 6$  ตัน มีทิศทางขึ้น,  $R_E = 1$  ตัน มีทิศทางขึ้น และ  $H_E = 3$  ตัน มีทิศทางไปทางขวา
  - 2 :  $R_A = 6$  ตัน มีทิศทางลง,  $R_E = 1$  ตัน มีทิศทางลง และ  $H_E = 3$  ตัน มีทิศทางไปทางซ้าย
  - 3 :  $R_A = 3$  ตัน มีทิศทางลง,  $R_E = 6$  ตัน มีทิศทางขึ้น และ  $H_E = 1$  ตัน มีทิศทางไปทางขวา
  - 4 :  $R_A = 6$  ตัน มีทิศทางขึ้น,  $R_E = 1$  ตัน มีทิศทางลง และ  $H_E = 3$  ตัน มีทิศทางไปทางซ้าย
- คำตอบที่ถูกต้อง : 4



ข้อที่ 38 :

จงคำนวณหาขนาดและประเภทของแรงตามแนวแกน (Axial forces) ในชิ้นส่วน ABC ที่จุด B ของโครงข้อแข็ง (Frame) ดังแสดงในรูป



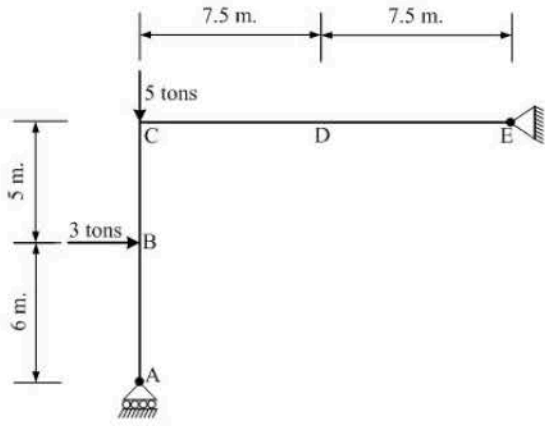
- 1 :  $N_{AB} = 6$  ตัน เป็นแรงอัด
  - 2 :  $N_{AB} = 6$  ตัน เป็นแรงดึง
  - 3 :  $N_{AB} = 3$  ตัน เป็นแรงอัด
  - 4 :  $N_{AB} = 3$  ตัน เป็นแรงดึง
- คำตอบที่ถูกต้อง : 1



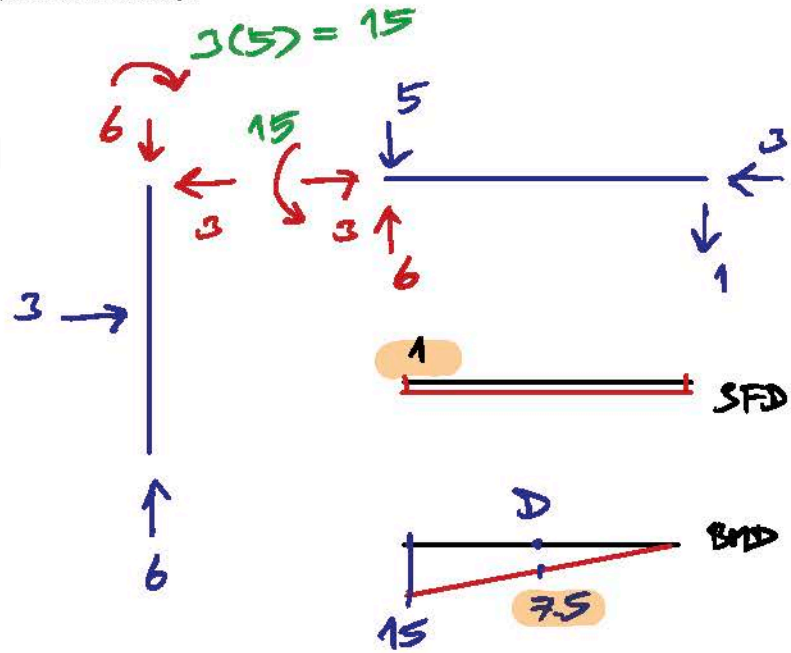
ข้อที่ 39 :



จงคำนวณหาแรงเฉือน (Shear force)  $V_D$  ที่จุด D ของโครงข้อแข็ง (Frame) ABCDE ดังแสดงในรูป

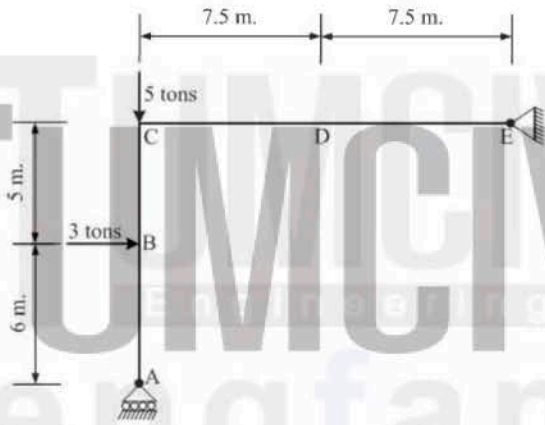


- 1:  $V_D=0$  ตัน
  - 2:  $V_D=1$  ตัน
  - 3:  $V_D=6$  ตัน
  - 4:  $V_D=3$  ตัน
- คำตอบที่ถูกต้อง: 2



ข้อที่ 40:

จงคำนวณหาโมเมนต์ดัด (Bending Moment)  $M_D$  ที่จุด D ของโครงข้อแข็ง (Frame) ดังแสดงในรูป



- 1:  $M_D=5$  ตัน. เมตร
  - 2:  $M_D=7.5$  ตัน. เมตร
  - 3:  $M_D=10$  ตัน. เมตร
  - 4:  $M_D=15$  ตัน. เมตร
- คำตอบที่ถูกต้อง: 2

ข้อที่ 41:

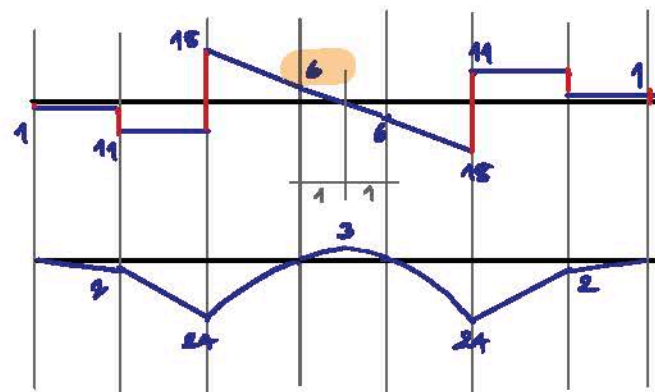
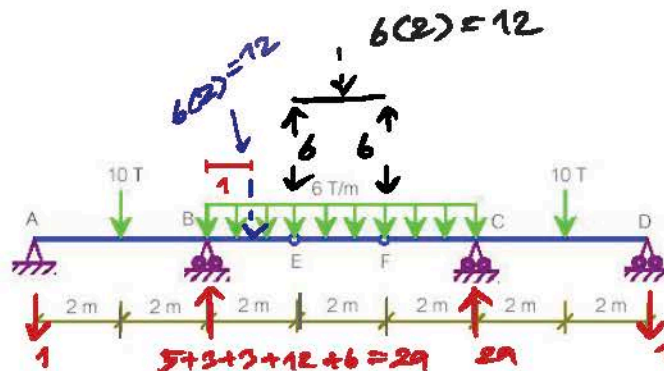
$$R_A = 5 - \frac{6(2)}{4} - \frac{12(1)}{4}$$

$$= 5 - 3 - 3 = -1$$

$$= 1 \text{ kD} \downarrow$$

แรงเฉือน ที่จุด E ของโครงสร้างดังรูปมีค่าเท่าไร

- 1: 0 T
  - 2: 3 T
  - 3: 6 T
  - 4: 12 T
- คำตอบที่ถูกต้อง: 3

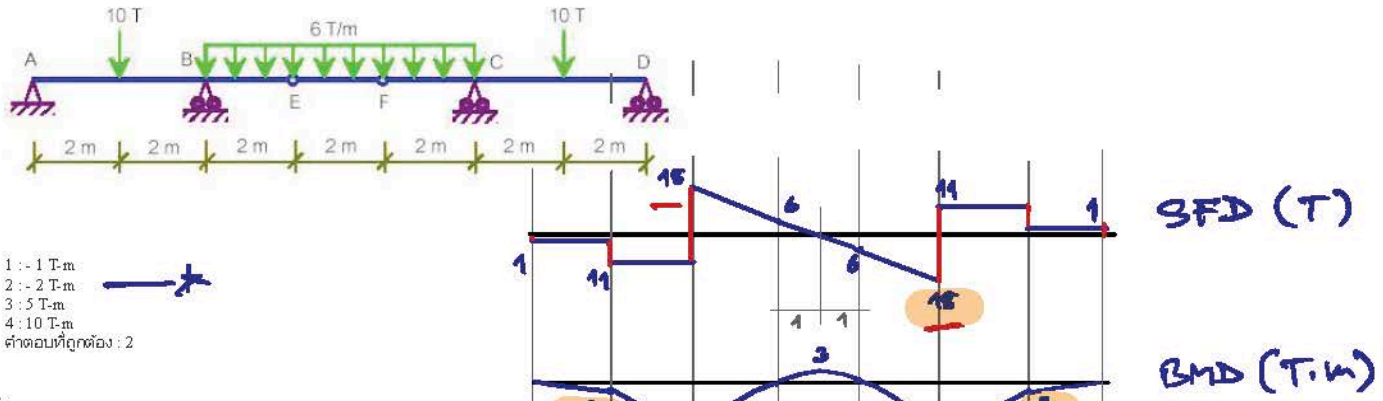


SFD (T)

BMD (T.m)

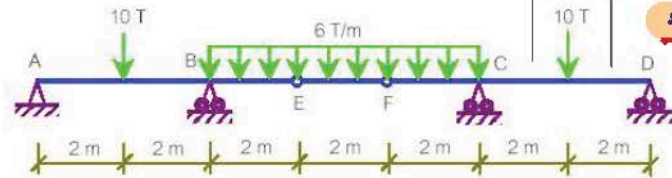
ข้อที่ 42:

ค่าโมเมนต์ดัดที่จุดซึ่งแรง 10 T กระทำบนโครงสร้างดังรูปมีค่าเท่าไร



ข้อที่ 43:

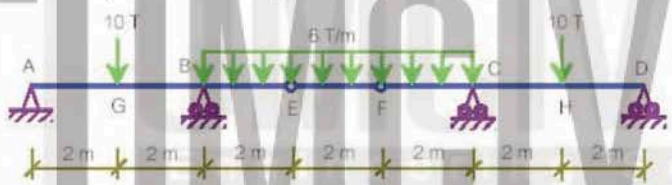
ค่าโมเมนต์ดัดสูงสุดบนโครงสร้างดังรูปเป็นอย่างไร



- 1: 3 T.m ที่จุดกึ่งกลางโครงสร้าง  
2: 27 T.m ที่จุดกึ่งกลางโครงสร้าง  
3: -24 T.m ที่จุด B และ C  
4: -27 T.m ที่จุด B และ C  
คำตอบที่ถูกต้อง : 3

ข้อที่ 44:

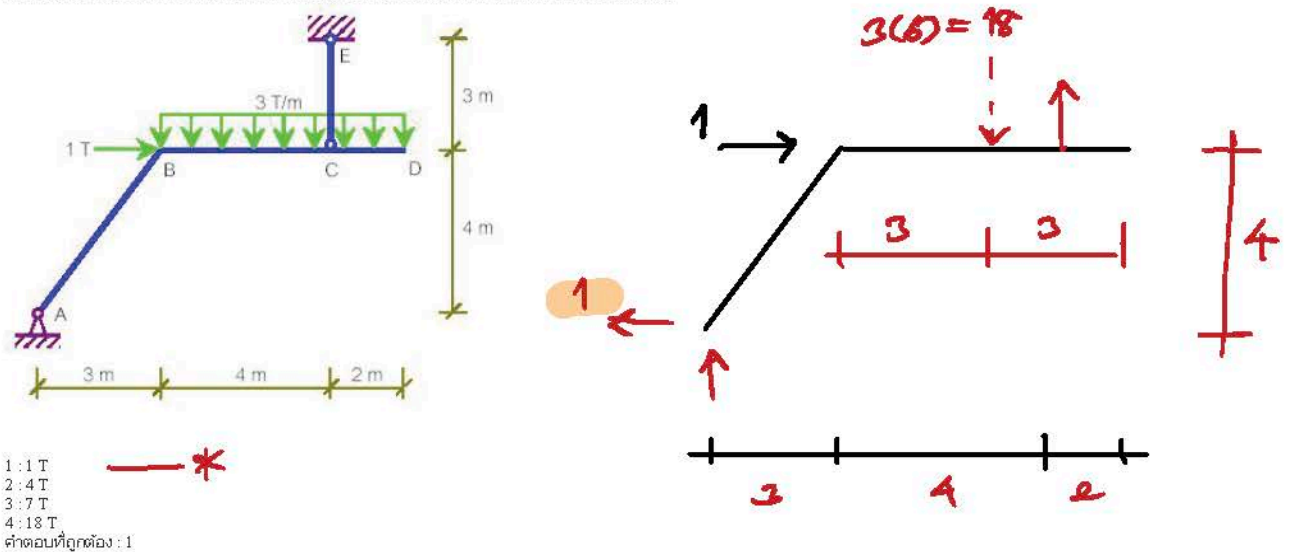
ค่าแรงเฉือนสูงสุดบนโครงสร้างดังรูปเป็นอย่างไร



- 1: 9.3 T ที่จุด A  
2: 10 T ที่จุด G  
3: 18 T ที่จุด B  
4: 29 T ที่จุด B  
คำตอบที่ถูกต้อง : 3

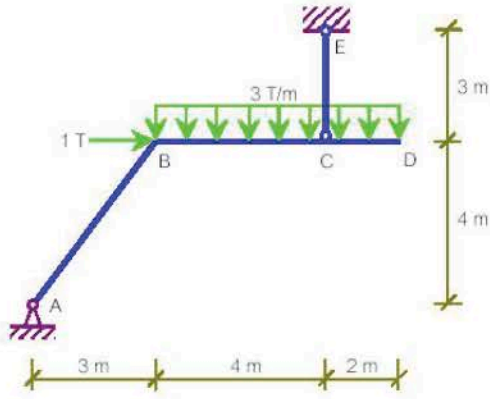
ข้อที่ 45:

แรงปฏิกิริยาในแนวราบที่จุด A ของโครงสร้างดังรูปมีค่าเท่าไร รูปภาพประกอบคำถาม:

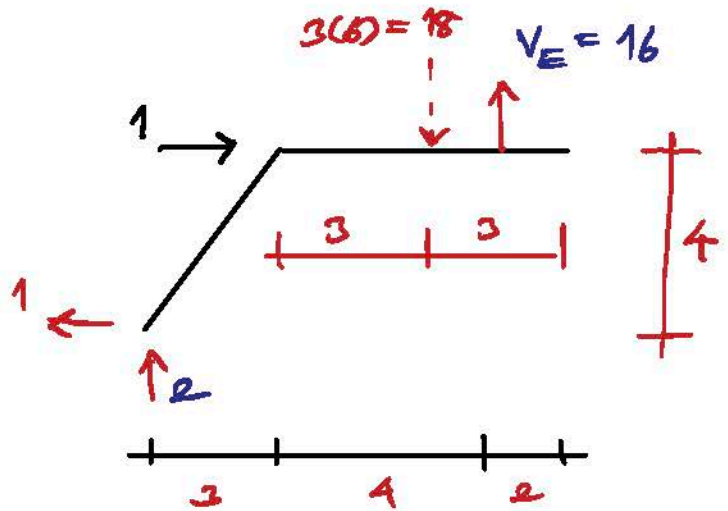


ข้อที่ 46:

แรงปฏิกิริยาในแนวตั้ง ที่จุด E ของโครงสร้างดังรูปมีค่าเท่าไร



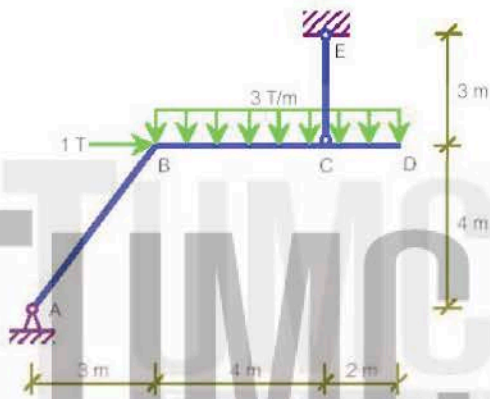
- 1: 3 T
  - 2: 6 T
  - 3: 12 T
  - 4: 16 T
- คำตอบที่ถูกต้อง : 4



$$V_E = \frac{1}{7} [1(4) + 18(6)] = 16 T \uparrow$$

ข้อที่ 47:

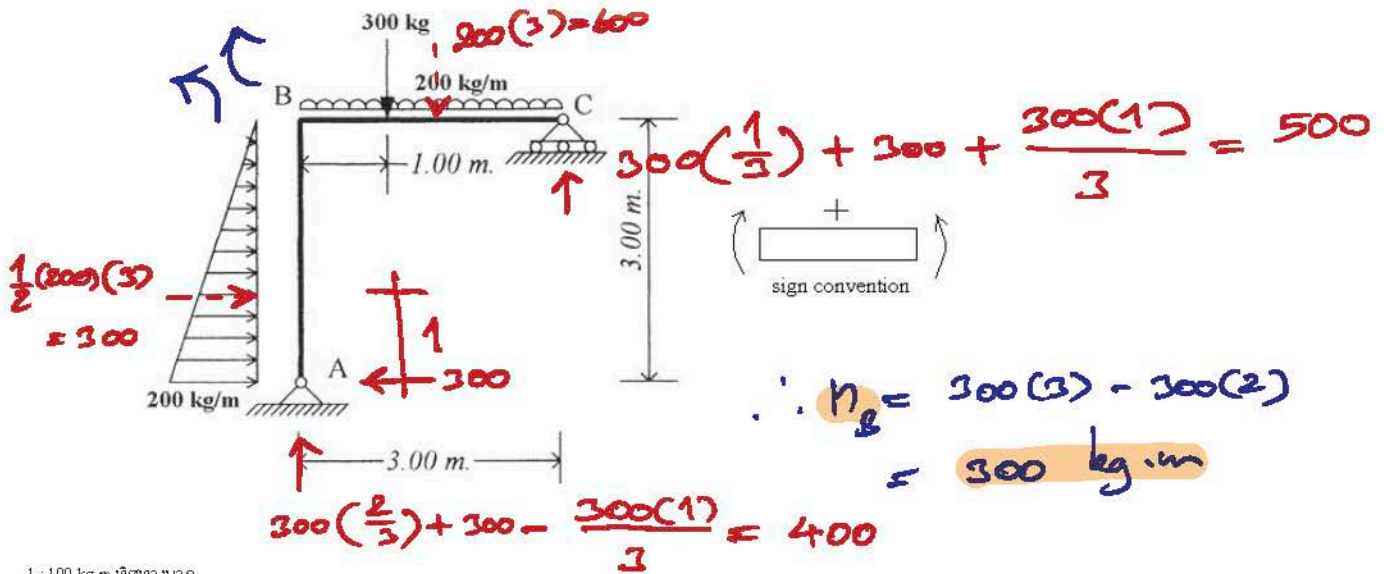
ค่าโมเมนต์ตัดสูงสุดบนโครงสร้างดังรูปเป็นอย่างไร



- 1: -6 T-m ที่จุด C
  - 2: 6 T-m ระหว่างจุด B และ C
  - 3: 6 T-m ที่จุด B
  - 4: 10 T-m ที่จุด B
- คำตอบที่ถูกต้อง : 4

ข้อที่ 48:

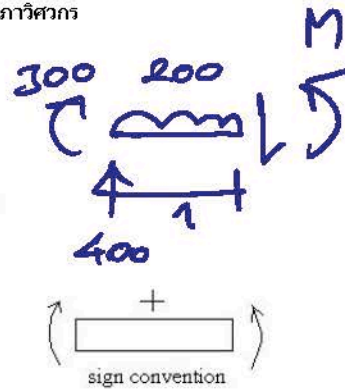
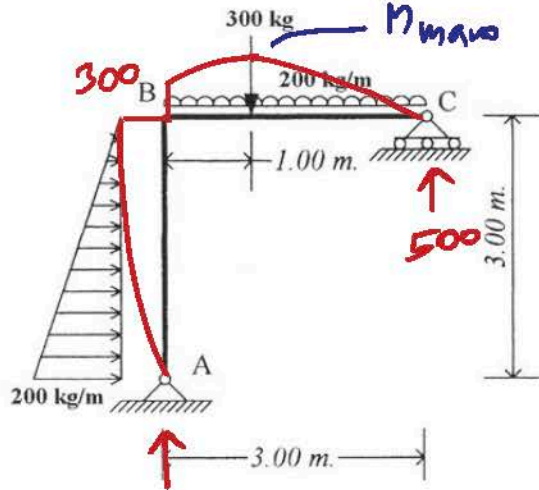
โครงข้อแข็งรับน้ำหนักดังรูป ที่ตำแหน่ง B มีค่าโมเมนต์ตัดเป็นเท่าใด



- 1: 100 kg-m ทิศทางบวก
  - 2: 300 kg-m ทิศทางลบ
  - 3: 300 kg-m ทิศทางบวก
  - 4: 600 kg-m ทิศทางลบ
- คำตอบที่ถูกต้อง : 3

ข้อที่ 49:

โครงสร้างรับน้ำหนักดัดรูป มีค่าโมเมนต์ดัดสูงสุดเป็นเท่าใด



$$\therefore M_{max} = 300 + 400(1) - 200(1)\left(\frac{1}{2}\right)$$

$$= 600 \text{ kg}\cdot\text{m}$$

- 1: 600 kg·m หักทางบวก
- 2: 600 kg·m หักทางลบ
- 3: 1400 kg·m หักทางบวก
- 4: 1400 kg·m หักทางลบ
- คำตอบที่ถูกต้อง: 1


ข้อที่ 50:

คานช่วงเดียวที่รับน้ำหนักตามรูป จะมีแผนภาพโมเมนต์ดัดเป็นแบบใด

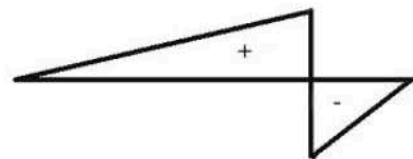


คาน 1 ปลายซ้ายยึด ปลายขวา


1:



2:



3:

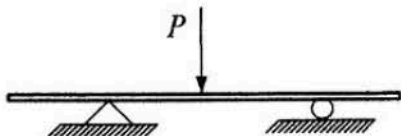


4:

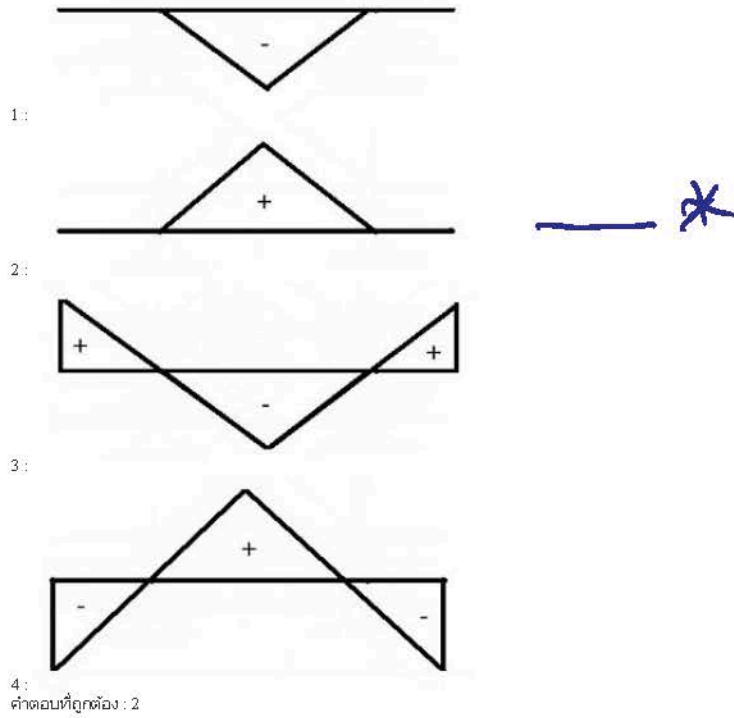
คำตอบที่ถูกต้อง: 1

ข้อที่ 51:

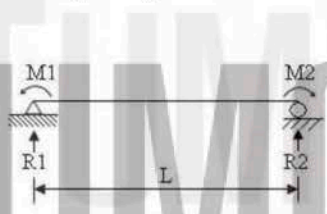
คานช่วงเดียวที่รับน้ำหนักตามรูป จะมีแผนภาพโมเมนต์ดัดเป็นแบบใด







ข้อที่ 52 :  
จงคำนวณหาแรงปฏิกิริยาที่ฐานรองรับของคานที่มีค่าหนด

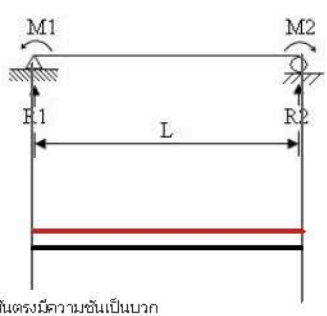


$$R1 = \frac{M1 - M2}{L}$$

$$R2 = -R1 = \frac{M2 - M1}{L}$$

- 1:  $R1 = (M1 - M2)/L, R2 = (M2 - M1)/L$
  - 2:  $R1 = (M2 - M1)/L, R2 = (M1 - M2)/L$
  - 3:  $R1 = M2/L - M1, R2 = M1/L - M2$
  - 4:  $R1 = M2 - M1/L, R2 = M1 - M2/L$
- คำตอบที่ถูกต้อง : 1

ข้อที่ 53 :  
Shear force diagram ของคานในรูปมีลักษณะเป็นอย่างไร



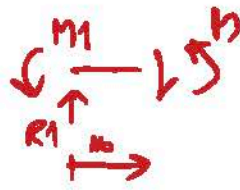

\* ถ้า  $M1 > M2$ ;  $V +$   
 $M1 < M2$ ;  $V -$  }  $\sigma_{\text{การดึง} = 0$

- 1: กราฟเส้นตรงมีความชันเป็นบวก
  - 2: กราฟเส้นตรงมีความชันเป็นลบ
  - 3: กราฟเส้นตรงแนวความชันเป็นศูนย์
  - 4: กราฟเส้นโค้งกำลังสอง
- คำตอบที่ถูกต้อง : 3

ข้อที่ 54 :



จงเขียนสมการของ Bending moment diagram ของคานในรูป กำหนดให้ x เป็นระยะใด ๆ วัดจากฐานรองรับด้านซ้ายมือ



$$\therefore R_1 = \frac{M_1 - M_2}{1} = M_1 - M_2$$

$$M = R_1 x - M_1 = (M_1 - M_2)x - M_1$$

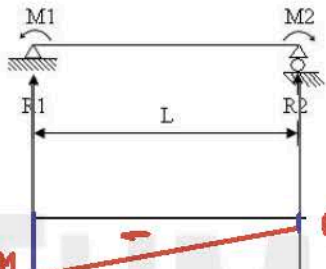
$$= (M_1)x - (M_2)x - M_1$$

$$= -(M_1)(1-x) - (M_2)x$$

- 1:  $M = (M_1)(1-x) - (M_2)x$
  - 2:  $M = (M_2)(1-x) + (M_1)x$
  - 3:  $M = -(M_1)(1-x) - (M_2)x$
  - 4:  $M = -(M_1)(1-x) + (M_2)x$
- คำตอบที่ถูกต้อง : 3

ข้อที่ 55 :

กำหนดให้  $M_1$  มีค่ามากกว่า  $M_2$  ลักษณะของ Bending moment diagram สำหรับคานในรูปเป็นอย่างไร



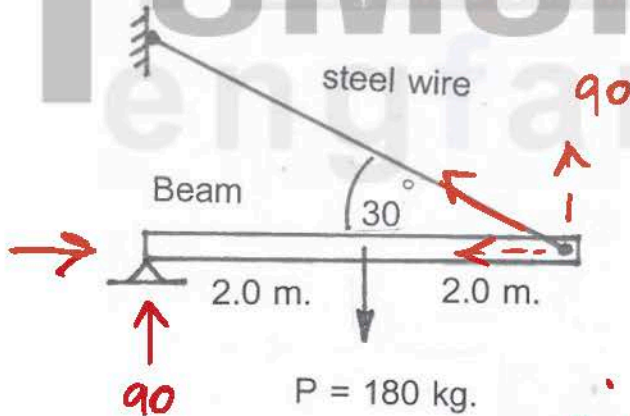
ถ้า  $x = 0; M = -(M_1)(1-0) - (M_2)(0) = -M_1$

$x = 1; M = -(M_1)(1-1) - (M_2)(1) = -M_2$

- 1: เส้นโค้งหงายก่าสอง
  - 2: เส้นตรงนอนความชันเป็นศูนย์
  - 3: เส้นตรงเอียงความชันเป็นบวก
  - 4: เส้นตรงเอียงความชันเป็นลบ
- คำตอบที่ถูกต้อง : 4

ข้อที่ 56 :

จากรูปที่แสดง แรงดึงในลวดเหล็ก มีค่าเท่ากับ

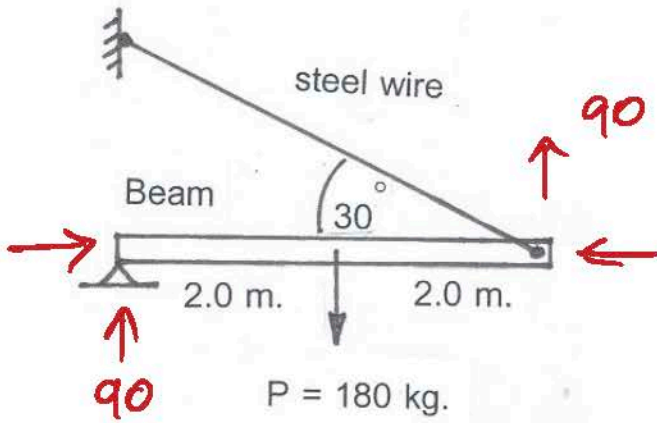


$$\therefore \text{แรงดึงในลวด} = \frac{90}{\sin 30} = 180 \text{ kg}$$

- 1: 90 กก.
  - 2: 104 กก.
  - 3: 156 กก.
  - 4: 180 กก.
- คำตอบที่ถูกต้อง : 4

ข้อที่ 57 :

จากรูปที่แสดง คานรับโมเมนต์มากที่สุดเท่ากับ

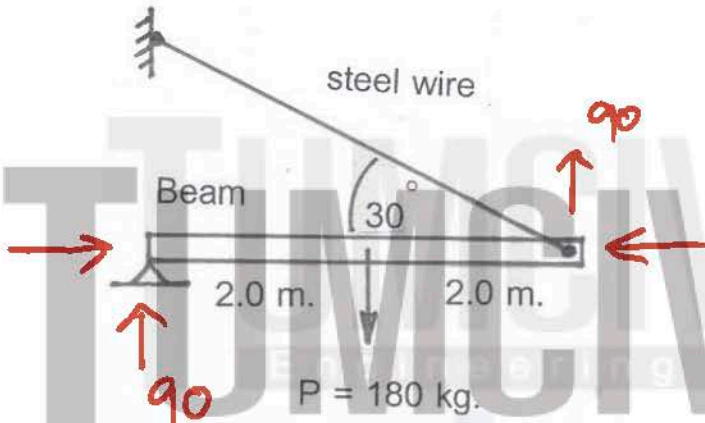


$M_{max} = 90 (2)$   
 $= 180 \text{ kg.m}$

- 1: 90 กก.-ม.
  - 2: 180 กก.-ม. — \*
  - 3: 208 กก.-ม.
  - 4: 312 กก.-ม.
- คำตอบที่ถูกต้อง : 2

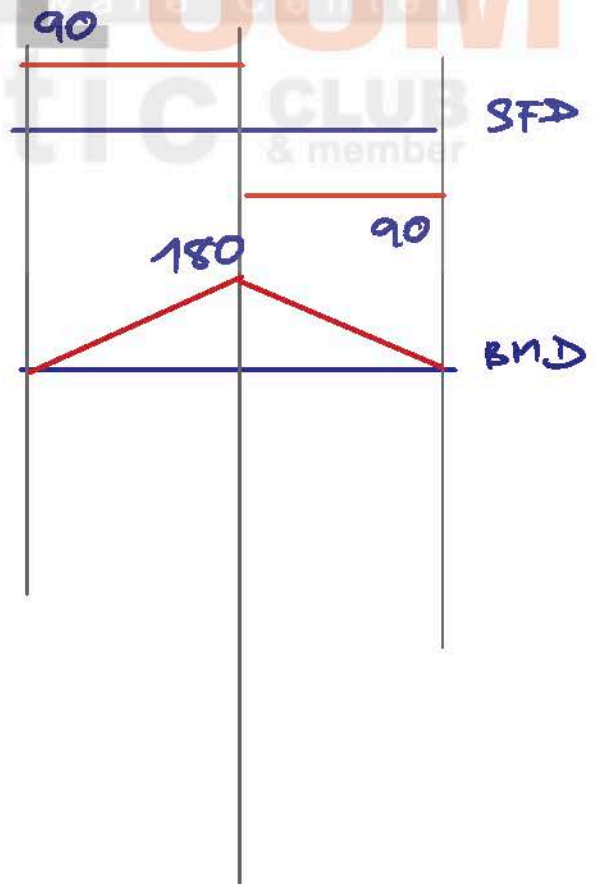
ข้อที่ 58 :

จากรูปที่แสดง คานรับแรงเฉือนมากที่สุดเท่ากับ



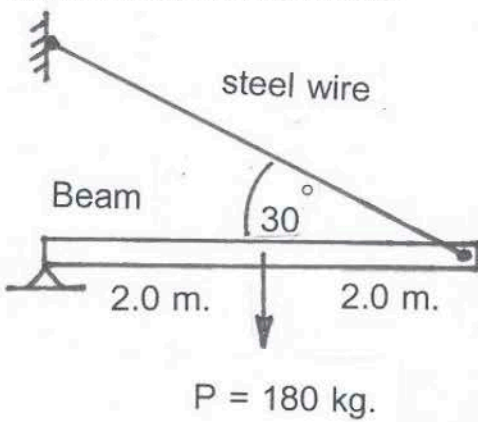
$V_{max} = 90 \text{ kg}$

- 1: 90 กก.
  - 2: 104 กก.
  - 3: 156 กก.
  - 4: 180 กก. — \*
- คำตอบที่ถูกต้อง : 1



ข้อที่ 59 :

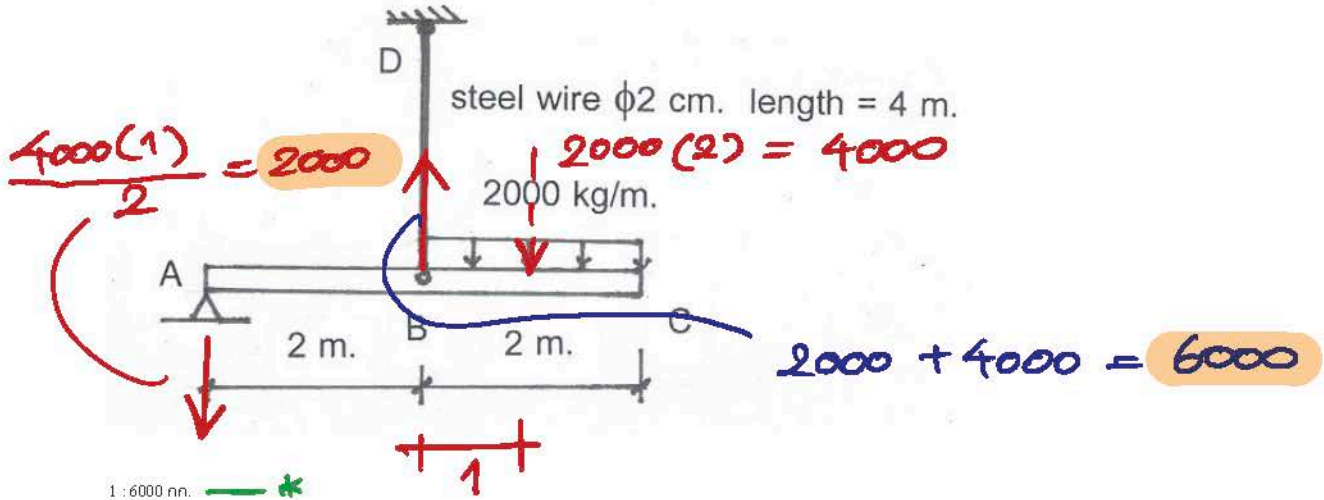
จากรูปที่แสดง ภาพของโมเมนต์ตัดบนคาน มีรูปเป็น



- 1: วงกลม
  - 2: สี่เหลี่ยมผืนผ้า
  - 3: สามเหลี่ยม
  - 4: พาราโบลา — \*
- คำตอบที่ถูกต้อง : 3

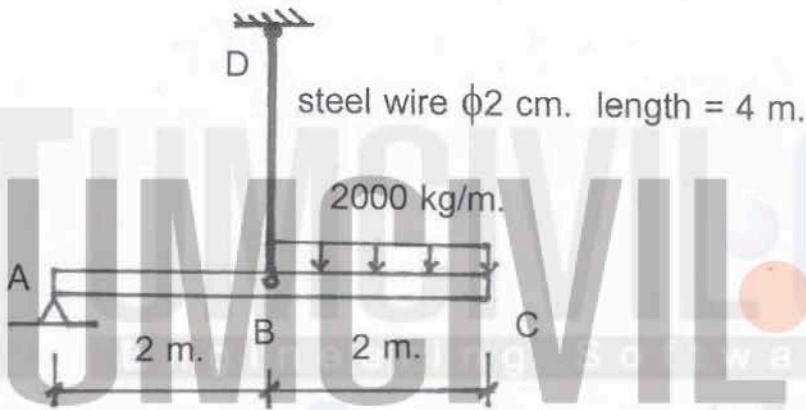
ข้อที่ 60 :

จากรูปที่แสดง แรงในลวดเหล็กมีค่าเท่ากับ



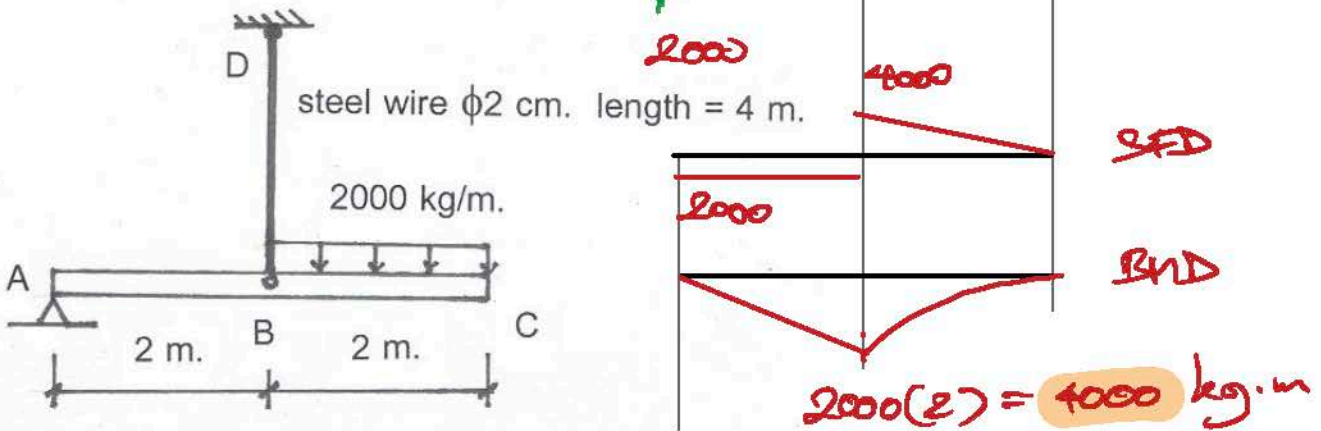
- 1: 6000 กก.
  - 2: 3000 กก.
  - 3: 1500 กก.
  - 4: 750 กก.
- คำตอบที่ถูกต้อง : 1

ข้อที่ 61 :  
จากรูปที่แสดง แรงปฏิกิริยาที่จุด A เท่ากับ



- 1: 10,000 กก.
  - 2: 6000 กก.
  - 3: 4000 กก.
  - 4: 2000 กก.
- คำตอบที่ถูกต้อง : 4

ข้อที่ 62 :  
จากรูปที่แสดง โมเมนต์มากที่สุดในด้านเท่ากับ

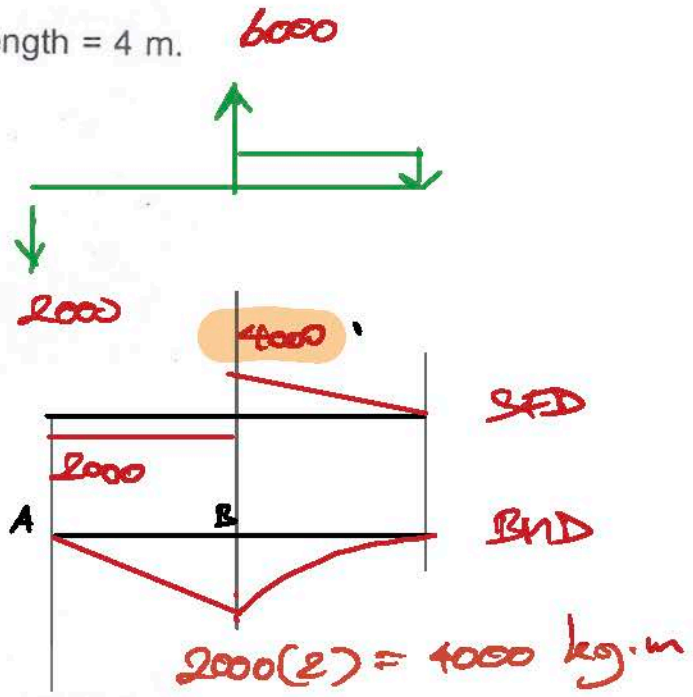
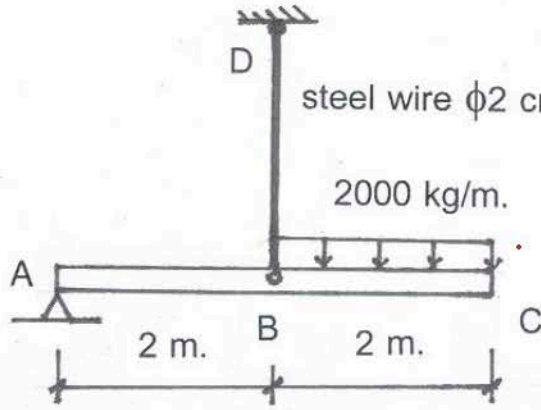


- 1: 4000 กก.-ม.
  - 2: 8000 กก.-ม.
  - 3: 12000 กก.-ม.
  - 4: 20000 กก.-ม.
- คำตอบที่ถูกต้อง : 1

ข้อที่ 63 :

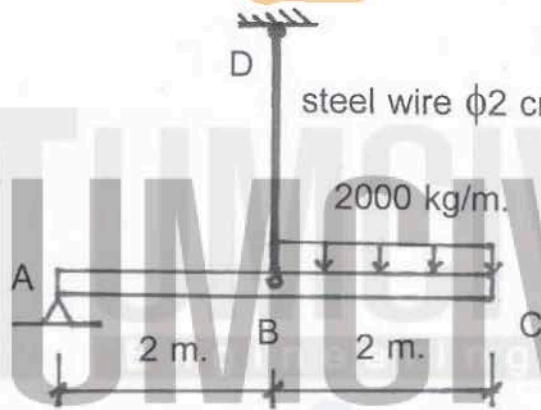


จากรูปที่แสดง แรงเฉือนมากที่สุดมีค่าเท่าไร



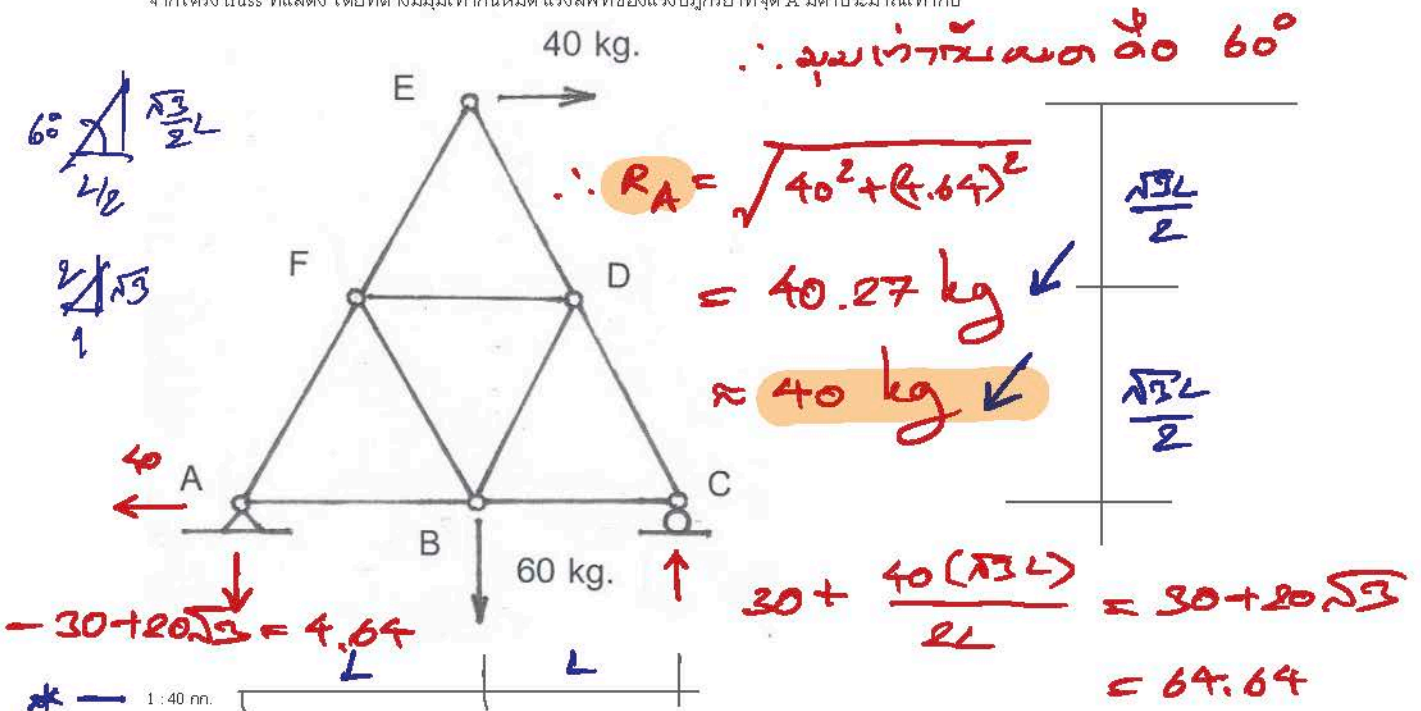
- 1: 32000 กก.
  - 2: 16000 กก.
  - 3: 8000 กก.
  - 4: 4000 กก.
- คำตอบที่ถูกต้อง : 4

ข้อที่ 64 : จากรูปที่แสดง ภาพของโมเมนต์ตัดในคานช่วง AB มีรูปเป็น



- 1: สี่เหลี่ยมผืนผ้า
  - 2: สามเหลี่ยม
  - 3: พาราโบลาจากค่าสอง
  - 4: พาราโบลาจากค่าสี่ n
- คำตอบที่ถูกต้อง : 2

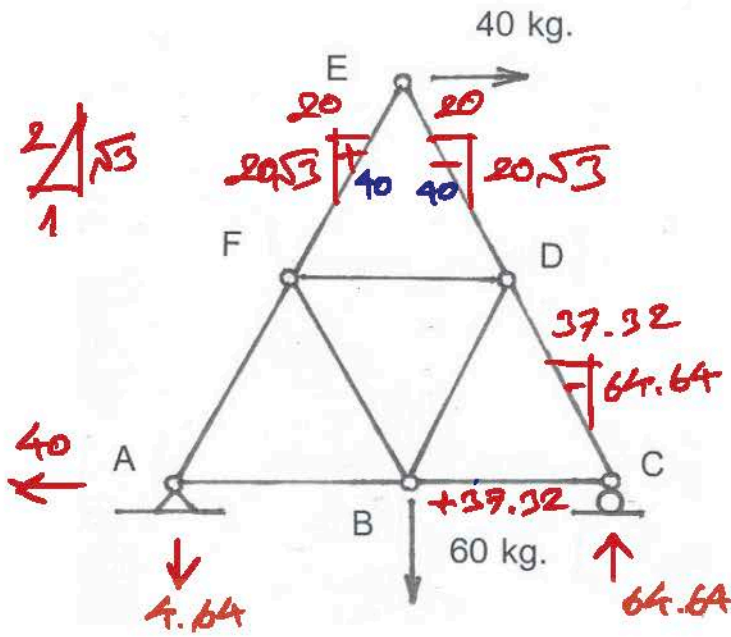
ข้อที่ 65 : จากโครง truss ที่แสดง โดยที่ต่างมีมุมเท่ากันหมด แรงลัพธ์ของแรงปฏิกิริยาที่จุด A มีค่าประมาณเท่าไร



- 2: 53 กก.
- 3: 67 กก.
- 4: 75 กก.
- คำตอบที่ถูกต้อง: 1

ข้อที่ 66:

จากโครง truss ที่แสดง โดยที่ตัวมีมุมเท่ากับหนึ่งหมด แรงภายในชิ้นส่วน BC เท่ากับ (โดยประมาณ)

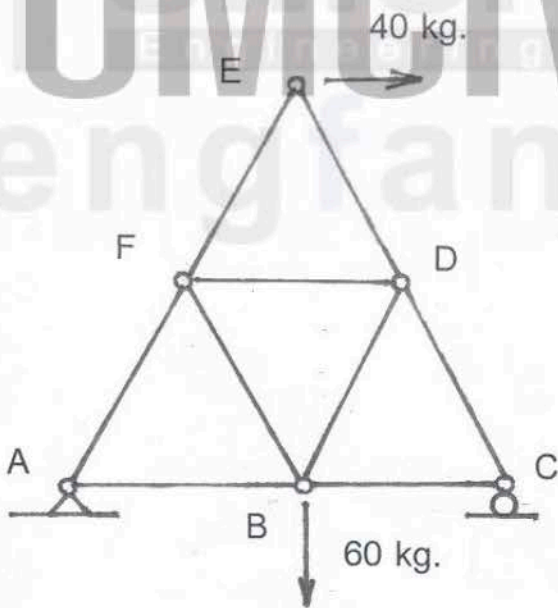


$\therefore BC = +37 \text{ kg}$

- 1: 17 กก. — \*
- 2: 37 กก. — \*
- 3: 53 กก.
- 4: 74 กก.
- คำตอบที่ถูกต้อง: 2

ข้อที่ 67:

จากโครง truss ที่แสดง โดยที่ตัวมีมุมเท่ากับหนึ่งหมด แรงภายในชิ้นส่วน EF เท่ากับ



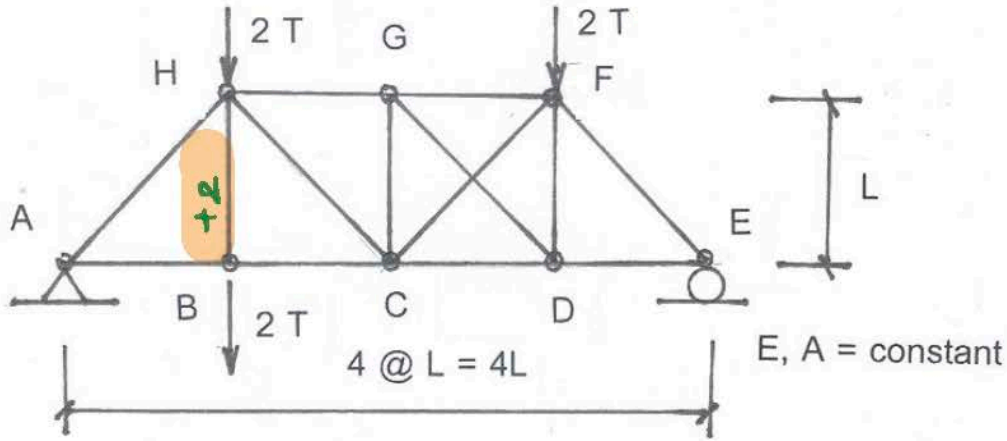
$EF = +40 \text{ kg}$

- 1: 10 กก.
- 2: 20 กก.
- 3: 30 กก. — \*
- 4: 40 กก. — \*
- คำตอบที่ถูกต้อง: 4

ข้อที่ 68:



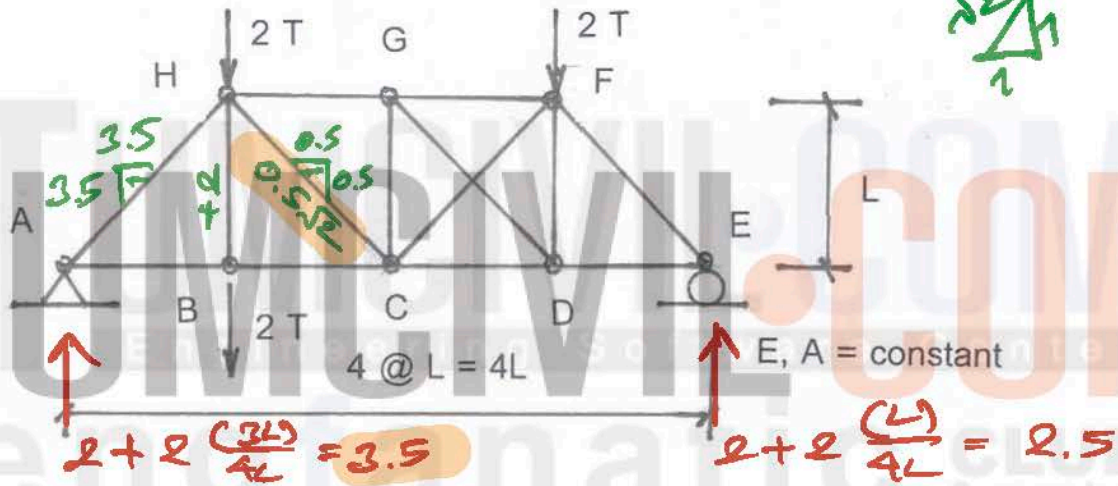
จากโครง Truss ที่แสดง แรงภายในชิ้นส่วน HB เท่ากับ



- 1: 0
- 2: 2 ตัน (แรงอัด) → \*
- 3: 2 ตัน (แรงดึง)
- 4: 4 ตัน (แรงอัด)
- คำตอบที่ถูกต้อง : 3

ข้อที่ 69:

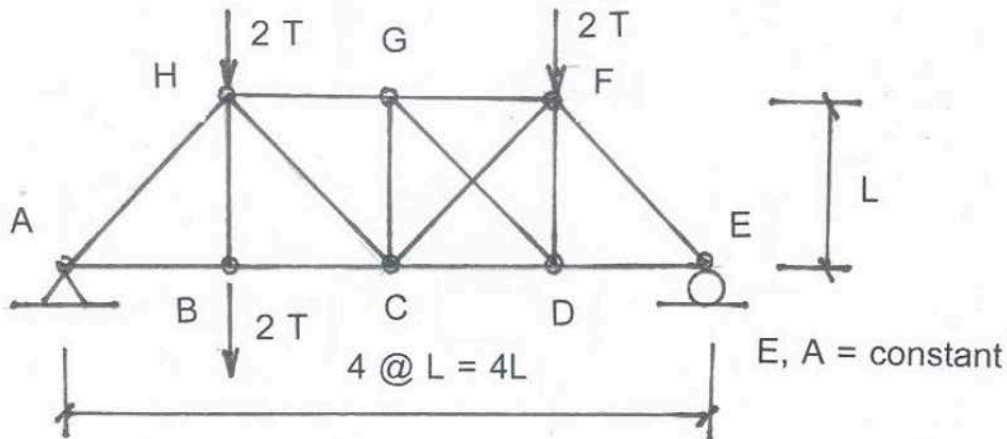
จากโครง Truss ที่แสดง แรงภายในชิ้นส่วน HC เท่ากับ



- 1: 0
- 2: 0.7 ตัน (แรงอัด) → \* (-0.5√2)
- 3: 0.7 ตัน (แรงดึง)
- 4: 2.8 ตัน (แรงอัด)
- คำตอบที่ถูกต้อง : 2

ข้อที่ 70:

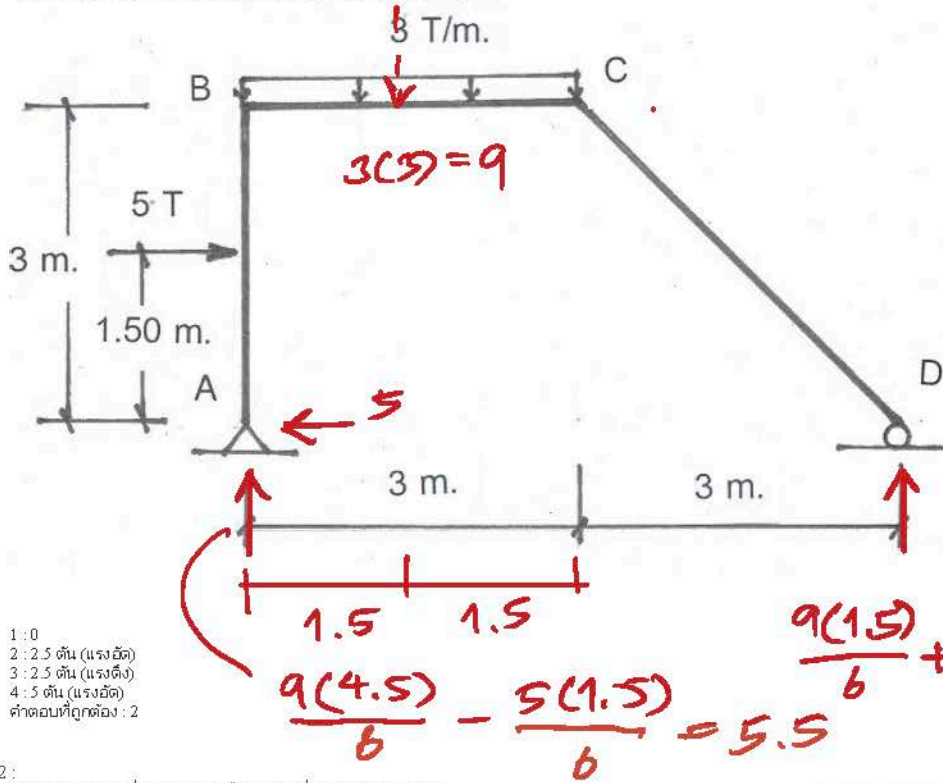
จากโครง Truss ที่แสดง แรงปฏิกิริยาที่จุด A เท่ากับ



- 1: 3.5 T → \*
- 2: 3.0 T
- 3: 2.5 T
- 4: 2.0 T
- คำตอบที่ถูกต้อง : 1

ข้อที่ 71:

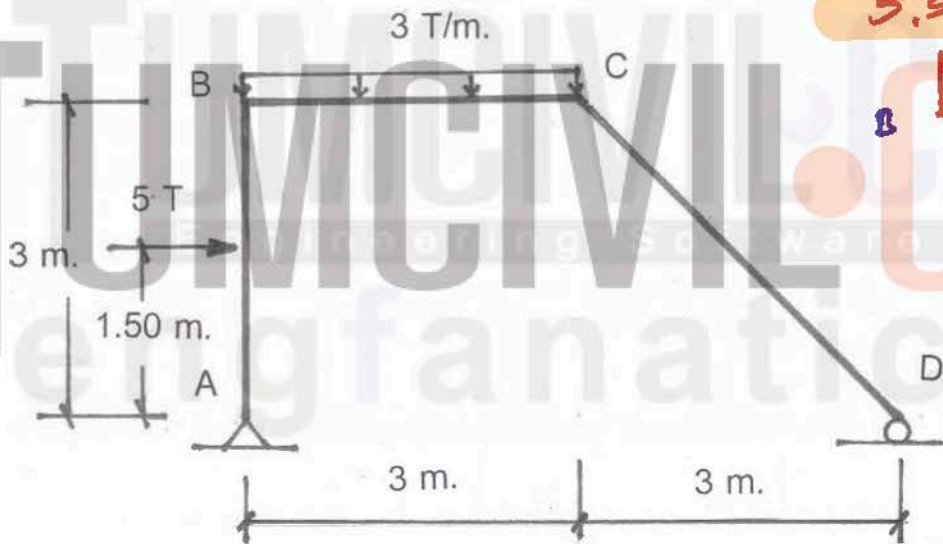
จากโครงสร้างที่แสดง แรงภายในตามแนวแกนของ CD เท่ากับ



- \* 1: 0
- 2: 2.5 ตัน (แรงอัด)
- 3: 2.5 ตัน (แรงดึง)
- 4: 5 ตัน (แรงอัด)
- คำตอบที่ถูกต้อง : 2

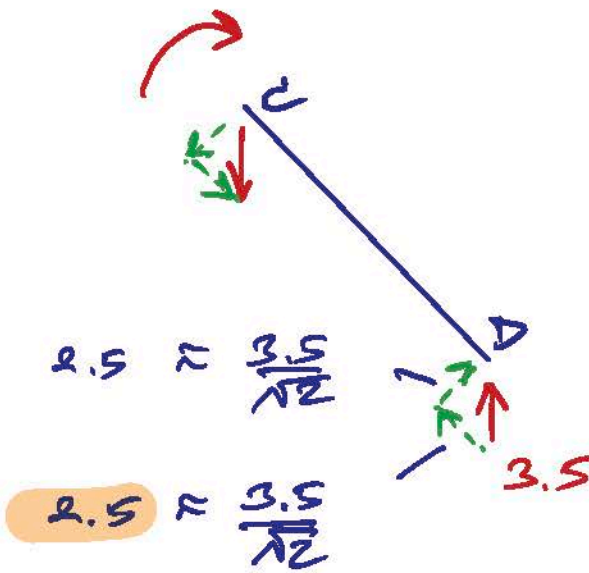
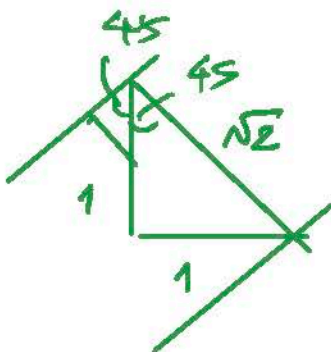
ข้อที่ 72 :

จากโครงสร้างที่แสดง แรงเฉือนมากที่สุดใน BC เท่ากับ

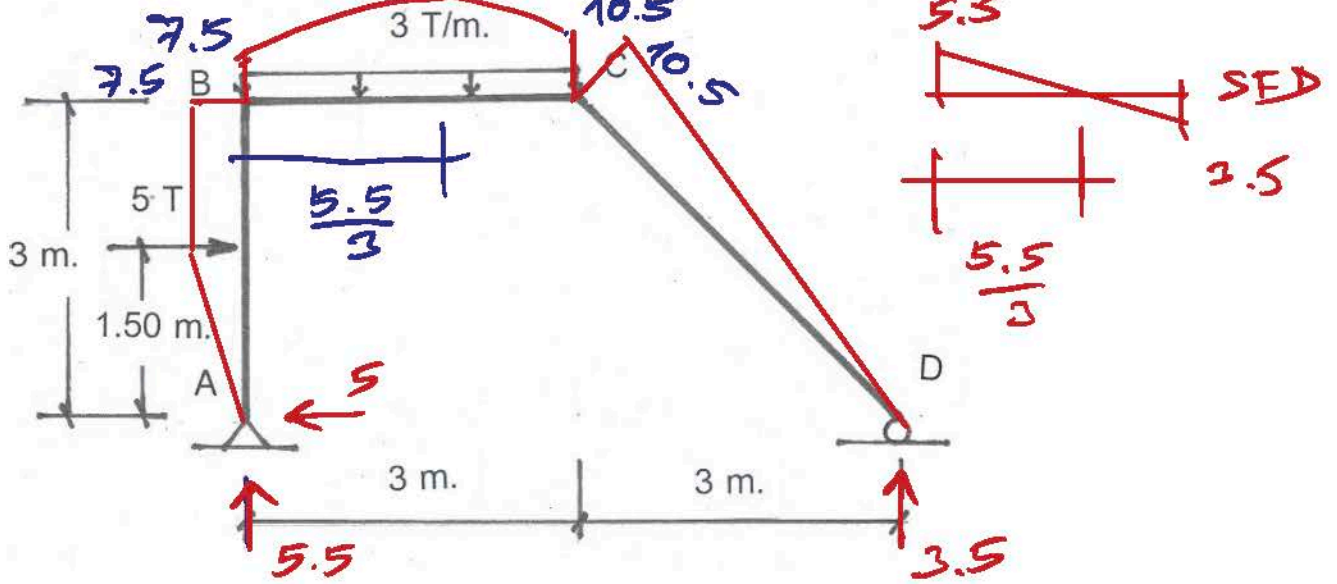


- 1: 3.5 T
- 2: 5.5 T
- 3: 6.8 T
- 4: 7.8 T
- คำตอบที่ถูกต้อง : 2

ข้อที่ 73 :

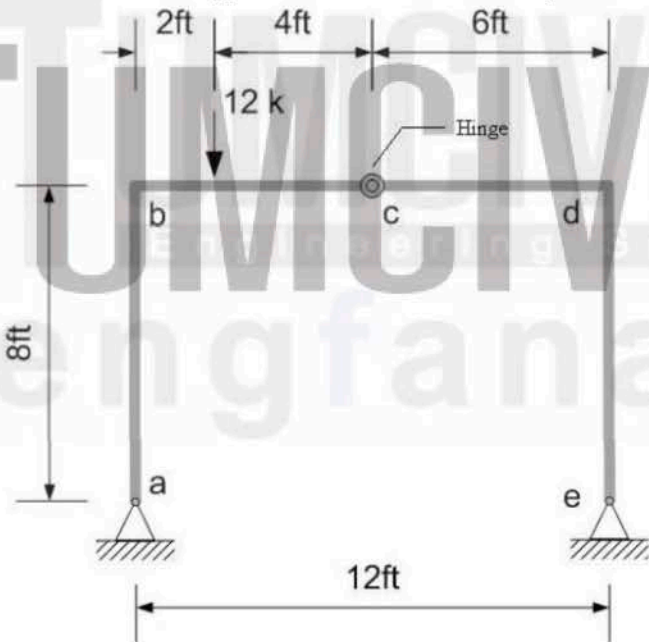


จากโครงเฟรมที่แสดง โมเมนต์ตัดตขนิตบวก (positive moment) ที่มากที่สุดใ BC มีค่าเท่ากับ



- 1: 5 ตัน-ม.
  - 2: 7.5 ตัน-ม.
  - 3: 12.5 ตัน-ม.
  - 4: 15.0 ตัน-ม.
- คำตอบที่ถูกต้อง : 3

ข้อที่ 74 : Determine the reactions at support e of the frame loaded as shown in figure below


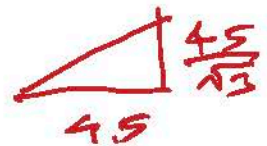
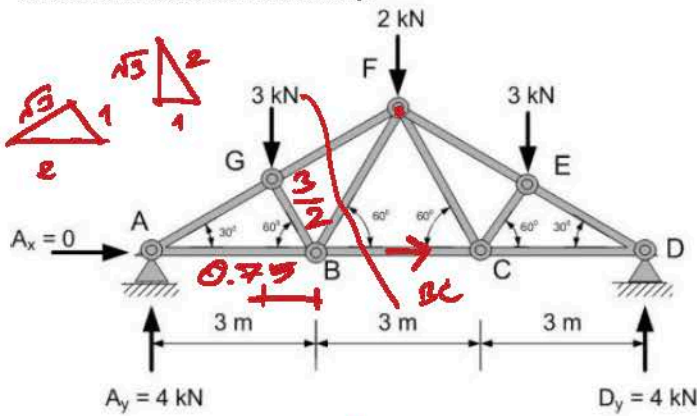


- $H_e = 1.5 k \leftarrow$
- $V_e = 2 k \uparrow$
- 1:  $H_e = 1.5 k \leftarrow$
- $V_e = 2 k \downarrow$
- 2:  $H_e = 2 k \leftarrow$
- $V_e = 1.5 k \uparrow$
- 3: คำตอบที่ถูกต้อง : 1

ข้อที่ 75 :



จงหาแรงภายในชิ้นส่วน BC ของโครงถักดังรูป



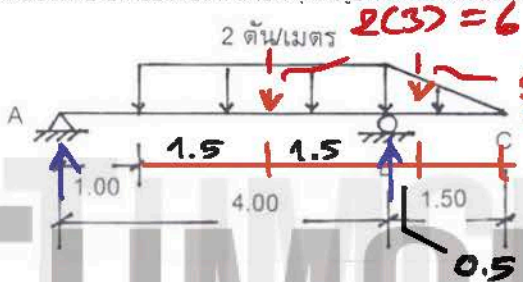
\* 1: BC = 4.33 kN (comp.)  
 2: BC = 4.33 kN (tens)  
 3: BC = 0  
 4: BC = 3 kN (tens)  
 คำตอบที่ถูกต้อง : 2

$$\sum \uparrow \eta_F = 0 = 4(4.5) - 3(0.75 + 1.5) - BC \cdot \frac{4.5}{\sqrt{3}}$$

$$BC = + \frac{15}{4} \cdot \frac{\sqrt{3}}{4.5} = + 4.33 \text{ kN}$$

ข้อที่ 76:

คานช่วงเตี้ยปลายยื่น รับน้ำหนักบรรทุก ดังรูป ตำแหน่งที่โมเมนต์ตัดมีค่ามากที่สุดจะอยู่ห่างจากจุด A เป็นระยะประมาณ



- 1: 1.50 เมตร
- 2: 2.00 เมตร
- 3: 2.50 เมตร
- 4: 3.00 เมตร
- คำตอบที่ถูกต้อง : 2

$$R_A = \frac{6(1.5)}{4} - \frac{1.5(0.5)}{4}$$

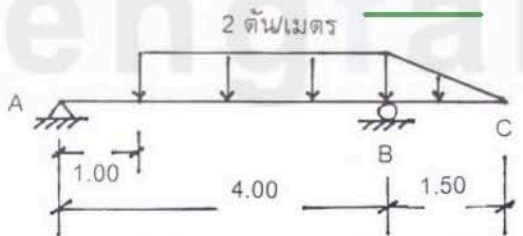
$$= 2.25 - 0.1875 = 2.0625 \text{ T}$$

$$R_B = \frac{6(2.5)}{4} + 0.1875 + 1.5$$

$$= 5.4375 \text{ T}$$

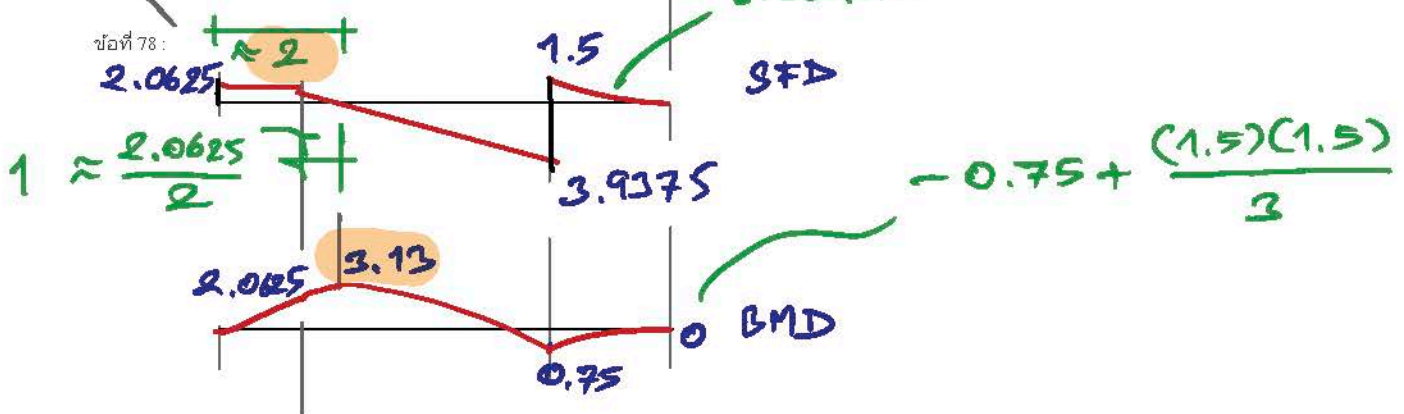
ข้อที่ 77:

คานช่วงเตี้ยปลายยื่น รับน้ำหนักบรรทุก ดังรูป จงประมาณค่าโมเมนต์ตัดที่มากที่สุด

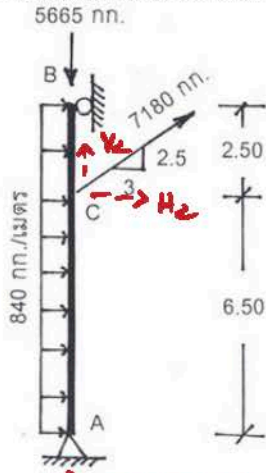


- 1: 2.20 ตัน-เมตร
- 2: 2.50 ตัน-เมตร
- 3: 2.90 ตัน-เมตร
- 4: 3.10 ตัน-เมตร
- คำตอบที่ถูกต้อง : 4

ข้อที่ 78:



เสา AB มีปลายทั้งสองข้างเป็นแบบยึดหมุน รับน้ำหนักบรรทุก ดังรูป จงหาค่าโมเมนต์ตัดที่จุด C

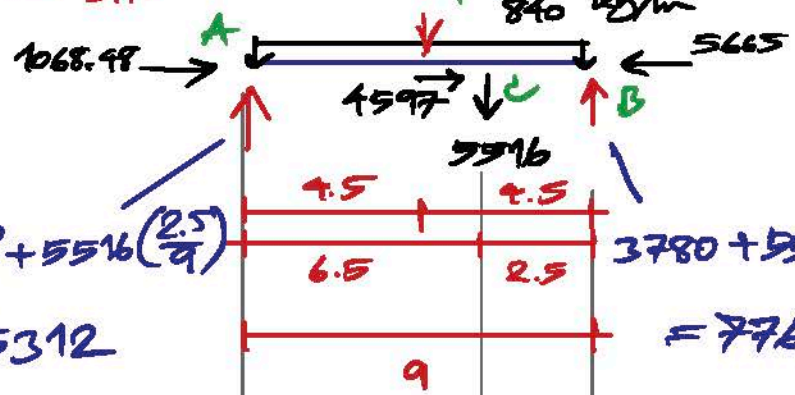


$$\frac{3.91}{3} \triangle 2.5$$

$$V_c = \frac{2.5}{3.91} (7180) = 4597$$

$$H_c = \frac{3}{3.91} (7180) = 5516$$

$$840(9) = 7560$$



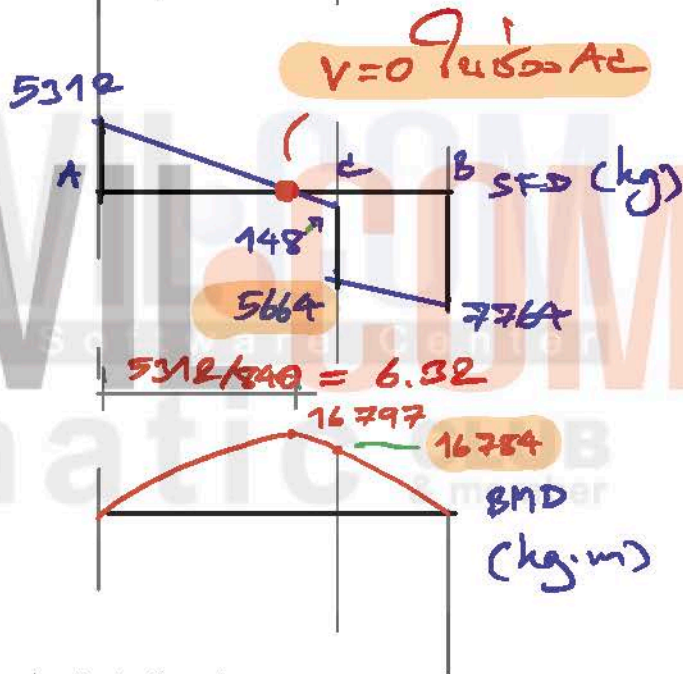
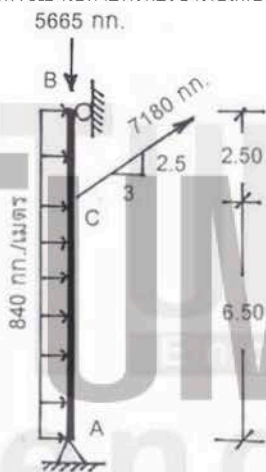
$$\frac{7560}{2} + 5516 \left( \frac{2.5}{9} \right) = 5312$$

$$3780 + 5516 \left( \frac{6.5}{9} \right) = 7764$$

- 1: 16.80 ตัน-เมตร
- 2: 17.50 ตัน-เมตร
- 3: 19.50 ตัน-เมตร
- 4: 21.00 ตัน-เมตร
- คำตอบที่ถูกต้อง : 1

ข้อที่ 79 :

เสา AB มีปลายทั้งสองข้างเป็นแบบยึดหมุน รับน้ำหนักบรรทุก ดังรูป จงประมาณค่าแรงเฉือนที่จุด C ในช่วง CB

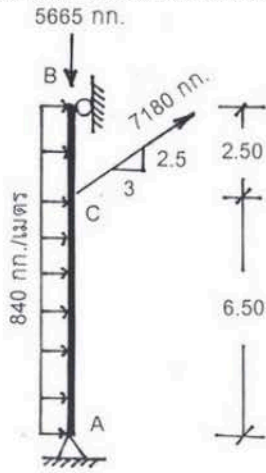


$$V=0 \text{ ใน ช่วง } AC$$

- 1: 0.15 ตัน
- 2: 5.30 ตัน
- 3: 5.70 ตัน
- 4: 7.80 ตัน
- คำตอบที่ถูกต้อง : 3

ข้อที่ 80 :

เสา AB มีปลายทั้งสองข้างเป็นแบบยึดหมุน รับน้ำหนักบรรทุก ดังรูป ตำแหน่งที่แรงเฉือนมีค่าเป็นศูนย์ คือ

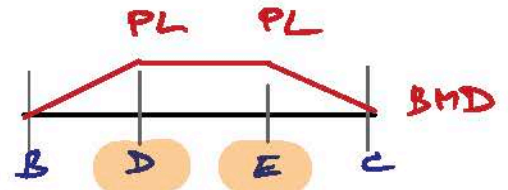
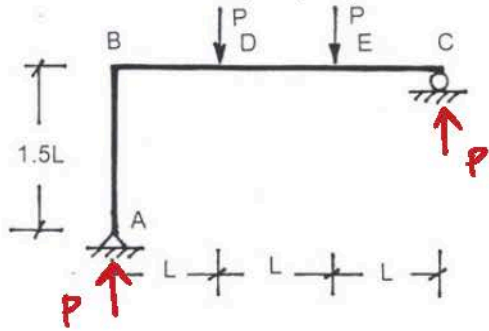


- 1: อยู่พอดีที่จุด C
- 2: อยู่ในช่วง AC
- 3: อยู่ในช่วง CB
- 4: ไม่มีจุดใดถูก
- คำตอบที่ถูกต้อง : 2



ข้อที่ 81:


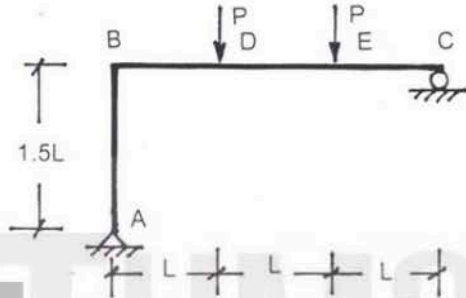
โครงเฟรม ABC รับน้ำหนักบรรทุกทุกแบบจุด ดังรูป โมเมนต์ตัดมากที่สุดบนคาน BC อยู่ที่



- 1: จุด D จุดเดียว
  - 2: จุด E จุดเดียว
  - 3: จุด D และจุด E
  - 4: จุด B และจุด C
- คำตอบที่ถูกต้อง : 3

ข้อที่ 82:

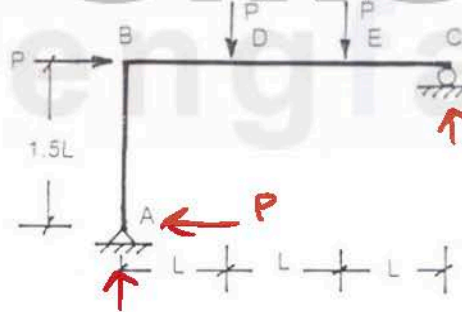
โครงเฟรม ABC รับน้ำหนักบรรทุกทุกแบบจุด ดังรูป จะเห็นว่า เสา AB รับแรงต่างๆ คือ



- 1: แรงอัดตามแนวแกน แรงเฉือนและโมเมนต์ตัด
  - 2: แรงเฉือนอย่างเดียว
  - 3: โมเมนต์ตัดอย่างเดียว
  - 4: แรงอัดตามแนวแกนอย่างเดียว
- คำตอบที่ถูกต้อง : 4

ข้อที่ 83:

โครงเฟรม ABC รับน้ำหนักบรรทุกทุกแบบจุด ดังรูป จะเห็นว่า เสา AB รับแรงต่างๆ คือ



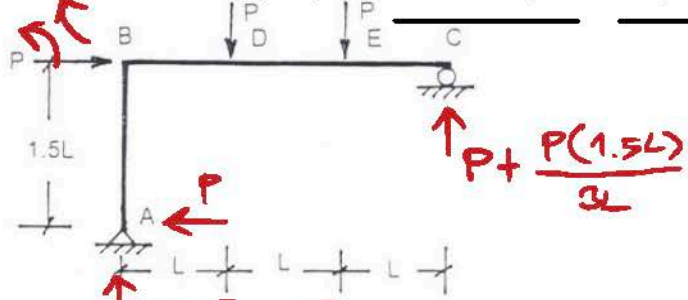
- 1: แรงอัดตามแนวแกน แรงเฉือนและโมเมนต์ตัด
  - 2: แรงเฉือนอย่างเดียว
  - 3: โมเมนต์ตัดอย่างเดียว
  - 4: แรงอัดตามแนวแกนอย่างเดียว
- คำตอบที่ถูกต้อง : 1

เพราะว่ามีแรงดัดเข้า

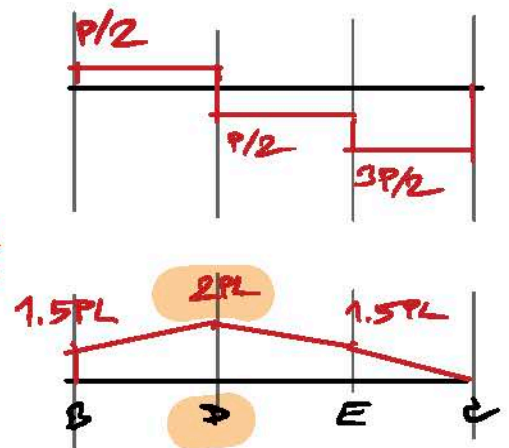
ข้อที่ 84:

โครงเฟรม ABC รับน้ำหนักบรรทุกทุกแบบจุด ดังรูป โมเมนต์ตัดมากที่สุดบนคาน BC อยู่ที่

1.5PL

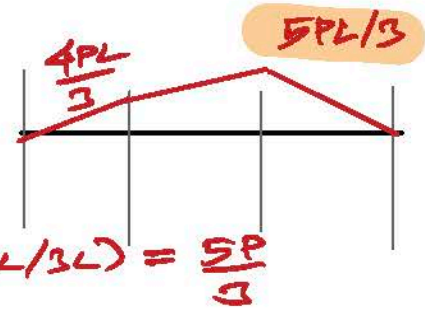
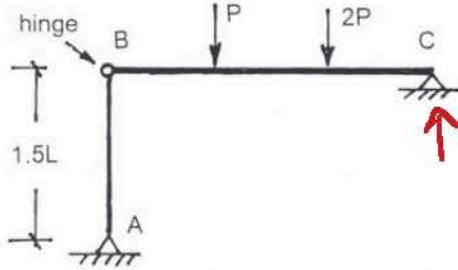


- 1: จุด B จุดเดียว
  - 2: จุด D จุดเดียว
  - 3: จุด E จุดเดียว
  - 4: จุด B และจุด E
- คำตอบที่ถูกต้อง : 2



ข้อที่ 85:

โครงเฟรม ABC รับน้ำหนักบรรทุกแบบจุด ดังรูป ค่าโมเมนต์ดัดมากที่สุดบนคาน BC เท่ากับ



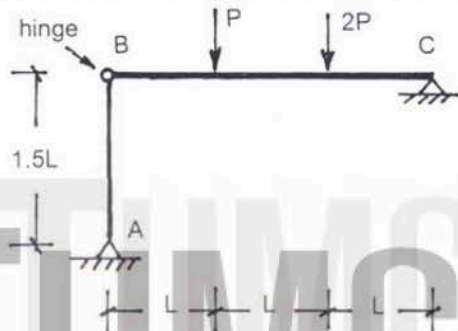
$$\uparrow P(L/3L) + 2P(2L/3L) = \frac{5P}{3}$$

$$\uparrow P(2L/3L) + 2P(L/3L) = \frac{4}{3}P$$

- 1: PL
  - 2: 4PL/3
  - 3: 5PL/3
  - 4: 2PL
- คำตอบที่ถูกต้อง: 3

ข้อที่ 86:

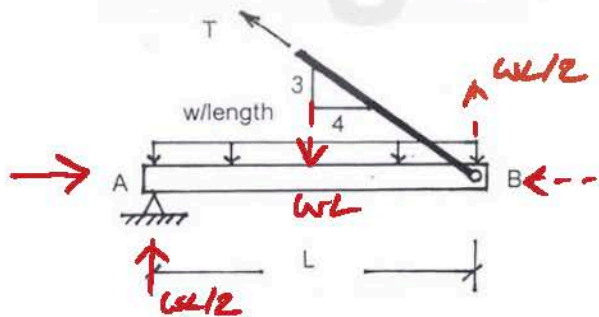
โครงเฟรม ABC รับน้ำหนักบรรทุกแบบจุด ดังรูป จะเห็นว่า เสา AB รับแรงต่างๆ คือ



- 1: แรงอัดตามแนวแกน แรงเฉือนและโมเมนต์ดัด
  - 2: แรงเฉือนอย่างเดียว
  - 3: โมเมนต์ดัดอย่างเดียว
  - 4: แรงอัดตามแนวแกนอย่างเดียว
- คำตอบที่ถูกต้อง: 4

ข้อที่ 87:

คาน AB รับน้ำหนักบรรทุกแบบแผ่สม่ำเสมอตลอดความยาวคาน โดยมีท่อนเหล็กยึดไว้ตรงจุด B ดังรูป เพื่อให้คาน AB อยู่ในแนวขน ถ้าไม่คีดน้ำหนักของคาน และไม่คิดการยึดหดตัวของท่อนเหล็ก จงหาค่าแรงดึงในท่อนเหล็กนี้

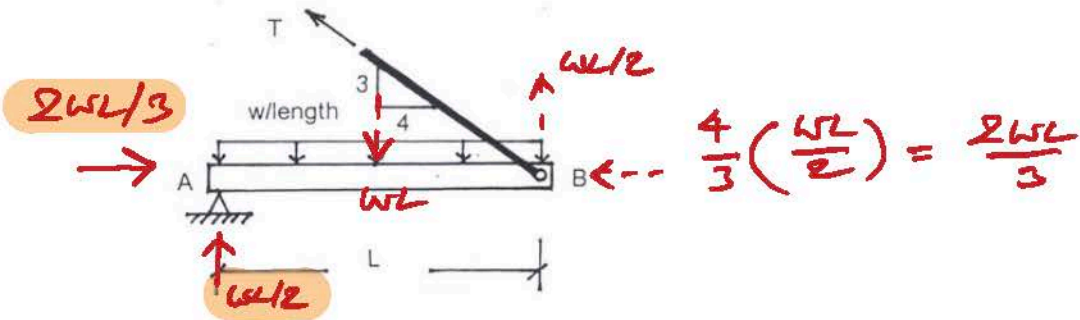


$$\therefore T = \frac{5}{3} \left( \frac{wL}{2} \right) = \frac{5wL}{6}$$

- 1: 5wL/6
  - 2: 5wL/4
  - 3: 5wL/3
  - 4: 5wL/2
- คำตอบที่ถูกต้อง: 1

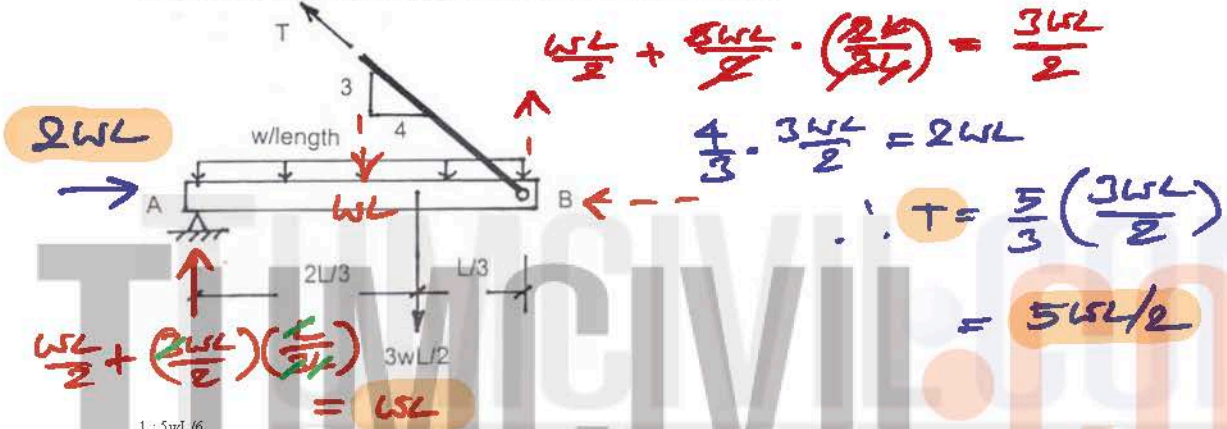
ข้อที่ 88:

คาน AB รับน้ำหนักบรรทุกแบบแผ่สม่ำเสมอตลอดความยาวคาน โดยมีท่อนเหล็กยึดไว้ตรงจุด B ดังรูป เพื่อให้คาน AB อยู่ในแนวขน ถ้าไม่คีดน้ำหนักของคาน และไม่คิดการยึดหดตัวของท่อนเหล็ก จงหาค่าแรงปฏิกิริยาที่จุด A



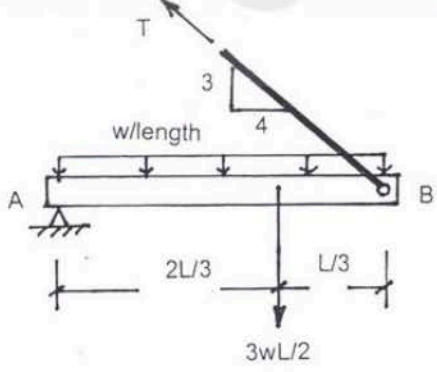
- 1:  $R_{Ax} = 2wL/3$  และ  $R_{Ay} = 2wL/3$
  - 2:  $R_{Ax} = 2wL/3$  และ  $R_{Ay} = wL/2$  — \*
  - 3:  $R_{Ax} = wL/3$  และ  $R_{Ay} = wL/2$
  - 4:  $R_{Ax} = 2wL/3$  และ  $R_{Ay} = wL/3$
- คำตอบที่ถูกต้อง : 2

ข้อที่ 89 :  
 คาน AB รับน้ำหนักบรรทุกทุกแบบจุดและแบบแผ่สม่ำเสมอตลอดความยาวคาน โดยมีท่อนเหล็กยึดไว้ตรงจุด B ดังรูป เพื่อให้คาน AB อยู่ในแนวขนาน ถ้าไม่ติดน้ำหนักของคานและไม่คิดการยืดหดตัวของท่อนเหล็ก จงหาค่าแรงดึงในท่อนเหล็กนี้



- 1:  $5wL/6$
  - 2:  $5wL/4$
  - 3:  $5wL/3$
  - 4:  $5wL/2$  — \*
- คำตอบที่ถูกต้อง : 4

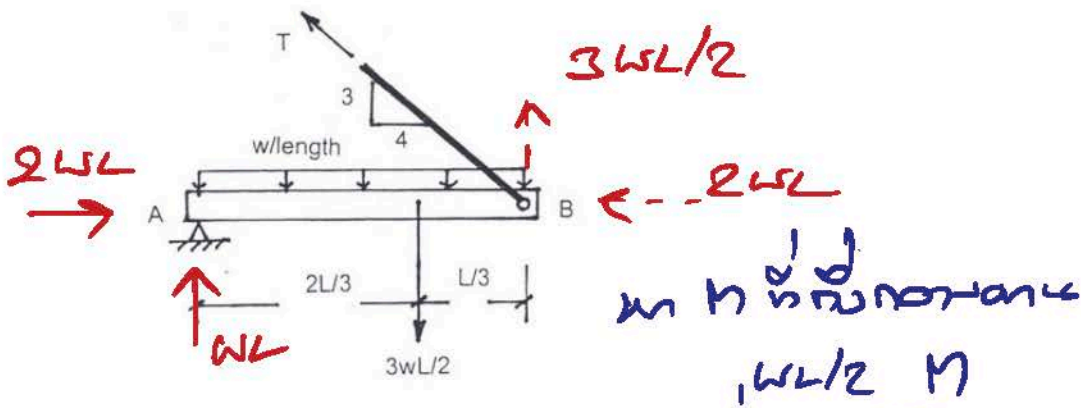
ข้อที่ 90 :  
 คาน AB รับน้ำหนักบรรทุกทุกแบบจุดและแบบแผ่สม่ำเสมอตลอดความยาวคาน โดยมีท่อนเหล็กยึดไว้ตรงจุด B ดังรูป เพื่อให้คาน AB อยู่ในแนวขนาน ถ้าไม่ติดน้ำหนักของคานและไม่คิดการยืดหดตัวของท่อนเหล็ก จงหาค่าแรงปฏิกิริยาที่จุด A



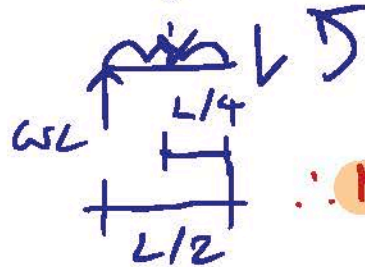
- 1:  $R_{Ax} = 2wL$  และ  $R_{Ay} = wL/3$
  - 2:  $R_{Ax} = 2wL$  และ  $R_{Ay} = wL$  — \*
  - 3:  $R_{Ax} = wL$  และ  $R_{Ay} = 2wL$
  - 4:  $R_{Ax} = 2wL/3$  และ  $R_{Ay} = wL$
- คำตอบที่ถูกต้อง : 2

ข้อที่ 91 :  
 คาน AB รับน้ำหนักบรรทุกทุกแบบจุดและแบบแผ่สม่ำเสมอตลอดความยาวคาน โดยมีท่อนเหล็กยึดไว้ตรงจุด B ดังรูป เพื่อให้คาน AB อยู่ในแนวขนาน ถ้าไม่ติดน้ำหนักของคานและไม่คิดการยืดหดตัวของท่อนเหล็ก โมเมนต์ตัดที่กึ่งกลางคาน AB มีค่าเท่ากับ





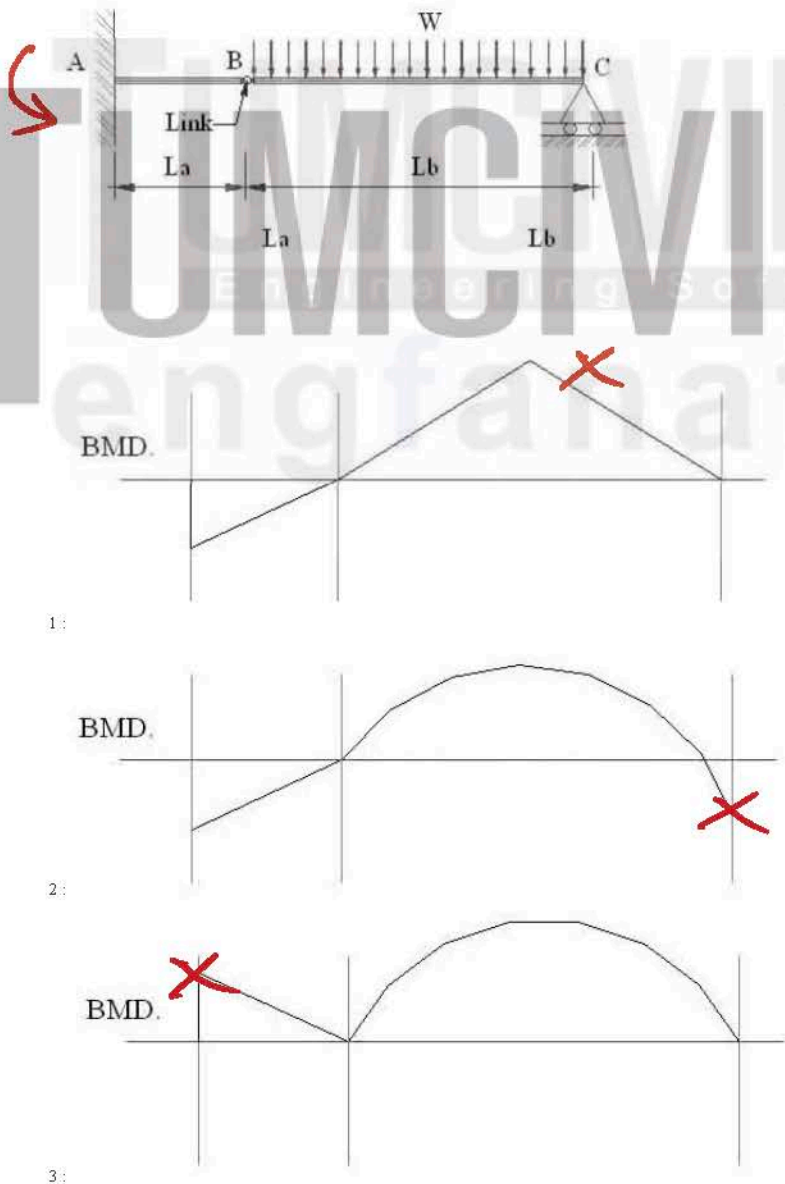
- 1:  $7wL^2/8$
  - 2:  $5wL^2/8$
  - 3:  $3wL^2/8$  — \* (green asterisk)
  - 4:  $wL^2/8$
- คำตอบที่ถูกต้อง : 3



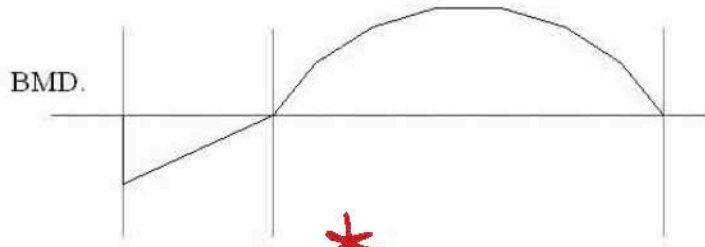
$$\begin{aligned}
 \therefore M &= wL\left(\frac{L}{2}\right) - \frac{wL}{2}\left(\frac{L}{4}\right) \\
 &= wL^2\left(\frac{1}{2} - \frac{1}{8}\right) \\
 &= 3wL^2/8
 \end{aligned}$$

ข้อที่ 92 :

โครงสร้างตามดังรูป กราฟโมเมนต์ตัดมีลักษณะตรงกับข้อใด

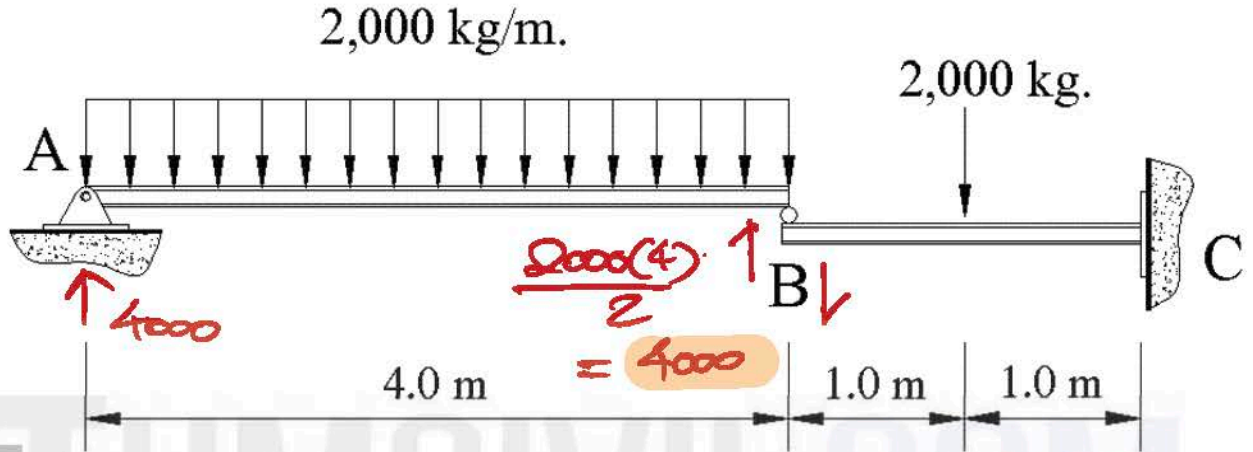


- \*  $M_A$  อดลบ -
- \*  $M$  จาก A ถึง B เป็นรูปสามเหลี่ยม
- \*  $M$  จาก B ถึง C เป็นรูปพาราโบลา
- \*  $M_C = 0$



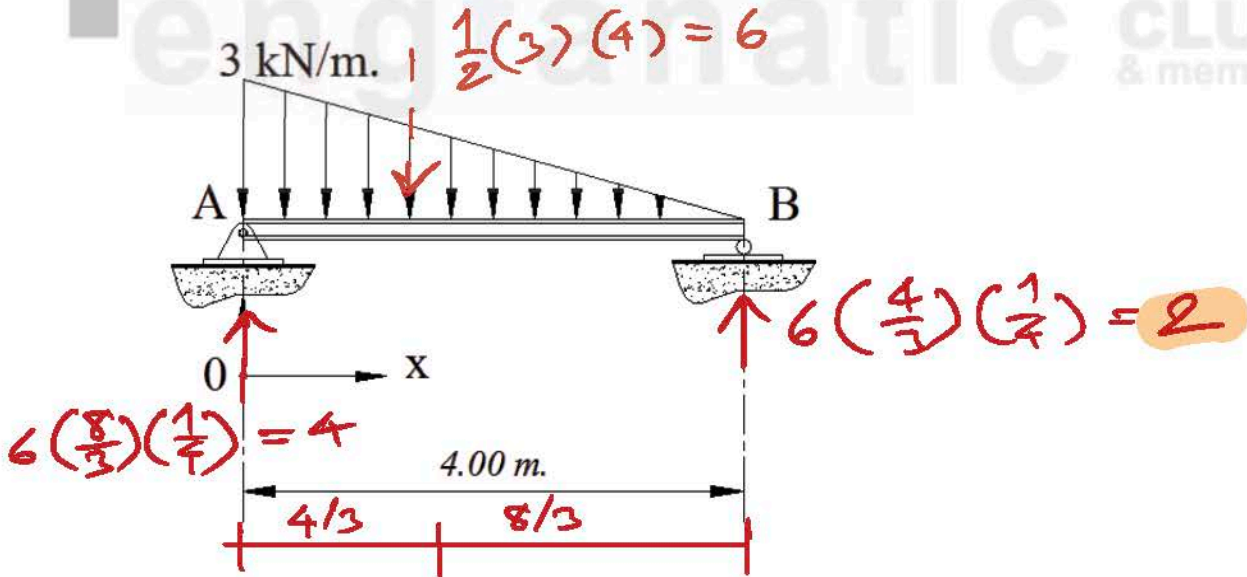
4:  
คำตอบที่ถูกต้อง : 4

ข้อที่ 93 :  
แรงที่กระทำต่อ Internal roller ที่จุด B มีค่าเท่าใด ?



1: 2,000 kg  
2: 4,000 kg  
3: 6,000 kg  
4: 8,000 kg  
คำตอบที่ถูกต้อง : 2

ข้อที่ 94 :  
โครงสร้างดังรูป แรงปฏิกิริยาที่จุด B มีค่าเท่าใด?

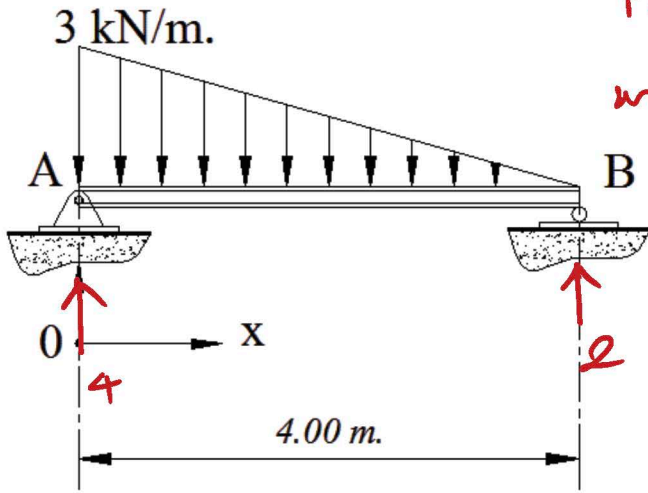


1: 2 kN ↓  
2: 2 kN ↑  
3: 4 kN ↑  
4: 6 kN ↑  
คำตอบที่ถูกต้อง : 2

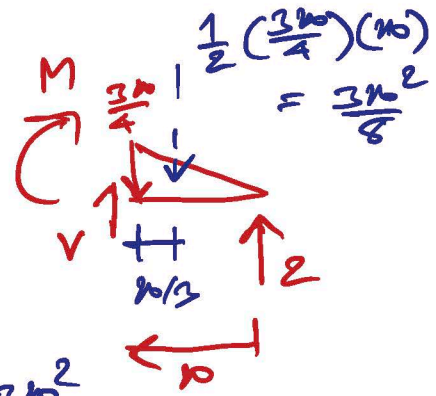
ข้อที่ 95 :



โมเมนต์ตัดสูงสุด มีค่าเท่าใด ?



$M_{max}$  ที่  $v=0$   
 $M_{max} = 4x - \frac{3x^2}{8}$  ที่  $v=0$

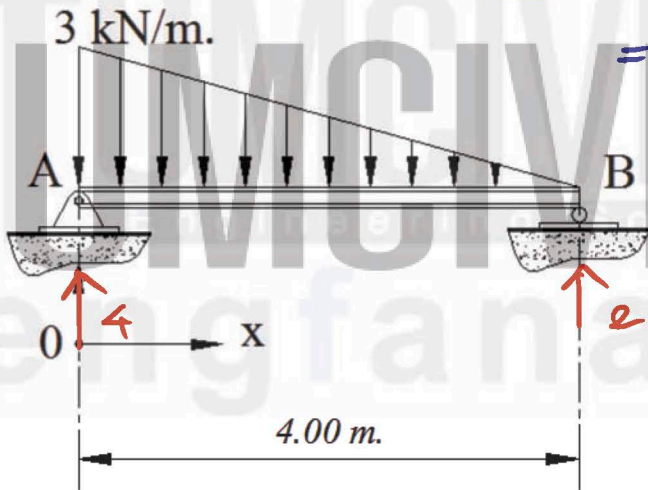


- 1: 0.67 kN-m
  - 2: 1.69 kN-m
  - 3: 2.31 kN-m
  - 4: 3.08 kN-m
- คำตอบที่ถูกคือ : 4

$v = 0 = 2 - \frac{3x^2}{8}$   
 $x^2 = \frac{2(8)}{3} = \pm 2.31$  (ลบตัดทิ้ง)

$M_{max} = 2(2.31) - \frac{3(2.31)^2}{8} = 3.08 \text{ kN}\cdot\text{m}$

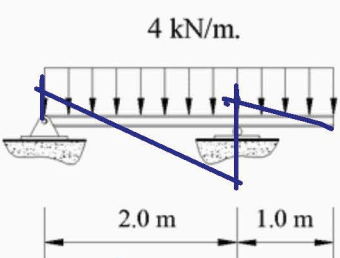
ข้อที่ 96 :  
 ค่าแรงเฉือนสูงสุด มีค่าเท่าใด ?



$V_{max} = R_A = 4 \text{ kN}$

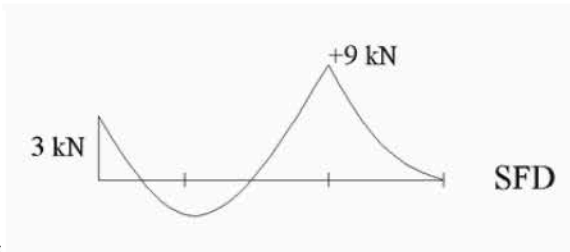
- 1: 2 kN ↓
  - 2: 2 kN ↑
  - 3: 4 kN ↑
  - 4: 6 kN ↑
- 5: คำตอบข้อ 1-4 ไม่มีคำตอบที่ถูก  
 คำตอบที่ถูกคือ : 3

ข้อที่ 97 :  
 จากโครงสร้างคานดังรูป แผนภาพแรงเฉือน (Shear Force Diagram) เป็นไปตามตัวเลือกข้อใด ?  
 กำหนดให้ เมื่อตัดรูปตัดใด ๆ ที่ทิศทางของแรงเฉือนที่เป็นบวก มีทิศตามเข็มนาฬิกา ทิศทางของโมเมนต์ที่เป็นบวก ตัดให้คานโค้งนูน

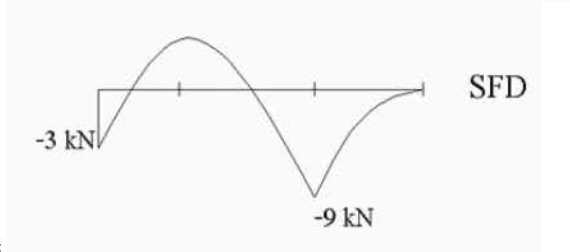


แนวทาบ  
 - 11 รูปที่ 1 และ 2 ไม่ถูกต้อง  
 11 รูปที่ 3 และ 4 ไม่ถูกต้อง  
 คำตอบคือ 5

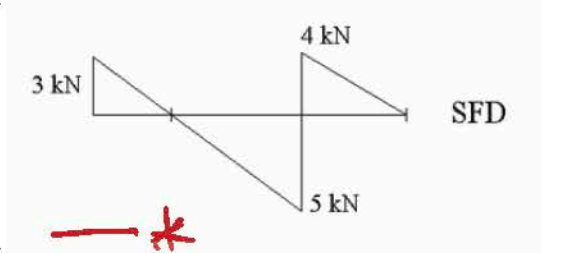
สามารถไขข้อ SFD ได้โดยงัดไม้รื้อดูที่บริเวณนั้น



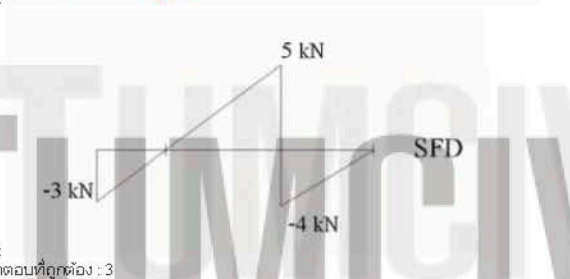
1:



2:



3:



4:

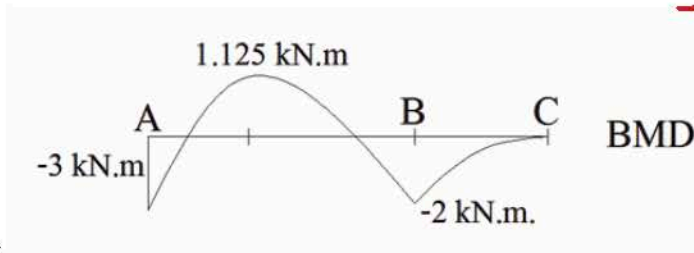
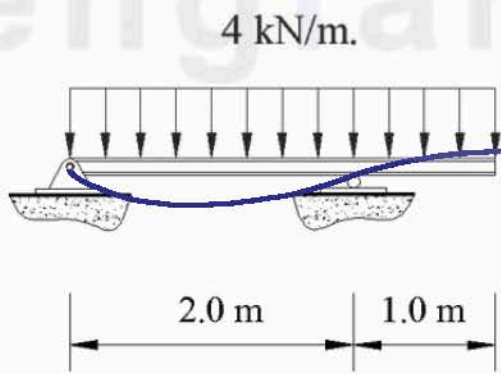
คำตอบที่ถูกคือ : 3

ข้อที่ 98 :

จากโครงสร้างคานดังรูป

แผนภาพโมเมนต์ดัด (Bending Moment Diagram) เป็นไปตามตัวเลือกข้อใด ?

กำหนดให้ เมื่อตัดรูปตัดใดๆ ทิศทางของแรงเฉือนที่เป็นบวก มีทิศทางตามเข็มนาฬิกา ทิศทางของโมเมนต์ดัดที่เป็นบวก ตัดให้คานโค้งงอ



1:

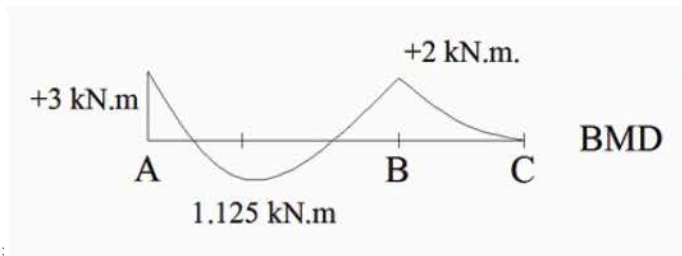


11.607 ม

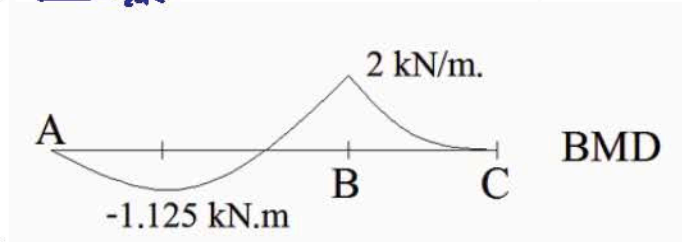
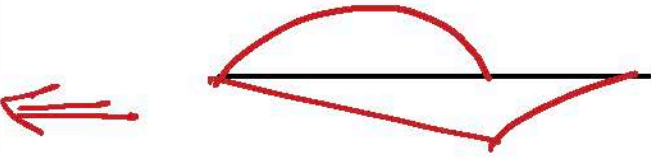
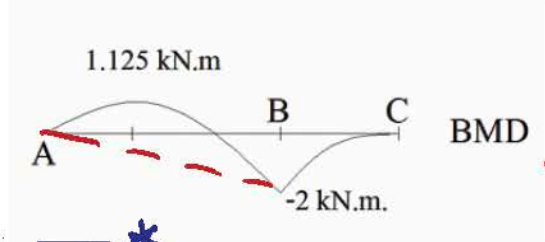
- ที่ support และ support เท่ากับ 0

- การหาค่าของคาน  
ที่ A เป็น 1.125 และ 1.125 ม  
โดยที่ 0

(กลับค่าของคาน  
ที่ A เป็น 1.125 และ 1.125 ม  
การหาค่าของคาน)



- สามารถใช้หลักทฤษฎีบทพีทาโกรัสได้

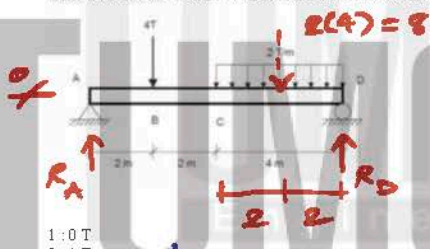


คำตอบที่ถูกต้อง : 3

ข้อ 99 - 101

ข้อที่ 99 :

จงคำนวณหาแรงเฉือนภายในของภาคตัดที่ผ่านระหว่างจุด B และ C ของคานที่มีแรงกระทำดังรูป



- 1: 0 T
  - 2: 1 T
  - 3: 2 T
  - 4: 3 T
- คำตอบที่ถูกต้อง : 2

หากตัดดังรูป ช่วง BC

$V$  เท่ากับแรงปัด =  $R_A - 4$

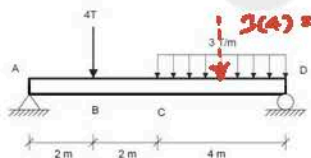
$R_A = \frac{4(6)}{8} + \frac{8(2)}{8} = 5 T$

$R_D = \frac{4(2)}{8} + \frac{8(6)}{8} = 7 T$  Check  $\Sigma F_y$

$\therefore V = 5 - 4 = 1 T$

ข้อที่ 100 :

จงคำนวณหาแรงเฉือนภายในของภาคตัดที่ผ่านระหว่างจุด B และ C ของคานที่มีแรงกระทำดังรูป



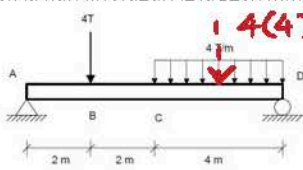
- 1: 0 T
  - 2: 1 T
  - 3: 2 T
  - 4: 3 T
- คำตอบที่ถูกต้อง : 3

$R_A = \frac{4(6)}{8} + \frac{12(2)}{8} = 6 T$

$\therefore V = 6 - 4 = 2 T$

ข้อที่ 101 :

จงคำนวณหาแรงเฉือนภายในของภาคตัดที่ผ่านระหว่างจุด B และ C ของคานที่มีแรงกระทำดังรูป



- 1: 0 T
  - 2: 1 T
  - 3: 2 T
  - 4: 3 T
- คำตอบที่ถูกต้อง : 4

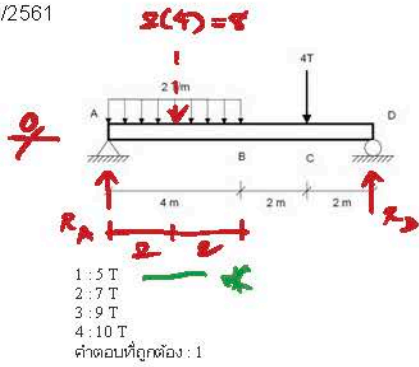
$R_A = \frac{4(6)}{8} + \frac{16(2)}{8} = 7 T$

$\therefore V = 7 - 4 = 3 T$

ข้อที่ 102 :

จงคำนวณหาแรงปฏิกิริยาที่จุด D ของคานดังแสดงในรูป

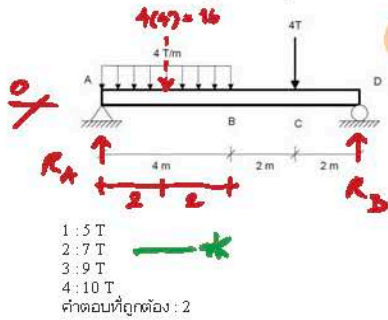




$$R_D = \frac{8(2)}{8} + \frac{4(6)}{8} = 5T \uparrow$$

$$R_A = \frac{8(6)}{8} + \frac{4(2)}{8} = 7T \uparrow$$

ข้อที่ 103 :  
จงคำนวณหาแรงปฏิกิริยาที่จุด D ของคานดังแสดงในรูป

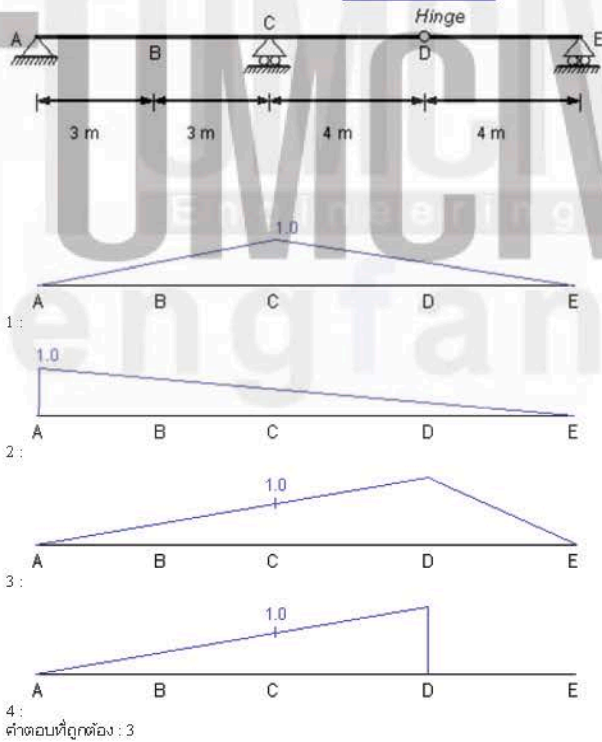


$$R_D = 16\left(\frac{2}{8}\right) + 4\left(\frac{6}{8}\right) = 7T \uparrow$$

$$R_A = 16\left(\frac{6}{8}\right) + 4\left(\frac{2}{8}\right) = 13$$

เนื้อหาวิชา : 531 : Influence lines of determinate structures

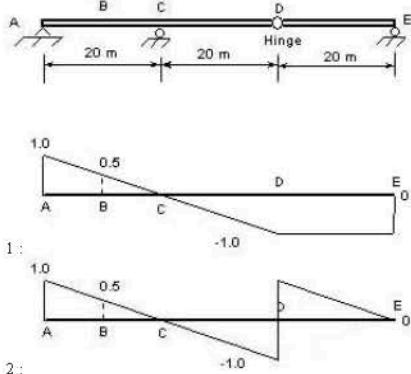
ข้อที่ 104 :  
ข้อใดเป็นเส้นอิทธิพล (Influence line) ของแรงปฏิกิริยาที่ฐาน C ของโครงสร้างดังในรูป

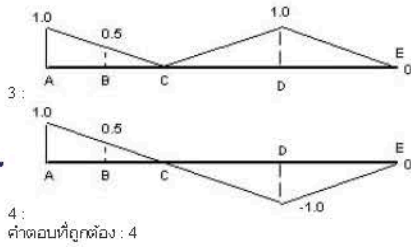


อันนี้ Muller-Breslau

I.L. of  $R_C$

ข้อที่ 105 :  
ข้อใดแสดงแนวเส้นอิทธิพลของแรงปฏิกิริยาในแนวตั้งที่จุด A ของคานดังแสดงในรูป

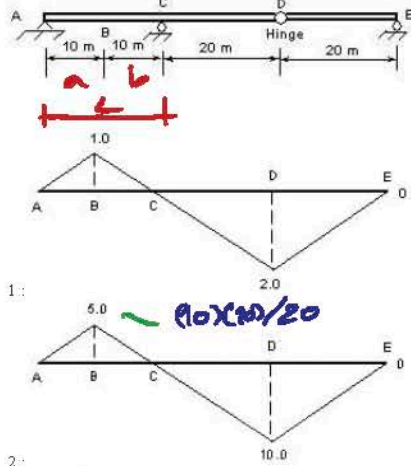




I.L. of  $K_A$

ข้อที่ 106:

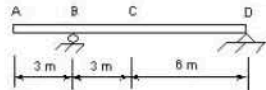
ข้อใดแสดงแนวเส้นอิทธิพลของโมเมนต์ดัดที่จุด B ของคานดังแสดงในรูป



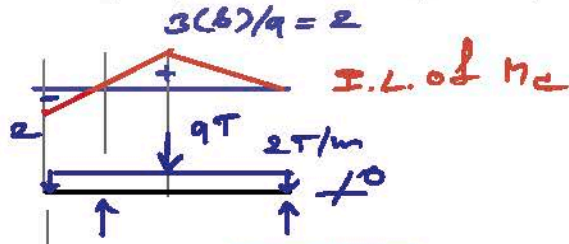
I.L. of  $M_B$   
ค่า I.L. ที่ B =  $ab/L$

ข้อที่ 107:

จงคำนวณหาโมเมนต์ดัดบวกที่มากที่สุดที่จุด C ของคานดังแสดงในรูป เมื่อน้ำหนักบรรทุกแบบจุดเท่ากับ 9 ตัน และน้ำหนักบรรทุกแบบตายตัว (Dead Load) ซึ่งเกิดจากน้ำหนักของคาน กระจายอย่างสม่ำเสมอมีขนาดเท่ากับ 2 ตัน/เมตร

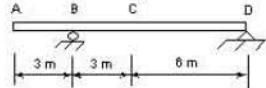


$$\therefore M_C = 9(2) + 2 \left[ \frac{1}{2}(9)(2) \right] + 2 \left[ \frac{1}{2}(3)(-2) \right] = 18 + 18 - 6 = 30 \text{ T.m}$$

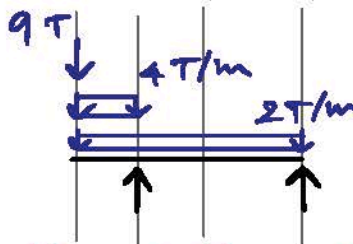


ข้อที่ 108:

จงคำนวณหาโมเมนต์ดัดลบที่มากที่สุดที่จุด C ของคานดังแสดงในรูป เมื่อน้ำหนักบรรทุกแบบจุดเท่ากับ 9 ตัน น้ำหนักบรรทุกแบบตายตัว (Dead Load) และแบบจร (Live Load) กระจายอย่างสม่ำเสมอมีขนาดเท่ากับ 2 ตัน/เมตร และ 4 ตัน/เมตร ตามลำดับ (น้ำหนักบรรทุกจร 4 ตัน/เมตร จะกระจายเฉพาะช่วงที่จะทำให้โมเมนต์ดัดลบที่จุด C มีค่ามากที่สุด)



$$\therefore M_C = 9(-2) + 4 \left[ \frac{1}{2}(3)(-2) \right] + 2 \left[ \frac{1}{2}(9)(2) \right] + 2 \left[ \frac{1}{2}(3)(-2) \right] = -18 - 12 + 18 - 6 = -18 \text{ T.m}$$

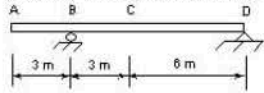


ข้อที่ 109:

จงใช้หลักการของอินฟลูเอนซ์ไลน์ในการคำนวณหาแรงเฉือนบวกที่มากที่สุดที่จุด C ของคานดังแสดงในรูป เมื่อน้ำหนักบรรทุกแบบจุดเท่ากับ 9 ตัน น้ำหนักบรรทุกแบบตายตัว (Dead Load) และแบบจร (Live Load) กระจายอย่างสม่ำเสมอมีขนาดเท่ากับ 2 ตัน/เมตร และ 4 ตัน/เมตร ตามลำดับ โดยน้ำหนักบรรทุกจร 4

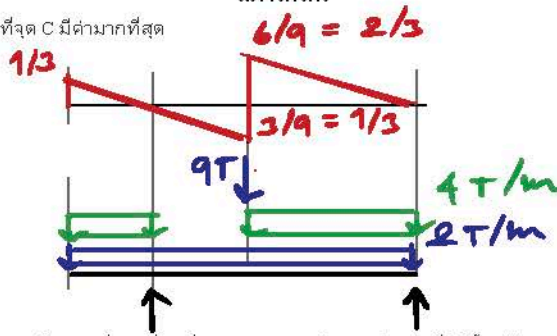


ต้น/เมตร จะกระจายเฉพาะช่วงที่ทำให้แรงเฉือนบวกที่จุด C มีค่ามากที่สุด



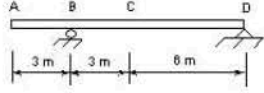
- 1: 4 T
  - 2: 6 T
  - 3: 10 T
  - 4: 20 T
- คำตอบที่ถูกต้อง : 4

สภาวะการ

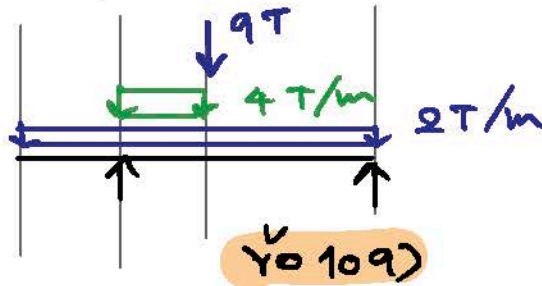


ข้อที่ 110 :

จงใช้หลักการของอินทิเกรชันในการคำนวณหาแรงเฉือนลบที่มากที่สุดที่จุด C ของคานดังแสดงในรูป เมื่อมีน้ำหนักบรรทุกแบบจุดเท่ากับ 9 ตัน น้ำหนักบรรทุกแบบตายตัว (Dead Load) และแบบจร (Live Load) กระจายอย่างสม่ำเสมอมีขนาดเท่ากับ 2 ตัน/เมตร และ 4 ตัน/เมตร ตามลำดับ โดยน้ำหนักบรรทุกจร 4 ตัน/เมตร จะกระจายเฉพาะช่วงที่ทำให้แรงเฉือนลบที่จุด C มีค่ามากที่สุด

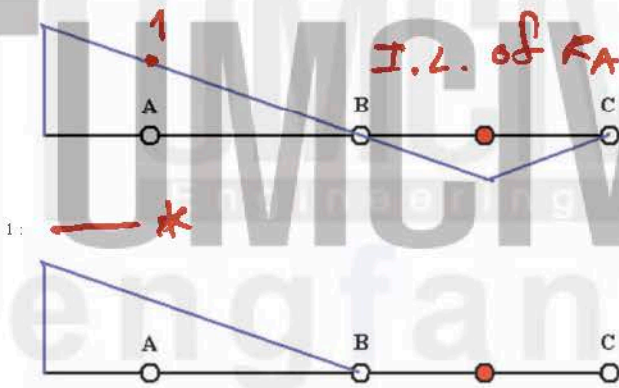
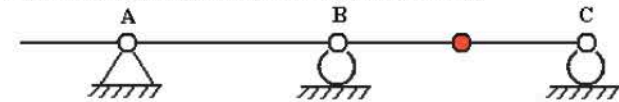


- 1: -1 T
  - 2: -2 T
  - 3: -3 T
  - 4: -4 T
- คำตอบที่ถูกต้อง : 1



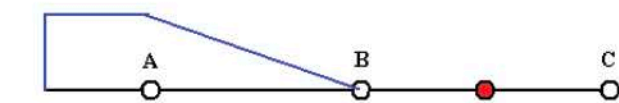
ข้อที่ 111 :

ข้อใดแสดงรูปของเส้นอิทธิพลของแรงปฏิกิริยาที่จุดรองรับ A

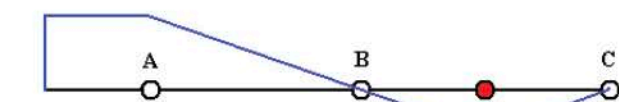


- 1:

2:



3:

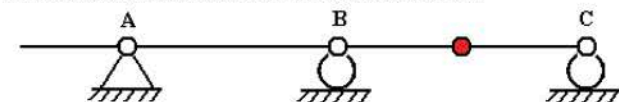


4:

คำตอบที่ถูกต้อง : 1

ข้อที่ 112 :

ข้อใดแสดงรูปของเส้นอิทธิพลของแรงปฏิกิริยาที่จุดรองรับ B



$$\therefore V_c = 9\left(\frac{2}{3}\right) + 4\left[\frac{1}{2}(3)\left(\frac{1}{3}\right)\right] + 4\left[\frac{1}{2}(6)\left(\frac{2}{3}\right)\right] + 2\left[\frac{1}{2}(3)\left(\frac{1}{3}\right)\right] + 2\left[\frac{1}{2}(3)\left(-\frac{1}{3}\right)\right] + 2\left[\frac{1}{2}(6)\left(\frac{2}{3}\right)\right]$$

$$= 6 + 2 + 8 + (1 - 1 + 4)$$

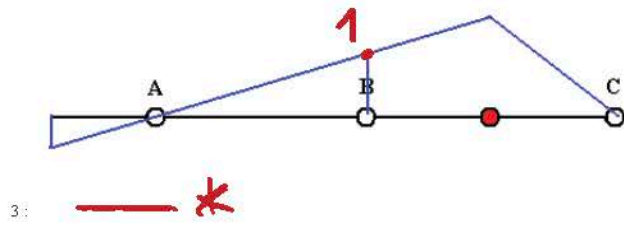
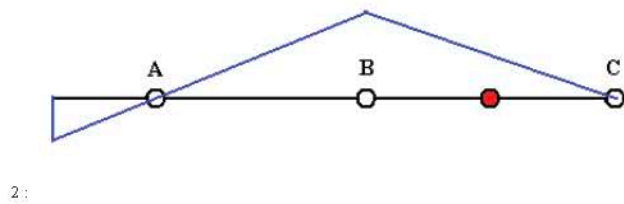
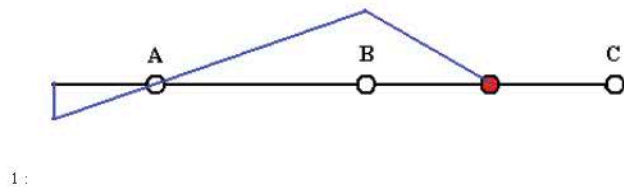
$$V_c = 20 T$$

$$V_c = 110$$

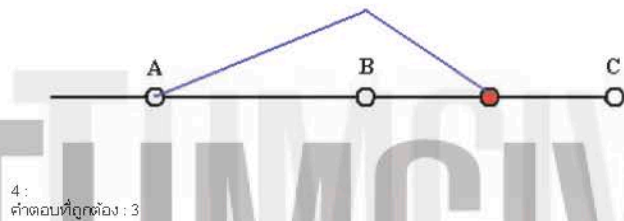
$$\therefore V_c = 9\left(-\frac{1}{3}\right) + 4\left[\frac{1}{2}(3)\left(-\frac{1}{3}\right)\right] + (1 - 1 + 4)$$

$$= -3 - 2 + 4$$

$$= -1 T$$

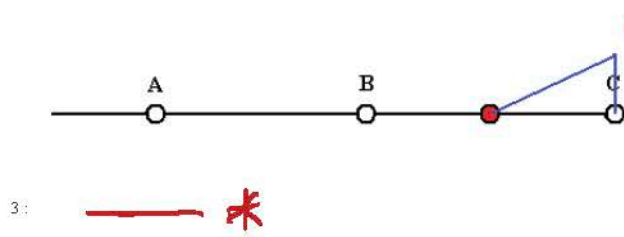
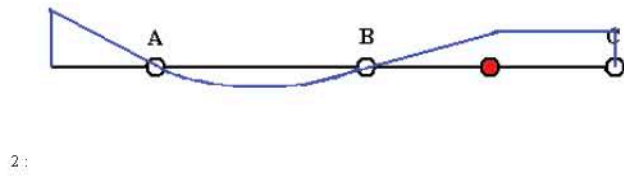
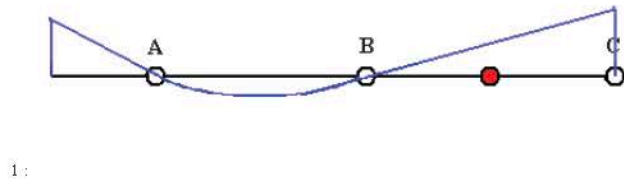
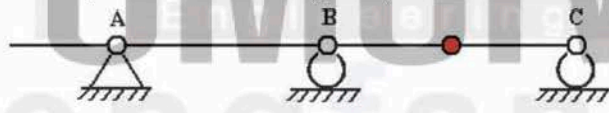


I.L. of  $R_B$

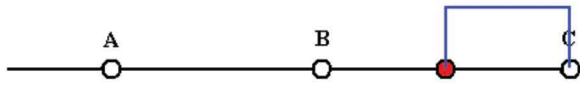


คำตอบที่ถูกคือ : 3

ข้อที่ 113: ข้อใดแสดงรูปของเส้นอิทธิพลของแรงปฏิกิริยาที่จุดรองรับ C



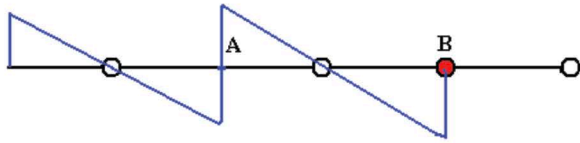
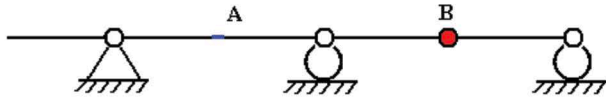
I.L. of  $R_C$



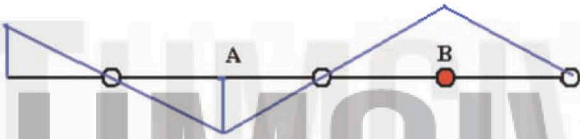
4:  
คำตอบที่ถูกต้อง : 3

ข้อที่ 114 :

ข้อใดแสดงรูปของเส้นอิทธิพลของแรงเฉือนที่จุด A



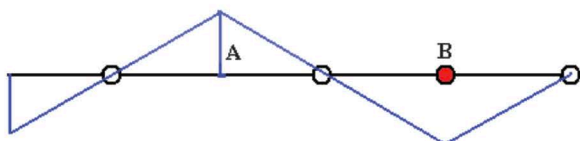
1:



2:



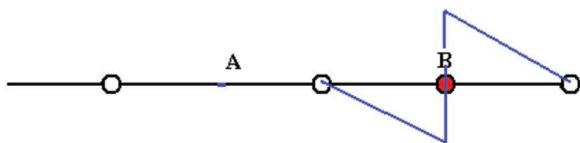
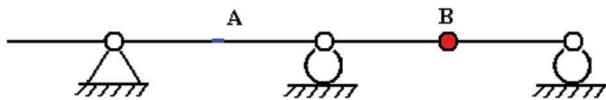
3:



4:  
คำตอบที่ถูกต้อง : 3

ข้อที่ 115 :

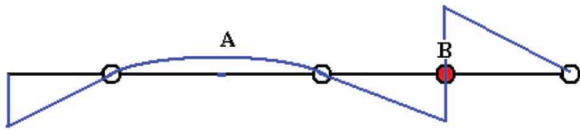
ข้อใดแสดงรูปของเส้นอิทธิพลของแรงเฉือนที่จุด B



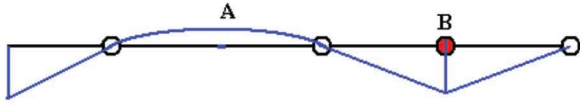
1:

I.L. of  $V_A$

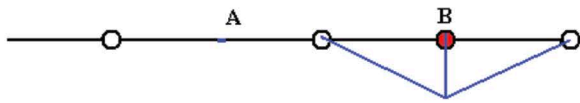
*Handwritten red arrow and asterisk pointing to diagram 3.*



2:

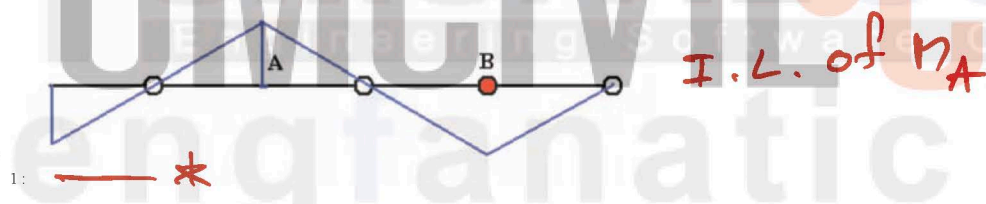
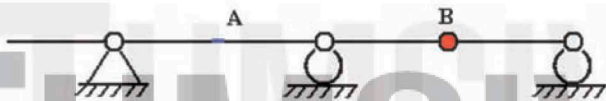


3:



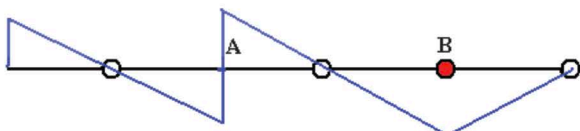
4: ค่าคอมที่ถูกดึง : 2

ข้อที่ 116 :  
ข้อใดแสดงรูปของเส้นอิทธิพลของโมเมนต์ที่จุด A

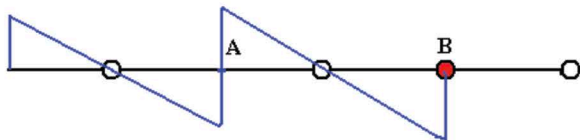


1:

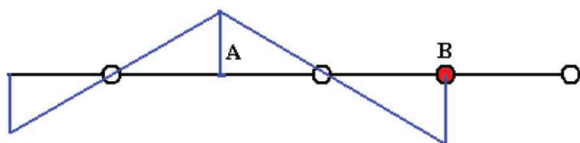
*I.L. of  $M_A$*



2:



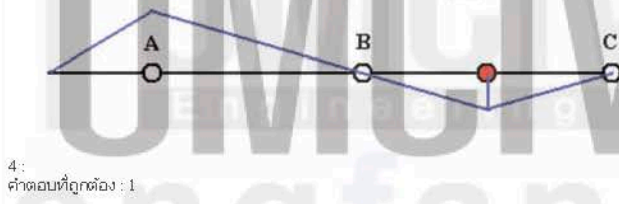
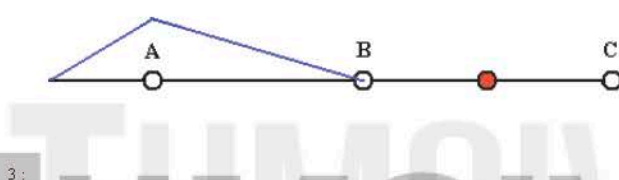
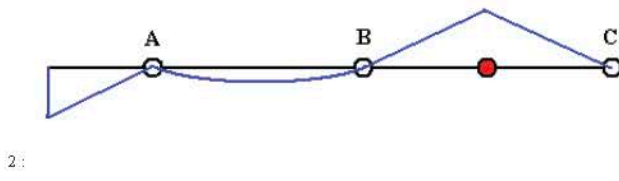
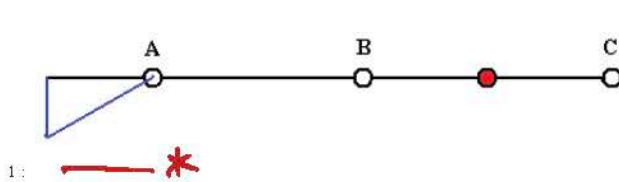
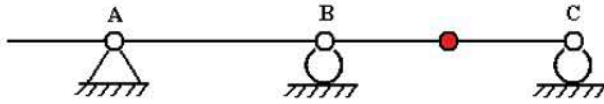
3:



4: ค่าคอมที่ถูกดึง : 1

ข้อที่ 117 :

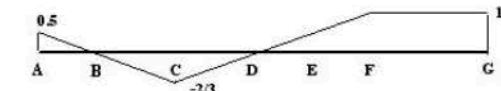
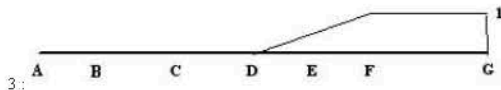
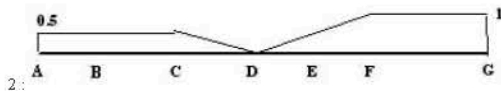
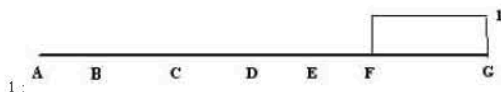
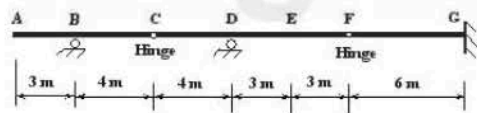
ข้อใดแสดงรูปของเส้นอิทธิพลของโมเมนต์ที่จุด A



คำตอบที่ถูกต้อง : 1

ข้อที่ 118 :

ข้อใดแสดงแนวเส้นอิทธิพลของแรงปฏิกิริยาในแนวตั้งที่จุด G ของคานดังแสดงในรูป



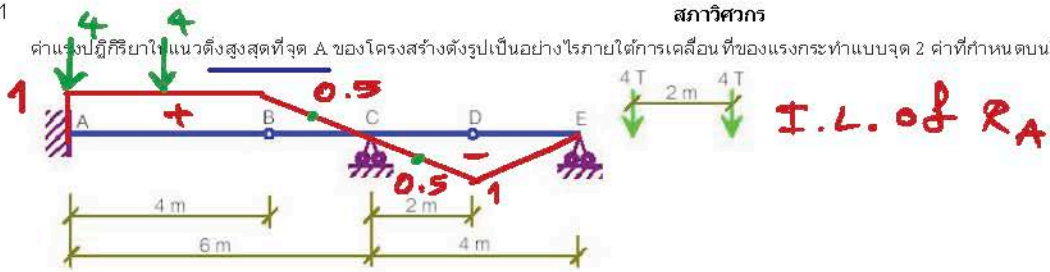
คำตอบที่ถูกต้อง : 4

ข้อที่ 119 :

I.L. of  $R_D$  \*



ค่าแรงปฏิกิริยาในแนวตั้งสูงสุดที่จุด A ของโครงสร้างดังรูปเป็นอย่างไรภายใต้การเคลื่อนที่ของแรงกระทำแบบจุด 2 ค่าที่กำหนดบนโครงสร้าง



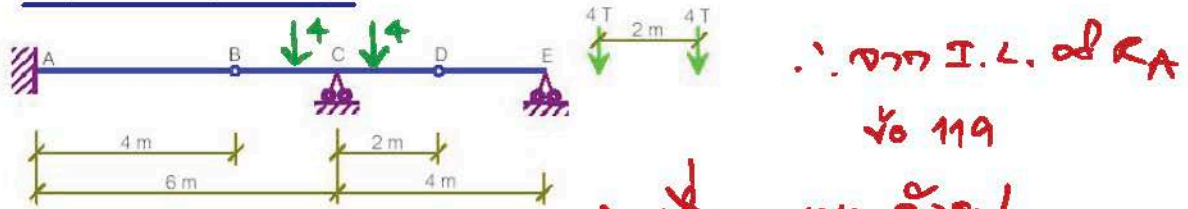
- 1: 4 T ทิศขึ้น
- 2: 4 T ทิศลง
- 3: 8 T ทิศขึ้น
- 4: 8 T ทิศลง
- คำตอบที่ถูกต้อง: 3

$\therefore R_A = 4(1) + 4(-1) = 0 \text{ T} \uparrow$



ข้อที่ 120:

ภายใต้การเคลื่อนที่ของแรงกระทำแบบจุด 2 ค่าที่ ดังแสดงในรูป กระทำต่อคานที่กำหนดให้ จงหาว่าแรงกระทำตัวนี้ต้องกระทำอยู่ในช่วงใดของคาน ซึ่งทำให้ค่าแรงปฏิกิริยาในแนวตั้งที่จุด A มีค่าเป็นศูนย์

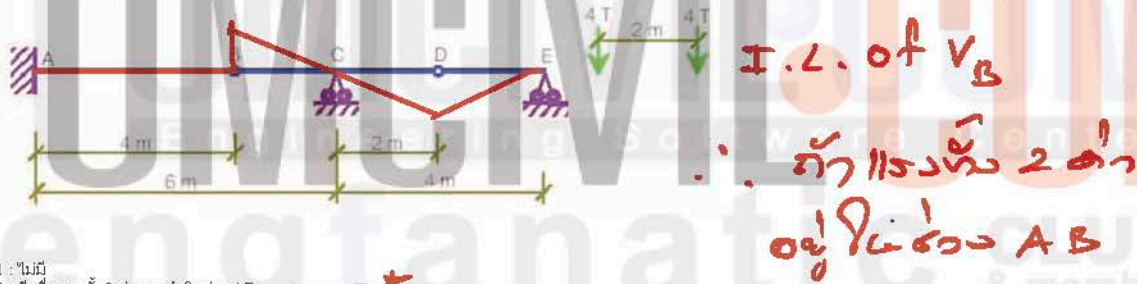


- 1: เมื่อแรงทั้ง 2 ค่า กระทำในช่วง AC
- 2: เมื่อแรงทั้ง 2 ค่า กระทำในช่วง AB
- 3: เมื่อแรงทั้ง 2 ค่า กระทำในช่วง BD
- 4: เมื่อแรงทั้ง 2 ค่า กระทำในช่วง DE
- คำตอบที่ถูกต้อง: 3

$R_A = 4(0.5) + 4(-0.5) = 0$

ข้อที่ 121:

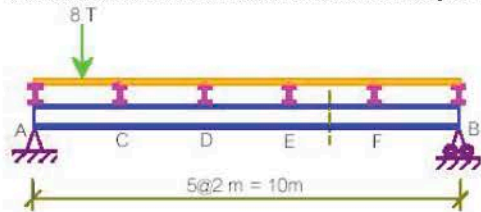
ค่าแรงเฉือนที่จุด B ของโครงสร้างดังรูปภายใต้การเคลื่อนที่ของแรงกระทำแบบจุด 2 ค่าที่กำหนดบนโครงสร้าง สามารถมีค่าเป็นศูนย์หรือไม่



- 1: ไม่มี
- 2: มี เมื่อแรงทั้ง 2 ค่า กระทำในช่วง AB
- 3: มี เมื่อแรงทั้ง 2 ค่า กระทำในช่วง BD
- 4: มี เมื่อแรงทั้ง 2 ค่า กระทำในช่วง DE
- คำตอบที่ถูกต้อง: 2

ข้อที่ 122:

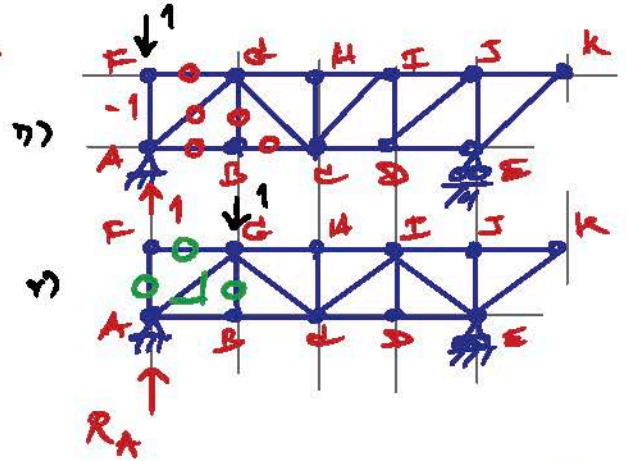
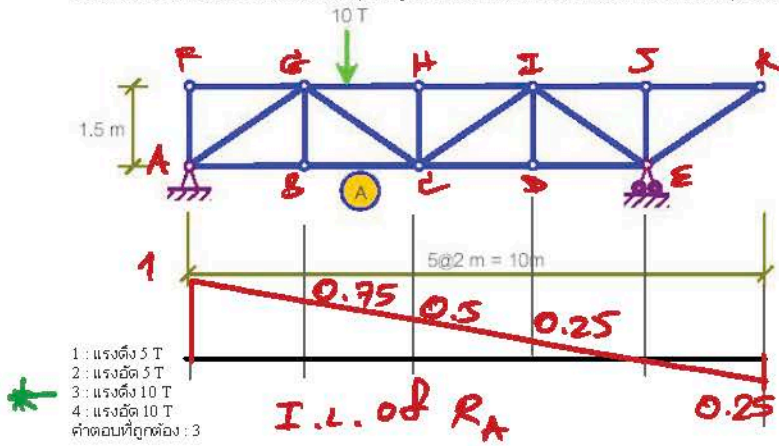
โมเมนต์ตัดในช่อง EF ของคานหลัก AB ในระบบพื้นดังรูปภายใต้การเคลื่อนที่ของแรงกระทำแบบจุด 8 T บนโครงสร้าง มีค่าสูงสุดเท่าไร



- 1: 5.6 T
- 2: 7.2 T
- 3: 14 T-m
- 4: 28 T-m
- คำตอบที่ถูกต้อง: 2

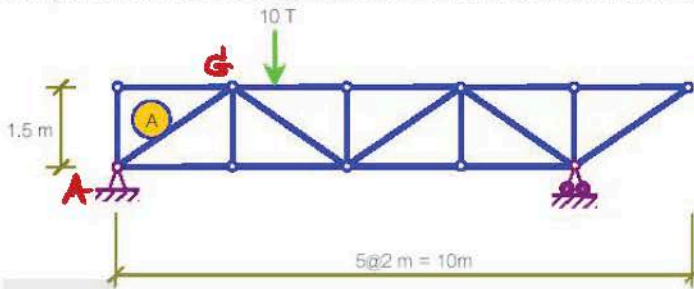
ข้อที่ 123:

แรงภายในชิ้นส่วน A ของโครงข้อหมุน ดังรูปภายใต้การเคลื่อนที่ของแรงกระทำแบบจุด 10 T บนโครงข้อหมุน มีค่าสูงสุดเป็นอย่างไร



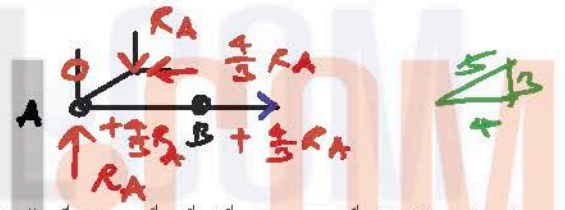
ข้อที่ 124:

แรงภายในชิ้นส่วน A ของโครงข้อหมุน ดังรูปภายใต้การเคลื่อนที่ของแรงกระทำแบบจุด 10 T บนโครงข้อหมุน มีค่าสูงสุดเป็นอย่างไร



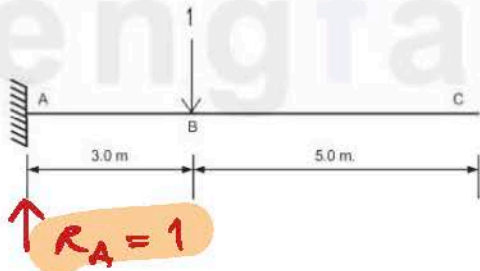
- 1: แรงดึง 7.5 T
  - 2: แรงอัด 7.5 T
  - 3: แรงดึง 12.5 T
  - 4: แรงอัด 12.5 T
- คำตอบที่ถูกต้อง: 4

รูป ก) ถ้าเรา 1 หน่วยกระทำที่ F  
BC = 0 = AG  
รูป ข) ถ้าเรา 1 หน่วยกระทำที่ G  
D หรือ H หรือ I หรือ J หรือ K



ข้อที่ 125:

จงคำนวณหาขนาดและทิศทางของแรงปฏิกิริยา (Reaction force) RA ของฐานรองรับ A เมื่อน้ำหนักหนึ่งหน่วยเคลื่อนที่อยู่จุด B ของคานยื่น (Cantilever beam) ABC ดังแสดงในรูป



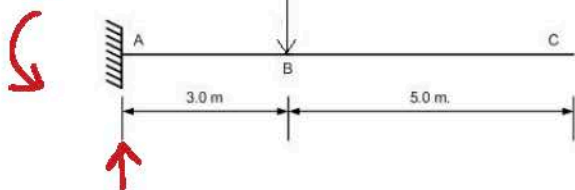
- 1: RA=0, ทิศทางขึ้น
  - 2: RA=0.5, ทิศทางขึ้น
  - 3: RA=0.5, ทิศทางลง
  - 4: RA=1.0, ทิศทางขึ้น
- คำตอบที่ถูกต้อง: 4

$BC = + \frac{4}{3} RA$   
 $AG = - \frac{5}{3} RA$   
พิจารณา I.L. ของ RA  
RA จะขึ้นหากเรา 1 หน่วย 1 หน่วยกระทำที่ G เท่ากับ 0.75

ข้อที่ 126:

จงคำนวณหาขนาดและทิศทางของโมเมนต์ปฏิกิริยา (Reaction moment) MA ของฐานรองรับ A เมื่อน้ำหนักหนึ่งหน่วยเคลื่อนที่อยู่จุด B ของคานยื่น (Cantilever beam) ABC ดังแสดงในรูป

$M_A = 1(3) = 3$



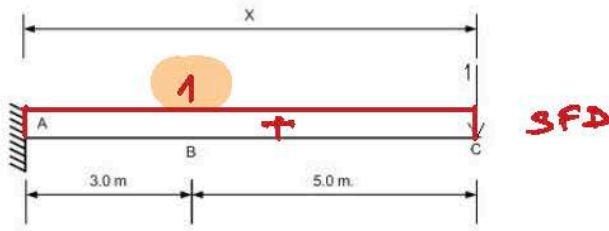
- 1: MA=3, ทิศทางตามเข็มนาฬิกา
- 2: MA=3, ทิศทางทวนเข็มนาฬิกา

$\therefore \forall 123$   
 $BC = + \frac{4}{3} [0.75(10)] = + 10 T$   
 $\forall 124$   
 $AG = - \frac{5}{3} [0.75(10)] = - 12.5 T$

- 3:  $M_A=4$ , ทิศทางตามเข็มนาฬิกา
- 4:  $M_A=4$ , ทิศทางทวนเข็มนาฬิกา
- คำตอบที่ถูกต้อง : 2

ข้อที่ 127:

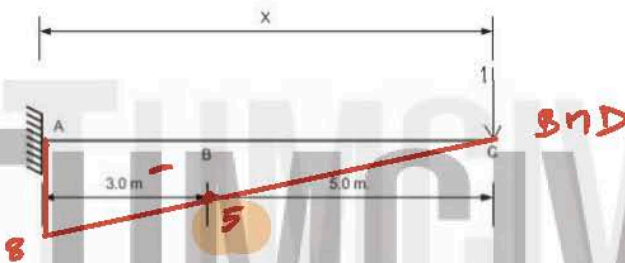
จงคำนวณหาขนาดของแรงเฉือน (Shear force)  $V_B$  ที่จุด B เมื่อน้ำหนักหนึ่งหน่วยเคลื่อนที่อยู่จุด C ของคานยื่น (Cantilever beam) ABC ดังแสดงในรูป



- 1:  $V_B=0$
- 2:  $V_B=0.5$
- 3:  $V_B=1.0$  — \*
- 4:  $V_B=1.5$
- คำตอบที่ถูกต้อง : 3

ข้อที่ 128:

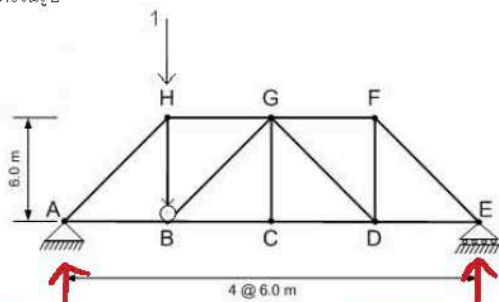
จงคำนวณหาค่าของโมเมนต์ภายใน (moment)  $M_B$  ที่จุด B เมื่อน้ำหนักหนึ่งหน่วยเคลื่อนที่อยู่จุด C ของคานยื่น (Cantilever beam) ABC ดังแสดงในรูป



- 1:  $M_B=-4$
- 2:  $M_B=-5$  — \*
- 3:  $M_B=-6$
- 4:  $M_B=-7$
- คำตอบที่ถูกต้อง : 2

ข้อที่ 129:

จงคำนวณหาขนาดและทิศทางของแรงปฏิกิริยา (Reaction force)  $R_A$  ของฐานรองรับ A เมื่อน้ำหนักหนึ่งหน่วยเคลื่อนที่อยู่จุด B ของโครงข้อหมุน (Truss) ดังแสดงในรูป



ทำได้อ่างงง่าย ข้อ 2 วิธ  
- สมการสมดุล  
- เส้นอิทธิพล

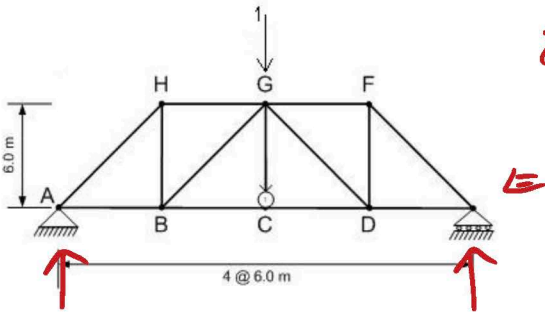
$R_A = 1(18)/24 = 0.75$

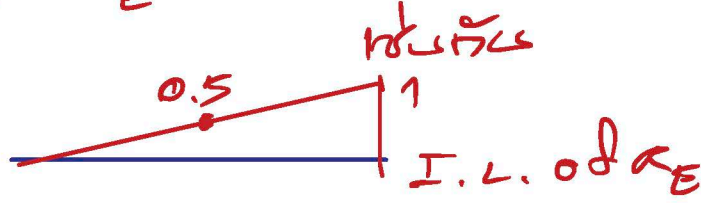
- 1:  $R_A=1.0$  ทิศทางขึ้น
- 2:  $R_A=0.75$  ทิศทางขึ้น — \*
- 3:  $R_A=0.50$  ทิศทางลง
- 4:  $R_A=0.25$  ทิศทางลง
- คำตอบที่ถูกต้อง : 2

ข้อที่ 130:

จงคำนวณหาขนาดและทิศทางของแรงปฏิกิริยา (Reaction force)  $R_E$  ของฐานรองรับ E เมื่อน้ำหนักหนึ่งหน่วยเคลื่อนที่อยู่จุด C ของโครงข้อหมุน (Truss) ดังแสดงในรูป

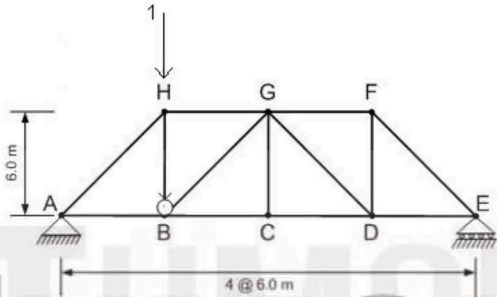




สมการ  $R_E$  ทำได้อีกแบบอื่นด้วย  
 ใช้นักเรียน  
  
 $\therefore R_E = 0.5 \uparrow$

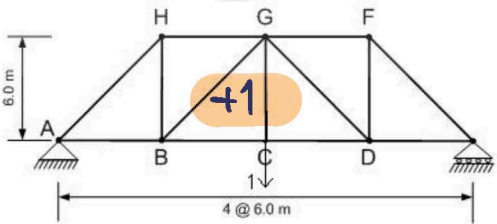
- 1:  $R_E = 0$
  - 2:  $R_E = 0.25$  ทิศทางขึ้น
  - 3:  $R_E = 0.5$  ทิศทางขึ้น — \*
  - 4:  $R_E = 0.75$  ทิศทางลง
- คำตอบที่ถูกคือ : 3

ข้อที่ 131 :  
 จงคำนวณหาขนาดและประเภทของแรงตามแนวแกน (Axial force) ของชิ้นส่วน GB เมื่อนำหนักหนึ่งหน่วยเคลื่อนที่อยู่ที่จุด B ของโครงข้อหมุน (Truss) ดังแสดงในรูป



- 1:  $F_{GB} = 0$
  - 2:  $F_{GB} = 0.354$  เป็นแรงอัด
  - 3:  $F_{GB} = 0.707$  เป็นแรงอัด
  - 4:  $F_{GB} = 0.354$  เป็นแรงดึง
- คำตอบที่ถูกคือ : 4

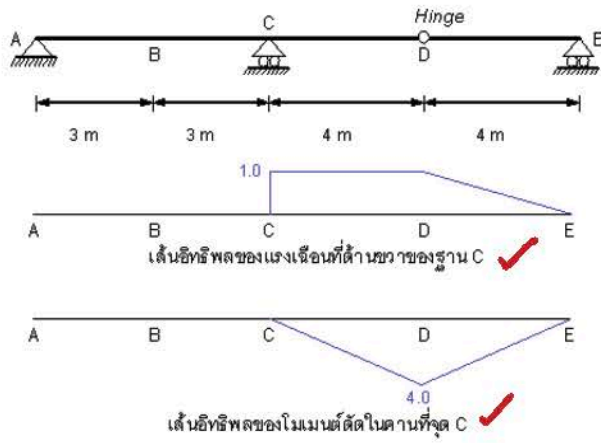
ข้อที่ 132 :  
 จงคำนวณหาขนาดและประเภทของแรงตามแนวแกน (Axial force) ของชิ้นส่วน CG เมื่อนำหนักหนึ่งหน่วยเคลื่อนที่อยู่ที่จุด C ของโครงข้อหมุน (Truss) ดังแสดงในรูป



- 1:  $F_{CG} = 1$  เป็นแรงดึง — \*
  - 2:  $F_{CG} = 1$  เป็นแรงอัด
  - 3:  $F_{CG} = 0.5$  เป็นแรงดึง
  - 4:  $F_{CG} = 0.5$  เป็นแรงอัด
- คำตอบที่ถูกคือ : 1

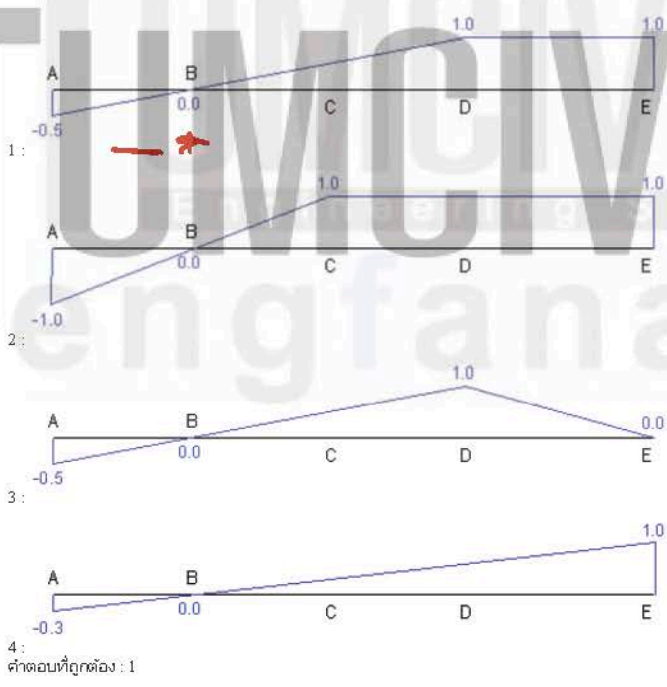
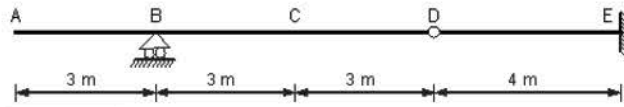
ข้อที่ 133 :

พิจารณาโครงสร้างและเส้นอิทธิพล (Influence line) ดังในรูป ค่าตอบข้อใดเป็นจริง

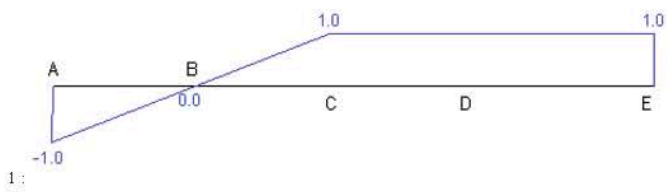
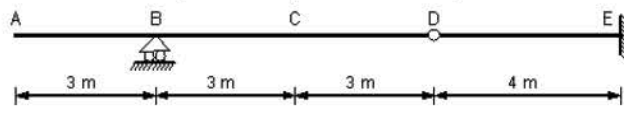


- 1: เส้นอิทธิพลทั้งสองเส้นไม่ถูกต้อง
  - 2: เส้นอิทธิพลทั้งสองเส้นถูกต้อง
  - 3: เส้นอิทธิพลของแรงเฉือนที่ด้านขวาของฐาน C เท่านั้นที่ถูกต้อง
  - 4: เส้นอิทธิพลของโมเมนต์ตัดในคานที่จุด C เท่านั้นที่ถูกต้อง
- คำตอบที่ถูกต้อง : 2

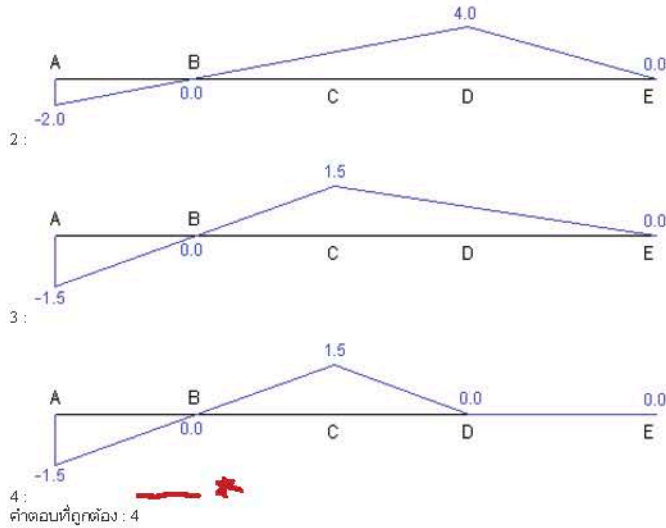
ข้อที่ 134: ข้อใดเป็นเส้นอิทธิพล (Influence line) ของแรงปฏิกิริยาที่ฐาน E ของโครงสร้างดังในรูป



ข้อที่ 135: ข้อใดเป็นเส้นอิทธิพล (Influence line) ของโมเมนต์ตัดที่จุด C ของโครงสร้างดังในรูป



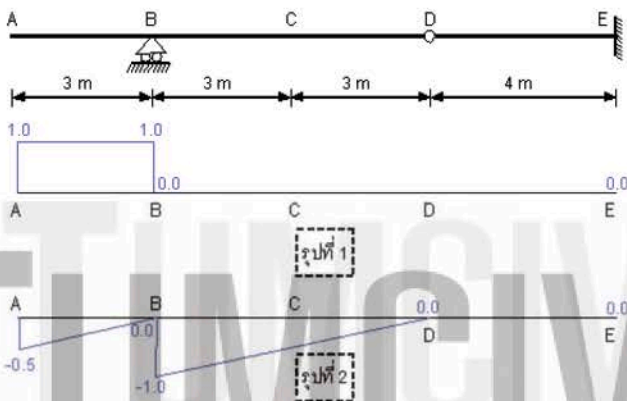




✓ I.L. of  $M_c$

ข้อที่ 136 :

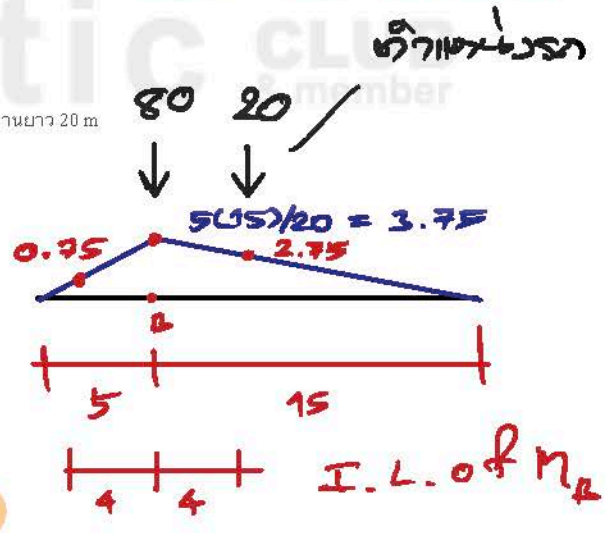
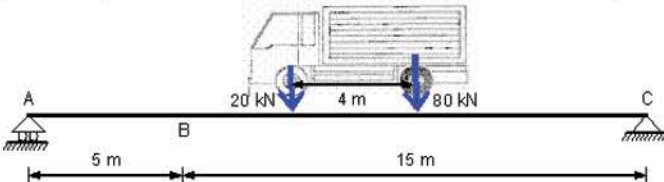
พิจารณาโครงสร้างและเส้นอิทธิพล (Influence line) ในรูปที่ 1 และ 2 แล้วหาคำตอบข้อใดเป็นจริง



- 1 : รูปที่ 1 เท่านั้นที่เป็นเส้นอิทธิพลของแรงเฉือนที่จุด B
  - 2 : รูปที่ 2 เท่านั้นที่เป็นเส้นอิทธิพลของแรงเฉือนที่จุด B
  - 3 : รูปที่ 1 และ 2 เป็นเส้นอิทธิพลของแรงเฉือนที่จุด B
  - 4 : ไม่มีรูปใดเป็นเส้นอิทธิพลของแรงเฉือนที่จุด B
- คำตอบที่ถูกต้อง : 3

ข้อที่ 137 :

รถบรรทุกทุกคันหนึ่งมีน้ำหนักล้อหน้า 20 kN และล้อหลัง 80 kN ดังในรูป รีดผ่านคานสะพานยาว 20 m ให้คำนวณค่าโมเมนต์ที่มากที่สุด ที่จะเกิดขึ้นใต้ที่จุด B (\*\* รถจะอยู่ตำแหน่งใดก็ได้บนสะพาน และหันหน้ารถไปทางซ้ายหรือขวาก็ได้)



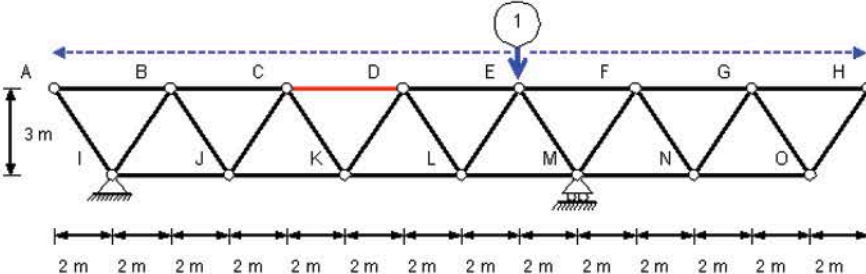
\* -

- 1 : 295 kN-m
  - 2 : 355 kN-m
  - 3 : 460 kN-m
  - 4 : 500 kN-m
- คำตอบที่ถูกต้อง : 2

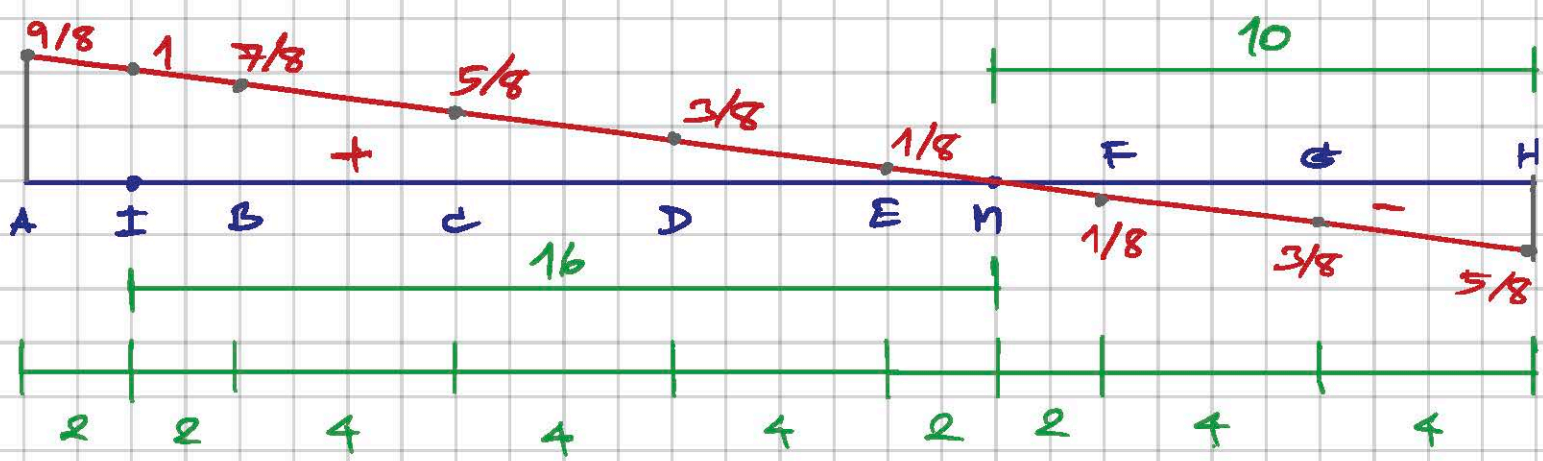
$$\therefore M_{max} = 80(3.75) + 20(2.75) = 355 \text{ kN}\cdot\text{m}$$

ข้อที่ 138 :

คำตอบข้อใดคือเส้นอิทธิพลของแรงในชิ้นส่วน CD (แสดงเป็นชิ้นส่วนสีแดง) ของโครงข้อหมุนดังในรูป

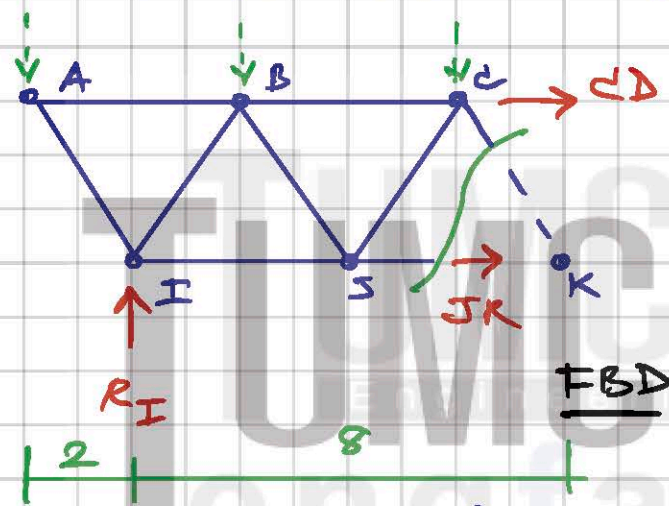


Yo 138



F.L. of  $R_I$

ห้หาแรง 1 หน่วย กระทำที่ A และ B และ C



ห้หา 1 หน่วย กระทำที่ A

$$\sum M_K = 0 = 1(10) - R_I(8) - CD(3)$$

$$\therefore CD = \frac{1}{3} [10 - (9/8)(8)]$$

$$= \frac{1}{3} = +0.33$$

ห้หา 1 หน่วย กระทำที่ B;  $\therefore CD = \frac{1}{3} [1(6) - (7/8)(8)] = -0.33$

ห้หา 1 หน่วย กระทำที่ C;  $\therefore CD = \frac{1}{3} [1(2) - (5/8)(8)] = -1$

ห้หา 1 หน่วย กระทำที่ D และ E และ F และ G และ H

ห้หา 1 หน่วย กระทำที่ D; Take Moment from R on FBD

$\therefore$  ห้หา 1 หน่วย กระทำที่ D;  $CD = \frac{1}{3} [-R_I(8)] = \frac{1}{3} (-3/8)(8) = -1$

E;  $CD = \frac{1}{3} [-(1/8)(8)] = -0.33$

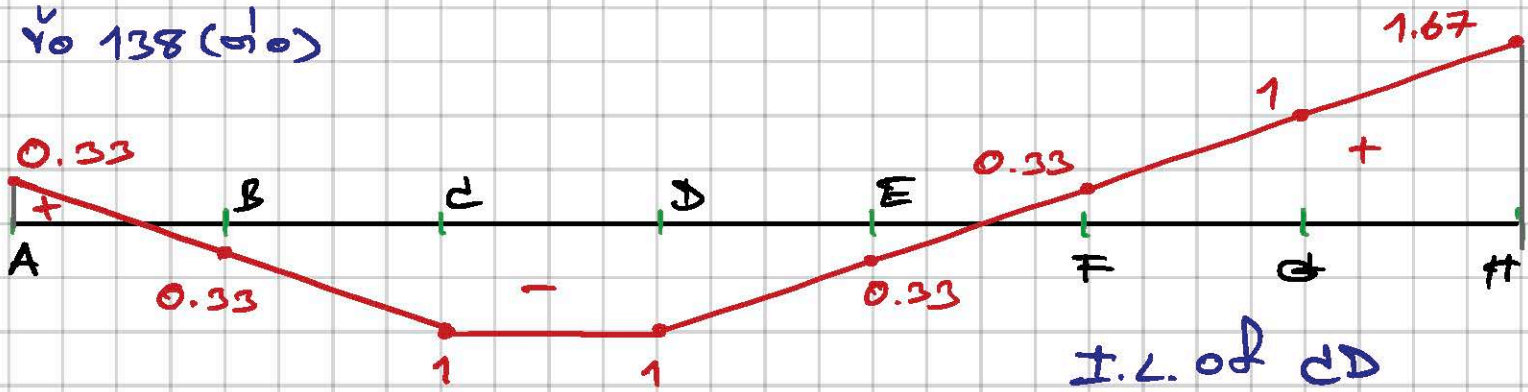
F;  $CD = \frac{1}{3} [-(-1/8)(8)] = +0.33$

G;  $CD = \frac{1}{3} [-(-3/8)(8)] = +1$

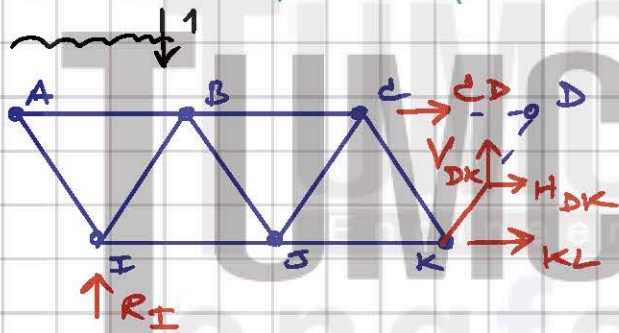
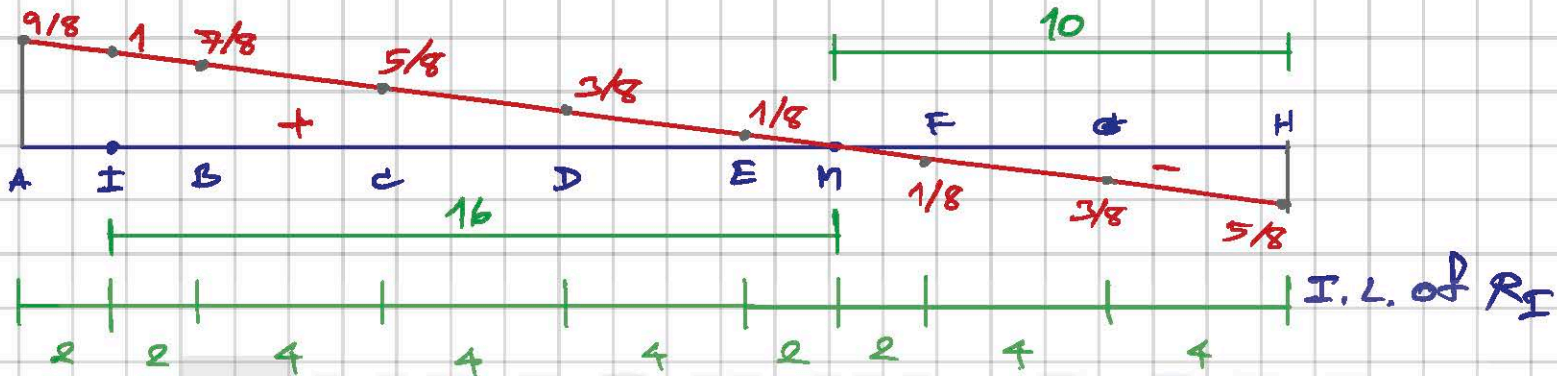
H;  $CD = \frac{1}{3} [-(-5/8)(8)] = +1.67$



Y<sub>0</sub> 138 (10)



Y<sub>0</sub> 139



$$\frac{3}{2} \frac{\sqrt{13}}{2}$$

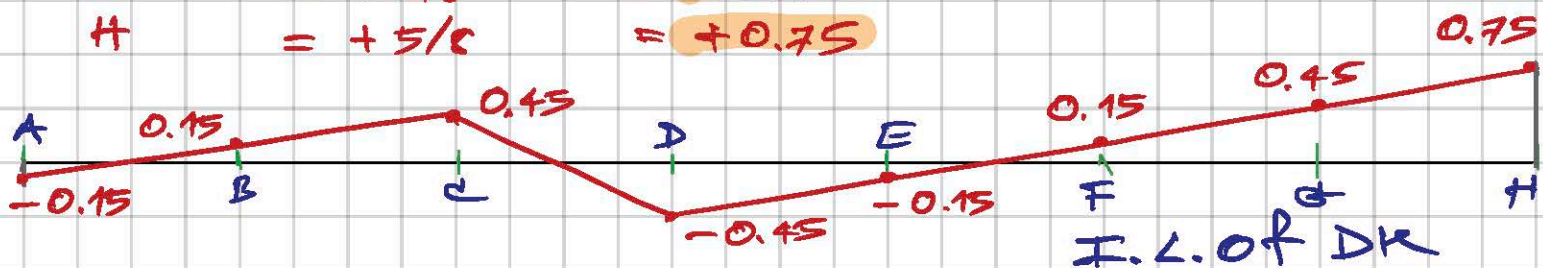
$$\therefore R_{DK} = \frac{\sqrt{13}}{3} V_{DK}$$

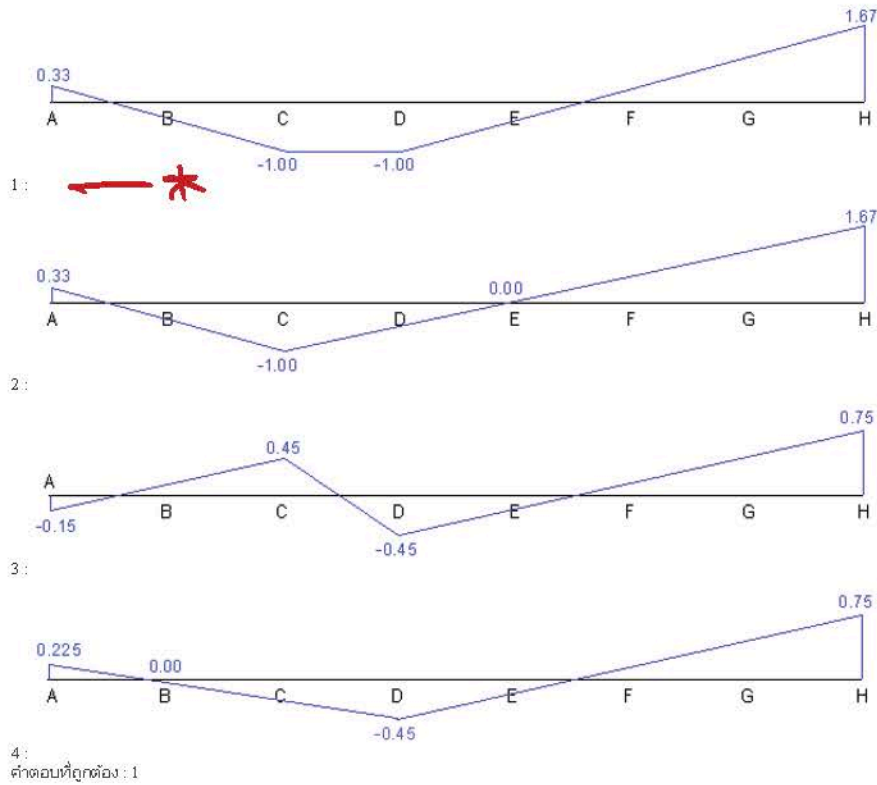
กรณี 1 หน่วยเคลื่อนที่ที่ A หรือ B หรือ C ;  $V_{DK} = 1 - R_I$

ที่ A ;  $V_{DK} = 1 - (9/8) = -1/8$  ,  $R_{DK} = \frac{\sqrt{13}}{3} (-1/8) = -0.15$   
 B ;  $= 1 - (7/8) = 1/8$   $= +0.15$   
 C ;  $= 1 - (5/8) = 3/8$   $= +0.45$

กรณี 2 หน่วยเคลื่อนที่ที่ D หรือ E หรือ F หรือ G หรือ H ;  $V_{DK} = -R_I$

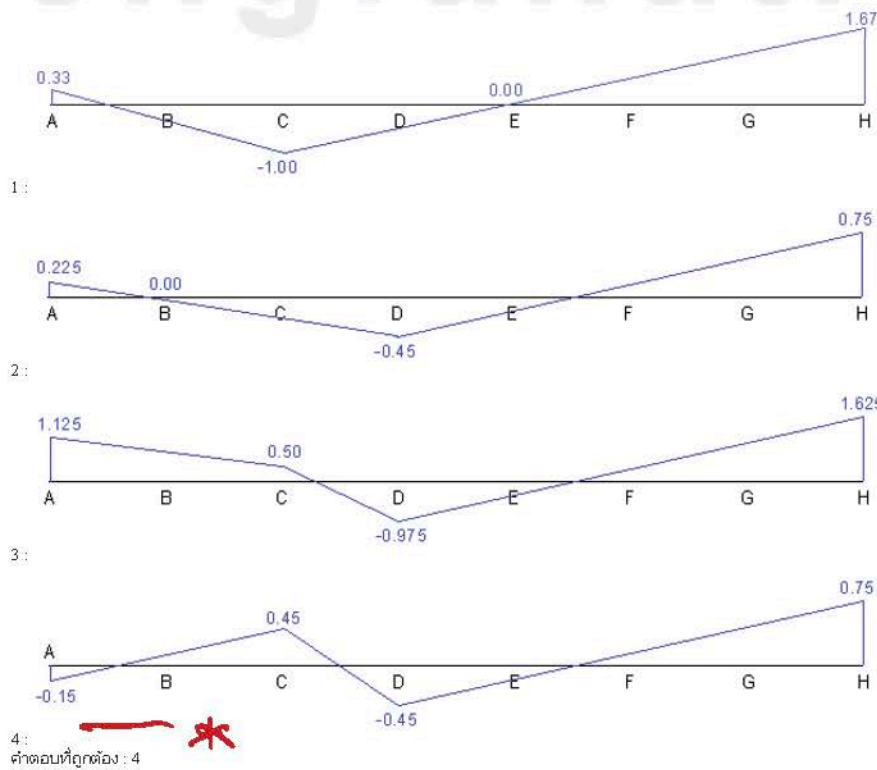
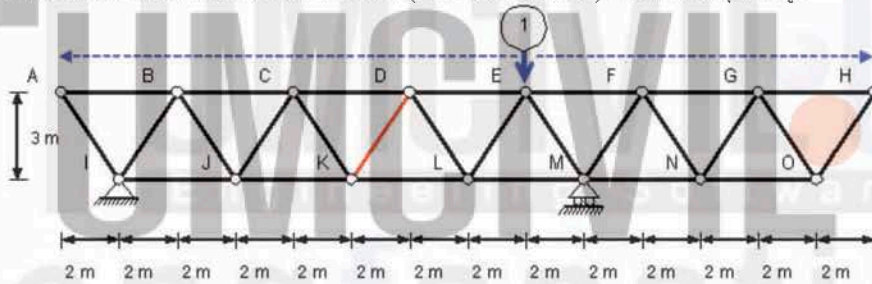
ที่ D ;  $V_{DK} = -3/8$  ,  $R_{DK} = -0.45$   
 E ;  $= -1/8$   $= -0.15$   
 F ;  $= +1/8$   $= +0.15$   
 G ;  $= +3/8$   $= +0.45$   
 H ;  $= +5/8$   $= +0.75$





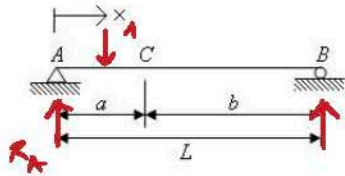
ข้อที่ 139 :

คำตอบข้อใดคือเส้นอิทธิพลของแรงในชิ้นส่วน DK (แสดงเป็นชิ้นส่วนสีแดง) ของโครงข้อหมุนดังในรูป



ข้อที่ 140 :

จงเขียนสมการแสดงอินฟลูเอนซ์ไลน์ของแรงปฏิกิริยาที่ฐานรองรับ A



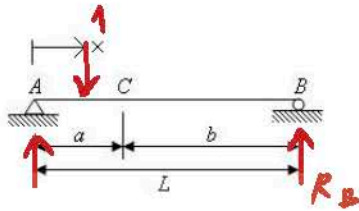
$$\therefore R_A = \frac{1(L-a)}{L} = 1 - \frac{a}{L}$$

- 1: I.L.(R<sub>A</sub>) = x/L - 1
  - 2: I.L.(R<sub>A</sub>) = 1
  - 3: I.L.(R<sub>A</sub>) = x/L
  - 4: I.L.(R<sub>A</sub>) = 1 - x/L
  - 5: I.L.(R<sub>A</sub>) = L - 1/x
- คำตอบที่ถูกต้อง : 4

— \*

ข้อที่ 141 :

จงเขียนสมการแสดงอินฟลูเอนซ์ไลน์ของแรงปฏิกิริยาที่ฐานรองรับ B



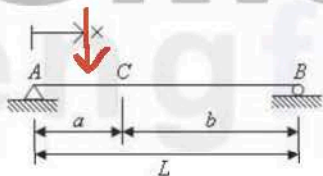
$$R_B = \frac{1(b)}{L} = \frac{a}{L}$$

- 1: I.L.(R<sub>B</sub>) = 1
  - 2: I.L.(R<sub>B</sub>) = 1 - x/L
  - 3: I.L.(R<sub>B</sub>) = x/L
  - 4: I.L.(R<sub>B</sub>) = x/L - 1
- คำตอบที่ถูกต้อง : 3

— \*

ข้อที่ 142 :

จงเขียนสมการแสดงอินฟลูเอนซ์ไลน์ของแรงเฉือนที่จุด C เมื่อน้ำหนักบรรทุกทุกจรถเคลื่อนที่อยู่ในช่วง AC



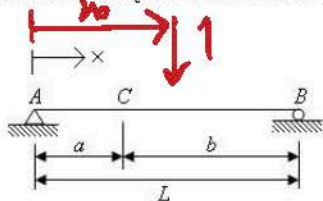
$$V_C = R_A - 1 = \left(1 - \frac{a}{L}\right) - 1 = -\frac{a}{L}$$

- 1: I.L.(V<sub>C</sub>) = -x/L
  - 2: I.L.(V<sub>C</sub>) = 1 - x/L
  - 3: I.L.(V<sub>C</sub>) = x/L - 1
  - 4: I.L.(V<sub>C</sub>) = x/L
- คำตอบที่ถูกต้อง : 1

— \*

ข้อที่ 143 :

จงเขียนสมการแสดงอินฟลูเอนซ์ไลน์ของแรงเฉือนที่จุด C เมื่อน้ำหนักบรรทุกทุกจรถเคลื่อนที่อยู่ในช่วง CB



$$\therefore V_C = R_A = 1 - \frac{a}{L}$$

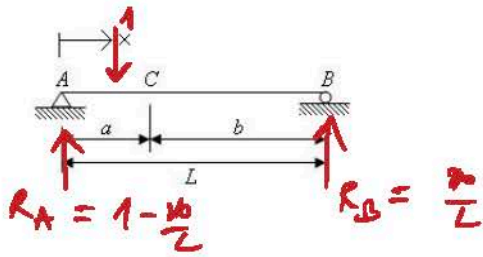
- 1: I.L.(V<sub>C</sub>) = -x/L
  - 2: I.L.(V<sub>C</sub>) = 1 - x/L
  - 3: I.L.(V<sub>C</sub>) = x/L
  - 4: I.L.(V<sub>C</sub>) = x/L - 1
- คำตอบที่ถูกต้อง : 2

— +

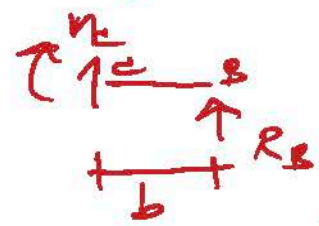


ข้อที่ 144 :

จงเขียนสมการแสดงอินฟลูเอนซ์ไลน์ของโมเมนต์ตัดที่จุด C เมื่อน้ำหนักบรรทุกจุดเคลื่อนที่ในช่วง AC



ถ้าแรง 1 หน่วย อยู่ใน ช่วง AC

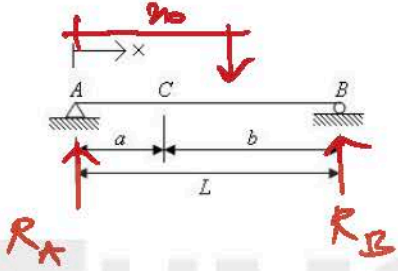


$\therefore M_c = R_B b = \frac{xb}{L}$

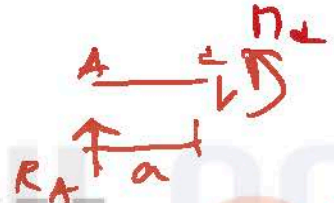
- 1:  $IL(M_c) = L - x/L$
  - 2:  $IL(M_c) = xb/L$  — \*
  - 3:  $IL(M_c) = xa/L$
  - 4:  $IL(M_c) = L - xb/L$
- คำตอบที่ถูกต้อง : 2

ข้อที่ 145 :

จงเขียนสมการแสดงอินฟลูเอนซ์ไลน์ของโมเมนต์ตัดที่จุด C เมื่อน้ำหนักบรรทุกจุดเคลื่อนที่ในช่วง CB



ถ้าแรง 1 หน่วย อยู่ใน ช่วง CB



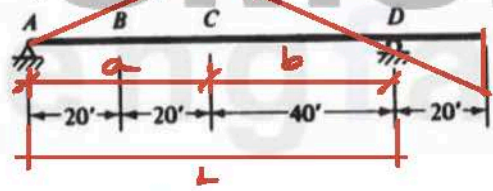
$\therefore M_c = R_A a = (1 - \frac{x}{L})a$

- 1:  $IL(M_c) = (1-x/L)b$
  - 2:  $IL(M_c) = (x/L)b$
  - 3:  $IL(M_c) = (1-x/L)a$  — \*
  - 4:  $IL(M_c) = (x/L)a$
- คำตอบที่ถูกต้อง : 3

$M_c = \frac{ab}{L} = \frac{(40)(40)}{(80)} = 20 \text{ kip-ft}$

ข้อที่ 146 :

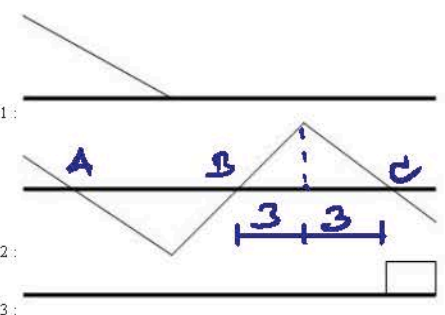
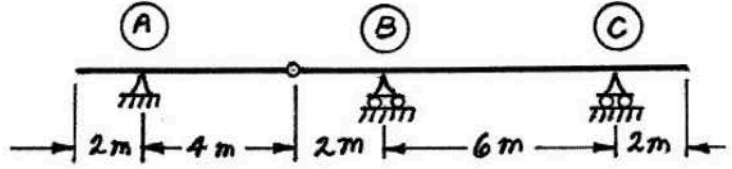
จากรูป ค่าของอินฟลูเอนซ์ไลน์ Mc มีค่าเท่าใด



- 1: 10 kip-ft
  - 2: 20 kip-ft — \*
  - 3: 30 kip-ft
  - 4: 40 kip-ft
- คำตอบที่ถูกต้อง : 2


ข้อที่ 147 :

จากหลักการของ Muller Breslau's รูปใดคืออินฟลูเอนซ์ไลน์ของโมเมนต์ ณ จุดกึ่งกลาง B-C



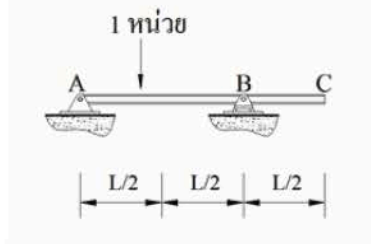
I.L. of  $M_c$  ณ จุดกึ่งกลาง B-C

\* —



ข้อที่ 148 :

คานที่มีน้ำหนักหนึ่งหน่วยเคลื่อนที่ดังรูป  
ข้อใดคือ INFLUENCE LINES ของแรงปฏิกิริยาที่จุด A



1: I.L. of  $R_A$

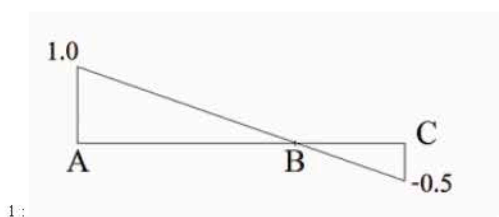
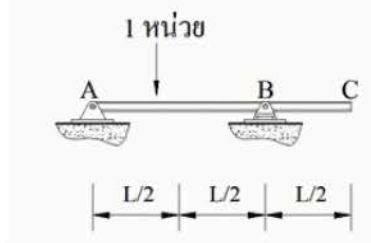
2:

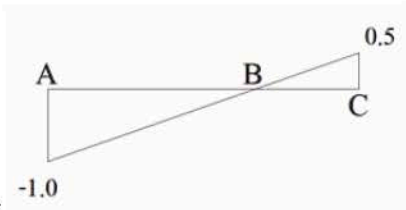
3:

4:   
คำตอบที่ถูกต้อง : 1

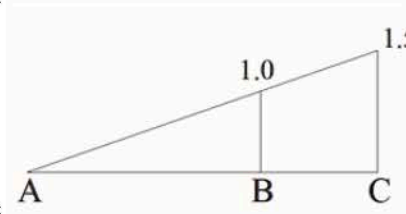
ข้อที่ 149 :

คานที่มีน้ำหนักหนึ่งหน่วยเคลื่อนที่ดังรูป  
ข้อใดคือ INFLUENCE LINES ของแรงปฏิกิริยาที่จุด B

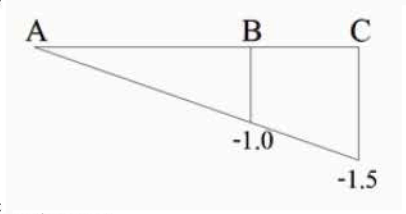




2:



3:



4:

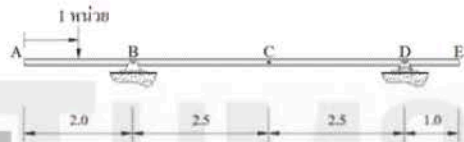
คำตอบที่ถูกต้อง : 3

I.L. of  $R_B$

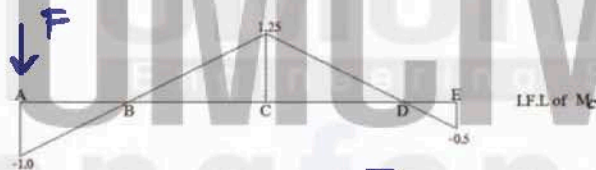


ข้อที่ 150 :

คานที่มีน้ำหนักหนึ่งหน่วยเคลื่อนที่ดังรูป



ถ้า INFLUENCE LINES ของโมเมนต์ที่จุด C สามารถคำนวณได้ดังแสดงในแผนภาพ สะพานนี้ จะเกิดโมเมนต์คดลบสูงสุดที่จุด C เมื่อแรงกระทำที่ตำแหน่งใด

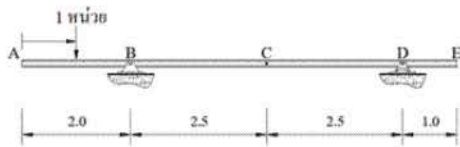


$$M_C \text{ max} = F(-1) = -F$$

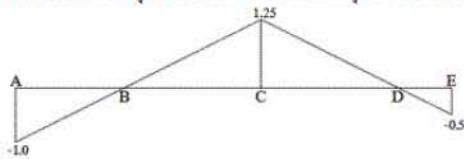
- 1: A
  - 2: B
  - 3: C
  - 4: D
- คำตอบที่ถูกต้อง : 1

ข้อที่ 151 :

คานที่มีน้ำหนักหนึ่งหน่วยเคลื่อนที่ดังรูป ความยาวคานมีหน่วยเป็นเมตร



โดยมี INFLUENCE LINES ของโมเมนต์ที่จุด C ดังแผนภาพ ถ้ามีน้ำหนักกระทำแบบจุด ขนาด 20 ตัน ริงบนคานนี้ ที่จุด C จะทำให้เกิดโมเมนต์คดที่จุด C ขนาดเท่าใด?



I.F.L. of  $M_C$

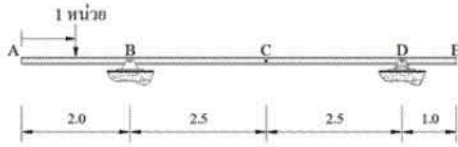
$$\therefore M_C = 20(1.25) = 25 \text{ T}\cdot\text{m}$$

- 1: 1.25 ตัน เมตร
  - 2: 25 ตัน เมตร
  - 3: -1 ตัน เมตร
  - 4: -20 ตัน เมตร
- คำตอบที่ถูกต้อง : 2

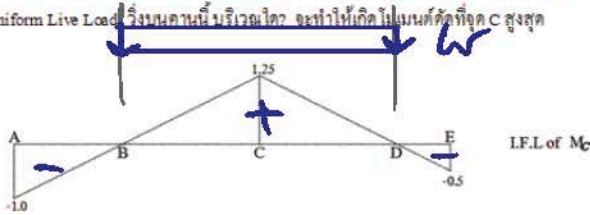


ข้อที่ 152 :

คานที่มีน้ำหนักหนึ่งหน่วยเคลื่อนที่ดังรูป ความยาวคานมีหน่วยเป็นเมตร



โดยมี INFLUENCE LINES ของโมเมนต์ค้ำจุด C ดังแผนภาพ ถ้ามีน้ำหนักกระทำแบบสม่ำเสมอ (Uniform Live Load) รั้งบนคานนี้บริเวณใด จะทำให้เกิดโมเมนต์ค้ำจุด C สูงสุด

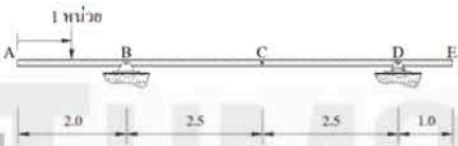


- 1: A ถึง B
  - 2: B ถึง D
  - 3: D ถึง E
  - 4: A ถึง E
- คำตอบที่ถูกต้อง : 2

$\therefore M_C = 5 \cdot \text{พื้นที่ของ I.L. ของช่วงที่ } w \text{ กระทำ}$

ข้อที่ 153 :

คานที่มีน้ำหนักหนึ่งหน่วยเคลื่อนที่ดังรูป



โดยมี INFLUENCE LINES ของแรงปฏิกิริยาที่จุด B ดังแผนภาพ ถ้ามีน้ำหนักกระทำแบบจุด ขนาด 20 ตัน รั้งบนคานนี้ ที่จุด A จะทำให้เกิดแรงปฏิกิริยาที่จุด B มีขนาดเท่าใด?

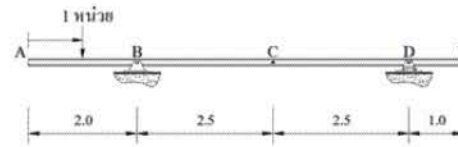


- 1: 4 ตัน
  - 2: 0
  - 3: 10 ตัน
  - 4: 28 ตัน
- คำตอบที่ถูกต้อง : 4


$\therefore R_B = 20(1.4) = 28 \text{ T}$

ข้อที่ 154 :

คานที่มีน้ำหนักหนึ่งหน่วยเคลื่อนที่ดังรูป ความยาวคานมีหน่วยเป็นเมตร



โดยมี INFLUENCE LINES ของแรงปฏิกิริยาที่จุด B ดังแผนภาพ ถ้ามีน้ำหนักกระทำแบบสม่ำเสมอขนาด 5 ขม. กระทำบนคานนี้ ตั้งแต่จุด A ถึง จุด B จะทำให้เกิดแรงปฏิกิริยาที่จุด B มีขนาดเท่าใด



- 1: 5 ตัน
- 2: 12 ตัน
- 3: 24 ตัน
- 4: 28 ตัน

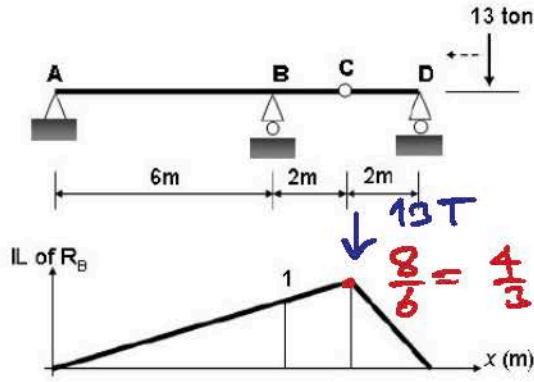
$\therefore R_B = 5 \left[ \frac{1}{2} (1.4 + 1) (2) \right] = 12 \text{ T}$



คำตอบที่ถูกต้อง : 2

ข้อที่ 155 :

จากภาพ influence line ของ reaction ที่จุด B ของคานที่กำหนดให้ หากมี น้ำหนักบรรทุก 13 ton วิ่งผ่านคานดังแสดงในรูป จงหาค่าสูงสุดของ reaction ที่จุด B พร้อมระบุตำแหน่งที่น้ำหนักบรรทุกนี้กระทำ

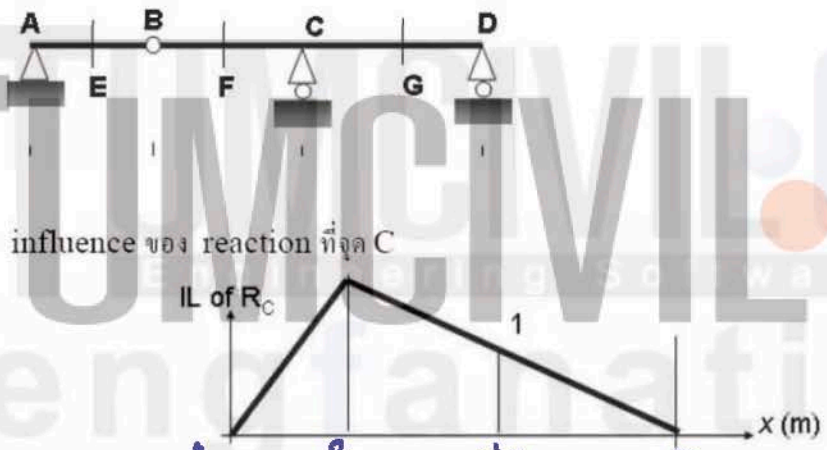


และ  $13 T \cdot \frac{4}{3} = \text{กระทำที่จุด C}$   
 $R_B = 13 \left( \frac{4}{3} \right)$   
 $= 17.33 T$

- 1: ค่าสูงสุด คือ 17.33 ton น้ำหนักบรรทุกอยู่ที่จุด B
  - 2: ค่าสูงสุด คือ 17.33 ton น้ำหนักบรรทุกอยู่ที่จุด C
  - 3: ค่าสูงสุด คือ 21.67 ton น้ำหนักบรรทุกอยู่ที่จุด B
  - 4: ค่าสูงสุด คือ 21.67 ton น้ำหนักบรรทุกอยู่ที่จุด C
- คำตอบที่ถูกต้อง : 2

ข้อที่ 156 :

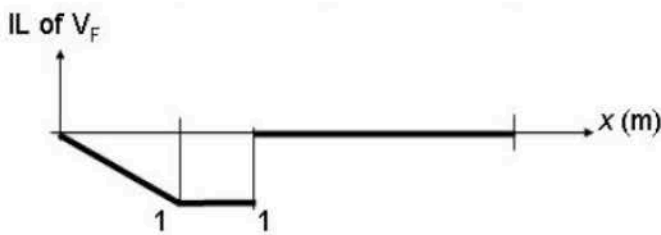
จากคานที่กำหนดให้ตั้งรูป ภาพ influence line ต่อไปนี้ คำตอบใดผิด



1: influence ของ shear ที่หน้าตัด E



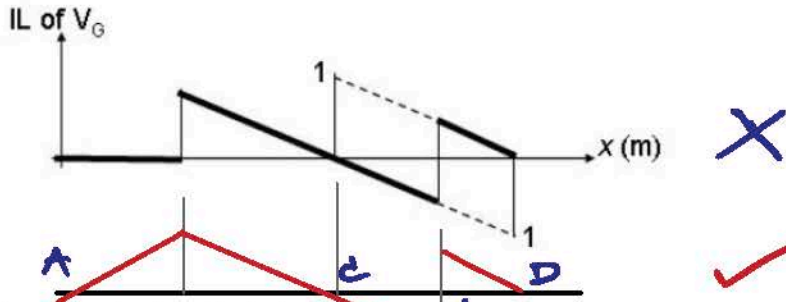
2: influence ของ shear ที่หน้าตัด F



3:



influence ของ shear ที่หน้าตัด G

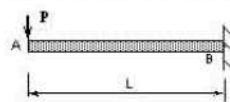


4: ค่าตอบที่ถูกคือ : 4

เนื้อหาวิชา : 532 : Deflections of determinate structures by methods of virtual work, strain energy

ข้อที่ 157 :

จงคำนวณหาค่าการโก่งตัว (Deflection) ที่ปลายอิสระ (จุด A) ของคานยื่นที่มีความยาว 2.00 เมตร รับน้ำหนักกระทำเป็นจุด ขนาด 6 T มีค่าโมเมนต์ อินเนอร์เซีย 5000 ซม.<sup>4</sup> และค่าโมดูลัสของการยืดหยุ่นเป็น 2000 ตันต่อตารางเซนติเมตร



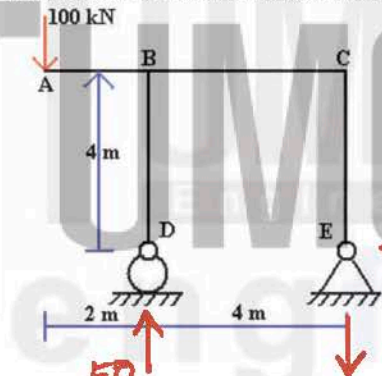
- 1: 0.2 cm
  - 2: 0.8 cm
  - 3: 1.0 cm
  - 4: 1.6 cm
- คำตอบที่ถูกคือ : 4

$\therefore \delta_A = \eta_{A'}$   
 $= -\frac{PL^2}{2EI} - \frac{2L}{3}$   
 $= -\frac{PL^3}{3EI}$   
 $= -\frac{6(200)^3}{3(2000)(5000)}$   
 $= -1.6 \text{ cm} = 1.6 \text{ cm} \downarrow$

$\frac{1}{2} \left( \frac{PL}{EI} \right) (L) = \frac{PL^2}{2EI}$   
 $\frac{2L}{3}$

ข้อที่ 158 :

ข้อใดเป็นคำตอบที่ถูกต้องของค่าการโก่งตัวในแนวตั้งที่จุด A ที่พิจารณาจากแรงดัดเท่านั้น (ทิศทางลงเป็นบวก และขึ้นเป็นลบ)



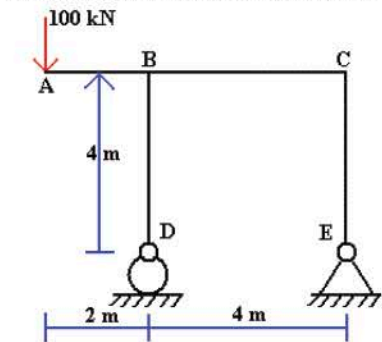
- 1: 200/EI m.
  - 2: 400/EI m.
  - 3: 800/EI m.
  - 4: 1600/EI m.
- คำตอบที่ถูกคือ : 3

$\frac{100(2)}{4} = 50$   
 $\frac{100(2)}{4} = 50$

$\frac{1}{2} (2) \left( \frac{200}{EI} \right) = \frac{200}{EI}$   
 $\frac{1}{2} (4) \left( \frac{200}{EI} \right) = \frac{400}{EI}$   
 $\frac{400}{EI} \left( \frac{8}{3} \right) \left( \frac{1}{7} \right) = \frac{800}{3EI}$

ข้อที่ 159 :

ข้อใดเป็นคำตอบที่ถูกต้องของค่าการหมุนที่จุด A ที่พิจารณาจากแรงดัดเท่านั้น (ทิศทางทวนเข็มนาฬิกาเป็นบวก และตามเข็มนาฬิกาเป็นลบ)



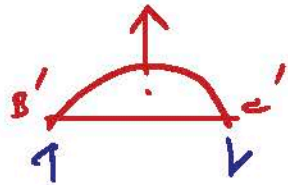
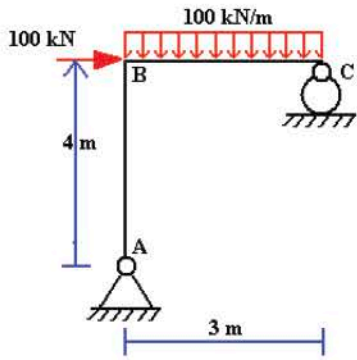
- 1: 800/EI
  - 2: 1000/3EI
  - 3: 1400/3EI
  - 4: 1600/3EI
- คำตอบที่ถูกคือ : 3

$\therefore \delta_A = \eta_{A'} = -\left( \frac{800}{3EI} \right) (2) - \left( \frac{200}{EI} \right) \left( \frac{4}{3} \right)$   
 $= -800/EI = 800/EI \downarrow$

$\theta_A = \eta_{A'} = \frac{800}{3EI} + \frac{200}{EI}$   
 $= 1400/3EI \downarrow$

ข้อที่ 160 :

ข้อใดเป็นคำตอบที่ถูกต้องของค่าการโก่งตัว (deflection) ในแนวตั้งที่จุด B ที่พิจารณาจากแรงดัดเท่านั้น (ทิศทางลงเป็นบวก และขึ้นเป็นลบ)



ตามข้อ 161

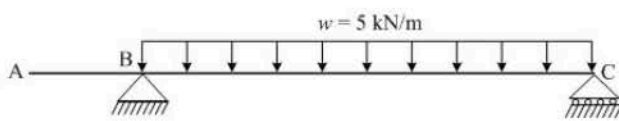
พิจารณาจากกรอบโครงสร้าง

$\theta_{B'} \neq 0 \therefore \delta_B = 0$

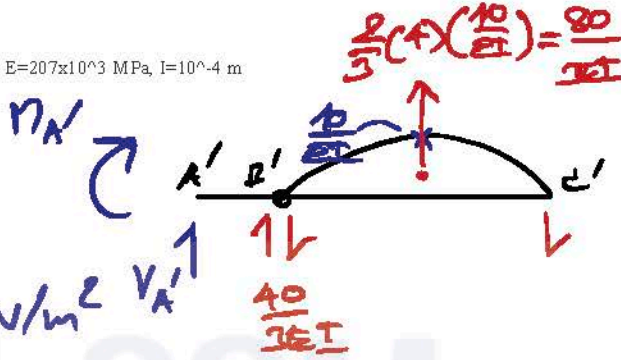
- 1: 0 m
- 2: 50/EI m
- 3: 100/EI m
- 4: 150/EI m
- คำตอบที่ถูกต้อง : 1

ข้อที่ 161 :

จงคำนวณหาขนาดและทิศทางของการเคลื่อนตัวในแนวตั้ง ของจุด A ของคาน ABC ดังแสดงในรูป  $E=207 \times 10^3$  MPa,  $I=10^{-4}$  m<sup>4</sup>



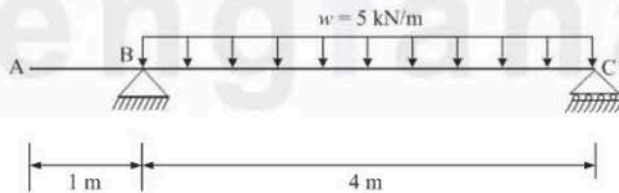
$E = 207 \times 10^3 \text{ MPa} = 207 \times 10^6 \text{ kN/m}^2$



- 1: 0.643 m ทิศขึ้น
- 2: 0.643 m ทิศลง
- 3: 0.321 m ทิศขึ้น
- 4: 0.321 m ทิศลง
- คำตอบที่ถูกต้อง : 1

ข้อที่ 162 :

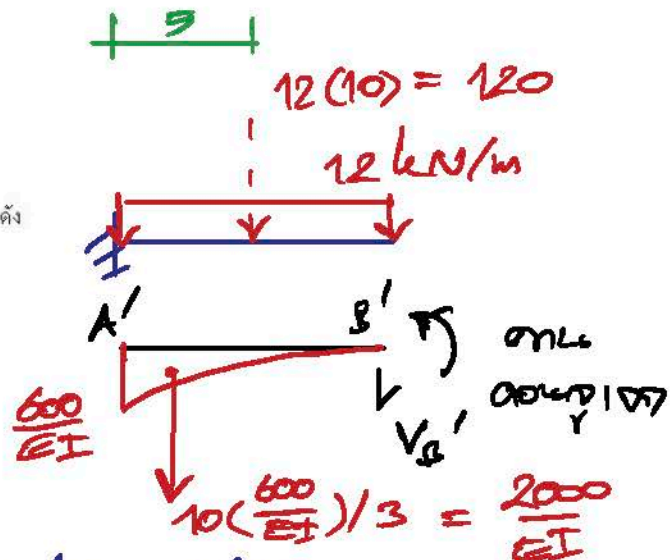
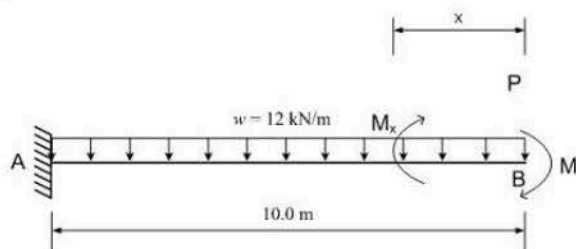
จงคำนวณหาขนาดและทิศทางของการหมุน (rotation) ของจุด A ของคาน ABC ดังแสดงในรูป  $E=207 \times 10^3$  MPa,  $I=10^{-4}$  m<sup>4</sup>



- 1: 0.643 rad ทวนเข็มนาฬิกา
- 2: 0.643 rad ตามเข็มนาฬิกา
- 3: 0.321 rad ทวนเข็มนาฬิกา
- 4: 0.321 rad ตามเข็มนาฬิกา
- คำตอบที่ถูกต้อง : 2

ข้อที่ 163 :

จงคำนวณหาขนาดและทิศทางของการหมุน (rotation) ของจุด B ของคาน (Beam) AB ดังแสดงในรูป  $E=200 \times 10^6$  kPa,  $I=5 \times 10^{-4}$  m<sup>4</sup>



$\therefore \theta_B = \theta_{B'} = -\frac{2000}{EI} = -\frac{2000}{[200 \times 10^6 (5 \times 10^{-4})]}$

- 1: 0.01 rad ทวนเข็มนาฬิกา

$= -0.02 = 0.02 \text{ rad}$

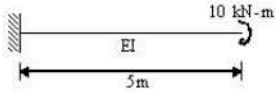


- 2: 0.01 rad หักตามเข็มนาฬิกา
  - 3: 0.02 rad หักตามเข็มนาฬิกา
  - 4: 0.02 rad หักตามเข็มนาฬิกา
- คำตอบที่ถูกต้อง : 4

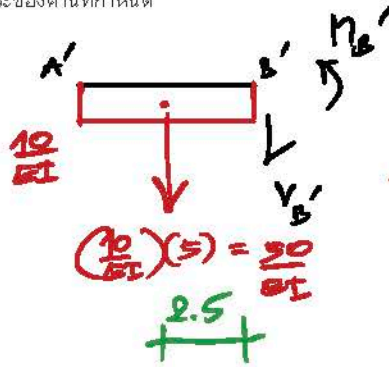


ข้อที่ 164 :

จงคำนวณระยะโก่ง (vertical deflection) ที่ปลายอิสระของคานที่กำหนด



- 1: 125/EI
  - 2: 127.5/EI
  - 3: 120/EI
  - 4: 100/EI
- คำตอบที่ถูกต้อง : 1

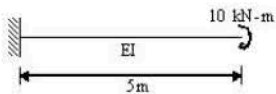


ตามข้อ 164

$$\begin{aligned} \therefore \delta_B &= M_B' \\ &= -\frac{50}{EI} (2.5) \\ &= -\frac{125}{EI} \\ &= \frac{125}{EI} \downarrow \end{aligned}$$

ข้อที่ 165 :

จงคำนวณหามุมลาดเอียง (slope) ที่ปลายอิสระของคานที่กำหนด



- 1: 125/EI-clockwise
  - 2: 125/EI-counterclockwise
  - 3: 50/EI-clockwise
  - 4: 50/EI-counterclockwise
- คำตอบที่ถูกต้อง : 3

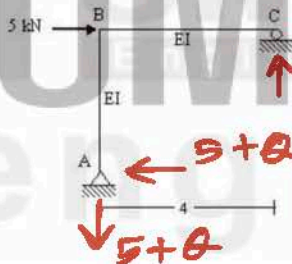


$$\theta_B = \theta_B' = -\frac{10}{EI}$$

$$= \frac{50}{EI}$$

ข้อที่ 166 :

จงคำนวณระยะเคลื่อนที่ในแนวนอน (horizontal deflection) ของจุด C ของโครงข้อแข็งที่กำหนด



- 1: 640/EI ไปทางขวา
  - 2: 620/EI ไปทางขวา
  - 3: 610/EI ไปทางขวา
  - 4: 320/EI ไปทางขวา
- คำตอบที่ถูกต้อง : 1



วิธีทำ: ใช้ทฤษฎีของ Castigliano

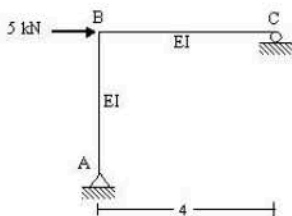
$$\therefore \delta_C = \int_0^L m \left( \frac{\partial m}{\partial Q} \right) \frac{dL}{EI}$$

จาก A ถึง B ;  $m = (5+Q)x$  ✓  
 $\frac{\partial m}{\partial Q} = 1$   
 $m \left( \frac{\partial m}{\partial Q} \right) = 5x^2 + Qx$  ✓

จาก C ถึง B ;  $m = (5+Q)10$  ✓  
 $\frac{\partial m}{\partial Q} = 1$   
 $\therefore m \left( \frac{\partial m}{\partial Q} \right) = 5 \cdot 10^2$  ✓

ข้อที่ 167 :

จงคำนวณระยะเคลื่อนที่ในแนวนอน (horizontal deflection) ของจุด B ของโครงข้อแข็งที่กำหนด



- 1: 320/EI ไปทางขวา
  - 2: 310/EI ไปทางขวา
  - 3: 640/EI ไปทางขวา
  - 4: 620/EI ไปทางขวา
- คำตอบที่ถูกต้อง : 3



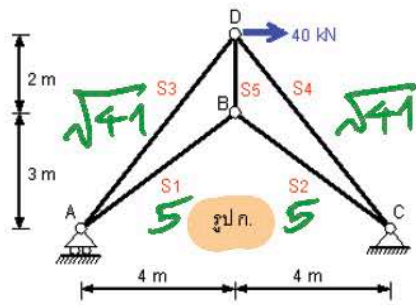
$$\begin{aligned} \therefore \delta_B &= \delta_C \\ &= 2 \int_0^4 (5x^2) \frac{dL}{EI} \\ &= 2 \left[ \frac{5x^3}{3EI} \right]_0^4 \\ &= \frac{640}{3EI} \rightarrow \end{aligned}$$

$\therefore \delta_B = \delta_C ; \therefore \delta_B = \frac{640}{3EI} \rightarrow$

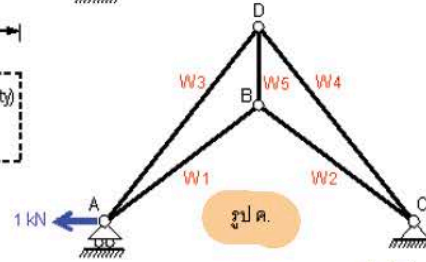
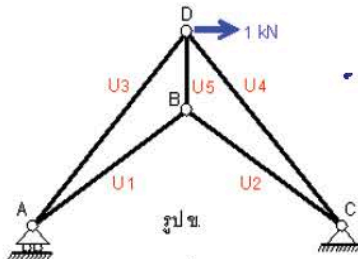
ข้อที่ 168 :

โครงข้อหมุนรับแรงกระทำดังในรูป ก. ให้หาค่าการเคลื่อนที่ในแนวราบที่จุด A [ตัวหนังสือสีแดงในรูป ก, ข, และรูป ค. คือค่าแรงตามแนวแกนในแต่ละชิ้นส่วน]

เมื่อมีแรงลักษณะต่างๆ (สีน้ำเงิน) มากกระทำ



ทุกชิ้นส่วนมีค่า E (Modulus of Elasticity) และ A (Sectional Area) เท่ากัน



หา  $\Delta_{HA}$   
 $\therefore$  พิจารณา รูป ก 10 > 1

$$1 \cdot \Delta_{HA} = \sum \frac{S_u L}{EA}$$

$\therefore EA$  ลงท้าย

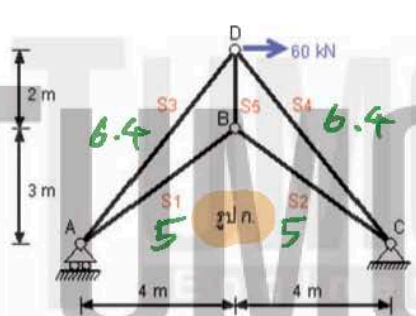
$$\therefore \Delta_{HA} = \frac{1}{EA} \sum S_u L$$

- 1:  $(S_1 U_1 + S_2 U_2 + S_3 U_3 + S_4 U_4 + S_5 U_5) / (EA)$
  - 2:  $(5.0 S_1 U_1 + 5.0 S_2 U_2 + 6.4 S_3 U_3 + 6.4 S_4 U_4 + 2.0 S_5 U_5) / (EA)$
  - 3:  $(S_1 W_1 + S_2 W_2 + S_3 W_3 + S_4 W_4 + S_5 W_5) / (EA)$
  - 4:  $(5.0 S_1 W_1 + 5.0 S_2 W_2 + 6.4 S_3 W_3 + 6.4 S_4 W_4 + 2.0 S_5 W_5) / (EA)$
- คำตอบที่ถูกคือ : 4

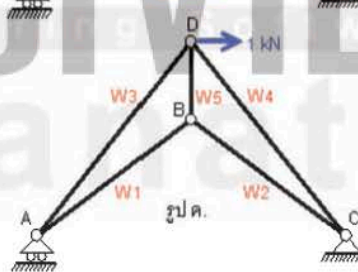
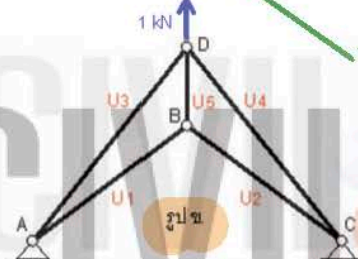
$$\Delta_{HA} = \frac{1}{EA} [S_1 W_1 (5) + S_2 W_2 (5) + S_3 W_3 (6.4) + S_4 W_4 (6.4) + S_5 W_5 (2)]$$

ข้อที่ 169 :

โครงสร้างรับแรงกระทำดังในรูป ก. ให้หาค่าการเคลื่อนที่ในแนวตั้งที่จุด D



ทุกชิ้นส่วนมีค่า E (Modulus of Elasticity) และ A (Sectional Area) เท่ากัน



หา  $\Delta_{VD}$   
 $\therefore$  พิจารณา รูป ข 10 > 1

$$1 \cdot \Delta_{VD} = \sum \frac{S_u L}{EA}$$

ในคำตอบข้อ 168  
 $\Delta_{VD}$

- 1:  $(5.0 S_1 U_1 + 5.0 S_2 U_2 + 6.4 S_3 U_3 + 6.4 S_4 U_4 + 2.0 S_5 U_5) / (EA)$
  - 2:  $60 (5.0 U_1 U_1 + 5.0 U_2 U_2 + 6.4 U_3 U_3 + 6.4 U_4 U_4 + 2.0 U_5 U_5) / (EA)$
  - 3:  $(5.0 S_1 W_1 + 5.0 S_2 W_2 + 6.4 S_3 W_3 + 6.4 S_4 W_4 + 2.0 S_5 W_5) / (EA)$
  - 4:  $60 (5.0 S_1 S_1 + 5.0 S_2 S_2 + 6.4 S_3 S_3 + 6.4 S_4 S_4 + 2.0 S_5 S_5) / (EA)$
- คำตอบที่ถูกคือ : 1

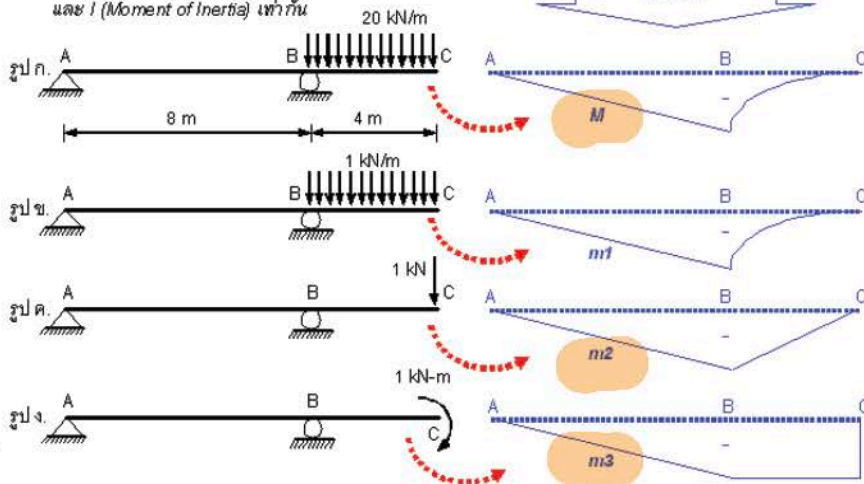
ข้อที่ 170 :

$$\Delta_{HA} = \frac{5S_1 W_1 + 5S_2 W_2 + 6.4 S_3 W_3 + 6.4 S_4 W_4 + 2S_5 W_5}{EA}$$



คำตอบเป็นสมการที่ใช้หาค่าการเคลื่อนที่ในแนวตั้งที่จุด C ( $\Delta_c$ ) และมุมหมุน (Rotation) ที่จุด C ( $\theta_c$ )  
เมื่อมีแรง 20 kN/m กระทำดังในรูป ก.

ทุกชิ้นส่วนมีค่า E (Modulus of Elasticity)  
และ I (Moment of Inertia) เท่ากัน



$m_{\Delta_c}$

$m_{\theta_c}$

โดยวิธีแยกแยะ

หาค่า  $\Delta_c$  ของแต่ละกรณี

1. หาค่า  $\Delta_c$  ของแต่ละกรณี

หาค่า  $\theta_c$  ของแต่ละกรณี

สุดท้าย 1. หาค่า  $\Delta_c$

$$\Delta_c = \int \frac{M \cdot m_1}{EI} dx$$

$$\theta_c = \int \frac{M \cdot m_1'}{EI} dx$$

$$\Delta_c = \int \frac{(M \cdot m_1)}{EI} dx, \quad \theta_c = \int \frac{(M \cdot m_2)}{EI} dx$$

$$\Delta_c = \int \frac{(M \cdot m_2)}{EI} dx, \quad \theta_c = \int \frac{(M \cdot m_3)}{EI} dx$$

$$\Delta_c = \int \frac{(m_1 \cdot m_2)}{EI} dx, \quad \theta_c = \int \frac{(m_1 \cdot m_3)}{EI} dx$$

$$\Delta_c = \int \frac{(m_2 \cdot m_2)}{EI} dx, \quad \theta_c = \int \frac{(m_2 \cdot m_3)}{EI} dx$$

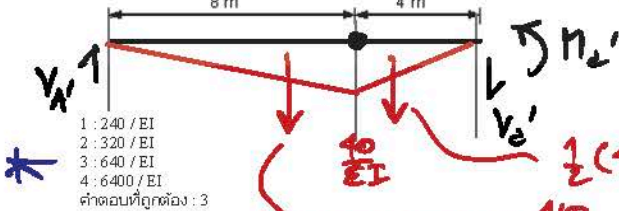

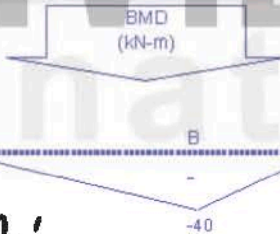
คำตอบที่ถูกต้อง : 2

ข้อที่ 171:

จงหาค่า Deflection ที่จุด C เมื่อมีแรง 10 kN กระทำ ตามรูปด้านล่าง

ทุกชิ้นส่วนมีค่า E (Modulus of Elasticity)

และ I (Moment of Inertia) เท่ากัน



- 1: 240 / EI
  - 2: 320 / EI
  - 3: 640 / EI
  - 4: 6400 / EI
- คำตอบที่ถูกต้อง : 3

$$\frac{1}{2} (4) \left( \frac{10}{EI} \right) = \frac{20}{EI}$$

$$\frac{1}{2} (8) \left( \frac{10}{EI} \right) = \frac{40}{EI}$$

$$\therefore \Delta_c = \Delta_c' = - \frac{320}{3EI} (4) - \frac{80}{EI} \left( \frac{4}{3} \right)$$

$$= - 640/EI = 640/EI \downarrow$$

$$\frac{160}{EI} \left( \frac{16}{3} \right) \left( \frac{4}{3} \right)$$

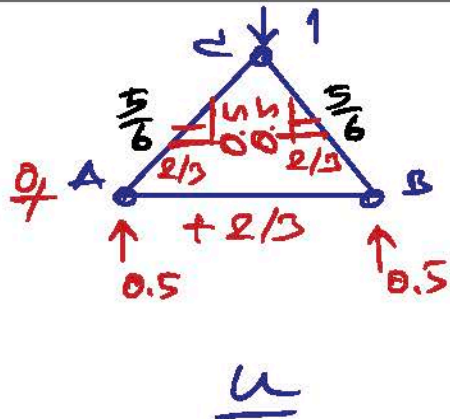
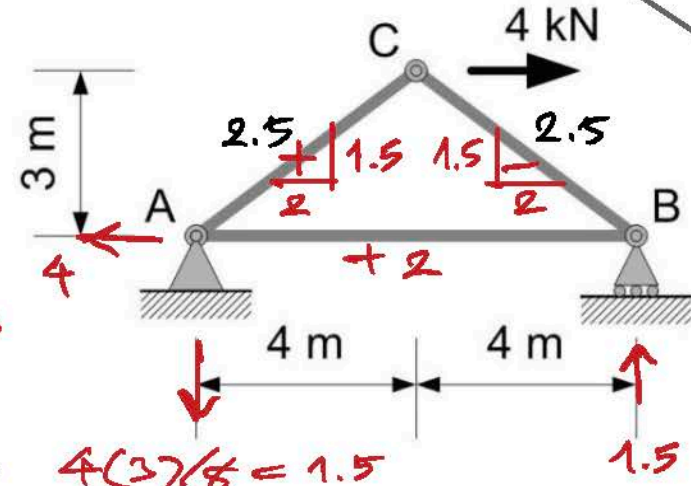
$$= \frac{3200}{3EI}$$

$$\downarrow \frac{80}{EI} \left( \frac{4}{3} \right)$$

$$\frac{80}{EI}$$

ข้อที่ 172:

Determine the vertical displacement at point C of the truss in figure below.



$$\frac{5}{3}$$

$$\frac{4}{3}$$

$$\frac{8}{3}$$

$$4 \left( \frac{3}{8} \right) = 1.5$$



$\Delta_{cv} = 16.67/AE \text{ kNm}$

1:

$\Delta_{cv} = 13.33/AE \text{ kNm}$

2:

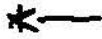
$\Delta_{cv} = 10.67/AE \text{ kNm}$

3:

$\Delta_{cv} = 8.25/AE \text{ kNm}$

4:

คำตอบที่ถูกต้อง : 3

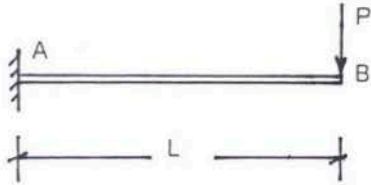


$\therefore 1 \cdot \Delta_{cv} = \sum \frac{Q_u L}{AE}$

$\Delta_{cv} = \frac{1}{AE} \left[ 2\left(\frac{2}{3}\right)(8) + 2.5\left(-\frac{5}{6}\right)(5) + (-2.5)\left(-\frac{5}{6}\right)(5) \right]$   
 $= \frac{32}{3AE} = \frac{10.67}{AE} \downarrow$

ข้อที่ 173:

คานยื่นรับน้ำหนัก ดังรูป จงหาค่ามุมลาดเอียงที่จุด B



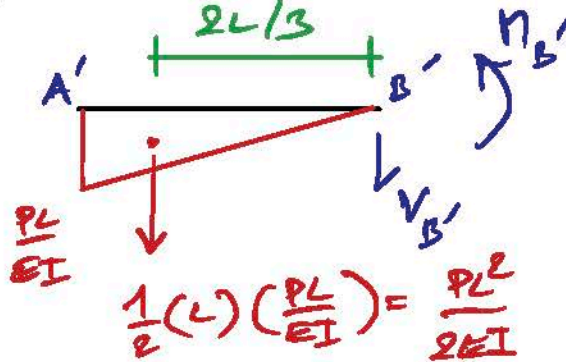
1:  $PE/4EI$

2:  $PE/3EI$

3:  $PE/2EI$  \*

4:  $PE/EI$

คำตอบที่ถูกต้อง : 3



ตามข้อ 173

$\therefore \theta_B = V_{B'} = -\frac{PL^2}{2EI} = \frac{PL^2}{2EI} \swarrow$

ข้อที่ 174:

คานยื่นรับน้ำหนัก ดังรูป จงหาค่าการโก่งตัวที่จุด B



1:  $PE/4EI$

2:  $PE/3EI$  \*

3:  $PE/2EI$

4:  $PE/EI$

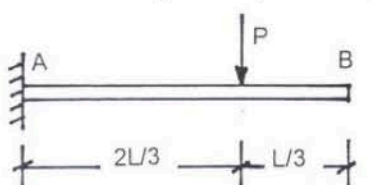
คำตอบที่ถูกต้อง : 2

$\Delta_B = M_{B'} = -\frac{PL^2}{2EI} \left(\frac{2L}{3}\right) = -\frac{PL^3}{3EI} = \frac{PL^3}{3EI} \downarrow$

$\frac{2}{3}\left(\frac{2L}{3}\right) + \frac{L}{3} = \frac{4L}{9} + \frac{L}{3} = \frac{7L}{9}$

ข้อที่ 175:

คานยื่นรับน้ำหนัก ดังรูป จงหาค่ามุมลาดเอียงที่จุด B



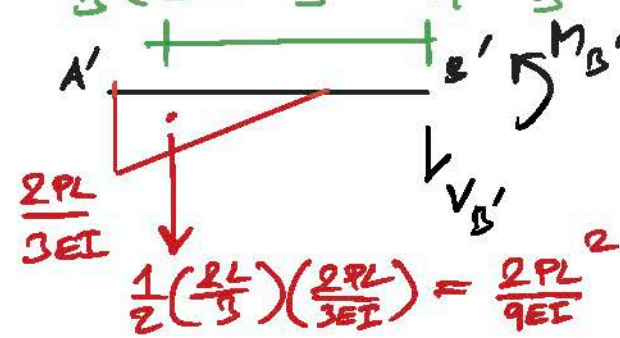
1:  $2PL^2/9EI$

2:  $5PL^2/16EI$

3:  $PL^2/2EI$

4:  $PL^2/EI$

คำตอบที่ถูกต้อง : 1

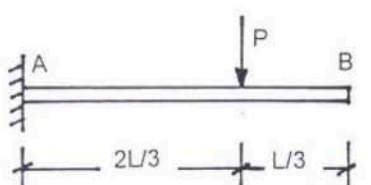


ตามข้อ 173

$\therefore \theta_B = V_{B'} = -\frac{2PL^2}{9EI} = \frac{2PL^2}{9EI} \swarrow$

ข้อที่ 176:

คานยื่นรับน้ำหนัก ดังรูป จงหาค่าการโก่งตัวที่จุด B



$\Delta_B = M_{B'} = -\frac{2PL^2}{9EI} \left(\frac{7L}{9}\right) = -\frac{14PL^3}{81EI} = \frac{14PL^3}{81EI} \downarrow$

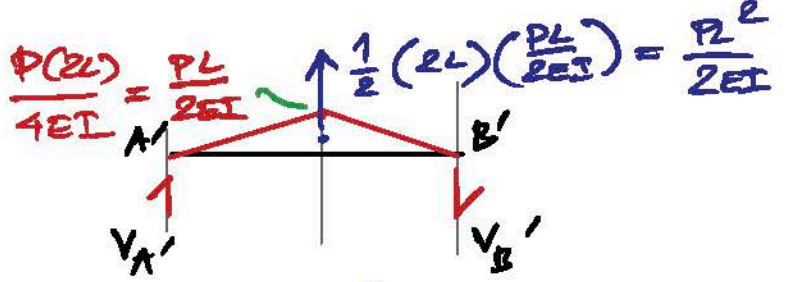
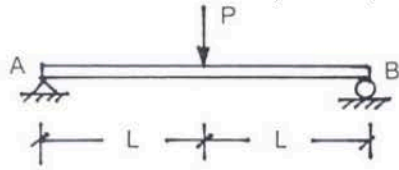
1:  $3PL^3/16EI$

- 2:  $14PL^3/81EI$  — \*
- 3:  $PL^3/3EI$
- 4:  $PL^3/6EI$
- คำตอบที่ถูกต้อง: 2

โย 177-178 วิศวกรสภาวิศวกร

ข้อที่ 177:

คานช่วงเดียวธรรมดารับน้ำหนัก ดังรูป จงหาค่ามุมลาดเอียงที่จุด B

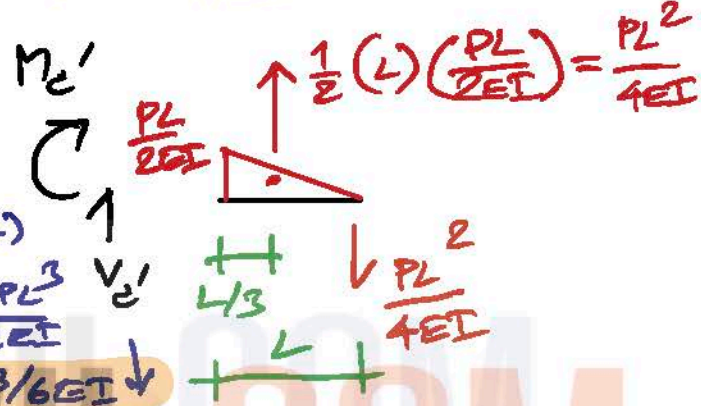
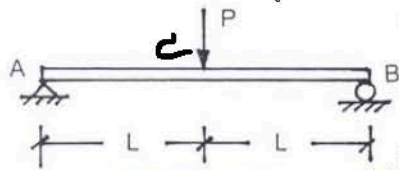


- \* 1:  $PL^2/4EI$
- 2:  $PL^2/3EI$
- 3:  $PL^2/2EI$
- 4:  $PL^2/EI$
- คำตอบที่ถูกต้อง: 1

$$\therefore \theta_B = V_{B'} = \frac{PL^2}{2EI} \left( \frac{1}{2} \right) = \frac{PL^2}{4EI}$$

ข้อที่ 178:

คานช่วงเดียวธรรมดารับน้ำหนัก ดังรูป จงหาค่าการโก่งตัวที่กึ่งกลางคาน

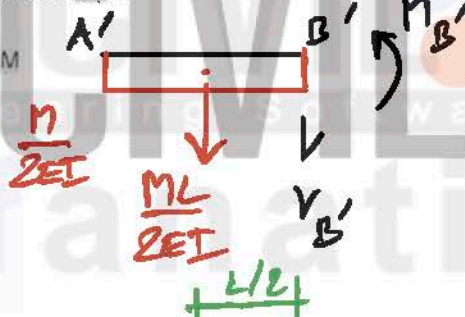
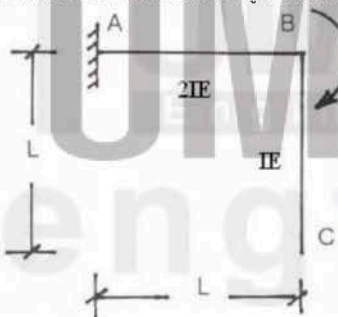


- \* 1:  $PL^3/3EI$
- 2:  $PL^3/3EI$
- 3:  $PL^3/4EI$
- 4:  $PL^3/6EI$
- คำตอบที่ถูกต้อง: 4

$$\begin{aligned} \therefore \Delta_c = \Delta_c' &= \frac{PL^2}{4EI} \left( \frac{L}{3} \right) - \frac{PL^2}{4EI} (L) \\ &= \frac{PL^3}{4EI} \left( \frac{1}{12} - \frac{1}{4} \right) = -\frac{2PL^3}{12EI} \\ &= \frac{PL^3}{6EI} \downarrow \end{aligned}$$

ข้อที่ 179:

โครงสร้างข้อแข็งรับน้ำหนัก ดังรูป จงหาค่ามุมลาดเอียงที่จุด B



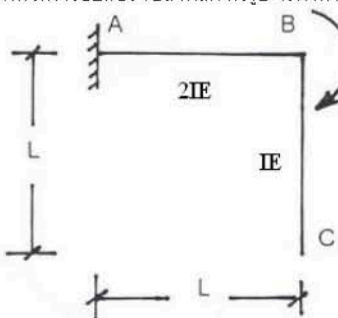
สภาวิศวกร

- \* 1:  $ML/EI$
- 2:  $ML/2EI$
- 3:  $2ML/EI$
- 4:  $ML/2EI$
- คำตอบที่ถูกต้อง: 2

$$\therefore \theta_B = V_{B'} = -\frac{ML}{2EI} = \frac{ML}{2EI}$$

ข้อที่ 180:

โครงสร้างข้อแข็งรับน้ำหนัก ดังรูป จงหาค่าการโก่งตัวในแนวตั้งที่จุด C

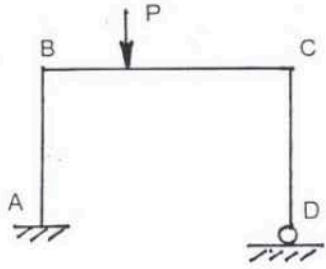


$$\begin{aligned} \Delta_c = \Delta_B &= \Delta_B' \\ &= -\frac{ML}{2EI} \left( \frac{L}{2} \right) = -\frac{ML^2}{4EI} \\ &= \frac{ML^2}{4EI} \downarrow \end{aligned}$$

- 1:  $ML^2/2EI$
- 2:  $ML^2/2EI$
- 3:  $ML^2/4EI$  — \*
- 4:  $3ML^2/4EI$
- คำตอบที่ถูกต้อง: 3

ข้อที่ 181:


โครงข้อแข็งรับน้ำหนัก ดังรูป ถ้าสมมติว่าชิ้นส่วนไม่ยืดหรือหดตัว (No axial deformation) ให้เลือกคำตอบที่ถูกต้องที่สุด



- 1: จุด B และจุด C มีระยะเคลื่อนที่ในแนวระดับเท่ากัน ✓
  - 2: จุด A และจุด D ไม่มีการทรุดตัวและไม่เคลื่อนที่ในแนวระดับ ✓
  - 3: จุด B มีการทรุดตัวเท่ากับจุด C ✗
  - 4: จุด B ไม่มีการเคลื่อนตัวในแนวระดับ ✗
- คำตอบที่ถูกต้อง : 1

ข้อที่ 182 :

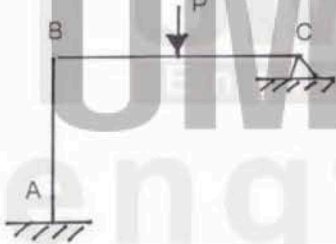
โครงข้อแข็งรับน้ำหนัก ดังรูป ถ้าสมมติว่าชิ้นส่วนไม่ยืดหรือหดตัว ให้เลือกคำตอบที่ถูกต้องที่สุด



- 1: จุด B และจุด C มีระยะเคลื่อนที่ในแนวระดับเท่ากัน ✓
  - 2: จุด A ไม่มีการหมุนและเคลื่อนตัวในแนวตั้ง ✗
  - 3: จุด A ไม่มีการทรุดตัวและไม่เคลื่อนที่ในแนวระดับ ส่วนจุด D ไม่มีการทรุดตัวแต่เคลื่อนที่ในแนวระดับได้ ✗
  - 4: จุด D ไม่มีการเคลื่อนตัวในแนวตั้งและไม่มีการหมุน ✗
- คำตอบที่ถูกต้อง : 1

ข้อที่ 183 :

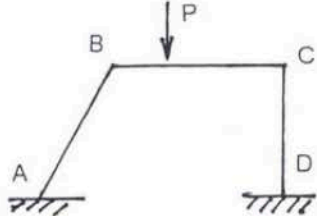
โครงข้อแข็งรับน้ำหนัก ดังรูป ถ้าสมมติว่าชิ้นส่วนไม่ยืดหรือหดตัว ให้เลือกคำตอบที่ถูกต้องที่สุด



- 1: จุด B และจุด C ไม่มีการเคลื่อนที่ในแนวระดับ ✓
  - 2: จุด A ไม่มีการทรุดตัวและไม่เคลื่อนที่ในแนวระดับแต่มีการหมุน ✗
  - 3: จุด C ไม่มีการหมุน ✗
  - 4: จุด B ไม่มีการหมุน ✗
- คำตอบที่ถูกต้อง : 1

ข้อที่ 184 :

โครงข้อแข็งรับน้ำหนัก ดังรูป ถ้าสมมติว่าชิ้นส่วนไม่ยืดหรือหดตัว ให้เลือกคำตอบที่ถูกต้องที่สุด

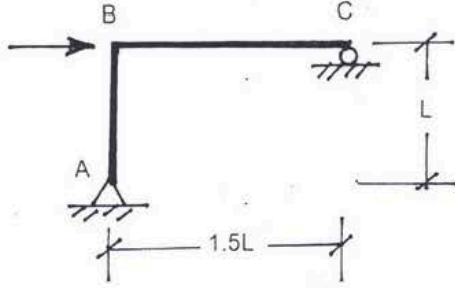


- 1: จุด B และจุด C มีระยะเคลื่อนที่ในแนวระดับเท่ากัน ✓
  - 2: จุด A และจุด D มีการทรุดตัวและไม่เคลื่อนที่ในแนวระดับ ✗
  - 3: จุด B มีเฉพาะการเคลื่อนตัวในแนวราบ ✗
  - 4: จุด B มีเฉพาะการเคลื่อนตัวในแนวตั้ง ✗
- คำตอบที่ถูกต้อง : 1

ข้อที่ 185 :



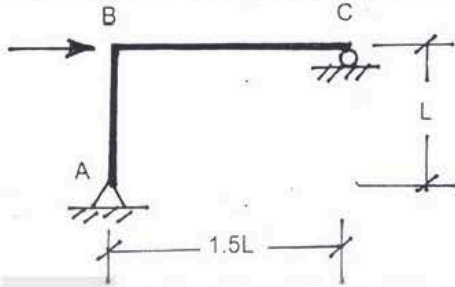
โครงสร้างรับน้ำหนัก ดังรูป ถ้าสมมติว่าชิ้นส่วนไม่ยืดหรือหดตัว ให้เลือกคำตอบที่ถูกต้องที่สุด



- 1: จุด B และจุด C มีการเคลื่อนที่ในแนวระดับเท่ากัน ✓
  - 2: จุด A ไม่มีการทรุดตัวและไม่เคลื่อนที่ในแนวระดับและไม่มีการหมุน ✗
  - 3: จุด B และ C มีการเคลื่อนที่ในแนวระดับไม่เท่ากัน ✗
  - 4: จุด B มีการทรุดตัวในแนวตั้ง ✗
- คำตอบที่ถูกต้อง : 1

ข้อที่ 186 :

โครงสร้างรับน้ำหนัก ดังรูป ถ้าสมมติว่าชิ้นส่วนไม่ยืดหรือหดตัว ให้เลือกคำตอบที่ถูกต้องที่สุด



- 1: จุด B และจุด C มีระยะเคลื่อนที่ในแนวระดับเท่ากัน โดยไม่คิดผลจากมุมหมุนของจุด A ✗
  - 2: จุด B และจุด C มีระยะเคลื่อนที่ในแนวระดับเท่ากัน โดยไม่คิดผลจากมุมหมุนของจุด A ✓
  - 3: จุด A ไม่มีการทรุดตัวและไม่เคลื่อนที่ในแนวระดับ ✓
  - 4: รวมคำตอบข้อ (ข) และ ข้อ (ค) โดยมีมุมหมุนที่จุด A B และ C ตามลำดับ ✓
  - 5: รวมคำตอบข้อ (ก) และ ข้อ (ค) โดยมีมุมหมุนที่จุด A B และ C ตามลำดับ ✗
- คำตอบที่ถูกต้อง : 4

ข้อที่ 187 :

การวิเคราะห์การโก่งตัวของโครงสร้างโดยวิธี moment-area หรือวิธี conjugate-beam ที่พิจารณาจากผลของ

- 1: แรงตามแนวแกนอย่างเดียว
  - 2: แรงเฉือนอย่างเดียว
  - 3: โมเมนต์ดัดอย่างเดียว
  - 4: โมเมนต์ดัดและแรงเฉือน
- คำตอบที่ถูกต้อง : 3

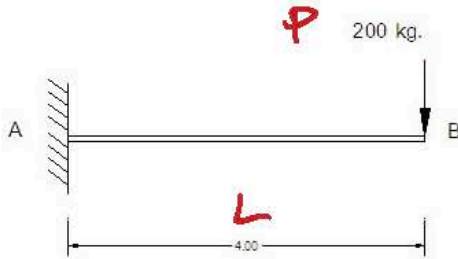
ข้อที่ 188 :

การวิเคราะห์การโก่งตัวของโครงสร้างโดยวิธี Energy เช่นวิธี virtual work สามารถพิจารณาได้จากผลของ

- 1: แรงตามแนวแกนอย่างเดียว
  - 2: แรงเฉือนอย่างเดียว
  - 3: โมเมนต์ดัดอย่างเดียว
  - 4: แรงตามแนวแกน, แรงเฉือน, และโมเมนต์ดัด
- คำตอบที่ถูกต้อง : 4

ข้อที่ 189 :

จงหาระยะการแอ่นตัวที่เกิดขึ้นสูงสุด ณ จุด B (EI = constance)



Handwritten calculations for the deflection at B:

$$\Delta_B = M_{B'} = -\frac{PL^2}{2EI} \left(\frac{2L}{3}\right) = -\frac{PL^3}{3EI}$$

$$= -\frac{(200)(4)^3}{3EI} = -\frac{4266.67}{EI} \downarrow$$

Additional handwritten notes:  $\frac{1}{2}(L)(\frac{PL}{EI}) = \frac{PL^2}{2EI}$

- \* 1: มีค่า 2466/EI หน่วย
  - 2: มีค่า 4266/EI หน่วย
  - 3: มีค่า 6246/EI หน่วย
  - 4: มีค่า 6624/EI หน่วย
- คำตอบที่ถูกต้อง : 2

ข้อที่ 190 :

จงหาค่า Slope ณ จุด B ในโครงสร้าง เมื่อ EI = ค่าคงที่



- 1: มีค่า 1006/EI เรเดียน
  - 2: มีค่า 1060/EI เรเดียน
  - 3: มีค่า 1600/EI เรเดียน
  - 4: มีค่า 6100/EI เรเดียน
- คำตอบที่ถูกต้อง : 3

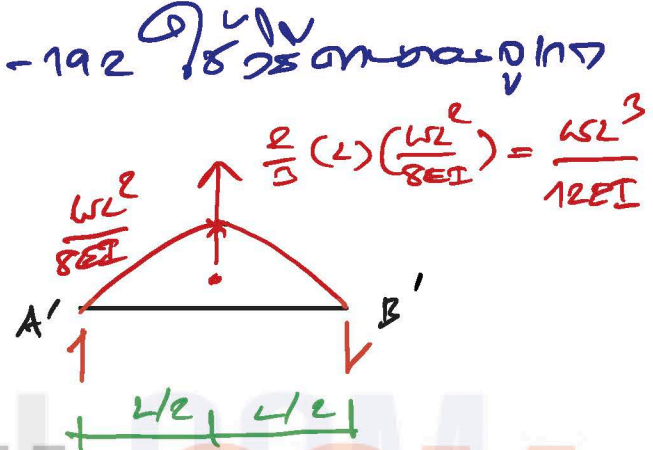
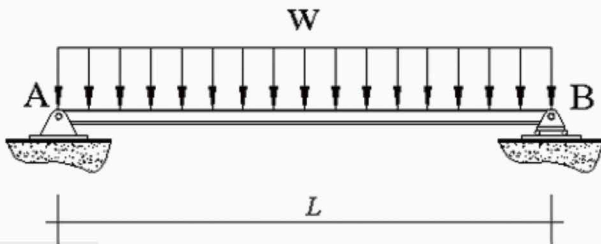
(จากตารางค่า EI = 189)

$$\theta_B = \theta_B' = -\frac{PL^2}{2EI}$$

$$= -\frac{(200)(4)^2}{2EI}$$

$$= 1600/EI \quad \swarrow$$

ข้อที่ 191: โครงสร้างดังรูป มีค่าความชัน (slope) ที่จุด A เท่ากับเท่าใด?

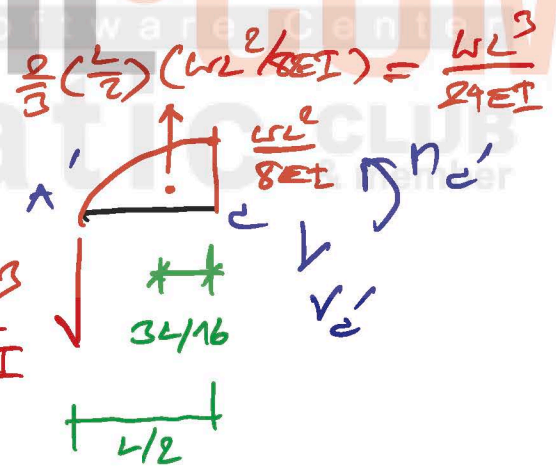
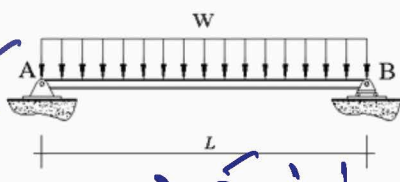


$$\theta_A = -\frac{WL^3}{12EI} \cdot \frac{1}{2} = -\frac{WL^3}{24EI}$$

$$= WL^3/24EI \quad \swarrow$$

- 1: 0
  - 2:  $\frac{WL^3}{24EI}$
  - 3:  $\frac{WL^3}{48EI}$
  - 4:  $\frac{5WL^3}{384EI}$
- คำตอบที่ถูกต้อง : 2

ข้อที่ 192: โครงสร้างดังรูป มีค่าการโก่งตัวสูงสุด (Maximum Deflection) เท่ากับเท่าใด?



$$\Delta_c = \theta_c' = -\frac{WL^3}{24EI} \left(\frac{L}{2}\right) + \frac{WL^3}{24EI} \left(\frac{3L}{16}\right)$$

$$= -\frac{WL^4}{EI} \left[ \frac{1}{48} - \frac{1}{128} \right] = -\frac{WL^4}{EI} \left[ \frac{8-3}{384} \right]$$

- 1: 0
  - 2:  $\frac{WL^2}{24EI}$
  - 3:  $\frac{WL^3}{48EI}$
  - 4:  $\frac{5WL^4}{384EI}$
- คำตอบที่ถูกต้อง : 4

ข้อที่ 193: จงหาค่าการโก่งตัวมากที่สุดของคาน AB ซึ่งมีหน้าตัดไม่คงที่ รับน้ำหนักแบบจุด P ดังรูป กำหนดให้ ระยะ  $L_1 = L$ ,  $L_2 = 2L$  และค่า E คงที่

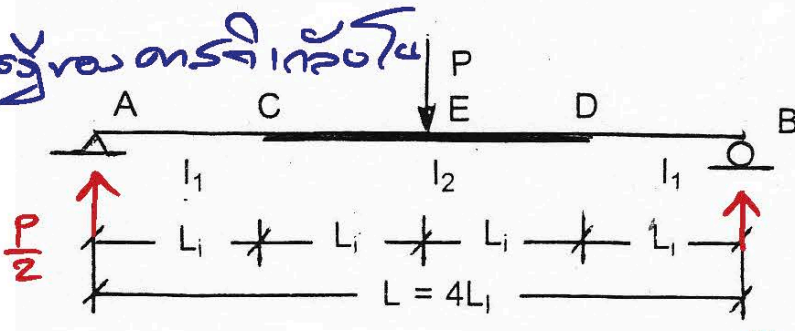
$$\Delta_{max} = \frac{5WL^4}{384EI} \quad \downarrow$$

สูตรนี้ใช้ของตัวจริง



$M_{max} = \Delta_E$

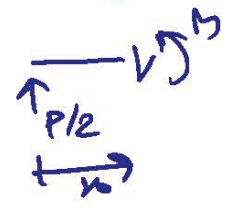
ใช้ทฤษฎีของคานากล่อง



$L_i = L, I_1 = I, I_2 = 2I$

จาก A ถึง E:

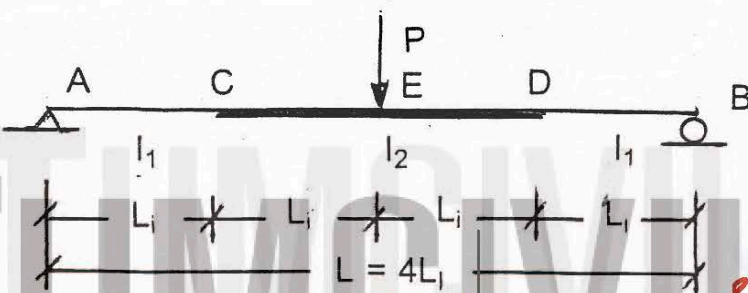
$M = \frac{P}{2}x$   
 $\frac{\partial M}{\partial P} = \frac{x}{2}$   
 $M(\frac{\partial M}{\partial P}) = \frac{Px^2}{4}$



- 1:  $4PL^3/3EI$
  - 2:  $3PL^3/4EI$
  - 3:  $9PL^3/5EI$
  - 4:  $5PL^3/9EI$
- คำตอบที่ถูกต้อง: 2

$\therefore EI\Delta_E = 2 \left[ \int_0^L \frac{Px^2}{4} dx + \int_L^{2L} \frac{Px^2}{4(2)} dx \right]$   
 $\Delta_E = \frac{2P}{EI} \left[ \frac{x^3}{12} \Big|_0^L + \frac{x^3}{24} \Big|_L^{2L} \right] = \frac{2P}{EI} \left[ \frac{L^3}{12} + \frac{7L^3}{24} \right] = \frac{3PL^3}{4EI}$

ข้อที่ 194: จงหาค่าการโก่งตัวมากที่สุดของคานา AB ซึ่งมีหน้าตัดไม่คงที่ รับน้ำหนักแบบจุด P ดังรูป กำหนดให้ ระยะ  $L_1 = L, I_1 = I, I_2 = 3I$  และค่า E คงที่

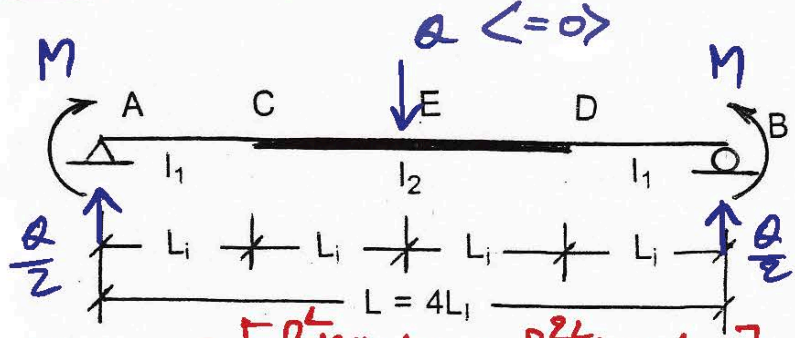


จากกรณีใช้ทฤษฎีของคานากล่อง 193  
 แล้วให้  $I_2$  เป็น  $3I$

- 1:  $5PL^3/9EI$
  - 2:  $4PL^3/3EI$
  - 3:  $3PL^3/4EI$
  - 4:  $9PL^3/5EI$
- คำตอบที่ถูกต้อง: 1

$\therefore EI\Delta_E = 2 \left[ \int_0^L \frac{Px^2}{4} dx + \int_L^{2L} \frac{Px^2}{4(3)} dx \right]$   
 $\Delta_E = \frac{2P}{EI} \left[ \frac{x^3}{12} \Big|_0^L + \frac{x^3}{36} \Big|_L^{2L} \right] = \frac{2P}{EI} \left[ \frac{L^3}{12} + \frac{7L^3}{36} \right] = \frac{5PL^3}{9EI}$

ข้อที่ 195: จงหาค่าการโก่งตัวมากที่สุดของคานา AB ซึ่งมีหน้าตัดไม่คงที่ รับโมเมนต์ค้ำ M ที่จุดรองรับทั้งสอง ดังรูป ซึ่งทำให้คานาโก่งทางเดียว กำหนดให้ ระยะ  $L_1 = L, I_1 = I, I_2 = 2I$  และค่า E คงที่



$\Delta_{max} = \Delta_E$

จาก A ถึง E

$M_0 = M + \frac{Qx}{2}$   
 $\frac{\partial M_0}{\partial Q} = \frac{x}{2}$

$M_0(\frac{\partial M_0}{\partial Q}) = \frac{Mx}{2} + \frac{Qx^2}{4}$

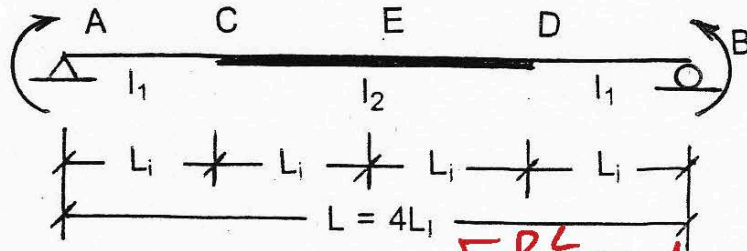
- 1:  $5ML^2/8EI$
  - 2:  $5ML^2/4EI$
  - 3:  $2ML^2/2EI$
  - 4:  $2ML^2/EI$
- คำตอบที่ถูกต้อง: 2

$\therefore EI\Delta_E = 2 \left[ \int_0^L \frac{Mx}{2} dx + \int_L^{2L} \frac{Mx}{2(2)} dx \right]$   
 $= 2 \left[ \frac{Mx^2}{4} \Big|_0^L + \frac{Mx^2}{8} \Big|_L^{2L} \right]$   
 $= 2ML^2 \left[ \frac{1}{4} + \frac{3}{8} \right] = 2ML^2 \left[ \frac{5}{8} \right]$   
 $\Delta_E = \frac{5ML^2}{4EI}$

ข้อที่ 196: จงหาค่าการโก่งตัวมากที่สุดของคานา AB ซึ่งมีหน้าตัดไม่คงที่ รับโมเมนต์ค้ำ M ที่จุดรองรับทั้งสอง ดังรูป ซึ่งทำให้คานาโก่งทางเดียว กำหนดให้ ระยะ  $L_1 = L, I_1 = I, I_2 = 3I$  และค่า E คงที่



สามารถรับน้ำหนักจากข้อ 195 ให้เปลี่ยน  $I_2$  เป็น  $3I$



$$\therefore EI \Delta_E = 2 \left[ \int_0^L \frac{q x}{2} dx + \int_L^{2L} \frac{q x}{2} dx \right]$$

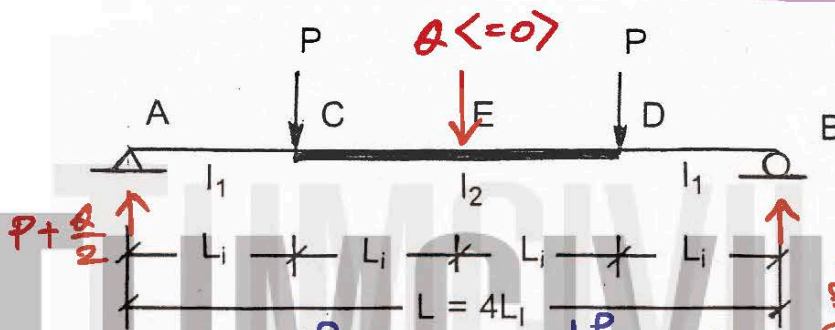
$$= 2q \left[ \frac{x^2}{4} \Big|_0^L + \frac{x^2}{4} \Big|_L^{2L} \right] = 2qL^2 \left[ \frac{1}{4} + \frac{3}{4} \right]$$

- 1:  $5ML^2/8EI$
  - 2:  $5ML^2/4EI$
  - 3:  $2ML^2/2EI$
  - 4:  $2ML^2/EI$
- คำตอบที่ถูกต้อง: 3

$\Delta_E = \frac{2qL^2}{EI} \left( \frac{1}{2} \right) = ML^2/EI \downarrow$

ข้อที่ 197:

จงหาค่าการโก่งตัวมากที่สุดของคาน AB ซึ่งมีหน้าตัดไม่คงที่ รับน้ำหนักแบบจุด P ดังรูป กำหนดให้ ระยะ  $L_1 = L$ ,  $L_2 = 2L$  และค่า E คงที่



$\Delta_{max} = \Delta_E$   
 จาก A ถึง E  
 $n = Pn + \frac{q n^2}{2}$   
 $\frac{dn}{dx} = \frac{q}{2}$

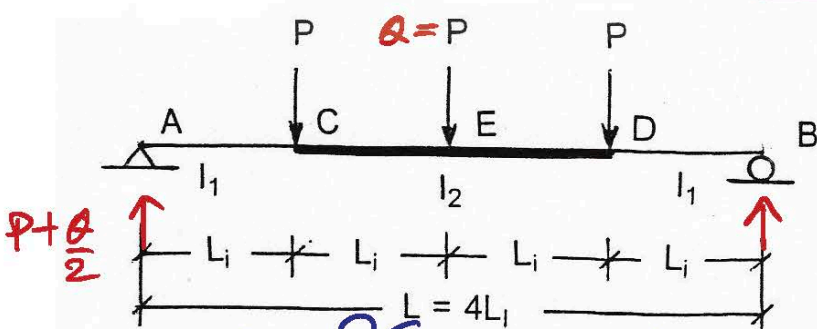
$n(x) = \frac{q x^2}{4} + P x$

- 1:  $5PL^3/6EI$
  - 2:  $11PL^3/6EI$
  - 3:  $13PL^3/12EI$
  - 4:  $19PL^3/12EI$
- คำตอบที่ถูกต้อง: 3

$n = Pn + \frac{q n^2}{2} - P(x-L) = Pn + \frac{q n^2}{2} - Pn + PL = PL + \frac{q n^2}{2}$   
 $\frac{dn}{dx} = \frac{q}{2}$ ,  $n(x) = \frac{q x^2}{4} + P x$

ข้อที่ 198:

จงหาค่าการโก่งตัวมากที่สุดของคาน AB ซึ่งมีหน้าตัดไม่คงที่ รับน้ำหนักแบบจุด P ดังรูป กำหนดให้ ระยะ  $L_1 = L$ ,  $L_2 = 2L$  และค่า E คงที่



$\therefore EI \Delta_E = 2 \left[ \int_0^L \frac{P x^2}{2} dx + \int_L^{2L} \frac{P x}{2} dx \right]$

$EI \Delta_E = 2P \left[ \frac{x^3}{6} \Big|_0^L + \frac{L x^2}{8} \Big|_L^{2L} \right]$   
 $= 2PL^3 \left[ \frac{1}{6} + \frac{3}{8} \right]$   
 $= 2PL^3 \left[ \frac{4+9}{24} \right]$

$\Delta_E = \frac{13PL^3}{12EI} \downarrow$  < ข้อ 197

- 1:  $5PL^3/6EI$
  - 2:  $11PL^3/6EI$
  - 3:  $13PL^3/12EI$
  - 4:  $19PL^3/12EI$
- คำตอบที่ถูกต้อง: 2

สามารถรับน้ำหนักจากข้อ 197

ให้  $q = P$

จาก A ถึง E  
 $n(x) = \frac{P x^2}{2} + P x = \frac{3P x^2}{4}$

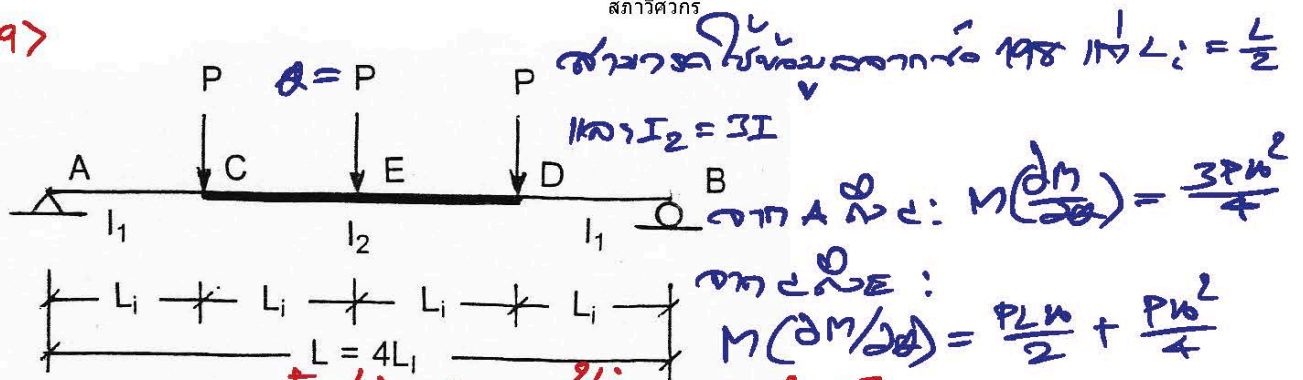
ข้อที่ 199:

จงหาค่าการโก่งตัวมากที่สุดของคาน AB ซึ่งมีหน้าตัดไม่คงที่ รับน้ำหนักแบบจุด P ดังรูป กำหนดให้ ระยะ  $L_1 = L/2$ ,  $L_2 = 3L$  และค่า E คงที่

$\therefore \Delta_E = \frac{2}{EI} \left[ \int_0^L \frac{3P x^2}{4} dx + \int_L^{2L} \left( \frac{P x}{2} + \frac{P x^2}{4} \right) dx \right]$   
 $= \frac{2P}{EI} \left[ \frac{3x^3}{12} \Big|_0^L + \frac{L x^2}{8} \Big|_L^{2L} + \frac{x^3}{24} \Big|_L^{2L} \right]$   
 $= \frac{2PL^3}{EI} \left[ \frac{1}{4} + \frac{3}{8} + \frac{7}{24} \right] = \frac{2PL^3}{EI} \left[ \frac{6+9+7}{24} \right] = \frac{2PL^3}{EI} \left[ \frac{22}{24} \right] = \frac{11PL^3}{6EI} \downarrow$



< 199 >



- 1:  $25PL^3/18EI$
  - 2:  $25PL^3/36EI$
  - 3:  $25PL^3/72EI$
  - 4:  $25PL^3/144EI$
- คำตอบที่ถูกต้อง : 4

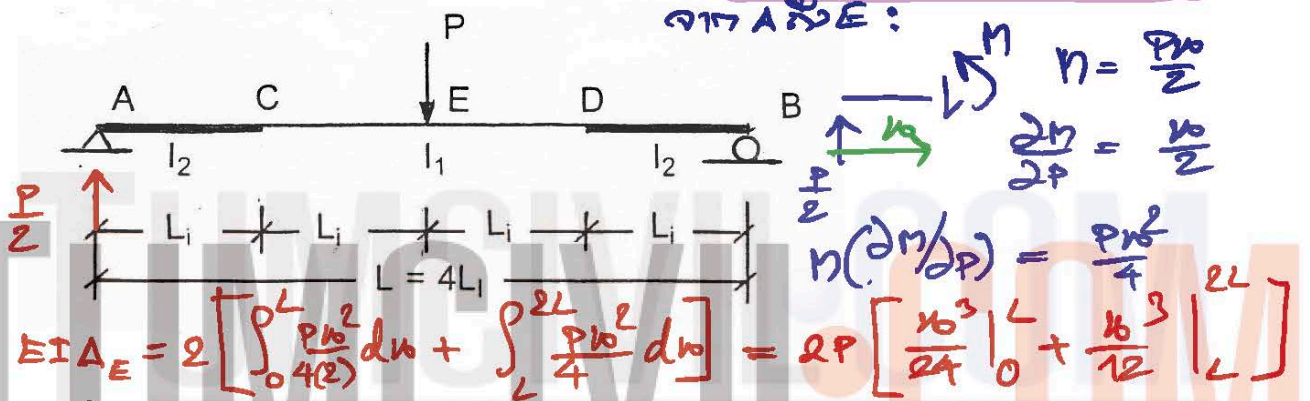
∴  $EIA_E = 2 \left[ \int_0^{Li} \frac{3PL^2}{4} dw + \int_{Li}^{2Li} \left( \frac{PLw}{2(3)} + \frac{PL^2}{4(3)} \right) dw \right]$

$\Delta_E = \frac{2P}{EI} \left[ \frac{w^3}{4} \Big|_0^{Li} + \frac{Lw^2}{12} \Big|_{Li}^{2Li} + \frac{w^3}{36} \Big|_{Li}^{2Li} \right] = \frac{2PLi^3}{EI} \left[ \frac{1}{4} + \frac{1}{4} + \frac{7}{36} \right]$

$= \frac{2P(25)}{EI(36)} \cdot \left(\frac{L}{2}\right)^3 = 25PL^3/144EI \downarrow$

ข้อที่ 200 :

จงหาค่าการโก่งตัวมากที่สุดของคาน AB ซึ่งมีหน้าตัดไม่คงที่ รับน้ำหนักแบบจุด P ดังรูป กำหนดให้ ระยะ  $l_1 = L$ ,  $l_2 = 2l_1$  และค่า E คงที่



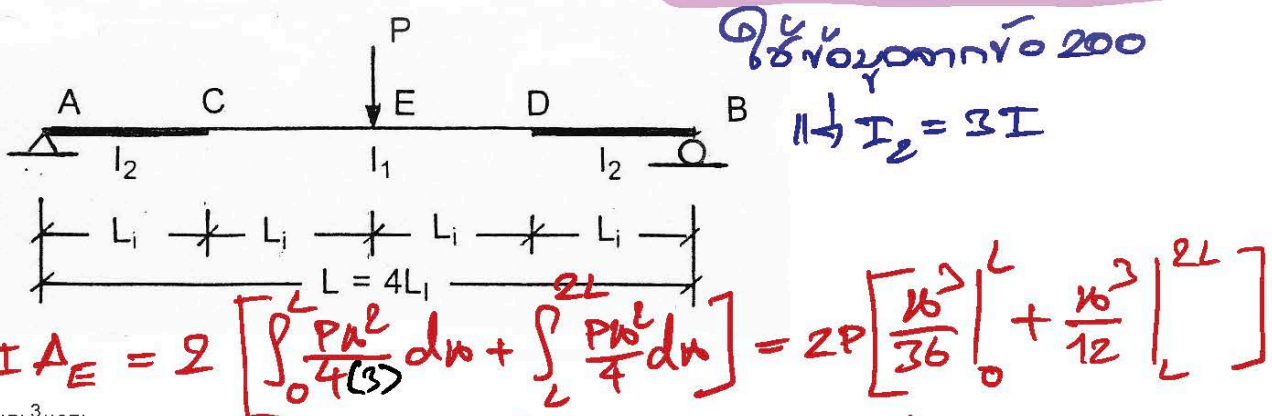
- 1:  $11PL^3/18EI$
  - 2:  $11PL^3/9EI$
  - 3:  $5PL^3/4EI$
  - 4:  $4PL^3/3EI$
- คำตอบที่ถูกต้อง : 3

$EIA_E = 2 \left[ \int_0^L \frac{Pw^2}{4(2)} dw + \int_L^{2L} \frac{Pw^2}{4} dw \right] = 2P \left[ \frac{w^3}{24} \Big|_0^L + \frac{w^3}{12} \Big|_L^{2L} \right]$

$\Delta_E = \frac{2PL^3}{EI} \left[ \frac{1}{24} + \frac{7}{12} \right] = 5PL^3/4EI \downarrow$

ข้อที่ 201 :

จงหาค่าการโก่งตัวมากที่สุดของคาน AB ซึ่งมีหน้าตัดไม่คงที่ รับน้ำหนักแบบจุด P ดังรูป กำหนดให้ ระยะ  $l_1 = L$ ,  $l_2 = 3l_1$  และค่า E คงที่



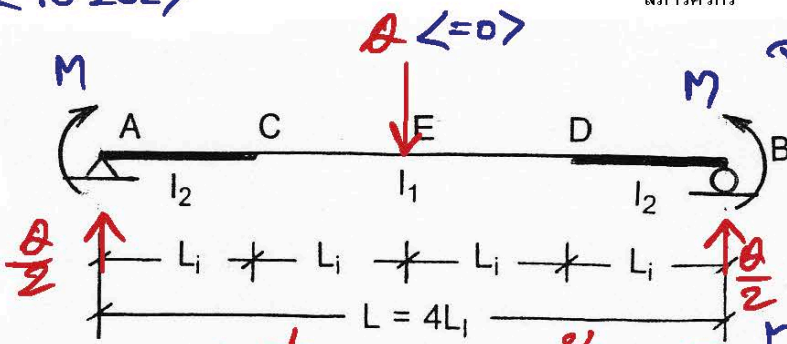
- 1:  $11PL^3/18EI$
  - 2:  $11PL^3/9EI$
  - 3:  $11PL^3/6EI$
  - 4:  $11PL^3/3EI$
- คำตอบที่ถูกต้อง : 2

$EIA_E = 2 \left[ \int_0^L \frac{Pw^2}{4(3)} dw + \int_L^{2L} \frac{Pw^2}{4} dw \right] = 2P \left[ \frac{w^3}{36} \Big|_0^L + \frac{w^3}{12} \Big|_L^{2L} \right]$

$\Delta_E = \frac{2PL^3}{EI} \left[ \frac{1}{36} + \frac{7}{12} \right] = 11PL^3/9EI \downarrow$

ข้อที่ 202 :

จงหาค่าการโก่งตัวมากที่สุดของคาน AB ซึ่งมีหน้าตัดไม่คงที่ รับโมเมนต์ตัด M ที่จุดรองรับทั้งสอง ดังรูป ซึ่งทำให้คานโก่งทางเดียว กำหนดให้ ระยะ  $l_1 = L$ ,  $l_2 = 2l_1$  และค่า E คงที่



จาก A ถึง E  $\int M dx$

$$M_0 = M + \frac{Q}{2}x, \quad \frac{dM_0}{dx} = \frac{Q}{2}$$

$$M_0 \left( \frac{dM_0}{dx} \right) = \frac{Mx}{2} + \frac{Qx^2}{4}$$

$$EI \Delta_E = 2 \left[ \int_0^{L/2} \frac{Mx}{2} dx + \int_{L/2}^L \frac{Mx}{2} dx \right] = 2M \left[ \frac{x^2}{4} \Big|_0^{L/2} + \frac{x^2}{4} \Big|_{L/2}^L \right]$$

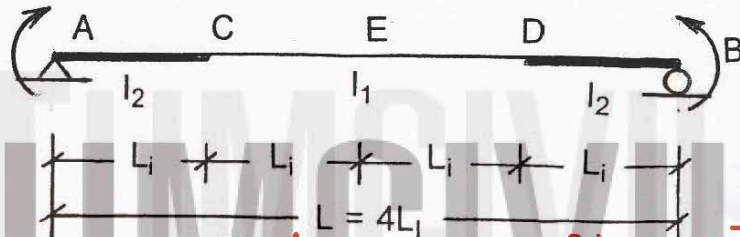
- 1:  $7ML^2/8EI$
  - 2:  $7ML^2/4EI$
  - 3:  $7ML^2/2EI$
  - 4:  $7ML^2/EI$
- คำตอบที่ถูกต้อง: 2

$$\Delta_E = \frac{2ML^2}{EI} \left[ \frac{1}{8} + \frac{3}{4} \right] = 7ML^2/4EI \downarrow$$

ข้อที่ 203 :

จงหาค่าการโก่งตัวมากที่สุดของคาน AB ซึ่งมีหน้าตัดไม่คงที่ รับโมเมนต์ดัด M ที่จุดรองรับทั้งสอง ดังรูป ซึ่งทำให้คานโก่งทางเดียว กำหนดให้ ระยะ  $L_1 = L$ ,  $L_2 = 3L$  และค่า E คงที่

จากข้อ 202 ให้  $I_2 = 3I$



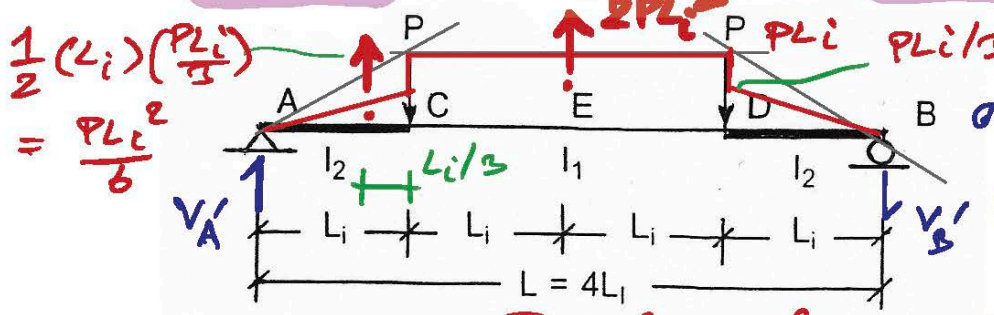
$$EI \Delta_E = 2 \left[ \int_0^{L/3} \frac{Mx}{2} dx + \int_{L/3}^{2L/3} \frac{Mx}{2} dx \right] = 2M \left[ \frac{x^2}{12} \Big|_0^{L/3} + \frac{x^2}{4} \Big|_{L/3}^{2L/3} \right]$$

- 1:  $5ML^2/8EI$
  - 2:  $5ML^2/4EI$
  - 3:  $5ML^2/3EI$
  - 4:  $5ML^2/EI$
- คำตอบที่ถูกต้อง: 3

$$\Delta_E = \frac{2ML^2}{EI} \left[ \frac{1}{12} + \frac{3}{4} \right] = 5ML^2/3EI \downarrow$$

ข้อที่ 204 :

จงหาค่ามุมลาดเอียงที่จุด A ของคาน AB ซึ่งมีหน้าตัดไม่คงที่ รับน้ำหนักแบบจุด P ดังรูป กำหนดให้ ระยะ  $L_1 = L/2$ ,  $L_2 = L$ ,  $L_3 = 3L$  และค่า E คงที่



ตามข้อก่อน รับแรง  $\frac{M}{EI}$  (โดยตั้งหัวรับ  $\frac{1}{EI}$  ออกมา)

$$\therefore \theta_A = V_A' = -\frac{1}{EI} \left[ \frac{2PL_1^2}{2} + \frac{PL_1^2}{6} \right] = -\frac{PL_1^2}{EI} \left[ 1 + \frac{1}{6} \right]$$

$$= -\frac{P}{EI} \left( \frac{L}{2} \right)^2 \left[ \frac{6+1}{6} \right] = -\frac{PL^2}{4EI} \cdot \left( \frac{7}{6} \right)$$

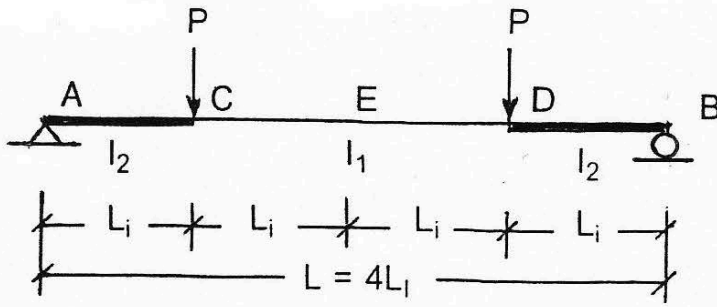
- 1:  $7PL^2/24EI$
  - 2:  $7PL^2/12EI$
  - 3:  $7PL^2/6EI$
  - 4:  $7PL^2/4EI$
- คำตอบที่ถูกต้อง: 1

$$\theta_A = 7PL^2/24EI \downarrow$$

ข้อที่ 205 :

จงหาค่าการโก่งตัวมากที่สุดของคาน AB ซึ่งมีหน้าตัดไม่คงที่ รับน้ำหนักแบบจุด P ดังรูป กำหนดให้ ระยะ  $L_1 = L$ ,  $L_2 = L$ ,  $L_3 = 2L$  และค่า E คงที่

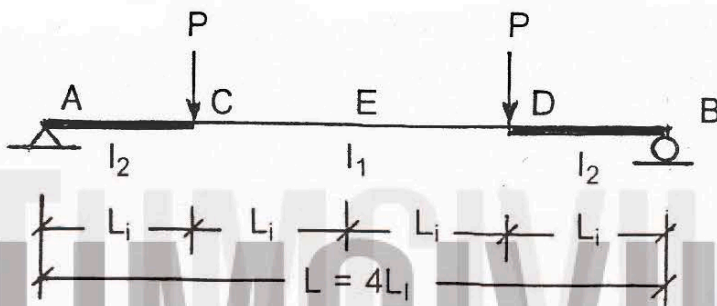




- 1:  $11PL^3/6EI$
  - 2:  $11PL^3/9EI$
  - 3:  $11PL^3/10EI$
  - 4:  $11PL^3/12EI$
- คำตอบที่ถูกต้อง : 1

ข้อที่ 206 :

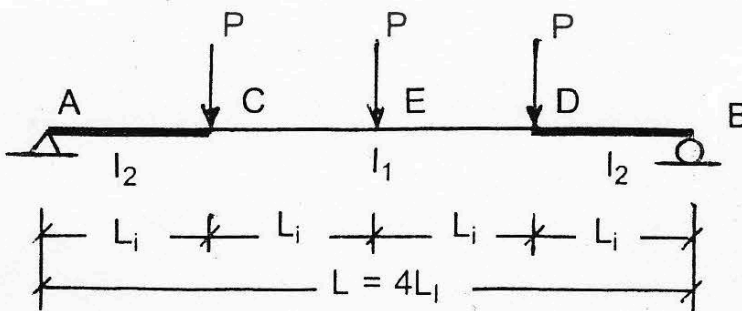
จงหาค่าการโก่งตัวมากที่สุดของคาน AB ซึ่งมีหน้าตัดไม่คงที่ รับน้ำหนักแบบจุด P ดังรูป กำหนดให้ ระยะ  $L_1 = L$ ,  $L_1 = l$ ,  $l_2 = 3l$  และค่า E คงที่



- 1:  $11PL^3/18EI$
  - 2:  $21PL^3/18EI$
  - 3:  $31PL^3/18EI$
  - 4:  $41PL^3/18EI$
- คำตอบที่ถูกต้อง : 3

ข้อที่ 207 :

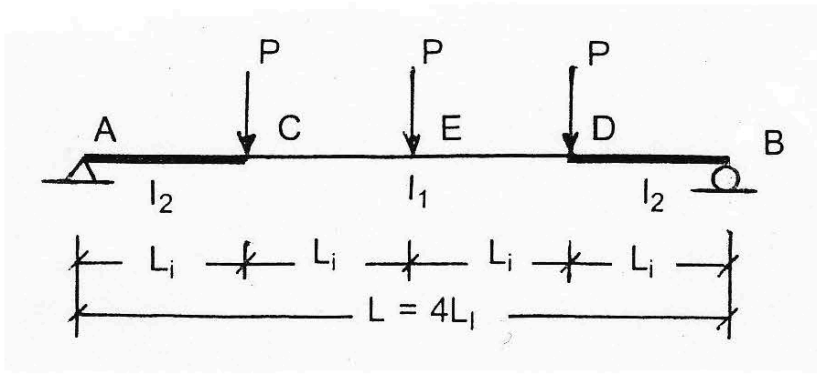
จงหาค่าการโก่งตัวมากที่สุดของคาน AB ซึ่งมีหน้าตัดไม่คงที่ รับน้ำหนักแบบจุด P ดังรูป กำหนดให้ ระยะ  $L_1 = L$ ,  $l_1 = l$ ,  $l_2 = 2l$  และค่า E คงที่



- 1:  $3PL^3/4EI$
  - 2:  $11PL^3/6EI$
  - 3:  $11PL^3/9EI$
  - 4:  $25PL^3/6EI$
- คำตอบที่ถูกต้อง : 4

ข้อที่ 208 :

จงประมาณค่าการโก่งตัวมากที่สุดของคาน AB ซึ่งมีหน้าตัดไม่คงที่ รับน้ำหนักแบบจุด P ดังรูป กำหนดให้ ระยะ  $L_1 = L$ ,  $l_1 = l$ ,  $l_2 = 3l$  และค่า E คงที่

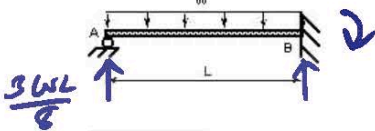


- 1:  $2PL^3/EI$
  - 2:  $3PL^3/EI$
  - 3:  $4PL^3/EI$
  - 4:  $5PL^3/EI$
- คำตอบที่ถูกต้อง : 3

เนื้อหาวิชา : 533 : Analysis of statically indeterminate structures by method of consistent deformation

ข้อที่ 209 :

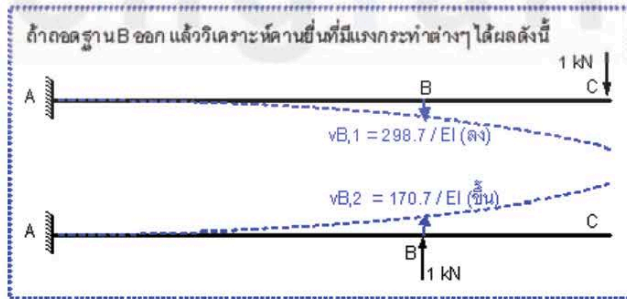

จงคำนวณหาแรงปฏิกิริยาในแนวตั้งที่ปลาย A ของคานดังแสดงในรูป



- 1:  $(1/4)wL$
  - 2:  $(3/4)wL$
  - 3:  $(3/8)wL$
  - 4:  $(5/8)wL$
- คำตอบที่ถูกต้อง : 3

ข้อที่ 210 :

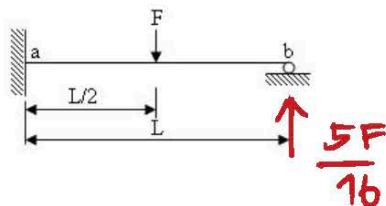
จงหาค่าแรงในแนวตั้งที่ฐาน B ( $R_b$ ) ของโครงสร้างดังในรูป  
- คาน ABC มีค่า Modulus of Elasticity = E และ Moment of Inertia = I



- 1: 28.5 kN
  - 2: -28.5 kN
  - 3: 87.5 kN
  - 4: -87.5 kN
- คำตอบที่ถูกต้อง : 3

ข้อที่ 211 :

จงคำนวณหาแรงปฏิกิริยาของฐานรองรับที่จุด b ของคานที่กำหนด



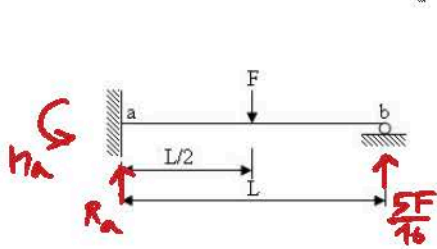
รูปนี้ตัดจิกสูตร  $\frac{3wL}{8}$   
 ใช้ลงข้อ 209 แล้วจะรู้ค่า  
 คำนวณแล้วเอาค่าที่ได้  
 ไปรวมสมการ

$$\begin{aligned} \therefore 50 \delta_{B1} - R_b \delta_{B2} &= 0 \\ \therefore R_b &= \frac{50 \delta_{B1}}{\delta_{B2}} \\ &= 50 \left[ \frac{298.7}{EI} \right] \cdot \frac{EI}{170.7} \\ &= 87.5 \text{ kN} \uparrow \end{aligned}$$

ใช้แก้ข้อ 209  
 รูปนี้ตัดจิกสูตร  $\frac{5F}{16}$

- 1:  $R_b = 5F/16$  \*
- 2:  $R_b = 11F/16$
- 3:  $R_b = 7F/16$
- 4:  $R_b = F/4$
- คำตอบที่ถูกต้อง: 1

ข้อที่ 212: จงคำนวณหา Reaction และ Fixed-end moment ที่ฐานรองรับ a ของคานที่กำหนด



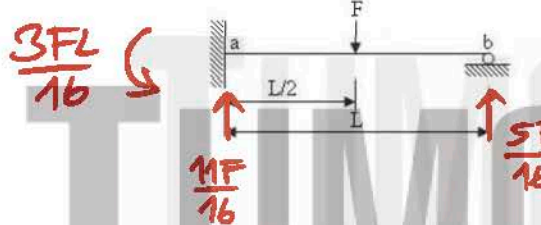
เขียนสูตร  $R_b = \frac{5F}{16}$   
 $R_a$  หรือ  $M_a$  ขวามุม 76  
 โมเมนต์ที่จุด a

$\therefore R_a = F - \frac{5F}{16} = \frac{11F}{16} \uparrow$

$M_a = F\left(\frac{L}{2}\right) - \frac{5F}{16}(L)$   
 $= FL \left[ \frac{1}{2} - \frac{5}{16} \right] = \frac{3FL}{16} \curvearrowright$

- 1:  $R_a = 11F/16, M_a = 3FL/16$  clockwise
- 2:  $R_a = 5F/16, M_a = 3FL/16$  clockwise
- 3:  $R_a = 11F/16, M_a = 3FL/16$  counterclockwise
- 4:  $R_a = 5F/16, M_a = 3FL/16$  counterclockwise
- คำตอบที่ถูกต้อง: 3

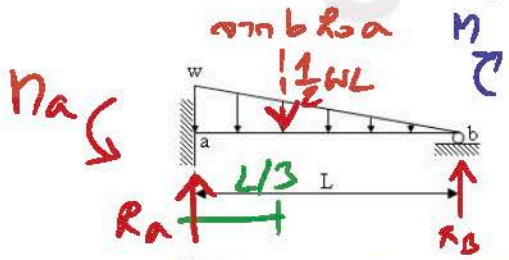
ข้อที่ 213: จงคำนวณแรงปฏิกิริยาที่ฐานรองรับทั้งหมดของคานที่กำหนด



- 1:  $R_a = 5F/16, R_b = 11F/16, M_a = 3FL/16$  clockwise
- 2:  $R_a = 11F/16, R_b = 5F/16, M_a = 3FL/16$  clockwise
- 3:  $R_a = 11F/16, R_b = 5F/16, M_a = 3FL/16$  counterclockwise
- 4:  $R_a = 5F/16, R_b = 11F/16, M_a = 3FL/16$  counterclockwise
- คำตอบที่ถูกต้อง: 3

10-6  
 80  
~~80~~ 2 1/15

ข้อที่ 214: จงคำนวณ Reaction และ Fixed-end moment ของฐานรองรับที่จุด a ของคานในรูป เมื่อกำหนดให้  $F = wL/2$

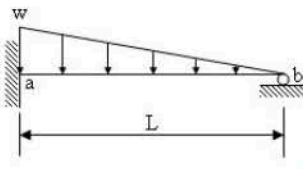


จาก b ไป a  $M = \frac{wx}{2} \cdot \frac{1}{2} \left(\frac{L-x}{2}\right) = \frac{wx^2}{2L}$   
 $M = R_b x - \frac{wx^2}{2L} \left(\frac{L+x}{2}\right)$   
 $= R_b x - \frac{wx^3}{6L}$   
 $\frac{\partial M}{\partial R_b} = x$

- 1:  $R_a = F/5, M_a = 2FL/15$  clockwise
- 2:  $R_a = 4F/5, M_a = FL/15$  counterclockwise
- 3:  $R_a = 4F/5, M_a = 2FL/15$  clockwise
- 4:  $R_a = 4F/5, M_a = 2FL/15$  counterclockwise
- คำตอบที่ถูกต้อง: 4

$\Delta_b = 0 = \int_0^L M \left(\frac{\partial M}{\partial R_b}\right) \frac{dx}{EI}$   
 $0 = \int_0^L \left(R_b x^2 - \frac{wx^3}{2L}\right) dx = \left[ R_b \frac{x^3}{3} - \frac{wx^5}{10L} \right]_0^L$

ข้อที่ 215: จงคำนวณหาแรงปฏิกิริยาของฐานรองรับที่จุด b ของคานในรูป กำหนดให้  $F = wL/2$



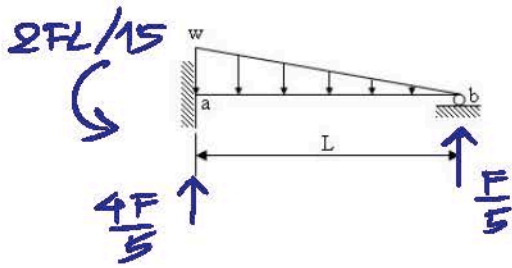
$= R_b \frac{L^3}{3} - \frac{wL^5}{10L}$   
 $R_b = \frac{wL^4}{30} \cdot \frac{3}{L^3} = \frac{wL}{10} = \frac{wL}{2(5)} = \frac{F}{5} \uparrow$   
 $R_a = \frac{wL}{2} - \frac{wL}{10} = \frac{4wL}{10} = \frac{4wL}{5(2)} = \frac{4F}{5} \uparrow$   
 $M_a = \frac{wL}{2} \left(\frac{L}{3}\right) - \frac{wL}{10}(L) = \frac{wL^2}{6} - \frac{wL^2}{10} = \frac{wL^2}{15} = \frac{wL}{2} \cdot \frac{2L}{15} = \frac{2FL}{15} \curvearrowright$



- 1 :  $R_b = 3F/5$
  - 2 :  $R_b = 4F/5$
  - 3 :  $R_b = F/5$
  - 4 :  $R_b = 2F/5$
- คำตอบที่ถูกต้อง : 3

ข้อที่ 216 :

จงคำนวณ Reaction และ Fixed-end moment ที่ฐานรองรับทั้งหมดของคานในรูป กำหนดให้  $F = wL/2$

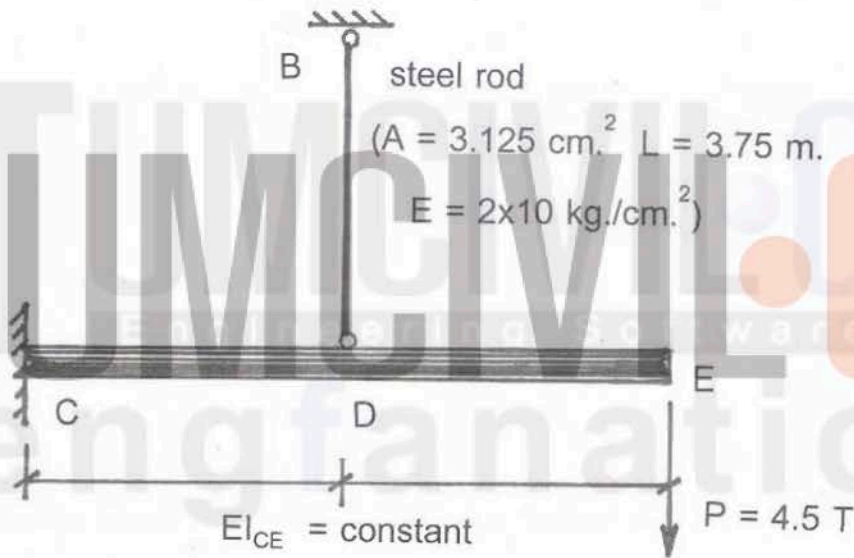


จากข้อ 214 1107 215

- 1 :  $R_a = F/5; R_b = 4F/5; M_a = 2FL/15$  clockwise
  - 2 :  $R_a = 4F/5; R_b = F/5; M_a = 2FL/15$  clockwise
  - 3 :  $R_a = 4F/5; R_b = F/5; M_a = 2FL/15$  counterclockwise
  - 4 :  $R_a = F/5; R_b = 4F/5; M_a = 2FL/15$  counterclockwise
- คำตอบที่ถูกต้อง : 3

ข้อที่ 217 :

จากโครงสร้างที่แสดง หากยังไม่มีท่อนเหล็ก BD ภายใต้อิทธิพลของแรง (โดยประมาณ) ที่จุด D เท่ากับ

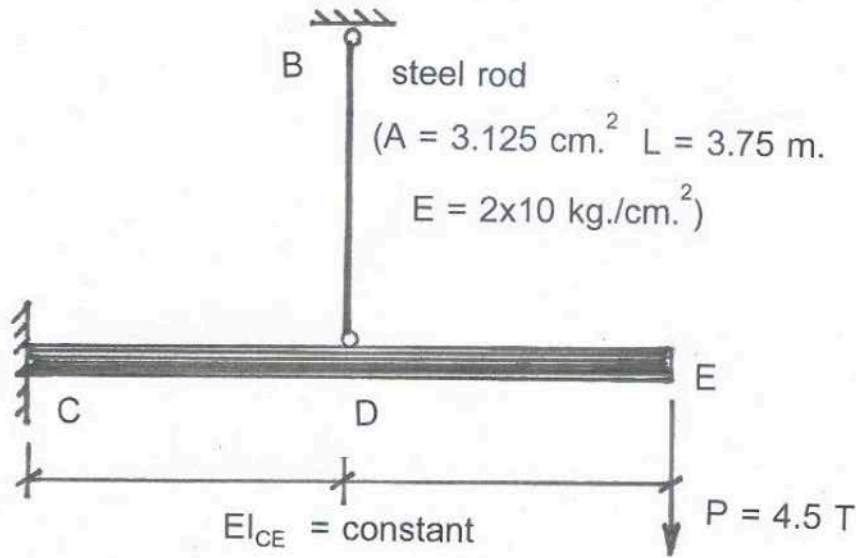


- 1 :  $10.5/EI$
  - 2 :  $12.5/EI$
  - 3 :  $14.5/EI$
  - 4 :  $15.5/EI$
- คำตอบที่ถูกต้อง : 2

ข้อที่ 218 :

จากโครงสร้างที่แสดง โดยมีท่อนเหล็ก BD ภายใต้อิทธิพลของแรง เพื่อให้ระยะโก่งตัวของคานที่จุด D เป็นศูนย์ ให้หาค่าแรงดึงโดยประมาณในท่อนเหล็ก BD (โดยคำนึงถึงการยึดตัวของท่อนเหล็กที่ช่วยยึด)

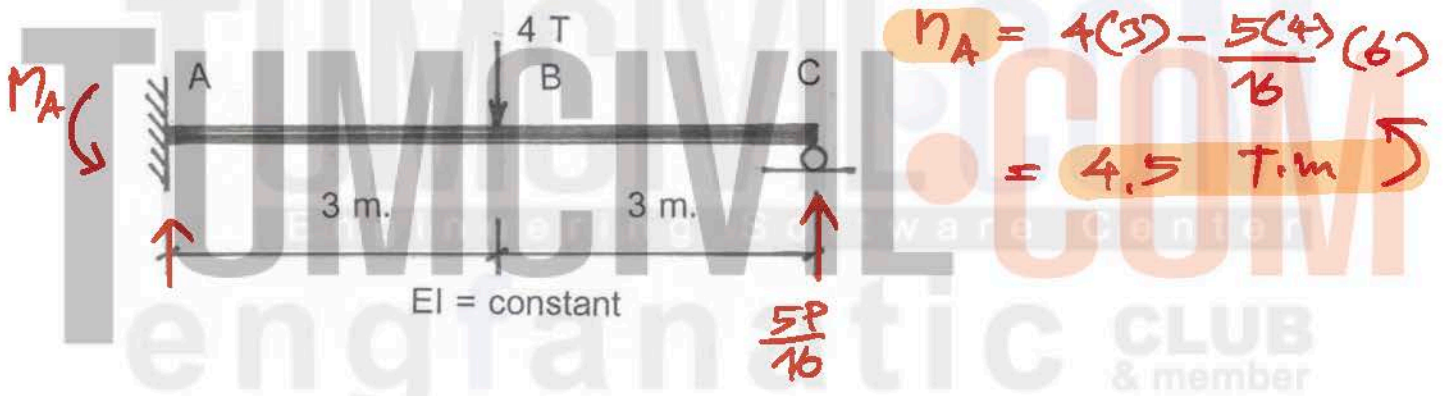




- 1: 3.0 ตัน
  - 2: 4.0 ตัน
  - 3: 5.0 ตัน
  - 4: 6.0 ตัน
- คำตอบที่ถูกต้อง : 3

ข้อที่ 219 :

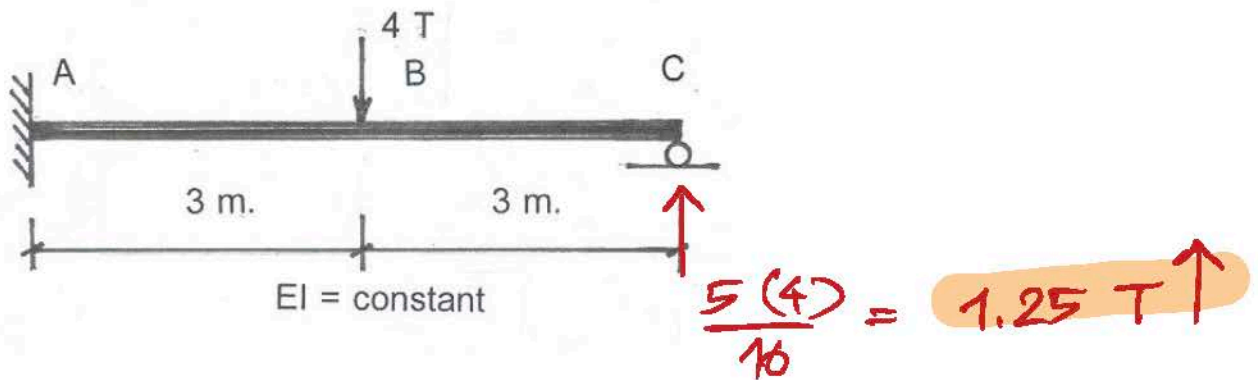
เมื่อกำหนดให้โมเมนต์ที่ปลายชิ้นส่วน (end moment) ที่หมุนตามเข็มนาฬิกาเป็นบวก จงคำนวณหาค่าโมเมนต์ดัดที่ปลาย A ของชิ้นส่วน AB:  $M_{AB}$  มีค่าเท่ากับ



- 1: 6 ตัน-ม. (หมุนตามเข็มนาฬิกา)
  - 2: 6 ตัน-ม. (หมุนทวนเข็มนาฬิกา)
  - 3: 4.5 ตัน-ม. (หมุนตามเข็มนาฬิกา)
  - 4: 4.5 ตัน-ม. (หมุนทวนเข็มนาฬิกา)
- คำตอบที่ถูกต้อง : 4

ข้อที่ 220 :

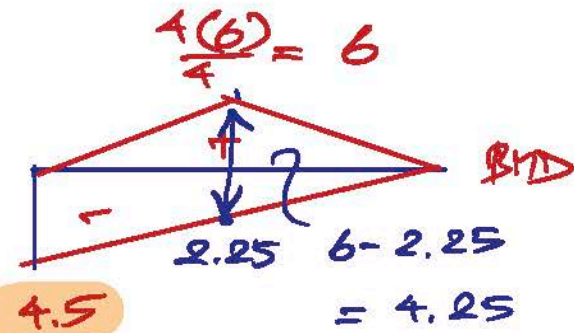
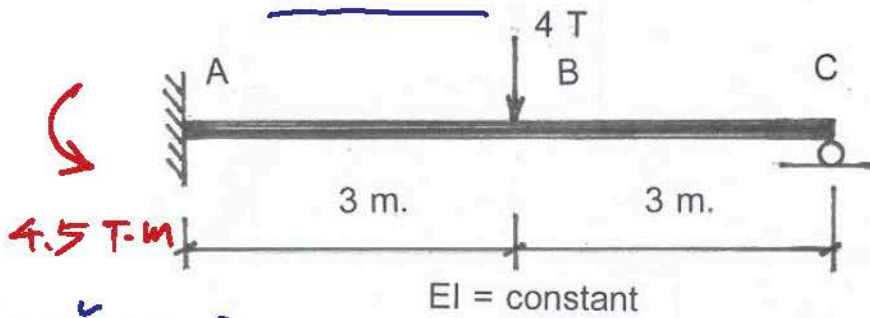
จากตาม ที่แสดง จงคำนวณหาค่าแรงปฏิกิริยาที่จุด C เท่ากับเท่าใด



- 1: 2 ตัน (ทิศขึ้น)
  - 2: 2 ตัน (ทิศลง)
  - 3: 1.25 ตัน (ทิศขึ้น)
  - 4: 2.75 ตัน (ทิศขึ้น)
- คำตอบที่ถูกต้อง : 3

ข้อที่ 221 :

จากคาน ที่แสดง โมเมนต์ดัดมากที่สุด ( $M_{max}$ ) บนคาน ACB จะอยู่ที่จุดไหน



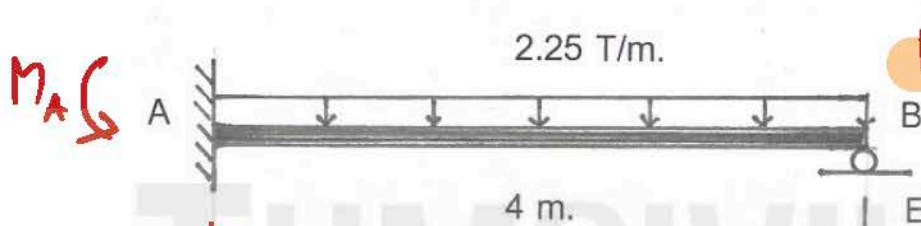
(จากข้อ 219)

- 1: อยู่ที่จุด A
  - 2: อยู่ที่จุด B
  - 3: อยู่ที่จุด C
  - 4: อยู่ระหว่างจุด A กับจุด C
- คำตอบที่ถูกต้อง : 1

$M_{max}$

ข้อที่ 222 :

เมื่อกำหนดให้โมเมนต์ที่ปลายชิ้นส่วน (end moment) ที่หมุนตามเข็มนาฬิกาเป็นบวก จงคำนวณหาค่าโมเมนต์ดัดที่ปลาย A ของชิ้นส่วน AB:  $M_{AB}$  มีค่าเท่ากับเท่าใด



$$M_A = 2.25(4) \left(\frac{4}{2}\right)$$

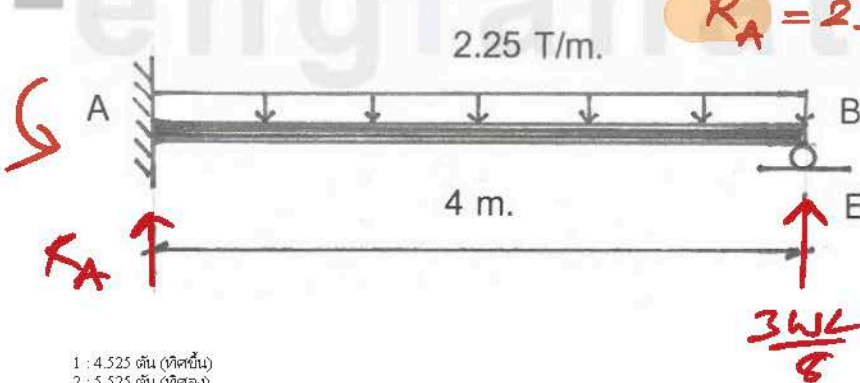
$$\frac{3(2.25)(4)(4)}{8}$$

$$= 4.5 \text{ T}\cdot\text{m}$$

- 1: 4.5 ตัน-ม. (หมุนตามเข็มนาฬิกา)
  - 2: 4.5 ตัน-ม. (หมุนทวนเข็มนาฬิกา)
  - 3: 6.75 ตัน-ม. (หมุนตามเข็มนาฬิกา)
  - 4: 6.75 ตัน-ม. (หมุนทวนเข็มนาฬิกา)
- คำตอบที่ถูกต้อง : 2

ข้อที่ 223 :

จากคาน ที่แสดง จงคำนวณหาค่าแรงปฏิกิริยาที่จุด A เท่ากับเท่าใด



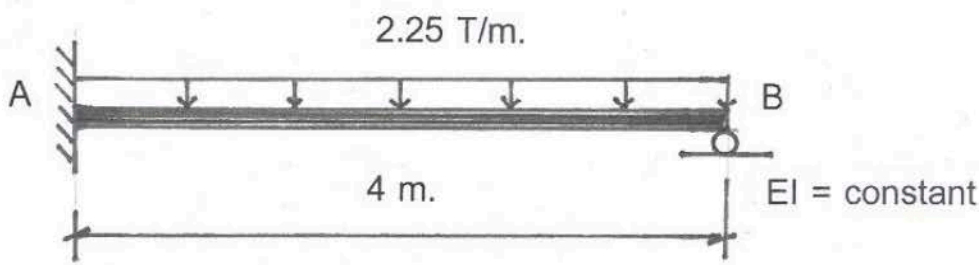
$$R_A = 2.25(4) - \frac{3(2.25)(4)}{8}$$

$$= 5.625 \text{ T}$$

- 1: 4.525 ตัน (ทิศขึ้น)
  - 2: 5.525 ตัน (ทิศลง)
  - 3: 6.625 ตัน (ทิศขึ้น)
  - 4: 5.625 ตัน (ทิศขึ้น)
- คำตอบที่ถูกต้อง : 4

ข้อที่ 224 :

จากคาน ที่แสดงดังรูป จงหาค่าโมเมนต์ดัดมากที่สุด ( $M_{max}$ ) บนคาน AB จะอยู่ที่จุดไหน

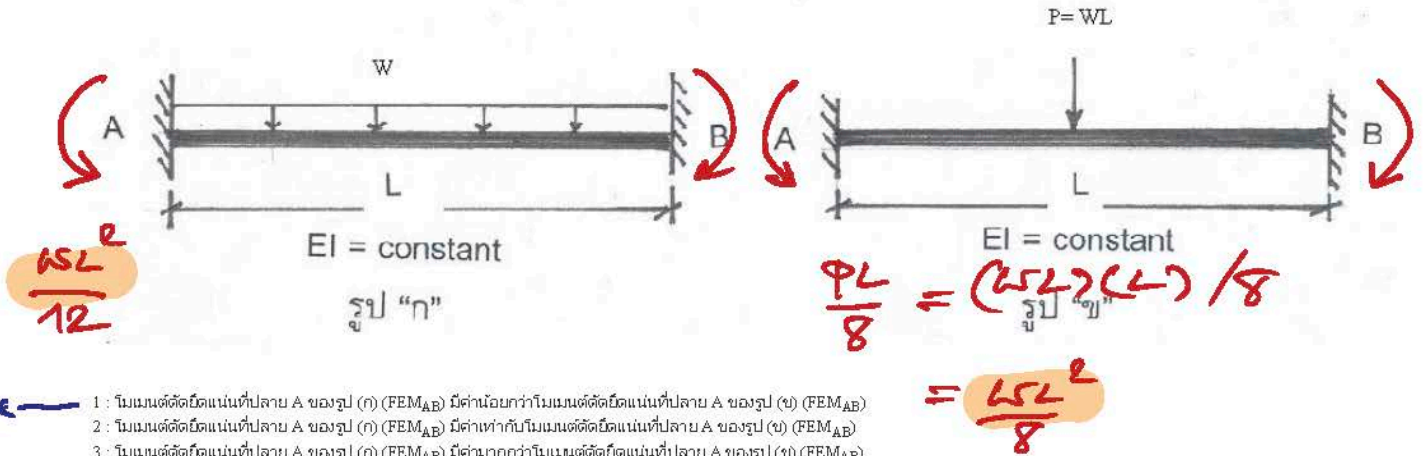


- 1: อยู่ที่จุด A

- 2: อยู่ที่กึ่งกลางคาน AB
- 3: อยู่ระหว่างจุด A กับจุด B โดยค่อนไปทางจุด B
- 4: อยู่ระหว่างจุด A กับจุด B โดยค่อนไปทางจุด A
- คำตอบที่ถูกคือ : 3

ข้อที่ 225:

คาน AB ที่แสดงในรูป ก และ ข มีความยาวและค่า IE เท่ากันและรับน้ำหนักบรรทุกที่มีขนาดสุทธิเท่ากัน จงกำหนดว่าข้อความใดถูกต้อง

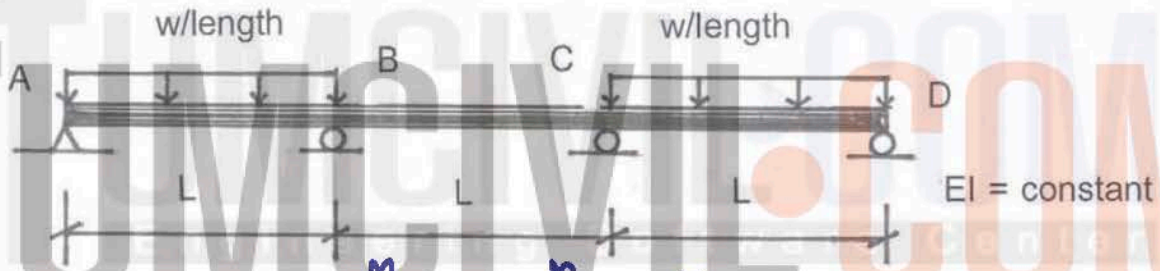


- \* 1: โมเมนต์ตัดยึดแน่นที่ปลาย A ของรูป (ก) (FEM<sub>AB</sub>) มีค่ามากกว่าโมเมนต์ตัดยึดแน่นที่ปลาย A ของรูป (ข) (FEM<sub>AB</sub>)
- 2: โมเมนต์ตัดยึดแน่นที่ปลาย A ของรูป (ก) (FEM<sub>AB</sub>) มีค่าเท่ากับโมเมนต์ตัดยึดแน่นที่ปลาย A ของรูป (ข) (FEM<sub>AB</sub>)
- 3: โมเมนต์ตัดยึดแน่นที่ปลาย A ของรูป (ก) (FEM<sub>AB</sub>) มีค่ามากกว่าโมเมนต์ตัดยึดแน่นที่ปลาย A ของรูป (ข) (FEM<sub>AB</sub>)
- 4: ไม่มีข้อใดถูกต้อง
- คำตอบที่ถูกคือ : 1

$\therefore FEM_{AB} : (ก) < (ข)$

ข้อที่ 226:

คานต่อเนื่อง ABCD รับน้ำหนักดังรูปที่แสดง จะเห็นว่า คานดังกล่าวมีความสมมาตรที่กึ่งกลางของคาน BC หากต้องการวิเคราะห์โครงสร้างให้รวดเร็วขึ้นโดยอาศัยความสมมาตรเข้าช่วย ดังนั้นต้องพิจารณาใช้ค่า stiffness factor สำหรับชิ้นส่วน AB (หรือ CD) และสำหรับชิ้นส่วน BC ดังนี้



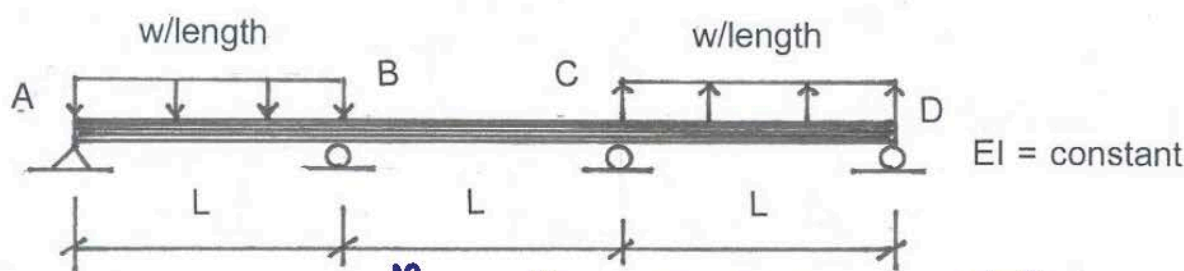
$$K_{AB}^M = K_{CD}^M = \frac{3}{4} \cdot \frac{4EI}{L} = \frac{3EI}{L}$$

$$K_{BC}^M = \frac{1}{2} \cdot \frac{4EI}{L} = \frac{2EI}{L}$$

- 1: K<sub>AB</sub> = 4EI/L และ K<sub>BC</sub> = 4EI/L
- 2: K<sub>AB</sub> = 3EI/L และ K<sub>BC</sub> = 4EI/L
- 3: K<sub>AB</sub> = 3EI/L และ K<sub>BC</sub> = 3EI/L
- 4: K<sub>AB</sub> = 3EI/L และ K<sub>BC</sub> = 2EI/L
- คำตอบที่ถูกคือ : 4

ข้อที่ 227:

คานต่อเนื่อง ABCD รับน้ำหนักดังรูปที่แสดง จะเห็นว่า คานรับน้ำหนักแบบปฏิสัมมาตรที่กึ่งกลางของคาน BC หากต้องการวิเคราะห์โครงสร้างให้รวดเร็วขึ้นโดยอาศัยความสมมาตรเข้าช่วย จะต้องพิจารณาใช้ค่า stiffness factor สำหรับชิ้นส่วน AB (หรือ CD) และสำหรับชิ้นส่วน BC ดังนี้



$$K_{AB}^M = K_{CD}^M = \frac{3}{4} \cdot \frac{4EI}{L} = \frac{3EI}{L}$$

$$K_{BC}^M = \frac{3}{2} \cdot \frac{4EI}{L} = \frac{6EI}{L}$$

- 1: K<sub>AB</sub> = 4EI/L และ K<sub>BC</sub> = 4EI/L
- 2: K<sub>AB</sub> = 3EI/L และ K<sub>BC</sub> = 4EI/L
- 3: K<sub>AB</sub> = 3EI/L และ K<sub>BC</sub> = 6EI/L
- 4: K<sub>AB</sub> = 4EI/L และ K<sub>BC</sub> = 6EI/L
- คำตอบที่ถูกคือ : 3

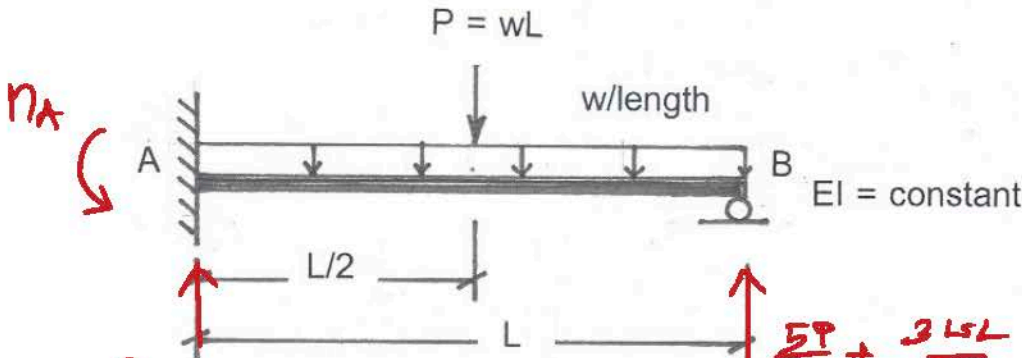
ข้อที่ 228:

\* ข้อ 226-227 คือเรื่อง Symmetric loading หรือ asymmetric loading ซึ่งสามารถหา K แยก (K<sub>M</sub>) ได้

(วิธีโดยนัยๆ ธรรมดา)



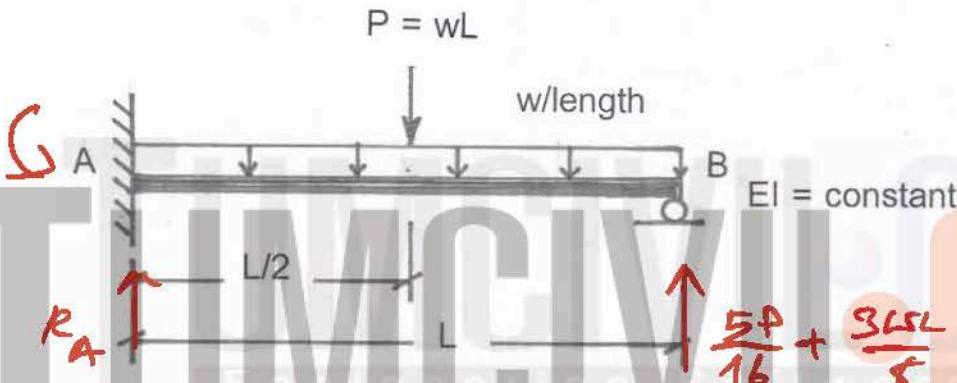
จงคำนวณโมเมนต์ตัดที่จุด A มีค่าเท่ากับเท่าใด



$n_A = \left[ \frac{PL}{2} - \frac{5PL}{16} \right] + \left[ \frac{wL^2}{2} - \frac{3wL^2}{8} \right]$   
 $\therefore P = wL$   
 $\therefore n_A = wL^2 \left[ \frac{1}{2} - \frac{5}{16} \right] + wL^2 \left[ \frac{1}{2} - \frac{3}{8} \right]$   
 $= wL^2 \left[ \frac{8-5}{16} + \frac{4-3}{8} \right] = \frac{5wL^2}{16}$

- 1:  $wL^2/8$
  - 2:  $3wL^2/16$
  - 3:  $5wL^2/16$
  - 4:  $wL^2/12$
- คำตอบที่ถูกต้อง : 3

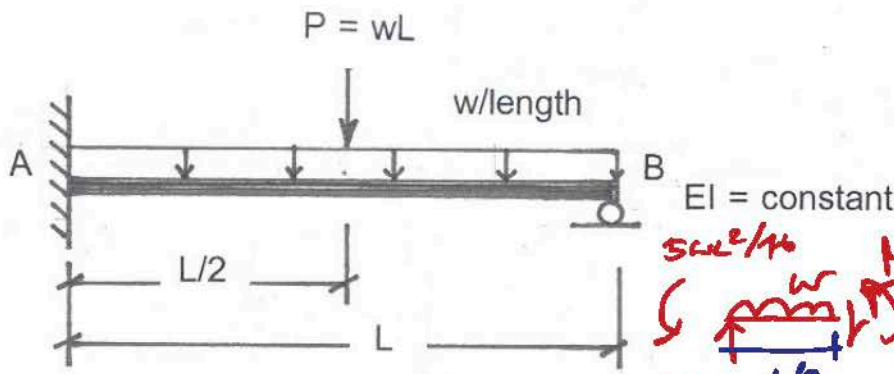
ข้อที่ 229 : จงคำนวณแรงปฏิกิริยาที่จุด A มีค่าเท่ากับเท่าใด



$\therefore R_A = \frac{11P}{16} + \frac{5wL}{8}$   
 $\therefore P = wL ; R_A = wL \left( \frac{11}{16} + \frac{5}{8} \right) = \frac{21wL}{16}$

- 1:  $5wL/8$
  - 2:  $11wL/16$
  - 3:  $wL$
  - 4:  $21wL/16$
- คำตอบที่ถูกต้อง : 4

ข้อที่ 230 : จงคำนวณค่าโมเมนต์ตัดที่กึ่งกลางตาม AB มีค่าเท่ากับเท่าใด



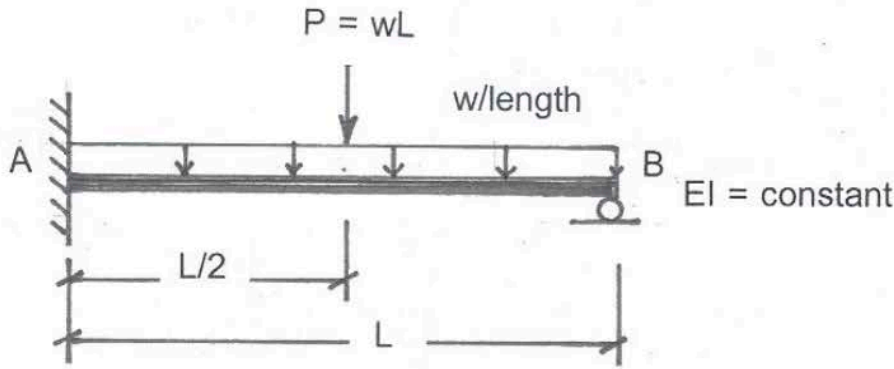
$M = \frac{21wL}{16} \left( \frac{L}{2} \right) - \frac{5wL^2}{16} - w \left( \frac{L}{2} \right) \left( \frac{L}{4} \right)$   
 $= wL^2 \left[ \frac{21}{32} - \frac{5}{16} - \frac{1}{8} \right] = \frac{7wL^2}{32}$

- 1:  $7wL^2/32$
  - 2:  $5wL^2/32$
  - 3:  $wL^2/16$
  - 4:  $3wL^2/8$
- คำตอบที่ถูกต้อง : 1

ข้อที่ 231 :



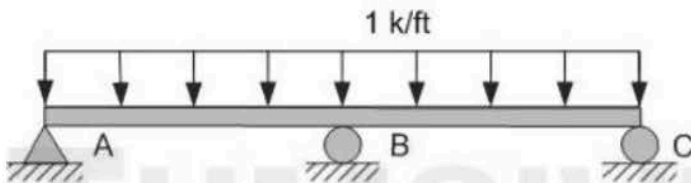
จงคำนวณหาค่าแรงเฉือนมากที่สุดตรงกลางช่วงคาน AB มีค่าเท่ากับเท่าใด



- 1:  $21wL/16$
  - 2:  $11wL/16$
  - 3:  $5wL/16$
  - 4:  $5wL/8$
- คำตอบที่ถูกต้อง : 2

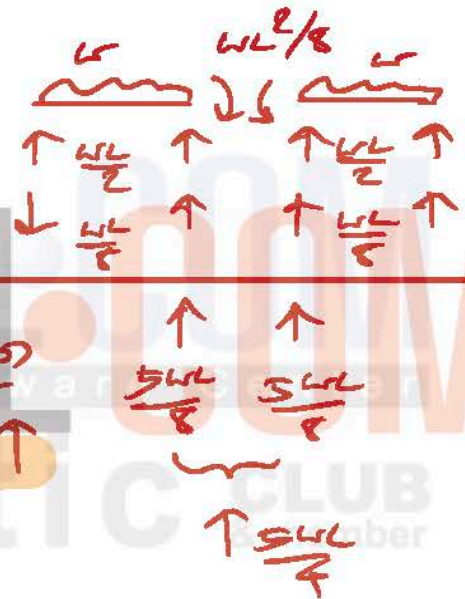
ข้อที่ 232:

Determine the reaction at B of a continuous beam loaded as shown in figure below. EI is constant.



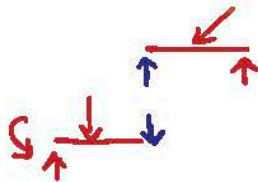
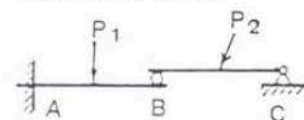
- 1: 12.5 k ↑
  - 2: 17.5 k ↑
  - 3: 25 k ↑
  - 4: 32 k ↑
- คำตอบที่ถูกต้อง : 3

$$\therefore R_B = \frac{5(1)(20)}{4} = 25 \text{ k} \uparrow$$



ข้อที่ 233:

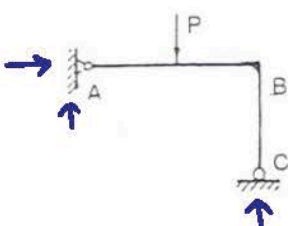
โครงสร้างที่แสดง เป็นแบบ



- 1: unstable
  - 2: stable and determinate
  - 3: stable and externally indeterminate 1st degree
  - 4: stable and externally indeterminate 2nd degree
- คำตอบที่ถูกต้อง : 2

ข้อที่ 234:

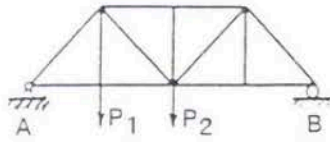
โครงสร้างที่แสดง เป็นแบบ



- 1: unstable
  - 2: stable and determinate
  - 3: stable and externally indeterminate 1st degree
  - 4: stable and externally indeterminate 2nd degree
- คำตอบที่ถูกต้อง : 2

ข้อที่ 235 :

โครงสร้างที่แสดง เป็นแบบ



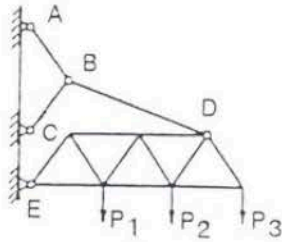
$m = 13$   
 $r = 3$   
 $j = 8$

$m+r = 16$   
 $2j = 16$   
 $\Delta I = 0$

- 1 : unstable
  - 2 : stable และ determinate
  - 3 : stable และ externally indeterminate 1 st degree
  - 4 : stable และ externally indeterminate 2nd degree
- คำตอบที่ถูกต้อง : 2

ข้อที่ 236 :

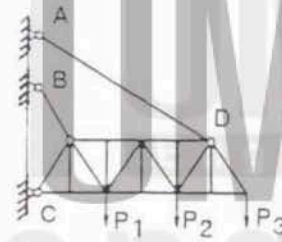
โครงสร้างที่แสดง เป็นแบบ



- 1 : unstable
  - 2 : stable และ determinate
  - 3 : stable และ externally indeterminate 1 st degree
  - 4 : stable และ externally indeterminate 2nd degree
- คำตอบที่ถูกต้อง : 2

ข้อที่ 237 :

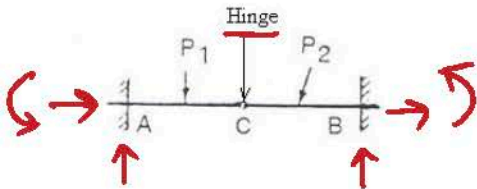
โครงสร้างที่แสดง เป็นแบบ



- 1 : unstable
  - 2 : stable และ determinate
  - 3 : stable และ externally indeterminate 1 st degree
  - 4 : stable และ externally indeterminate 2nd degree
- คำตอบที่ถูกต้อง : 2

ข้อที่ 238 :

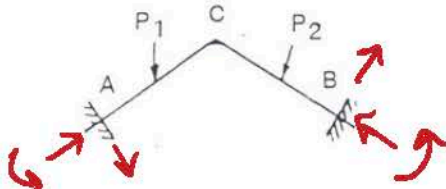
โครงสร้างที่แสดง เป็นแบบ



- 1 : unstable
  - 2 : stable และ determinate
  - 3 : stable และ externally indeterminate 1 st degree
  - 4 : stable และ externally indeterminate 2nd degree
- คำตอบที่ถูกต้อง : 4

ข้อที่ 239 :

โครงสร้างที่แสดง เป็นแบบ



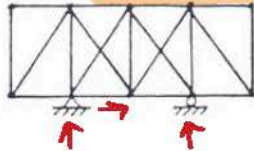
- 1 : stable และ determinate
- 2 : stable และ externally indeterminate 1 st degree
- 3 : stable และ externally indeterminate 2nd degree

4 : stable และ externally indeterminate 3rd degree  
 ค่าตอบที่ถูกคือ : 4



ข้อที่ 240 :

เมื่อพิจารณาเฉพาะการรองรับเพื่อถ่ายทอดน้ำหนักบรรทุกทุก(support) จะเห็นว่าโครงสร้างระบบที่แสดงเป็นแบบ

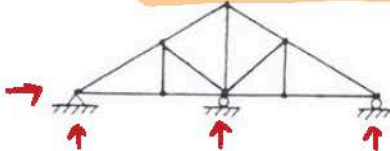


Ex. Determinate

- 1 : externally determinate
  - 2 : externally indeterminate 1 st degree
  - 3 : externally indeterminate 2nd degree
  - 4 : externally indeterminate 3rd degree
- คำตอบที่ถูกคือ : 1

ข้อที่ 241 :

เมื่อพิจารณาเฉพาะการรองรับเพื่อถ่ายทอดน้ำหนักบรรทุกทุก(support) จะเห็นว่าโครงสร้างระบบที่แสดงเป็นแบบ



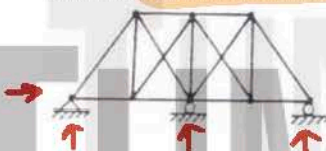
∴ Ex. Indeterminate

DI = 1

- 1 : externally determinate
  - 2 : externally indeterminate 1 st degree
  - 3 : externally indeterminate 2nd degree
  - 4 : externally indeterminate 3rd degree
- คำตอบที่ถูกคือ : 2

ข้อที่ 242 :

เมื่อพิจารณาเฉพาะการรองรับเพื่อถ่ายทอดน้ำหนักบรรทุกทุก(support) จะเห็นว่าโครงสร้างระบบที่แสดงเป็นแบบ



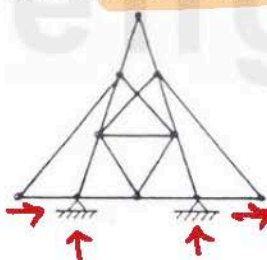
∴ Ex. Indeterminate

DI = 1

- 1 : externally determinate
  - 2 : externally indeterminate 1 st degree
  - 3 : externally indeterminate 2nd degree
  - 4 : externally indeterminate 3rd degree
- คำตอบที่ถูกคือ : 2

ข้อที่ 243 :

เมื่อพิจารณาเฉพาะการรองรับเพื่อถ่ายทอดน้ำหนักบรรทุกทุก(support) จะเห็นว่าโครงสร้างระบบที่แสดงเป็นแบบ



∴ Ex. Indeterminate

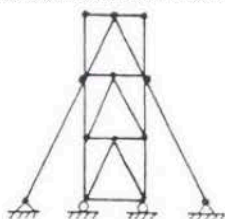
DI = 1

- 1 : externally determinate
  - 2 : externally indeterminate 1 st degree
  - 3 : externally indeterminate 2nd degree
  - 4 : externally indeterminate 3rd degree
- คำตอบที่ถูกคือ : 2



ข้อที่ 244 :

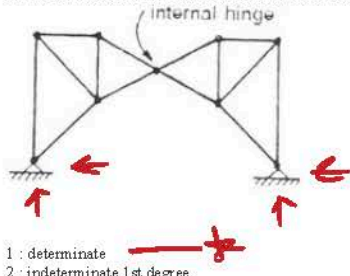
เมื่อพิจารณาเฉพาะการรองรับเพื่อถ่ายทอดน้ำหนักบรรทุกทุก(support) จะเห็นว่าโครงสร้างระบบที่แสดงเป็นแบบ



- 1 : externally determinate
  - 2 : externally indeterminate 1 st degree
  - 3 : externally indeterminate 2nd degree
  - 4 : externally indeterminate 3rd degree
- คำตอบที่ถูกคือ : 2

ข้อที่ 245 :

เมื่อพิจารณาเฉพาะการรองรับเพื่อถ่ายทอดน้ำหนักบรรทุก(support) จะเห็นว่าโครงสร้างระบบที่แสดงเป็นแบบ



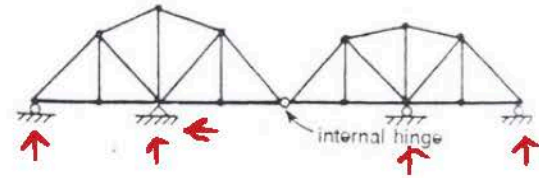
$$\therefore DI = 4 - 3 - 1 = 0$$

**Determinate**

- 1 : determinate
  - 2 : indeterminate 1st degree
  - 3 : indeterminate 2nd degree
  - 4 : indeterminate 3rd degree
- คำตอบที่ถูกต้อง : 1

ข้อที่ 246 :

เมื่อพิจารณาเฉพาะการรองรับเพื่อถ่ายทอดน้ำหนักบรรทุก จะเห็นว่าโครงสร้างระบบที่แสดงเป็นแบบ

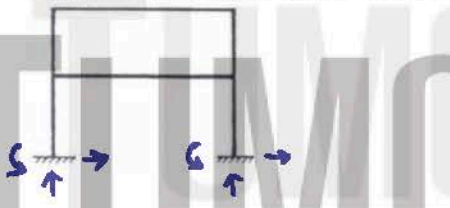


$$\therefore DI = 5 - 3 - 1 = 1$$

- 1 : determinate
  - 2 : indeterminate 1st degree
  - 3 : indeterminate 2nd degree
  - 4 : indeterminate 3rd degree
- คำตอบที่ถูกต้อง : 2

ข้อที่ 247 :

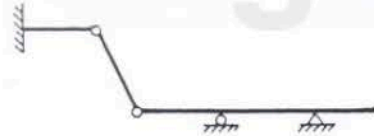
เมื่อพิจารณาเฉพาะการยึดโยงของชิ้นส่วนภายในโครงสร้าง จะเห็นว่าโครงสร้างระบบที่แสดงเป็นแบบ



- 1 : stable และ determinate
  - 2 : stable และ internally indeterminate 1st degree
  - 3 : stable และ internally indeterminate 2nd degree
  - 4 : stable และ internally indeterminate 3rd degree
- คำตอบที่ถูกต้อง : 4

ข้อที่ 248 :

โครงสร้างระบบที่แสดงมีดีกรีอิสระทั้งหมดเท่ากับ

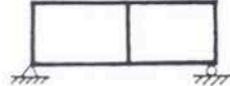


$$\begin{aligned} m &= 5 & 3m + 5 &= 21 \\ r &= 6 & 3j + c &= 20 \\ j &= 6 & \therefore DI &= 1 \\ c &= 2 \end{aligned}$$

- 1 : 0 ดีกรี
  - 2 : 1 ดีกรี
  - 3 : 2 ดีกรี
  - 4 : 3 ดีกรี
- คำตอบที่ถูกต้อง : 2

ข้อที่ 249 :

โครงสร้างระบบที่แสดงมีดีกรีอิสระทั้งหมดเท่ากับ



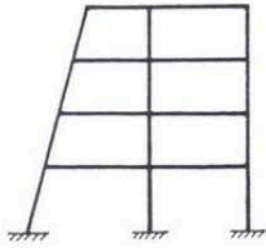
$$\begin{aligned} m &= 7 & 3m + r &= 24 \\ r &= 3 & 3j &= 18 \\ j &= 6 & \therefore DI &= 6 \end{aligned}$$

- 1 : 3 ดีกรี
  - 2 : 6 ดีกรี
  - 3 : 9 ดีกรี
  - 4 : 12 ดีกรี
- คำตอบที่ถูกต้อง : 2

ข้อที่ 250 :



โครงสร้างระนาบที่แสดงมีดีกรีอิสระทั้งหมดเท่ากัน



$$m = 6$$

$$r = 9$$

$$j = 15$$

$$3m + r = 69$$

$$3j = 45$$

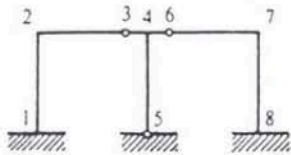
$$\therefore DI = 24$$

- 1: 6 ดีกรี
- 2: 12 ดีกรี
- 3: 18 ดีกรี
- 4: 24 ดีกรี
- คำตอบที่ถูกต้อง : 4



ข้อที่ 251 :

โครงสร้างระนาบที่แสดงมีดีกรีอิสระทั้งหมดเท่ากัน



$$m = 7$$

$$r = 8$$

$$j = 8$$

$$c = 2$$

$$3m + r = 29$$

$$3j + c = 26$$

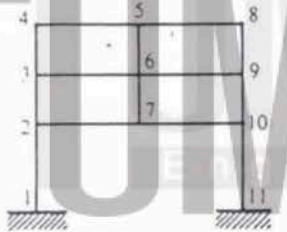
$$\therefore DI = 3$$

- 1: 3 ดีกรี
- 2: 6 ดีกรี
- 3: 9 ดีกรี
- 4: 12 ดีกรี
- คำตอบที่ถูกต้อง : 1



ข้อที่ 252 :

โครงสร้างระนาบที่แสดงมีดีกรีอิสระทั้งหมดเท่ากัน



$$m = 11$$

$$r = 6$$

$$j = 11$$

$$3m + r = 48$$

$$3j = 33$$

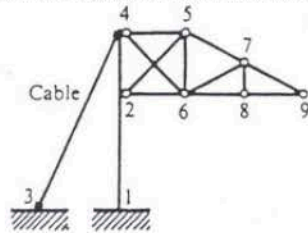
$$\therefore DI = 15$$

- 1: 6 ดีกรี
- 2: 9 ดีกรี
- 3: 15 ดีกรี
- 4: 18 ดีกรี
- คำตอบที่ถูกต้อง : 3



ข้อที่ 253 :

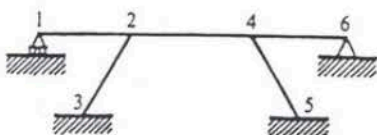
โครงสร้างระนาบที่แสดงมีดีกรีอิสระทั้งหมดเท่ากัน



- 1: 1 ดีกรี
- 2: 2 ดีกรี
- 3: 3 ดีกรี
- 4: 5 ดีกรี
- คำตอบที่ถูกต้อง : 2

ข้อที่ 254 :

โครงสร้างระนาบที่แสดงมีดีกรีอิสระทั้งหมดเท่ากัน



$$m = 5$$

$$r = 9$$

$$j = 6$$

$$3m + r = 24$$

$$2j = 18$$

$$\therefore DI = 6$$

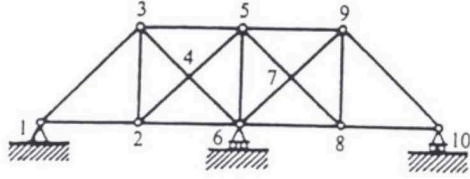
- 1: 3 ดีกรี
- 2: 6 ดีกรี



3: 9 ดีกรี  
4: 12 ดีกรี  
คำตอบที่ถูกต้อง : 2

ข้อที่ 255 :

โครงสร้างระนาบที่แสดงมีดีกรีอิสระทั้งหมด เท่ากับ



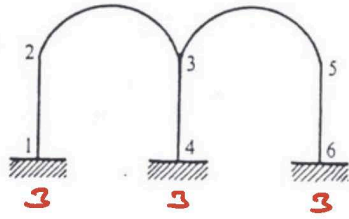
$m = 15$   
 $r = 4$   
 $j = 8$

1: 1 ดีกรี  
2: 2 ดีกรี  
3: 3 ดีกรี  
4: 5 ดีกรี  
คำตอบที่ถูกต้อง : 3

$m+r = 19$   
 $2j = 16$   
 $\therefore DI = 3$

ข้อที่ 256 :

โครงสร้างระนาบที่แสดงมีดีกรีอิสระทั้งหมด เท่ากับ



$m = 5$   
 $r = 9$   
 $j = 6$

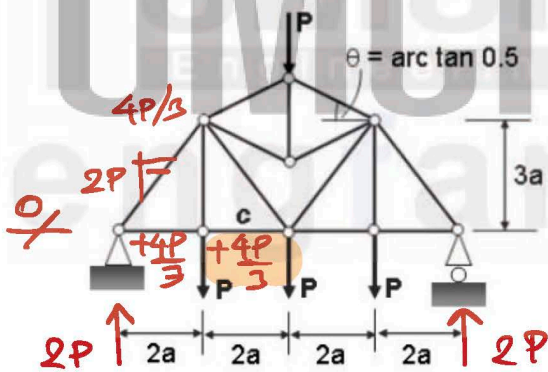
1: 3 ดีกรี  
2: 6 ดีกรี  
3: 9 ดีกรี  
4: 12 ดีกรี  
คำตอบที่ถูกต้อง : 2

$3m+r = 24$   
 $3j = 18$

$\therefore DI = 6$

ข้อที่ 257 :

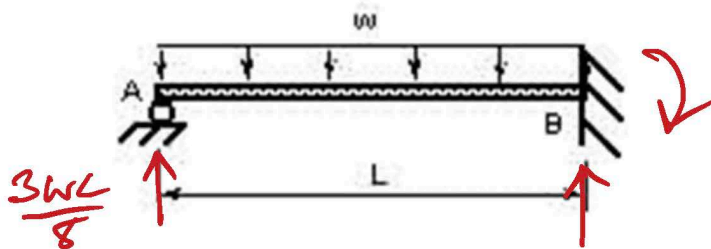
แรงในชิ้นส่วน c ของโครงข้อหมุนดังรูป มีค่าเท่าใด



1: แรงดึง ขนาด 1.34 P  
2: แรงอัด ขนาด 1.34 P  
3: แรงดึง ขนาด 2.68 P  
4: แรงอัด ขนาด 2.68 P  
คำตอบที่ถูกต้อง : 1

ข้อที่ 258 :

จงคำนวณหาแรงปฏิกิริยาในแนวตั้งที่ปลาย B ของคานดังแสดงในรูป



$R_B = wL - \frac{3wL}{8} = \frac{5wL}{8}$

1:  $(1/4)wL$   
2:  $(3/4)wL$   
3:  $(3/8)wL$   
4:  $(5/8)wL$   
คำตอบที่ถูกต้อง : 4

TUMCIVIL.COM  
engfanatic CLUB  
& member

TUMCIVIL.COM

เฉลยวิธีทำ  
ข้อสอบสภาวิศวกร  
วิชา Structural Analysis

โดย  
ดร.สรกานต์ ศรีทองอ่อน  
(เมษายน ๒๕๖๔)



สาขา : โยธา

วิชา : Structural Analysis

เนื้อหาวิชา : 534 : Analysis of indeterminate structures by elastic load method, methods of slope and deflection, moment distribution, strain energy

ข้อที่ 1 :

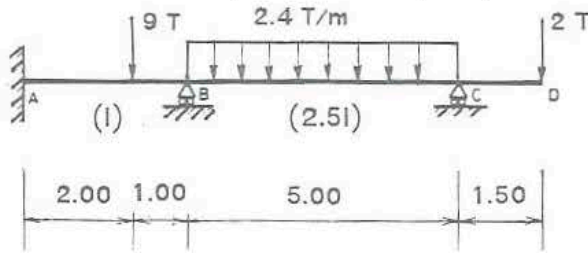
ข้อใดเป็นการวิเคราะห์โครงสร้างแบบอินดีเทอริมีเนทโดยวิธีเปลี่ยนตำแหน่ง(Displacement Method)

- 1: Consistent Deformation Method
  - 2: Method of Three-Moment Equations
  - 3: Method of Least Work
  - 4: Column Analogy
  - 5: Slope-Deflection Method
- คำตอบที่ถูกต้อง : 5

มี 2 วิธีหลัก  
 1) Force Method ตัวอย่างแรกคือ 150  
 2) Displacement Method  
 ตัวอย่างแรกคือ ตำรากรงเหล็กแผ่น

ข้อที่ 2 :

จากถาดต่อเนื่องรับน้ำหนักตามรูป จงวิเคราะห์หาแรงปฏิกิริยาที่จุดรองรับ C



$I/3 \sim 2$        $2.5I/5 \sim 3$        $\frac{K}{K^M}$

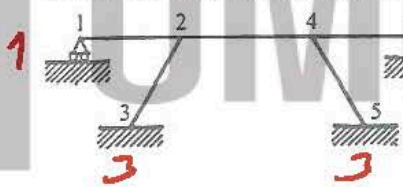
0	$\frac{8}{17} \frac{9T}{17}$	$\frac{1}{17}$		
-2	+4	-5	+5	-3
0	$+\frac{8}{17}$	$+\frac{9}{17}$	-2	
$+\frac{4}{17}$		-1		
0	$+\frac{8}{17}$	$+\frac{9}{17}$		
$-\frac{3}{17}$	$+\frac{84}{17}$	$-\frac{84}{17}$	-3	-3

1: 7.62 ตัน

- 2: 10 ตัน
  - 3: 15.61 ตัน
  - 4: 2 ตัน
  - 5: 5.61 ตัน
- คำตอบที่ถูกต้อง : 1

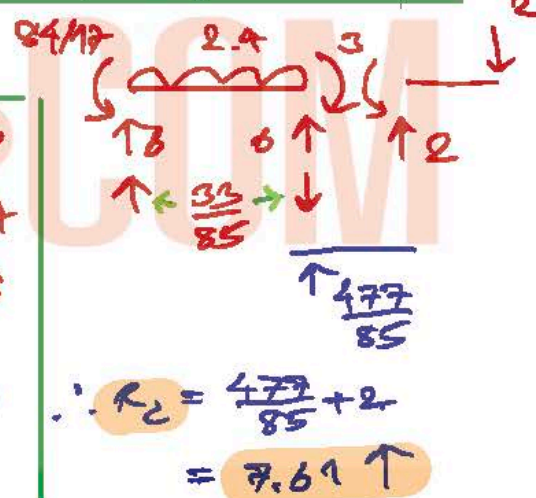
ข้อที่ 3 :

จงหาดีกรีอินดีเทอริมีเนทของโครงสร้างดังรูป



$m = 5, r = 9, j = 6$   
 $3m + r = 24$   
 $3j = 18$

$\therefore DI = 24 - 18 = 6$

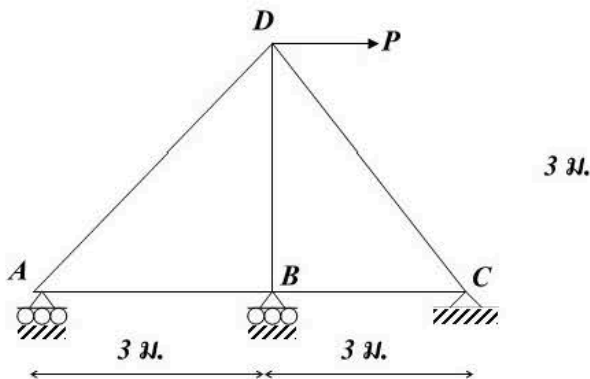


$\therefore R_2 = \frac{477}{85} + 2 = 7.61 \uparrow$

- 1: 1
  - 2: 3
  - 3: 6
  - 4: 9
  - 5: 12
- คำตอบที่ถูกต้อง : 3

ข้อที่ 4 :

ให้หาแรงปฏิกิริยาที่ฐานรองรับของโครงข้อหมุนที่จุด B เมื่อกำหนดให้พื้นที่หน้าตัดของชิ้นส่วนมีขนาดเท่ากับ a และหาจากวัสดุเดียวกันทุกชิ้นส่วน

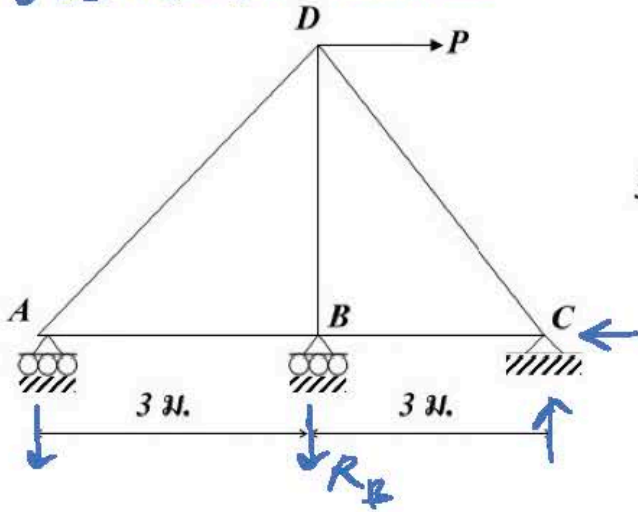


วิธีทำอยู่หน้าข้อ 7

- 1: 0.33P (Down)
- 2: 0.42P (Down)
- 3: 0.17P (Down)
- 4: 0.26P (Down)
- 5: 0.55P (Down)

ให้หาแรงปฏิกิริยาที่ฐานรองรับของโครงข้อหมุนที่จุด B เมื่อกำหนดให้พื้นที่หน้าตัดของชิ้นส่วนมีขนาดเท่ากับ a และทำจากวัสดุเดียวกันทุกชิ้นส่วน

Least Work



$m = 5, r = 4, j = 4$

$5 + 4 > 2(4)$

∴ เป็นโครงข้อหมุนข้อเดียวที่รองรับ  
ดังนั้น  $DI = 9 - 8 = 1$

∴  $R_B$  เป็นตัวที่

หาสมการของ CS) โดย

หลักสมการ = 0

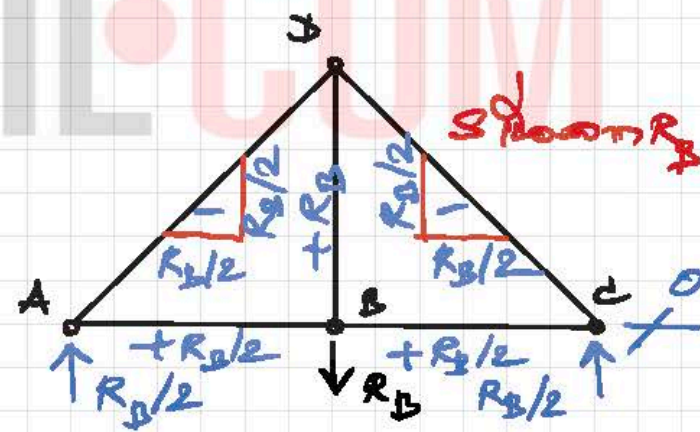
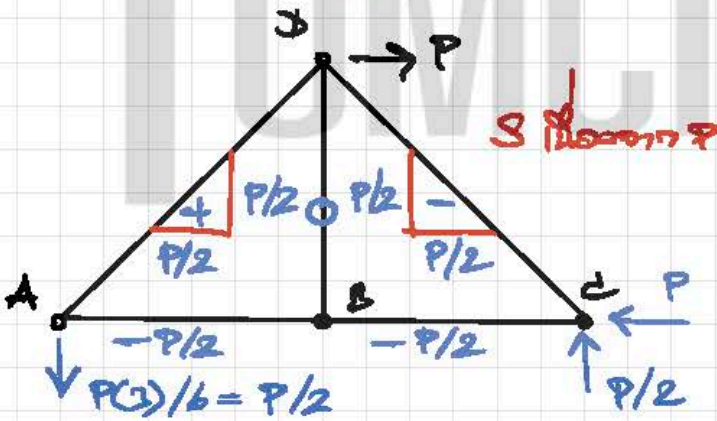
S ของทุก P + S ของทุก  $R_B$

$\therefore \Delta_{KB} = 0 = \sum S \left( \frac{\partial S}{\partial R_B} \right) L / aE$

$aE$  วนที่  $\therefore \frac{1}{aE} \sum S \left( \frac{\partial S}{\partial R_B} \right) L = 0$

- 1 : 0.33P ( Down )
- 2 : 0.42P ( Down )
- 3 : 0.17P ( Down )
- 4 : 0.26P ( Down )
- 5 : 0.55P ( Down )

$\sum S \left( \frac{\partial S}{\partial R_B} \right) L = 0$



Mem	S	$\frac{\partial S}{\partial R_B}$	L	$S \left( \frac{\partial S}{\partial R_B} \right) L$
AB	$-P/2 + R_B/2$	$+1/2$	3	$-3P/4 + 3R_B/4$
BC	$-P/2 + R_B/2$	$+1/2$	3	$-3P/4 + 3R_B/4$
BD	$0 + R_B$	$+1$	3	$+3R_B$
AD	$+\sqrt{2}P/2 - \sqrt{2}R_B/2$	$-\sqrt{2}/2$	$3\sqrt{2}$	$-3\sqrt{2}P/2 + 3\sqrt{2}R_B/2$
CD	$-\sqrt{2}P/2 - \sqrt{2}R_B/2$	$-\sqrt{2}/2$	$3\sqrt{2}$	$+3\sqrt{2}P/2 + 3\sqrt{2}R_B/2$
			$\Sigma$	$-3P/2 + 8.743R_B$

$\therefore -\frac{3P}{2} + 8.743R_B = 0$

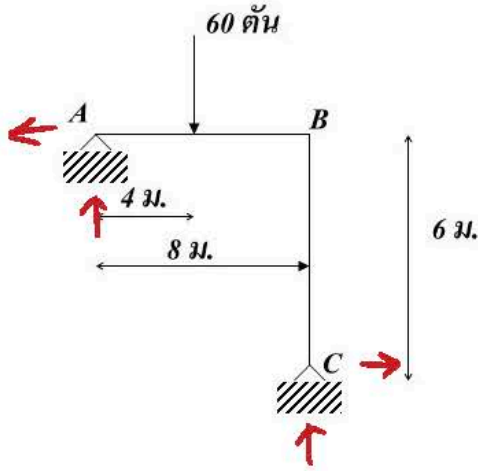
$R_B = \frac{3P}{2} \cdot \frac{1}{8.743} = 0.17P \downarrow$



คำตอบที่ถูกต้อง : 3

ข้อที่ 5 :

ให้ตรวจสอบว่าโครงสร้างนี้มีเสถียรภาพระดับใด



$m = 2, r = 4, j = 3$

$3m + r = 10$

$3j = 9$

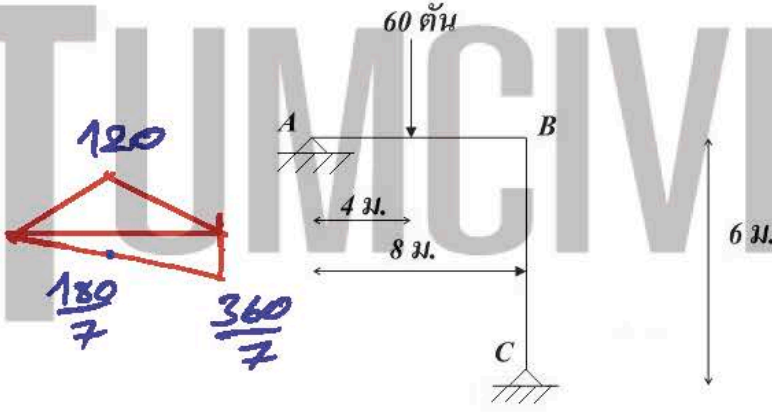
$\therefore \Delta I = 10 - 9 = 1$

- 1 : Stable, Determinate
- 2 : Unstable, Indeterminate, Degree of indeterminacy = 1
- 3 : Stable, Indeterminate, Degree of indeterminacy = 2
- 4 : Unstable, Indeterminate, Degree of indeterminacy = 2
- 5 : Stable, Indeterminate, Degree of indeterminacy = 1

คำตอบที่ถูกต้อง : 5

ข้อที่ 6 :

ให้หาโมเมนต์สูงสุดบนชิ้นส่วน AB ของโครงสร้างเมื่อกำหนดให้ทุกชิ้นส่วนมีขนาดเท่ากันหาจากวัสดุที่เหมือนกัน



$\frac{3}{7} \cdot \frac{I}{8} \sim 3$        $\frac{3}{4} \cdot \frac{I}{8} \sim 4$

[1]				[1]
		3/7	4/7	
-60	+60			
+60	-180/7		-240/7	
	+30			
	-90/7		-120/7	
		360/7		
			-360/7	

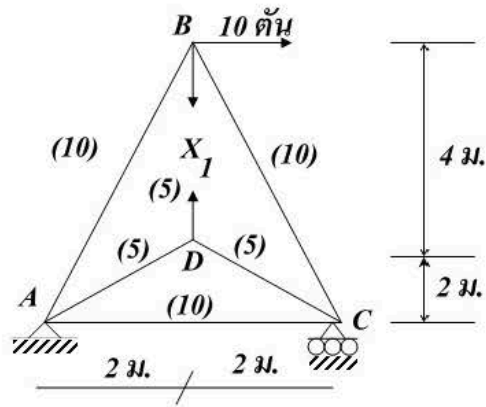
- 1 : 80.5 ตัน-เมตร
- 2 : 92.3 ตัน-เมตร
- 3 : 87.7 ตัน-เมตร
- 4 : 94.3 ตัน-เมตร
- 5 : 112.6 ตัน-เมตร

$\therefore M_{max} = 120 - \frac{180}{7} = \frac{660}{7} = 94.3 \text{ ตัน-เมตร}$

คำตอบที่ถูกต้อง : 4

ข้อที่ 7 :

ให้คำนวณหาแรงภายในชิ้นส่วน AB ของโครงสร้างหมุน เมื่อกำหนดให้ตัวเลขที่ปรากฏในวงเล็บคือพื้นที่หน้าตัดของชิ้นส่วน กำหนดให้แรงเกิน (Redundant force) ภายในชิ้นส่วน BD คือ X1



$$S_{A_2} = 5\sqrt{10} - \sqrt{10} X_1 / 6$$

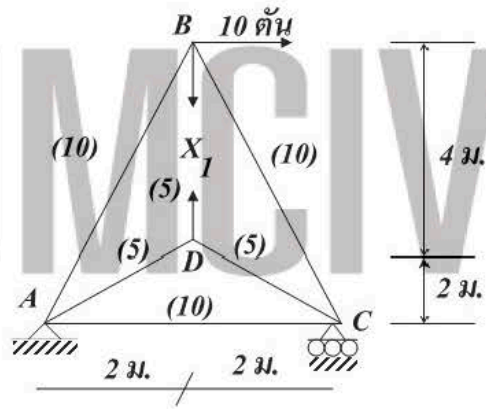
$$= 15.81 - 0.53 X_1$$

- 1: -11.24-56X1
  - 2: 3.55-0.32X1
  - 3: 0.707+3.12X1
  - 4: -2.12+3.15X1
  - 5: 11.24-0.56X1
- คำตอบที่ถูกต้อง : 5

ข้อที่ 8 :

ให้คำนวณหาแรงเกิน X1 ของโครงข้อหมุนในชิ้นส่วน BD เมื่อกำหนดให้ตัวเลขที่ปรากฏในวงเล็บคือพื้นที่หน้าตัดของชิ้นส่วน

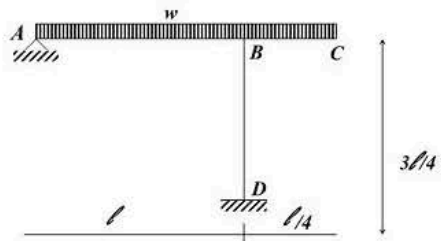
$$X_1 = +0.378 \text{ T}$$



- 1: 0.51 ตัน (ตั้ง)
  - 2: 0.33 ตัน (ตั้ง)
  - 3: 0.43 ตัน (ตั้ง)
  - 4: 0.25 ตัน (ตั้ง)
  - 5: 0.707 ตัน (ตั้ง)
- คำตอบที่ถูกต้อง : 4

ข้อที่ 9 :

ให้หา fixed end moment ที่ปลายของโครงข้อแข็งดังภาพ

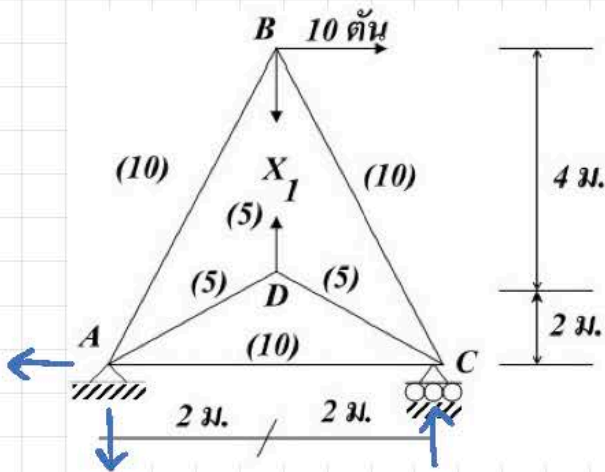


$$M_{ab}^F = -\frac{wl^2}{12} , \quad M_{ba}^F = -\frac{wl^2}{12}$$

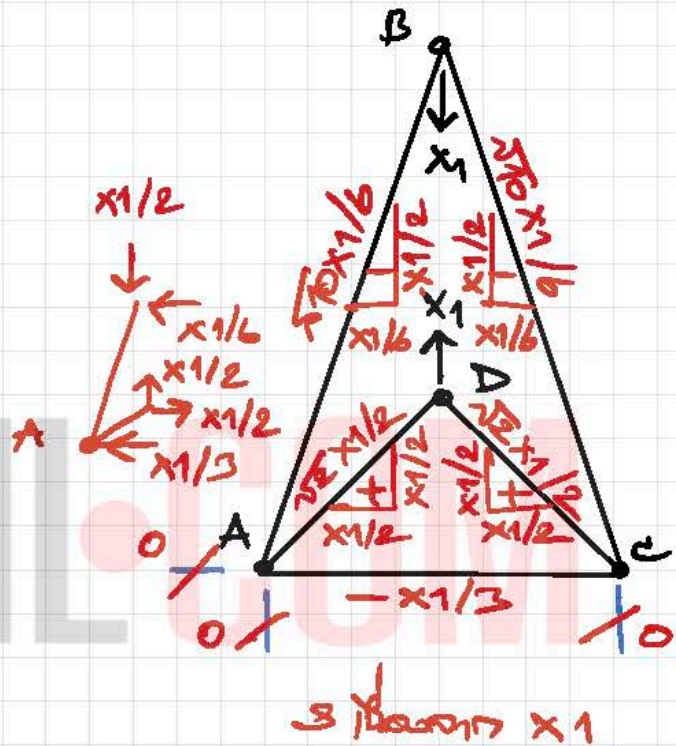
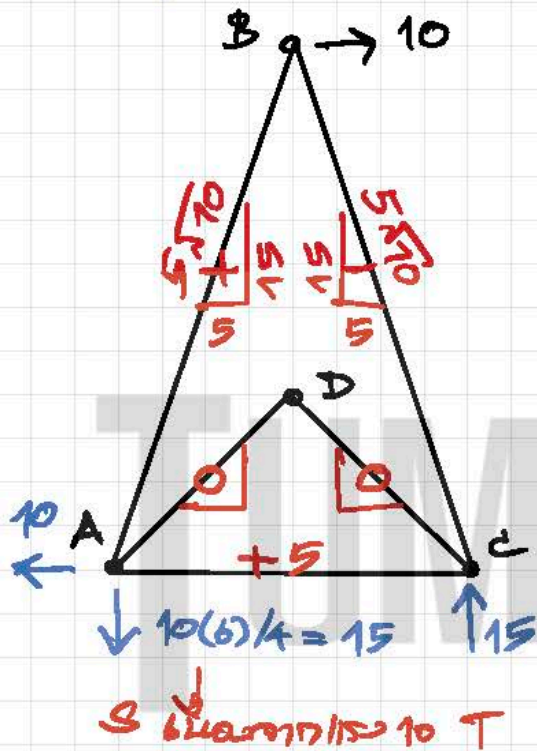
1:



# วิธี Least Work



$\Delta_{BD} = 0 = \sum S \left( \frac{\partial S}{\partial x_1} \right) L/AE$   
 $\epsilon$  คง  $\therefore \frac{1}{E} \sum S \left( \frac{\partial S}{\partial x_1} \right) L/A = 0$   
 $\sum S \left( \frac{\partial S}{\partial x_1} \right) L/A = 0$



Member	S	$\frac{\partial S}{\partial x_1}$	L/A	$S \left( \frac{\partial S}{\partial x_1} \right) L/A$
AC	+5 - $x_1/3$	-1/3	4/10	-2/3 + $2x_1/15$
AB	+5 $\sqrt{10}$ - $\sqrt{10}x_1/6$	- $\sqrt{10}/6$	2 $\sqrt{10}/10$	-5 $\sqrt{10}/3$ + $\sqrt{10}x_1/18$
BC	-5 $\sqrt{10}$ - $\sqrt{10}x_1/6$	- $\sqrt{10}/6$	2 $\sqrt{10}/10$	+5 $\sqrt{10}/3$ + $\sqrt{10}x_1/18$
AD	0 + $\sqrt{2}x_1/2$	+ $\sqrt{2}/2$	2 $\sqrt{2}/5$	0 + $\sqrt{2}x_1/5$
CD	0 + $\sqrt{2}x_1/2$	+ $\sqrt{2}/2$	2 $\sqrt{2}/5$	0 + $\sqrt{2}x_1/5$
BD	+ $x_1$	1	4/5	+ $4x_1/5$

$\therefore -2/3 + 1.761x_1 = 0$

$\sum -2/3 + 1.761x_1$

$x_1 = \frac{2}{3} \cdot \frac{1}{1.761} = 0.378 \text{ T}$

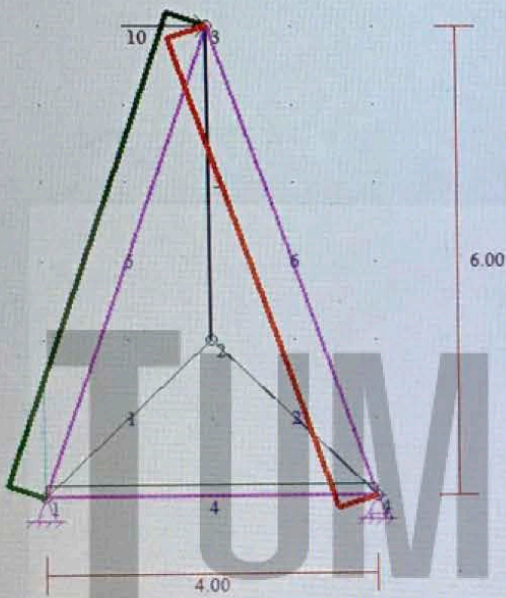
$$\therefore \text{แรงภายในชิ้นส่วน } AB = +5\sqrt{10} - \sqrt{10} \times x_1/6$$

$$= 15.81 - 0.53x_1$$

$$\therefore x_1 = +0.378 \text{ T}$$

$$\therefore S_{AB} = 5\sqrt{10} - \sqrt{10}(0.378)/6$$

$$= +15.612 \text{ T (Tension)}$$



- Positive Forces (T)
- Maximum Positive Force(s) = 15.612 (T)
- Negative Forces (T)
- Maximum Negative Force(s) = -16.011 (T)

แรงภายในชิ้นส่วน

ชิ้นส่วนที่	ความยาว (m)	แรง (ksc) T	หน่วยแรง (ksc)
1	2.828	0.268	0.05
2	2.828	0.268	0.05
* 3	4.000	0.378	0.08
4	4.000	14.874	0.49
* 5	6.325	15.612 <max+>	1.56
6	6.325	-16.011 <max->	-1.60

+ หมายถึง แรงดึง, - หมายถึง แรงอัด

ตกลง



9)  $w \neq 0$   $\curvearrowright +$

1:  $M_{ab}^F = -\frac{3wl^2}{4}$  ,  $M_{ba}^F = -\frac{3wl^2}{4}$

2:

2:  $M_{ab}^F = -\frac{wl^2}{12}$  ,  $M_{ba}^F = +\frac{wl^2}{12}$

3:

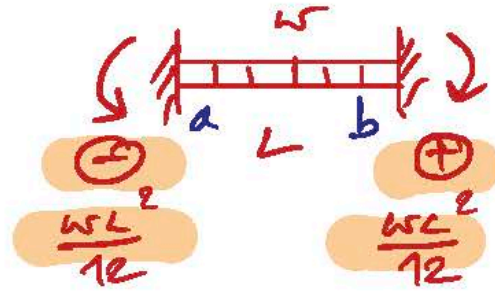
3:  $M_{ab}^F = -\frac{3wl^2}{4}$  ,  $M_{ba}^F = +\frac{3wl^2}{4}$

4:

4:  $M_{ab}^F = -\frac{wl^2}{8}$  ,  $M_{ba}^F = +\frac{wl^2}{8}$

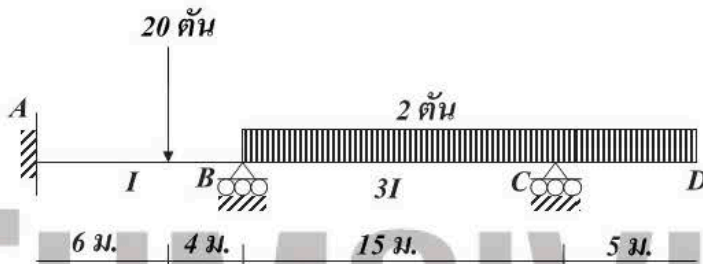
5:

คำตอบที่ถูกต้อง : 3



ข้อที่ 10 :

ในการวิเคราะห์คานต่อเนื่องโดยวิธีมุมลาด-ความเอนของคานตั้งรูปมีความจำเป็นต้องใช้สมการสมดุลที่จุดต่อทั้งหมดที่สมการ

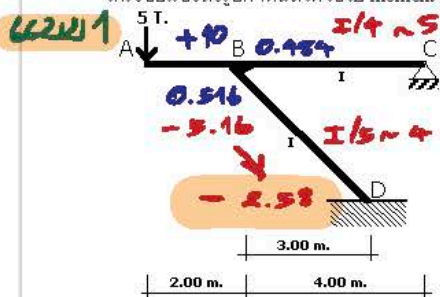


2 สมการคือ  $\sum M_B = 0$  และ  $\sum M_C = 0$


- 1: 5 สมการ
  - 2: 4 สมการ
  - 3: 3 สมการ
  - 4: 2 สมการ
  - 5: 1 สมการ
- คำตอบที่ถูกต้อง : 4

ข้อที่ 11 :

โครงข้อแข็งดังรูปกำหนดให้ใช้วิธี moment distribution วิเคราะห์หาโมเมนต์ตัดที่เกิดขึ้นที่ฐานรองรับ D



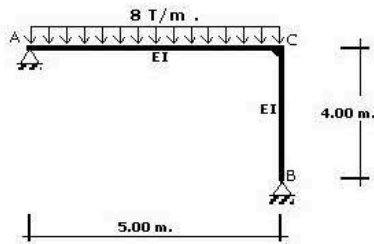
- 1: 2.58 T-m
  - 2: 3.28 T-m
  - 3: 4.58 T-m
  - 4: 5.28 T-m
  - 5: 6.78 T-m
- คำตอบที่ถูกต้อง : 1



0	16/31	15/31	1	FEM
-80/31	-160/31	-150/31		Dist
0				co
-80/31	-160/31	-150/31		Dist
				Final Moments

ข้อที่ 12 :

จงวิเคราะห์หาโมเมนต์ตัดที่เกิดขึ้นที่จุดต่อ C ของโครงข้อแข็งดังรูป



- 1: 10.88 T-m
  - 2: 13.88 T-m
  - 3: 16.88 T-m
  - 4: 17.22 T-m
  - 5: 24.22 T-m
- คำตอบที่ถูกต้อง : 2

สมการตัวแรก

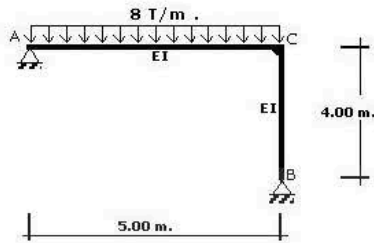
$$I/5 \sim (4) \quad I/4 \sim (5)$$

$$\frac{3}{4}(4) = 3 \quad \frac{3}{4}(5) = 3.75$$


1	4/9	5/9	1
-50/3	+50/3		
+50/3	-200/27	-250/27	
	+25/3		
	-100/27	-125/27	
0	+13.88	-13.88	0
A	C		B

ข้อที่ 13 :

จงวิเคราะห์หาแรงปฏิกิริยาในแนวนอนที่เกิดขึ้นที่ฐานรองรับ B ของโครงข้อแข็งดังรูป

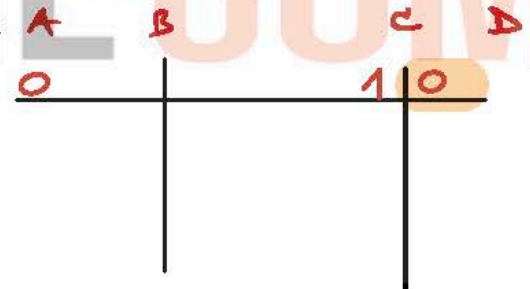



- 1: 2.72 T
  - 2: 3.47 T
  - 3: 4.22 T
  - 4: 4.31 T
  - 5: 6.54 T
- คำตอบที่ถูกต้อง : 2



ข้อที่ 14 :

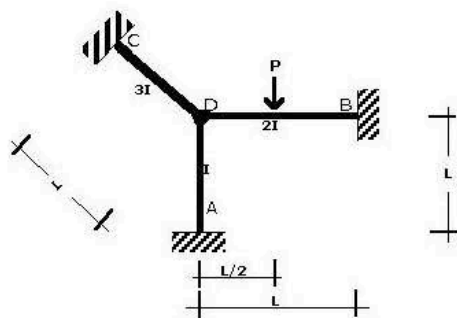
ตามต่อเนื่องดังแสดงในรูป ถ้าวิเคราะห์โดยใช้วิธีการกระจายโมเมนต์ที่ตัวกระจาย CD มีค่าเป็น



- 1: 0
  - 2: 1/2
  - 3: 2/5
  - 4: 3/5
  - 5: 4/5
- คำตอบที่ถูกต้อง : 1

ข้อที่ 15 :

โครงข้อแข็งดังรูปถ้าทำโดยวิธี การกระจายโมเมนต์ ค่าสัมประสิทธิ์ที่ตัวกระจายของปลาย DB มีค่า



$$K_{DA} = \frac{I}{L} \sim 1 \rightarrow \frac{1}{4} \frac{I}{L} = 1$$

$$K_{DB} = \frac{2I}{L} \sim 2$$

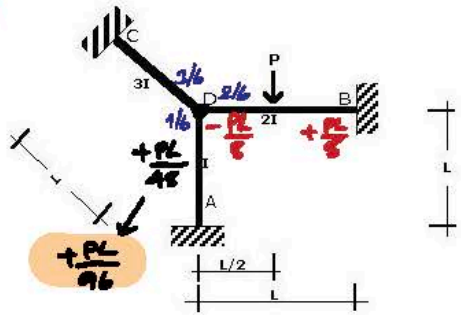
$$K_{DC} = \frac{3I}{L} \sim 3$$

$$\therefore DF_{DB} = \frac{K_{DB}}{\sum K} = \frac{2}{1+2+3} = \frac{2}{6} = \frac{1}{3}$$

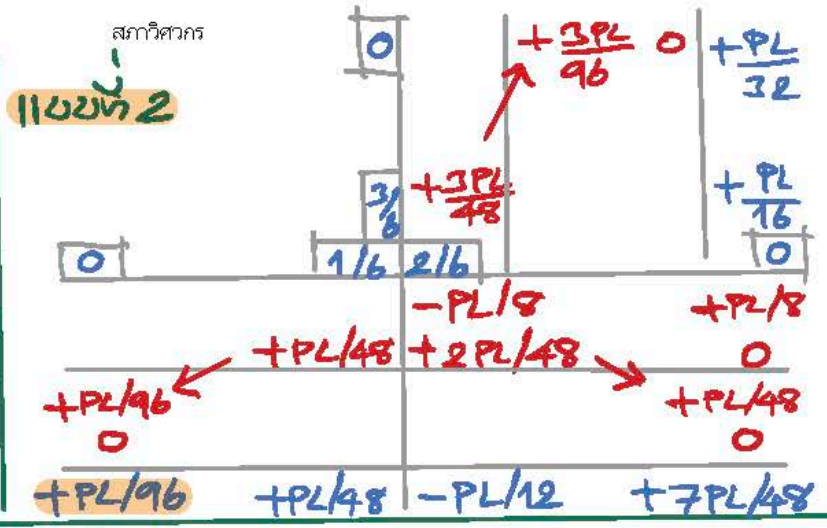
- 1: 1
  - 2: 1/2
  - 3: 1/3
  - 4: 1/6
- คำตอบที่ถูกต้อง : 3



ข้อที่ 16 :  
 11 ข้อที่ 1  
 คำนวณโมเมนต์ตัดที่ปลาย AD มีค่าเท่าใด



- 1: PL/16
  - 2: PL/24
  - 3: PL/48
  - 4: PL/96
- คำตอบที่ถูกต้อง : 4

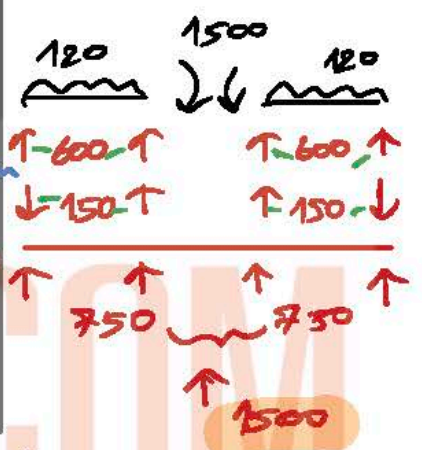


Three Moment  
 $0 + 2M_B(10+10) + 0 = -\frac{120(10)^3}{4} - \frac{120(10)^3}{4}$

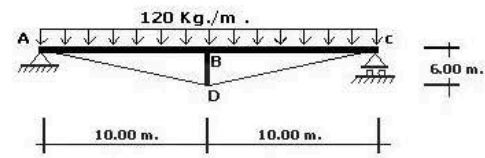
$M_B = -\frac{60000}{40}$

Moment Distribution  
 1 0.5 0.5 1

-1000	+1000	-1000	+1000
1000	0	0	-1000
900		-500	
0	1500	-1500	0

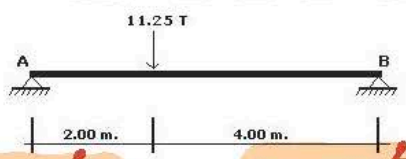


ข้อที่ 17 :  
 จงใช้วิธีการกระจายโมเมนต์วิเคราะห์หาแรงในชิ้นส่วน BD



- 1: 750 Kg.
  - 2: 1500 Kg.
  - 3: 1750 Kg.
  - 4: 2250 Kg.
- คำตอบที่ถูกต้อง : 2

ข้อที่ 18 :  
 คานรับแรงดัดรูปจะต้องใช้โมเมนต์กระทำที่ปลาย A และ B เป็นเท่าไรปลายทั้งสองถึงจะไม่เกิดการหมุน



$\frac{11.25(4)^2(2)}{6L}$        $\frac{11.25(2)^2(4)}{6L}$

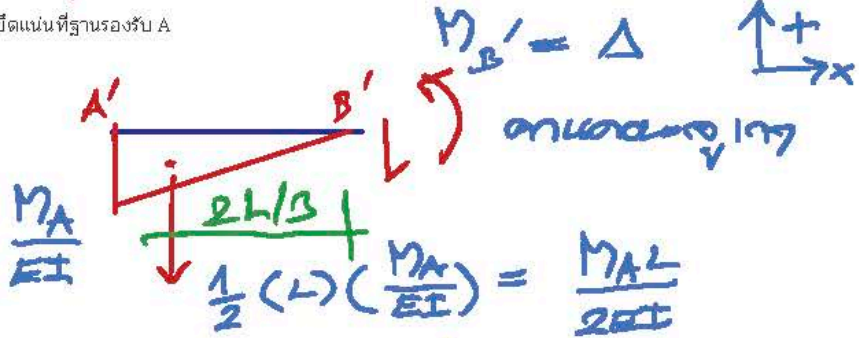
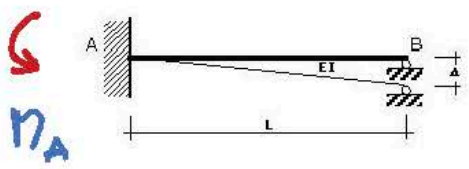
10      5

- 1: 8 และ 4 T-m.
  - 2: 10 และ 5 T-m.
  - 3: 12 และ 6 T-m.
  - 4: 14 และ 7 T-m.
- คำตอบที่ถูกต้อง : 2

หมายถึง ถ้าเปลี่ยนที่รองรับเป็น 6 เมตร  
 จุดนั้นจะอยู่ที่ไหน  $\theta_A$  และ  $\theta_B$  เท่ากับ 0  
 $M_A$  และ  $M_B$  จะอย่างไร



ข้อที่ 19 :  
 คาน AB ที่ B หดตัวลง ดังแสดงในรูป จงหาสมการของโมเมนต์ยึดแน่นที่ฐานรองรับ A

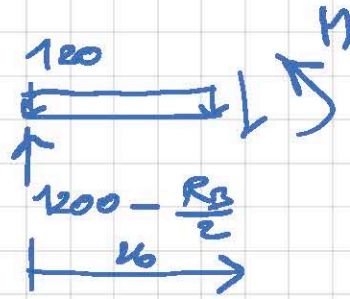
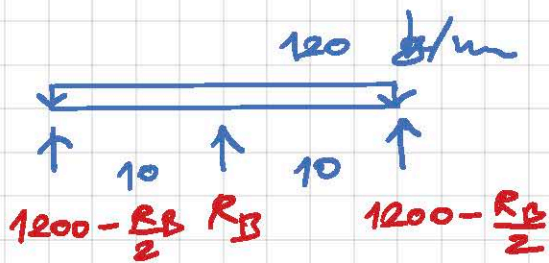


$\Delta = -\frac{M_A L}{2EI} \cdot \frac{2L}{3} = -\frac{M_A L^2}{3EI}$

$M_A = -3EI\Delta/L^2$

- 1: -12EI\Delta/L^2
- 2: -24EI\Delta/L^2
- 3: -3EI\Delta/L^2
- 4: -6EI\Delta/L^2

# 17 m 9 33 Least Work



$$M = (1200 - \frac{R_B}{2}) \cdot 10 - 120 \frac{10^2}{2} = -\frac{R_B \cdot 10}{2} + 1200 \cdot 10 - 60 \cdot 10^2$$

$$\frac{\partial M}{\partial R_B} = \frac{10}{2}$$

$$M \left( \frac{\partial M}{\partial R_B} \right) = -\frac{R_B \cdot 10^2}{4} + 600 \cdot 10^2 - 30 \cdot 10^3$$

$$\therefore \int_0^{10} M \left( \frac{\partial M}{\partial R_B} \right) \frac{dx}{EI} = 0$$

$$\therefore 2 \int_0^{10} \left( -\frac{R_B \cdot 10^2}{4} + 600 \cdot 10^2 - 30 \cdot 10^3 \right) \frac{dx}{EI} = 0$$

$$2 \left[ -R_B \frac{10^3}{12} + 200 \cdot 10^3 - 30 \frac{10^4}{4} \right]_0^{10} = 0$$

$$2 \left[ -\frac{R_B}{12} (10)^3 + 200 (10)^3 - \frac{30}{4} (10)^4 \right] = 0$$

$$2 \left( -\frac{250}{3} R_B + 200000 - 75000 \right) = 0$$

$$R_B = 250000 \left( \frac{3}{500} \right)$$

$$= 1500 \text{ kg} \uparrow \neq$$



คำตอบที่ถูกต้อง : 3

ข้อที่ 20 :

กำหนดรูปให้หาค่า Distribution Factor ที่ฐานรองรับในการวิเคราะห์โครงสร้างแบบ Moment Distribution

$\therefore DF = \frac{K}{\sum K}$   
 $DF_{AB} = \frac{4}{\infty + 4} = 0$   
 $DF_{BA} = \frac{4}{4 + 6} = 0.4$   
 $DF_{BC} = \frac{6}{4 + 6} = 0.6$   
 $DF_{CB} = \frac{6}{6 + \infty} = 0$

1: AB=0, BA=0.1, BC=0.9, CB=1.0  
 2: AB=1, BA=0.9, BC=0.1, CB=1.0  
 3: AB=0, BA=0.4, BC=0.6, CB=0.0  
 4: AB=0, BA=0.3, BC=0.7, CB=1.0  
 5: AB=0.1, BA=0.2, BC=0.8, CB=0.0  
 คำตอบที่ถูกต้อง : 3

ข้อที่ 21 :

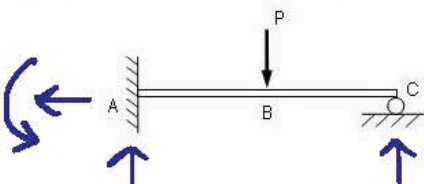
กำหนดรูปในการวิเคราะห์โครงสร้างแบบ Moment Distribution. จำเป็นต้องหาค่า Fixed End Moment ในแต่ละช่วงตาม ข้อใดถูกต้อง

$-\frac{wL^2}{12}$   
 $\frac{3(6)^2}{12} = 9$   
 $+\frac{PL}{8}$   
 $\frac{10(4)}{8} = 5$

- 1: AB = -7 T-m, BA = -8 T-m, BC = +8 T-m, CB = -6 T-m  
 2: AB = -9 T-m, BA = +9 T-m, BC = -5 T-m, CB = +5 T-m  
 3: AB = +7 T-m, BA = +8 T-m, BC = -8 T-m, CB = +6 T-m  
 4: AB = +9 T-m, BA = -9 T-m, BC = +5 T-m, CB = -5 T-m  
 5: AB = -8 T-m, BA = +8 T-m, BC = +9 T-m, CB = -9 T-m  
 คำตอบที่ถูกต้อง : 2

ข้อที่ 22 :

ค่าใดไม่สามารถเลือกเป็น Redundant ในการวิเคราะห์โครงสร้างด้วยวิธีการเปลี่ยนแปลงรูปร่างสอดคล้อง (Method of Consistent Deformation)

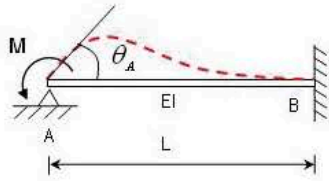


- 1:  $R_A$   
 2:  $M_A$   
 3:  $R_C$   
 4:  $M_C$   
 คำตอบที่ถูกต้อง : 4

หาค่าไม่ซ้ำกันที่รองรับแบบข้อต่อ

ข้อที่ 23 :

ค่ามุมลาดเชิงที่จุด A ( $\theta_A$ ) มีค่าเท่าใด



จากสมการของคานา -  $\int \frac{1}{EI} M dx = \theta$

$$M_{AB} = 2EI \left( \frac{\theta}{L} \right) \left[ 2\theta_A + \theta_B - 3 \frac{\Delta}{L} \right] + \dots$$

$$= 4EI \theta_A / L$$

$\therefore \theta_A = \frac{M_{AB} L}{4EI}$

(จากสมการ  $M_{AB} = M$ )

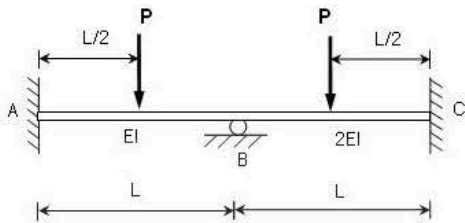
$I/L \sim 1$

$2I/L \sim 2$

- 1: 0
  - 2:  $ML/3EI$
  - 3:  $ML/4EI$
  - 4:  $ML/6EI$
- คำตอบที่ถูกต้อง : 3

ข้อที่ 24 :

จงเปรียบเทียบค่าโมเมนต์ที่จุดรองรับ A และ C ( $M_A$  และ  $M_C$ )

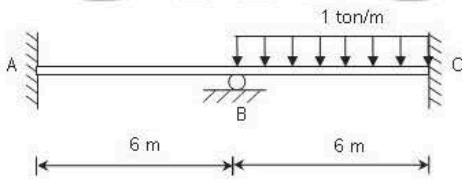


0	$1/3$	$2/3$	0
$-PL/8$	$+PL/8$	$-PL/8$	$+PL/8$
0	0	0	0
$-PL/8$	$+PL/8$	$-PL/8$	$+PL/8$
$\curvearrowright$	$\curvearrowright$	$\curvearrowright$	$\curvearrowright$

- 1: เท่ากัน และเท่ากับศูนย์
  - 2: เท่ากัน แต่ไม่เท่ากับศูนย์
  - 3:  $M_A$  มีค่ามากกว่า  $M_C$
  - 4:  $M_C$  มีค่ามากกว่า  $M_A$
- คำตอบที่ถูกต้อง : 2

ข้อที่ 25 :

กำหนด EI มีค่าคงที่ โมเมนต์ที่จุดรองรับ A มีค่าเท่าใด

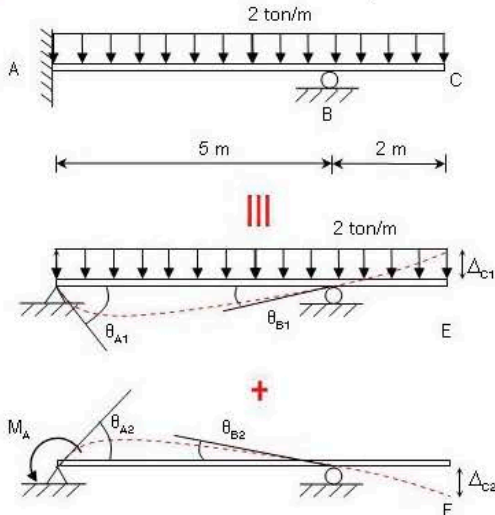


0	$1/6$	$1/6$	0
$+1.5$	$+1.5$	$+3$	0
$+0.75$	$+0.75$	$+0.75$	$+0.75$
$+0.75$	$+1.5$	$+1.5$	$+3.75$

- 1: 0
  - 2:  $0.75 \text{ Tm}$
  - 3:  $1.5 \text{ Tm}$
  - 4:  $3.75 \text{ Tm}$
- คำตอบที่ถูกต้อง : 2

ข้อที่ 26 :

ในการวิเคราะห์โครงสร้างด้วยวิธีการเปลี่ยนแปลงรูปร่างสอดคล้อง (Method of Consistent Deformation) สมการ Compatibility คือสมการใด



จากสมการ  $\int \frac{1}{EI} M dx = \theta$

$\therefore \theta_{A1} + \theta_{A2} + \theta_{B1} + \theta_{B2} = 0$

$\theta_{A1} 2 - \theta_{A2} 5 = 0$

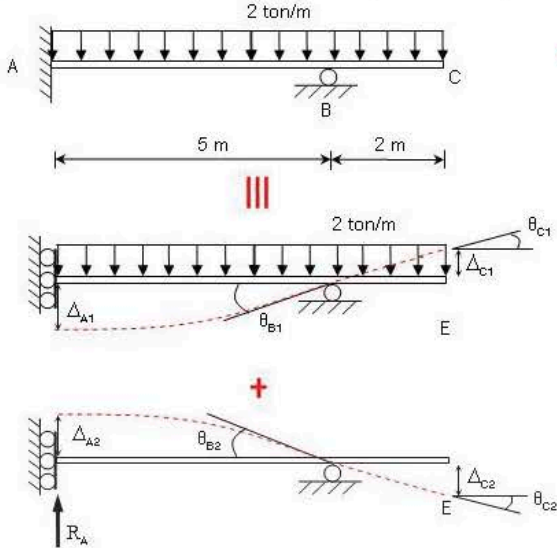
$\theta_{A1} = \theta_{A2}$



- 1:  $\theta_{A1} = \theta_{A2}$
  - 2:  $\theta_{B1} = \theta_{B2}$
  - 3:  $\theta_{A1} + \theta_{B1} = \theta_{A2} + \theta_{B2}$
  - 4:  $\Delta_{C1} = \Delta_{C2}$
- คำตอบที่ถูกต้อง : 1

ข้อที่ 27 :

ในการวิเคราะห์โครงสร้างด้วยวิธีการเปลี่ยนแปลงรูปร่างสอดคล้อง (Method of Consistent Deformation) สมการ Compatibility คือสมการใด



จากโครงสร้างได้จุดเด่นคือ  $R_A$

$$\Delta_{\text{ขยับตัวที่ B}} + \Delta_{R_A} = 0$$

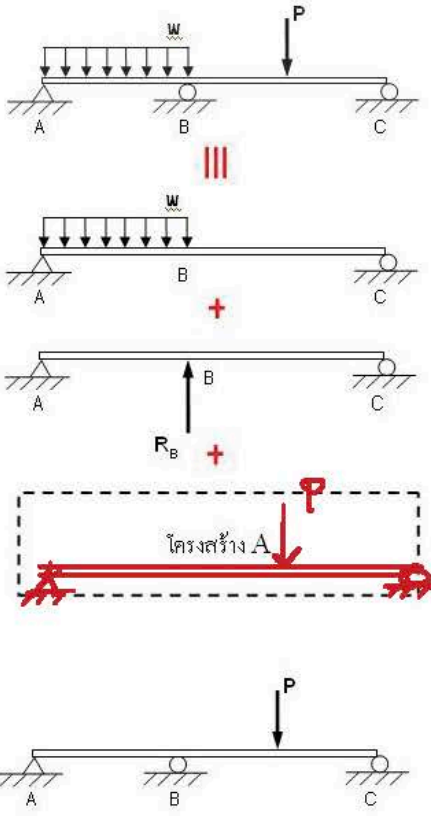
$$\Delta_{A1} \downarrow - \Delta_{A2} \uparrow = 0$$

$$\Delta_{A1} = \Delta_{A2}$$

- 1:  $\Delta_{A1} = \Delta_{A2}$
  - 2:  $\theta_{B1} = \theta_{B2}$
  - 3:  $\Delta_{C1} = \Delta_{C2}$
  - 4:  $\theta_{C1} = \theta_{C2}$
- คำตอบที่ถูกต้อง : 1

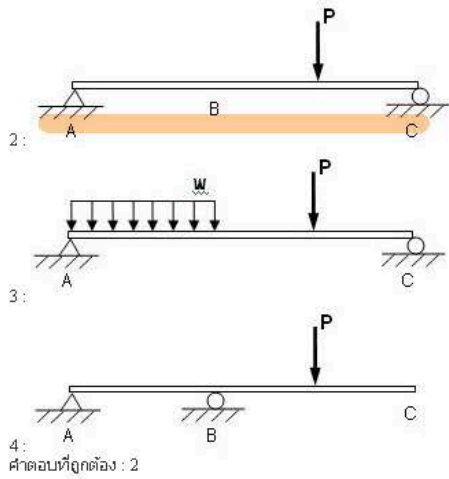
ข้อที่ 28 :

จากหลักการของ Superposition โครงสร้างที่ต้องวิเคราะห์เพิ่ม (โครงสร้าง A) คือข้อใด



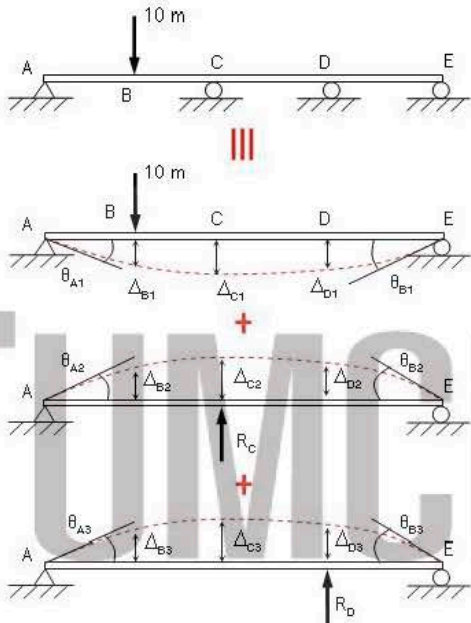
จากโครงสร้างได้จุดเด่นคือ  $R_B$

โครงสร้างข้อนี้  
ใช้หลักการซ้อนทับ  
ที่ 1 ขก และ 2 ขก  
และ ข้อ 2



ข้อที่ 29 :

ในการวิเคราะห์โครงสร้างด้วยวิธีการเปลี่ยนแปลงรูปร่างสอดคล้อง (Method of Consistent Deformation) สมการ Compatibility คือสมการใด



- 1: A และ E
  - 2: C และ D
  - 3: B, C และ D
  - 4: ทุกข้อ
- คำตอบที่ถูกต้อง : 2

ข้อนี้ต้อง  $R_2$  หรือ  $R_D$   
 $\therefore$  จะสมการที่  $R_2$  หรือ  $R_D$  คือ  
 หรือ  $R_2$  หรือ  $R_D$  คือ

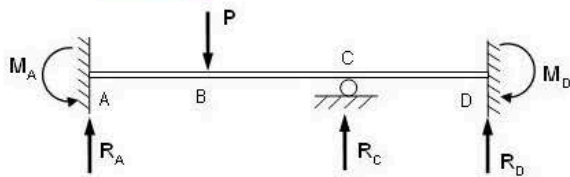
- A)  $\theta_{A1} = \theta_{A2} + \theta_{A3}$
- B)  $\Delta_{B1} = \Delta_{B2} + \Delta_{B3}$
- C)  $\Delta_{C1} = \Delta_{C2} + \Delta_{C3}$  ✓
- D)  $\Delta_{D1} = \Delta_{D2} + \Delta_{D3}$  ✓
- E)  $\theta_{E1} = \theta_{E2} + \theta_{E3}$

ดังนั้น  $\Delta_{C1} - \Delta_{C2} - \Delta_{C3} = 0$   
 $\Delta_{D1} - \Delta_{D2} - \Delta_{D3} = 0$

$\therefore \Delta_{C1} = \Delta_{C2} + \Delta_{C3}$   
 $\Delta_{D1} = \Delta_{D2} + \Delta_{D3}$

ข้อที่ 30 :

Redundant ชุดใดไม่เหมาะสมในการเลือกเพื่อวิเคราะห์โครงสร้างต่อไปนี้



ข้อที่เกินเท่ากับ 3

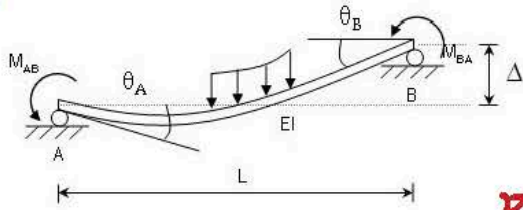
- 1:  $M_A, M_D, R_C$
  - 2:  $R_C, R_D, M_D$
  - 3:  $M_A, M_C, M_D$
  - 4:  $R_A, R_C, R_D$
- คำตอบที่ถูกต้อง : 4

1) เหมาะสม  
 2) เหมาะสม  
 3) ไม่เหมาะ เพราะไม่ใช่แรงปฏิกิริยา  
 4) ไม่เหมาะ = 3 ข้อ เพราะได้มากกว่า 3

ข้อที่ 31 :

ข้อ 31

ข้อใดคือสมการ Slope-Deflection ในการวิเคราะห์โครงสร้าง (หมายเหตุ: FEM = Fixed End Moment)



หลักการ

$$M = M_{\theta} + M_{\Delta} + FEM$$

$$M_{AB} = \frac{EI}{L} \left( 4\theta_A + 2\theta_B - 6\frac{\Delta}{L} \right) + FEM_{AB}$$

$$M_{BA} = \frac{EI}{L} \left( 2\theta_A + 4\theta_B - 6\frac{\Delta}{L} \right) + FEM_{BA}$$

1:

$$M_{AB} = \frac{EI}{L} \left( 4\theta_A + 2\theta_B - \frac{\Delta}{L} \right) + FEM_{AB}$$

$$M_{BA} = \frac{EI}{L} \left( 2\theta_A + 4\theta_B - \frac{\Delta}{L} \right) + FEM_{BA}$$

2:

$$M_{AB} = \frac{EI}{L} \left( \theta_A + \theta_B - \frac{\Delta}{L} \right) + FEM_{AB}$$

$$M_{BA} = \frac{EI}{L} \left( \theta_A + \theta_B - \frac{\Delta}{L} \right) + FEM_{BA}$$

3:

$$M_{AB} = \frac{EI}{L} \left( 2\theta_A + \theta_B - 3\frac{\Delta}{L} \right) + FEM_{AB}$$

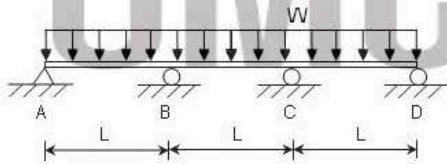
$$M_{BA} = \frac{EI}{L} \left( \theta_A + 2\theta_B - 3\frac{\Delta}{L} \right) + FEM_{BA}$$

4:

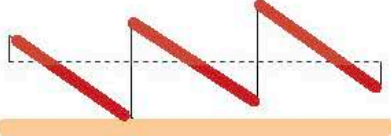
คำตอบที่ถูกต้อง : 1

ข้อที่ 32 :

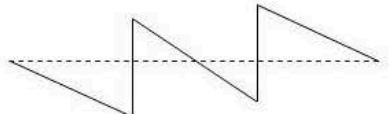
รูปร่าง Shear Force Diagram ของโครงสร้างนี้มีลักษณะเช่นใด



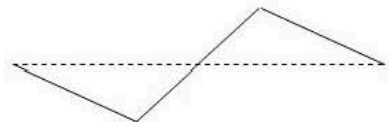
1:




2:



3:



4:



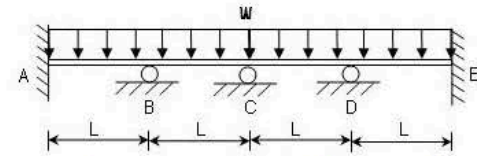
คำตอบที่ถูกต้อง : 1

ข้อที่ 33 :

1. แรงค้ำยันไม่เท่ากับ 0 ที่ Support  
 2. ไม่รองรับ มน. 110 องศา  
 3. เส้น 110 องศา มน. 2 เป็น เส้นตรง  
 4. กิ่งค้ำยัน



โมเมนต์ดัดที่มากที่สุดในการสร้างมีค่าเท่าใด



\* ระวังค่าที่  $wL^2$

- 1: 0
- 2:  $\frac{wL^2}{24}$
- 3:  $\frac{wL^2}{12}$
- 4:  $\frac{wL^2}{8}$

คำตอบที่ถูกต้อง : 3

0	0.5	0.5	0	0.5	0.5	0
$-\frac{1}{12}$	$+\frac{1}{12}$	$-\frac{1}{12}$	$+\frac{1}{12}$	$-\frac{1}{12}$	$+\frac{1}{12}$	$-\frac{1}{12}$
0	0	0	0	0	0	0
$-\frac{1}{12}$	$+\frac{1}{12}$	$-\frac{1}{12}$	$+\frac{1}{12}$	$-\frac{1}{12}$	$+\frac{1}{12}$	$-\frac{1}{12}$

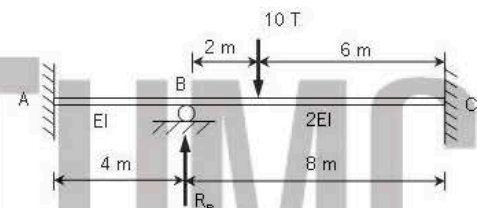
$\therefore M_{max} = \frac{wL^2}{12}$

ข้อที่ 34 :

จากการวิเคราะห์โครงสร้างเบื้องต้น ได้ค่าโมเมนต์ในส่วนโครงสร้างดังต่อไปนี้

$M_{AB} = -4.5 T.m, M_{BA} = -9 T.m, M_{BC} = 9 T.m, M_{CB} = -4.875 T.m$

ค่าแรงปฏิกิริยาที่จุดรองรับ B ( $R_B$ ) มีค่าเท่าใด



- 1: 3.375 T
- 2: 6.39 T
- 3: 7.5 T
- 4: 11.39 T

คำตอบที่ถูกต้อง : 4

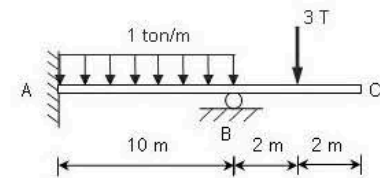
Check Moment

$\frac{1}{4} \sim \text{Clockwise}$      $\frac{2T}{8} \sim \text{Clockwise}$     K

0	0.5	0.5	0
$+\frac{45}{8}$	$-\frac{45}{4}$	$+\frac{15}{4}$	0
$+\frac{45}{16}$	$+\frac{45}{8}$	0	$+\frac{15}{16}$
0	0	0	0
$+2.813$	$+5.625$	$-5.625$	$+6.523$

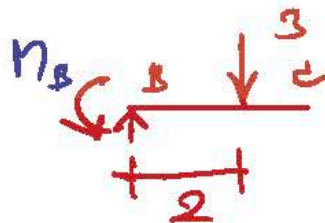
ข้อที่ 35 :

โมเมนต์ดัดภายในที่จุดรองรับ B มีค่าเท่าใด



- 1: 0
- 2: 3 T.m
- 3: 4.5 T.m
- 4: 6 T.m

คำตอบที่ถูกต้อง : 4

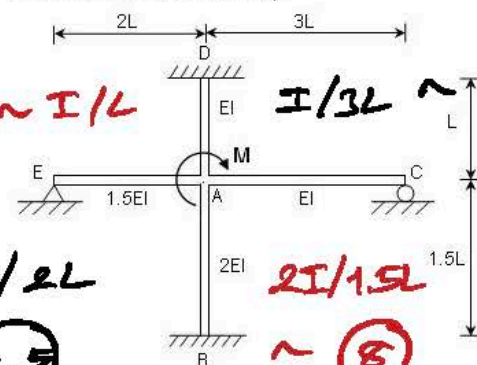


$\therefore M_B = -3(2) = 6 T.m$

(โมเมนต์ลบ)

ข้อที่ 36 :

ค่า End moment ค่าใดมีค่ามากที่สุด



$6 \sim I/L$   
 $1.5I/2L \sim 0.75$

$I/3L \sim 0.33$   
 $2I/1.5L \sim 1.33$   
 $\sim 8$

$\therefore DF = \frac{k}{\sum k}$

$\therefore DF_{AB}$  มีค่ามากที่สุด  
 คือได้โมเมนต์ที่มากที่สุด  
 การหา DF ไปที่ AB มากที่สุด

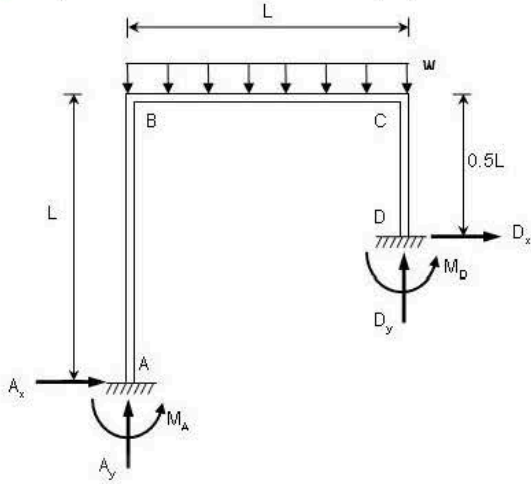
$\therefore M_{AB}$  มีค่ามากที่สุด



- 1:  $M_{AB}$
  - 2:  $M_{AC}$
  - 3:  $M_{AD}$
  - 4:  $M_{AE}$
- คำตอบที่ถูกต้อง : 1

ข้อที่ 37 :

ในวิธี Slope-Deflection นอกเหนือจากสมการสมดุลที่จุดต่อ ยังต้องการสมการใดเพิ่มเติมเพื่อสามารถวิเคราะห์โครงสร้างแบบ Side Sway ได้



สมการความยาวของโครงแบบ Side Sway = 0

$\sum F_{x0} = 0 = A_{x0} + D_{x0}$

- 1:  $M_{AB} + M_{DC} = 0$
  - 2:  $A_x + D_x = 0$
  - 3:  $M_A + M_D = 0$
  - 4:  $A_y + D_y = 0$
- คำตอบที่ถูกต้อง : 2

ข้อที่ 38 :

ตามที่ท่านได้ศึกษาการวิเคราะห์โครงสร้างที่เป็นโครงสร้างแบบ Determinate และโครงสร้างแบบ Indeterminate ท่านคิดว่าข้อใดเป็นข้อเสียของโครงสร้างแบบ Indeterminate

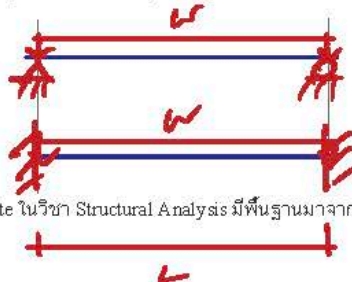
- 1: ความยาวของชิ้นส่วนมีความยาวเกินไปหรือสั้นเกินไปอาจมีปัญหากับการเสถียรของโครงสร้าง
  - 2: ความยาวของชิ้นส่วนมีความยาวเกินไปหรือสั้นเกินไปไม่มีปัญหากับการเสถียรของโครงสร้าง
  - 3: การเคลื่อนตัวเล็กน้อยไม่มีผลกระทบต่อโครงสร้าง
  - 4: โครงสร้างแบบ Indeterminate ปลอดภัยกว่า
- คำตอบที่ถูกต้อง : 1

ข้อที่ 39 :

ภายใต้แรงขนาดเท่ากันและกระทำที่ตำแหน่งเดียวกัน โครงสร้าง statically indeterminate จะมีหน่วยแรง (stress) สูงสุดเกิดขึ้นเป็นอย่างไร เมื่อเปรียบเทียบกับโครงสร้าง statically determinate ที่มีขนาดและรูปร่างเหมือนกันทุกประการ

- 1: มากกว่า
  - 2: น้อยกว่า
  - 3: มากกว่าหรือเท่ากับ
  - 4: น้อยกว่าหรือเท่ากับ
- คำตอบที่ถูกต้อง : 2

ข้อข้อ



$M_{max} = \frac{wL^2}{8}$

$f_b = \frac{M}{I}$

$M_{max} = \frac{wL^2}{12} \Rightarrow f_b$  น้อยกว่า

ข้อที่ 40 :

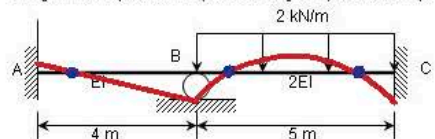
การวิเคราะห์โครงสร้าง statically indeterminate ในวิชา Structural Analysis มีพื้นฐานมาจากหลักการ principle of superposition ข้อใดต่อไปนี้เป็นข้อจำกัดข้อหนึ่งในการใช้หลักการดังกล่าว

- 1: จุดเชื่อมต่อของโครงสร้างเป็นจุดเชื่อมต่อแบบแกร็ง (rigid joint)
  - 2: ภายใต้แรงกระทำ วัสดุของโครงสร้างจะต้องมีพฤติกรรมแบบยืดหยุ่นเชิงเส้น
  - 3: การเปลี่ยนตำแหน่งที่เกิดขึ้นบนโครงสร้างต้องมีความาก
  - 4: ใช้ได้เฉพาะโครงสร้างจำพวกคาน และโครงสร้างแข็ง
- คำตอบที่ถูกต้อง : 2

อยู่ใต้อิทธิพล Elastic

ข้อที่ 41 :

จากรูป คานมีจุดดัดกลับ (inflection point) ทั้งหมดกี่จุด



- 1: 2 จุด
- 2: 3 จุด
- 3: 4 จุด

จุดดัดกลับ คือ จุดที่ค่าโมเมนต์เท่ากับศูนย์

4:5 จุด  
คำตอบที่ถูกต้อง : 2

ข้อที่ 42 :

จากรูป ถ้า flexural rigidity EI ของคานมีค่า 100,000 kN-m<sup>2</sup> และ  
คานมี slope เกิดขึ้นที่จุด B หรือ  $\theta_B$  มีค่า 0.0010 เรเดียน เนื่องจาก  
โมเมนต์ค้ำ  $M_{BA}$  จงหาค่า โมเมนต์ค้ำที่เกิดขึ้นที่จุด A



- 1: 20 kN-m
  - 2: 40 kN-m
  - 3: 60 kN-m
  - 4: 80 kN-m
- คำตอบที่ถูกต้อง : 1

$$M_{AB} = \frac{2EI}{L} (2\theta_A + \theta_B - 3\frac{\Delta}{L}) + FEM_{AB}$$

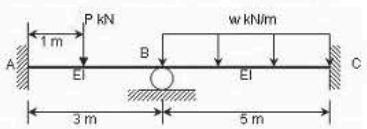
$$= 2EI\theta_B / L$$

$$= 2(100,000)(0.0010) / 10$$

$$= 20 \text{ kN-m}$$

ข้อที่ 43 :

จากรูป ถ้า flexural rigidity EI ของคานมีค่า 10,000 kN-m<sup>2</sup> และโมเมนต์ค้ำ  
 $M_{AB} = -9.252 \text{ kN-m}$  จงหามุม  $\theta_B$  ที่เกิดขึ้น เมื่อ fixed-end moment เนื่องจาก  
load P ที่ A มีค่า -8.888 kN-m และที่ B มีค่า +4.444 kN-m



- 1: 0.546/EI
  - 2: 27.21/EI
  - 3: -0.546/EI
  - 4: -27.21/EI
- คำตอบที่ถูกต้อง : 3

$$M_{AB} = \frac{2EI}{L} (2\theta_A + \theta_B - 3\frac{\Delta}{L}) + FEM_{AB}$$

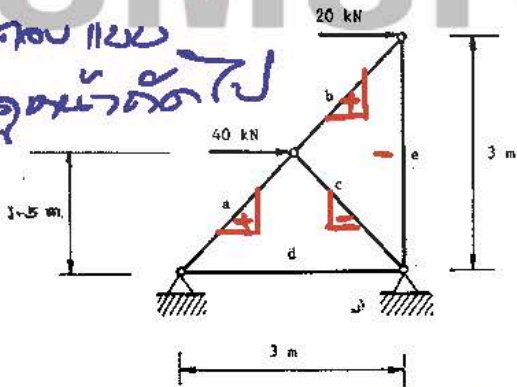
$$= \frac{2EI}{3} \theta_B - 8.888 = -9.252$$

$$\therefore \theta_B = \frac{3}{2EI} (-9.252 + 8.888) = -0.546/EI$$

ข้อที่ 44 :

ให้หา แรงภายใน ของ member ทุกตัว (a, b, c, d และ e) ในโครงสร้างต่อไปนี้

การหาตัวประกอบ  
จะเอาจุดจุดหน้าตัดไป



$\frac{L(m)}{A(cm^2)} = 2$   
E = Const.  
Figure 1.1

$20\sqrt{2} = 28.28$   
 $40\sqrt{2} = 56.56$

ถ้าใช้การประกอบจากจุดที่รวม  
จากจุดที่รวม การรับแรง  
แรงของของ แก้วคือรับแรง

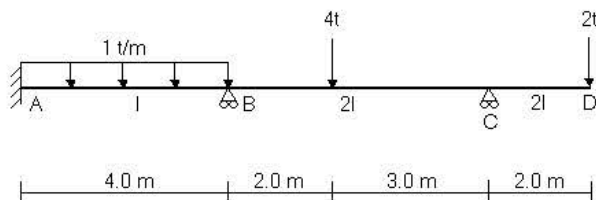
- a +
- b +
- c -
- d รับแรง
- e -

- X 1: 0, 28.28, 28.28, 20, -20 kN
  - X 2: 20, 28.28, 28.28, 20, -20 kN
  - X 3: -20, 28.28, 0, 20, -56.56 kN
  - 4: 56.56, 28.28, -28.28, 0, -20 kN
- คำตอบที่ถูกต้อง : 4

∴ เตาข้อด้านบน  
ข้อด้านบนที่ c และ  
e เป็นลบ ข้อข้อ 4

ข้อที่ 45 :

จากโครงสร้างดังรูป จงตอบคำถาม โดยวิธี Moment Distribution  
ค่า Modified Stiffness factor ของคานช่วง BC มีค่าเท่าใด



- 1:  $\frac{3EI}{5}$

$$K_{BC}^M = \frac{3EI}{L}$$

$$= \frac{3EI(2I)}{5}$$

$$= \frac{6EI}{5}$$



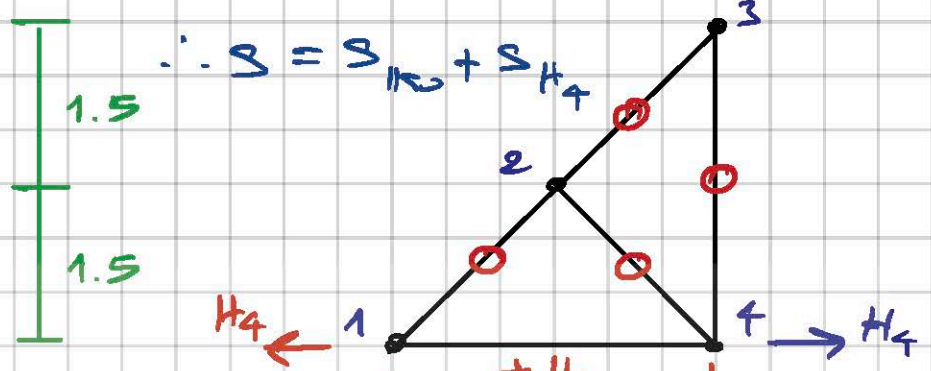
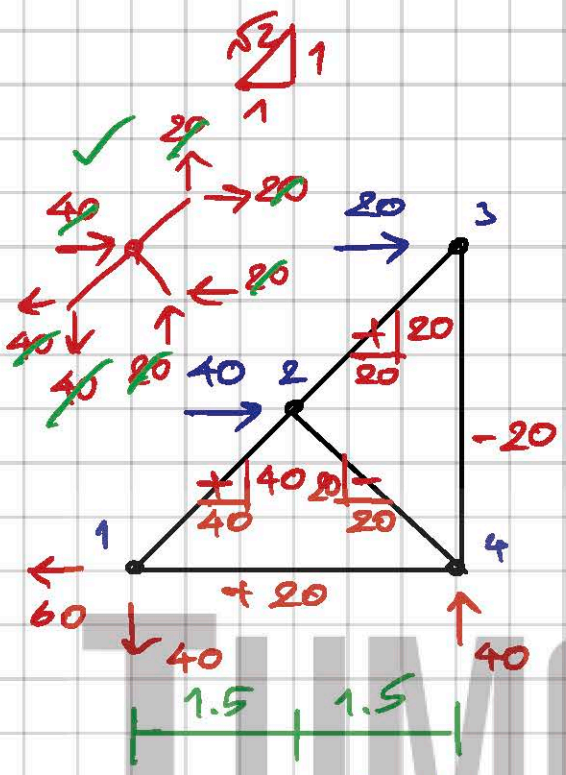
$m=5, r=4, j=4$

$\therefore m+r=9, 2j=8 : \Delta I = 9-8=1$

Least Work principle  $H_4$

$\Delta_{H_4} = 0 = \sum S \left( \frac{\partial S}{\partial H_4} \right) \frac{L}{AE}$

$S = S_{rod} + S_{H_4}$



$S = S_{rod} + S_{H_4}$

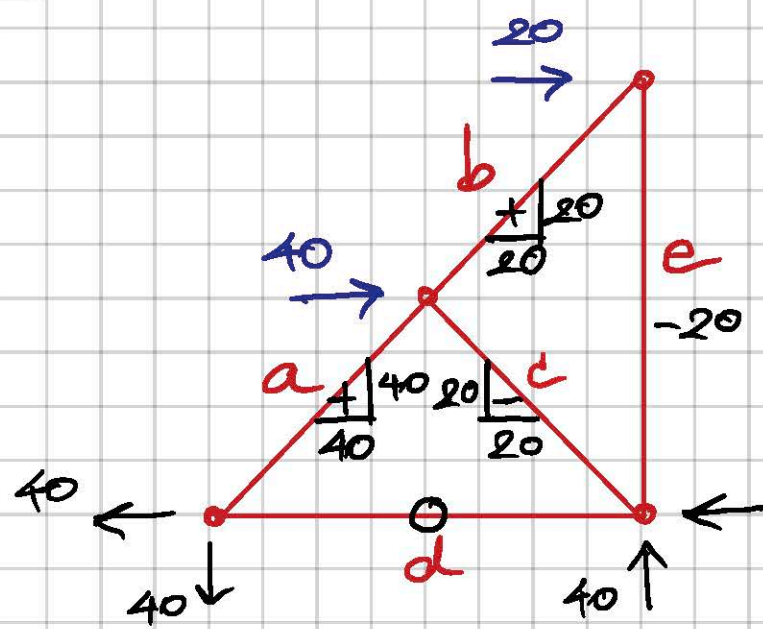
$\therefore \frac{\partial S}{\partial H_4} = 0$

$0 = S \left( \frac{\partial S}{\partial H_4} \right) \frac{L}{AE}$

$AE/L \sigma_{rod} : 0 = S \left( \frac{\partial S}{\partial H_4} \right)$

$(20 + H_4)(1) = 0 ; H_4 = -20 = 20 T \leftarrow$

Method of virtual work



$a = +40\sqrt{2} = 56.56$

$b = +20\sqrt{2} = 28.28$

$c = -20\sqrt{2} = -28.28$

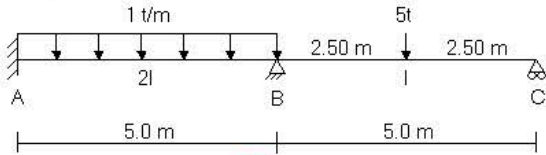
$d = 0$

$e = -20$

#

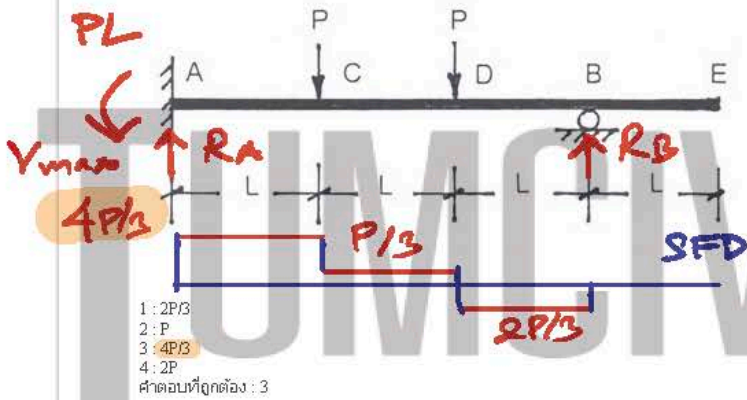
- 1:  $\frac{4EI}{5}$
  - 2:  $\frac{6EI}{5}$
  - 3:  $\frac{8EI}{5}$
  - 4:  $\frac{5EI}{5}$
- คำตอบที่ถูกต้อง : 3

ข้อที่ 46: คำนวณตั้งรูป คำนวณหาระนาโดย Method of Slope and Deflection ค่า Boundary Condition ข้อใดผิด



- 1:  $\theta_A = 0$
  - 2:  $M_{CB} = M_{BC}^F$  **x**
  - 3:  $M_{BA} + M_{BC} = 0$
  - 4: ไม่มีคำตอบที่ผิด
- คำตอบที่ถูกต้อง : 2
- $M_{CB}^F = + \frac{PL}{8}$   
 $M_C = 0$

ข้อที่ 47: จากโครงสร้างที่กำหนดให้ ซึ่งค่า EI คงที่ตลอด แรงเฉือนมากที่สุดมีค่าเท่ากัน



$\gamma_{047}$   
-  $\frac{1}{8}$  Moment Dist.  $\downarrow$   
ที่  $M_A$   
-  $M_{RA}, R_B$  จากสมการ  
สมดุล คำนวณค่าไม่ยาก

$V_{max}$

$$FEM_{AB} = -\frac{P(L)(2L)^2}{(3L)^2} - \frac{P(2L)(L)^2}{(3L)^2}$$

$$= -PL \left( \frac{4}{9} + \frac{2}{9} \right) = -2PL/3$$

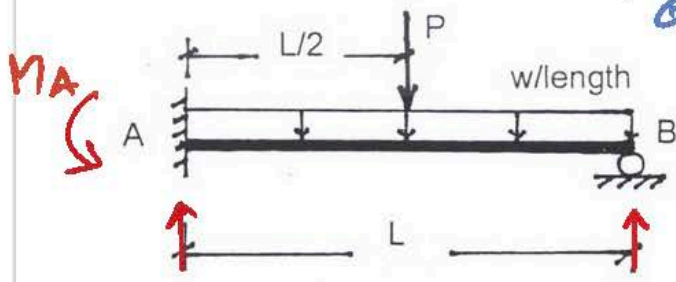
$$FEM_{BA} = +2PL/3$$

0	1
-2PL/3	+2PL/3
0	-2PL/3
-PL/3	0
0	0
-PL	0

$\therefore R_A = \frac{1}{3L} [PL + P(2L) + PL]$   
 $= 4P/3 \uparrow$

$R_B = P + P - 4P/3 = 2P/3 \uparrow$

ข้อที่ 48: จากโครงสร้างที่กำหนดให้ ซึ่งค่า EI คงที่ตลอด จงหาโมเมนต์ตัดที่จุด A กำหนดให้  $w = 1.0$  ตัน/เมตร  $P = 2$  ตัน  $L = 6$  เมตร



วิธี Moment Distribution

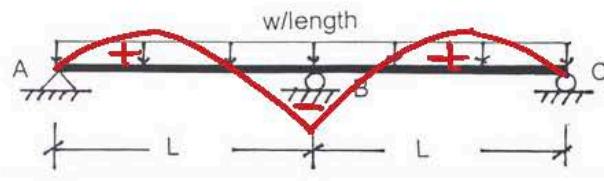
$$FEM_{AB} = -\frac{1(6)^2}{2} - \frac{2(6)}{3} = -4.5 \text{ T.m}$$

$$FEM_{BA} = +4.5 \text{ T.m}$$

0	1
-4.5	+4.5
0	-4.5
-2.25	0
0	0
-6.75	0

- 1: 2.25 ตัน-เมตร
  - 2: 4.50 ตัน-เมตร
  - 3: 6.75 ตัน-เมตร
  - 4: 7.50 ตัน-เมตร
- คำตอบที่ถูกต้อง : 3

ข้อที่ 49: คำนวณต่อเนื่อง 2 ช่วง มีหน้าตัดคงที่ รับน้ำหนัก ดังรูป ค่าโมเมนต์ตัดชนิดลบที่มากที่สุดจะอยู่ที่



$\therefore M_A = 0 = M_C$   
 $\therefore M$  ลบที่รองรับ  $M_{AB}$   
คือ  $M$  ที่รับน้ำหนัก

- 1: จุดรองรับ A หรือ C
- 2: จุดรองรับ B
- 3: จุดใดจุดหนึ่งระหว่างช่วง AB และ BC
- 4: ไม่มีข้อใดถูก

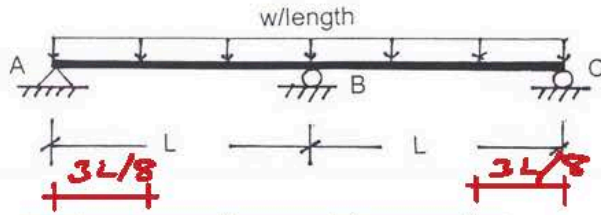


คำตอบที่ถูกต้อง : 2

50-51  $\therefore M_A = 0 = M_C$

ข้อที่ 50 :

คานต่อเนื่อง 2 ช่วง มีหน้าตัดคงที่ รับน้ำหนัก ดังรูป โมเมนต์ตัดชนิดบวกที่มากที่สุดจะอยู่ที่

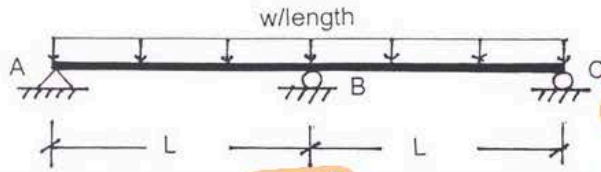


- 1: ตรงจุดที่ห่างจาก จุดรองรับ A หรือ C มากกว่าครึ่งหนึ่งของช่วง AB หรือ BC
- 2: ตรงจุดที่ห่างจาก จุดรองรับ A หรือ C มากกว่าครึ่งหนึ่งของช่วง AB หรือ BC
- 3: ตรงจุดรองรับ A หรือ C
- 4: ตรงกึ่งกลางค่าของช่วง AB และ BC

คำตอบที่ถูกต้อง : 1

ข้อที่ 51 :

คานต่อเนื่อง 2 ช่วง มีหน้าตัดคงที่ รับน้ำหนัก ดังรูป จงหาค่าแรงเฉือนมากที่สุด



- 1: 3wL/8
- 2: wL/2
- 3: 5wL/8
- 4: 5wL/4

คำตอบที่ถูกต้อง : 3

Three Moment Eq.  $M_A$  &  $M_B$

$$2M_B(2L) = -\frac{wL^3}{4} - \frac{wL^3}{4} = -\frac{wL^3}{2}$$

$$M_B = -\frac{wL^3}{2} \cdot \frac{1}{4L} = -\frac{wL^2}{8}$$

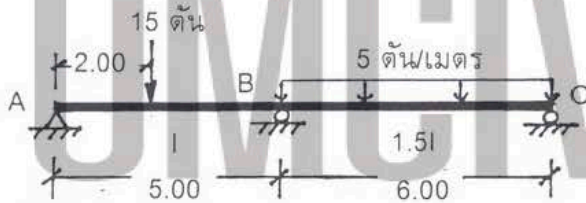
50)

$M_{max}^+$  เกิดขึ้นที่ตำแหน่ง  $v=0$  ซึ่งเท่ากับ

$$\frac{3wL}{8} \cdot \frac{1}{w} = \frac{3L}{8} \text{ (จากช่วง AB หรือ BC)}$$

ข้อที่ 52 :

คานต่อเนื่อง 2 ช่วง แต่ละช่วงมีหน้าตัดไม่คงที่ รับน้ำหนัก ดังรูป จงหาค่าโมเมนต์ตัดชนิดบวกที่มากที่สุดในช่วง AB

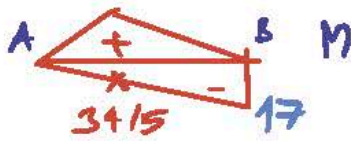


- 1: 6.8 ตัน-เมตร
- 2: 11.2 ตัน-เมตร
- 3: 15.4 ตัน-เมตร
- 4: 18.0 ตัน-เมตร

คำตอบที่ถูกต้อง : 2

Three Moment Eq.

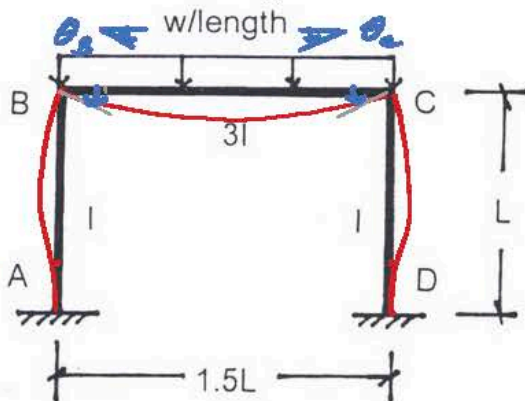
$$2M_B \left( \frac{5}{1} + \frac{6}{1.51} \right) = -\frac{15(2)}{EI} (5 - 2^2) - \frac{5(6)^3}{4(1.51)}$$

$$M_B = -306 / [2(9)] = -17$$


$$\therefore M_{max}^+ \text{ ช่วง AB} = 18 - \frac{34}{5} = 11.2$$

ข้อที่ 53 :

โครงข้อแข็ง ABCD รับน้ำหนัก ดังรูป จะเห็นว่าเป็นโครงเฟรมที่สมมาตรและรับน้ำหนักที่สมมาตรด้วย ดังนั้น จงเลือกคำตอบที่ถูกต้องที่สุด



- 1: มุมหมุนที่จุด B เท่ากับมุมหมุนที่จุด C และหมุนในทิศทางเดียวกัน
- 2: มุมหมุนที่จุด B เท่ากับมุมหมุนที่จุด C แต่หมุนในทิศทางตรงกันข้าม
- 3: โครงเฟรมไม่มีการเฉือน และมุมหมุนที่จุด B เท่ากับที่จุด C และมีทิศทางเดียวกัน
- 4: โครงเฟรมไม่มีการเฉือน และมุมหมุนที่จุด B เท่ากับที่จุด C และมีทิศทางตรงกันข้าม

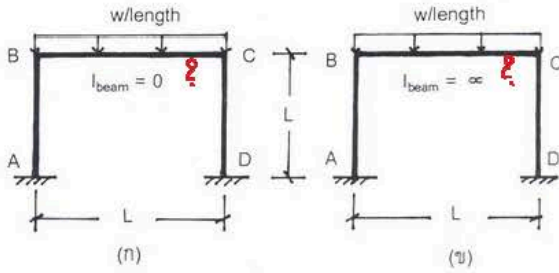
คำตอบที่ถูกต้อง : 4

\*  $M_{max}^+$  เกิดขึ้นที่ตำแหน่ง  $v=0$

จากข้อ 52 คือ  $M_{max}^+$  ที่  $v=0$

ข้อที่ 54 :

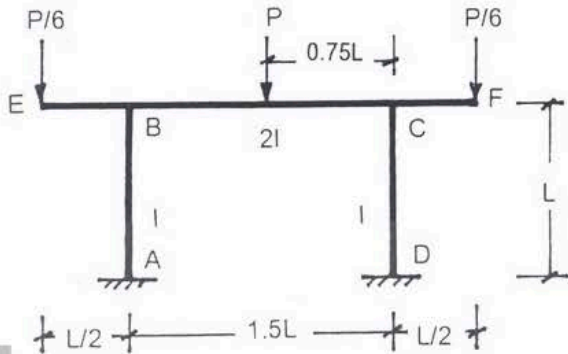
มีโครงข้อแข็ง ABCD 2 โครง คือ โครง (ก) และ (ข) ซึ่งมีขนาดและความยาวของเสาเท่ากัน ความยาวของคานเท่ากัน และน้ำหนักบรรทุกทุกบนคานมีค่าเท่ากัน แต่คานในโครง (ก) มีโมเมนต์อินเนอร์เซียน้อยกว่าคานในโครง (ข) ดังนั้น จะพบว่า



- 1: เสาของโครง (ก) รับแรงอัดตามแนวแกนได้เท่ากับกับเสาของโครง (ข)
  - 2: เสาของโครง (ก) รับแรงอัดตามแนวแกนได้น้อยกว่าเสาของโครง (ข)
  - 3: เสาของโครง (ก) รับแรงอัดตามแนวแกนได้มากกว่าเสาของโครง (ข)
  - 4: ไม่มีข้อใดถูก
- คำตอบที่ถูกต้อง : 1

ข้อที่ 55 :

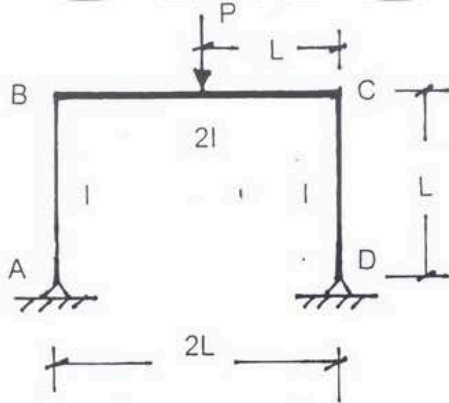
โครงข้อแข็ง ABCD รับน้ำหนัก ดังรูป จะพบว่าเสาในโครงเฟรม



- 1: รับแรงอัดและโมเมนต์ตัดซึ่งทำให้เสาโก่งทางเดียว
  - 2: รับแรงอัดและโมเมนต์ตัดซึ่งทำให้เสาโก่งสองทาง มีจุดตัดสลับห่างจากจุด A เท่ากับ  $L/2$
  - 3: รับแรงอัดและโมเมนต์ตัดซึ่งทำให้เสาโก่งสองทาง มีจุดตัดสลับห่างจากจุด A เท่ากับ  $L/3$
  - 4: รับแรงอัดและโมเมนต์ตัดซึ่งทำให้เสาโก่งสองทาง มีจุดตัดสลับห่างจากจุด A เท่ากับ  $L/4$
- คำตอบที่ถูกต้อง : 3

ข้อที่ 56 :

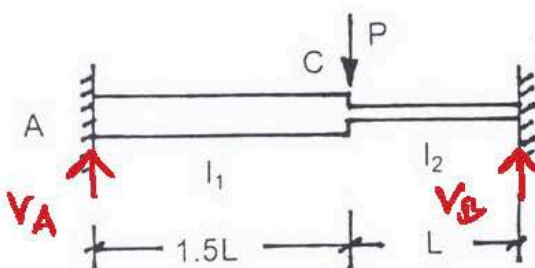
โครงข้อแข็ง ABCD รับน้ำหนัก ดังรูป จงหาค่าโมเมนต์ตัด  $M_{BC}$  กำหนดให้  $P=5$  ตัน  $L=4$  เมตร



- 1: 4.00 ตัน-เมตร
  - 2: 3.00 ตัน-เมตร
  - 3: 2.00 ตัน-เมตร
  - 4: 1.00 ตัน-เมตร
- คำตอบที่ถูกต้อง : 2

ข้อที่ 57 :

ในการวิเคราะห์หาค่า ACB ซึ่งมีหน้าตัดไม่คงที่ โดยวิธี slope-deflection ต้องใช้สมการสมดุลทั้งหมด คือ



วิธีทำข้อ 55, 56 อยู่หน้าถัดไป

ข้อ 57

11.60 ตัน

\* แยกคานเป็น  $\Delta_{AC}$  และ  $\Delta_{CB}$

เขียนสมการ  $M_{AC}, M_{CA}, M_{CB}$  และ  $M_{BC}$

\* คัดโองาหนดค่า  $\theta_C$  และ  $\Delta_C$

(ซึ่ง  $\Delta_C$  แบ่งได้เป็น  $\Delta_{CA}$  และ  $\Delta_{CB}$ )

\* ดังนั้น สมการสมดุล  $\Sigma$  สมการ

$$\Sigma M_C = 0 = M_{CA} + M_{CB} \quad \text{--- ①}$$

$$\Sigma V = 0 = V_A + V_B - P \quad \text{--- ②}$$

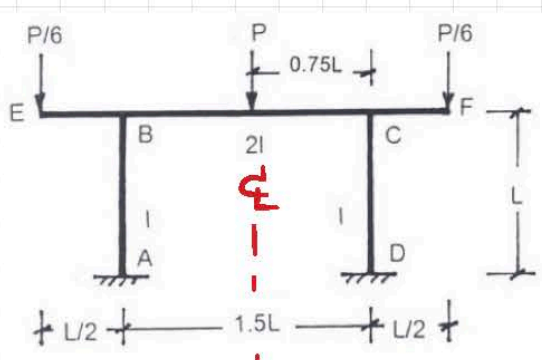
\* แปลง  $V_A, V_B$  ที่อยู่ในรูป

$M_{AC}, M_{CA}, M_{CB}$  และ  $M_{BC}$





55) រកទំហំការងារកែប្រែនៃកម្រិតកម្លាំង

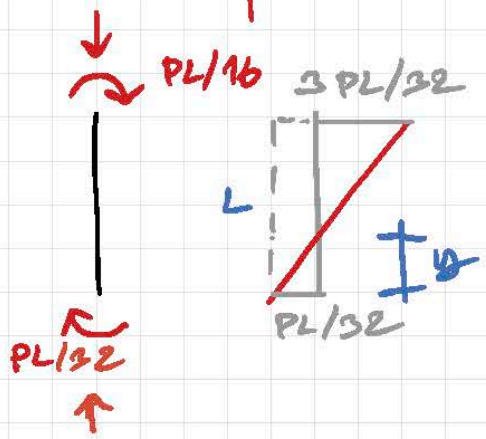


$\frac{9}{8} K^M = \frac{1}{2} K$  កែប្រែនៃកម្រិតកម្លាំង

$M_{BE} = + \frac{P}{6} \left( \frac{L}{2} \right) = + PL/12$

$FEM_{BC} = - P(1.5L)/8 = - 3PL/16$

$I/L \sim 1$        $2I/1.5L \sim 4/3$   
 $(1/2)(4/3) = 2/3$



0	$3/5$	$2/5$							
			$-3PL/16$						
$+PL/32$	0	0	$+PL/24$						
0	0	0							
$+PL/32$	$+PL/16$	$-7PL/48$	$+PL/16$	$-7PL/48$	$+PL/32$				Final Moments

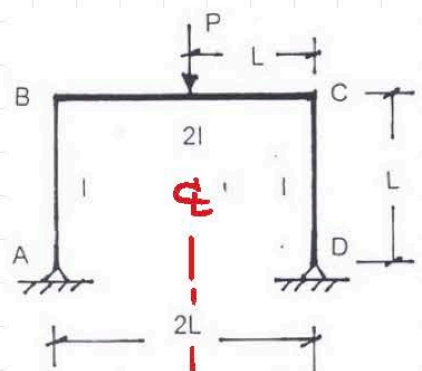
$\frac{y}{PL/32} = \frac{L}{3PL/32}$

Check:  $\sum M_B = 0$

$y = \frac{PL/32}{3PL/32} \cdot \frac{22L}{3PL} = L/3$        $= + \frac{PL}{12} + \frac{PL}{16} - \frac{7PL}{48} \checkmark$

∴ កែប្រែនៃកម្រិតកម្លាំង (កម្រិតកម្លាំង AB និង DC) គឺស្មើគ្នា គឺ  $L/3$

56) រក  $M_{BC}$



រកទំហំការងារកែប្រែនៃកម្រិតកម្លាំង

$\frac{9}{8} K^M = \frac{1}{2} K$  កែប្រែនៃកម្រិតកម្លាំង

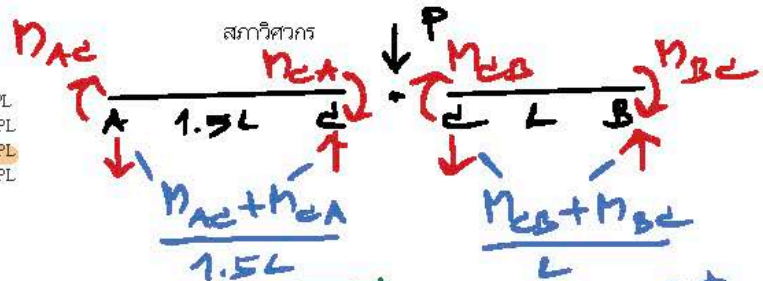
$I/L \sim 1$        $2I/2L \sim 1$   
 $(3/4)(1) = 3/4$        $(1/2)(1) = 1/2$

A	1	$3/5$	$2/5$						
	0			$-5$					
	0	$+3$	$+2$						
	0	$+3$	$-3$			$+3$	$-3$		Final Moments

$P = 5T, L = 4m$   
 $\therefore FEM_{BC} = - \frac{5[2(4)]}{8} = -5T \cdot m$

$\therefore M_{BC} = -3T \cdot m$

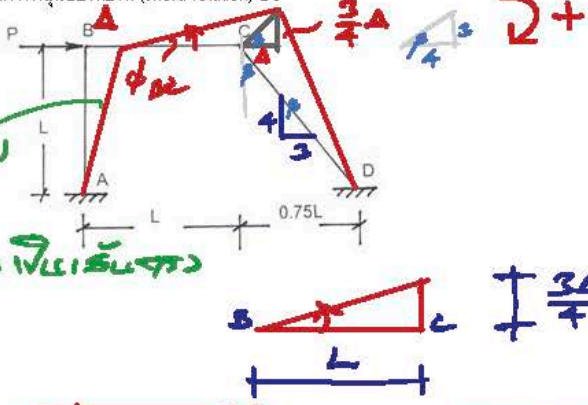
- 1:  $M_{CA} + M_{CB} = 0$  และ  $3(M_{AB} + M_{BA}) + 2(M_{CB} + M_{BC}) = 3PL$
  - 2:  $M_{CA} + M_{CB} = 0$  และ  $3(M_{AB} + M_{BA}) - 2(M_{CB} + M_{BC}) = 3PL$
  - 3:  $M_{CA} + M_{CB} = 0$  และ  $3(M_{CB} + M_{BC}) - 2(M_{AB} + M_{BA}) = 3PL$
  - 4:  $M_{CA} + M_{CB} = 0$  และ  $3(M_{CB} + M_{BC}) + 2(M_{AB} + M_{BA}) = 3PL$
- คำตอบที่ถูกต้อง : 3



ข้อที่ 58 :

โครงสร้าง ABCD รับน้ำหนัก ดังรูป เมื่อสมมติว่าระยะเคลื่อนที่ในแนวราบของจุด B และจุด C ไปทางขวามีค่าเท่ากับ  $\Delta$  จงหาค่าการหมุนของคอร์ด (chord rotation) BC

∵  $\Delta_B = \Delta_C$   
 ได้รับความเค้นรูป  
 แบบคานว่า  
 ชิ้นส่วนทั้งสองเป็นเส้นตรง



- 1:  $+4\Delta/3L$
  - 2:  $-4\Delta/3L$
  - 3:  $+3\Delta/4L$
  - 4:  $-3\Delta/4L$
- คำตอบที่ถูกต้อง : 4

∴  $\phi_{BC} = -\frac{3\Delta}{4L}$

∵ จาก  $\sum V = 0$   

$$-\frac{M_{AC} + M_{CA}}{1.5L} + \frac{M_{CB} + M_{BC}}{L} - P = 0$$

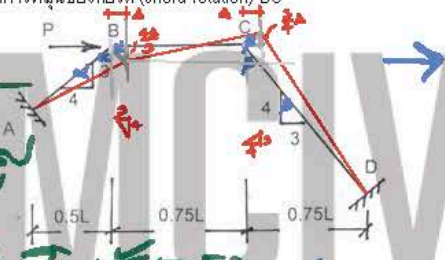
$$3L(9\Delta/12) - 2(M_{AC} + M_{CA}) + 3(M_{CB} + M_{BC}) - 3PL = 0$$

$3(M_{CB} + M_{BC}) - 2(M_{AC} + M_{CA}) = 3PL$

ข้อที่ 59 :

โครงสร้าง ABCD รับน้ำหนัก ดังรูป เมื่อสมมติว่าระยะเคลื่อนที่ในแนวราบของจุด B และจุด C ไปทางขวามีค่าเท่ากับ  $\Delta$  จงหาค่าการหมุนของคอร์ด (chord rotation) BC

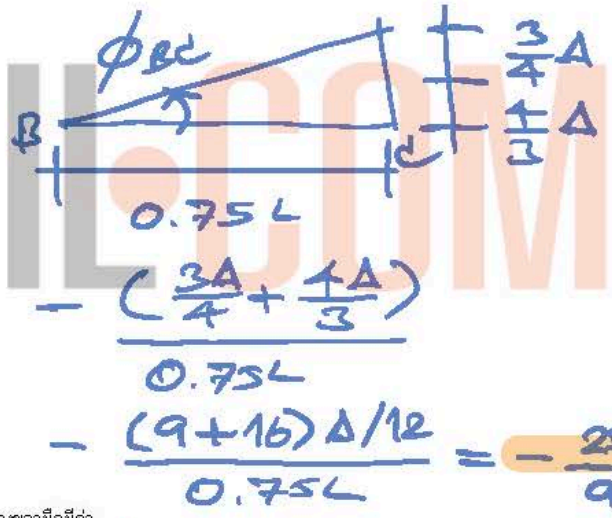
ได้รับความเค้นรูป  
 แบบคานว่า  
 ชิ้นส่วนทั้งสองเป็นเส้นตรง



- 1:  $-8\Delta/3L$
  - 2:  $-25\Delta/9L$
  - 3:  $-16\Delta/9L$
  - 4:  $-\Delta/L$
- คำตอบที่ถูกต้อง : 2

∴  $\phi_{BC} = -\frac{(\frac{3\Delta}{4} + \frac{\Delta}{3})}{0.75L}$   

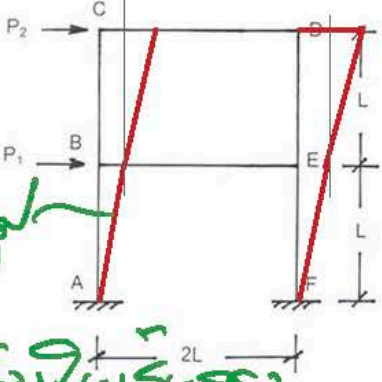
$$= -\frac{(9+16)\Delta/12}{0.75L} = -\frac{25\Delta}{9L}$$




ข้อที่ 60 :

โครงสร้าง รับน้ำหนัก ดังรูป เมื่อสมมติว่าระยะเคลื่อนที่ในแนวราบของจุด B และจุด E ไปทางขวามีค่าเท่ากับ  $\Delta_1$  และสมมติว่าระยะเคลื่อนที่ในแนวราบของจุด C และจุด D ไปทางขวามีค่าเท่ากับ  $\Delta_2$  โดยที่ค่า  $\Delta_2$  มากกว่าค่า  $\Delta_1$  จงหาค่าการหมุนของคอร์ด (chord rotation) BC

ได้รับความเค้นรูป  
 แบบคานว่า  
 ชิ้นส่วนทั้งสองเป็นเส้นตรง



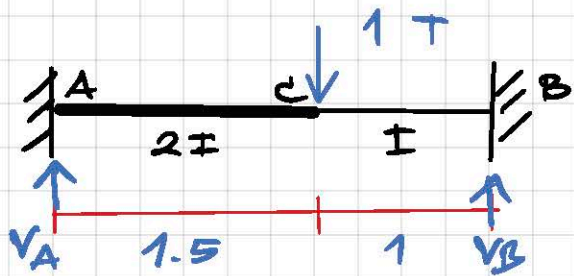
∴  $\phi_{BC} = +\frac{\Delta_2 - \Delta_1}{L}$



- 1:  $+\Delta_1/L$
  - 2:  $+(\Delta_1 + \Delta_2)/L$
  - 3:  $+(\Delta_2 - \Delta_1)/L$
  - 4:  $+(\Delta_1 - \Delta_2)/L$
- คำตอบที่ถูกต้อง : 3


ข้อที่ 61 :





$$\theta_A = 0 = \theta_B$$

$$FEM_{AC} = FEM_{CA} = FEM_{CB} = FEM_{BC} = 0$$



$$M_{AC} = \frac{2E(2I)}{1.5} (2\theta_A + \theta_C - 3 \frac{\Delta}{1.5}) + 0 = \frac{8EI\theta_C}{3} - \frac{16EI\Delta}{3}$$

$$M_{CA} = \frac{4EI}{1.5} (\theta_A + 2\theta_C - \frac{3\Delta}{1.5}) + 0 = \frac{16EI\theta_C}{3} - \frac{16EI\Delta}{3}$$

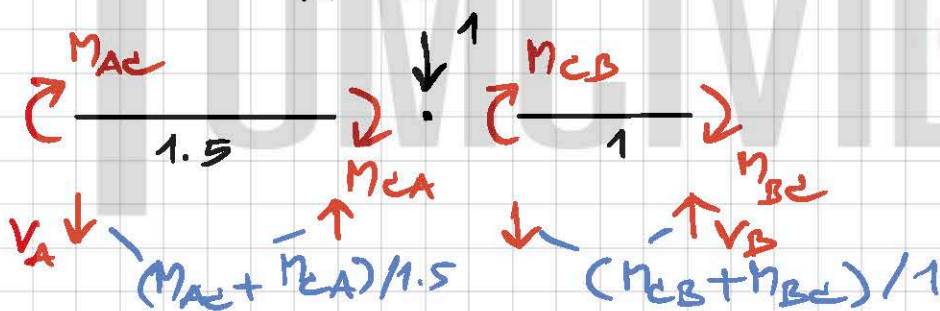
$$M_{CB} = \frac{2EI}{1} (2\theta_C + \theta_B - 3 \frac{\Delta}{1}) + 0 = 4EI\theta_C + 6EI\Delta$$

$$M_{BC} = 2EI (\theta_C + 2\theta_B + 3\Delta) + 0 = 2EI\theta_C + 6EI\Delta$$

$$\sum M_C = 0 = M_{CA} + M_{CB} = (\frac{16EI\theta_C}{3} - \frac{16EI\Delta}{3}) + (4EI\theta_C + 6EI\Delta)$$

$$\frac{28}{3} EI\theta_C + \frac{2}{3} EI\Delta = 0 \quad (1)$$

$$\sum V = 0 = V_A + V_B - 1 \quad (2)$$



$$\therefore \text{from } (2); -[(M_{AC} + M_{CA})/1.5] + (M_{CB} + M_{BC}) - 1 = 0$$

$$-\frac{1}{1.5} \left[ \left( \frac{8EI\theta_C}{3} - \frac{16EI\Delta}{3} \right) + \left( \frac{16EI\theta_C}{3} - \frac{16EI\Delta}{3} \right) \right] +$$

$$\left[ (4EI\theta_C + 6EI\Delta) + (2EI\theta_C + 6EI\Delta) \right] = 1$$

$$-\frac{1}{1.5} (8EI\theta_C - \frac{32EI\Delta}{3}) + (6EI\theta_C + 12EI\Delta) = 1$$

$$\frac{2}{3} EI\theta_C + \frac{172}{9} EI\Delta = 1 \quad (3)$$

$$\therefore EI\theta_C = -9/2402$$

$$EI\Delta = 63/1201$$

$$\therefore M_{AC} = \frac{8}{3} \left( -\frac{9}{2402} \right) - \frac{16}{3} \left( \frac{63}{1201} \right) = -\frac{348}{1201} = -0.290 \text{ T.m}$$

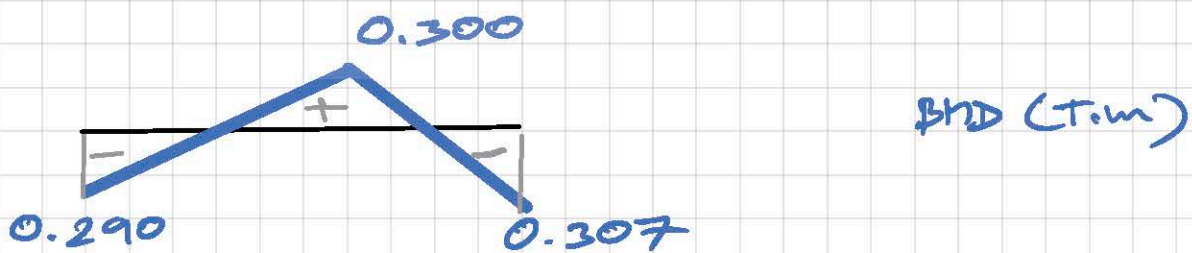
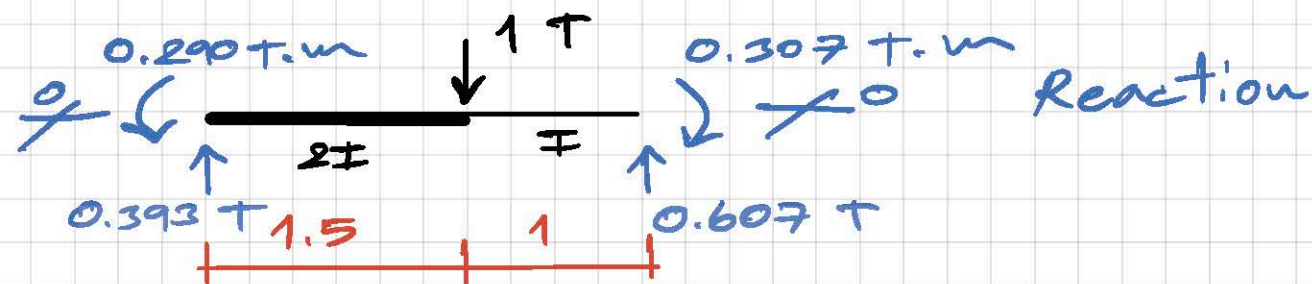
$$M_{CA} = \frac{16}{3} \left( -\frac{9}{2402} \right) - \frac{16}{3} \left( \frac{63}{1201} \right) = -\frac{360}{1201} = -0.300$$

$$M_{CB} = 4 \left( -\frac{9}{2402} \right) + 6 \left( \frac{63}{1201} \right) = +\frac{360}{1201} = 0.300$$

$$M_{BC} = 2 \left( -\frac{9}{2402} \right) + 6 \left( \frac{63}{1201} \right) = +\frac{369}{1201} = 0.307$$

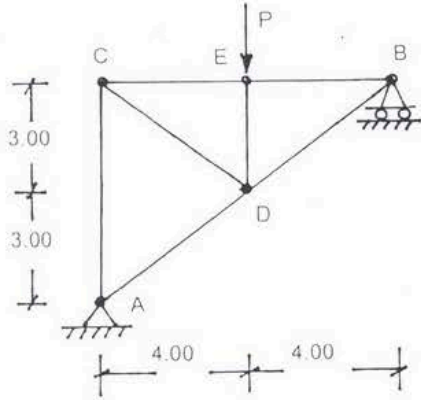
$$V_A = \frac{1}{1.5} \left( -\frac{348}{1201} - \frac{360}{1201} \right) = -\frac{472}{1201} = 0.393 \text{ T} \uparrow$$

$$V_B = \left( \frac{360}{1201} + \frac{369}{1201} \right) = +\frac{729}{1201} = 0.607 \text{ T} \uparrow$$



**ข้อที่ 61**

โครงสร้างหมอนรับน้ำหนัก  $P$  ดังรูป ถ้าสมมติให้ทุกชิ้นส่วนมีค่า  $L/AE$  คงที่ จะพบว่าจุด  $B$  เคลื่อนที่ไปทางขวามือในแนวระดับเป็นระยะเท่ากับ  $25PL/24AE$  จงหาค่าแรงดันในแนวระดับเพื่อมิให้จุด  $B$  เคลื่อนที่

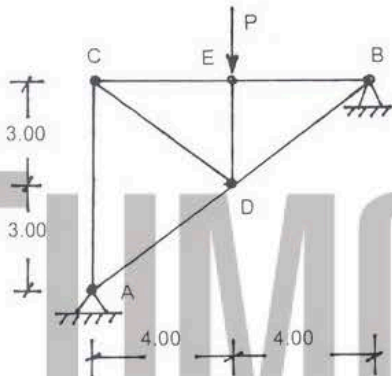


*ดูวิธีทำหน้าถัดไป*

- 1:  $P/2$
  - 2:  $P/3$
  - 3:  $P/4$
  - 4:  $P/6$
- คำตอบที่ถูกต้อง : 2

**ข้อที่ 62 :**

โครงสร้างหมอนรับน้ำหนัก  $P = 4.5$  ตัน ดังรูป จงหาค่าแรงปฏิกิริยาในแนวระดับที่จุด  $B$  สมมติให้ทุกชิ้นส่วนมีค่า  $L/AE$  คงที่

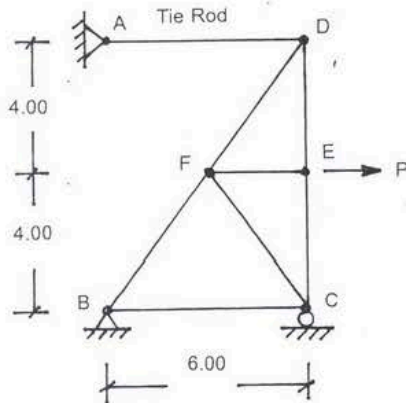


*ดูวิธีทำหน้าถัดไป*

- 1: 2.00 ตัน
  - 2: 1.50 ตัน
  - 3: 1.00 ตัน
  - 4: 0.75 ตัน
- คำตอบที่ถูกต้อง : 2

**ข้อที่ 63 :**

โครงสร้างหมอนมีท่อนเหล็ก  $AD$  ยึดไว้ที่จุด  $D$  และรับน้ำหนัก  $P = 3640$  กก. ที่จุด  $E$  ดังรูป เมื่อพิจารณาให้แรงดึงในท่อนเหล็กเป็นตัว redundant และสมมติให้ทุกชิ้นส่วนมีค่า  $L/AE$  คงที่ (หน่วยเป็น ซม./กก.) จะพบว่าระยะเคลื่อนที่สัมพัทธ์ของท่อนเหล็กมีค่าเท่ากับ  $45500L/9AE$  ซม. จงหาค่าแรงดึงในท่อนเหล็กนี้เพื่อให้ระยะเคลื่อนที่สัมพัทธ์ของท่อนเหล็กมีค่าเป็นศูนย์



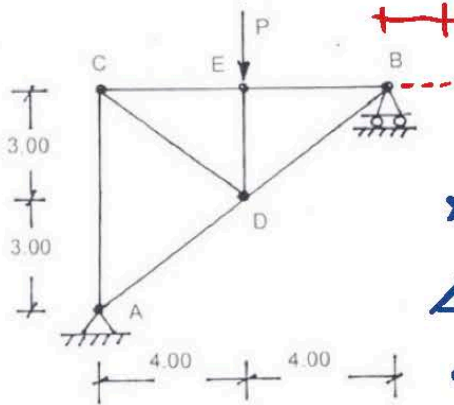
*ดูวิธีทำหน้าถัดไป*

- 1: 1420 กก.
  - 2: 710 กก.
  - 3: 500 กก.
  - 4: 250 กก.
- คำตอบที่ถูกต้อง : 3

**ข้อที่ 64 :**

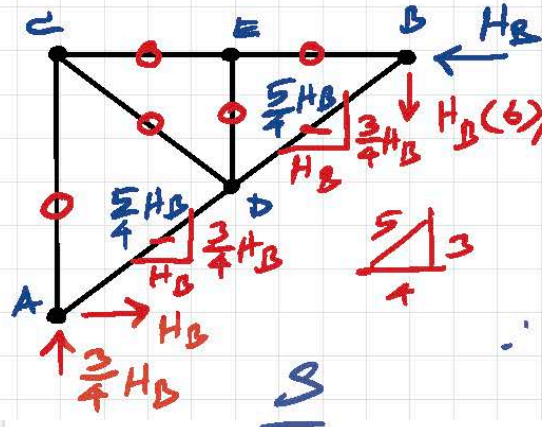


ข้อ 61 โครงข้อหมัน รับน้ำหนัก P ดังรูป ถ้าสมมติให้ทุกชิ้นส่วนมีค่า L/AE คงที่ จะพบว่าจุด B เคลื่อนที่ไปทางขวามือในแนวระดับเป็นระยะเท่ากับ 25PL/24AE จงหาค่าแรงดันในแนวระดับเพื่อมิให้จุด B เคลื่อนที่



$\rightarrow + 25PL/24AE$

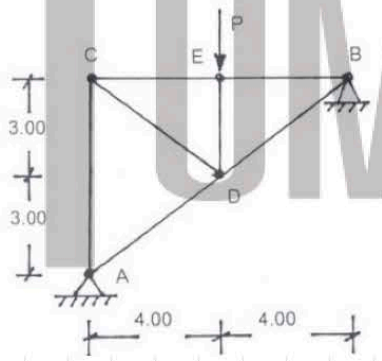
$\therefore H_B$  จะเคลื่อนที่ไปทาง  $\Delta = 25PL/24AE \leftarrow$   
 หา  $\Delta_B$  นี้มาจาก  $H_B$  โดยวิธีของ Castigliano  
 $\Delta_B = \sum S \left( \frac{\partial S}{\partial H_B} \right) L/AE = 25PL/24AE$   
 จากที่  $S$  คือแรงภายในชิ้นส่วนใดก็ตามที่มาจาก  $H_B$



$\therefore \Delta_B = 2 \left[ \left( \frac{5}{4} H_B \right) \left( \frac{5}{4} \right) \frac{L}{AE} \right] = \frac{25PL}{24AE}$   
 $\frac{25}{8} H_B \cdot \frac{L}{AE} = \frac{25P}{24} \cdot \frac{L}{AE}$

$\therefore H_B = \frac{25P}{24} \cdot \frac{8}{25} = \frac{P}{3} \leftarrow$

ข้อที่ 62: โครงข้อหมัน รับน้ำหนัก P = 4.5 ตัน ดังรูป จงหาค่าแรงปฏิกิริยาในแนวระดับที่จุด B สมมติให้ทุกชิ้นส่วนมีค่า L/AE คงที่

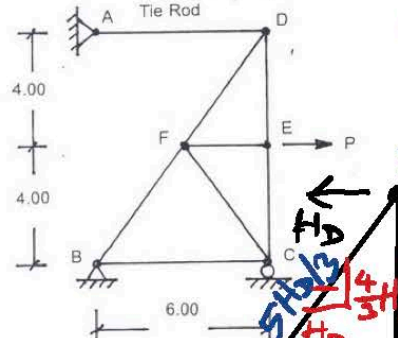


โครงสร้างข้อนี้ก็คือ โครง  $\rightarrow$  หรือ  $\rightarrow$  ที่เห็นในแนวระดับ  
 ที่จุด B มาจากข้อ 61 นี้แหละ คือ มาจาก  
 support จาก roller เป็น hinge

$\therefore H_B = \frac{P}{3}$  (จากข้อ 61)

เมื่อ  $P = 4.5 \text{ T}$ ;  $H_B = \frac{4.5}{3} = 1.5 \text{ T} \leftarrow$

ข้อที่ 63: โครงข้อหมันมีท่อนเหล็ก AD ยึดไว้ที่จุด D และรับน้ำหนัก P = 3640 กก. ที่จุด E ดังรูป เมื่อพิจารณาให้แรงดึงในท่อนเหล็กเป็นตัว redundant และสมมติให้ทุกชิ้นส่วนมีค่า L/AE คงที่ (หน่วยเป็น ซม./กก.) จะพบว่าระยะเคลื่อนที่สัมพัทธ์ของท่อนเหล็กมีค่าเท่ากับ 45500L/9AE ซม. จงหาค่าแรงดึงในท่อนเหล็กนี้เพื่อให้ระยะเคลื่อนที่สัมพัทธ์ของท่อนเหล็กมีค่าเป็นศูนย์



66 แยกเอาได้มาจาก ข้อ 61 คือ

$\Delta$  นี้มาจาก  $P = \Delta$  ที่มาจาก  $H_D = 45500L/9AE$

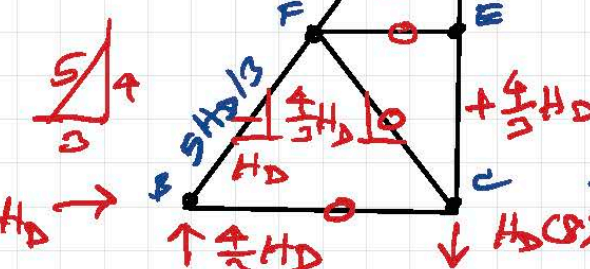
$\therefore \Delta_{H_D} = \sum S \left( \frac{\partial S}{\partial H_D} \right) \frac{L}{AE} = \frac{45500L}{9AE}$

$\sum S \left( \frac{\partial S}{\partial H_D} \right) = 45500/9$

$2 \left[ \left( -5H_D/3 \right) \left( -5/3 \right) + \left( 4H_D/3 \right) \left( 4/3 \right) \right] = \frac{45500}{9}$

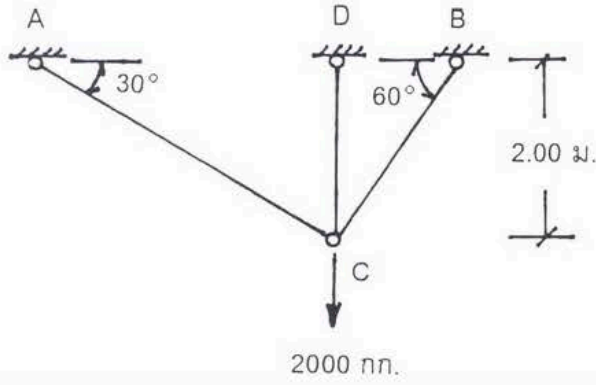
$82H_D/9 = 45500/9$

$\therefore H_D = (45500/9) (9/82) = 555 \text{ kg} \approx 500 \text{ kg}$





เมื่อต่อยึดชิ้นส่วนรับแรงตามแนวแกน ดังรูป เพื่อรับน้ำหนัก  $P = 2000$  กก. ที่จุด C จงหาค่าแรงดึงในชิ้นส่วน AC สมมติให้ทุกชิ้นส่วนมีค่า  $L/AE$  ดังที่

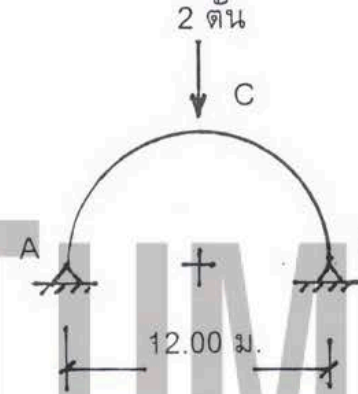


500

- 1: 500 กก.
  - 2: 1000 กก.
  - 3: 1500 กก.
  - 4: 2000 กก.
- คำตอบที่ถูกต้อง : 4

ข้อที่ 65 :

โครงสร้างวงกลมกลมมีหน้าตัดคงที่ รัศมีเท่ากับ 6 เมตร รับน้ำหนัก ดังรูป จงหาแรงดันในแนวระดับที่จุด A หรือที่จุด B

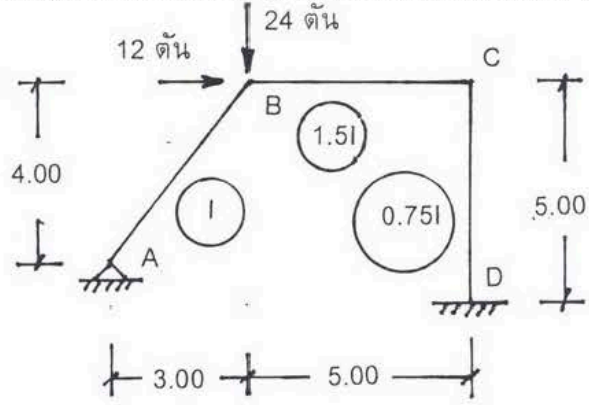


ดูวิธีทำ 2 หน้าถัดไป

- 1:  $1/\pi$  ตัน
  - 2:  $2/\pi$  ตัน
  - 3:  $3/\pi$  ตัน
  - 4:  $4/\pi$  ตัน
- คำตอบที่ถูกต้อง : 2

ข้อที่ 66 :

ถ้าต้องการวิเคราะห์โครงสร้างที่เข้ได้ ดังรูป โดยวิธี moment distribution ในขั้นตอนของการบังคับมีให้จุดต่อเคลื่อนที่ จะพิจารณาว่าโครงสร้างนี้ถูกยึดด้วยแรงใน



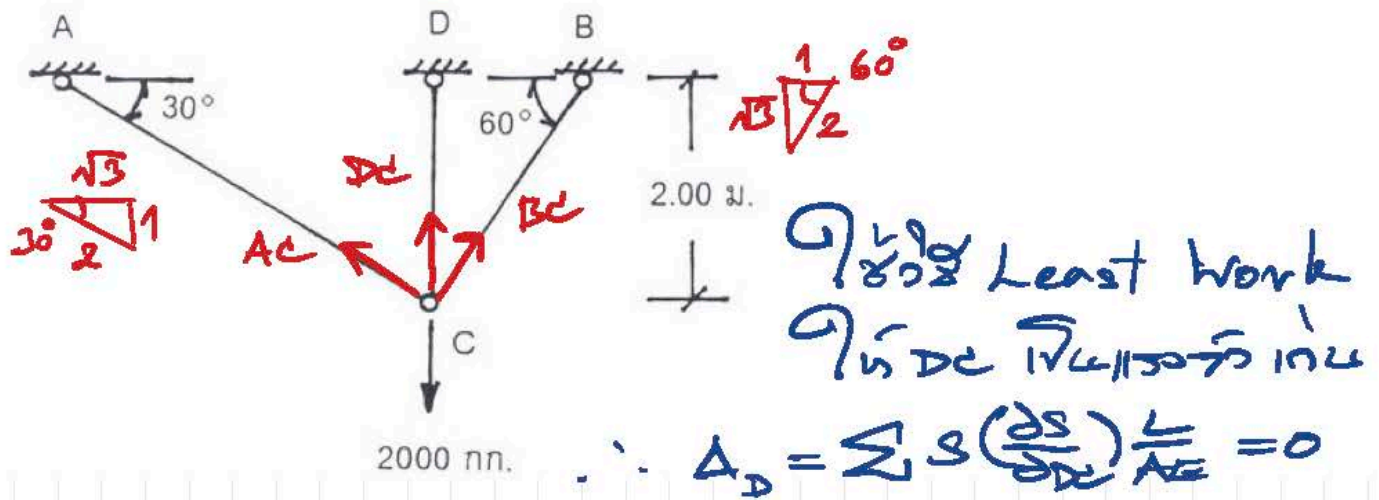
แนวนอนตรงจุด C ดังนั้น ให้หาค่าแรงดันนี้

- 1: 24 ตัน
  - 2: 30 ตัน
  - 3: 12 ตัน
  - 4: 18 ตัน
- คำตอบที่ถูกต้อง : 2

ดูวิธีทำ 3 หน้าถัดไป

ข้อที่ 67 :

64

เมื่อต่อยึดชิ้นส่วนรับแรงตามแนวแกน ดังรูป เพื่อรับน้ำหนัก  $P = 2000$  กก. ที่จุด C จงหาค่าแรงดึงในชิ้นส่วน AC สมมติให้ทุกชิ้นส่วนมีค่า  $L/AE$  คงที่

วิธี Least Work  
ให้ DC เป็นตัวแปร

$$\uparrow \sum V = 0 = \frac{1}{2} A_C + D_C + \frac{\sqrt{3}}{2} B_C - 2000$$

$$A_C + \sqrt{3} B_C = 4000 - 2D_C \quad \text{--- (1)}$$

$$\leftarrow \sum H = 0 = \frac{\sqrt{3}}{2} A_C - \frac{1}{2} B_C$$

$$\sqrt{3} A_C - B_C = 0 \quad \text{--- (2)}$$

$$\text{(2)} \times \sqrt{3}; \quad 3A_C - \sqrt{3}B_C = 0 \quad \text{--- (3)}$$

$$\text{(1)} + \text{(3)}; \quad 4A_C = 4000 - 2D_C$$

$$A_C = 1000 - \frac{1}{2} D_C$$

$$B_C = 1000\sqrt{3} - \frac{\sqrt{3}}{2} D_C$$

$\therefore \frac{L}{AE}$  คงที่ ;  $\therefore$

$$\sum S \left( \frac{\partial S}{\partial D_C} \right) = 0$$

$S$	$\frac{\partial S}{\partial D_C}$	$S \left( \frac{\partial S}{\partial D_C} \right)$
$D_C$	1	$D_C$
$1000 - \frac{1}{2} D_C$	$-\frac{1}{2}$	$-500 + \frac{1}{4} D_C$
$1000\sqrt{3} - \frac{\sqrt{3}}{2} D_C$	$-\frac{\sqrt{3}}{2}$	$-1500 + \frac{3}{4} D_C$
	$\Sigma$	$-2000 + 2D_C$

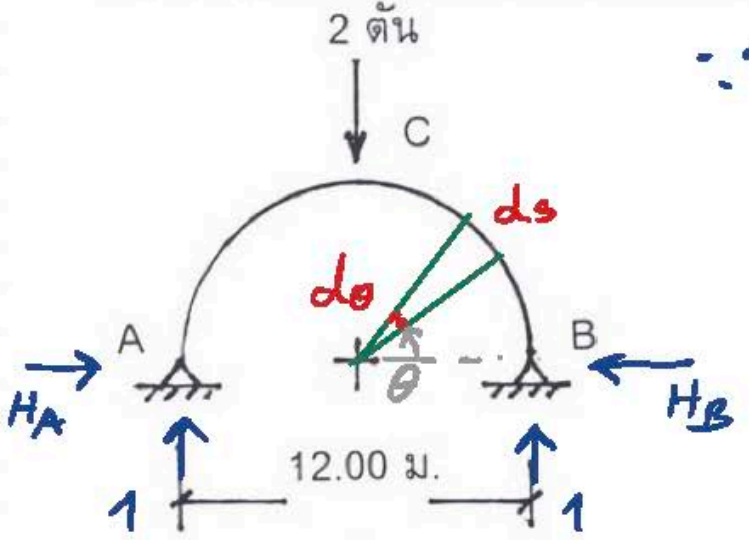
$$\therefore -2000 + 2D_C = 0; \quad D_C = 1000 \text{ kg}$$

$$A_C = 1000 - \frac{1}{2}(1000) = 500 \text{ kg}$$

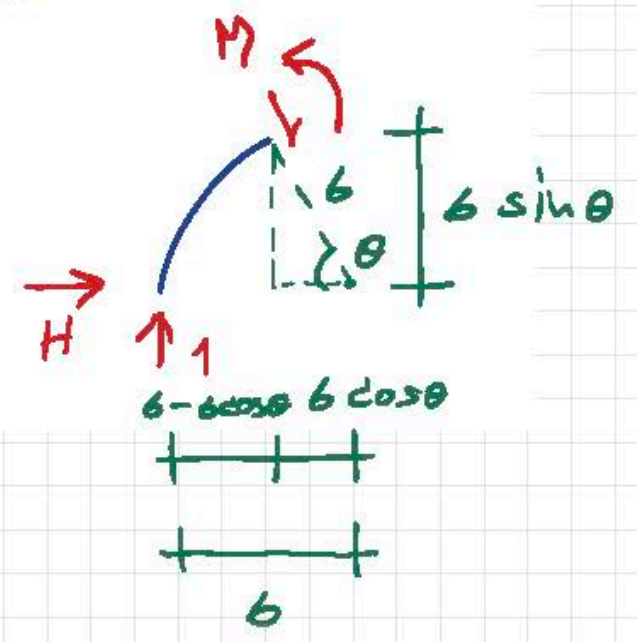
$$B_C = 1000\sqrt{3} - \frac{\sqrt{3}}{2}(1000) = 500\sqrt{3} \text{ kg}$$



โครงโค้งครึ่งวงกลมมีหน้าตัดคงที่ รัศมีเท่ากับ 6 เมตร รับน้ำหนัก ดังรูป จงหาแรงดันในแนวระดับที่จุด A หรือที่จุด B



$\therefore H_A = H_B$  รัศมีเท่ากับ  $H$



วิธี Least Work

$\therefore \Delta_{Ah} = 0 = \int M \frac{\partial M}{\partial H} \frac{ds}{EI}$

$M = 1(6 - 6\cos\theta) - H(6\sin\theta) = 6 - 6\cos\theta - 6H\sin\theta$

$\frac{\partial M}{\partial H} = -6\sin\theta$

$ds = r d\theta = 6 d\theta$

$\therefore \frac{1}{EI} \int_0^{\pi/2} (6 - 6\cos\theta - 6H\sin\theta)(-6\sin\theta)(6 d\theta) = 0$

$-\frac{EI}{216} \int_0^{\pi/2} (\sin\theta - \sin\theta\cos\theta - H\sin^2\theta) d\theta = 0$

$\therefore \sin 2\theta = 2\sin\theta\cos\theta ; \therefore \sin\theta\cos\theta = \frac{\sin 2\theta}{2}$

$\sin^2\theta = \frac{(1 - \cos 2\theta)}{2} = \frac{1}{2} - \frac{\cos 2\theta}{2}$

$\int_0^{\pi/2} (\sin\theta - \frac{\sin 2\theta}{2} - \frac{H}{2} + \frac{H}{2}\cos 2\theta) d\theta = 0$

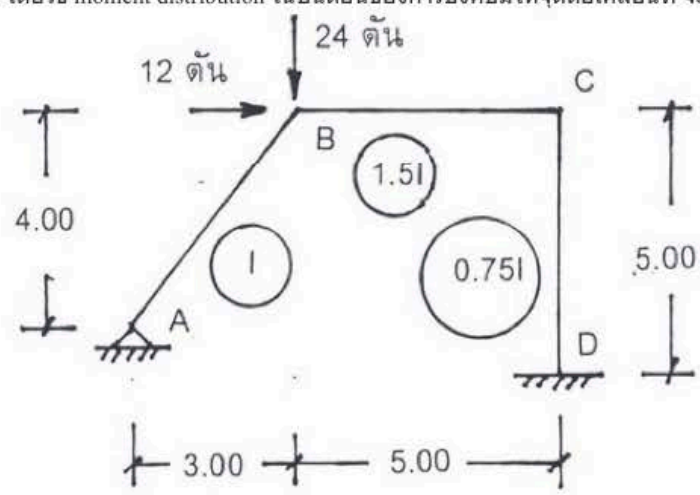
$\left( -\cos\theta + \frac{\cos 2\theta}{4} - \frac{H}{2}\theta + \frac{H}{4}\sin 2\theta \right) \Big|_0^{\pi/2} = 0$

$\left[ -0 + (-1/4) - \frac{H\pi}{4} + (H/4)(0) \right] - \left[ -1 + (1/4) - (H/2)(0) + (H/4)(0) \right] = 0$

$-\frac{1}{4} - \frac{H\pi}{4} + 1 - \frac{1}{4} = 0$

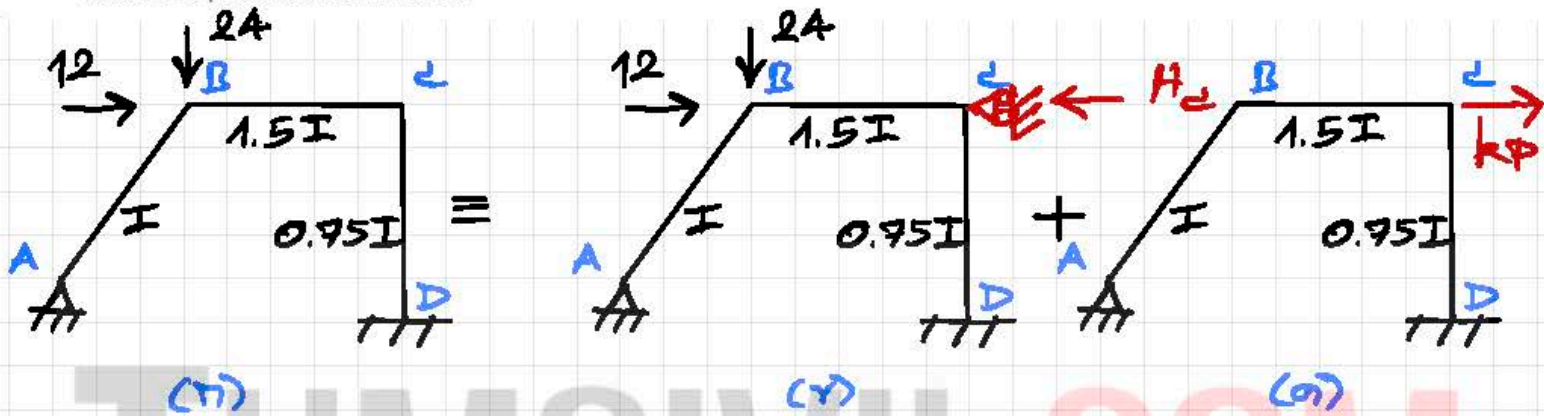
$(1/2) = H\pi/4 ; H = \frac{1}{2} \cdot \frac{4}{\pi} = 2/\pi$

ถ้าต้องการวิเคราะห์โครงสร้างที่เข้ได้ ดังรูป โดยวิธี moment distribution ในขั้นตอนของการบังคับมีให้จุดต่อเคลื่อนที่ จะพิจารณาว่าโครงสร้างนี้ถูกยึดด้วยแรงใน

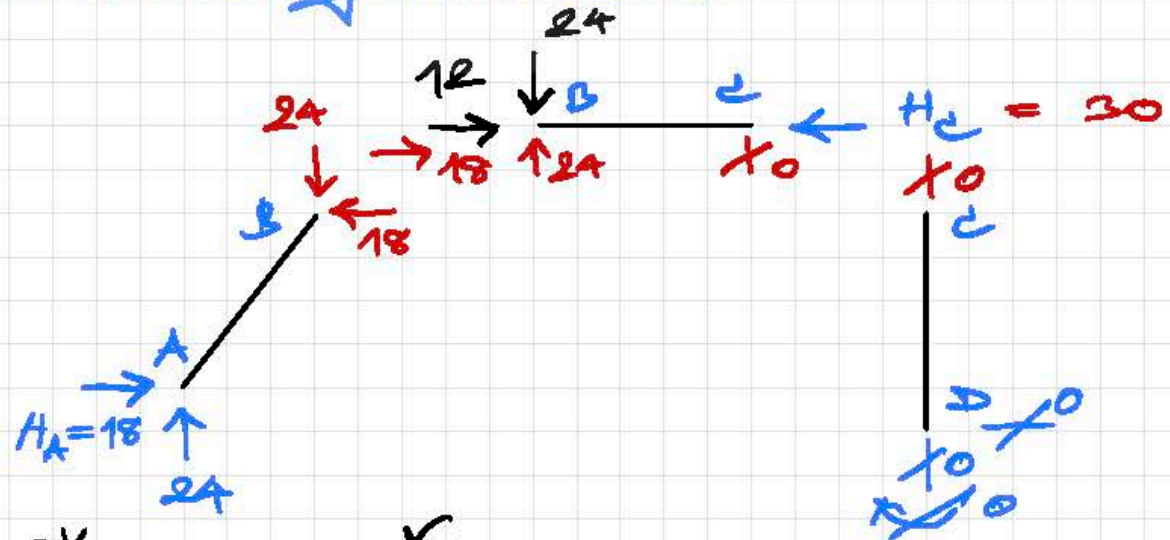


โดยหาค่า  $H_c$

แนวอนตรงจุด C ดังนั้น ให้หาค่าแรงยึดนี้



พิจารณา รูป (ค)  
 - เมื่อมองภาพ ไม่ใช่ FEM ในภาพนี้แล้ว  
 ดังนั้น มันก็แค่การมองเมื่อมอง FEM แล้ว  
 - มันก็มองภาพที่มันแล้ว



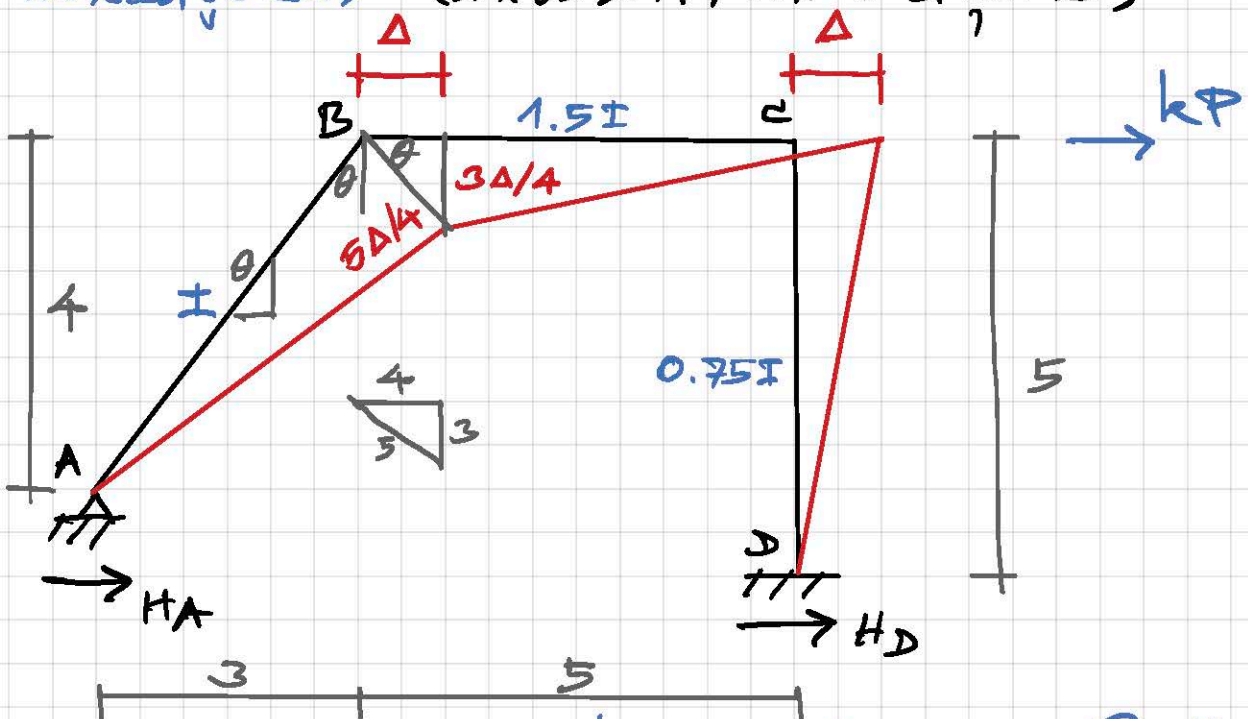
$$\sum M_B = 0 = 4H_A - 24(3)$$

$$H_A = 24(3)/4 = 18 T \rightarrow$$

$$\therefore H_c = 12 + 18 = 30 T \leftarrow$$



Ποσοστό/κατ (πλάτος=mm και ύψος=cm)

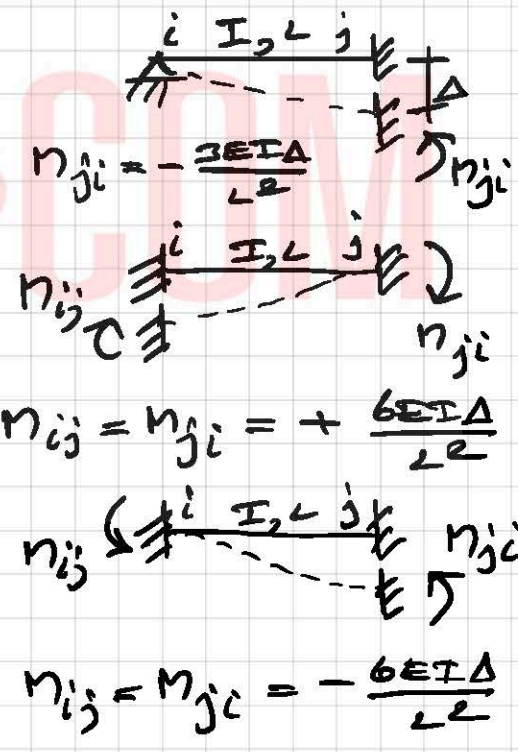


Προ kP και ύψος  $\Delta$   $\frac{5}{8}$   $\Delta$  και πλάτος FEM  $\frac{5\Delta}{4}$

$$FEM_{BA} = -\frac{3EI(5\Delta/4)}{5^2} = -0.15EI\Delta$$

$$FEM_{BC} = FEM_{CB} = +\frac{6E(1.5I)(3\Delta/4)}{5^2} = +0.27EI\Delta$$

$$FEM_{CD} = FEM_{DC} = -\frac{6E(0.75I)\Delta}{5^2} = -0.18EI\Delta$$



∴ Γνωρίζοντας E, I, Δ  
 και εφόσον εστιασμένα E I Δ = 1  
 (εστιασμένο μέγεθος FEM Γνωρίζοντας  
 αριθμούς και μερίσματα σου  $\Delta$ )

$$\therefore FEM_{BA} = -0.15(1) = -0.150 \text{ T}\cdot\text{m}$$

$$FEM_{BC} = FEM_{CB} = +0.27(1) = +0.270 \text{ T}\cdot\text{m}$$

$$FEM_{CD} = FEM_{DC} = -0.18(1) = -0.180 \text{ T}\cdot\text{m}$$

και End Moment  $\Delta$   $\frac{5}{8}$   $\Delta$  και πλάτος kP  
 (γνωρίζοντας  $E I \Delta$ )

$$I/5 \sim 1$$

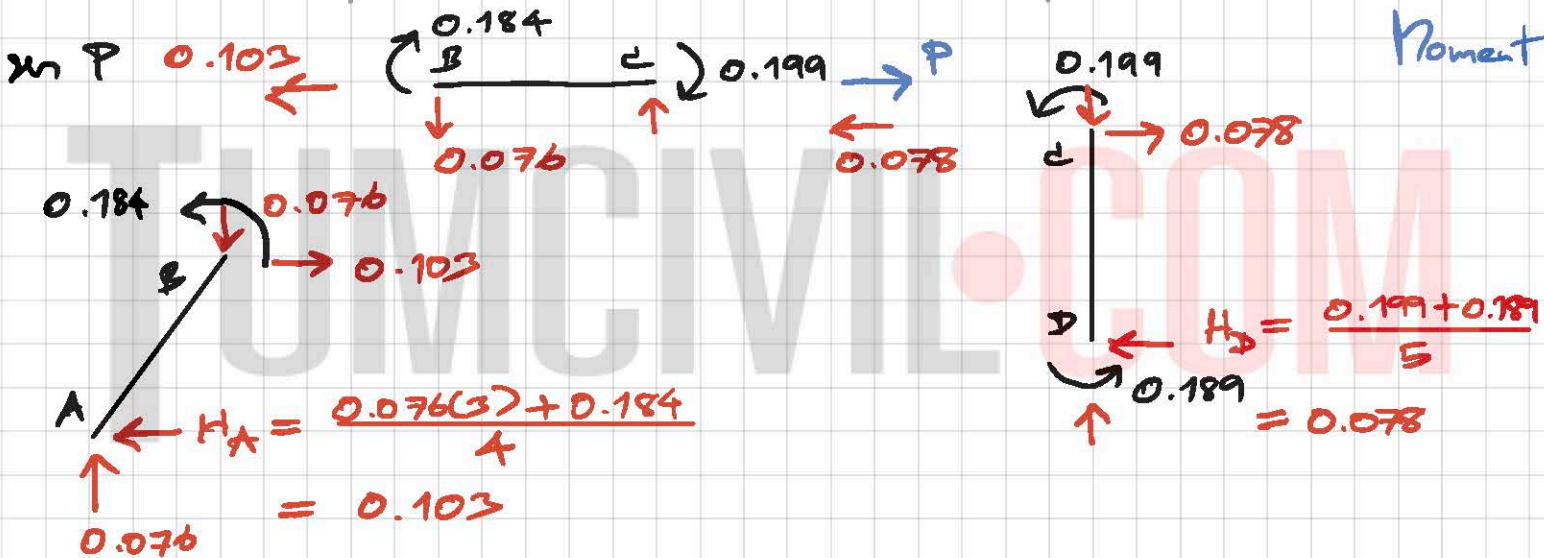
$$1.5I/5 \sim 1.5$$

$$0.75I/5 \sim 0.75 \text{ k}$$

$$(3/4)(1) = 0.75$$

RM

1	1/3	2/3		2/3	1/3	0	DF
	-0.150	+0.270		+0.270	-0.180	-0.180	Dist
	-1/25	-2/25	$\rightarrow$	-3/50	-3/100	0	CO
	+1/100	+1/50	$\rightarrow$	-1/25	+1/75	3/200	Dist
	-1/225	+1/75	$\rightarrow$	+2/75	+1/75	0	CO
	+1/900	+1/450	$\rightarrow$	+1/100	-1/300	+1/150	Dist
	-1/2025	-2/2025	$\rightarrow$	-1/150	-1/300	0	CO
	+1/8100	+1/450	$\rightarrow$	-1/225	+1/675	-1/600	Dist
	-1/2025	-2/2025	$\rightarrow$	+2/675	+1/675	0	CO
	+1/8100	+1/4050	$\rightarrow$	+1/900	-1/2700	+1/1350	Dist
0	-0.184	+0.184		-1/1350	-1/2700	0	CO
				+2/6075	+1/6075	1/540	Dist
						0	CO
0	-0.184	+0.184		+0.199	-0.199	-0.189	End



$$\therefore P = 0.103 + 0.078 = 0.181 \rightarrow$$

$$\therefore H_C + kP = 0$$

$$\rightarrow + -30 + k(0.181) = 0 ; \therefore k = \frac{30}{0.181} = 165.8$$

$$\text{End Moment (D)} = \text{End Moment (C)} + k \cdot \text{End Moment (C)}$$

$$\therefore M_{AB} = 0, M_{BA} = (165.8)(-0.184) = -30.461 \text{ T.w}$$

$$M_{CD} = (165.8)(+0.184) = +30.461 \text{ T.w}$$

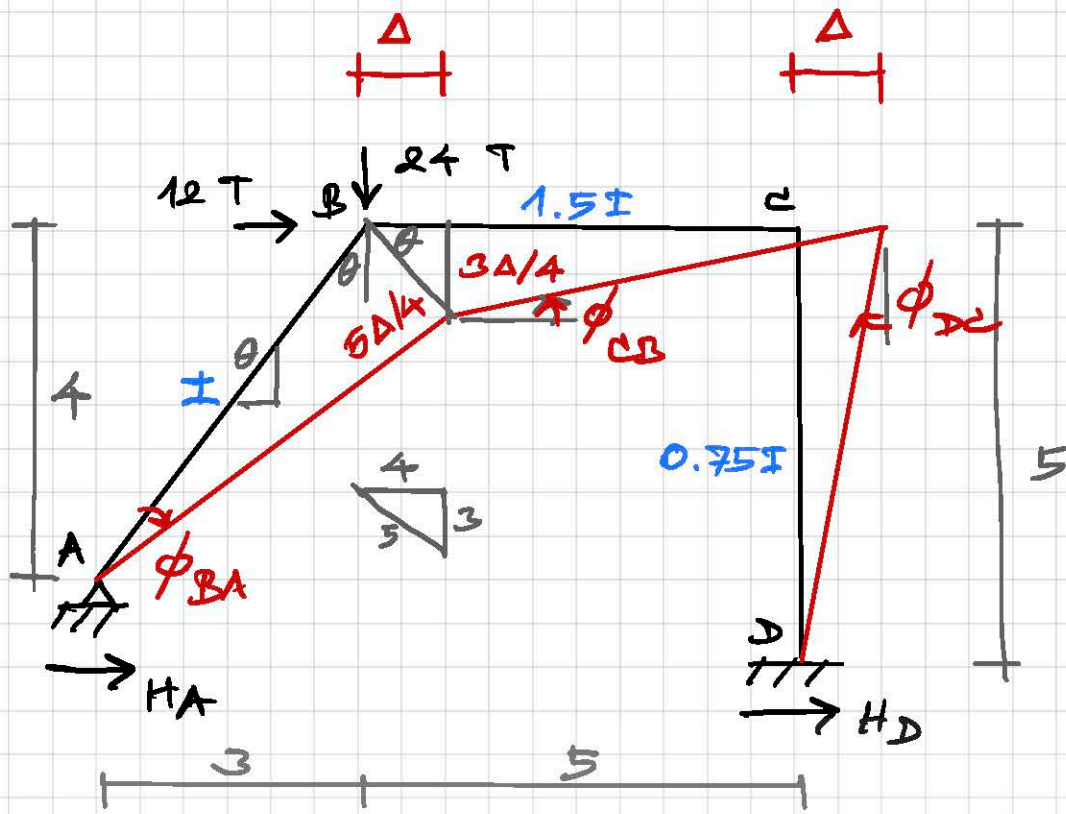
$$M_{CB} = (165.8)(+0.199) = +32.952 \text{ T.w}$$

$$M_{DC} = (165.8)(-0.199) = -32.952 \text{ T.w}$$

$$M_{DE} = (165.8)(-0.189) = -31.413 \text{ T.w}$$



# Q. 5.22 Slope-Deflection



$$k_{AB} = \frac{2I}{5} = k$$

$$k_{BC} = \frac{1.5I}{5} = 1.5k$$

$$k_{CD} = \frac{0.75I}{5} = 0.75k$$

$$\theta_A = 0$$

$$\phi_{BA} = + \frac{5\Delta/4}{5}$$

$$= + 5\phi$$

$$\phi_{CB} = - \frac{3\Delta/4}{5}$$

$$= - 3\phi$$

$$\left( 0.75\phi = \frac{\Delta}{5} \right) \quad \phi_{DC} = + \frac{\Delta}{5} = + 4\phi$$

$$FEM_{AB} = FEM_{BA} = FEM_{BC} = FEM_{CB} = FEM_{CD} = FEM_{DC} = 0$$

$$M_{AB} = 2EK \left[ 2\theta_A + \theta_B - 3(5\phi) \right] + 0 = 0$$

$$4EK\theta_A + 2EK\theta_B - 30EK\phi = 0 \quad (1)$$

$$M_{BA} = 2EK \left[ \theta_A + 2\theta_B - 15\phi \right] + 0$$

$$= 2EK\theta_A + 4EK\theta_B - 30EK\phi$$

$$M_{BC} = 2E(1.5K) \left[ 2\theta_B + \theta_C - 3(-3\phi) \right] + 0$$

$$= 6EK\theta_B + 3EK\theta_C + 27EK\phi$$

$$M_{CB} = 3EK \left[ \theta_B + 2\theta_C + 9\phi \right] + 0$$

$$= 3EK\theta_B + 6EK\theta_C + 27EK\phi$$

$$M_{CD} = 2E(0.75K) \left[ 2\theta_C + \theta_D - 3(4\phi) \right] + 0$$

$$= 3EK\theta_C - 18EK\phi$$

$$M_{DC} = 1.5EK \left[ \theta_C + 2\theta_D - 12\phi \right] + 0$$

$$= 1.5EK\theta_C - 18EK\phi$$

$$\uparrow + \sum M_B = 0 = M_{BA} + M_{BC}$$

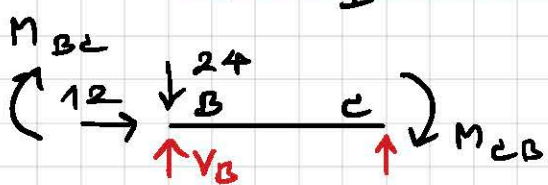
$$(2EK\theta_A + 4EK\theta_B - 30EK\phi) + (6EK\theta_B + 3EK\theta_C + 27EK\phi) = 0$$

$$2EK\theta_A + 10EK\theta_B + 3EK\theta_C - 3EK\phi = 0 \quad (2)$$

$$\uparrow + \sum M_C = 0 = M_{CB} + M_{CD}$$

$$(3EK\theta_B + 6EK\theta_C + 27EK\phi) + (3EK\theta_C - 18EK\phi) = 0$$

$$3EK\theta_B + 9EK\theta_C + 9EK\phi = 0 \quad (3)$$



$$\text{FBD BC: } \uparrow + \sum M_C = 0$$

$$V_B(5) - 24(5) + M_{BC} + M_{CB} = 0$$

$$V_B = \frac{1}{5} (120 - M_{BC} - M_{CB})$$

$$\text{FBD AB: } \downarrow + \sum M_B = 0 = H_A(4) - V_B(3) - M_{BA}$$

$$4H_A = [3V_B + M_{BA}]$$


$$= \left\{ \frac{3}{5} [120 - (6EK\theta_B + 3EK\theta_C + 27EK\phi) - (3EK\theta_B + 6EK\theta_C + 27EK\phi)] + (2EK\theta_A + 4EK\theta_B - 30EK\phi) \right\}$$

$$= \left\{ 0.6 [120 - 9EK\theta_B - 9EK\theta_C - 54EK\phi] + 2EK\theta_A + 4EK\theta_B - 30EK\phi \right\}$$

$$= \{ 72 - 5.4EK\theta_B - 5.4EK\theta_C - 32.4EK\phi + 2EK\theta_A + 4EK\theta_B - 30EK\phi \}$$

$$= 2EK\theta_A - 1.4EK\theta_B - 5.4EK\theta_C - 62.4EK\phi + 72$$

$$H_A = 0.5EK\theta_A - 0.35EK\theta_B - 1.35EK\theta_C - 15.6EK\phi + 18$$



$$\text{FBD CD: } \downarrow + \sum M_D = 0 = H_D(5) - M_{CD} - M_{DC}$$

$$H_D = \frac{1}{5} (M_{CD} + M_{DC})$$

$$= \frac{1}{5} [(3EK\theta_C - 18EK\phi) + (1.5EK\theta_C - 18EK\phi)]$$

$$H_D = 0.9EK\theta_C - 7.2EK\phi$$

$$\rightarrow + \sum H = 0 = 12 + H_A + H_D$$

$$0.5EK\theta_A - 0.35EK\theta_B - 0.45EK\theta_C - 22.8EK\phi = -30 \quad (4)$$

$$\therefore EK\theta_A = 2580/193, EK\theta_B = -360/193, EK\theta_C = -200/193$$

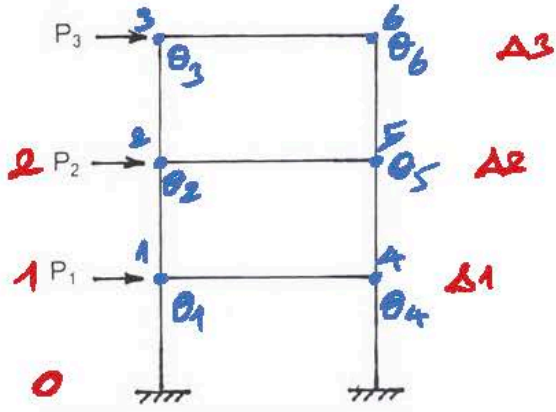
$$EK\phi = 320/193$$



$$\begin{aligned}
 M_{AB} &= 4(2580/193) + 2(-360/193) - 30(320/193) & &= 0 \quad \checkmark \\
 M_{BA} &= 2(2580/193) + 4(-360/193) - 30(320/193) & &= -30.466 \\
 M_{BC} &= 6(-360/193) + 3(-200/193) + 27(320/193) & &= +30.466 \\
 M_{CB} &= 3(-360/193) + 6(-200/193) + 27(320/193) & &= +32.954 \\
 M_{CD} &= 3(-200/193) - 18(320/193) & &= -32.954 \\
 M_{DE} &= 1.5(-200/193) - 18(320/193) & &= -31.399
 \end{aligned}$$

TUMCIVIL.COM

ถ้าโครงสร้างไม่สมมาตร รับน้ำหนัก ดังรูป หากต้องวิเคราะห์หาค่าวิธี slope-deflection จะต้องใช้สมการสมดุล ดังนี้



$\sum M = 0$  6 สมการ คือ  $M_1$  ถึง  $M_6$   
 $\sum F_x = 0$  3 สมการ คือ  $F_x$  หรือ 0 หรือ 1 หรือ 2

- 1: สมการสมดุลของโมเมนต์ 3 สมการ และสมการสมดุลของแรงเฉือน 2 สมการ
  - 2: สมการสมดุลของโมเมนต์ 3 สมการ และสมการสมดุลของแรงเฉือน 3 สมการ
  - 3: สมการสมดุลของโมเมนต์ 6 สมการ และสมการสมดุลของแรงเฉือน 2 สมการ
  - 4: สมการสมดุลของโมเมนต์ 6 สมการ และสมการสมดุลของแรงเฉือน 3 สมการ
- คำตอบที่ถูกต้อง : 4

ข้อที่ 68:

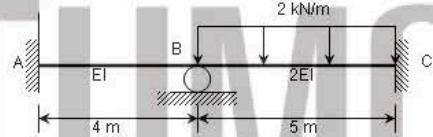
การวิเคราะห์โครงสร้าง statically indeterminate แบบ force method เราอาจจะใช้ตัวแปรใดต่อไปเป็นตัวแปรที่ไม่ทราบค่าหรือแรงเกินจำเป็น (redundant)?

- 1: แร่งภายใน
  - 2: โมเมนต์ภายใน
  - 3: แรงปฏิกิริยา
  - 4: อุณหภูมิ
- คำตอบที่ถูกต้อง : 4

Force Method ใช้แรงเกินจำเป็นที่ไม่ทราบค่าและมาพร้อมกับเงื่อนไขด้วย

ข้อที่ 69:

จากรูป เมื่อทำการวิเคราะห์ตามโดยใช้วิธี Slope-deflection จะมีจำนวน degree of freedom หรือ จำนวน degree of kinematic indeterminacy เท่าใด?



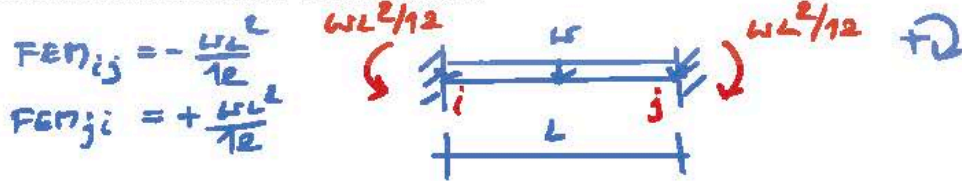
ตัวแปรที่ยังไม่ทราบค่าคือ  $\theta_B$

- 1: 1
  - 2: 2
  - 3: 3
  - 4: 4
- คำตอบที่ถูกต้อง : 1

ข้อที่ 70:

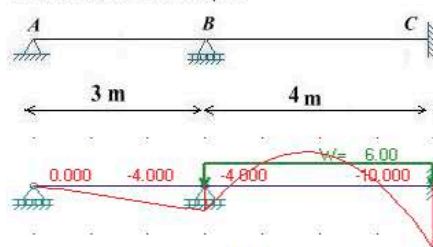
ถ้าคานช่วงเดียวที่มี flexural rigidity EI ยาว L ถูกรองรับแบบยึดแน่นที่ปลายทั้งสองด้านและถูกระงับโดยแรงกระจายแบบสม่ำเสมอตลอดความยาวคาน จงหาสมการที่แสดงขนาดของโมเมนต์ตัดที่เกิดขึ้นที่ปลายคานโดยวิธี Slope-deflection ว่าอยู่ในรูปใด

- 1:  $wL^2/4$
  - 2:  $wL^2/6$
  - 3:  $wL^2/8$
  - 4:  $wL^2/12$
- คำตอบที่ถูกต้อง : 4



ข้อที่ 71:

จากรูป เมื่อคานมี EI คงที่ตลอดความยาวคานและถูกระงับโดยแรงกระจายแบบสม่ำเสมอขนาด 6 kN/m ในช่วง BC และมีแผนภาพ moment diagram ดังแสดง จงหา rotation ที่เกิดขึ้นที่จุด B



$$M_{BC} = \frac{2EI}{4} (2\theta_B + \theta_C - 3 \frac{wL}{4}) - \frac{6(4)^2}{12} = -4$$

$$EI\theta_B - 8 = -4$$

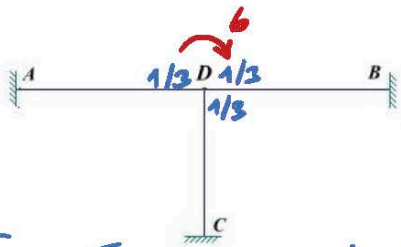
$$\therefore \theta_B = (-4 + 8)/EI = 4/EI$$

\*  $M_{BA} + \curvearrowright$   
 $M_{BC} - \curvearrowleft$

- 1: 2.0/EI
  - 2: 4.0/EI
  - 3: 6.0/EI
  - 4: 8.0/EI
- คำตอบที่ถูกต้อง : 2

ข้อที่ 72:

จากรูป จงหาค่าโมเมนต์ที่เกิดขึ้นที่จุด D บนชิ้นส่วน AD โดยวิธี moment distribution เมื่อโครงสร้างมี EI คงที่และค่าความยาว L เท่ากันทุกชิ้นส่วนและถูกระงับโดยโมเมนต์ 6 kN-m ที่จุด D



สภาวะตัวกร  $M_{DA}$   $+2$

ถ้า  $M = +6 \text{ kN}\cdot\text{m}$

$M_{DA} = -6(\frac{1}{3})$   
 $= -2 \text{ kN}\cdot\text{m}$

ถ้า  $M = -6 \text{ kN}\cdot\text{m}$

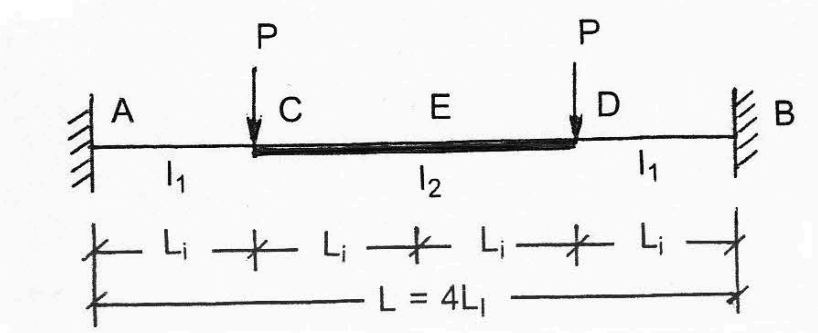
$M_{DA} = +6(\frac{1}{3})$   
 $= 2 \text{ kN}\cdot\text{m}$

จากโครงสร้าง  $\therefore DF$  เท่ากัน  
 คือ  $\frac{1}{3}$

- 1: 2 kN-m
  - 2: 3 kN-m
  - 3: 4 kN-m
  - 4: 5 kN-m
- คำตอบที่ถูกต้อง : 1

ข้อที่ 73 :

จงหาค่าโมเมนต์ตัดที่จุด E ของคาน AB ซึ่งมีหน้าตัดไม่คงที่ รับน้ำหนักแบบจุด P ดังรูป กำหนดให้ ระยะ  $L_1 = L/2$ ,  $I_1 = I$ ,  $I_2 = 2I$  และค่า E ดังที่

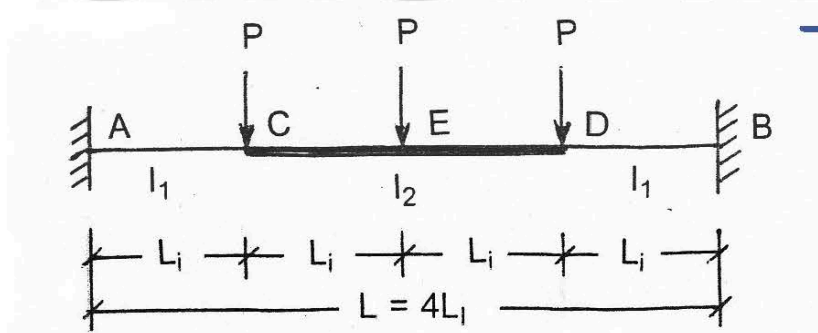


ดูวิธีทำ หน้าถัดไป

- 1: PL/3
  - 2: PL/6
  - 3: PL/9
  - 4: PL/12
- คำตอบที่ถูกต้อง : 2

ข้อที่ 74 :

จงหาค่าโมเมนต์ตัดที่จุด A ของคาน AB ซึ่งมีหน้าตัดไม่คงที่ รับน้ำหนักแบบจุด P ดังรูป กำหนดให้ ระยะ  $L_1 = L/2$ ,  $I_1 = I$ ,  $I_2 = 2I$  และค่า E ดังที่

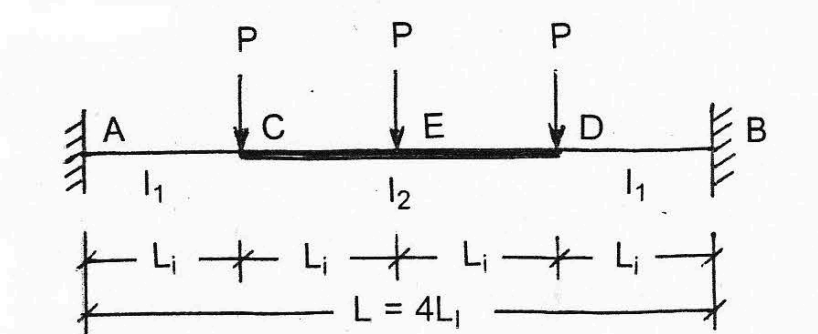


$-13PL/24$

- 1: 13PL/6
  - 2: 13PL/8
  - 3: 13PL/10
  - 4: 13PL/12
- คำตอบที่ถูกต้อง : 4

ข้อที่ 75 :

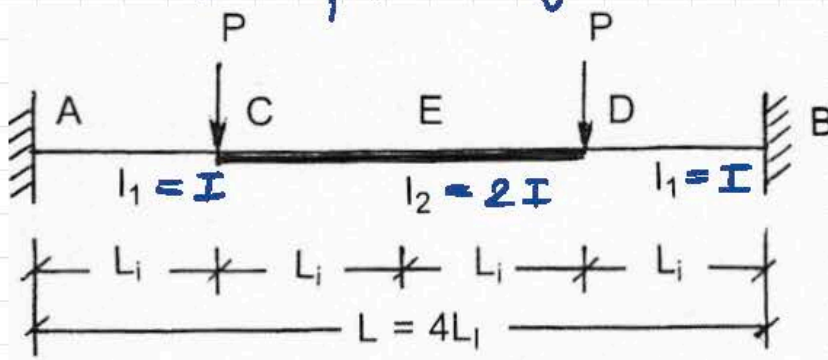
จงหาค่าโมเมนต์ตัดที่จุด B ของคาน AB ซึ่งมีหน้าตัดไม่คงที่ รับน้ำหนักแบบจุด P ดังรูป กำหนดให้ ระยะ  $L_1 = L/5$ ,  $I_1 = I$ ,  $I_2 = 2I$  และค่า E ดังที่



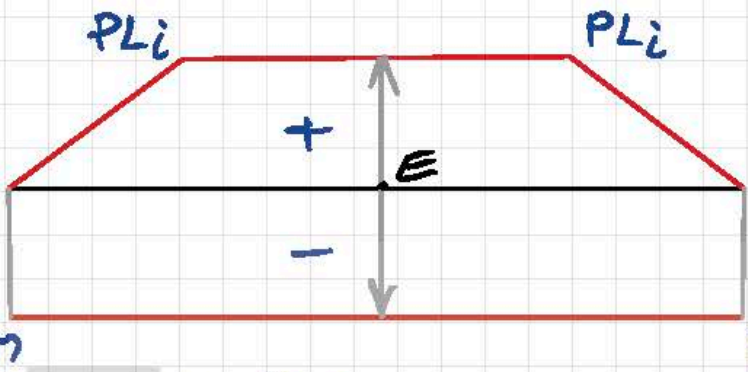
$-13PL/60$



Ποσοστό αλλαγής ακριβώς στα κέρματα E γύρω από AB  $\frac{I_2}{I_1} = \frac{2I}{I} = 2$   
 εύναι τα κέρματα P  $\frac{I_2}{I_1} = \frac{2I}{I} = 2$   $L_i = L/2, I_1 = I,$   
 $I_2 = 2I$  κέρματα E οκμή



$\therefore M_A = M_B$   $\frac{I_2}{I_1} = 2$   
 $\therefore M_E = +PL_i - M$



BMD (by part)

η M στο κέρμα E  $\frac{I_2}{I_1} = 2$



$$N = 2 \left[ \frac{1}{2} (L_i) (PL_i) \right] + \left( \frac{PL_i}{2} \right) (2L_i) = 2PL_i^2$$

$\frac{N}{EI}$  diagram (κέρμα EI=1)



$\frac{N}{EI}$  diagram (κέρμα EI=1)

$$A = 2 [1(L_i)] + 2L_i/2 = 3L_i$$

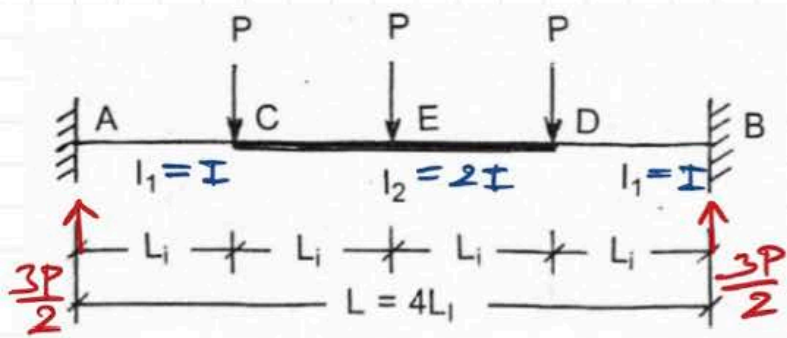
$$\therefore M = -\frac{N}{A} \text{ (κέρμα στο κέρμα)}$$

$$= -\frac{(2PL_i^2)}{3L_i} = -2PL_i/3$$

$$\text{στο κέρμα } M_E = +PL_i - (2PL_i/3) = PL_i \left( \frac{3-2}{3} \right) = +PL_i/3$$

εύναι  $L_i = L/2$ ;  $\therefore M_E = P(L/2)/3 = PL/6$



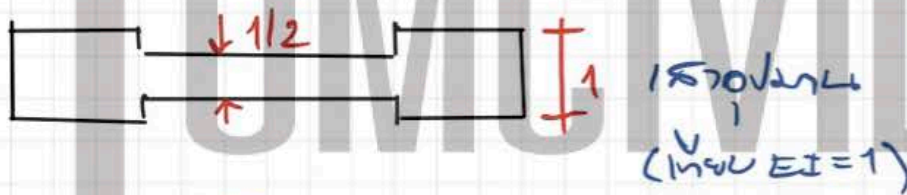
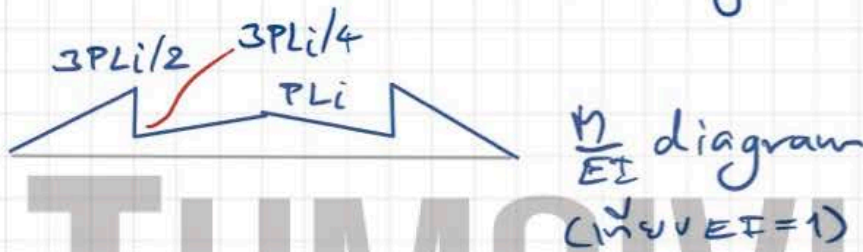


CASE  $L_i = L, M_A = -\frac{13PL}{12}$

$$M_E = +2PL - \frac{13PL}{12}$$

$$= PL \left( \frac{24-13}{12} \right)$$

$$= 11PL/12$$



$$N = 2 \left[ \frac{1}{2}(L_i) \left( \frac{3PL_i}{2} \right) + \frac{1}{2} \left( \frac{3PL_i}{4} + PL_i \right) (L_i) \right]$$

$$= 2PL_i^2 \left( \frac{3}{4} + \frac{7}{8} \right) = 2PL_i^2 \left( \frac{6+7}{8} \right) = 13PL_i^2/4$$

$$A = 2 \left[ 1(L_i) \right] + \frac{1}{2}(2L_i) = 3L_i$$

$$\therefore M_A = -\frac{N}{A} = -\frac{13PL_i^2}{4} \cdot \frac{1}{3L_i} = -13PL_i/12 = M_B$$

120  $L_i = L/2$

$$M_A = -13P \left( \frac{L}{2} \right) / 12 = -13PL/24$$

$$L_i = L/5$$

$$M_B = -13P \left( \frac{L}{5} \right) / 12 = -13PL/60$$

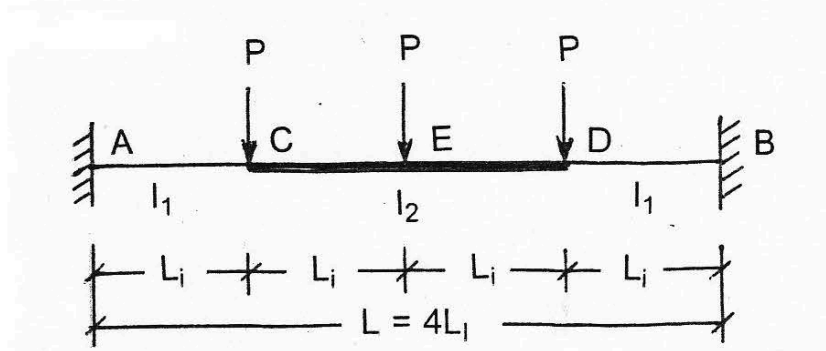
$$L_i = L$$

$$M_A = -13PL/12$$

- 1: 13PL/18
  - 2: 13PL/24
  - 3: 13PL/30
  - 4: 13PL/36
- คำตอบที่ถูกต้อง: 3

ข้อที่ 76:

จงหาค่าโมเมนต์ตัดที่จุด E ของคาน AB ซึ่งมีหน้าตัดไม่คงที่ รับน้ำหนักแบบจุด P ดังรูป กำหนดให้ ระยะ  $L_1 = L$ ,  $I_1 = I$ ,  $I_2 = 2I$  และค่า E คงที่

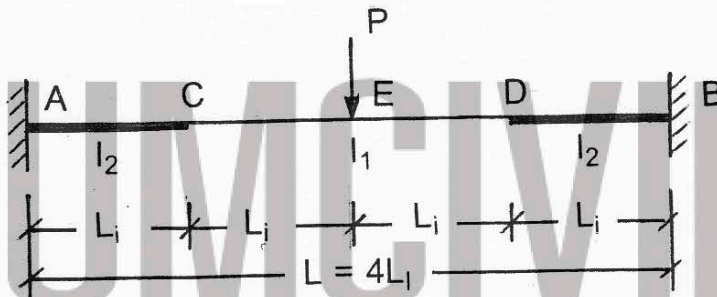


$+ 11PL/12$

- 1: PL/3
  - 2: PL/6
  - 3: PL/12
  - 4: PL/24
- คำตอบที่ถูกต้อง: 2

ข้อที่ 77:

จงหาค่าโมเมนต์ตัดที่จุด A ของคาน AB ซึ่งมีหน้าตัดไม่คงที่ รับน้ำหนักแบบจุด P ดังรูป กำหนดให้ ระยะ  $L_1 = L/3$ ,  $I_1 = I$ ,  $I_2 = 2I$  และค่า E คงที่



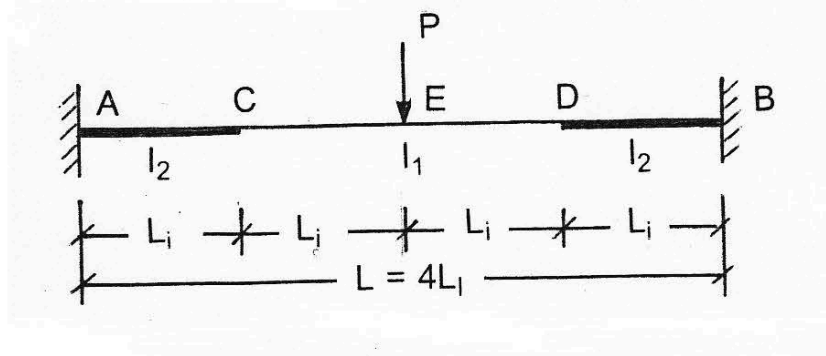
ดูวิธีทำหน้า 77 ✓

- 1: 7PL/48
  - 2: 7PL/36
  - 3: 7PL/14
  - 4: 7PL/12
- คำตอบที่ถูกต้อง: 2

$- 7PL/36$

ข้อที่ 78:

จงหาค่าโมเมนต์ตัดที่จุด E ของคาน AB ซึ่งมีหน้าตัดไม่คงที่ รับน้ำหนักแบบจุด P ดังรูป กำหนดให้ ระยะ  $L_1 = L/2$ ,  $I_1 = I$ ,  $I_2 = 2I$  และค่า E คงที่

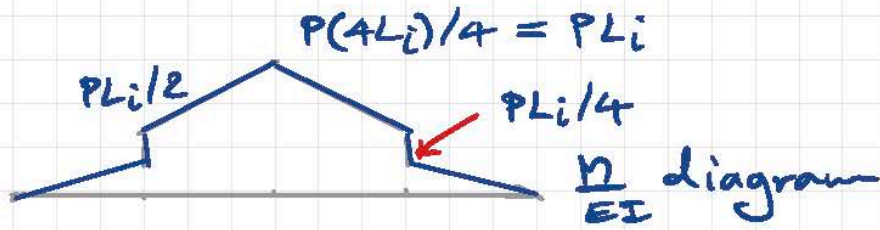
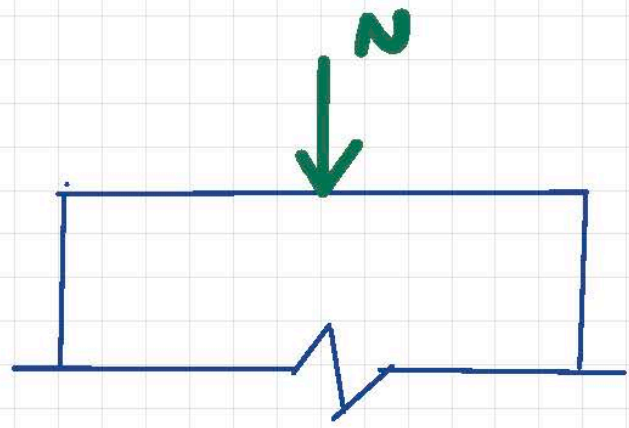
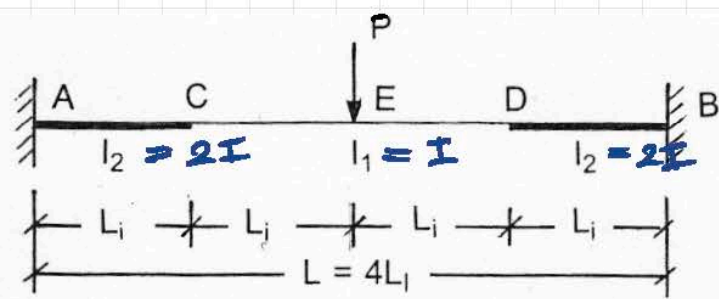


$+ 5PL/24$

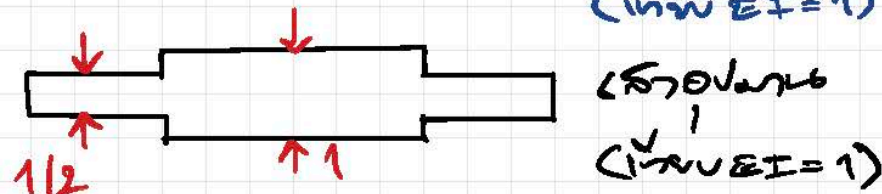
- 1: 7PL/48
  - 2: 7PL/36
  - 3: 7PL/14
  - 4: 7PL/12
- คำตอบที่ถูกต้อง: 3

ข้อที่ 79:

จงหาค่าโมเมนต์ตัดที่จุด A ของคาน AB ซึ่งมีหน้าตัดไม่คงที่ ถ้าปลาย A ถูกทำให้เคลื่อนลงมาจากกับแนวเดิมเป็นระยะ  $= \Delta$  เมื่อเทียบกับปลาย B กำหนดให้ ระยะ  $L_1 = L$ ,  $L_2 = L$ ,  $I_1 = I$ ,  $I_2 = 2I$  และค่า E คงที่



$$A = 2\left(\frac{1}{2}\right)(L_1) + (1)(2L_1) = 3L_1$$



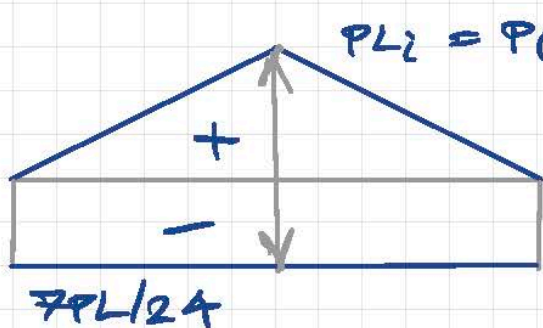
$$N = 2 \left[ \frac{1}{2}(L_1)\left(\frac{PL_1}{4}\right) + \frac{1}{2}\left(\frac{PL_1}{2} + PL_1\right)(L_1) \right]$$

$$= 2PL_1^2 \left( \frac{1}{8} + \frac{3}{4} \right) = 2PL_1^2 \left( \frac{1+6}{8} \right) = \frac{7PL_1^2}{4}$$

$$\therefore M_A = M_B = -\frac{N}{A} = -\left(\frac{7PL_1^2}{4}\right)/3L_1 = -\frac{7PL_1}{12}$$

77) If  $L_1 = L/3$ ;  $M_A = M_B = -\frac{7P\left(\frac{L}{3}\right)}{12} = -\frac{7PL}{36}$

78) If  $L_1 = L/2$ ;  $M_A = M_B = -\frac{7P\left(\frac{L}{2}\right)}{12} = -\frac{7PL}{24}$

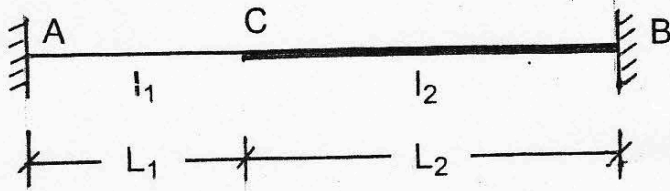


$$\therefore M_E = (PL/2) - (7PL/24)$$

$$= PL \left( \frac{12-7}{24} \right)$$

$$= \frac{5PL}{24}$$



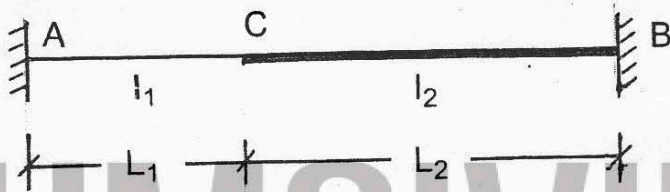


- 1:  $16EI\Delta/11L^2$
  - 2:  $20EI\Delta/11L^2$
  - 3:  $24EI\Delta/11L^2$
  - 4:  $28EI\Delta/11L^2$
- คำตอบที่ถูกต้อง : 2

ดูวิธีทำ 3 หน้าถัดไป

ข้อที่ 80 :

จงหาค่า stiffness factor ที่จุด A ของคาน AB ซึ่งมีหน้าตัดไม่คงที่ กำหนดให้ ระยะ  $L_1 = L$ ,  $L_2 = 2L$ ,  $I_1 = I$ ,  $I_2 = 2I$  และค่า E คงที่

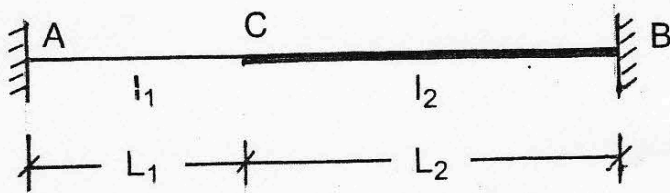


- 1:  $34EI/37L$
  - 2:  $42EI/37L$
  - 3:  $56EI/37L$
  - 4:  $92EI/37L$
- คำตอบที่ถูกต้อง : 3

ดูวิธีทำหน้าถัดไป

ข้อที่ 81 :

จงหาค่า carry-over factor จากจุด B ไปยังจุด A ของคาน AB ซึ่งมีหน้าตัดไม่คงที่ กำหนดให้ ระยะ  $L_1 = L$ ,  $L_2 = 2L$ ,  $I_1 = I$ ,  $I_2 = 2I$  และค่า E คงที่



- 1:  $17/46$
  - 2:  $17/35$
  - 3:  $17/28$
  - 4:  $17/24$
- คำตอบที่ถูกต้อง : 1

ดูวิธีทำ 2 หน้าถัดไป

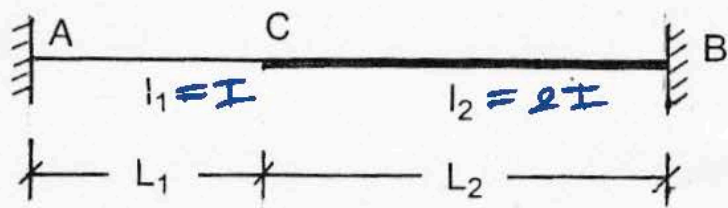
ข้อที่ 82 :

จงหาค่าโมเมนต์ตัดที่จุด A ของคาน AB ซึ่งมีหน้าตัดไม่คงที่ ถ้าปลาย A ถูกทำให้เคลื่อนลงมาตั้งฉากกับแนวเดิมเป็นระยะ  $= \Delta$  เมื่อเทียบกับปลาย B กำหนดให้ ระยะ  $L_1 = L$ ,  $L_2 = 2L$ ,  $I_1 = I$ ,  $I_2 = 2I$  และค่า E คงที่

ดูวิธีทำ 4 หน้าถัดไป

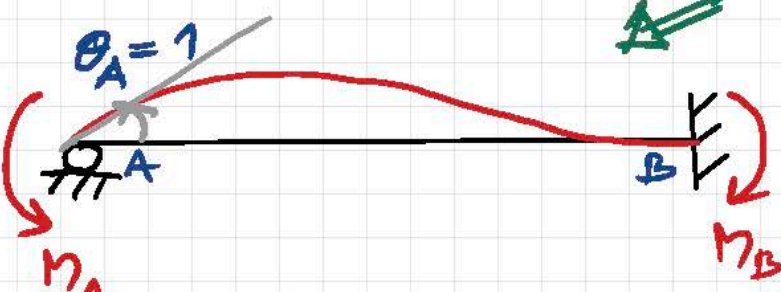


กำหนด  $I_1 = I, I_2 = 2I, L_1 = L, L_2 = 2L$

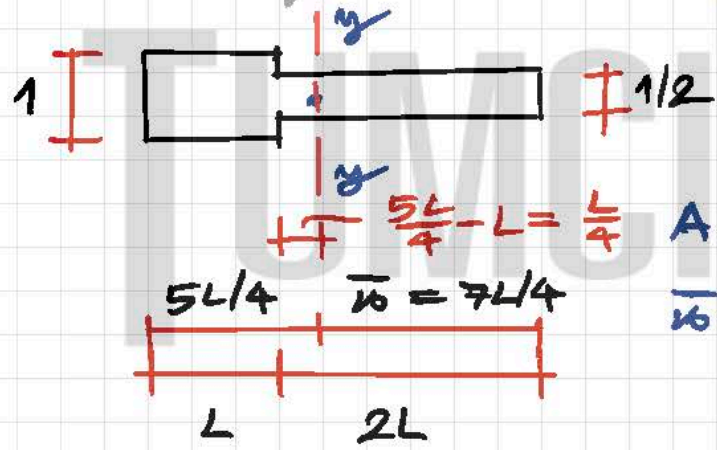
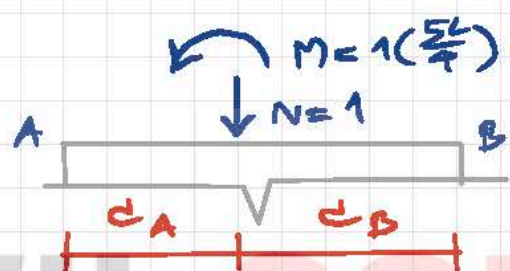


หา stiffness factor ที่ A

stiffness factor ที่ A คือ  $M_A$  ที่กระทำบนที่ support



ตั้ง  $\theta_A = 1$  แล้วดูว่าแรงปฏิกิริยาที่ support B คือ  $N = 1$  กระทำที่ A



หา  $I_{y-y}$  (ให้  $EI = 1$ )

$$A = 1(L) + \frac{1}{2}(2L) = 2L$$

$$\bar{y} = \frac{1(L)(\frac{L}{2} + 2L) + \frac{1}{2}(2L)(L)}{2L} = \frac{5L^2/2 + L^2}{2L} = 7L/4$$

$$I_{y-y} = \frac{1}{3}(1)\left(\frac{5L}{4}\right)^3 - 2\left[\frac{1}{3}\left(\frac{L}{4}\right)\left(\frac{L}{4}\right)^3\right] + \frac{1}{3}\left(\frac{1}{2}\right)\left(\frac{7L}{4}\right)^3$$

$$= \frac{L^3}{3} \left[ \frac{125}{64} - \frac{1}{128} + \frac{343}{128} \right] = 37L^3/24$$

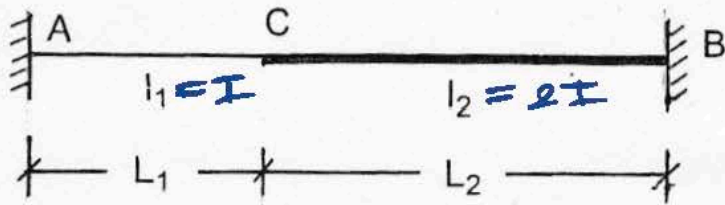
$$M_A = -\frac{N}{A} - \frac{Mc_A}{I_{y-y}}$$

$$= -\frac{1}{2L} - \frac{(5L/4)(5L/4)}{37L^3/24} = -\frac{1}{2L} - \left(\frac{25L^2}{16}\right)\left(\frac{24}{37L^3}\right) = -\frac{1}{2L} - \frac{75}{37L}$$

$$= -56/37L \quad (\text{ให้ } EI = 1)$$

$\therefore$  stiffness factor ที่ A =  $-56EI/37L$

Given  $I_1 = I, I_2 = 2I, L_1 = L, L_2 = 2L$



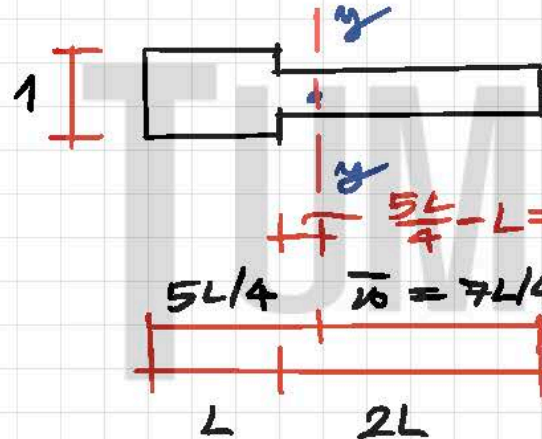
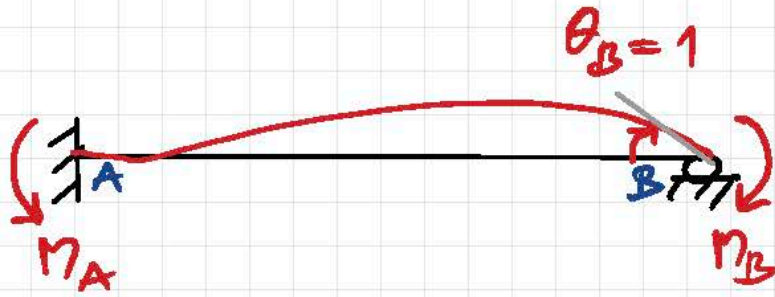
81) carry-over factor from B to A

COF<sub>BA</sub> คืออัตราส่วนระหว่าง  
โมเมนต์ที่จุด A กับ โมเมนต์ที่จุด B

$$M_A = \text{COF}_{BA} M_B \text{ ถ้า } \theta_B = 1$$

COF<sub>BA</sub> =  $M_A / M_B$  โดย  $M_B$  คือ stiffness factor ที่ B

กำหนดให้  $\theta_B = 1$  ที่จุด B



1/2 1670 (ให้  $EI = 1$ )

$$\begin{aligned} A &= 2L \\ \bar{x} &= 7L/4 \\ I_{y-y} &= 37L^3/24 \end{aligned} \left. \vphantom{\begin{aligned} A \\ \bar{x} \\ I_{y-y} \end{aligned}} \right\} \text{หา } \bar{x} \text{ และ } I_{y-y}$$



$$\begin{aligned} M_B &= -\frac{N}{A} - \frac{M c_B}{I_{y-y}} \\ M_A &= -\frac{N}{A} + \frac{M c_A}{I_{y-y}} \end{aligned}$$

$$M_B = -\frac{1}{2L} - \frac{(7L/4)(7L/4)}{37L^3/24} = -\frac{1}{2L} - \left(\frac{49L^2}{16}\right)\left(\frac{24}{37L^3}\right) = -\frac{92}{37L}$$

$$M_A = -\frac{1}{2L} + \frac{(7L/4)(5L/4)}{37L^3/24} = -\frac{1}{2L} + \left(\frac{35L^2}{16}\right)\left(\frac{24}{37L^3}\right) = \frac{34}{37L}$$

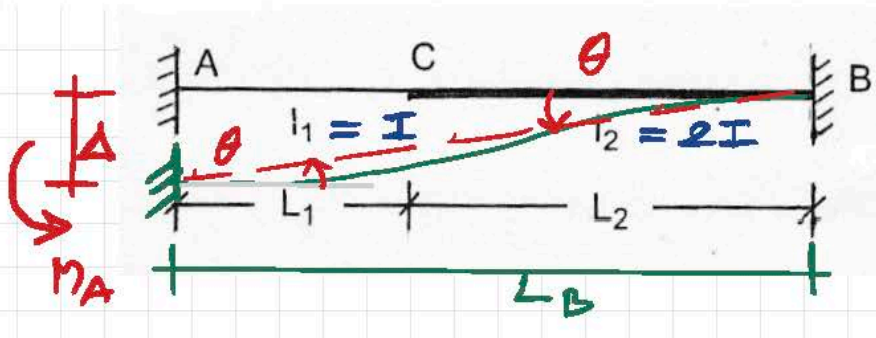
$$\therefore \text{COF}_{BA} = \left| \frac{M_A}{M_B} \right| = \left| \frac{\left(\frac{34}{37L}\right)}{\left(-\frac{92}{37L}\right)} \right| = \left| \frac{34}{37L} \left(-\frac{37L}{92}\right) \right|$$

$$= \frac{17}{46}$$

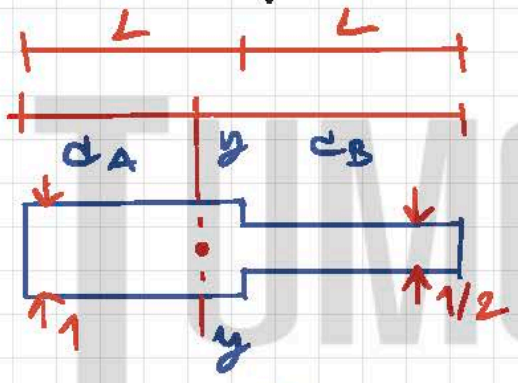
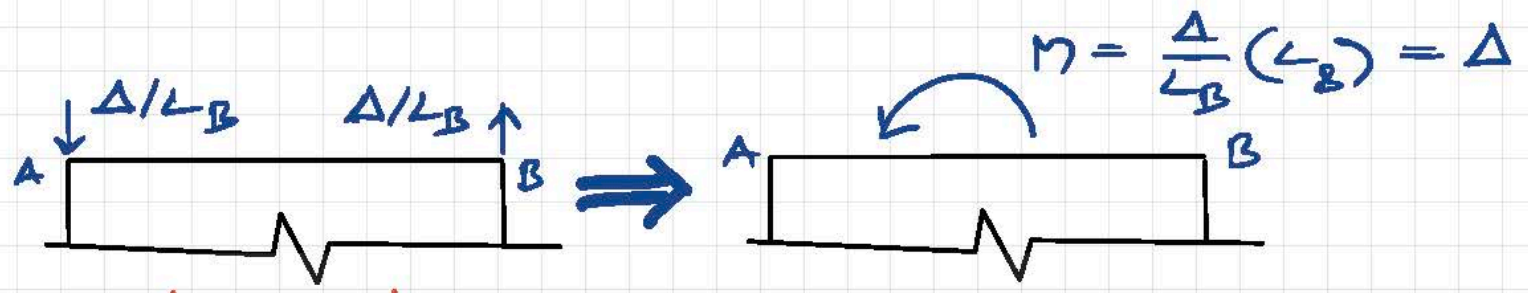


ข้อที่ 79:

จงหาค่าโมเมนต์ดัดที่จุด A ของคาน AB ซึ่งมีหน้าตัดไม่คงที่ ถ้าปลาย A ถูกทำให้เคลื่อนลงมาตั้งฉากกับแนวเดิมเป็นระยะ =  $\Delta$  เมื่อเทียบกับปลาย B กำหนดให้ ระยะ  $L_1 = L$ ,  $L_2 = L$ ,  $I_1 = I$ ,  $I_2 = 2I$  และค่า E คงที่



$\Delta$  ทำให้เกิดแรง  $\Delta/L_B$  ที่ปลาย A  
 ทำให้  $\Delta/L_B$  ไปขยายคาน  
 ซึ่งรับแรงดัด  
 11 แรงดัดคาน  $\Delta/L_B$  ตลอด  
 11 คาน A 11 คาน B



$$A = 1(L) + \frac{1}{2}(L) = 3L/2$$

$$C_A = \left[ L\left(\frac{L}{2}\right) + \frac{L}{2}\left(\frac{3L}{2}\right) \right] / \left(\frac{3L}{2}\right)$$

$$= \frac{2L^2}{3L} \left( \frac{1}{2} + \frac{3}{4} \right) = 5L/6$$

11 คานคาน (ให้  $EI = 1$ )  $C_B = 2L - \frac{5L}{6} = 7L/6$

$$I_{y-y} = \frac{1(C_A)^3}{3} + \frac{(1/2)(C_B)^3}{3} + 2 \frac{(1/4)(L - C_A)^3}{3}$$

$$= \frac{1}{3} \left[ \left(\frac{5L}{6}\right)^3 + \frac{1}{2} \left(\frac{7L}{6}\right)^3 + \frac{1}{2} \left(\frac{L}{6}\right)^3 \right]$$

$$= \frac{L^3}{3} \left[ \frac{125}{216} + \frac{1}{2} \left(\frac{343}{216}\right) + \frac{1}{2} \left(\frac{1}{216}\right) \right] = \frac{L^3}{3(216)} (297)$$

$$= 11L^3/24$$

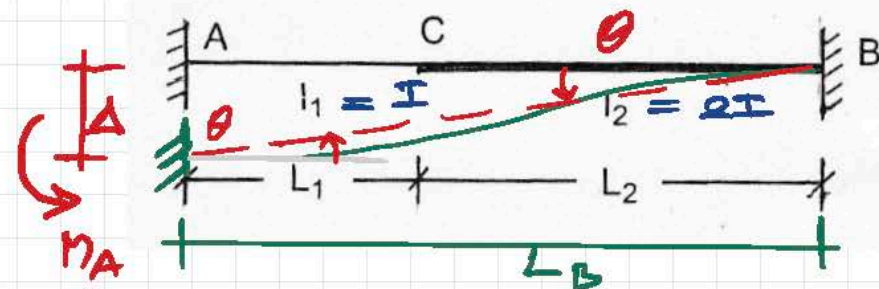
$$\therefore M_A = -M C_A / I_{y-y} = -\Delta (5L/6) / (11L^3/24)$$

$$= -\Delta \left(\frac{5L}{6}\right) \left(\frac{24}{11L^2}\right) = -20\Delta / 11L^2 \quad (\text{ให้ } EI = 1)$$

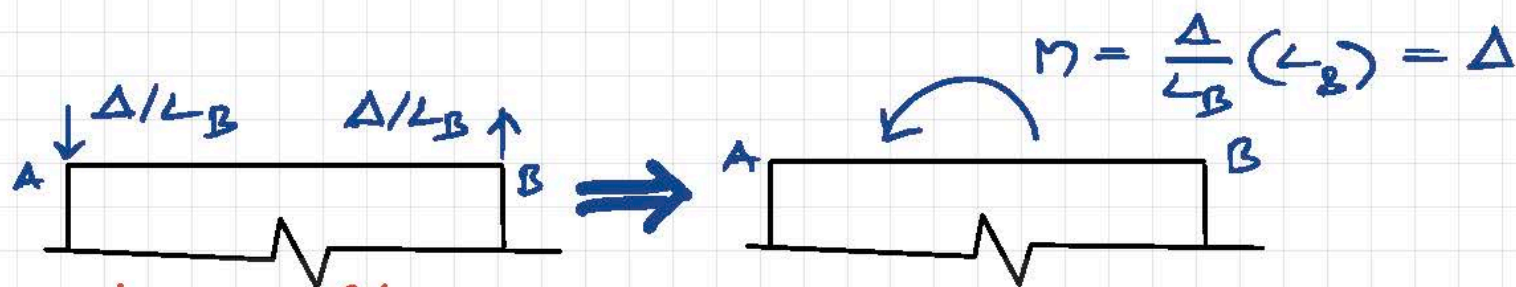
$M_A = -20EI\Delta / 11L^2$



จงหาค่าโมเมนต์ดัดที่จุด A ของคาน AB ซึ่งมีหน้าตัดไม่คงที่ ถ้าปลาย A ถูกทำให้เคลื่อนลงมาจากกับแนวเดิมเป็นระยะ  $= \Delta$  เมื่อเทียบกับปลาย B กำหนดให้ ระยะ  $L_1 = L$ ,  $L_2 = 2L$ ,  $I_1 = I$ ,  $I_2 = 2I$  และค่า E คงที่

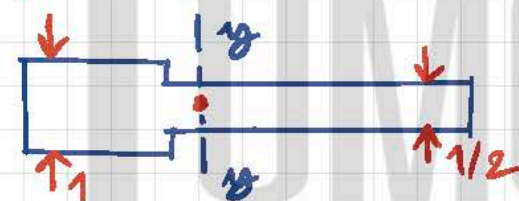


$\Delta$  รั้งให้ปลาย A เคลื่อน  
เท่ากับ  $\frac{\Delta}{L_B}$  ในแนวแนว  
ตั้ง, เราจะได้ค่า  $M$   
ที่รอยต่อ  $\frac{\Delta}{L_B}$  หรือที่  
จุด A และ B



$$A = 1(L) + \frac{1}{2}(2L) = 2L$$

$$c_A = \frac{[L(\frac{L}{2}) + L(2L)]}{(2L)} \\ = \frac{L^2}{2L} \left( \frac{1}{2} + 2 \right) = 5L/4$$



1. เราจะได้ค่า  $c_B = 3L - (5L/4) = 7L/4$

$$I_{y-y} = \frac{1(c_A)^3}{3} - 2 \frac{(1/4)(c_A - L)^3}{3} + \frac{(1/2)(c_B)^3}{3}$$

$$= \frac{1}{3} \left[ (5L/4)^3 - (1/2)(L/4)^3 + (1/2)(7L/4)^3 \right]$$

$$= \frac{L^3}{3} \left[ (125/64) - (1/2)(1/64) + (1/2)(343/64) \right]$$

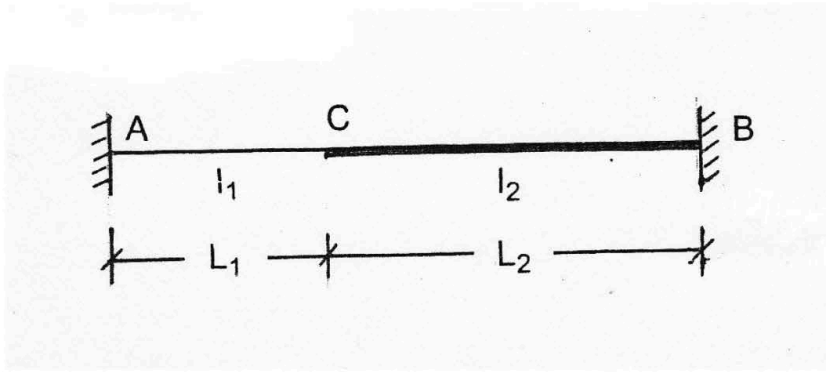
$$= \frac{L^3}{3(64)} \left[ 125 - (1/2) + (343/2) \right] = 37L^3/24$$

$$\therefore M_A = -M c_A / I_{y-y} = -\Delta (5L/4) / (37L^3/24)$$

$$= -\Delta \left( \frac{5L}{4} \right) \left( \frac{24}{37L^2} \right) = -30\Delta / 37L^2 \quad (\text{ให้ } EI=1)$$

$$M_A = -30EI\Delta / 37L^2$$

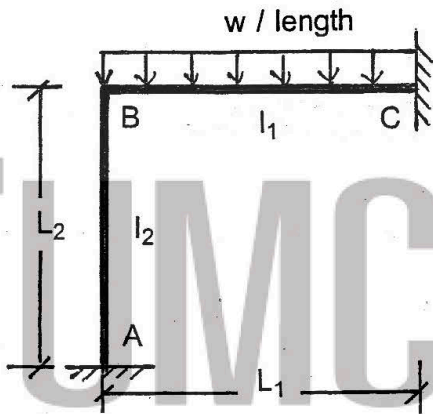




- 1:  $48EI\Delta/37L^2$
  - 2:  $42EI\Delta/37L^2$
  - 3:  $36EI\Delta/37L^2$
  - 4:  $30EI\Delta/37L^2$
- คำตอบที่ถูกต้อง : 4

ข้อที่ 83 :

โครงข้อแข็ง ABC ทำด้วยวัสดุชนิดเดียวกัน รั้งน้ำหนัก ดังรูป จงหาค่าโมเมนต์ดัดที่จุด A กำหนดให้  $I_1 = I_2 = I$  และให้  $L_1 = L_2 = L$



$\therefore I_1 = I_2 = I$   
 $L_1 = L_2 = L$

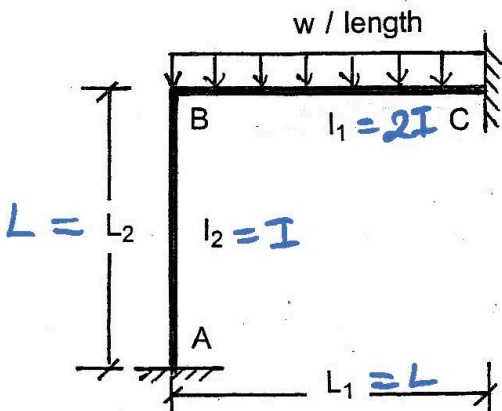
$\therefore DF_{BA} = DF_{BC} = 0.5$

0	0.5	0.5	0
$-\frac{wL^2}{12}$	$+\frac{wL^2}{12}$	$+\frac{wL^2}{12}$	0
$+\frac{wL^2}{24}$	$+\frac{wL^2}{24}$	0	0
$+\frac{wL^2}{48}$	0	$+\frac{wL^2}{48}$	0
0	0	0	0
$+\frac{wL^2}{48}$	$+\frac{wL^2}{24}$	$-\frac{wL^2}{24}$	$+\frac{5wL^2}{48}$
A	B	C	

- 1:  $wL^2/24$
  - 2:  $wL^2/30$
  - 3:  $wL^2/36$
  - 4:  $wL^2/48$
- คำตอบที่ถูกต้อง : 4

ข้อที่ 84 :

โครงข้อแข็ง ABC ทำด้วยวัสดุชนิดเดียวกัน รั้งน้ำหนัก ดังรูป จงหาค่าโมเมนต์ดัดที่จุด B กำหนดให้  $I_1 = 2I_2$  และให้  $L_1 = L_2 = L$



$I/L \sim 1$        $2I/L \sim 2$

*ปรับให้ตรง w L^2*

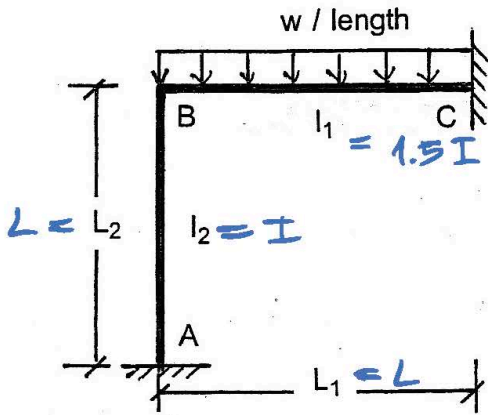
A	0	1/3	2/3	0	C
				$-1/12$	$+1/12$
		$+1/36$	$+2/36$		$0$
	$+1/72$				$+1/36$
	0				0
	$+1/72$	$+1/36$	$-1/36$		$+1/36$

$\therefore M_B = -wL^2/36$

- 1:  $wL^2/24$
  - 2:  $wL^2/30$
  - 3:  $wL^2/36$
  - 4:  $wL^2/48$
- คำตอบที่ถูกต้อง : 3

ข้อที่ 85 :

โครงสร้าง ABC ทำด้วยวัสดุชนิดเดียวกัน รั้งน้ำหนัก ดังรูป จงหาค่า horizontal reaction ที่จุด A กำหนดให้  $I_1 = 1.5I_2$  และให้  $L_1 = L_2 = L$



$I/L \sim 1$        $1.5I/L \sim 1.5$   
 (รวมรวม  $wL^2$ )

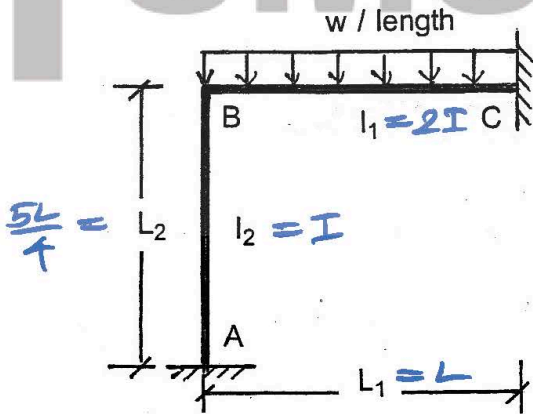
A	0	$2/15$	B	$3/15$	0	C
				$-1/12$	$+1/12$	
	$+1/60$	$+1/30$	$+1/20$		$+1/40$	
	0				0	
	$+1/60$	$+1/30$	$-1/30$	$+1/40$		

$\leftarrow \frac{1}{30}$   
 $\leftarrow H_A = \frac{(1/60) + (1/30)}{L} wL^2 = \frac{wL}{20} \rightarrow$

- 1:  $wL/16$
  - 2:  $wL/20$
  - 3:  $wL/24$
  - 4:  $wL/28$
- คำตอบที่ถูกต้อง : 2

ข้อที่ 86 :

โครงสร้าง ABC ทำด้วยวัสดุชนิดเดียวกัน รั้งน้ำหนัก ดังรูป จงหาค่าโมเมนต์ดัดที่จุด B กำหนดให้  $I_1 = 2I_2$ ,  $L_1 = L$  และ  $L_2 = 5L/4$



$I/(5L/4) \sim 0.8$        $2I/L \sim 2$   
 (รวมรวม  $wL^2$ )

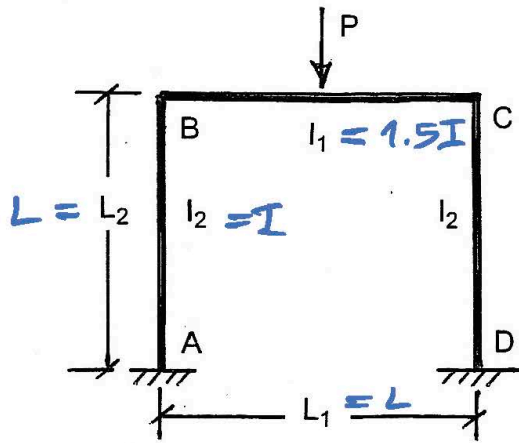
A	0	$2/9$	B	$5/9$	0	C
				$-1/12$	$+1/12$	
	$+1/84$	$+1/42$	$+5/84$		$+5/168$	
	0				0	
	$+1/84$	$+1/42$	$-1/42$	$+5/168$		

$\therefore M_B = -wL^2/42$

- 1:  $wL^2/36$
  - 2:  $wL^2/42$
  - 3:  $wL^2/24$
  - 4:  $wL^2/30$
- คำตอบที่ถูกต้อง : 2

ข้อที่ 87 :

โครงสร้าง ABCD ทำด้วยวัสดุชนิดเดียวกัน รั้งน้ำหนัก P ตรงกึ่งกลางช่วงคาน ดังรูป จงหาค่าโมเมนต์ดัดที่จุด B กำหนดให้  $I_1 = 1.5I_2$  และให้  $L_1 = L_2 = L$



$I/L \sim 1$        $1.5I/L \sim 1.5$   
 $\frac{1}{2}(1.5) = 0.75$

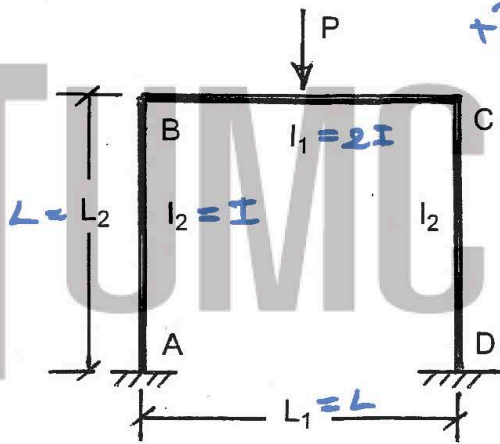
A	0	4/7	3/7	← $\frac{1}{2}$ ของ $\frac{1}{2} PL$
	0		-1/8	
	0	+1/14	+3/56	
	+1/28	0	0	
	0	0	0	
	+1/28	+1/14	-1/14	

$\therefore M_B = -PL/14$

- 1: PL/12
  - 2: PL/14
  - 3: PL/16
  - 4: PL/18
- คำตอบที่ถูกต้อง : 2

ข้อที่ 88 :

โครงข้อแข็ง ABCD ทำด้วยวัสดุชนิดเดียวกัน รับน้ำหนัก P ตรงกึ่งกลางช่วงคาน ดังรูป จงหาค่าโมเมนต์ตัดที่จุด B กำหนดให้  $I_1 = 2I_2$  และให้  $L_1 = L_2 = L$



$I/L \sim 1$        $2I/L \sim 2$

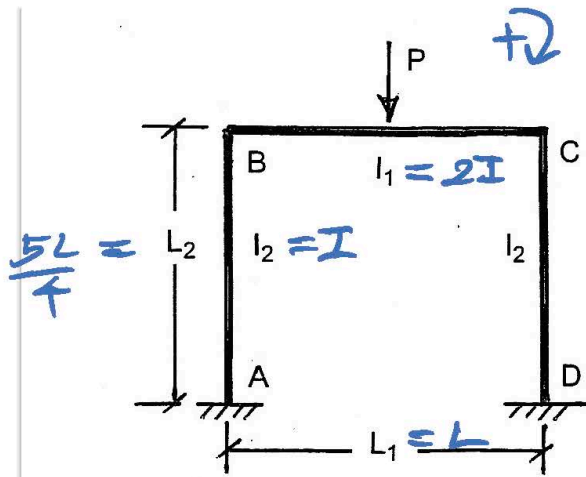
A	0	0.5	0.5	$\frac{1}{2} PL = 1$
	0		-1/8	
	0	+1/16	+1/16	
	+1/32	0	0	
	0	0	0	
	+1/32	+1/16	-1/16	

$\therefore M_B = -\frac{PL}{16}$

- 1: PL/12
  - 2: PL/14
  - 3: PL/16
  - 4: PL/18
- คำตอบที่ถูกต้อง : 3

ข้อที่ 89 :

โครงข้อแข็ง ABCD ทำด้วยวัสดุชนิดเดียวกัน รับน้ำหนัก P ตรงกึ่งกลางช่วงคาน ดังรูป จงหาค่าโมเมนต์ตัดที่จุด A กำหนดให้  $I_1 = 2I_2$ ,  $L_1 = L$  และ  $L_2 = 5L/4$



$\frac{5L}{4} = L_2$

$\therefore M_A = + \frac{PL}{36}$

- 1: PL/12
  - 2: PL/18
  - 3: PL/24
  - 4: PL/36
- คำตอบที่ถูกต้อง : 4

$I \cdot \frac{4}{5L} \sim 2$

$\frac{2 \pm}{L} \sim 5$

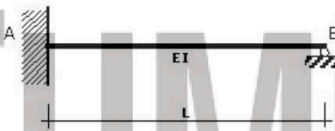
$\frac{1}{2}(5) = 5/2$

		B		
A	1	4/9	5/9	
	0		-1/8	
	0	+1/18	+5/72	
	+1/36	0		
	0	0	0	
	+1/36	+1/18	-1/18	

เนื้อหาวิชา : 535 : Influence line of indeterminate structures

ข้อที่ 90 :

คานาดังรูปหาสมการ Influence line ของแรงปฏิกิริยาที่ฐานรองรับ B



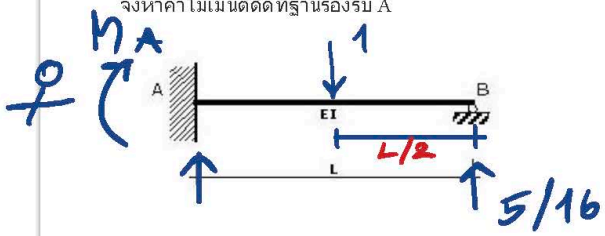
ดูวิธีทำหน้าถัดไป ✓

$x^2(L-x)/(2L^3)$

- 1:
  - 2:
  - 3:  $x^2(3L-x)/(2L^3)$
  - 4:
- คำตอบที่ถูกต้อง : 3

ข้อที่ 91 :

จากรูป influence line ของแรงปฏิกิริยาที่ฐานรองรับ B เท่ากับ  $x^2(3L-x)/(2L^3)$  ถ้ากำหนดให้แรงหนึ่งหน่วยกระทำที่  $x=L/2$  จงหาค่าโมเมนต์ตัดที่ฐานรองรับ A



$$R_B = \left(\frac{L}{2}\right)^2 \left[3L - \frac{L}{2}\right] / 2L^3$$

$$= \frac{L^2}{4} \left[\frac{5L}{2}\right] \cdot \frac{1}{2L^3}$$

$$= \frac{5}{16}$$

- 1: -3L/8
  - 2: -3L/16
  - 3: -3L/32
  - 4: -3L/48
- คำตอบที่ถูกต้อง : 2

ข้อที่ 92 :

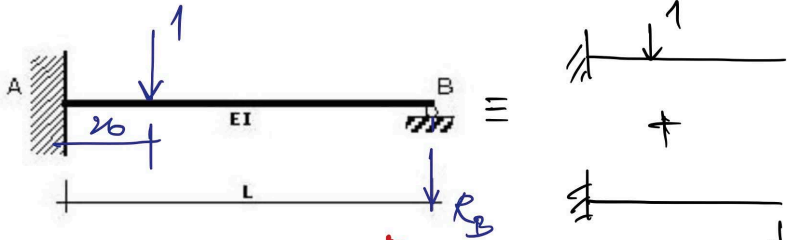
$$\sum M_A = 0 = M_A + 1\left(\frac{L}{2}\right) - \frac{5}{16}L$$

$$\therefore M_A = \frac{5L}{16} - \frac{L}{2} = \frac{5-8}{16}L = -\frac{3L}{16}$$



ข้อที่ 90 :

คำนวณรูปจางหาสมการ Influence line ของแรงปฏิกิริยาที่ฐานรองรับ B

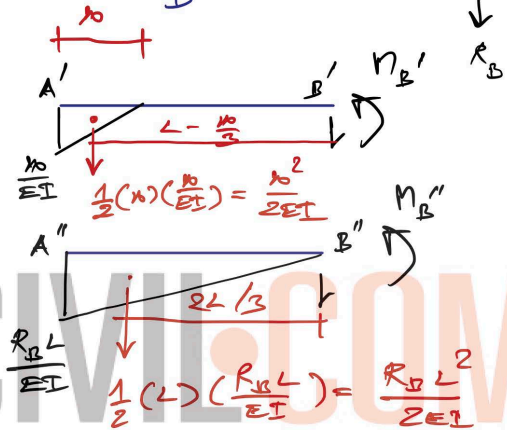


1:  $\frac{x^2(L-x)}{(2L^3)}$

2:  $\frac{x^2(1.5L-x)}{(2L^3)}$

3:  $\frac{x^2(3L-x)}{(2L^3)}$

4:  $\frac{x^2(4L-x)}{(2L^3)}$



คำตอบที่ถูกต้อง : 3

ตามลคชปฎิภา

$$\delta_B = \eta_{B'} = \frac{10L}{2EI} (L - \frac{10}{3}) \downarrow, \quad \delta_{RB} = \eta_{B''} = \frac{R_B L^2}{2EI} (\frac{2L}{3}) \downarrow$$

$$\therefore \delta_B + \delta_{RB} = 0$$

$$\frac{10L}{2EI} (L - \frac{10}{3}) + R_B \frac{L^3}{3EI} = 0$$

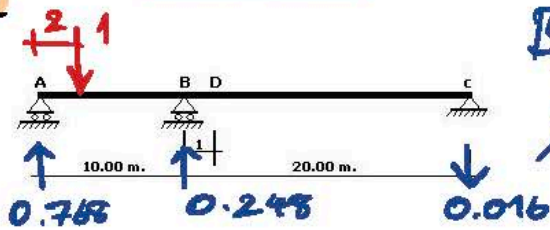
$$R_B = - \frac{10L}{2EI} (L - \frac{10}{3}) \cdot \frac{3EI}{L^3} = - \frac{30L^2}{2L^3} (L - \frac{10}{3})$$

$$= - \frac{10L^2}{2L^3} (3L - 10) = \frac{10L}{2L^3} (3L - 10) \uparrow$$

$$\therefore \text{I.L.O of } R_B = \frac{10L}{2L^3} (3L - 10) \uparrow$$

Yong

จากตามรูปให้หาค่าแรงปฏิกิริยาที่ฐานรองรับ B เมื่อมีแรงหนึ่งหน่วยกระทำที่ระยะ  $x = 2.00$  m. (ห่างจาก A)



By Three Moment Equation

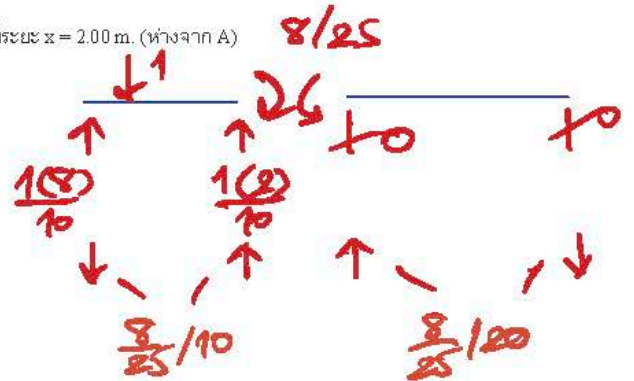
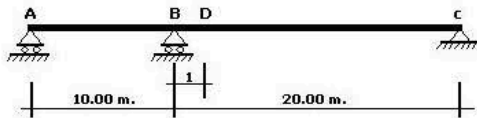
$$M_A(10) + 2M_B(10+20) + M_C(20) = -\frac{1(2)}{6}(10^2 - 2^2)$$

$$M_B = -\frac{96}{6} \cdot \frac{1}{60} = -8/25$$

- 1: 0.124
  - 2: 0.248
  - 3: 0.496
  - 4: 0.744
- คำตอบที่ถูกต้อง : 2

ข้อที่ 93 :

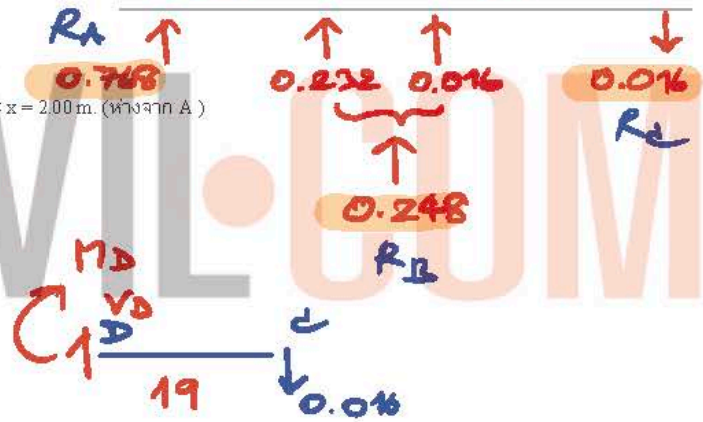
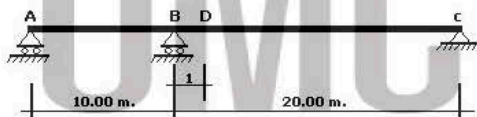
จากตามรูปให้หาค่าแรงปฏิกิริยาที่ฐานรองรับ A เมื่อมีแรงหนึ่งหน่วยกระทำที่ระยะ  $x = 2.00$  m. (ห่างจาก A)



- 1: 0.384
  - 2: 0.768
  - 3: 0.933
  - 4: 1
- คำตอบที่ถูกต้อง : 2

ข้อที่ 94 :

จากตามรูปให้หาค่าแรงเฉือนที่ D เมื่อมีแรงหนึ่งหน่วยกระทำที่ระยะ  $x = 2.00$  m. (ห่างจาก A)



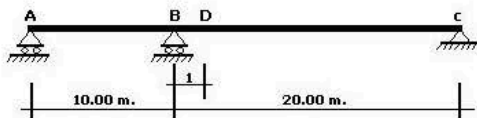
$$\therefore V_D = +0.016$$

$$\approx +0.02$$

- 1: 0
  - 2: 0.02
  - 3: 0.14
  - 4: 0.06
- คำตอบที่ถูกต้อง : 2

ข้อที่ 95 :

จากตามรูปให้หาค่าโมเมนต์ตัดที่ D เมื่อมีแรงหนึ่งหน่วยกระทำที่ระยะ  $x = 2.00$  m. (ห่างจาก A)



$$M_D = -0.016(19)$$

$$= -0.304$$

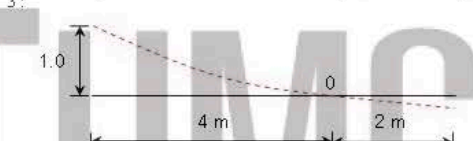
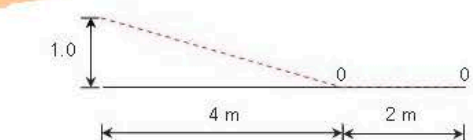
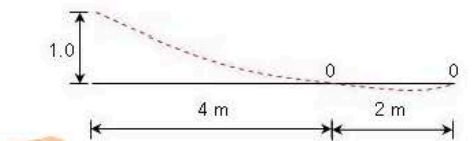
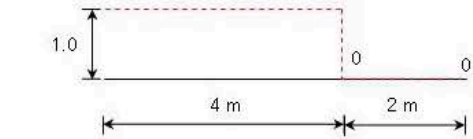
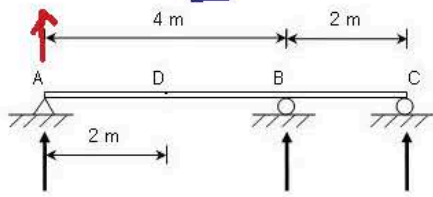
$$\approx -0.30$$

- 1: -0.15
  - 2: -0.30
  - 3: -0.60
  - 4: -1.20
- คำตอบที่ถูกต้อง : 2

ข้อที่ 96 :

ข้อ 97

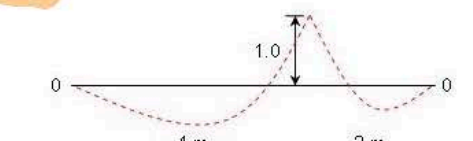
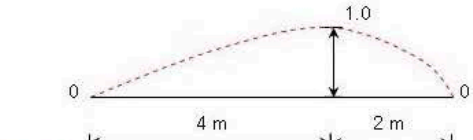
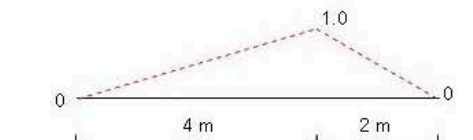
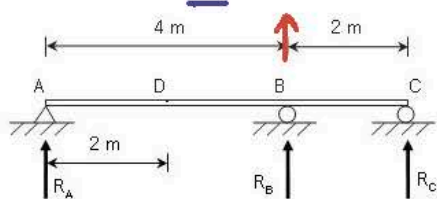
ข้อใดคือ Influence Line ของ  $R_A$



คำตอบที่ถูกต้อง : 2

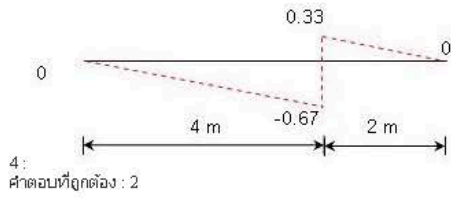
ข้อที่ 97 :

ข้อใดคือ Influence Line ของ  $R_B$



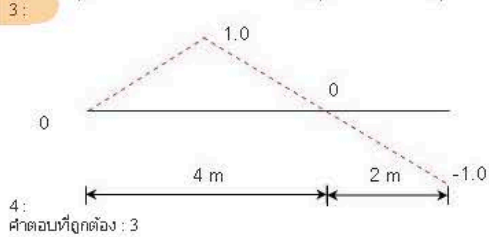
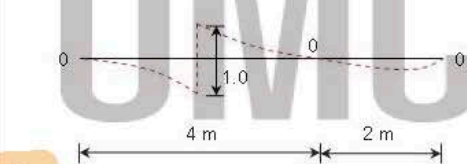
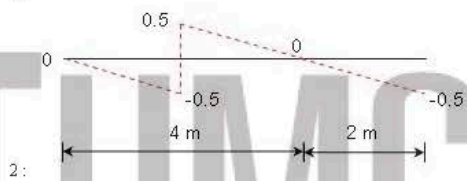
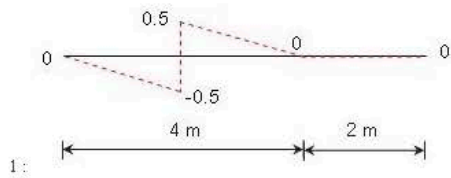
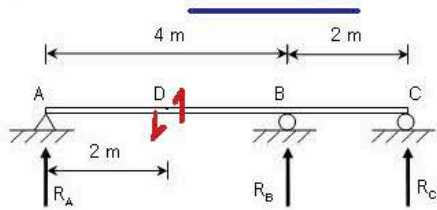
3:

หลักการของ Müller-Breslau  
 สืบหาผลกระทบจากหน่วยน้ำหนักเคลื่อน  
 มา I.L. นั้นสามารถได้โดย  
 1. เติมน้ำหนักที่จุดสนใจ  
 2. เติมน้ำหนักที่จุดสนใจ  
 3. เติมน้ำหนักที่จุดสนใจ  
 4. เติมน้ำหนักที่จุดสนใจ  
 (I.L.) ขององค์ประกอบนั้น  
 โดยพิจารณาผลกระทบที่จุดสนใจ  
 "อินฟลูเอนซ์ไลน์"  
 เมื่อ I.L. ดังกล่าวได้



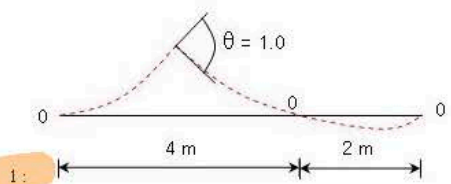
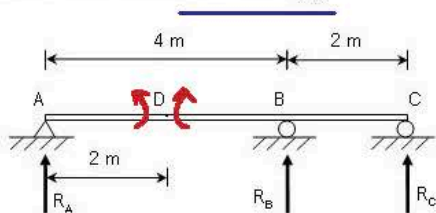
ข้อที่ 98 :

ข้อใดคือ Influence Line ของแรงเฉือนที่ D ( $V_D$ )

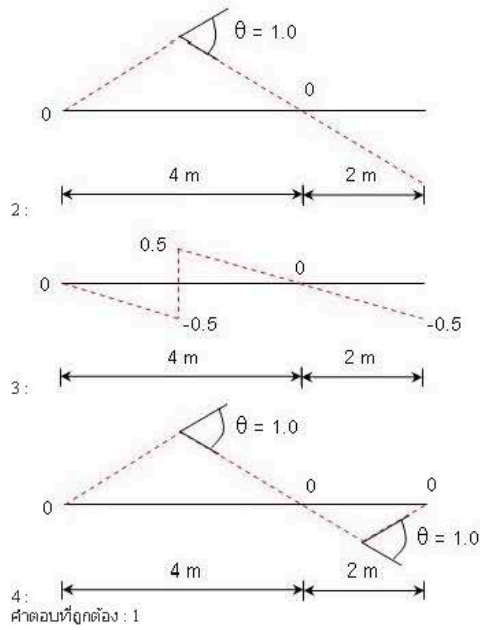


ข้อที่ 99 :

ข้อใดคือ Influence Line ของโมเมนต์ที่ D ( $M_D$ )

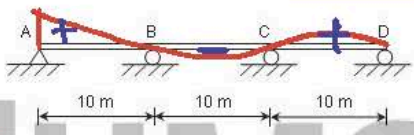




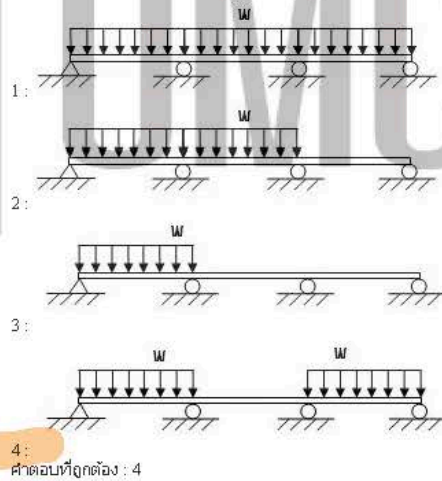


ข้อที่ 100 :

การวางน้ำหนักบรรทุกลงในข้อใดทำให้เกิดแรงปฏิกิริยาที่ A ( $R_A$ ) มีค่าสูงสุด

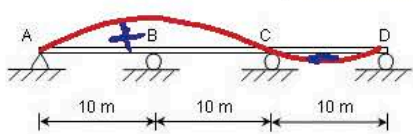


วางคค. คคคค. ข้อนี้ I.L. ข้อนี้

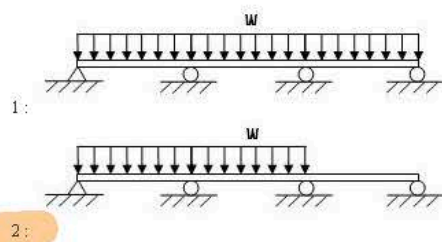


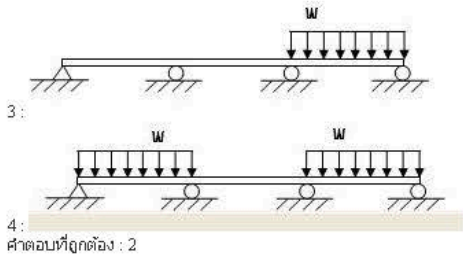
ข้อที่ 101 :

การวางน้ำหนักบรรทุกลงในข้อใดทำให้เกิดแรงปฏิกิริยาที่ B ( $R_B$ ) มีค่าสูงสุด



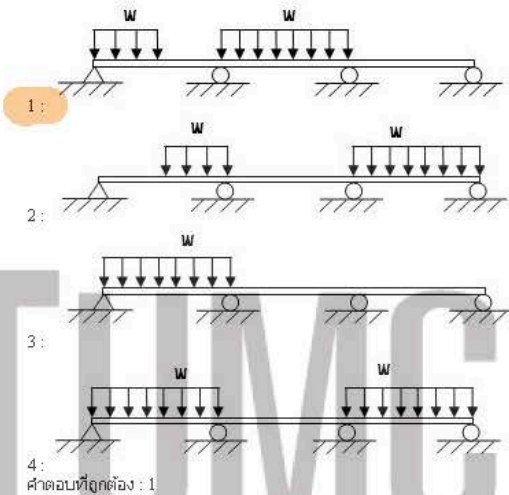
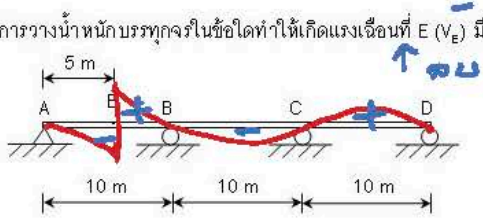
วางคค. คคคค. ข้อนี้ I.L. ข้อนี้





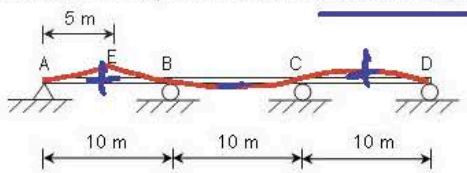
ข้อที่ 102 :

การวางน้ำหนักบรรทุกจรในข้อใดทำให้เกิดแรงเฉือนที่ E ( $V_E$ ) มีค่าสูงสุด



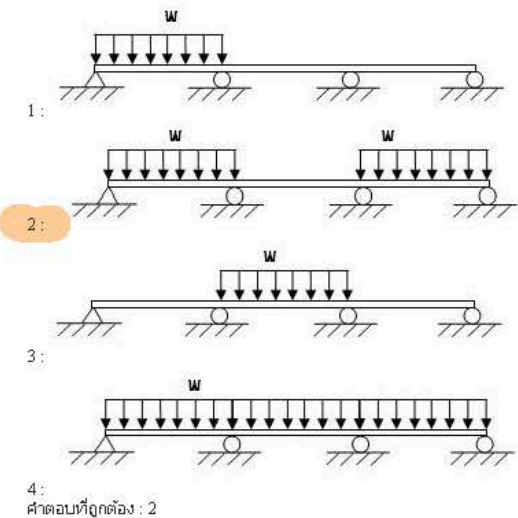
ข้อที่ 103 :

การวางน้ำหนักบรรทุกจรในข้อใดทำให้เกิดโมเมนต์ที่ E ( $M_E$ ) มีค่าสูงสุด



I.L. ของ  $M_E$

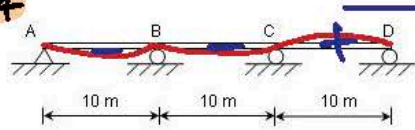
วาง 1/2 ของน้ำหนักบรรทุก  
I.L. 1/2 ของช่วง



ข้อที่ 104 :

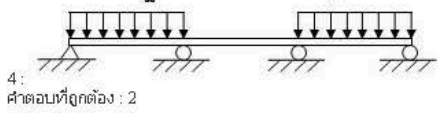
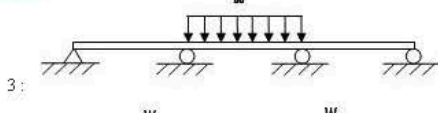
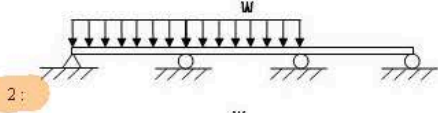
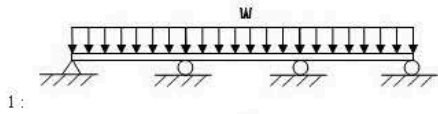
Yon 104

การวางน้ำหนักบรรทุกจรในข้อใดทำให้เกิดโมเมนต์ลบสูงที่สุดที่จุด B ในโครงสร้าง



I.L. of  $M_B^-$

กรณี  $M$  และ  $R$  รับ  $\downarrow$   
โดยที่  $M$  รับ  $\downarrow$   
 $M$  ลงข้างล่าง



คำตอบที่ถูกต้อง : 2

$M$  ลงข้างล่าง

$\therefore$  ขนและคานารับที่  
F. L. ฐาน

ข้อที่ 105 :


จากรูปคานา statically indeterminate จงทำการวางน้ำหนักบรรทุกจรที่มีการกระจายคงที่ (uniformly distributed live load) ที่ทำให้เกิดค่าสูงสุดของแรงปฏิกิริยาที่จุด E



I.L. of  $R_E$

ขนและคานารับที่

I.L. ฐาน



5: คำตอบที่ถูกต้อง : 1

ข้อที่ 106 :

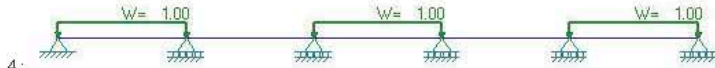

จากรูปคานา statically indeterminate จงทำการวางน้ำหนักบรรทุกจรที่มีการกระจายคงที่ (uniformly distributed live load) ที่ทำให้เกิดค่าสูงสุดของโมเมนต์ดัดที่จุด C



I.L. of  $M_C^-$

ขนและคานารับที่

I.L. ฐาน



5: คำตอบที่ถูกต้อง : 2

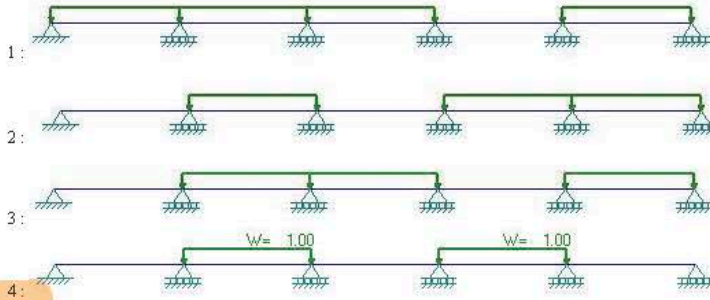
ข้อที่ 107 :

จากรูปคานา statically indeterminate จงทำการวางน้ำหนักบรรทุกจรที่มีการกระจายคงที่ (uniformly distributed live load) ที่ทำให้เกิดค่าสูงสุดของโมเมนต์ดัดที่จุดกึ่งกลางของช่วงคาน DE





ข.ล. ของ



คำตอบที่ถูกต้อง : 4

โดยทจ:   
 ๑๖๖ พ เพื่อใช้ คำนวณ   
 M<sub>T</sub> ที่ support DE   
 max

ความบ. คทว. ช่วงที่ I.L.   
 ๑๖๖ พ

ข้อที่ 108 :

ข้อใดคือประโยชน์ของการเขียนแผนภาพ Influence line ของคาน statically indeterminate เพื่อหาค่าสูงสุดของแรงและโมเมนต์ต่างๆ ที่จุดใดจุดหนึ่งบนคาน

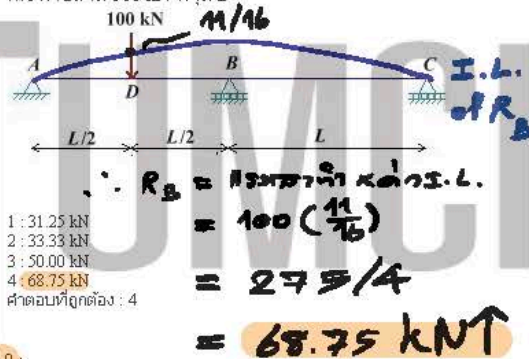
- 1: หาค่าตำแหน่งของกลุ่มน้ำหนักบรรทุก
- 2: หารูปแบบของกลุ่มน้ำหนักบรรทุก
- 3: หาขนาดและรูปแบบของกลุ่มน้ำหนักบรรทุก
- 4: หาค่าตำแหน่งและรูปแบบของกลุ่มน้ำหนักบรรทุก

คำตอบที่ถูกต้อง : 4

โดยหลักการคือ ค่าของแรงปฏิกิริยา   
 ที่จุดใดจุดหนึ่งบนคาน   
 ซึ่งในกรณีนี้คือค่าของแรงปฏิกิริยา   
 ที่จุด B

ข้อที่ 109 :

ถ้าค่าพิกัดที่จุด D ของแผนภาพ influence line ของแรงปฏิกิริยาที่จุด B ของคานดังที่แสดงในรูปมีค่า 11/16 แล้ว จงหาค่าแรงปฏิกิริยาที่จุด B เนื่องจากแรงกระทำขนาด 100 kN ที่จุด D



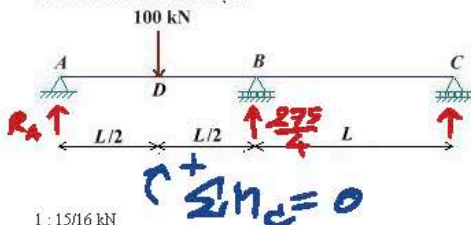
- 1: 31.25 kN
- 2: 33.33 kN
- 3: 50.00 kN
- 4: 68.75 kN

คำตอบที่ถูกต้อง : 4

หลักการคือ จุดที่ค่าของ I.L.   
 ๑๖๖ พ. ขร. ที่จุด B   
 และ. เปรียบเทียบค่าของ I.L.   
 ที่จุด D กับค่าของ I.L.   
 ที่จุด B

ข้อที่ 110 :

ถ้าค่าพิกัดที่จุด D ของแผนภาพ influence line ของแรงปฏิกิริยาที่จุด B ของคานดังที่แสดงในรูปมีค่า 11/16 แล้ว จงหาค่าแรงปฏิกิริยาที่จุด A เนื่องจากแรงกระทำขนาด 100 kN ที่จุด D



- 1: 15/16 kN
- 2: 110/16 kN
- 3: 150/16 kN
- 4: 650/16 kN

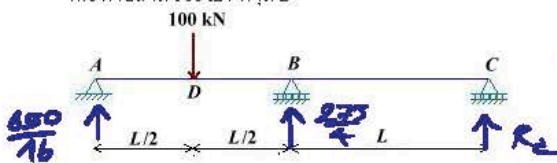
คำตอบที่ถูกต้อง : 4

$$R_A = \frac{1}{2L} [100(3L/2) - (275/4)(L)] = 325/8 = 650/16 \text{ kN}$$

หลักการคือ คำนวณค่าของ I.L.   
 ที่จุด D และ. เปรียบเทียบค่าของ I.L.   
 ที่จุด D กับค่าของ I.L.   
 ที่จุด A

ข้อที่ 111 :

ถ้าค่าพิกัดที่จุด D ของแผนภาพ influence line ของแรงปฏิกิริยาที่จุด B ของคานดังที่แสดงในรูปมีค่า 11/16 แล้ว จงหาค่าแรงปฏิกิริยาที่จุด C เนื่องจากแรงกระทำขนาด 100 kN ที่จุด D



$$R_C = 100 - \frac{650}{16} - \frac{275}{4}$$

$$= -\frac{75}{8} = -150/16$$

$$= 150/16 \text{ kN}$$

- 1: 15/16 kN
- 2: 65/16 kN
- 3: 150/16 kN
- 4: 650/16 kN

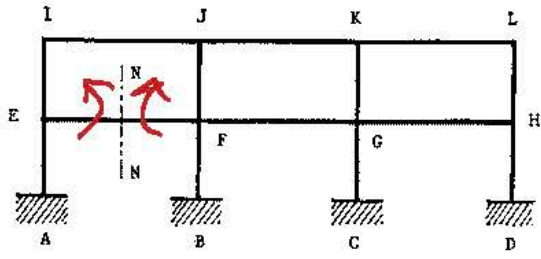
คำตอบที่ถูกต้อง : 3

ข้อที่ 112 :



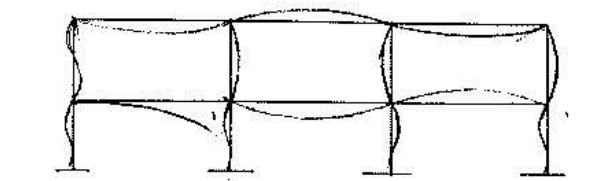
Yon 112

ให้ร่าง(sketch) ภาพ Influence line ของ โมเมนต์ ที่หน้าตัด N-N

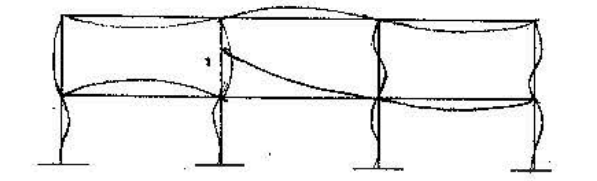


อ. อธิวัฒน์

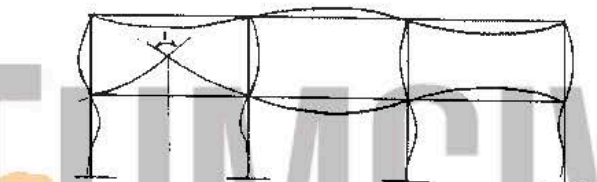
Müller-Breslau



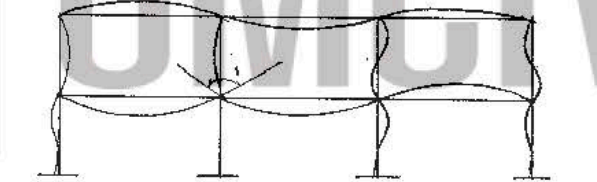
1:



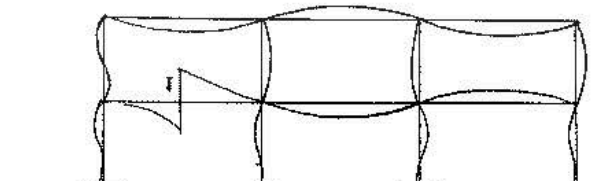
2:



3:



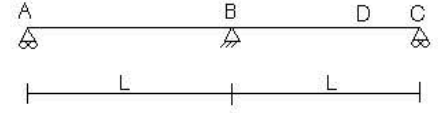
4:



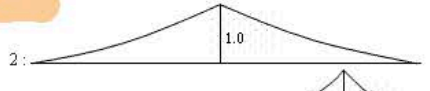
5: คำตอบที่ถูกต้อง : 3

ข้อที่ 113:

ภาพใดเป็นอินฟลูเอนซ์ไลน์ของแรงปฏิกิริยา A



1:



2:

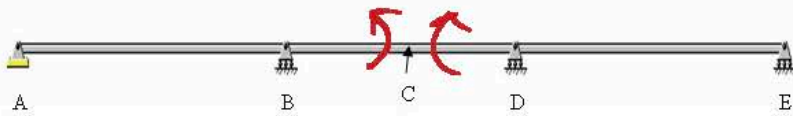


3:

4: ไม่มีคำตอบที่ถูกต้อง คำตอบที่ถูกต้อง : 1

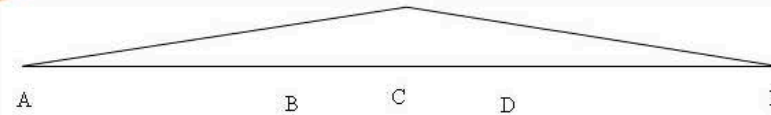
ข้อที่ 114:

จงเลือกรูปร่างเส้นอิทธิพล (Influence line) ของโมเมนต์บวกที่จุด C เมื่อเคลื่อนที่รองรับน้ำหนักหนึ่งหน่วยเคลื่อนจากจุด A ไป E ดังแสดงในรูป

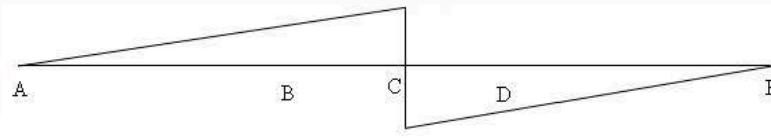


ใช้หลักการ Muller-Breslau

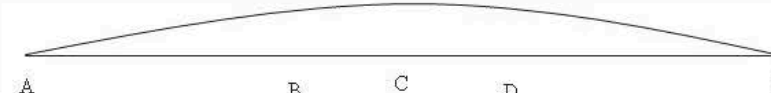
1:



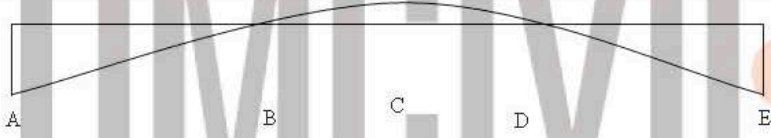
2:



3:



4:




5:

คำตอบที่ถูกต้อง: 1

ข้อที่ 115:

จงเลือกรูปแบบการวางน้ำหนักบรรทุกจร (Live Load Pattern) เพื่อให้เกิดโมเมนต์ลบสูงสุดในสถานที่ตำแหน่งฐานรองรับ B พิจารณาโครงสร้างตามรูปประกอบ



I.L. of  $M_B$

วางแบบ!  
คพว = ช่องที่  
I.L. ของคพว

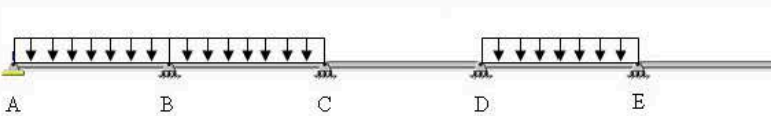
1:



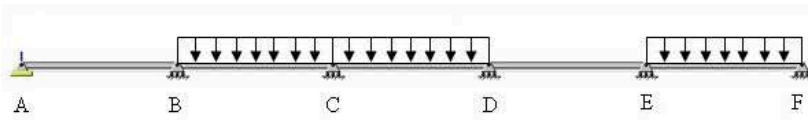
2:



3:



4:



5:   
คำตอบที่ถูกต้อง : 4

**ข้อที่ 116:**

ตามหลักการ Muller-Breslau แผนภาพ Influence line ของคาน statically indeterminate จะมีลักษณะคล้ายคลึงกับแผนภาพชนิดใด?

- 1: shear diagram
  - 2: moment diagram
  - 3: normal force diagram
  - 4: deflection diagram
- คำตอบที่ถูกต้อง : 4

**ข้อที่ 117:**

ถ้าเราทราบแผนภาพ influence line ของแรงปฏิกิริยาที่จุด A ของคานแล้ว เราจะหาค่าแรงปฏิกิริยาที่จุด A เนื่องจากแรงกระทำเป็นจุดขนาด P kN ที่จุด B ได้จากข้อใด

- 1: พิกัดที่จุด A
  - 2: พิกัดที่จุด B
  - 3: ผลบวกของพิกัดที่จุด B และค่าแรง P
  - 4: ผลคูณของพิกัดที่จุด B และค่าแรง P
- คำตอบที่ถูกต้อง : 4

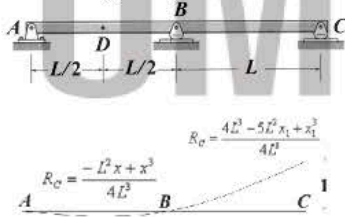
**ข้อที่ 118:**

ถ้าเราทราบแผนภาพ influence line ของแรงปฏิกิริยาที่จุด A ของคานแล้ว เราจะหาค่าแรงปฏิกิริยาที่จุด A เนื่องจากแรงกระทำแบบกระจายสม่ำเสมอ w kN/m ตลอดความยาวของคานได้จากข้อใด

- 1: พิกัดที่จุด A
  - 2: พื้นที่ของแผนภาพ influence line
  - 3: ผลคูณของพิกัดที่จุด A และค่าแรง w
  - 4: ผลคูณพื้นที่ของแผนภาพ influence line และค่าแรง w
  - 5: ผลคูณของพิกัดที่จุด A และพื้นที่ของแผนภาพ influence line
- คำตอบที่ถูกต้อง : 4

**ข้อที่ 119:**

จากรูป ถ้าเราทราบแผนภาพ influence line ของแรงปฏิกิริยาที่จุด C ของคานแล้ว ค่าแรงปฏิกิริยาที่จุด C เนื่องจากแรง 10 kN กระทำที่จุด D มีค่าเท่าใด (คำตอบใช้เลขนัยสำคัญ 2 หลัก)

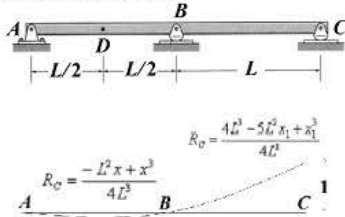


$$\begin{aligned}
 R_C &= 10 \cdot \left[ \frac{-L^2(\frac{L}{2}) + (\frac{L}{2})^3}{4L^3} \right] \\
 &= \frac{10L^3}{4L^3} \left[ -\frac{1}{2} + \frac{1}{8} \right] \\
 &= \frac{10}{4} \left( -\frac{4+1}{8} \right) = -\frac{10(5)}{4(8)} \\
 &= -\frac{15}{16} = -0.94 \text{ kN}
 \end{aligned}$$

- 1: 0.68 kN
  - 2: -0.68 kN
  - 3: 0.94 kN
  - 4: -0.94 kN
- คำตอบที่ถูกต้อง : 4

**ข้อที่ 120:**

จากรูป ถ้าเราทราบแผนภาพ influence line ของแรงปฏิกิริยาที่จุด C ของคานแล้ว ค่าแรงปฏิกิริยาที่จุด A เนื่องจากแรง 10 kN กระทำที่จุด D มีค่าเท่าใด (คำตอบใช้เลขนัยสำคัญ 2 หลัก)

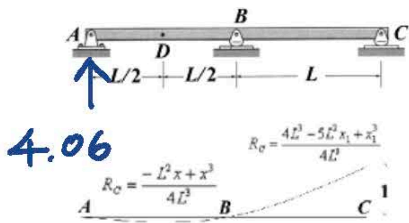


$$\begin{aligned}
 R_A &= \frac{1}{L} \left[ 10\left(\frac{L}{2}\right) - 0.94L \right] \\
 &= \frac{1}{L} \left[ 5L - 0.94L \right] \\
 &= 4.06 \text{ kN} \uparrow \approx 4.1 \text{ kN} \uparrow
 \end{aligned}$$

- 1: 3.8 kN
  - 2: 3.9 kN
  - 3: 4.0 kN
  - 4: 4.1 kN
- คำตอบที่ถูกต้อง : 4

**ข้อที่ 121:**

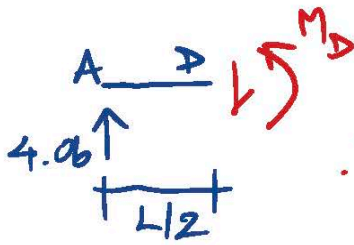
จากรูป ถ้าเราทราบแผนภาพ influence line ของแรงปฏิกิริยาที่จุด C ของคานแล้ว ค่าโมเมนต์ที่จุด D เนื่องจากแรง 10 kN กระทำที่จุด D มีค่าเท่าใด (คำตอบใช้เลขนัยสำคัญ 2 หลัก)



4.06

$$R_c = \frac{-L^2 x + x^3}{4L^3}$$

$$R_c = \frac{4L^3 - 5L^2 x_1 + x_1^3}{4L^3}$$



$$\therefore M_D = 4.06 \left( \frac{L}{2} \right)$$

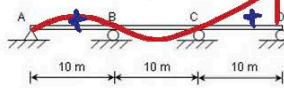
$$= 2.03L \text{ kN}\cdot\text{m}$$

$$\approx 2.0L \text{ kN}\cdot\text{m}$$

- 1: 1.9L kN-m
  - 2: 2.0L kN-m
  - 3: 2.1L kN-m
  - 4: 2.2L kN-m
- คำตอบที่ถูกต้อง : 2

ข้อที่ 122:

การวางน้ำหนักบรรทุกจจรในข้อใดทำให้เกิดแรงปฏิกิริยาที่ A ( $R_D^+$ ) มีค่าสูงสุด



คำตอบที่ถูกต้อง : 2  
 I.L. of  $R_D^+$   
 ?  
 ค่าสูงสุด  $R_D^+$

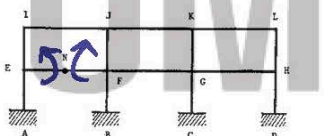
- 1:
- 2:
- 3:

วางแบบไหนจะคุ้มกับ I.L.  
 มีค่าบวก

- 4:
- คำตอบที่ถูกต้อง : 3

ข้อที่ 123:

ให้ร่าง (sketch) ภาพ Influence line ของ โมเมนต์ตัดที่จุด N

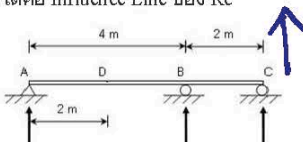


หลักการ Müller-Breslau  
 สืบเสาะหาว่า ที่จุด N ได้ผลเป็น 1  
 และ เปลี่ยนรูปไปให้เหลือเป็น  
 0 และ 1 หรือ 0 หรือ 1

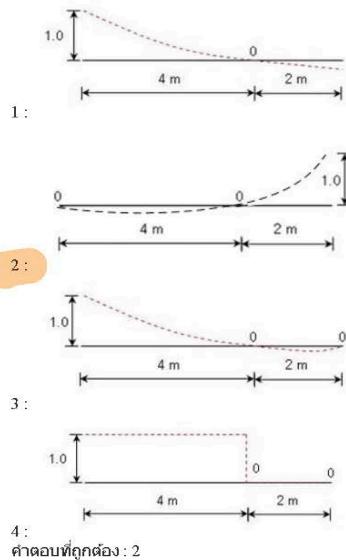
- 1:
  - 2:
  - 3:
  - 4:
- คำตอบที่ถูกต้อง : 3

ข้อที่ 124:

ข้อใดคือ Influence Line ของ  $R_c$








คำตอบที่ถูกต้อง : 2

ข้อที่ 125:



I.L. of  $R_A$

ถ้าค่าพิกัดที่จุด D ของแผนภาพ influence line ของแรงปฏิกิริยาที่จุด A ของคานดังแสดงในรูปมีค่า 0.406 แล้ว จงหาค่าแรงปฏิกิริยาที่จุด A เนื่องจากแรงกระทำขนาด 50 kN ที่จุด D

1: 40.6 kN

2: 20.3 kN

3: 50 kN

4: 60.9 kN

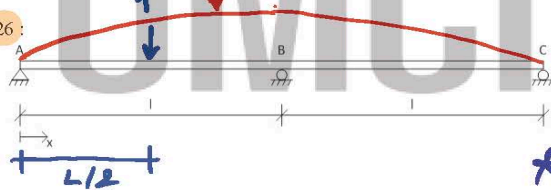
คำตอบที่ถูกต้อง : 2

$$R_A = F \cdot \text{พิกัดจุดที่พิจารณา}$$

$$= 50 (0.406)$$

$$= 20.3 \text{ kN}$$

ข้อที่ 126:



I.L. of  $R_B$

จากรูป influence line ของแรงปฏิกิริยาที่ฐานรองรับ B ของคานดังแสดงในรูปในช่วง  $0 < x < l$  มีค่าเท่ากับ  $(1/2l^3)(3l^2x - x^3)$  ถ้ากำหนดให้แรงหนึ่งหน่วยกระทำที่  $x = l/2$  จงหาค่าแรงปฏิกิริยาที่จุด B

$$R_B = F \cdot \text{พิกัดจุดที่พิจารณา}$$

$$R_B = 1 \cdot \left\{ \frac{1}{2l^3} \left[ 3l^2 \left( \frac{l}{2} \right) - \left( \frac{l}{2} \right)^3 \right] \right\}$$

$$= 1 \left[ \frac{l^3}{2l^3} \left( \frac{3}{2} - \frac{1}{8} \right) \right]$$

$$= \frac{1}{2} \left( \frac{12-1}{8} \right) = \frac{11}{16}$$

1: -11/6

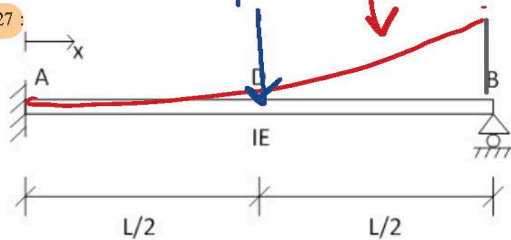
2: 5/8

3: 1/2

4: 11/16

คำตอบที่ถูกต้อง : 4

ข้อที่ 127:



I.L. of  $R_B$

$$R_B = F \cdot \text{พิกัดจุดที่พิจารณา}$$

$$= 1 \left[ \left( \frac{l}{2} \right)^2 \cdot \frac{1}{2l^3} \cdot \left( 3l - \frac{l}{2} \right) \right]$$

จากรูป influence line ของแรงปฏิกิริยาที่ฐานรองรับ B ของคานดังแสดงในรูป  $(x^2/2l^3)(3l-x)$  ถ้ากำหนดให้แรงหนึ่งหน่วยกระทำที่  $x = l/2$  จงหาค่าแรงปฏิกิริยาที่จุด B

$$= \frac{l^2}{8l^3} \left( \frac{6l-l}{2} \right) = \frac{1}{8l} \left( \frac{5l}{2} \right)$$

$$= \frac{5}{16}$$

1: 5/16

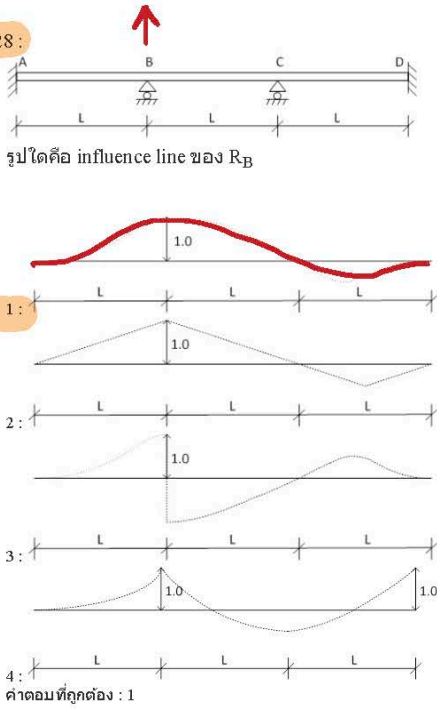
2: 8/16

3: 3/16

4: 4/16

คำตอบที่ถูกต้อง : 1

ข้อที่ 128:



## หลักการของ Muller Breslau

- สิ่งแรกที่เราต้องหาคืออิทธิพล  
ที่จะหาออกมา เกิดการเปลี่ยนแปลง  
ไปไหนบ้างที่หน้าที่จะบวก  
หรือลบ

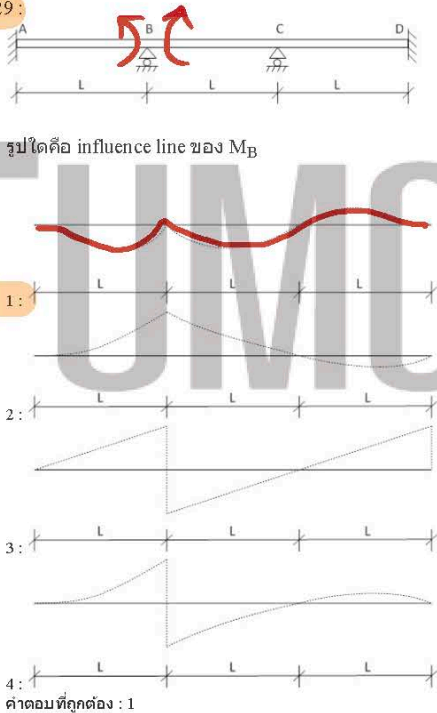
- ให้หาเส้นกราฟที่เปลี่ยนแปลง  
ของโครงสร้างในข้อ  
นี้เองก็ทั้งหมด

- หากที่รองรับเป็นแบบ  
ยึดแน่น เส้นกราฟที่เปลี่ยนแปลง

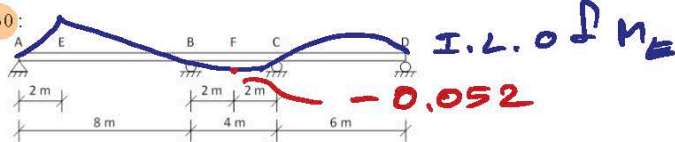
จะเท่ากับที่รองรับ ( $\theta = 0$ )

- ที่รองรับแบบอื่นคือที่แน่น  
ที่รองรับแบบอื่นคือที่แน่น  
ที่หลุดโครงสร้างไปก็  
เดี๋ยวนี้ สิ่งที่เราต้อง  
เปลี่ยนแปลงโครงสร้าง  
(จากข้อ 128, 129, 130 )

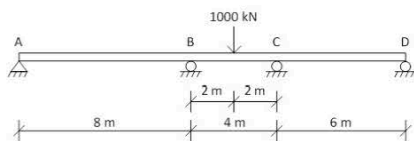
ข้อที่ 129:



ข้อที่ 130:



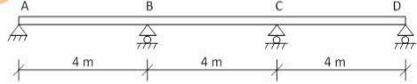
ถ้าพบว่าค่าขนาดของพิกัดที่จุด F ของแผนภาพ influence line ของโมเมนต์ที่จุด E มีค่าเท่ากับ 0.052 จงหาค่าโมเมนต์ที่จุด E ของคานที่มีแรงกระทำดังรูป



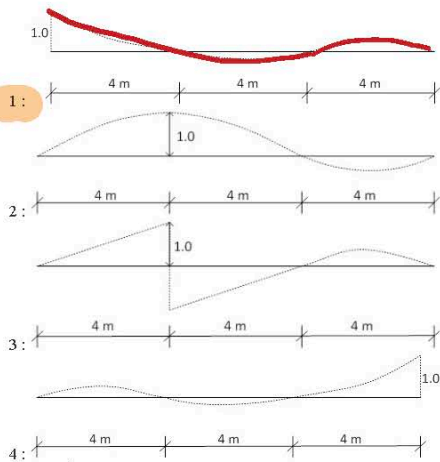
$$\begin{aligned} \therefore M_E &= 1000 \cdot \text{ค่า I.L. ที่จุด F} \\ &= 1000 \cdot (-0.052) \\ &= -52 \text{ kN}\cdot\text{m} \end{aligned}$$

- 1: -52 kN · m
  - 2: 52 kN · m
  - 3: 104 kN · m
  - 4: -104 kN · m
- คำตอบที่ถูกต้อง : 1

ข้อที่ 131

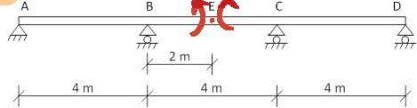


รูปใดคือ influence line ของ  $R_A$

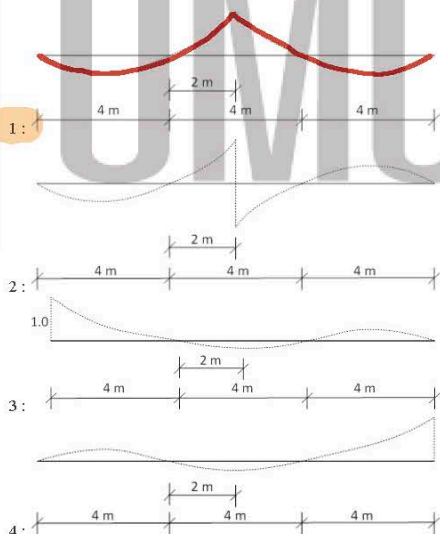


คำตอบที่ถูกต้อง : 1

ข้อที่ 132 :



รูปใดคือ influence line ของ  $M_E$



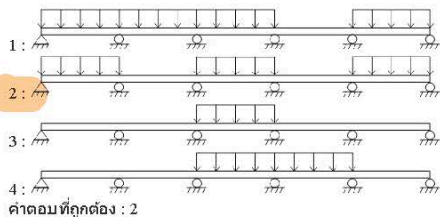
คำตอบที่ถูกต้อง : 1

ข้อที่ 133 :



ร.ล. ของ  $M$  ที่จุดรองรับ C

จากรูปคาน Statically indeterminate จงวางน้ำหนักบรรทุกที่มีการกระจายคงที่ (uniformly distributed load) ที่ทำให้เกิดโมเมนต์ตัดที่จุดกึ่งกลางของช่วง CD มากสุด



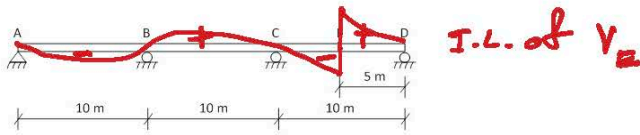
คำตอบที่ถูกต้อง : 2

น้ำหนักที่วางตอนช่วง CD  
 ∴ 0.5 & 0.5 = ช่วง 0.5  
 ช่วง 1 I.L. ให้ค่ามากที่สุด

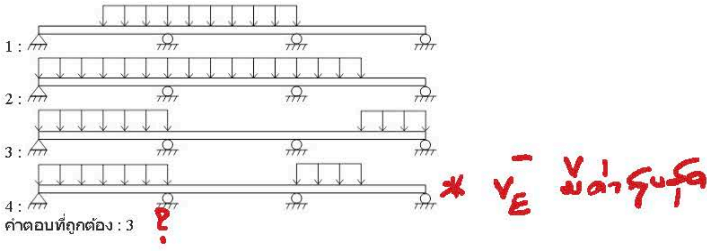
ข้อที่ 134 :








การวางน้ำหนักบรรทุกในข้อใดที่ทำให้เกิดแรงเฉือนที่จุด E มีค่าสูงสุด

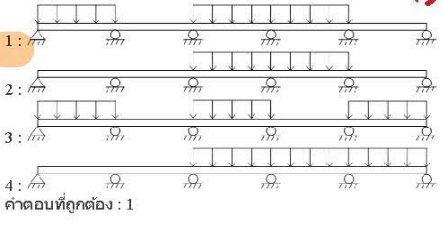


ข้อที่ 135 :



จากรูปคาน statically indeterminate จงวางน้ำหนักบรรทุกที่ให้การกระจายคงที่ (uniformly distributed live load) ที่ทำให้เกิดค่าสูงสุดของโมเมนต์ตัดที่จุด D

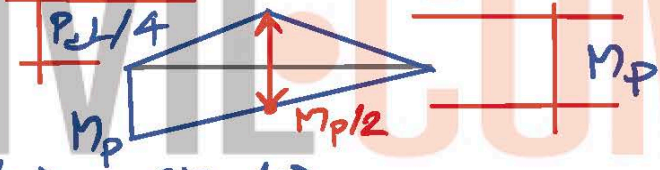
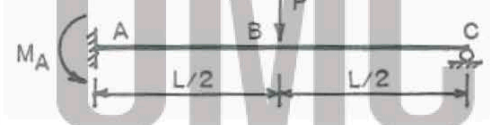
วางหน. เหนือช่วงที่ I.L. มีค่าสูง



เนื้อหาวิชา : 536 : Introduction to plastic analysis

ข้อที่ 136 :

จงวิเคราะห์หาค่าน้ำหนักบรรทุกประลัยของคานที่แสดงซึ่งรับน้ำหนักแบบจุดที่กึ่งกลางช่วงคาน สมมติว่าคานมีรูปตัดคงที่และโมเมนต์พลาสติกของหน้าตัดเท่ากับ  $M_p$




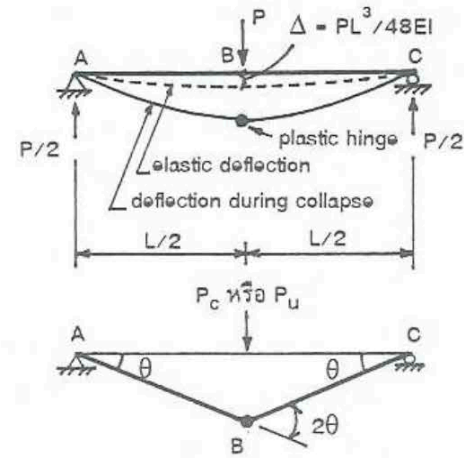
$$M_p = (P_c L/4) - (M_p/2)$$

$$\therefore P_c = \frac{4}{L} (M_p + \frac{M_p}{2}) = \frac{4}{L} \cdot \frac{3M_p}{2} = 6M_p/L$$

- 1:  $2M_p/L$
  - 2:  $3M_p/L$
  - 3:  $4M_p/L$
  - 4:  $6M_p/L$
  - 5:  $9M_p/L$
- คำตอบที่ถูกต้อง : 4

ข้อที่ 137 :

คานช่วงเดียวธรรมดา ABC ซึ่งมีรูปตัดสี่เหลี่ยมผืนผ้าขนาด  $b \times h$  คงที่ตลอดความยาวดังแสดงในรูป ถ้าคานนี้ทำด้วยวัสดุเหนียวเนื้อเดียวกัน มีน้ำหนักกระทำดังรูป จงวิเคราะห์หาค่าน้ำหนักบรรทุกประลัยแบบจุด



$$M_p = P_c L/4$$

$$\therefore P_c = 4M_p/L$$

- 1:  $4M_y/L$
  - 2:  $8M_y/L$
  - 3:  $4M_p/L$
  - 4:  $8M_p/L$
  - 5:  $8M_p/27$
- คำตอบที่ถูกต้อง : 3

ข้อที่ 138 :

ข้อใดไม่ใช่รูปแบบของเมคคาไนซึ่มอิสระ (independent mechanisms)

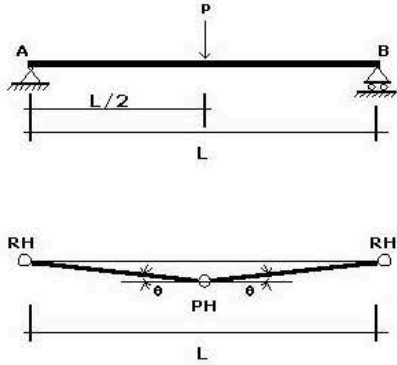


# independent mechanism ไม่ขึ้นกับ load

- 1: Beam Mechanisms
  - 2: Sway Mechanisms
  - 3: Gable Mechanisms
  - 4: Load Mechanisms
  - 5: Joint Mechanisms
- คำตอบที่ถูกต้อง : 4

ข้อที่ 139 :

กรณีแสดงในรูป จงคำนวณหาหน้าหนักประลัยโดยวิธี plastic analysis



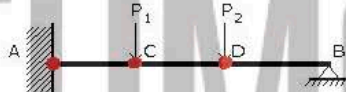
$$M_p = P_c L/4$$

$$\therefore P_c = 4M_p/L$$

- 1:  $M_p/L$
  - 2:  $2M_p/L$
  - 3:  $3M_p/L$
  - 4:  $4M_p/L$
- คำตอบที่ถูกต้อง : 4

ข้อที่ 140 :

กรณีแบบ indeterminate ดังรูป ตรงจุดใดบ้างที่มีโอกาสที่จะเกิด plastic hinge

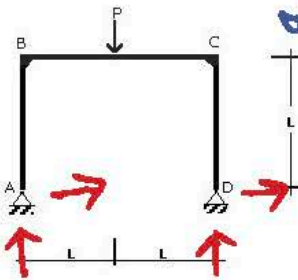


- บริเวณฐานรองรับ (fixed)  
- บริเวณที่รับ Point Load

- 1: A และ C
  - 2: A, C และ D
  - 3: A, B, C และ D
  - 4: เฉพาะ A และ B
- คำตอบที่ถูกต้อง : 2

ข้อที่ 141 :

โครงสร้างดังรูป ต้องการจำนวนของ plastic hinge เท่าไร จึงทำให้โครงสร้างไม่เสถียรภาพ



ข้อควรพิจารณา plastic hinge =  $DI + 1$

$$DI = 4 - 3 = 1$$

$$\therefore จำนวน = 1 + 1 = 2$$

- 1: 2
  - 2: 3
  - 3: 4
  - 4: 5
- คำตอบที่ถูกต้อง : 1

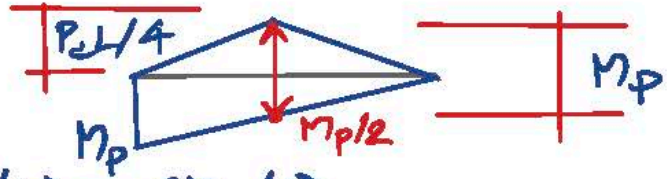
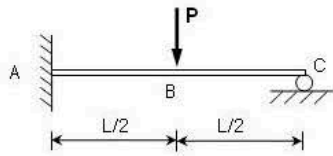
ข้อที่ 142 :

ข้อใดกล่าวถูกต้อง

- 1: plastic hinge จะต่างกับ hinge ธรรมดา (real hinge) ตรงที่มีหน่วยแรงตัดจนถึงจุดกลางตลอดหน้าตัด แต่ hinge ธรรมดา ค่าหน่วยแรงตัด จะเท่ากับศูนย์ ✓
  - 2: ถูกทุกข้อ
  - 3: plastic hinge จะเกิดตรงจุดที่มีค่าโมเมนต์ตัดสูงสุดก่อน หรือ บริเวณฐานรองรับ และ บริเวณที่น้ำหนักกระทำเป็นจุด ✓
  - 4: plastic hinge จะเหมือนกับ hinge ธรรมดา (real hinge) ตรงที่มีการเคลื่อนที่กันได้ ✓
- คำตอบที่ถูกต้อง : 2

ข้อที่ 143 :

โดยวิธี Plastic Analysis ค่าแรง P ที่มากที่สุดที่มีค่าเท่าใด กำหนด Plastic Moment ของคานมีค่าเท่ากับ  $M_p$



$$M_p = (P_c L/4) - (M_p/2)$$

$$\therefore P_c = \frac{4}{L} \left( M_p + \frac{M_p}{2} \right) = \frac{4}{L} \cdot \frac{3M_p}{2} = 6M_p/L$$

1:  $\frac{M_p}{L}$

2:  $\frac{4M_p}{L}$

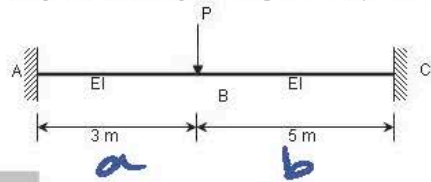
3:  $\frac{6M_p}{L}$

4:  $\frac{8M_p}{L}$

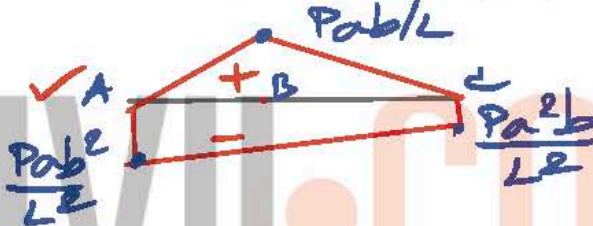
คำตอบที่ถูกต้อง : 3

ข้อที่ 144 :

จากรูป คานเหล็กจะมี plastic hinge เกิดขึ้นที่จุดใดก่อน เมื่อแรง P มีค่าเพิ่มขึ้นอย่างต่อเนื่องจนทำให้เกิด plastic hinge



เกิดขึ้นที่จุดที่มี M สูงสุดก่อน



1: A

2: B

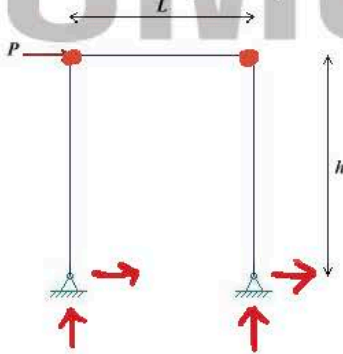
3: C

4: A และ C

คำตอบที่ถูกต้อง : 1

ข้อที่ 145 :

จากรูป โครงข้อแข็งเหล็กจะมี plastic hinge เกิดขึ้นกี่จุด จึงทำให้เกิด complete collapse mechanism



จำนวน plastic hinge =  $\Delta I + 1$

$$= (4 - 3) + 1$$

$$= 2$$

1: 1

2: 2

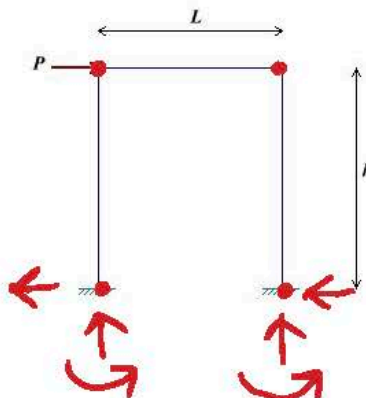
3: 3

4: 4

คำตอบที่ถูกต้อง : 2

ข้อที่ 146 :

จากรูป เมื่อแรง P มีค่าเพิ่มขึ้นอย่างต่อเนื่อง โครงข้อแข็งเหล็กจะมี plastic hinge เกิดขึ้นกี่จุด จึงทำให้เกิด complete collapse mechanism



จำนวน plastic hinge =  $\Delta I + 1$

$$= (6 - 3) + 1$$

$$= 4$$

1: 1

2: 2

- 3:3
- 4:4
- คำตอบที่ถูกต้อง : 4

ข้อที่ 147 :

การวิเคราะห์และออกแบบโดยวิธีพลาสติก เหมาะกับโครงสร้างแบบใด

- 1: โครงสร้างไม้
- 2: โครงสร้างเหล็ก
- 3: โครงสร้างคอนกรีตอัดแรง
- 4: โครงสร้างคอนกรีตเสริมเหล็ก
- คำตอบที่ถูกต้อง : 2

เหมาะกับการวิเคราะห์ด้วยวิธีพลาสติก

ข้อที่ 148 :

จุดหมุนพลาสติก (Plastic Hinge) จะมีค่าโมเมนต์เท่าใด

- 1:  $M=0$
- 2:  $M = M_y$
- 3:  $M = M_p$
- 4: ไม่มีคำตอบที่ถูกต้อง
- คำตอบที่ถูกต้อง : 3

$M_p \Rightarrow$  Plastic Moment

ข้อที่ 149 :

โมดูลัสพลาสติก (Plastic Section Modulus ; Z) หาได้จาก

- 1:  $Z = M_y / \sigma_y$
- 2:  $Z = M_p / \sigma_y$
- 3:  $Z = \sigma_y / M_y$
- 4:  $Z = \sigma_y / M_p$
- คำตอบที่ถูกต้อง : 2

$M_p / Z = \sigma_y ; Z = M_p / \sigma_y$   
คล้ายกันกับ

$M_y / S = \sigma_y ; S = M_y / \sigma_y$

ข้อที่ 150 :

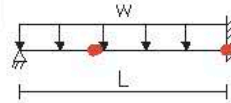
ข้อใดกล่าวไม่ถูกต้อง เกี่ยวกับค่าตัวประกอบรูปทรง (Shape Factor)

- 1: Shape Factor =  $Z / S$
- 2: Shape Factor =  $M_p / M_y$
- 3: Shape Factor คำนวณได้เสมอเท่ากับ 1.5
- 4: ค่า Shape Factor มาก เป็นลักษณะของหน้าตัดประหยัด (Economic Section)
- คำตอบที่ถูกต้อง : 4

ค่า Shape Factor ไม่จำเป็นต้องเท่ากับ 1.5

ข้อที่ 151 :

โครงสร้างดังรูป มี Plastic Hinge ที่จุด เมื่อเกิดการวิบัติ



2 จุด 1) ส่วนบน  $M^-$  สูงสุด  
2) ส่วนบน  $M^+$  สูงสุด

- 1: 1 จุด
- 2: 2 จุด
- 3: 3 จุด
- 4: 4 จุด
- คำตอบที่ถูกต้อง : 2

ข้อที่ 152 :

หน้าตัดชนิดใด ที่มีค่า Shape Factor ใกล้ค่า 1 มากที่สุด

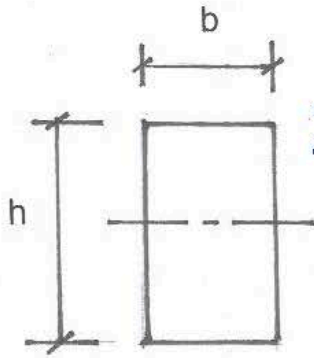
- 1: วงกลม
- 2: สี่เหลี่ยมผืนผ้า
- 3: สี่เหลี่ยมขนานเยื้องศูนย์กลาง
- 4: สี่เหลี่ยมผดุงผนังบาง
- คำตอบที่ถูกต้อง : 4

shape factor = 1.7  
1.5  
2  
1.12

ข้อที่ 153 :

แกนเหล็กมีรูปตัดสี่เหลี่ยมผืนผ้าดังแสดง ถ้าคานนี้มีกำลังจุดครากเท่ากับ  $f_y \rho_k / \gamma_{m2}$  จงหาว่ากำลังต้านโมเมนต์ตัดพลาสติก ( $M_p$ ) และอัตราส่วนระหว่าง  $M_p / M_y$  ซึ่งเรียกว่า shape factor โดยที่  $M_y$  หมายถึงกำลังต้านทานโมเมนต์ตัดที่จุดคราก





shape factor = 1.5,  $M_p = (bh^2/4) f_y$

วิธีคิด : 0.75 เท่า 1.5 เท่านี้

โดย shape factor =  $\frac{Z}{S} = 1.5 \rightarrow \frac{3}{2}$

$S = \frac{I}{c}$  ;  $I = bh^3/12$ ,  $c = h/2$

$\therefore S = \frac{bh^3}{12} \cdot \frac{2}{h} = bh^2/6$

$Z = \frac{3}{2} S = \frac{3}{2} (bh^2/6) = bh^2/4$

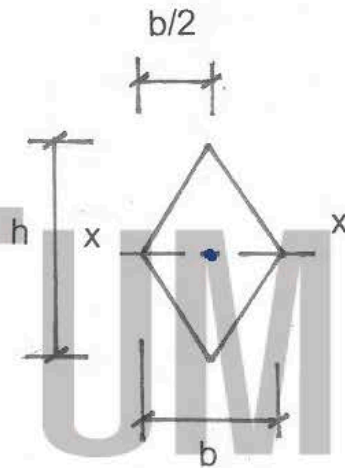
$M_p = Z f_y = (bh^2/4) f_y$

- 1:  $M_p = f_y bh^2/6$ , shape factor = 1.50
- 2:  $M_p = f_y bh^2/4$ , shape factor = 1.70
- 3:  $M_p = f_y bh^2/6$ , shape factor = 1.70
- 4:  $M_p = f_y bh^2/4$ , shape factor = 1.50

คำตอบที่ถูกต้อง : 4

ข้อที่ 154 :

แกนหลักมีรูปตัดต้นสี่เหลี่ยมขนมเปียกปูนดังแสดง ด้านนี้มีโมดูลัสพลัสติก ( $Z_x$ ) และ shape factor เท่าไร



shape factor = 2 =  $\frac{Z}{S}$

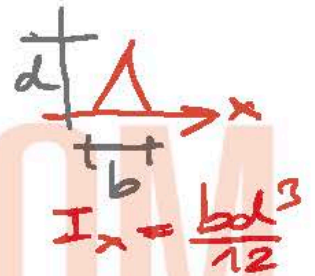
$\therefore Z = 2S$

$I = 2 \left[ \frac{b(h/2)^3}{12} \right]$

$= bh^3/48$

$c = h/2$

$S = \frac{bh^3}{48} \cdot \frac{2}{h} = bh^2/24$



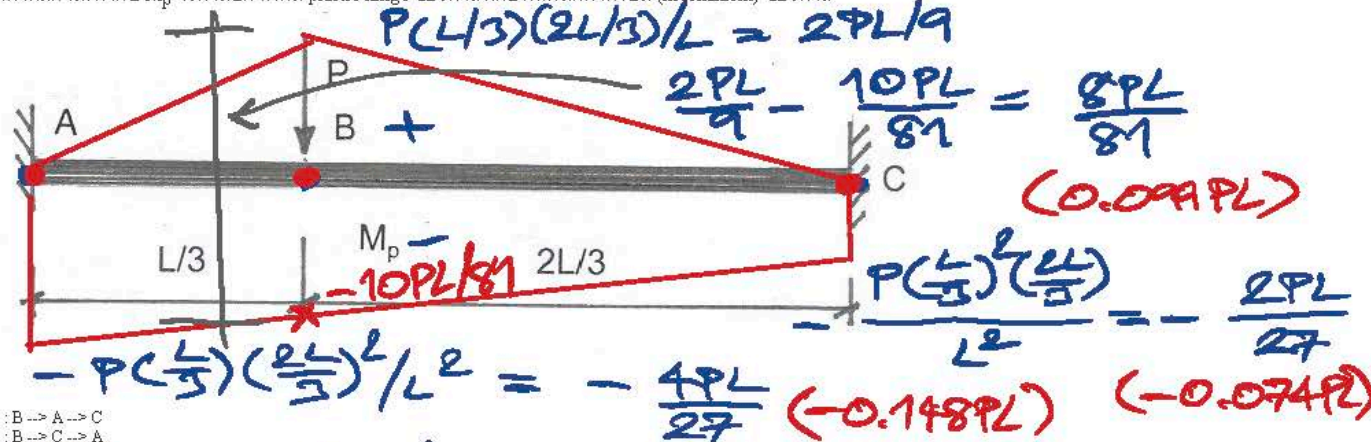
- 1:  $Z_x = bh^2/10$ , shape factor = 2
- 2:  $Z_x = bh^2/12$ , shape factor = 1.70
- 3:  $Z_x = bh^2/12$ , shape factor = 2
- 4:  $Z_x = bh^2/11$ , shape factor = 1.90

คำตอบที่ถูกต้อง : 3

$\therefore Z = 2(bh^2/24) = bh^2/12$

ข้อที่ 155 :

แกนหลักรูปทรงมีปลายสองข้างเป็นแบบยึดแน่น (fixed end) ยาวทั้งหมดเท่ากับ L รับน้ำหนักแบบจุดเท่ากับ P ที่ระยะ L/3 จากจุด A ถ้าด้านนี้รับโมเมนต์ตัดพลาสติกได้เท่ากับ  $M_p$  จงลำดับการเกิด plastic hinge ของคานที่ก่อให้เกิดกลไกวิบัติ (mechanism) ของคาน



- 1: B → A → C
- 2: B → C → A
- 3: A → B → C
- 4: A → C → B

คำตอบที่ถูกต้อง : 3

เกิดที่ จานแน่น  $M_p$  จุดตัดได้ลงมา

ข้อที่ 156 :

ถ้าโครงสร้างมีดีกรีของอินดีเพนเด้นท์ = D1 โครงสร้างนั้นจะวิบัติแบบ complete collapse mechanism ต่อเมื่อมีจำนวนของ plastic hinge เท่ากับ

1: D1

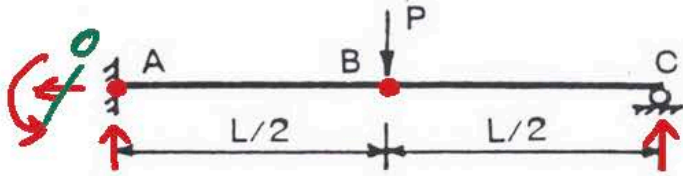


โครงสร้างอินเดเพนเดนซ์ ถ้าใส่ hinge เท่ากับ DI จะเกิดโครงสร้างอินเดเพนเดนซ์ แต่ถ้าใส่ hinge

- 2: DIH1
- 3: DIH2
- 4: DIH3
- คำตอบที่ถูกต้อง: 2

ข้อที่ 157:

ในการวิเคราะห์โครงสร้าง ดังรูป โดยวิธีพลาสติกเพื่อหาแรงปฏิกิริยา จะเห็นว่า เพื่อให้เกิดเมคคานิชซึม ดังนั้น ต้องการจำนวนจุดหมุนพลาสติก (plastic hinge) อย่างน้อยเท่ากับ



ใส่ hinge 1 จะทำให้เกิด collapse mechanism

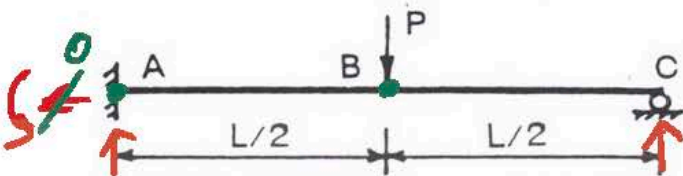
อย่างน้อย  $DI + 1 = (3 - 2) + 1 = 2$

- 1: 1 จุด
- 2: 2 จุด
- 3: 3 จุด
- 4: 4 จุด
- คำตอบที่ถูกต้อง: 2

\*  $II \sum \text{การรวม} = 0 \therefore \text{จำนวนจุดหมุนพลาสติก} = 2$

ข้อที่ 158:

ในการวิเคราะห์โครงสร้าง ดังรูป โดยวิธีพลาสติกเพื่อหาแรงปฏิกิริยา จะเห็นว่า เมคคานิชซึมอิสระ (independent mechanism) สำหรับโครงสร้างนี้มีทั้งสิ้น เท่ากับ



ใส่ hinge จำนวน plastic hinge

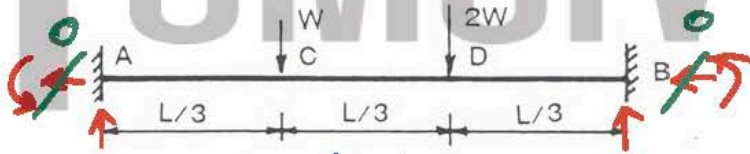
independent mechanism =  $u - DI$   
 $= 2 - (3 - 2) = 1$

- 1: 1 แบบ
- 2: 2 แบบ
- 3: 3 แบบ
- 4: 4 แบบ
- คำตอบที่ถูกต้อง: 1

\*  $II \sum \text{การรวม} = 0 \therefore \text{จำนวนจุดหมุนพลาสติก} = 2$

ข้อที่ 159:

ในการวิเคราะห์โครงสร้าง ดังรูป โดยวิธีพลาสติกเพื่อหาแรงปฏิกิริยา จะเห็นว่า เพื่อให้เกิดเมคคานิชซึม ดังนั้น ต้องการจำนวนจุดหมุนพลาสติก (plastic hinge) อย่างน้อยเท่ากับ



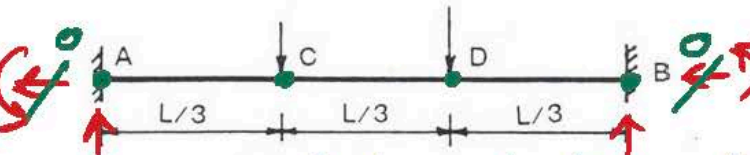
อย่างน้อย  $DI + 1 = (4 - 2) + 1 = 3$

- 1: 1 จุด
- 2: 2 จุด
- 3: 3 จุด
- 4: 4 จุด
- คำตอบที่ถูกต้อง: 3

\*  $II \sum \text{การรวม} = 0 \therefore \text{จำนวนจุดหมุนพลาสติก} = 2$

ข้อที่ 160:

ในการวิเคราะห์โครงสร้าง ดังรูป โดยวิธีพลาสติกเพื่อหาแรงปฏิกิริยา จะเห็นว่า เมคคานิชซึมอิสระ (independent mechanism) สำหรับโครงสร้างนี้มีทั้งสิ้น เท่ากับ



ใส่ hinge จำนวน plastic hinge

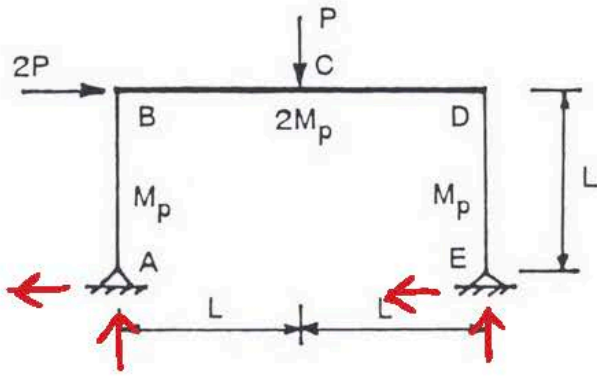
independent mechanism =  $u - DI$   
 $= 4 - (4 - 2) = 2$

- 1: 1 แบบ
- 2: 2 แบบ
- 3: 3 แบบ
- 4: 4 แบบ
- คำตอบที่ถูกต้อง: 2

\*  $II \sum \text{การรวม} = 0 \therefore \text{จำนวนจุดหมุนพลาสติก} = 2$

ข้อที่ 161:

ในการวิเคราะห์โครงสร้าง ดังรูป โดยวิธีพลาสติกเพื่อหาแรงปฏิกิริยา จะเห็นว่า เพื่อให้เกิดเมคคานิชซึม ดังนั้น ต้องการจำนวนจุดหมุนพลาสติก (plastic hinge) อย่างน้อยเท่ากับ

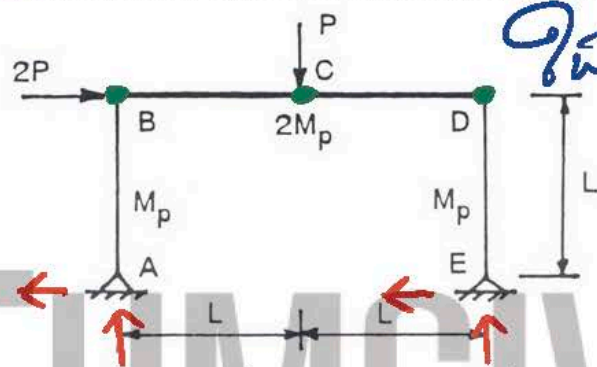


$$\begin{aligned} \text{องศาอิสระ} &= DI + 1 \\ &= (4 - 3) + 1 \\ &= 2 \end{aligned}$$

- 1: 1 จุด
- 2: 2 จุด
- 3: 3 จุด
- 4: 4 จุด
- คำตอบที่ถูกต้อง : 2

ข้อที่ 162 :

ในการวิเคราะห์โครงสร้าง ดังรูป โดยวิธีพลาสติกเพื่อหาแรงปฏิกิริยา จะเห็นว่า เมกคานาซึมอิสระ (independent mechanism) สำหรับโครงสร้างนี้มีทั้งสิ้น เท่ากับ



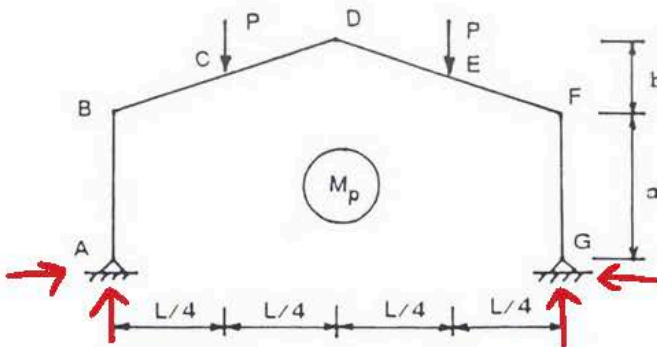
จุด หมุด จำนวน plastic hinge

$$\begin{aligned} \text{independent mechanism} &= n - DI \\ &= 3 - (4 - 3) = 2 \end{aligned}$$

- 1: 1 แบบ
- 2: 2 แบบ
- 3: 3 แบบ
- 4: 4 แบบ
- คำตอบที่ถูกต้อง : 2

ข้อที่ 163 :

ในการวิเคราะห์โครงสร้าง ดังรูป โดยวิธีพลาสติกเพื่อหาแรงปฏิกิริยา จะเห็นว่า เพื่อให้เกิดเมกคานาซึม ดังนั้น ต้องการ จำนวนจุดหมุนพลาสติก (plastic hinge) อย่างน้อยเท่ากับ



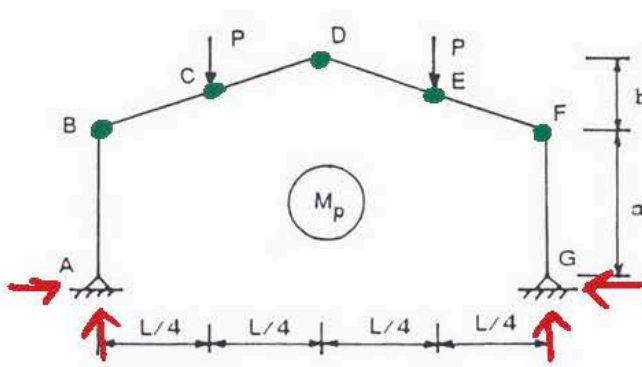
$$\begin{aligned} \text{องศาอิสระ} &= DI + 1 \\ &= (4 - 3) + 1 \\ &= 2 \end{aligned}$$

- 1: 1 จุด
- 2: 2 จุด
- 3: 3 จุด
- 4: 4 จุด
- คำตอบที่ถูกต้อง : 2

ข้อที่ 164 :



ในการวิเคราะห์โครงสร้าง ดังรูป โดยวิธีพลาสติกเพื่อหาแรงปฏิกิริยา จะเห็นว่า เมคคานิชิมอิสระ (independent mechanism) สำหรับโครงสร้างนี้มีทั้งสิ้น เท่ากับ



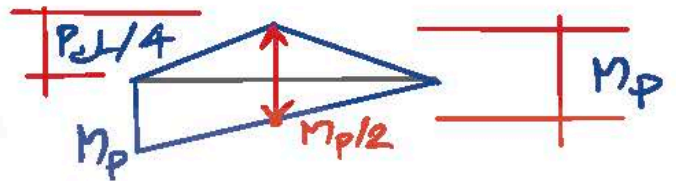
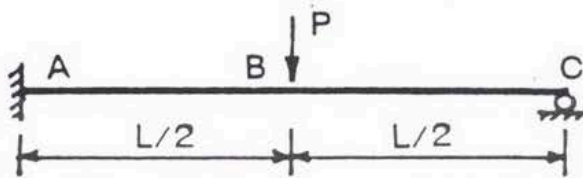
วิธี n-3o  
จำนวน plastic hinge

independent mechanism =  $n - DI$   
 $= 5 - (4 - 3) = 4$

- 1: 1 แบบ
  - 2: 2 แบบ
  - 3: 3 แบบ
  - 4: 4 แบบ
- คำตอบที่ถูกต้อง : 4

ข้อที่ 165 :

จงใช้วิธีพลาสติกหาค่าแรงปฏิกิริยาสำหรับโครงสร้างที่รับน้ำหนัก ดังรูป สมมติคานามีหน้าตัดคงที่และมีโมเมนต์ตัดพลาสติกมีค่าเท่ากับ  $M_p$

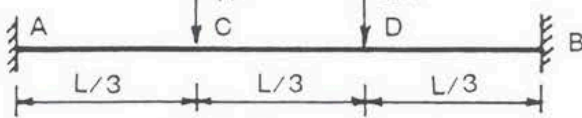


- 1:  $3M_p/2L$
  - 2:  $3M_p/L$
  - 3:  $4M_p/L$
  - 4:  $6M_p/L$
- คำตอบที่ถูกต้อง : 4

$M_p = (P_c L/4) - (M_p/2)$   
 $\therefore P_c = \frac{4}{L} (M_p + \frac{M_p}{2}) = \frac{4}{L} - \frac{3M_p}{2} = 6M_p/L$

ข้อที่ 166 :

จงใช้วิธีพลาสติกหาค่าแรงปฏิกิริยาสำหรับโครงสร้างที่รับน้ำหนัก ดังรูป สมมติคานามีหน้าตัดคงที่และมีโมเมนต์ตัดพลาสติกมีค่าเท่ากับ  $M_p$

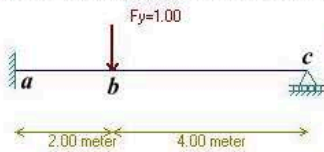


ดูวิธีทำหน้าถัดไป

- 1:  $3M_p/4L$
  - 2:  $18M_p/5L$
  - 3:  $3M_p/2L$
  - 4:  $7M_p/4L$
- คำตอบที่ถูกต้อง : 2

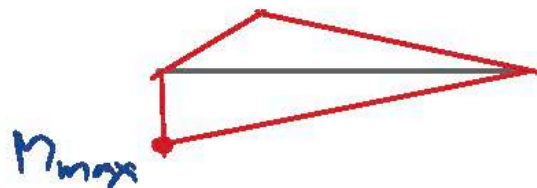
ข้อที่ 167 :

จากรูป คานาเหล็กจะมี plastic hinge เกิดขึ้นที่จุดใดก่อน เมื่อแรง P มีค่าเพิ่มขึ้นอย่างต่อเนื่องจนทำให้เกิด plastic hinge



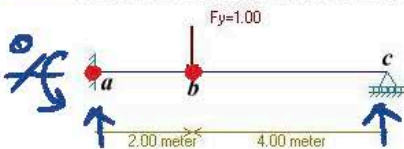
plastic hinge เกิดขึ้นที่จุด a ก่อน  
 ต่อที่จุด c

- 1: a
  - 2: b
  - 3: a และ b
  - 4: พร้อมกันทุกจุด
- คำตอบที่ถูกต้อง : 1



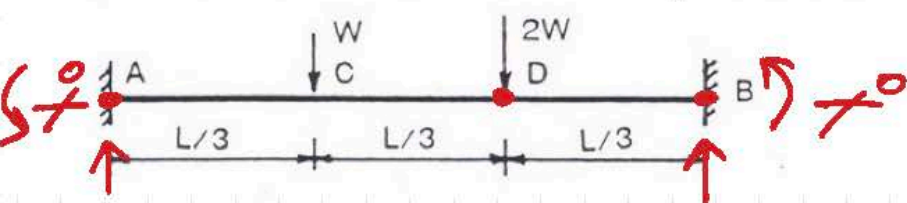
ข้อที่ 168 :

จากรูป คานาเหล็กจะมี plastic hinge เกิดขึ้นที่จุด จึงทำให้เกิด complete collapse mechanism และมีลำดับการเกิด plastic hinge อย่างไร



จำนวน plastic hinge =  $\Phi I + 1 = (3 - 2) + 1 = 2$   
 เกิดขึ้นที่จุด a ก่อน เพราะ  $M_{max}$  แล้วจึงที่จุด b

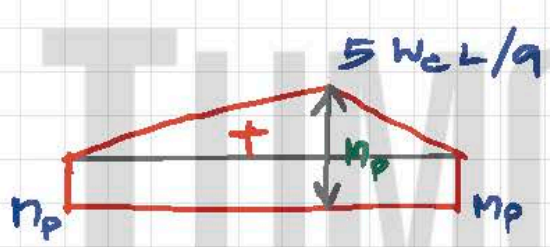
ข้อที่ 166: จงใช้วิธีพลาสติกหาค่าแรงปฏิกิริยาสำหรับโครงสร้างที่รับน้ำหนัก ดังรูป สมมติคานมีหน้าตัดคงที่และโมเมนต์ดัดพลาสติกมีค่าเท่ากับ  $M_p$



plastic hinge 3 ส่วนน้อย =  $2I + 1$   
 $= (4 - 2) + 1 = 3$

พิจารณา plastic hinge ที่จุด A, D และ B

เมื่อเกิด complete collapse mechanism ณ M ของ plastic hinge ทุจุดแล้วเท่ากับ  $M_p$  หมายความว่า  $w$  จะเท่ากับ  $w_c$  (เริ่มปฏิกิริย)



$$\therefore M_p = \frac{5w_c L}{9} - M_p$$

$$w_c = \frac{2M_p \cdot 9}{5L}$$

$$= 18 M_p / 5L$$

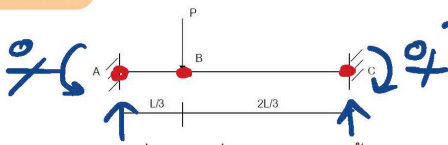
Free body diagrams for the beam segments:

- Segment AC (length L/3):
  - Reaction at A:  $\uparrow \frac{w(\frac{2L}{3})}{L} + \frac{2w(\frac{L}{3})}{L} = 4w/3$
  - Reaction at C:  $\uparrow \frac{w(\frac{L}{3})}{L} + \frac{2w(\frac{2L}{3})}{L} = 5w/3$
  - Shear force diagram: A step function starting at  $4w/3$  and dropping to  $w/3$  at C.
  - Bending moment diagram: A trapezoid starting at  $4wL/9$  at A and ending at  $5wL/9$  at C.
- Segment CD (length L/3):
  - Reaction at C:  $\uparrow \frac{w(\frac{2L}{3})}{L} + \frac{2w(\frac{L}{3})}{L} = 4w/3$
  - Reaction at D:  $\uparrow \frac{w(\frac{L}{3})}{L} + \frac{2w(\frac{2L}{3})}{L} = 5w/3$
  - Shear force diagram: A step function starting at  $w/3$  and dropping to  $-2w/3$  at D.
  - Bending moment diagram: A trapezoid starting at  $5wL/9$  at C and ending at  $2wL/9$  at D.
- Segment DB (length L/3):
  - Reaction at D:  $\uparrow \frac{w(\frac{2L}{3})}{L} + \frac{2w(\frac{L}{3})}{L} = 4w/3$
  - Reaction at B:  $\uparrow \frac{w(\frac{L}{3})}{L} + \frac{2w(\frac{2L}{3})}{L} = 5w/3$
  - Shear force diagram: A step function starting at  $-2w/3$  and dropping to  $-5w/3$  at B.
  - Bending moment diagram: A trapezoid starting at  $2wL/9$  at D and ending at  $-5wL/9$  at B.



- 1: จุดเดียวคือจุด a
  - 2: จุดเดียวคือจุด b
  - 3: สองจุด โดยเริ่มจาก a ก่อนและตามด้วย b
  - 4: สองจุด โดยเริ่มจาก b ก่อนและตามด้วย a
- คำตอบที่ถูกต้อง : 3

ข้อที่ 169 :



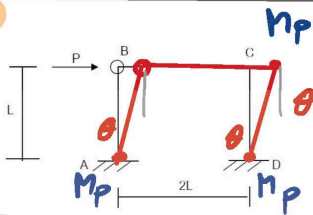
จำนวน plastic hinge =  $\Delta I + 1$   
 $= (4 - 2) + 1 = 3$

คานช่วงเดียว AC ที่มีปลายยึดแผ่นทั้งสองข้าง กำหนดให้คานมีกำลังตัดเท่ากับ  $M_p$  และมีแรงตามขวาง P กระทำที่จุด B ซึ่งมีระยะ  $L/3$  จากปลาย A จงหาแรง P ที่ทำให้คานวิบัติแบบพลาสติก

- 1:  $5 M_p/L$
  - 2:  $6 M_p/L$
  - 3:  $9 M_p/L$
  - 4:  $8 M_p/L$
- คำตอบที่ถูกต้อง : 3

ไม่ต้องตอบวิธีอื่น แบบพลาซติกที่จุด A, B, C  
 จงหา  $M = M_p$   
 $P_c \left( \frac{L}{3} \times \frac{2L}{3} \right) / L = 2P_c L / 9$   
 $\therefore M_p = \frac{2P_c L}{9} - M_p ; P_c = 2M_p \cdot \frac{9}{2L} = 9M_p/L$

ข้อที่ 170 :



จำนวน plastic hinge =  $\Delta I + 1$   
 จำนวนรอยต่อ 3 + 1 hinge  
 $= (6 - 4) + 1 = 3$

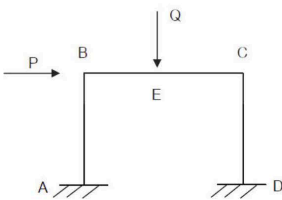
จงวิเคราะห์ค่าแรง P ที่ทำให้โครงสร้างตามรูปวิบัติแบบพลาสติก ถ้ากำลังตัดขององค์อาคารเท่ากับ  $M_p$

(จำนวนรอยต่อ 3 + 1 hinge หมายถึง)

- 1:  $M_p/L$
  - 2:  $2M_p/L$
  - 3:  $3M_p/L$
  - 4:  $5M_p/L$
- คำตอบที่ถูกต้อง : 3

$\therefore P_c (L\theta) = M_p (3\theta)$   
 $\therefore P_c = M_p (3\theta) / (L\theta) = 3M_p/L$

ข้อที่ 171 :



independent =  $n - \Delta I$   
 mechanism =  $5 - (6 - 3)$   
 $= 2$

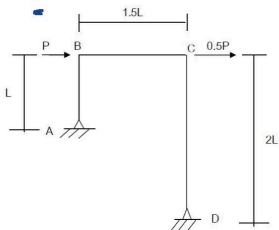
$\therefore$  จำนวนการวิบัติแบบพลาซติก = 3

โครงสร้างข้างต้นรูป มีแรง P และ Q กระทำที่จุด B และ E จงหาจำนวนรูปแบบการวิบัติแบบพลาสติกของโครงสร้างนี้

- 1: 3
  - 2: 2
  - 3: 1
  - 4: 4
- คำตอบที่ถูกต้อง : 1

1) sidesway mechanism  
 2) beam mechanism  
 3) 1) + 2)

ข้อที่ 172 :



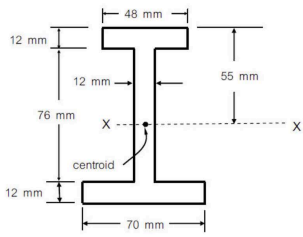
โครงสร้างข้างต้นรูป มีแรง P กระทำที่จุด B และ 0.5P กระทำที่จุด C กำหนดหน้าตัดคานมีกำลังตัด  $M_p$  จงหาแรง P ที่ทำให้โครงสร้างวิบัติแบบพลาสติก

- 1:  $3 M_p/L$
- 2:  $M_p/L$

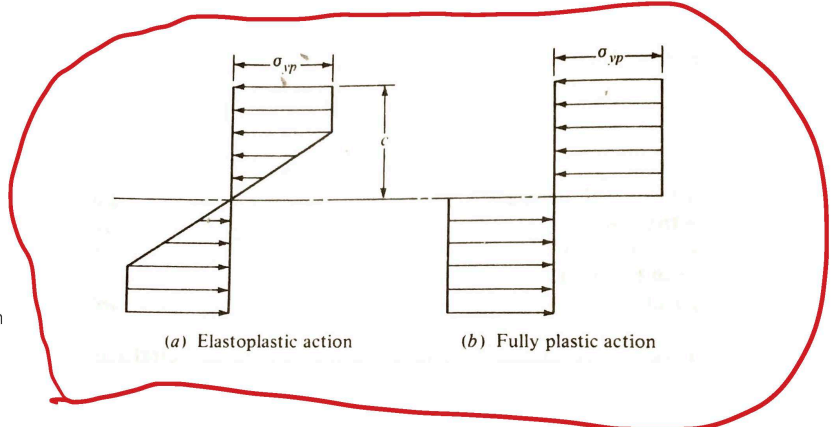
- 3 : 1.5 Mp/L
- 4 : 2 Mp/L
- คำตอบที่ถูกต้อง : 4

ข้อที่ 173 :

ชิ้นส่วนที่มีหน้าตัดดังแสดงในรูป ต้องรับ pure bending โดย X-X คือแนวเส้นที่แบ่ง tension-compression zone ของหน้าตัดจะยังอยู่ในช่วง linear elastic ถ้าเพิ่มโมเมนต์ค้ดให้มากขึ้นจนหน้าตัดอยู่ในสภาวะ fully plastic ตำแหน่งของแนวเส้นที่แบ่ง tension-compression zone ของหน้าตัด จะเป็นดังนี้

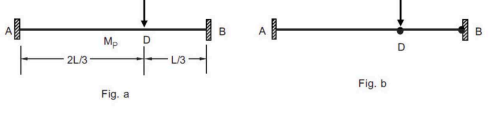


- 1 : จะอยู่ในแนวราบ แต่อยู่ใต้ตำแหน่ง centroid ของหน้าตัด
- 2 : จะอยู่ในแนวราบ แต่อยู่เหนือตำแหน่ง centroid ของหน้าตัด
- 3 : จะยังอยู่ในแนวราบ และยังคงผ่าน centroid ของหน้าตัด
- 4 : จะอยู่ในแนวค้ดและยังคงผ่าน centroid ของหน้าตัด
- คำตอบที่ถูกต้อง : 1



ข้อที่ 174 :

คานาเหล็กหน้าตัดค้ดที่มีค่า plastic moment เท่ากับ Mp ต้องรับแรงหนึ่งแรง ดังแสดงในรูป (Fig.a) จากการศึกษาพบว่าเมื่อเพิ่มขนาดแรง ให้มากขึ้นเรื่อยๆ plastic hinges จะเกิดขึ้นที่ B, D, A ตามลำดับ จงหาขนาดของแรงปฏิกิริยาแนวค้ดที่ B ขณะที่ plastic hinge ได้เริ่มเกิดขึ้นที่ D (Fig.b)

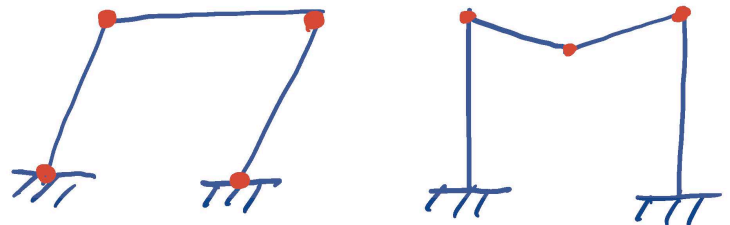
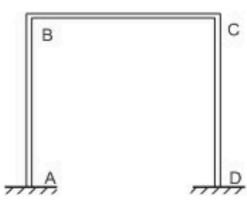


- 1 :  $R_B = (9M_p) / L$
- 2 :  $R_B = (5M_p) / L$
- 3 :  $R_B = (6M_p) / L$
- 4 : ไม่มีคำตอบที่ให้ค่าที่ถูกต้อง
- คำตอบที่ถูกต้อง : 3

*ดูวิธีทำ นะหัด*

ข้อที่ 175 :

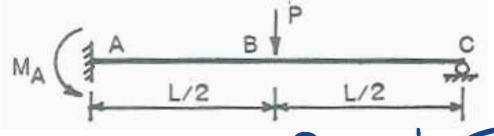
โดยปรกติโครงข้อแข็ง Gable Frame ช่วงเดี่ยวนั้นเดียว ดังแสดงในรูป อาจเกิดกลไกเอกเทศ (Independent Mechanism) ได้ 2 แบบ คือ



- 1 : Joint Mechanism และ Sway Mechanism
- 2 : Gable Mechanism และ Joint Mechanism
- 3 : Beam Mechanism และ Joint Mechanism
- 4 : Beam Mechanism และ Sway Mechanism
- คำตอบที่ถูกต้อง : 4

ข้อที่ 176 :

จากรูปสมมติให้คานามีหน้าตัดเป็นรูปสี่เหลี่ยมผืนผ้า (b x h) โมเมนต์พลาสติกของคานาจะมีค่าเพิ่มขึ้นกี่เท่า หากวัสดุมีกำลัง fy เพิ่มขึ้น 2 เท่า



$\therefore M_p = z f_y = \frac{bh^2}{4} f_y$

*ถ้า  $f_y$  เพิ่มขึ้น 2 เท่า*

$M_p = z (2f_y) = 2 (z f_y)$

*$\therefore M_p$  เพิ่มขึ้น 2 เท่า*

- 1 : 1.5 เท่า
- 2 : 2 เท่า
- 3 : 3 เท่า
- 4 : 4 เท่า
- คำตอบที่ถูกต้อง : 2

ข้อที่ 177 :

จากรูปสมมติให้คานามีหน้าตัดเป็นรูปสี่เหลี่ยมผืนผ้า (b x h) นำหนักบรรทุกประลัยของคานา Pc ตามวิธีพลาสติกจะมีค่าเพิ่มขึ้นกี่เท่า หากคานามีความกว้างเพิ่มขึ้นเป็น 2 เท่า (2b)

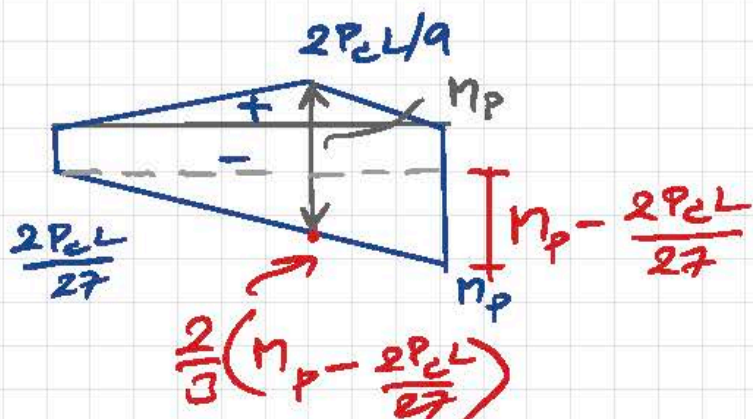
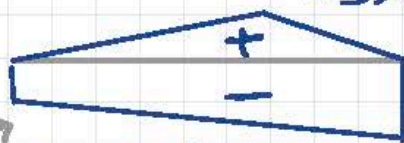


ตามหลักหน้าตัดคงที่และมีค่า plastic moment เท่ากับ  $M_p$  ต้องรับแรงหนึ่งแรง ดังแสดงในรูป (Fig.a) จากการวิเคราะห์ พบว่าเมื่อเพิ่มขนาดแรง ให้มากขึ้นเรื่อยๆ plastic hinges จะเกิดขึ้นที่ B, D, A ตามลำดับ จงหาขนาดของแรงปฏิบัติการแนวตั้งที่ B ขณะที่ plastic hinge ได้เริ่มเกิดขึ้นที่ D (Fig.b)



ข้อนี้ให้  $M_p$  และ  $D$   $\Rightarrow \frac{1}{3} M_p = M_p$

$$P \left( \frac{2L}{3} \right) \left( \frac{L}{3} \right) / L = \frac{2PL}{9}$$



$$\frac{P \left( \frac{2L}{3} \right) \left( \frac{L}{3} \right)^2}{L^2} = \frac{2PL}{27}$$

$$\therefore \frac{2P_c L}{9} - \frac{2P_c L}{27} - \frac{2}{3} \left( M_p - \frac{2P_c L}{27} \right) = M_p$$

$$P_c L \left[ \frac{2}{9} - \frac{2}{27} + \frac{4}{81} \right] = M_p + \frac{2}{3} M_p$$

$$P_c L \left( \frac{18-6+4}{81} \right) = \frac{5}{3} M_p$$

$$P_c = \frac{5}{3} M_p \cdot \frac{81}{16L} = 135 M_p / 16L$$

$$\sum M_A = 0 = \frac{2L}{27} P_c - \frac{2L}{3} P_c + L R_B - M_p$$

$$R_B L = M_p + \frac{2L}{3} P_c - \frac{2L}{27} P_c$$

$$= M_p + P_c L \left( \frac{18-2}{27} \right) = M_p + M_p \left( \frac{135L}{16L} \right) \left( \frac{16}{27} \right)$$

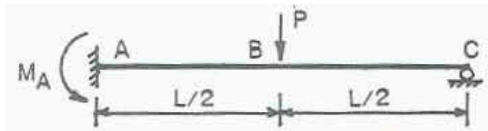
$$R_B = 6 M_p / L$$

$$\text{Check: } \sum M_B = 0 = -\frac{2L}{27} P_c + R_A L - \frac{L}{3} P_c + M_p$$

$$R_A L = -M_p + P_c L \left( \frac{2}{27} + \frac{1}{3} \right) = -M_p + M_p \left( \frac{135L}{16L} \right) \left( \frac{2+9}{27} \right)$$

$$R_A = M_p \left( -1 + \frac{55}{16} \right) / L = 35 M_p / 16L$$

$$\sum F_y = 0 = (6 M_p / L) + (35 M_p / 16L) - (35 M_p / 16L) = 0 \quad \checkmark$$



$\therefore P_c = \frac{6M_p}{L}$

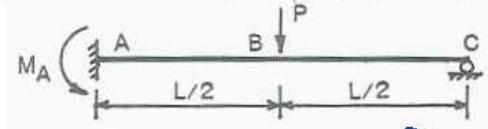


- 1: 1.5 เท่า
- 2: 2 เท่า
- 3: 3 เท่า
- 4: 4 เท่า
- คำตอบที่ถูกต้อง : 2


$M_p = Z f_y = \frac{bh^2}{4} f_y$   
 ถ้า b เพิ่มขึ้น 2 เท่า :  $M_p = \frac{(2b)h^2}{4} f_y = 2 \left( \frac{bh^2}{4} f_y \right)$   
 $\therefore P_c$  เพิ่มขึ้น 2 เท่า

ข้อที่ 178 :

จากรูปสมมติให้คานามีหน้าตัดเป็นรูปสี่เหลี่ยมผืนผ้า (b x h) นำหนักบรรทุกประลัยของคาน  $P_c$  ตามวิธีพลาสติกจะมีค่าเพิ่มขึ้นกี่เท่า หากคานามีความลึกเพิ่มขึ้นเป็น 2 เท่า (2h)



$\therefore P_c = \frac{6M_p}{L}$

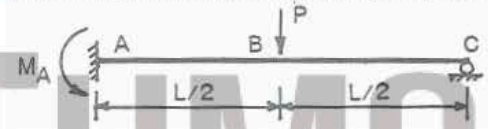


- 1: 1.5 เท่า
- 2: 2 เท่า
- 3: 3 เท่า
- 4: 4 เท่า
- คำตอบที่ถูกต้อง : 4

$M_p = Z f_y = \frac{bh^2}{4} f_y$   
 ถ้า h เพิ่มขึ้น 2 เท่า :  $M_p = \frac{b(2h)^2}{4} f_y = 4 \left( \frac{bh^2}{4} f_y \right)$   
 $\therefore P_c$  เพิ่มขึ้น 4 เท่า

ข้อที่ 179 :

จากรูปสมมติให้คานามีหน้าตัดเป็นรูปสี่เหลี่ยมผืนผ้า (b x h) นำหนักบรรทุกประลัยของคาน  $P_c$  ตามวิธีพลาสติกจะมีค่าลดลงกี่เท่า หากคานามีความยาวเพิ่มขึ้นเป็น 2 เท่า (2L)



$\therefore P_c = \frac{6M_p}{L}$

ถ้า L เพิ่มขึ้น 2 เท่า

- 1: 1.5 เท่า
- 2: 2 เท่า
- 3: 3 เท่า
- 4: 4 เท่า
- คำตอบที่ถูกต้อง : 2

$P_c = \frac{6M_p}{2L} = \frac{1}{2} \left( \frac{6M_p}{L} \right)$

$\therefore P_c$  ลดลง 2 เท่า

ข้อที่ 180 :

ข้อใดกล่าวถูกต้องสำหรับวิธีการวิเคราะห์แบบพลาสติกสำหรับหน้าตัดสี่เหลี่ยมผืนผ้า

$\therefore \text{Shape Factor} = M_p / M_y = \frac{Z}{S} = 1.5$

- ✗ 1:  $M_y = \frac{bh^3}{4}$
- ✗ 2:  $M_y = \frac{bh^3}{6}$
- ✗ 3: Shape factor =  $M_p / M_y = 2.0$

$S = \frac{bh^3}{6}, Z = \frac{3}{2} S = \frac{bh^2}{4}$

- 4: ไม่มีข้อใดกล่าวถูก
- คำตอบที่ถูกต้อง : 4

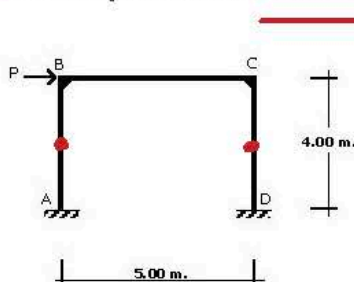
$M_y = S f_y = \left( \frac{bh^3}{6} \right) f_y$

$M_p = Z f_y = \left( \frac{bh^2}{4} \right) f_y$

เนื้อหาวิชา : 537 : Approximate analysis

ข้อที่ 181 :

โครงสร้างข้างตงรูป หากวิเคราะห์โดยวิธี Portal method จะได้ค่าโมเมนต์ตัดที่กึ่งกลางความสูงของเสา AB และ CD เท่าใด



สมมติฐานของวิธี Portal  
 ↓  
 $P_c$  อยู่ที่กึ่งกลางคาน  
 ↓  
 คานยึดแน่นที่เสา (ถ้าเสา fixed support)  
 $\therefore M_{ที่เสา} = 0$

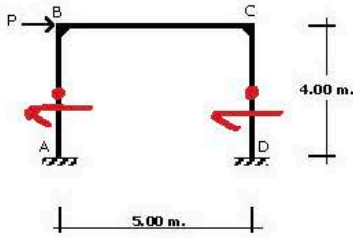
- 1: 0
- 2: P/2
- 3: P



4: 2P  
คำตอบที่ถูกต้อง : 1

ข้อที่ 182 :

โครงสร้างซึ่งดังรูป หากวิเคราะห์โดยวิธี Portal method ค่าแรงเฉือนที่กึ่งกลางความสูงของเสา AB และ CD มีค่าเท่าใด

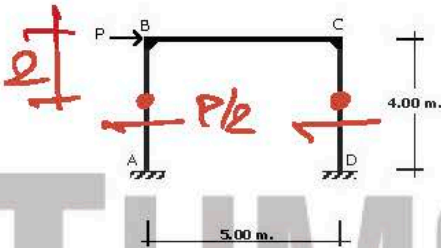


สมมติฐานว่าเสาทั้งสองรับค่าแรงเฉือนเท่ากัน โดยค่าเฉลี่ย  $> 2$   
 เสาด้านซ้ายและขวา รับ  $\frac{P}{2}$  เท่า  
 เสาด้านขวา  
 $\therefore V_{AB} = V_{CD} = \frac{P}{2}$

1: 0  
2: P/2  
3: P  
4: 2P  
คำตอบที่ถูกต้อง : 2

ข้อที่ 183 :

โครงสร้างซึ่งดังรูป หากวิเคราะห์โดยวิธี Portal method ค่าโมเมนต์ดัดที่เกิดที่จุดต่อ B และ C มีค่าเท่าใด

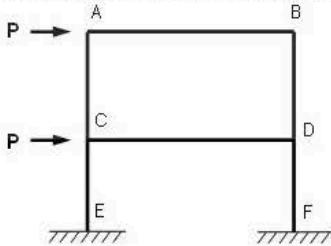


$\therefore M_B = M_C = \frac{P}{2} \cdot 2 = P$

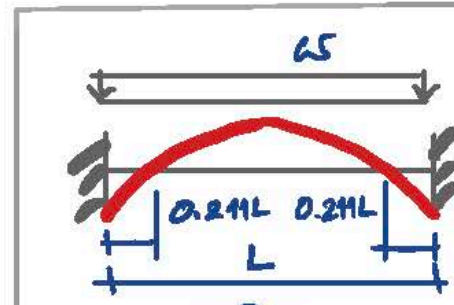
1: 0  
2: P/2  
3: P  
4: 2P  
คำตอบที่ถูกต้อง : 3

ข้อที่ 184 :

ในการวิเคราะห์โครงสร้างแบบประมาณ (Approximate Analysis) Internal hinges สามารถใส่ได้ทั้งหมดกี่จุด



$m = 6, r = 6, j = 6$   
 $3m + r = 3(6) + 6 = 24$   
 $3j = 3(6) = 18$   
 $24 > 18$   
 $DI = 24 - 18 = 6$   
 จำนวนจังก์ชัน DI

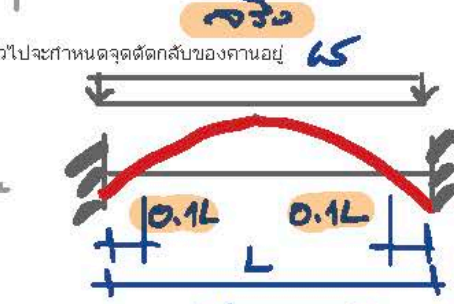



1: 1  
2: 2  
3: 4  
4: 6  
คำตอบที่ถูกต้อง : 4

ข้อที่ 185 :

การวิเคราะห์คานาปลายยึดแน่นกับเสาโดยวิธีประมาณ มีน้ำหนักแผ่นมาเสมอกระทำในแนวตั้งตลอดความยาวคานา โดยทั่วไปจะกำหนดจุดตัดกลับของคานาอยู่ ณ ตำแหน่งใดของคานา

- 1: 0.1 ของความยาวคานา
  - 2: 0.3 ของความยาวคานา
  - 3: 0.5 ของความยาวคานา
  - 4: 0.4 ของความยาวคานา
  - 5: 0.11 ของความยาวคานา
- คำตอบที่ถูกต้อง : 1



บริเวณตรงกลางคานา

ข้อที่ 186 :

จุดตัดกลับของคานาหรือเสาในการวิเคราะห์โครงสร้างแบบประมาณ จะมีสภาพใกล้เคียงได้กับจุดสมมติข้อใด

- 1: ตำแหน่งนั้นไม่มีสภาพเป็น Hinge
- 2: ตำแหน่งนั้นมีโมเมนต์สูงสุด
- 3: ตำแหน่งนั้นมีค่าแรงเฉือนในแนวตั้งเท่ากับศูนย์
- 4: ตำแหน่งนั้นมีค่าแรงเฉือนในแนวอนเท่ากับศูนย์

จุดตัดกลับตรงกลางคานา  
 'Hinge' ภายใน เพราะมีค่าแรงเฉือนที่บริเวณนั้นตัดเท่ากับศูนย์

คำตอบที่ถูกต้อง : 1

ข้อที่ 187 :

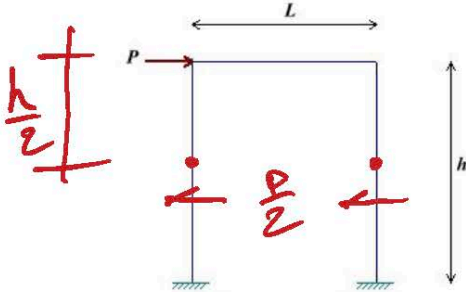
คำตอบข้อใดเป็นสมมติฐานของการวิเคราะห์โครงสร้างแบบประมาณโดยวิธี Portal

- 1: จุดตัดกลับอยู่ที่ระยะ 0.1 ของความยาวเสาแต่ละต้น
- 2: จุดตัดกลับอยู่ที่ระยะ 0.1 ของความยาวคาน
- 3: จุดตัดกลับอยู่ที่ระยะ 0.5 ของความยาวเสาแต่ละต้น
- 4: เสาต้นรับมอเมนต์แรงเฉือนเป็นสองเท่าของเสาต้นในคำตอบที่ถูกต้อง : 3

โมเมนต์ ที่จุดต่อของ เสาต้นรับมอเมนต์  
๑ เท่าคานที่กันทั้ง ๒ ข้างด้วย

ข้อที่ 188 :

จากรูป ถ้าใช้ portal method วิเคราะห์โครงสร้างข้อข้าง ซึ่ง มีค่า EI คงที่ทุกชิ้นส่วน โมเมนต์สูงสุดที่เกิดขึ้นบนโครงสร้างข้อข้างอยู่ในรูปใด

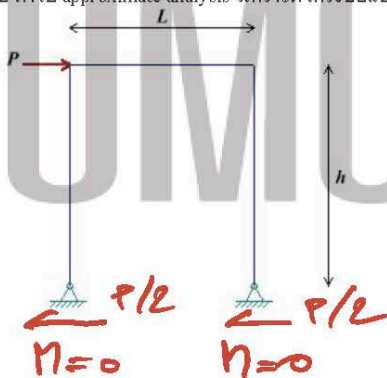


$$\therefore M = \frac{P}{2} \cdot \frac{h}{2} = \frac{Ph}{4}$$

- 1: Ph
  - 2: Ph/2
  - 3: Ph/3
  - 4: Ph/4
- คำตอบที่ถูกต้อง : 4

ข้อที่ 189 :

จากรูป ถ้าใช้ approximate analysis วิเคราะห์โครงสร้างข้อข้าง ซึ่งมีค่า EI คงที่ทุกชิ้นส่วน สมการโมเมนต์สูงสุดที่เกิดขึ้นบนโครงสร้างข้อข้างอยู่ในรูปใด

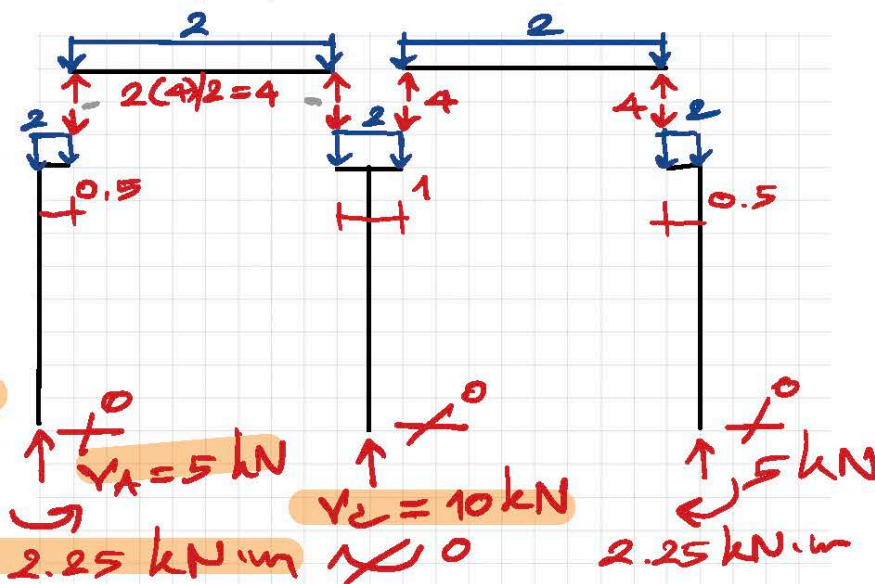
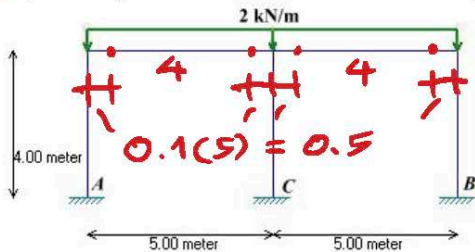


$$M_{max} = \frac{P}{2} \cdot h = \frac{Ph}{2}$$

- 1: Ph
  - 2: Ph/2
  - 3: Ph/3
  - 4: Ph/4
- คำตอบที่ถูกต้อง : 2

ข้อที่ 190 :

จากรูป จงใช้วิธี portal วิเคราะห์โครงสร้างข้อข้าง ซึ่งมีค่า EI คงที่ทุกชิ้นส่วน ในการหาค่าแรงปฏิกิริยาที่จุดรองรับ C



- 1: 5 kN
  - 2: 10 kN
  - 3: 5 kN, 2.25 kN-m
  - 4: 10 kN, 2.25 kN-m
- คำตอบที่ถูกต้อง : 2

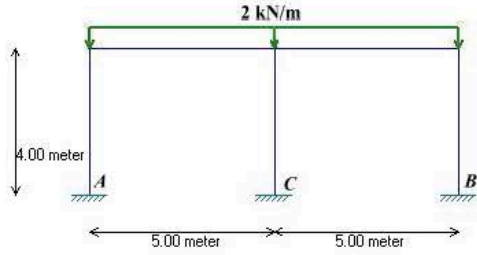
$$\therefore V_c = 4 + 4 + 2(1) = 10 \text{ kN}$$

$$H_c = 0$$

$$M_c = 0$$

ข้อที่ 191 :

จากรูป จงใช้วิธี portal วิเคราะห์โครงสร้างข้อแข็ง ซึ่งมีค่า EI คงที่ทุกชิ้นส่วน ในการหาค่าแรงปฏิกิริยาที่จุดรองรับ A



- 1 : 5 kN
  - 2 : 10 kN
  - 3 : 5 kN, 2.25 kN-m
  - 4 : 10 kN, 2.25 kN-m
- คำตอบที่ถูกต้อง : 3

สม FBD  $\frac{1}{2}$  190

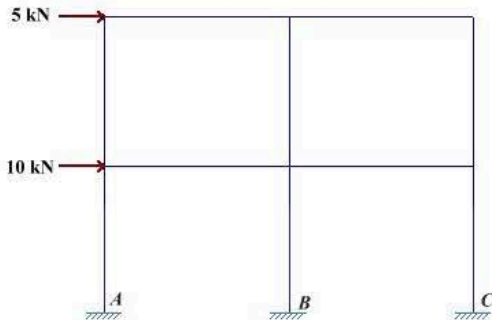
$$\therefore V_A = 4 + 2(0.5) = 5 \text{ kN}$$

$$M_A = 4(0.5) + 2 \frac{(0.5)^2}{2} = 2.25 \text{ kN}\cdot\text{m}$$

$$H_A = 0$$

ข้อที่ 192 :

ในการ ทำ approximate analysis โครงข้อแข็ง ซึ่งมีค่า EI คงที่ทุกชิ้นส่วน ดังรูป เราจะต้องสมมติเงื่อนไขช่วยในการวิเคราะห์เพื่อทำโครงสร้าง statically determinate ที่ข้อ



$$2M + Y = 3(10) + 9 = 39$$

$$3j = 3(9) = 27$$

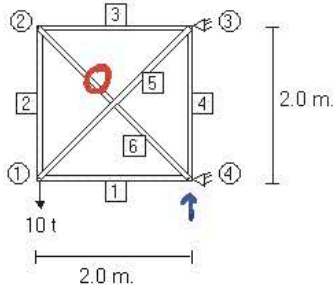
$$\therefore \Delta I = 39 - 27 = 12$$

คำตอบที่  $\frac{1}{2}$  192 จากจำนวน  $\Delta I$

- 1 : 6
  - 2 : 9
  - 3 : 10
  - 4 : 12
- คำตอบที่ถูกต้อง : 4

ข้อที่ 193 :

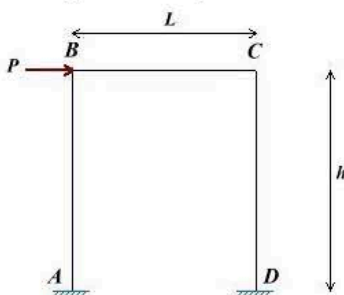
โครงสร้างดังรูป จงใช้วิธีประมาณในการวิเคราะห์ (Approximate Analysis) ถ้าชิ้นส่วนหมายเลข 5 และ 6 มีหน้าตัดที่ขะลุดมากที่สุด ชิ้นส่วนใดรับแรงอัดจะไม่สามารถรับได้ แต่สามารถรับแรงดึงได้ ชิ้นส่วนหมายเลข 1 รับแรงเท่าใด



- 1 : รับแรงดึง 3.53 ตัน
  - 2 : รับแรงอัด 3.53 ตัน
  - 3 : รับแรงอัด 7.07 ตัน
  - 4 : ไม่มีค่าตอบที่ถูกต้อง
- คำตอบที่ถูกต้อง : 3

ข้อที่ 194 :

จากรูป ถ้าใช้ approximate analysis วิเคราะห์โครงสร้างข้อแข็ง ซึ่งมีค่า EI คงที่ทุกชิ้นส่วน โมเมนต์สูงสุดจะเกิดขึ้นบนโครงสร้างข้อแข็งที่จุดใด



วิธี Portal วิเคราะห์ว่าจุดใดที่มีโมเมนต์สูงสุดเกิดขึ้น

นั่นคือ  $M$  ทั้ง 4 มุมจะเท่ากัน

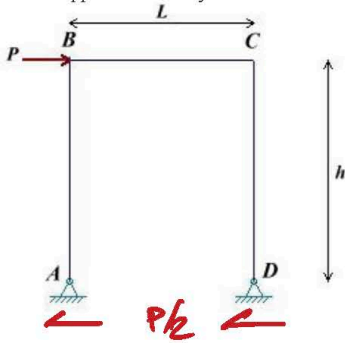
$$\therefore M_A = M_B = M_C = M_D$$



- 1 : จุด A และ D
  - 2 : จุด B และ C
  - 3 : จุด A
  - 4 : จุด A B C และ D
- คำตอบที่ถูกต้อง : 4

ข้อที่ 195 :

จากรูป ถ้าใช้ approximate analysis วิเคราะห์โครงสร้าง ซึ่งมีค่า EI คงที่ทุกชิ้นส่วน โมเมนต์สูงสุดจะเกิดขึ้นบนโครงสร้างข้อซึ่งที่จุดใด และอยู่ในรูปใด

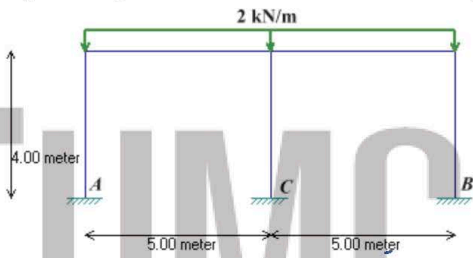


$$M_B = M_C = \frac{P}{2} h = Ph/2$$

- 1 : Ph/2 ที่จุด B
  - 2 : Ph/2 ที่จุด B และจุด C
  - 3 : Ph/4 ที่จุด B
  - 4 : Ph/4 ที่จุด B และจุด C
  - 5 : Ph/3 ที่จุด B
- คำตอบที่ถูกต้อง : 2

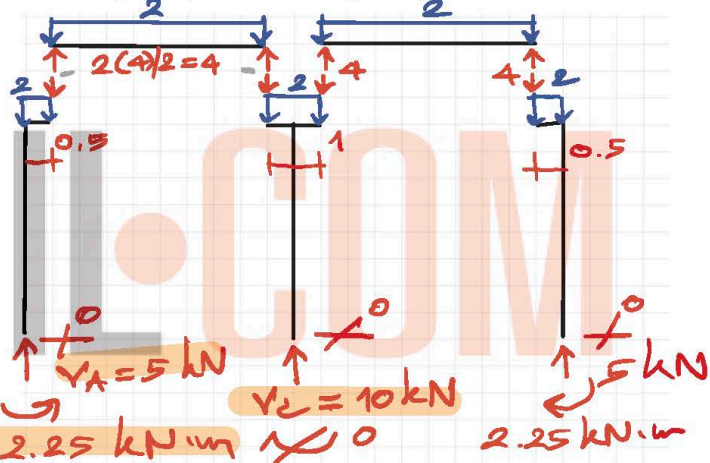
ข้อที่ 196 :

จากรูป จงใช้วิธี portal วิเคราะห์โครงสร้าง ซึ่งมีค่า EI คงที่ทุกชิ้นส่วน จากนั้น จงหาอัตราส่วนแรงปฏิกิริยาที่จุดรองรับ C ต่อแรงปฏิกิริยาที่จุดรองรับ A



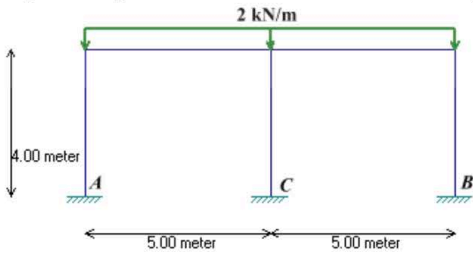
$$\therefore \frac{V_C}{V_A} = \frac{10}{5} = 2$$

- 1 : 1.5
  - 2 : 2.0
  - 3 : 2.5
  - 4 : 3.0
- คำตอบที่ถูกต้อง : 2



ข้อที่ 197 :

จากรูป จงใช้วิธี portal วิเคราะห์โครงสร้าง ซึ่งมีค่า EI คงที่ทุกชิ้นส่วน จงหาอัตราส่วนของโมเมนต์ปฏิกิริยาที่จุดรองรับ C ต่อโมเมนต์ปฏิกิริยาที่จุดรองรับ A



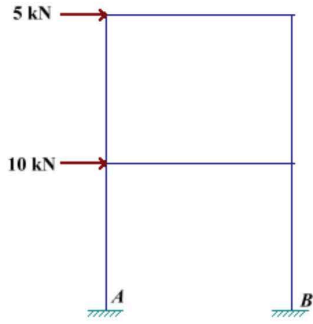
$$\therefore \frac{M_C}{M_A} = \frac{0}{2.25} = 0$$

- 1 : 0.5
  - 2 : 0.75
  - 3 : 1.25
  - 4 : ไม่มีคำตอบที่ถูกต้อง
- คำตอบที่ถูกต้อง : 4

ข้อที่ 198 :

ในการทำ approximate analysis โครงสร้างข้อซึ่งมีค่า EI คงที่ทุกชิ้นส่วน ดังรูป เราจะต้องตั้งสมมติฐานช่วยในการวิเคราะห์เพื่อทำให้โครงสร้าง statically determinate ก็ข้อ





$$m = 6, r = 6, j = 6$$

$$3m + r = 3(6) + 6 = 24$$

$$3j = 3(6) = 18$$

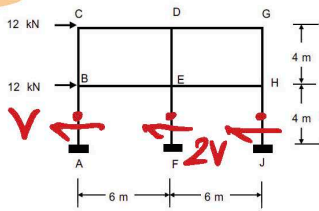
$$24 > 18$$

$$\therefore DI = 24 - 18 = 6$$

วิธีแก้ปัญหานี้ใช้วิธี Portal Method

- 1: 6
  - 2: 9
  - 3: 10
  - 4: 12
- คำตอบที่ถูกต้อง : 1

ข้อที่ 199 :



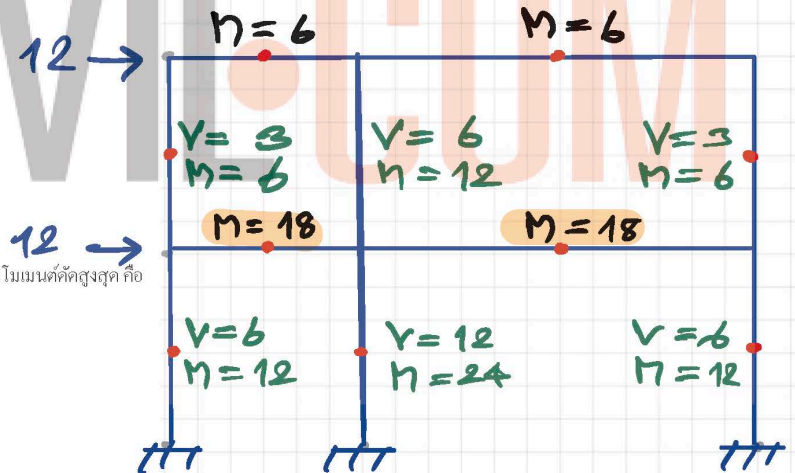
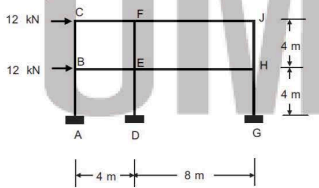
- ค่า  $M$  บนเสา เกิดขึ้นในบริเวณล่างเสา  
 - เสาด้านซ้ายเท่ากับ 2 เท่า ของเสาด้านขวา  
 - ดังนั้น เสา EF รับ  $M$  สูงสุด  
 $\rightarrow \sum H = 0 = 12 + 12 - 4V$   
 $V = 24/4 = 6 \text{ kN}$

จากการวิเคราะห์โครงสร้างที่แสดงในรูปโดยวิธี portal method, เสาที่มีค่าโมเมนต์คดสูงสุด คือ

- 1: เสา ED รับโมเมนต์คดสูงสุดเท่ากับ 18 kN-m
  - 2: เสา EF รับโมเมนต์คดสูงสุดเท่ากับ 24 kN-m
  - 3: เสา AB รับโมเมนต์คดสูงสุดเท่ากับ 28 kN-m
  - 4: เสา HJ รับโมเมนต์คดสูงสุดเท่ากับ 24 kN-m
- คำตอบที่ถูกต้อง : 2

$$\therefore M_{EF} = 2(6)(4/2) = 24 \text{ kN}\cdot\text{m}$$

ข้อที่ 200 :



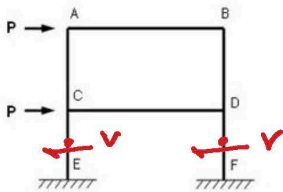
จากการวิเคราะห์โครงสร้างที่แสดงในรูป โดยวิธี portal method, คานที่มีค่าโมเมนต์คดสูงสุด คือ

- 1: คาน BE รับโมเมนต์คดสูงสุดเท่ากับ 16 kN-m
  - 2: คาน FJ รับโมเมนต์คดสูงสุดเท่ากับ 18 kN-m
  - 3: คาน EH รับโมเมนต์คดสูงสุดเท่ากับ 24 kN-m
  - 4: คาน CE รับโมเมนต์คดสูงสุดเท่ากับ 20 kN-m
- คำตอบที่ถูกต้อง : 3

ข้อที่ 201 :

ในการวิเคราะห์โครงสร้างแบบประมาณ (Approximate Analysis) โดยวิธีพอร์ทอลของโครง

ข้อข้างต้นแสดงในรูป จะได้ค่าแรงเฉือนที่กึ่งกลางชิ้นส่วน CE และ DF เท่ากับ




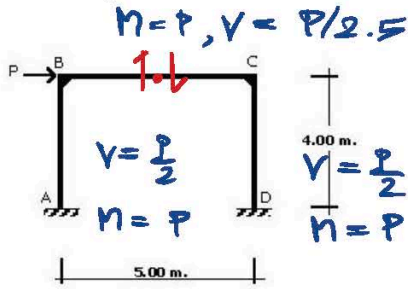
$$\rightarrow \sum H = 0 = P + P - 2V$$

$$\therefore V = 2P/2 = P$$

- 1: 0.25P
  - 2: 0.5P
  - 3: P
  - 4: 2P
- คำตอบที่ถูกต้อง : 3

ข้อที่ 202 :


โครงสร้างแข็งตั้งรูป หากวิเคราะห์โดยวิธี Portal method จะได้ค่าแรงตามแนวแกนในเสา CD เท่าใด



↓ V ขัดกันพอรอบ V จาก 1/2 ของ P/2.5

จุดต่อ C  $\Sigma V = 0$

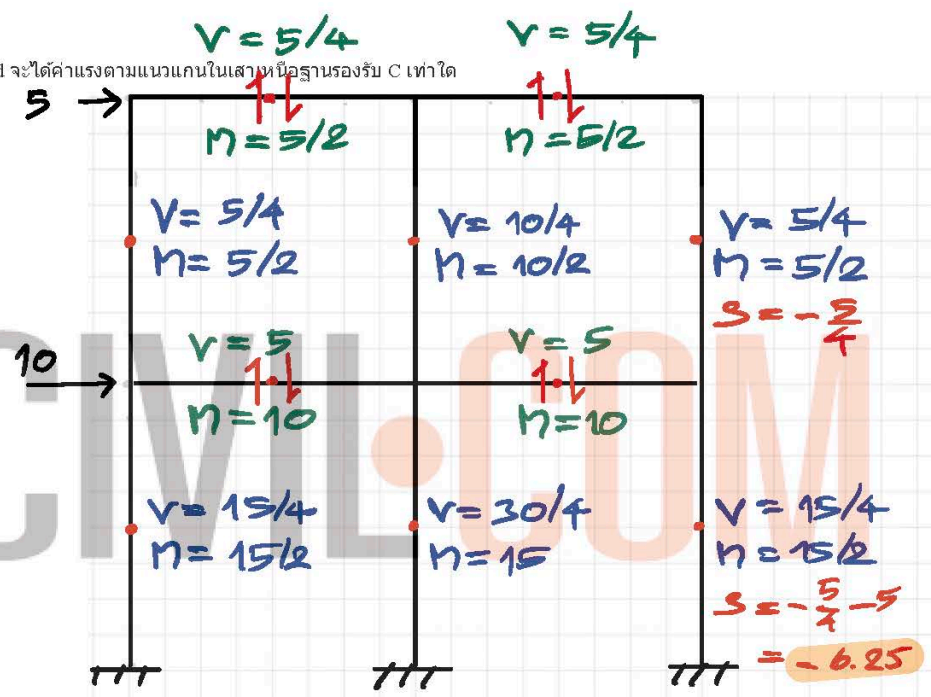
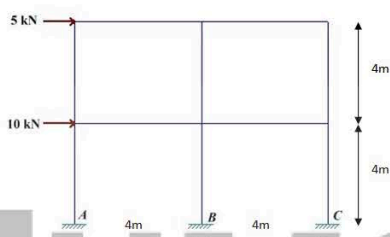
$\therefore S_{CD} = -\frac{P}{2.5} = -0.4P$



- 1 : 0
  - 2 : 0.2P
  - 3 : 0.4P
  - 4 : 0.5P
- คำตอบที่ถูกต้อง : 3

ข้อที่ 203 :

โครงสร้างแข็งตั้งรูปหากวิเคราะห์ด้วยวิธี Portal Method จะได้ค่าแรงตามแนวแกนในเสาที่ฐานรองรับ C เท่าใด



- 1 : 8
  - 2 : 10
  - 3 : 12
  - 4 : 14
- คำตอบที่ถูกต้อง : 2

เนื้อหาวิชา : 538 : Introduction to matrix structural analysis

ข้อที่ 204 :

ข้อใดกล่าวเกี่ยวกับการวิเคราะห์โครงสร้างด้วยวิธีเมทริกซ์ (Matrix Methods in Structural Analysis) ไม่ถูกต้อง

- 1 : นิยมใช้คอมพิวเตอร์เพื่อช่วยคำนวณ
  - 2 : เหมาะกับโครงสร้างที่มีดีกรีของอิสระ (โหนด) ในทงๆหรือมีแรงกระทำภายนอกหลายจุด
  - 3 : วิเคราะห์โครงสร้างที่มีน้ำหนักเนื่องจากอุณหภูมิได้
  - 4 : วิเคราะห์โครงสร้างประกอบ (Composite structures) ได้
  - 5 : ไม่สามารถวิเคราะห์โครงสร้างที่เป็นดีเทอร์มิแนนต์
- คำตอบที่ถูกต้อง : 5

วิเคราะห์ได้ทั้งโครงสร้าง แบบดีเทอร์มิแนนต์ และ แบบอินดีเทอร์มิแนนต์

ข้อที่ 205 :

ในการวิเคราะห์โครงสร้าง Frame ด้วยวิธี Matrix Analysis ค่า Property ในที่แปรผกผันกับความแข็งแรงของชิ้นส่วน (Element Stiffness)


- 1 : E (Elastic Modulus)
  - 2 : I (Moment of Inertia)
  - 3 : A (Area)
  - 4 : L (Length)
- คำตอบที่ถูกต้อง : 4

Element Stiffness คือ สมบัติของวัสดุ / โครงสร้างชิ้นส่วน  
 $k = \frac{EA}{L}$ ,  $k = \frac{EI}{L}$

ข้อที่ 206 :

ในวิชา Structural Analysis โครงสร้างแข็ง (rigid frame) ที่อยู่ใน 3 มิติ แต่ละ node ของโครงสร้างแข็งจะมีจำนวน degree of freedoms ได้มากที่สุดกี่ค่า

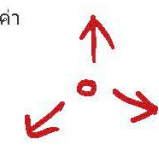
- 1 : 2
  - 2 : 3
  - 3 : 4
  - 4 : 5
  - 5 : 6
- คำตอบที่ถูกต้อง : 5



ข้อที่ 207 :

ในวิชา Structural Analysis โครงสร้างถัก (truss) ที่อยู่ใน 3 มิติ แต่ละ node ของโครงสร้างถักจะมีจำนวน degree of freedoms ได้มากที่สุดกี่ค่า

- 1 : 2
- 2 : 3





- 3:4
- 4:5
- 5:6
- คำตอบที่ถูกต้อง : 2

ข้อที่ 208 :

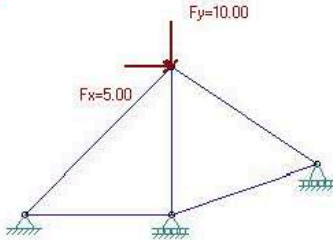
ข้อใดต่อไปนี้เป็นถูกนำมาใช้ในการหา member global stiffness matrix [k] ในวิธี matrix displacement method

- 1: equilibrium equation, compatibility condition, และ consistent deformation
  - 2: equilibrium equation, compatibility condition, และ force-displacement relationship
  - 3: equilibrium equation, consistent deformation, และ force-displacement relationship
  - 4: compatibility condition, force-displacement relationship, และ consistent deformation
- คำตอบที่ถูกต้อง : 2

consistent deformation ใช้ในวิธี force method

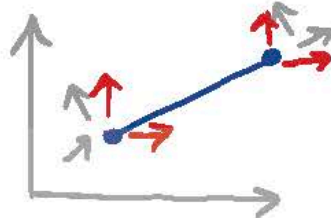
ข้อที่ 209 :

จากรูป ในการวิเคราะห์โครงข้อหมุนโดยวิธี matrix displacement method นั้น global structure stiffness matrix [K] ของโครงข้อหมุนจะมีขนาดเท่าใด



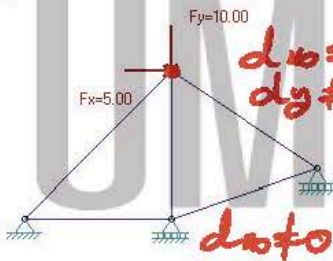
พิจารณาจาก diagram ใช้วิธี force method member global stiffness matrix  
 ↓ สำหรับโครงข้อหมุนจะมีขนาด 4x4

- 1: 4x4
  - 2: 6x6
  - 3: 8x8
  - 4: 10x10
- คำตอบที่ถูกต้อง : 1



ข้อที่ 210 :

จากรูป ในการวิเคราะห์โครงข้อหมุนโดยวิธี matrix displacement method นั้น เราจะต้องทำการ inverse matrix ขนาดเท่าใด เพื่อให้ได้ค่าการเปลี่ยนตำแหน่งที่ node ของโครงข้อหมุน



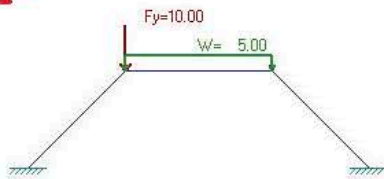
ขนาด Inverse Matrix เท่ากับ ขนาด d ไม่ทราบค่า

- 1: 2x2
  - 2: 3x3
  - 3: 4x4
  - 4: 5x5
- คำตอบที่ถูกต้อง : 3

∴ ขนาด Inverse Matrix เท่ากับ 4x4

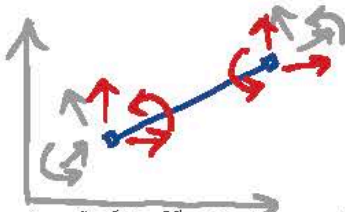
ข้อที่ 211 :

จากรูป ในการวิเคราะห์โครงข้อแข็งโดยวิธี matrix displacement method นั้น global structure stiffness matrix ของโครงข้อแข็งจะมีขนาดเท่าใด



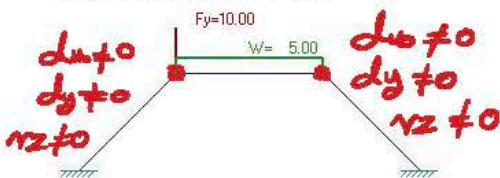
พิจารณาจาก diagram ใช้วิธี force method member global stiffness matrix  
 ↓ สำหรับโครงข้อแข็งจะมีขนาด 6x6

- 1: 3x3
  - 2: 4x4
  - 3: 6x6
  - 4: 9x9
- คำตอบที่ถูกต้อง : 3



ข้อที่ 212 :

จากรูป ในการวิเคราะห์โครงข้อแข็งโดยวิธี matrix displacement method นั้น เราจะต้องทำการ inverse matrix ขนาดเท่าใด เพื่อให้ได้ค่าการเปลี่ยนตำแหน่งที่ node ของโครงข้อแข็งที่ไม่ทราบค่า

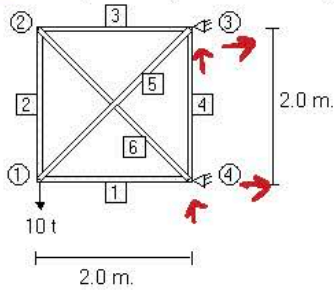


∴ ขนาด inverse matrix เท่ากับ 6x6

- 1: 4x4
  - 2: 6x6
  - 3: 8x8
  - 4: 10x10
- ค่าตอบที่ถูกต้อง : 2

ข้อที่ 213 :

โครงสร้างดังรูป มีค่า Degree of Indeterminacy เท่าใด

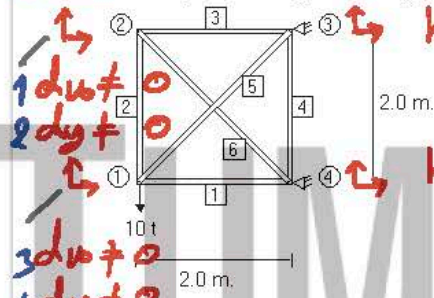


$m = 6$   
 $r = 4$   
 $j = 4$   
 $m+r = 10$   
 $2j = 8$   
 $\therefore DI = 2$

- 1: Statically Determinate
  - 2: Statically Indeterminate to 1°
  - 3: Statically Indeterminate to 2°
  - 4: ไม่มีคำตอบที่ถูก
- ค่าตอบที่ถูกต้อง : 3

ข้อที่ 214 :

โครงสร้างดังรูป มีจำนวน displacement degree of freedom ของระบบเท่าใด

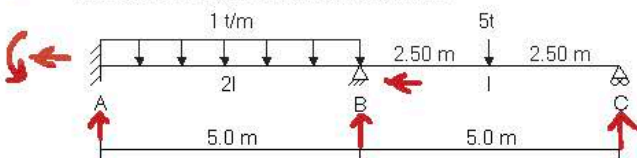


hinge support  $d_x = 0$   
 $d_y = 0$   
 hinge support  $d_x = 0$   
 $d_y = 0$

- 1: 2
  - 2: 4
  - 3: 8
  - 4: ไม่มีคำตอบที่ถูก
- ค่าตอบที่ถูกต้อง : 2

ข้อที่ 215 :

คานดังรูป มีค่า Degree of Indeterminacy เท่าใด

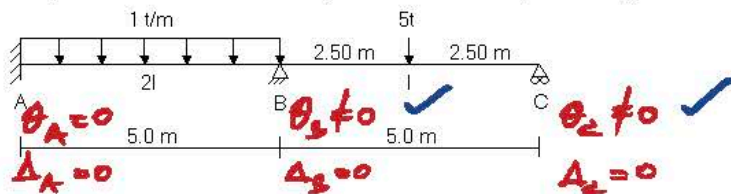


$m = 2$   
 $r = 6$   
 $j = 3$   
 $3m+r = 12$   
 $3j = 9$   
 $\therefore DI = 3$

- 1: Statically Indeterminate to 1°
  - 2: Statically Indeterminate to 3°
  - 3: Statically Indeterminate to 5°
  - 4: ไม่มีคำตอบที่ถูก
- ค่าตอบที่ถูกต้อง : 2

ข้อที่ 216 :

คานดังรูป ถ้าไม่มีการยึดหดความยาวของทุกชิ้นส่วน จะมีจำนวน displacement degree of freedom ของระบบมีค่าเท่าใด

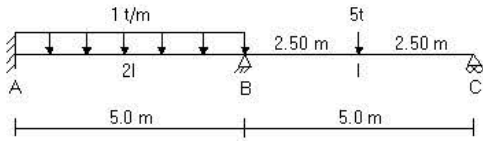


- 1: 8
  - 2: ไม่มีคำตอบที่ถูก
  - 3: 2
  - 4: 4
- ค่าตอบที่ถูกต้อง : 3



ข้อที่ 217 :

กำหนดรูป ค่า Element Stiffness matrix ของชิ้นส่วน AB  
 $k_{AB}$  หาได้จากข้อใด



$$k_{AB} = \frac{EI}{L} \begin{bmatrix} 4 & 2 \\ 2 & 4 \end{bmatrix}$$

1:

$$k_{AB} = \frac{EI}{L} \begin{bmatrix} 4 & \text{symmetry} & & & & \\ 2 & 4 & & & & \\ -6/L & -6/L & 12/L^2 & & & \\ 6/L & 6/L & -12/L^2 & 12/L^2 & & \\ & & & & c_x^2 & \text{symmetry} \\ & & & & c_x c_y & c_y^2 \\ & & & & -c_x^2 & -c_x c_y & c_x^2 \\ & & & & -c_x c_y & -c_y^2 & c_x c_y & c_y^2 \end{bmatrix}$$

2:

$$k_{AB} = \frac{EA}{L} \begin{bmatrix} c_x^2 & \text{symmetry} & & & & \\ c_x c_y & c_y^2 & & & & \\ -c_x^2 & -c_x c_y & c_x^2 & & & \\ -c_x c_y & -c_y^2 & c_x c_y & c_y^2 & & \end{bmatrix}$$

เมื่อ  $c_x = \cos \theta_1$   
 $c_y = \cos \theta_2$

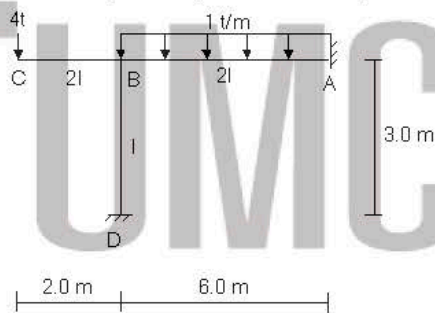
3:

4: ไม่มีคำตอบที่ถูกต้อง  
 คำตอบที่ถูกต้อง : 1

โจทย์ข้อนี้ถามหา stiffness ของ beam ที่องศา 0 เท่านั้น

ข้อที่ 218 :

โครงสร้างซึ่งมีค่า Degree of Indeterminacy เท่าใด



$M = 3$   
 $r = 6$   
 $j = 4$

$3M + r = 15$

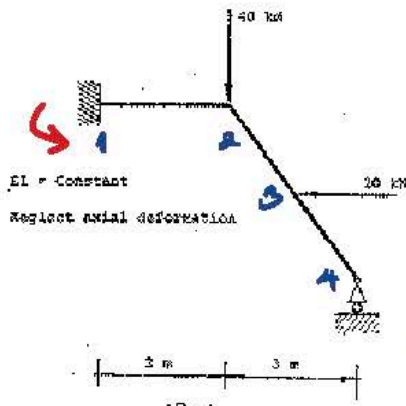
$3j = 12$

$\therefore DI = 3$

- 1: Statically Indeterminate to 1°
- 2: Statically Indeterminate to 3°
- 3: Statically Indeterminate to 5°
- 4: ไม่มีคำตอบที่ถูกต้อง  
คำตอบที่ถูกต้อง : 2

ข้อที่ 219 :

โดยวิธี Matrix Force ให้คำนวณหา โมเมนต์ที่ปลาย ของ element ในโครงสร้างต่อไปนี้ ให้ตอบอยู่ในรูป



การแตกค่าคง

เพื่อพิจารณาและหาแรงที่กระทำกับโครงสร้าง โดยแนวคิด Fixed Support จะเป็นโมเมนต์และแรงปัดกัน

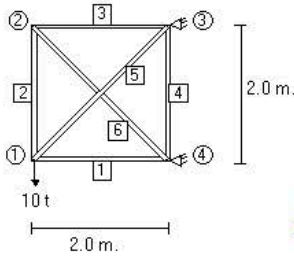
- 1: [-22 -200 0]
  - 2: [6 -33 -1.5 1.5 0]
  - 3: [56.2 72.4 -72.4 -64.0 64.0 0]
  - 4: [-39.6 -20.4 20.4 30.0 30.0 0]
- คำตอบที่ถูกต้อง : 4

ข้อที่ 220 :

ค่า Element Stiffness matrix ของชิ้นส่วน 1

$k_1$  หาได้จากข้อใด

ใน global coordinate เมื่อ  $\theta_1$  เป็นมุมของชิ้นส่วนเทียบกับแนวราบและ  $\theta_2$  เป็นมุมของชิ้นส่วนเทียบกับแนวตั้ง



Stiffness ของ Truss ไม่ใช่ว่า I  
 เข้ามาที่ข้อเพื่อหาสมการของ Truss  
 ต้องรับแรงจาก 1 และ 2 เท่านั้น


1:  $k_1 = \frac{EI}{L} \begin{bmatrix} 4 & 2 \\ 2 & 4 \end{bmatrix}$

2:  $k_1 = \frac{EI}{L} \begin{bmatrix} 4 & \text{symmetry} & & & & \\ 2 & 4 & & & & \\ -\frac{6}{L} & -\frac{6}{L} & \frac{12}{L^2} & & & \\ \frac{6}{L} & \frac{6}{L} & -\frac{12}{L^2} & \frac{12}{L^2} & & \\ & & & & & \\ & & & & & \end{bmatrix}$

3:  $k_1 = \frac{EA}{L} \begin{bmatrix} c_x^2 & \text{symmetry} & & & & \\ c_x c_y & c_y^2 & & & & \\ -c_x^2 & -c_x c_y & c_x^2 & & & \\ -c_x c_y & -c_y^2 & c_x c_y & c_y^2 & & \end{bmatrix}$

เมื่อ  $c_x = \cos \theta_1$   
 $c_y = \cos \theta_2$

- 3: ไม่มีคำตอบที่ถูกต้อง
- 4: ไม่มีคำตอบที่ถูกต้อง
- คำตอบที่ถูกต้อง : 3



$c = \cos \theta$   
 $s = \sin \theta$

รูปแบบนี้

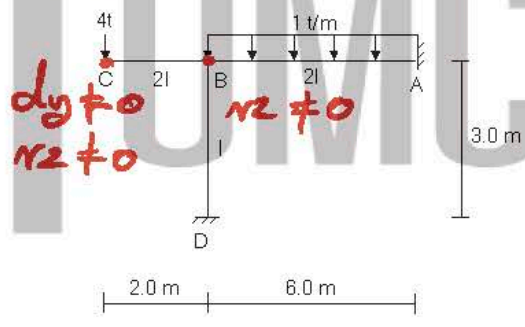
$k_{ij} = \frac{EA}{L}$

symmetry

$$\begin{bmatrix} c^2 & & & & & \\ sc & & & & & \\ -c^2 & -sc & c^2 & & & \\ -sc & -s^2 & sc & s^2 & & \end{bmatrix}$$

ข้อที่ 221:

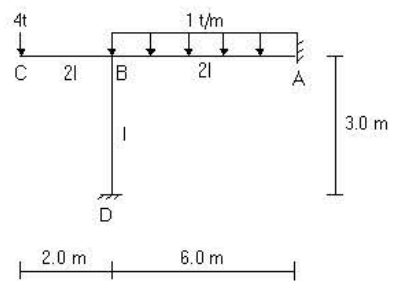
โครงสร้างแข็งดังรูป ถ้าไม่มีการยึดหดความยาวของทุกชิ้นส่วน จะมีจำนวน displacement degree of freedom ของระบบมีค่าเท่าใด



- 1: 2
- 2: 3
- 3: ไม่มีคำตอบที่ถูกต้อง
- 4: 1
- คำตอบที่ถูกต้อง : 2

ข้อที่ 222:

โครงสร้างแข็งดังรูป ถ้าไม่มีการยึดหดของชิ้นส่วน ค่า Element Stiffness matrix ของชิ้นส่วน BD ใน Local coordinate หาได้จากข้อใด



โครงสร้างแข็ง หมายถึง มีแรงตาม  
 stiffness ของชิ้นส่วน  
 ที่องศา 0 เท่านั้น

1:  $k_{BD} = \frac{EI}{L} \begin{bmatrix} 4 & 2 \\ 2 & 4 \end{bmatrix}$

$$k_{BD} = \frac{EI}{L} \begin{bmatrix} 4 & \text{symmetry} \\ 2 & 4 \\ -6/L & -6/L & 12/L^2 \\ 6/L & 6/L & -12/L^2 & 12/L^2 \end{bmatrix}$$

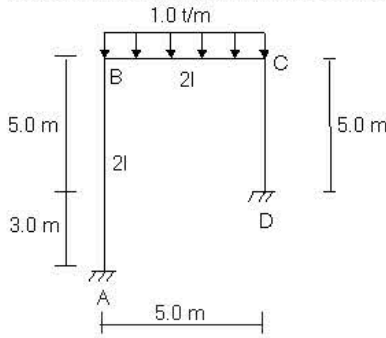
$$k_{BD} = \frac{EA}{L} \begin{bmatrix} c_x^2 & \text{symmetry} \\ c_x c_y & c_y^2 \\ -c_x^2 & -c_x c_y & c_x^2 \\ -c_x c_y & -c_y^2 & c_x c_y & c_y^2 \end{bmatrix}$$

เมื่อ  $c_x = \cos\theta_1$   
 $c_y = \cos\theta_2$

3: ไม่มีค่าต่อที่ถูกล  
4: ไม่มีค่าต่อที่ถูกล  
ค่าต่อที่ถูกลต้อง : 1

ข้อที่ 223 :

โครงสร้างซึ่งดังรูป มีค่า Degree of Indeterminate เท่าใด



$m = 3, r = 6, j = 4$

$3m + r = 15$

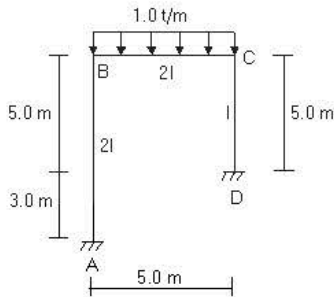
$3j = 12$

$\therefore DI = 3$

1. Statically Indeterminate to 1°
2. Statically Indeterminate to 3°
3. Statically Indeterminate to 5°
4. ไม่มีค่าต่อที่ถูกล  
ค่าต่อที่ถูกลต้อง : 2

ข้อที่ 224 :

โครงสร้างดังรูป มีค่า Element Stiffness matrix ของชิ้นส่วน AB ใน global coordinate เท่าใด



$$k_{AB} = \frac{EI}{L} \begin{bmatrix} 4 & 2 \\ 2 & 4 \end{bmatrix}$$

$$k_{AB} = \frac{EI}{L} \begin{bmatrix} 4 & \text{symmetry} \\ 2 & 4 \\ -6/L & -6/L & 12/L^2 \\ 6/L & 6/L & -12/L^2 & 12/L^2 \end{bmatrix}$$

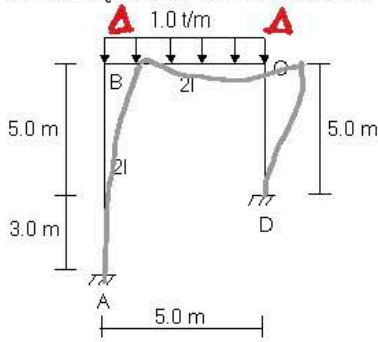
$$k_{AB} = \frac{EA}{L} \begin{bmatrix} c_x^2 & \text{symmetry} \\ c_x c_y & c_y^2 \\ -c_x^2 & -c_x c_y & c_x^2 \\ -c_x c_y & -c_y^2 & c_x c_y & c_y^2 \end{bmatrix}$$

เมื่อ  $c_x = \cos\theta_1$   
 $c_y = \cos\theta_2$

3: ไม่มีค่าต่อที่ถูกล  
4: ไม่มีค่าต่อที่ถูกล  
ค่าต่อที่ถูกลต้อง : 2

ข้อที่ 225 :

โครงสร้างดังรูป ถ้าไม่มีการยึดหดตัวของความยาวทุกชิ้นส่วน จะมีจำนวน displacement degree of freedom ของระบบมีค่าเท่าใด



$\theta_B \neq 0$   
 $\theta_C \neq 0$   
 $\Delta_B = \Delta_C = \Delta$

- 1: 1
  - 2: 2
  - 3: 3
  - 4: ไม่มีคำตอบที่ถูกต้อง
- คำตอบที่ถูกต้อง : 3

ข้อที่ 226 :

กำหนดให้  $A = \begin{bmatrix} 4 & 1 \\ 2 & 3 \end{bmatrix}$  จงหา  $A^{-1}$

เขียน Matrix 2x2  
 ถ้า  $A = \begin{bmatrix} a & b \\ c & d \end{bmatrix}$

$$\therefore A^{-1} = \frac{1}{4(3) - 1(2)} \begin{bmatrix} 3 & -1 \\ -2 & 4 \end{bmatrix}$$


$$= \frac{1}{10} \begin{bmatrix} 3 & -1 \\ -2 & 4 \end{bmatrix}$$

- 1:  $A^{-1} = \frac{1}{10} \begin{bmatrix} 4 & -1 \\ -2 & 3 \end{bmatrix}$
  - 2:  $A^{-1} = \frac{1}{10} \begin{bmatrix} 3 & -1 \\ -2 & 4 \end{bmatrix}$
  - 3:  $A^{-1} = \frac{1}{10} \begin{bmatrix} -4 & -1 \\ -2 & -3 \end{bmatrix}$
  - 4: ไม่มีคำตอบที่ถูกต้อง
- คำตอบที่ถูกต้อง : 2

ข้อที่ 227 :

ในวิชา Structural Analysis โครงสร้างแข็ง (rigid frame) ที่อยู่ใน 3 มิติ หนึ่งชิ้นส่วนโครงสร้างแข็งจะมีจำนวน degree of freedoms "ได้มากที่สุดเท่าใด"

- 1: 3
  - 2: 6
  - 3: 9
  - 4: 12
- คำตอบที่ถูกต้อง : 4



ข้อที่ 228 :

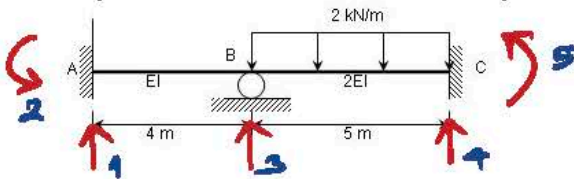
ในวิชา Structural Analysis โครงสร้างค้ำ (truss) ที่อยู่ใน 3 มิติ หนึ่งชิ้นส่วนโครงสร้างค้ำจะมีจำนวน degree of freedoms "ได้มากที่สุดเท่าใด"

- 1: 3
  - 2: 4
  - 3: 6
  - 4: 9
- คำตอบที่ถูกต้อง : 3



ข้อที่ 229 :

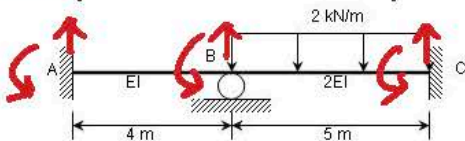
จากรูป ในการวิเคราะห์คานโดยใช้ matrix structural analysis คานดังกล่าวมี degree of freedoms ที่ถูกยึดตรึง (constrained degree of freedoms) "ได้มากที่สุดเท่าใด"



- 1: 2
  - 2: 3
  - 3: 4
  - 4: 5
- คำตอบที่ถูกต้อง : 4

ข้อที่ 230 :

จากรูป ในการวิเคราะห์คานโดยวิธี matrix displacement method นั้น global structure stiffness matrix [K] ของคานจะมีขนาดเท่าใด



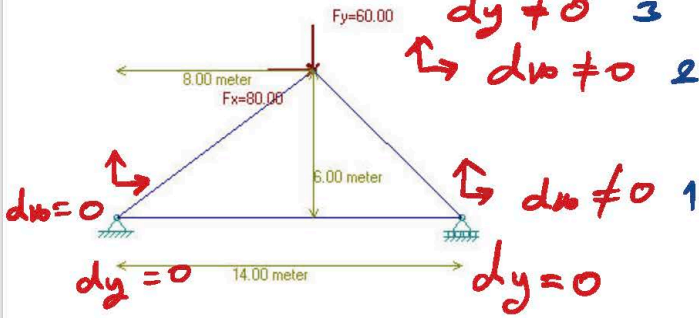
- 1: 2x2
- 2: 6x6
- 3: 8x8



4: 10x10  
คำตอบที่ถูกต้อง : 2

ข้อที่ 231 :

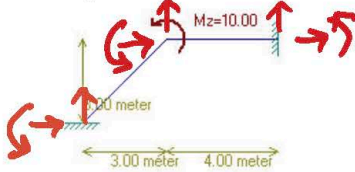
จากรูป ในการวิเคราะห์โครงข้อหมุนโดยวิธี matrix displacement method นั้น เราจะต้องทำการ inverse matrix ขนาดเท่าใด เพื่อให้ได้ค่าการเปลี่ยนตำแหน่งที่ node ของโครงข้อหมุน



- 1: 3x3
  - 2: 4x4
  - 3: 5x5
  - 4: 6x6
- คำตอบที่ถูกต้อง : 1

ข้อที่ 232 :

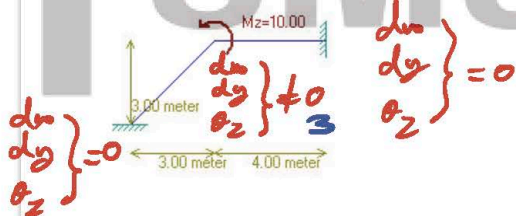
จากรูป ในการวิเคราะห์โครงข้อแข็งโดยวิธี matrix displacement method นั้น global structure stiffness matrix ของโครงข้อแข็งจะมีขนาดเท่าใด



- 1: 3x3
  - 2: 4x4
  - 3: 6x6
  - 4: 9x9
- คำตอบที่ถูกต้อง : 4

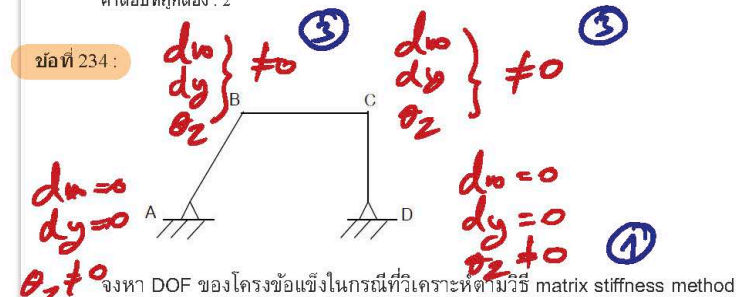
ข้อที่ 233 :

จากรูป ในการวิเคราะห์โครงข้อแข็งโดยวิธี matrix displacement method นั้น เราจะต้องทำการ inverse matrix ขนาดเท่าใด เพื่อให้ได้ค่าการเปลี่ยนตำแหน่งที่ node ของโครงข้อแข็งที่ไม่ทราบค่า



- 1: 2x2
  - 2: 3x3
  - 3: 4x4
  - 4: 6x6
  - 5: 9x9
- คำตอบที่ถูกต้อง : 2

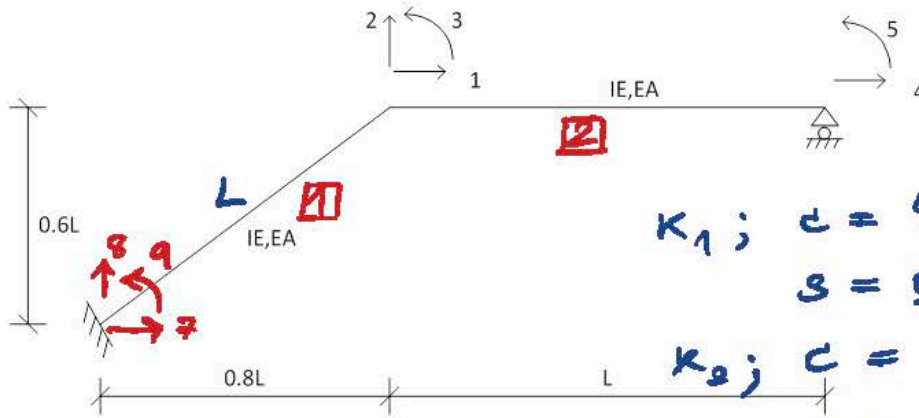
ข้อที่ 234 :



- 1: 10
  - 2: 8
  - 3: 3
  - 4: 6
- คำตอบที่ถูกต้อง : 2

ข้อที่ 235 :





L = 5m  
 A = 800 cm<sup>2</sup>  
 I = 105 cm<sup>4</sup>  
 E = 2x10<sup>6</sup> kg/cm<sup>2</sup>

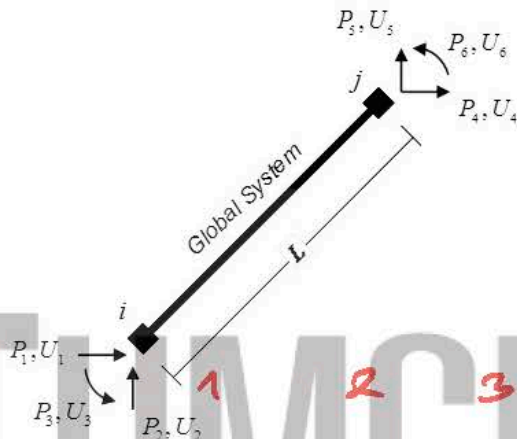
± โมเมนต์ข้อต่อของทุกข้อม

$$K_1; \quad c = \frac{0.8L}{L} = 0.8$$

$$s = \frac{0.6L}{L} = 0.6$$

$$K_2; \quad c = \frac{1L}{L} = 1$$

$$s = \frac{0L}{L} = 0$$



$$K_M = c^2 \frac{EA}{L} + s^2 \frac{12EI}{L^3}$$

$$= E \left[ \frac{c^2 A}{L} + \frac{12s^2 I}{L^3} \right]$$

$$= (2 \times 10^6) \left[ \frac{0.8^2 (800)}{500} + \frac{12(0.6^2)(105)}{500^3} \right]$$

$$= 2048007 \text{ kg/cm}$$

$$= 2048 \text{ T/cm}$$

$c^2 \frac{EA}{L} + s^2 \frac{12EI}{L^3}$	$cs \frac{EA}{L} - cs \frac{12EI}{L^3}$	$-s \frac{6EI}{L^2}$	$-c^2 \frac{EA}{L} - s^2 \frac{12EI}{L^3}$	$-cs \frac{EA}{L} + cs \frac{12EI}{L^3}$	$-s \frac{6EI}{L^2}$
$cs \frac{EA}{L} - cs \frac{12EI}{L^3}$	$s^2 \frac{EA}{L} + c^2 \frac{12EI}{L^3}$	$c \frac{6EI}{L^2}$	$-cs \frac{EA}{L} + cs \frac{12EI}{L^3}$	$-s^2 \frac{EA}{L} - c^2 \frac{12EI}{L^3}$	$c \frac{6EI}{L^2}$
$-s \frac{6EI}{L^2}$	$c \frac{6EI}{L^2}$	$\frac{4EI}{L}$	$s \frac{6EI}{L^2}$	$-c \frac{6EI}{L^2}$	$\frac{2EI}{L}$
$-c^2 \frac{EA}{L} - s^2 \frac{12EI}{L^3}$	$-cs \frac{EA}{L} + cs \frac{12EI}{L^3}$	$s \frac{6EI}{L^2}$	$c^2 \frac{EA}{L} + s^2 \frac{12EI}{L^3}$	$cs \frac{EA}{L} - cs \frac{12EI}{L^3}$	$s \frac{6EI}{L^2}$
$-cs \frac{EA}{L} + cs \frac{12EI}{L^3}$	$-s^2 \frac{EA}{L} - c^2 \frac{12EI}{L^3}$	$-c \frac{6EI}{L^2}$	$cs \frac{EA}{L} - cs \frac{12EI}{L^3}$	$s^2 \frac{EA}{L} + c^2 \frac{12EI}{L^3}$	$-c \frac{6EI}{L^2}$
$-s \frac{6EI}{L^2}$	$c \frac{6EI}{L^2}$	$\frac{2EI}{L}$	$s \frac{6EI}{L^2}$	$-c \frac{6EI}{L^2}$	$\frac{4EI}{L}$

1 2 3 4 5 6  
 7 8 9 1 2 3  
 K<sub>2</sub>  
 K<sub>1</sub>  
 7 1  
 8 2  
 9 3  
 1 4  
 2 5  
 3 6

where

c = cos φ and s = sin φ

ค่า K<sub>11</sub> ของโครงสร้างข้างต้นในรูปมีค่าเท่ากับ

- 1: 3284.32
  - 2: 4284.32
  - 3: 1284.32
  - 4: 9548.32
- คำตอบที่ถูกต้อง : 1

ข้อที่ 236 :

?

$$K_{11} = c^2 \frac{EA}{L} + s^2 \frac{12EI}{L^3}$$

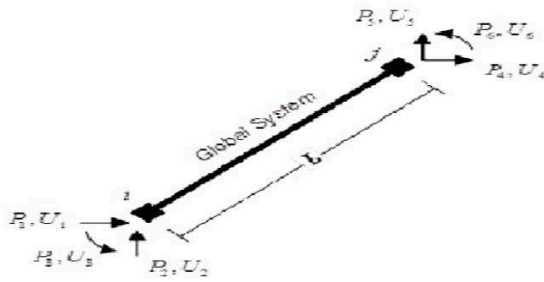
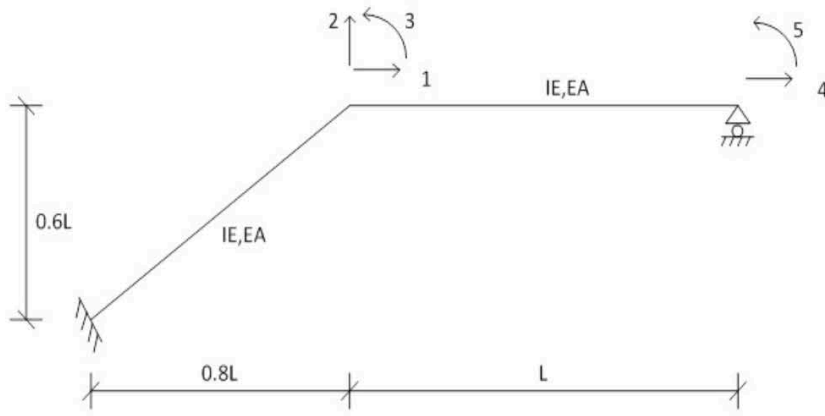
$$= E \left[ \frac{c^2 A}{L} + \frac{12s^2 I}{L^3} \right]$$

$$= (2 \times 10^6) \left[ \frac{1^2 (800)}{500} \right]$$

$$= 3200000 \text{ kg/cm}$$

$$= 3200 \text{ T/cm}$$

$$\therefore K_{11} = 2048 + 3200 = 5248 \text{ T/cm}$$



$$K_{ij} = \begin{bmatrix} c^2 \frac{EA}{L} + s^2 \frac{12EI}{L^3} & cs \frac{EA}{L} - cs \frac{12EI}{L^3} & -s \frac{6EI}{L^2} & -c^2 \frac{EA}{L} - s^2 \frac{12EI}{L^3} & -cs \frac{EA}{L} + cs \frac{12EI}{L^3} & -s \frac{6EI}{L^2} \\ cs \frac{EA}{L} - cs \frac{12EI}{L^3} & s^2 \frac{EA}{L} + c^2 \frac{12EI}{L^3} & c \frac{6EI}{L^2} & -cs \frac{EA}{L} + cs \frac{12EI}{L^3} & -s^2 \frac{EA}{L} - c^2 \frac{12EI}{L^3} & c \frac{6EI}{L^2} \\ -s \frac{6EI}{L^2} & c \frac{6EI}{L^2} & \frac{4EI}{L} & s \frac{6EI}{L^2} & -c \frac{6EI}{L^2} & \frac{2EI}{L} \\ -c^2 \frac{EA}{L} - s^2 \frac{12EI}{L^3} & cs \frac{EA}{L} + cs \frac{12EI}{L^3} & s \frac{6EI}{L^2} & c^2 \frac{EA}{L} + s^2 \frac{12EI}{L^3} & cs \frac{EA}{L} - cs \frac{12EI}{L^3} & s \frac{6EI}{L^2} \\ -cs \frac{EA}{L} + cs \frac{12EI}{L^3} & -s^2 \frac{EA}{L} - c^2 \frac{12EI}{L^3} & -c \frac{6EI}{L^2} & cs \frac{EA}{L} - cs \frac{12EI}{L^3} & -s^2 \frac{EA}{L} + c^2 \frac{12EI}{L^3} & -c \frac{6EI}{L^2} \\ -s \frac{6EI}{L^2} & c \frac{6EI}{L^2} & \frac{2EI}{L} & s \frac{6EI}{L^2} & -c \frac{6EI}{L^2} & \frac{4EI}{L} \end{bmatrix}$$

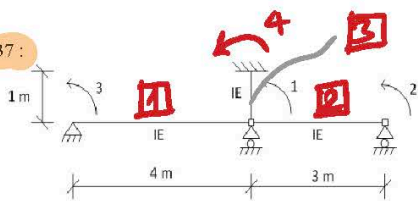
where  $c = \cos \phi$  and  $s = \sin \phi$

ค่า K<sub>21</sub> ของโครงข้อแข็งในรูปมีค่าเท่ากับ

- 1: 954.24
- 2: -954.24
- 3: 1954.24
- 4: -1954.24

คำตอบที่ถูกต้อง : 1

ข้อที่ 237 :



$$K = \frac{EI}{L} \begin{bmatrix} 4 & 2 \\ 2 & 4 \end{bmatrix} \begin{matrix} \theta_i \\ \theta_j \end{matrix}$$

ค่า K<sub>11</sub> ของโครงข้อแข็งในรูปมีค่าเท่ากับ

$$K_1 = \frac{EI}{4} \begin{bmatrix} 3 & 1 \\ 1 & 4 \end{bmatrix}_1 \Rightarrow K_{11} = \frac{4EI}{4} = EI$$

- 1: 3.333EI
- 2: 4.333EI
- 3: 5.333EI
- 4: 6.333EI

$$K_2 = \frac{EI}{3} \begin{bmatrix} 1 & 2 \\ 2 & 4 \end{bmatrix}_2 \Rightarrow K_{11} = \frac{4EI}{3}$$

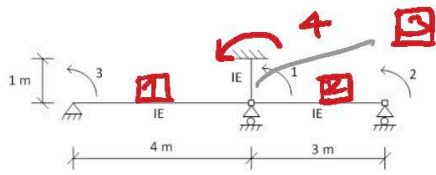
คำตอบที่ถูกต้อง : 4

$$K_3 = \frac{EI}{1} \begin{bmatrix} 1 & 4 \\ 4 & 4 \end{bmatrix}_4 \Rightarrow K_{11} = \frac{4EI}{1} = 4EI$$

ข้อที่ 238 :

$$\therefore K_{11} = EI + \frac{4}{3}EI + 4EI = \frac{19}{3}EI = 6.333EI$$





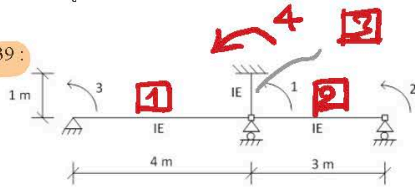
ค่า  $K_{23}$  ของโครงข้อแข็งในรูปมีค่าเท่ากับ

- 1: 0
  - 2:  $4EI/3$
  - 3:  $EI$
  - 4:  $3.333EI$
- คำตอบที่ถูกต้อง : 1

$K_{23}$  ไม่มี เพราะจุดข้อ 3 กับจุดข้อ 2 ไม่ได้อยู่บนข้อกัน

$\therefore K_{23} = 0$

ข้อที่ 239 :



ค่า  $K_{31}$  ของโครงข้อแข็งในรูปมีค่าเท่ากับ

- 1:  $EI/2$
  - 2:  $EI$
  - 3:  $2EI$
  - 4: 0
- คำตอบที่ถูกต้อง : 1

$$K = \frac{EI}{L} \begin{bmatrix} 4 & 2 \\ 2 & 4 \end{bmatrix} \begin{matrix} \theta_i \\ \theta_j \end{matrix}$$

$K_{31}$  อยู่ที่ข้อ 3 และข้อ 1

$$\therefore K_1 = \frac{EI}{4} \begin{bmatrix} 3 & 1 \\ 2 & 4 \end{bmatrix}$$

$\therefore K_{31} = \frac{2EI}{4} = EI/2$

ข้อที่ 240 :

จงอธิบายความหมายทางกายภาพของค่า stiffness influence coefficient  $K_{ij}$

- 1: เป็นแรงที่กระทำที่ DOF ที่ i เนื่องจากการใส่ displacement 1 หน่วยที่ DOF ที่ j
  - 2: เป็นแรงที่กระทำที่ DOF ที่ j เนื่องจากการใส่ displacement 1 หน่วยที่ i
  - 3: เป็น displacement ที่เกิดขึ้นที่ DOF ที่ i เนื่องจากการใส่แรงหนึ่งหน่วยที่ DOF ที่ j
  - 4: เป็น displacement ที่เกิดขึ้นที่ DOF ที่ j เนื่องจากการใส่แรงหนึ่งหน่วยที่ DOF ที่ i
- คำตอบที่ถูกต้อง : 1

$K_{ij}$  is defined as the force at i corresponding to a unit displacement at j and j alone.

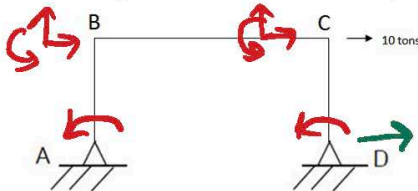
ข้อที่ 241 :

จงอธิบายความหมายทางกายภาพของค่า flexibility influence coefficient  $F_{ij}$

- 1: เป็นแรงที่กระทำที่ DOF ที่ i เนื่องจากการใส่ displacement 1 หน่วยที่ DOF ที่ j
  - 2: เป็นแรงที่กระทำที่ DOF ที่ j เนื่องจากการใส่ displacement 1 หน่วยที่ i
  - 3: เป็น displacement ที่เกิดขึ้นที่ DOF ที่ i เนื่องจากการใส่แรงหนึ่งหน่วยที่ DOF ที่ j
  - 4: เป็น displacement ที่เกิดขึ้นที่ DOF ที่ j เนื่องจากการใส่แรงหนึ่งหน่วยที่ DOF ที่ i
- คำตอบที่ถูกต้อง : 3

ข้อที่ 242 :

ข้อความใดถูกต้องสำหรับการใช้วิธี Matrix Displacement Method กับ Matrix Force Method สำหรับวิเคราะห์โครงสร้างดังแสดงในรูป



Displacement Method  
หาก Inverse ขึ้นอยู่กับจำนวน d  
ซึ่งเท่ากับ  $8 \times 8$

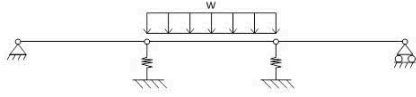
Force Method

- 1: ไม่จำเป็นต้อง inverse matrix สำหรับการวิเคราะห์ด้วย Matrix Force Method
  - 2: ต้อง inverse matrix ขนาด  $3 \times 3$  ถ้าใช้วิธี Matrix Displacement Method
  - 3: ต้อง inverse matrix ขนาด  $3 \times 3$  ถ้าใช้วิธี Matrix ขนาด  $3 \times 3$  ถ้าใช้วิธี Matrix Force Method
  - 4: ไม่มีคำตอบที่ถูกต้อง
- คำตอบที่ถูกต้อง : 1

หาก Inverse ขึ้นอยู่กับจำนวน d  
ซึ่งเท่ากับ  $1 \times 1$  ซึ่งใช้วิธี Inverse

ข้อที่ 243 :

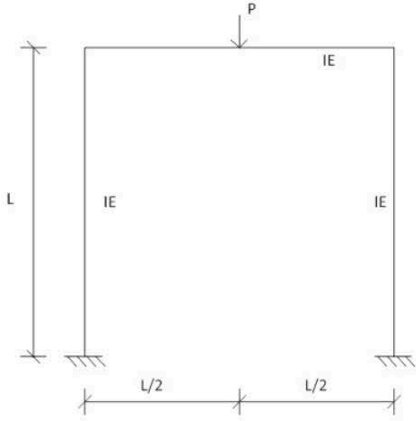




ในการวิเคราะห์หาคานโดยวิธี matrix displacement method นั้น เราต้องทำการ inverse matrix ขนาดเท่าใดเพื่อให้ได้ค่าการเปลี่ยนตำแหน่งที่ node

- 1 : 6x6
- 2 : 4x4
- 3 :
- 5x5
- 4 : 3x3
- คำตอบที่ถูกต้อง : 1

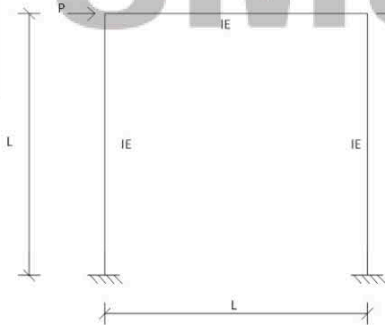
ข้อที่ 244 :



โครงข้อแข็งดังแสดงในรูป ไม่คิดการเปลี่ยนรูปในแนวแกนเราสามารถให้ symmetry ในการลดจำนวน DOF เหลือเพียง

- 1 : 1
- 2 : 2
- 3 : 3
- 4 : 4
- คำตอบที่ถูกต้อง : 2

ข้อที่ 245 :



โครงข้อแข็งดังแสดงในรูป ไม่คิดผลของการเปลี่ยนรูปในแนวแกนเราสามารถให้ Anti-Symmetry และ Symmetry ในการลดจำนวน DOF เหลือเพียงเท่าใด

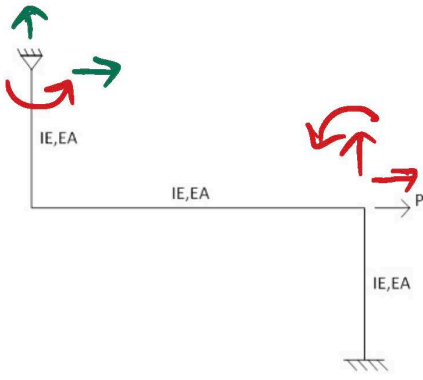
- 1 : 2
- 2 : 3
- 3 : 4
- 4 : 5
- คำตอบที่ถูกต้อง : 2

ข้อที่ 246 :

ในการรวมผลของ stiffness matrix ของชิ้นส่วนประกอบกันเป็น stiffness matrix ของโครงสร้างเราใช้หลักการใดในขั้นตอนสุดท้าย

- 1 : Equilibrium และ compatibility ที่ node
- 2 : Force-Displacement relation ของชิ้นส่วน
- 3 : Compatibility และ Equilibrium ของชิ้นส่วน
- 4 : ไม่มีข้อถูก
- คำตอบที่ถูกต้อง : 1

ข้อที่ 247 :



Displacement Method  
 หาก Inverse ใช้ร่วมกับ ลีแวนด d  
 ซึ่งเท่ากับ 4x4

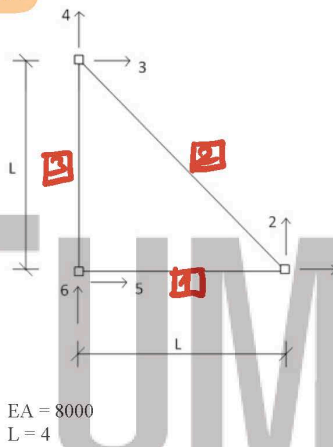
Force Method

หาก Inverse ใช้ร่วมกับ ลีแวนด DI  
 ซึ่งเท่ากับ 2x2

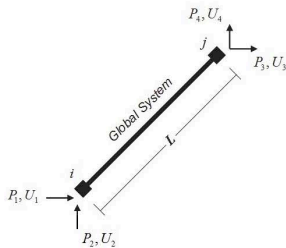
โครงสร้างข้างต้นแสดงในรูปแบบที่ต้องเลือกรหัสการวิเคราะห์ระหว่าง Matrix Displacement Method กับ Matrix Force Method ภายใต้เงื่อนไขของการ inverse matrix ขนาดเล็กที่สุดควรเลือกรหัสใด

- 1: Matrix Displacement Method โดย inverse Matrix ขนาด 1x1
  - 2: Matrix Force Method โดย inverse Matrix ขนาด 2x2
  - 3: Matrix Force Method โดย inverse Matrix ขนาด 1x1
  - 4: Matrix Displacement Method โดย inverse Matrix ขนาด 2x2
- คำตอบที่ถูกต้อง : 2

ข้อที่ 248 :



EA = 8000  
L = 4



$$= \frac{EA}{L} \begin{bmatrix} c^2 & cs & -c^2 & -cs \\ cs & s^2 & -cs & -s^2 \\ -c^2 & -cs & c^2 & cs \\ -cs & -s^2 & cs & s^2 \end{bmatrix}$$

where

$c = \cos \phi$  and  $s = \sin \phi$

ค่า  $K_{11}$  ของโครงสร้างหมุดแสดงในรูปมีค่าเท่ากับ

- 1: 2707
  - 2: 4707
  - 3: 1707
  - 4: 3707
- คำตอบที่ถูกต้อง : 1

ข้อที่ 249 :

?

$$K_1 = \frac{EA}{L} \begin{bmatrix} 5 & 6 & 1 & 2 \\ & & & \\ & & c^2 & \\ & & & \end{bmatrix} \begin{matrix} 5 \\ 6 \\ 1 \\ 2 \end{matrix}$$

$$c = \frac{(x_j - x_i)}{L} = \frac{L - 0}{L} = 1$$

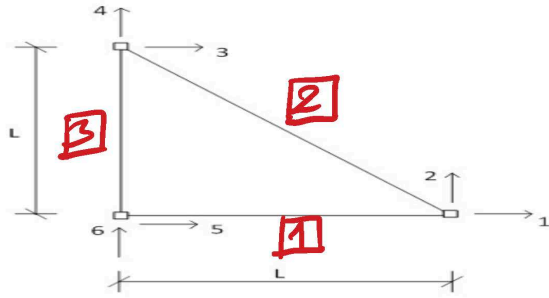
$$\therefore K_1; K_{11} = \frac{8000}{4} (1)^2 = 2000$$

$$K_2 = \frac{EA}{\sqrt{2}L} \begin{bmatrix} 3 & 4 & 1 & 2 \\ & & & \\ & & c^2 & \\ & & & \end{bmatrix} \begin{matrix} 3 \\ 4 \\ 1 \\ 2 \end{matrix}$$

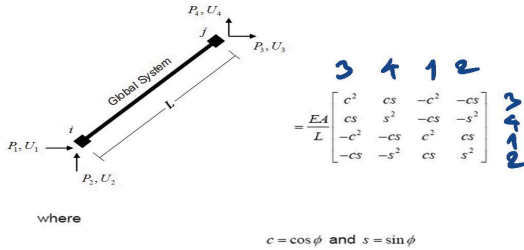
$$c = \frac{L - 0}{\sqrt{2}L} = \frac{1}{\sqrt{2}}$$

$$\therefore K_2; K_{11} = \frac{8000}{\sqrt{2}(4)} \left(\frac{1}{\sqrt{2}}\right)^2 = 707$$

$$\therefore K_{11} = 2000 + 707 = 2707$$



EA = 8000  
L = 4



$$c = \frac{L-0}{\sqrt{2}L} = \frac{1}{\sqrt{2}}$$

$$c^2 = \frac{1}{2}$$

$$K_{31} = \frac{EA}{L} (-c^2) = \frac{8000}{4} \left(-\frac{1}{2}\right) = -1000$$

ค่า  $K_{31}$  ของโครงข้อหมุนดังแสดงในรูปมีค่าเท่ากับเท่าใด

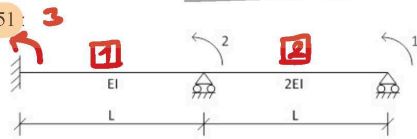
- 1: 0
  - 2: -2000
  - 3: -4000
  - 4: 4000
- คำตอบที่ถูกต้อง : 2

ข้อที่ 250 :

ข้อใดเป็นคุณสมบัติที่ผิดของ stiffness matrix ของชิ้นส่วน

- 1: symmetry
  - 2: singular
  - 3: diagonal เป็น ขว
  - 4: ไม่มีคำตอบ
- คำตอบที่ถูกต้อง : 4

ข้อที่ 251 :



$K_{22}$  ของคานดังแสดงในรูปมีค่าเท่ากับ

- 1: 18EIL
  - 2: 8EIL
  - 3: 10EIL
  - 4: 12EIL
- คำตอบที่ถูกต้อง : 4

$$K = \frac{EI}{L} \begin{bmatrix} 4 & 2 \\ 2 & 4 \end{bmatrix}$$

$$K_1 = \frac{EI}{L} \begin{bmatrix} 4 \end{bmatrix}$$

$$K_{22} = \frac{4EI}{L}$$

$$K_2 = \frac{EI}{L} \begin{bmatrix} 4 \end{bmatrix}$$

$$K_{22} = \frac{4EI}{L}$$

$$\therefore K_{22} = \frac{4EI}{L} + \frac{4EI}{L} = \frac{8EI}{L}$$



เฉลยข้อสอบ สามัญวิศวกร  
ครั้งที่ 2/2544

วิชา Structural Analysis

TUMCIVIL.COM  
Engineering Software Center  
engranatic CLUB  
& member

GO SHARED

TUMCIVIL.COM

โดย ดอน สอนกาน

เผยแพร่ฟรี 



# Structural Analysis

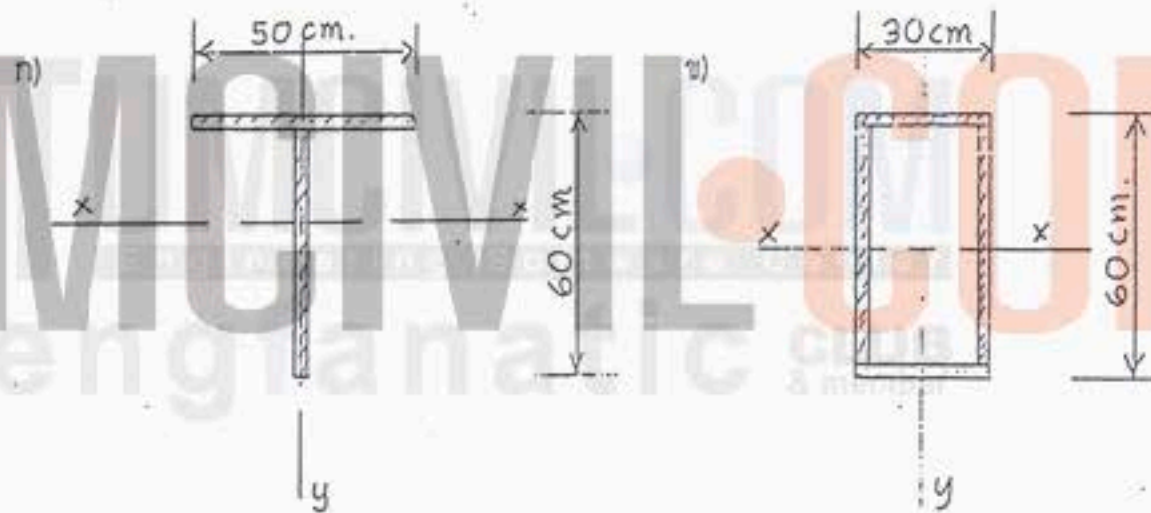
ครั้งที่ 2/2544

ภาควิชาวิศวกรรมโยธา

หมวดวิชาบังคับ Structural Analysis ข้อสอบมีทั้งหมด 6 ข้อ ให้เลือกทำ 4 ข้อ ข้อละ 25 คะแนน มีจำนวนหน้าทั้งหมด 12 หน้า ให้ทำในกระดาษคำตอบเท่านั้น (คะแนนเต็ม 100 คะแนน)

คะแนนข้อ 1

1. คานช่วงเดียว (Simple beam) มีความยาวช่วง 5.0 เมตร รับน้ำหนักบรรทุกทุก 2000 กิโลกรัม/เมตร ประกอบขึ้นจากเหล็กแผ่นมีความหนา 2 ซม. (built-up) ซึ่งมีหน้าตัดดังต่อไปนี้

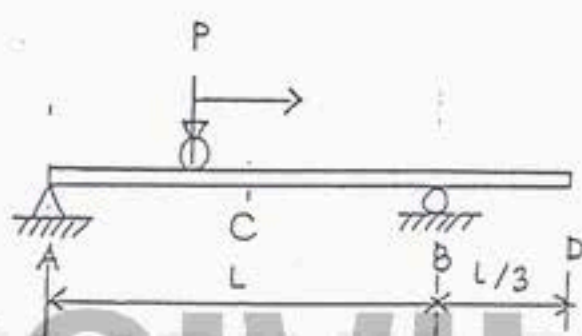


จงเปรียบเทียบการแอ่นตัว (deflection) ที่กึ่งกลางช่วงความยาวคานของคานทั้งสองลักษณะหน้าตัด

คะแนนข้อ 2

2. กำหนดให้คานารับน้ำหนักบรรทุกทุกแบบเคลื่อนที่ได้ (Moving Load) ดังแสดง จงเขียน Influence Lines สำหรับ

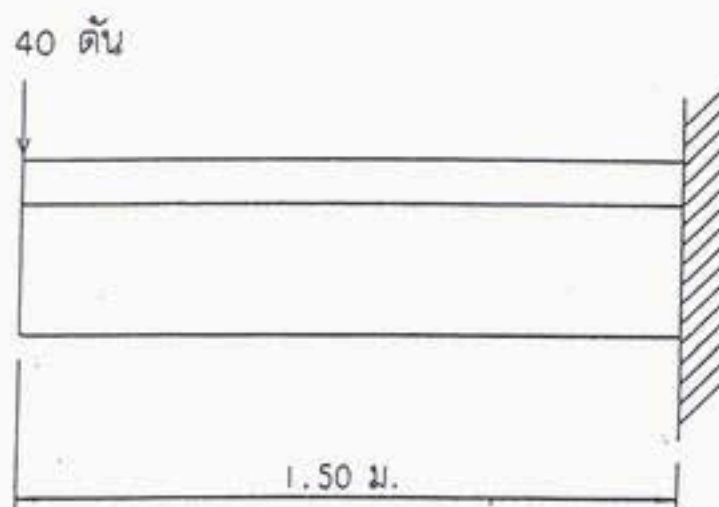
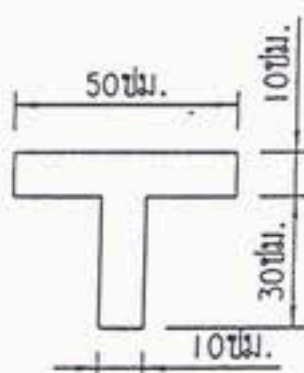
- แรงปฏิกิริยาที่จุดรองรับ
- โมเมนต์ลบที่จุดรองรับ B
- ระยะเคลื่อนที่จุดกึ่งกลางช่วงคาน C


 $EI = \text{คงที่}$ 

คะแนนข้อ 3

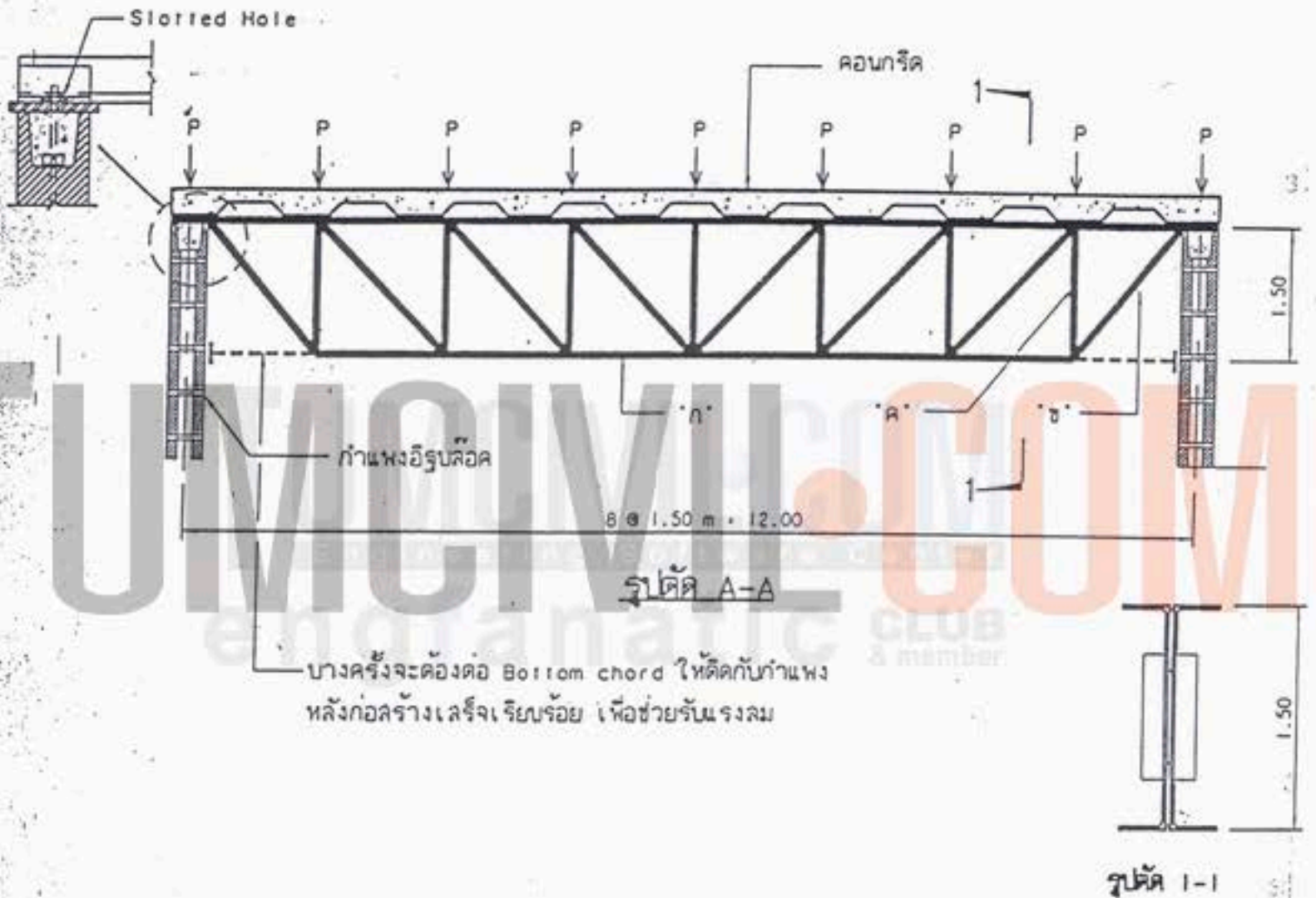
3. คานยื่นโครงสร้างเหล็กรูปพรรณดังในรูป รับน้ำหนักบรรทุก 40 ตัน ที่ปลายคาน วัสดุมีค่า  $E = 2.10 \times 10^6$  กก./ตร.ซม. ให้หา

- หน่วยแรงดึงและแรงอัดสูงสุด
- รัศมีความโค้ง (Radius of curvature)



คะแนนข้อ 4

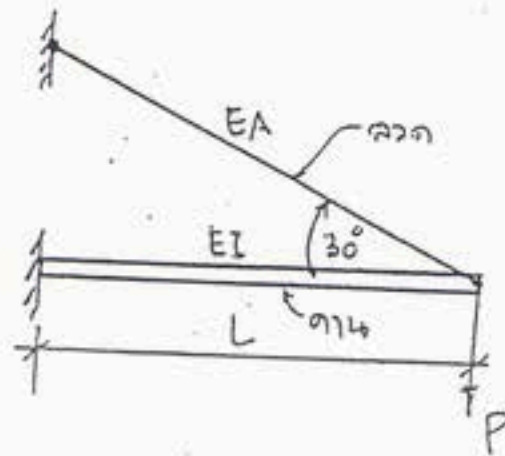
4. โครงเหล็กถัก (Truss) รองรับหลังคา ซึ่งประกอบด้วย (Metal Deck) และทับด้วยคอนกรีต ดังแสดงในรูป น้ำหนักทั้งหมดที่กระทำที่ข้อต่อของโครงเหล็กถัก (น้ำหนัก  $P$ ) = 4.5 ตัน จงคำนวณหาแรงในองค์อาคาร "ก" "ข" และ "ค"





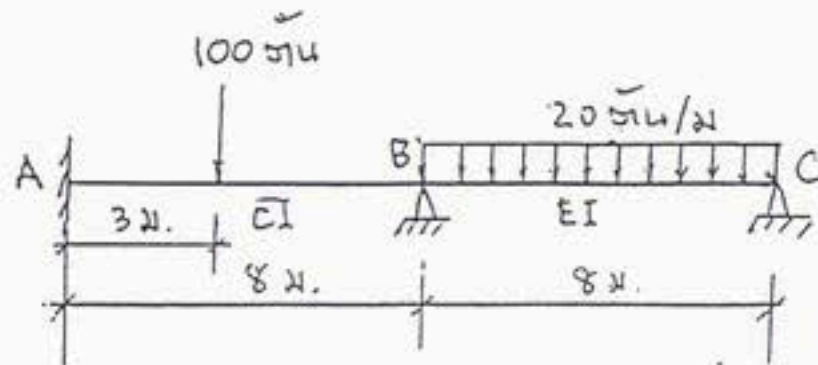
คะแนนข้อ 5

5. จงคำนวณแรงดึงในลวดและโมเมนต์ดัดสูงสุดในคานของโครงสร้างดังแสดงในรูป โดยให้แสดงอยู่ในพจน์ของ  $P, L, EA$  และ  $EI$



คะแนนข้อ 6

6. จงคำนวณหาโมเมนต์ดัด ณ จุดรองรับ A, B และ C ของคานต่อเนื่องดังแสดงในรูป นอกจากน้ำหนักบรรทุกที่กระทำบนคานแล้ว จุดรองรับ B เกิดการทรุดตัววัดได้เท่ากับ 0.02 ม.

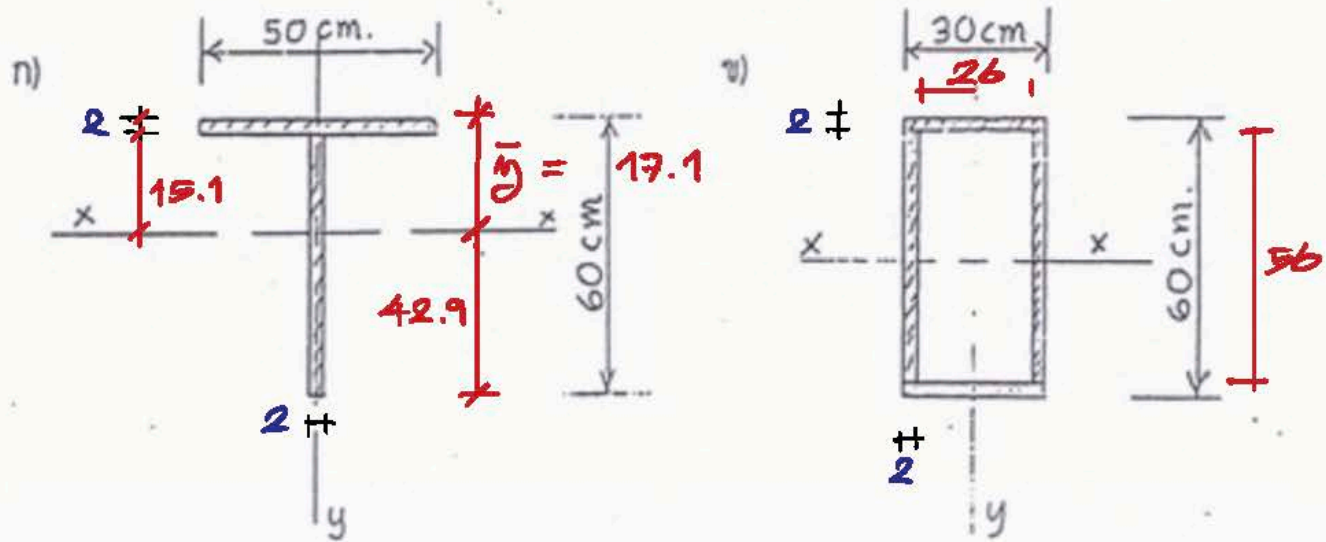


$EI = \text{คงที่}$



1

คานช่วงเดียว (Simple beam) มีความยาวช่วง 5.0 เมตร รับน้ำหนักบรรทุก 2000 กิโลกรัม/เมตร ประกอบขึ้นจากเหล็กแผ่นมีความหนา 2 ซม. (built-up) ซึ่งมีหน้าตัดดังต่อไปนี้



จงเปรียบเทียบการแอ่นตัว (deflection) ที่กึ่งกลางช่วงความยาวคานของคานทั้งสองลักษณะหน้าตัด

$w = 2000 \text{ kg/m} \quad \therefore \Delta_{\text{max}} = \frac{5wL^4}{384EI}$

$L = 500 \text{ cm}$

$\therefore \Delta_{\text{max}}$  ของหน้าตัดทั้งสองคือ 2/3 ของกันและกัน หรือจะขึ้นอยู่กับค่า  $I$  ของหน้าตัด เพราะ  $w, L$  ได้เหมือนกัน

อัตราส่วนของ  $E$  เท่ากัน

$$I_{\text{a}} = \frac{30(60)^3}{12} - \frac{26(56)^3}{12}$$

$$= 478496/3 \text{ cm}^4$$

หา  $\bar{y}$  ของหน้าตัด (a)

$$\bar{y} = \frac{(50 \times 2)(1) + (2)(58)(31)}{(50 \times 2) + (2)(58)} = 154/9 = 17.1 \text{ cm}$$

$$\therefore I_{\text{b}} = \frac{50(17.1)^3}{3} - \frac{48(15.1)^3}{3} + \frac{2(42.9)^3}{3} = 242656/3 \text{ cm}^4$$

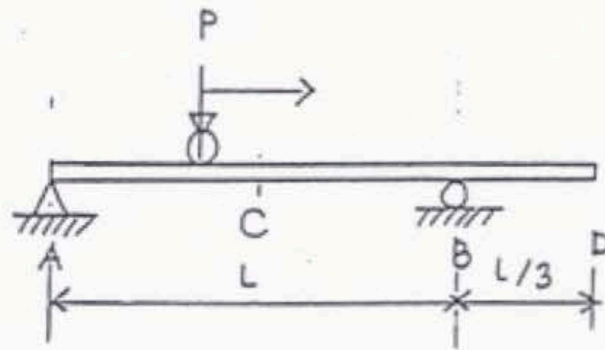
$I_{\text{a}} < I_{\text{b}} ; \therefore \Delta$  แอ่นจากหน้าตัด (b)  $>$   $\Delta$  แอ่นจากหน้าตัด (a)

เห็นอัตราส่วน  $\frac{I_{\text{a}}}{I_{\text{b}}} = 1.972$

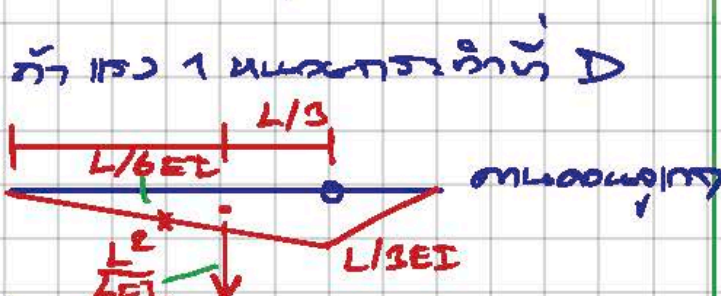

2

กำหนดให้คานารับน้ำหนักบรรทุกทุกแบบเคลื่อนที่ได้ (Moving Load) ดังแสดง จงเขียน Influence Lines สำหรับ

- ก. แรงปฏิกิริยาที่จุดรองรับ
- ข. โมเมนต์ลบที่จุดรองรับ B
- ค. ระยะเคลื่อนที่จุดกึ่งกลางช่วงคาน C



$EI = คงที่$



$\frac{1}{6EI} \cdot \frac{L}{3} = \frac{1}{18} = \frac{L^2}{18EI}$

$\therefore \Delta_c = \eta_c'$

$EI \Delta_c = \left( \frac{L^2}{18EI} \cdot \frac{L}{2} \right) - \left( \frac{L^2}{24EI} \cdot \frac{L}{6} \right)$

$\Delta_c = \frac{L^3}{48EI} \uparrow$

ถ้าแรง 1 เคลื่อนที่ที่ C

$\frac{1}{6EI} \cdot \left( \frac{1}{2} \cdot L \right) \cdot \left( \frac{L}{4EI} \right) = \frac{L^2}{8EI}$

$\frac{1}{2} \left( \frac{L}{2} \right) \cdot \left( \frac{L}{4EI} \right) = \frac{L^2}{16EI}$

$\therefore \Delta_c = \eta_c'$

$EI \Delta_c = \left( -\frac{L^2}{16} \cdot \frac{L}{2} \right) + \left( \frac{L^2}{16} \cdot \frac{L}{6} \right)$

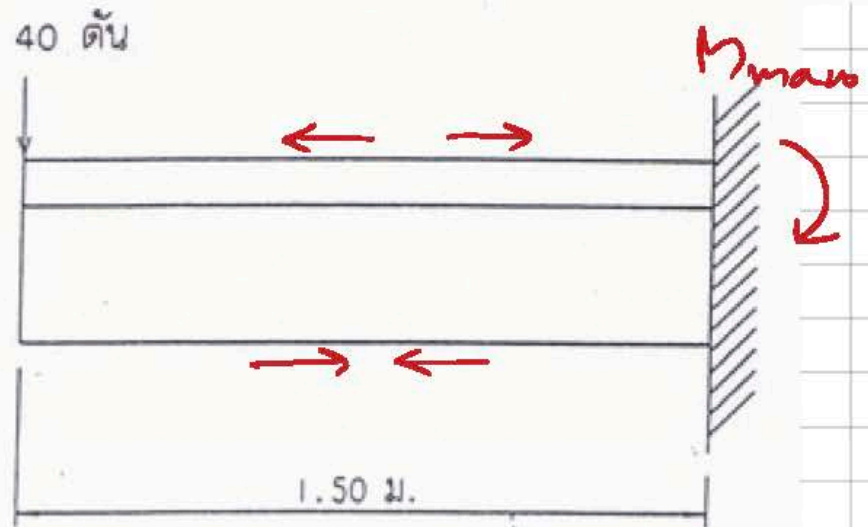
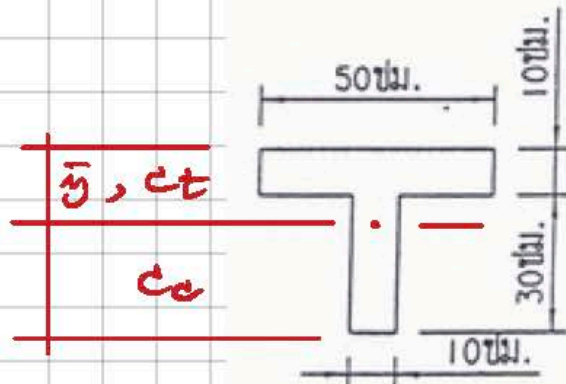
$\Delta_c = -\frac{L^3}{48EI} = \frac{L^3}{48EI} \downarrow$



3

คานายื่นโครงสร้างเหล็กรูปพรรณดังในรูป รับน้ำหนักบรรทุกทุก 40 ตัน ที่ปลายคาน วัสดุมีค่า  $E = 2.10 \times 10^6$  กก./ตร.ซม. ให้หา

- ก. หน่วยแรงดึงและแรงอัดสูงสุด
- ข. รัศมีความโค้ง (Radius of curvature)



ก)  $M_{max} = 40(1.5)$

$= 60 \text{ T}\cdot\text{m} = 6 \times 10^6 \text{ kg}\cdot\text{cm}$

หน่วยแรงดึงสูงสุดที่เกิดที่ขอบบน,  $\sigma_{tmax} = \frac{M c_t}{I}$

หน่วยแรงอัดสูงสุดที่เกิดที่ขอบล่าง,  $\sigma_{bmax} = \frac{M c_b}{I}$

$\bar{y} = \frac{(50 \times 10)(5) + (10)(30)(25)}{(50)(10) + (10)(30)} = 12.5 \text{ cm}$

$\therefore c_t = 12.5 \text{ cm}, c_b = 40 - 12.5 = 27.5 \text{ cm}$

$I = \frac{50(12.5)^3}{3} - \frac{40(2.5)^3}{3} + \frac{10(27.5)^3}{3} = 305000/3 \text{ cm}^4$

$\sigma_{tmax} = (6 \times 10^6)(12.5) / (305000/3) = 737.70 \text{ ksc}$

$\sigma_{bmax} = (6 \times 10^6)(27.5) / (305000/3) = 1622.95 \text{ ksc}$

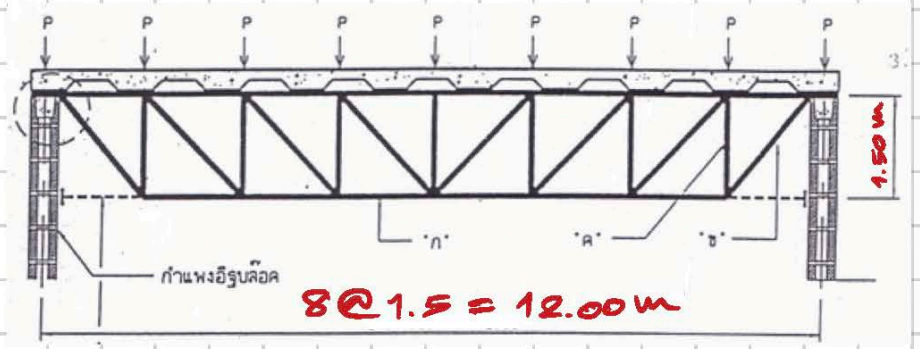
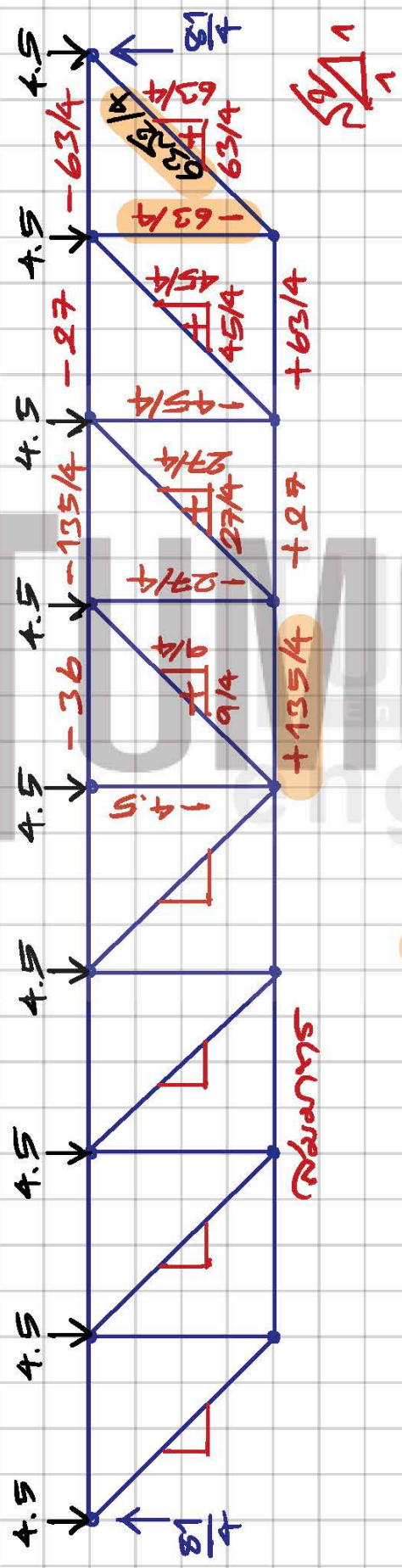
ข)  $\therefore \frac{1}{\rho} = \frac{M}{EI} \therefore \text{รัศมีความโค้ง}, \rho = \frac{EI}{M}$

$\rho = (2.1 \times 10^6)(305000/3) / (6 \times 10^6)$

$= 106750/3 = 35583 \text{ cm} = 355.83 \text{ m}$

4

โครงเหล็กถัก (Truss) รองรับหลังคา ซึ่งประกอบด้วย (Metal Deck) และเทห์ด้วยคอนกรีต ดังแสดงในรูป น้ำหนักทั้งหมดที่กระทำที่ข้อต่อของโครงเหล็กถัก (น้ำหนัก P) = 4.5 ตัน จงคำนวณหาแรงในองค์อาคาร "ก" "ข" และ "ค"



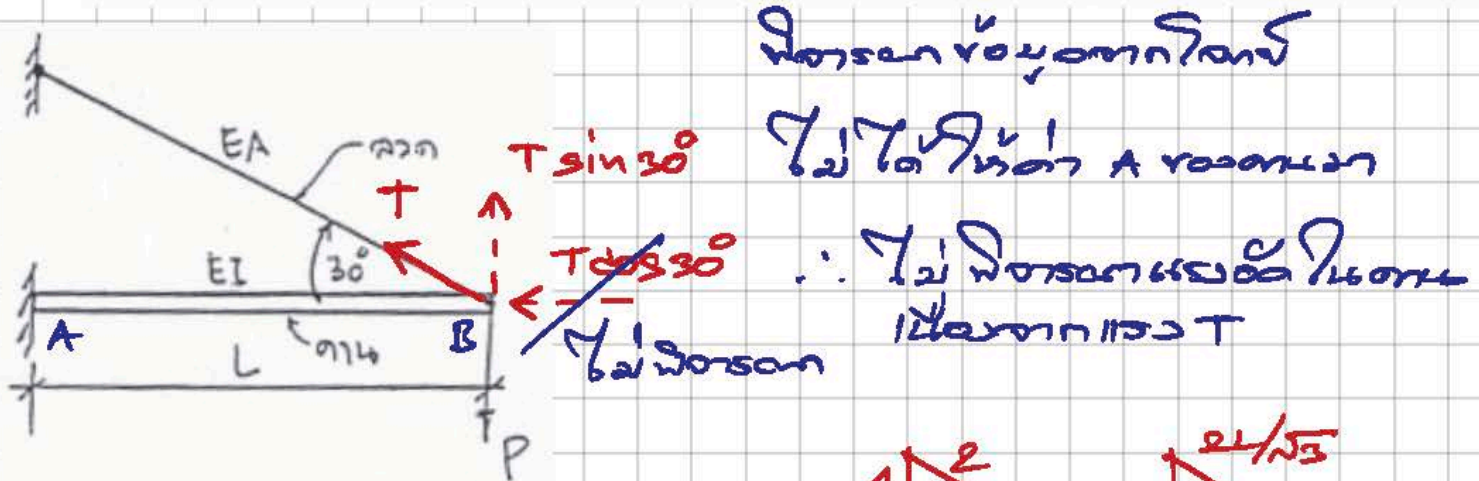
ใช้ FBD ของโครงขั้วบน แล้ววิเคราะห์หาแรงในองค์อาคารด้วยวิธีจอร์แดน (ทริคเจอร์นัลเจอร์, 2561)

∴ แรงในองค์อาคาร

$$\begin{aligned}
 "ก" &= + \frac{135}{4} = 33.75 \text{ T} \quad // \text{รับ} \\
 "ข" &= + \frac{63\sqrt{2}}{4} = 22.27 \text{ T} \quad // \text{รับ} \\
 "ค" &= - \frac{63}{4} = 15.75 \text{ T} \quad // \text{รับ}
 \end{aligned}$$



5 จงคำนวณแรงดึงในลวดและโมเมนต์ดัดสูงสุดในคานของโครงสร้างดังแสดงในรูป โดยให้แสดงอยู่ในพจน์ของ P, L, EA และ EI



วิธี Least Work

$$\frac{\partial w_i}{\partial T} = 0 = S \left( \frac{\partial S}{\partial T} \right) \frac{L_{max}}{EA} + \int_0^L n \left( \frac{\partial M}{\partial T} \right) \frac{dn}{EI}$$

โดย  $S = T$ ,  $\partial S / \partial T = 1$ ,  $L_{max} = 2L / \sqrt{3}$

จาก B ไป A ( $0 \rightarrow L$ ):

$$n = \frac{T}{2} - Pn$$

$$\frac{\partial M}{\partial T} = \frac{n}{2}, \quad M \left( \frac{\partial M}{\partial T} \right) = \frac{Tn^2}{4} - \frac{Pn^2}{2}$$

$$\therefore \frac{T(1)(2L)}{\sqrt{3}EA} + \int_0^L \left( \frac{Tn^2}{4} - \frac{Pn^2}{2} \right) \frac{dn}{EI} = 0$$

$$\left( \frac{2TL}{\sqrt{3}EA} \right) + \left[ \frac{Tn^3}{12} \Big|_0^L - \frac{Pn^3}{6} \Big|_0^L \right] / EI = 0$$

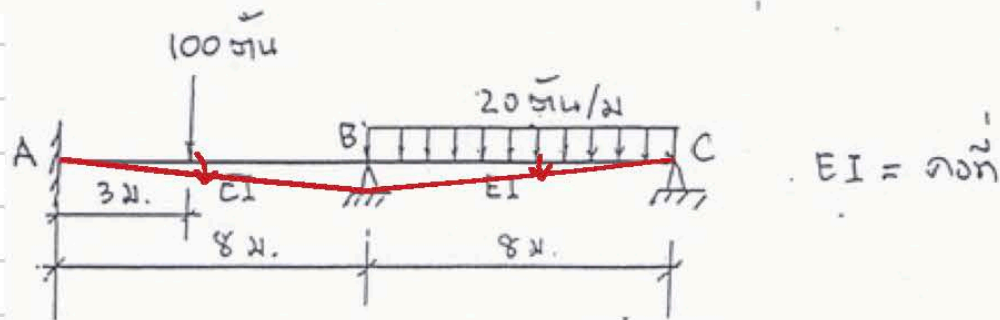
$$\frac{2TL}{\sqrt{3}EA} + \frac{TL^3}{12EI} - \frac{PL^3}{6EI} = 0$$

$$\frac{TL}{E} \left[ \frac{2}{\sqrt{3}A} + \frac{L^2}{12I} \right] = \frac{PL^3}{6EI}$$

$$\therefore T = \frac{PL^2}{6I} \left/ \left[ \frac{2}{\sqrt{3}A} + \frac{L^2}{12I} \right] \right.$$

$$M_{max} = \frac{TL}{2} - PL = \left\{ \frac{PL^3}{12I} \left/ \left[ \frac{2}{\sqrt{3}A} + \frac{L^2}{12I} \right] \right. \right\} - PL$$

- 6 จงคำนวณหาโมเมนต์ตัด ณ จุดรองรับ A, B และ C ของคานต่อเนื่องดังแสดงในรูป นอกจากน้ำหนักบรรทุกที่กระทำบนคานแล้ว จุดรองรับ B เกิดการทรุดตัวได้เท่ากับ 0.02 ม.



$$K_{AB} = \frac{I}{8} = K_{BC} \text{ ① ให้เท่ากับ } K$$

$$\theta_A = 0, \phi_{AB} = +\frac{0.02}{8} = +\frac{1}{400}, \phi_{BC} = \phi_{CB} = -\frac{0.02}{8} = -\frac{1}{400}$$

$$FEM_{AB} = -\frac{100(3)(5)^2}{8^2} = -\frac{1875}{16} \text{ T.m}$$

$$FEM_{BA} = +\frac{100(3)^2(5)}{8^2} = +\frac{1125}{16} \text{ T.m}$$

$$FEM_{BC} = -\frac{20(8)^2}{12} = -\frac{320}{3} \text{ T.m}, FEM_{CB} = +\frac{320}{3} \text{ T.m}$$

$$M_{AB} = 2EK \left( 2\theta_A + \theta_B - \frac{3}{400} \right) - \frac{1875}{16} = 2EK\theta_B - \frac{3EK}{200} - \frac{1875}{16}$$

$$M_{BA} = 2EK \left( \theta_A + 2\theta_B - \frac{3}{400} \right) + \frac{1125}{16} = 4EK\theta_B - \frac{3EK}{200} + \frac{1125}{16}$$

$$M_{BC} = 2EK \left[ 2\theta_B + \theta_C - \left( -\frac{3}{400} \right) \right] - \frac{320}{3} = 4EK\theta_B + 2EK\theta_C + \frac{3EK}{200} - \frac{320}{3}$$

$$M_{CB} = 2EK \left[ \theta_B + 2\theta_C + \frac{3}{400} \right] + \frac{320}{3} = 2EK\theta_B + 4EK\theta_C + \frac{3EK}{200} + \frac{320}{3}$$

$$\sum M_B = 0 = M_{BA} + M_{BC} = \left( 4EK\theta_B - \frac{3EK}{200} + \frac{1125}{16} \right) + \left( 4EK\theta_B + 2EK\theta_C + \frac{3EK}{200} - \frac{320}{3} \right)$$

$$8EK\theta_B + 2EK\theta_C = \frac{1745}{48} \text{ — ①}$$

$$\therefore M_{CB} = 0 = 2EK\theta_B + 4EK\theta_C + \frac{3EK}{200} + \frac{320}{3}$$

$$2EK\theta_B + 4EK\theta_C = -\frac{320}{3} - \frac{3EK}{200} \text{ — ②}$$

$$\text{①} \times 2; 16EK\theta_B + 4EK\theta_C = \frac{1745}{24} \text{ — ③}$$



25/7/7

$$\textcircled{3} - \textcircled{2}; \quad 14EK\theta_B = \frac{1435}{8} + \frac{3EK}{200}$$

$$EK\theta_B = \frac{205}{16} + \frac{3EK}{2800}$$

Μηκόν  $EK\theta_B$  9/4  $\textcircled{2}$

$$\therefore 4EK\theta_C = -\frac{320}{3} - \frac{3EK}{200} - \left[ \frac{2(205)}{16} + \frac{2(3EK)}{2800} \right]$$

$$= -\frac{3175}{24} - \frac{3EK}{175}$$

$$EK\theta_C = -\frac{3175}{96} - \frac{3EK}{700}$$

$\therefore$

Μόνο: T.M

$$M_{AB} = \left[ \frac{2(205)}{16} + \frac{2(3EK)}{2800} \right] - \frac{3EK}{200} - \frac{1875}{16} = -\frac{1465}{16} - \frac{9EK}{700}$$

$$M_{BA} = \left[ \frac{4(205)}{16} + \frac{4(3EK)}{2800} \right] - \frac{3EK}{200} + \frac{1125}{16} = \frac{1945}{16} - \frac{3EK}{280}$$

$$M_{BC} = \left[ \frac{4(205)}{16} + \frac{4(3EK)}{2800} \right] + \left[ -\frac{2(3175)}{96} - \frac{2(3EK)}{700} \right] + \frac{3EK}{200} - \frac{320}{3}$$

$$= -\frac{1945}{16} + \frac{3EK}{280}$$

$$M_{CB} = \left[ \frac{2(205)}{16} + \frac{2(3EK)}{2800} \right] + \left[ -\frac{4(3175)}{96} - \frac{4(3EK)}{700} \right] + \frac{3EK}{200} + \frac{320}{3}$$

$$= 0$$



$$\therefore \left. \begin{aligned} M_A &= -\frac{1465}{16} - \frac{9EK}{700} \text{ T.M} \\ M_B &= -\frac{1945}{16} + \frac{3EK}{280} \text{ T.M} \\ M_C &= 0 \end{aligned} \right\} \text{όπου } EK = \frac{EI}{8} \text{ T.M}$$



This Textbook is used for

Basic  Advanced

Workshop  Reference

IBM Computer  Macintosh

Civil Engineering Manual



สัมมนาพร้อมเอกสาร และ DVD ประกอบการบรรยาย