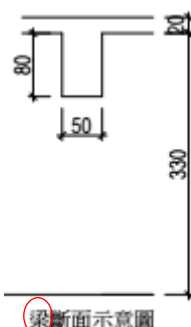
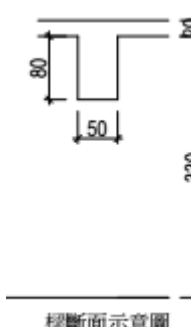
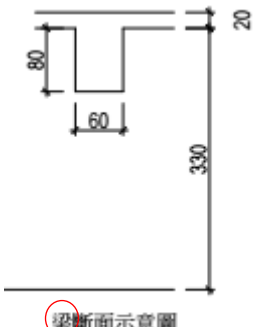
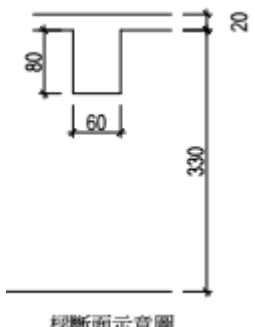
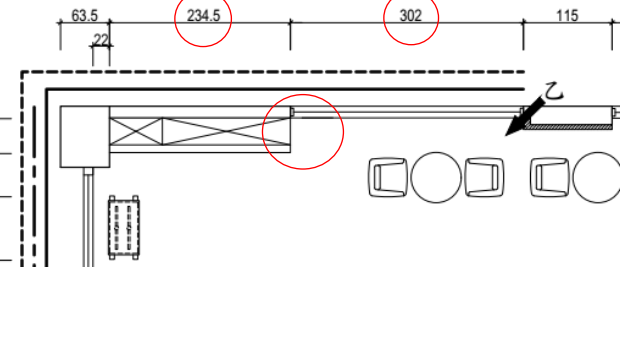
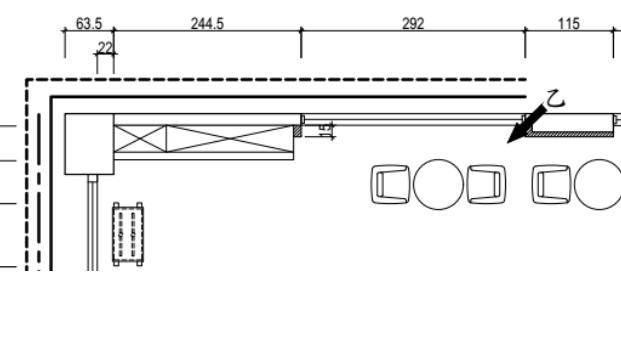
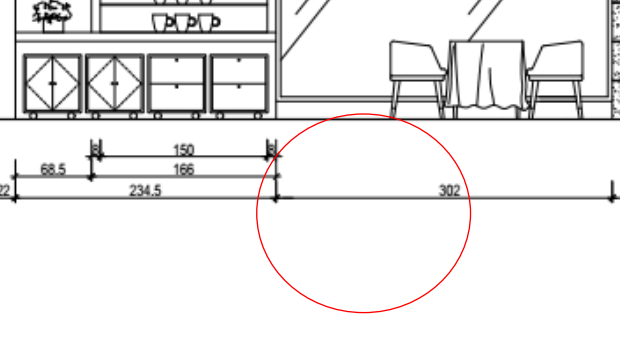
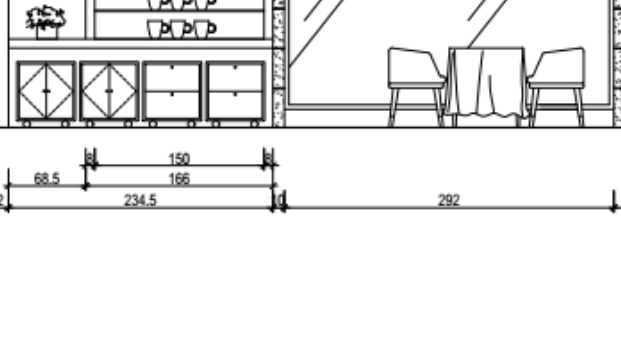
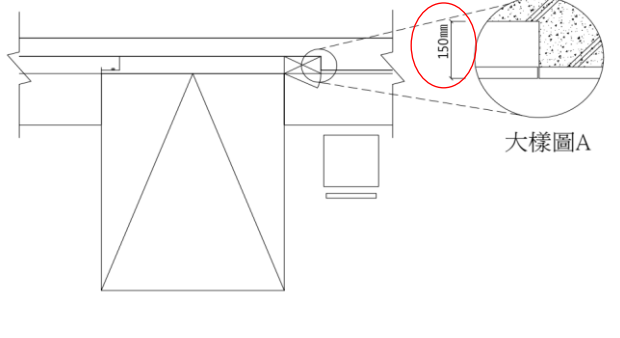
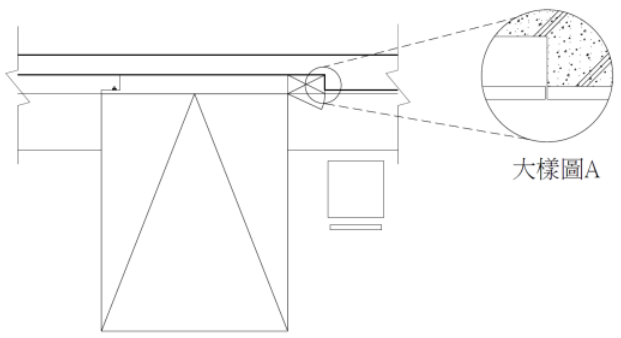


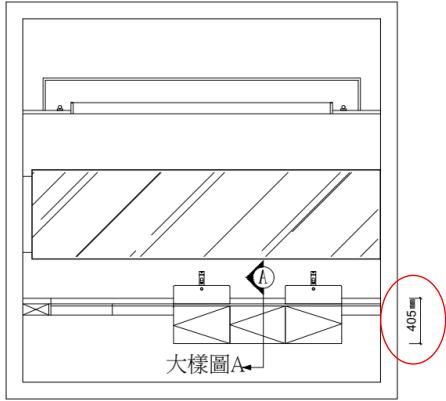
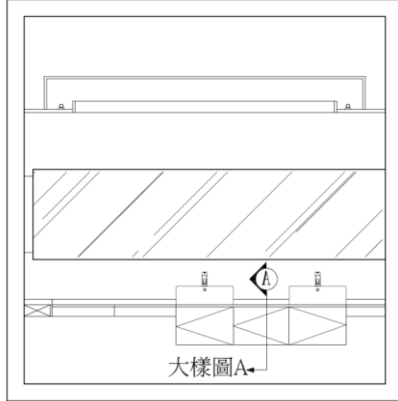
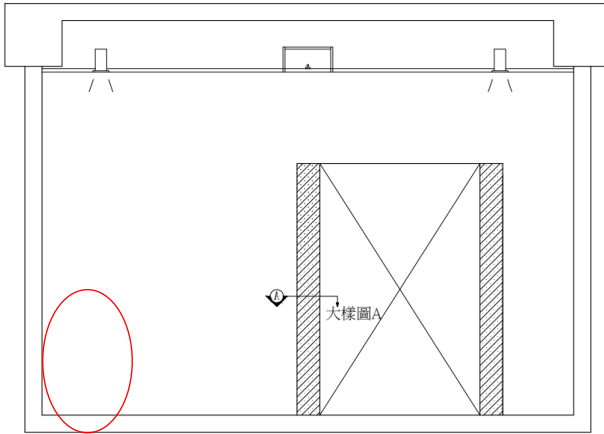
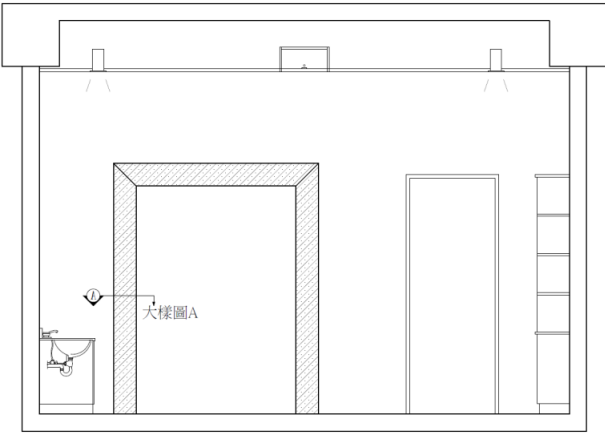
# 12500建築物室內設計乙級術科測試應檢人參考資料修正對照表

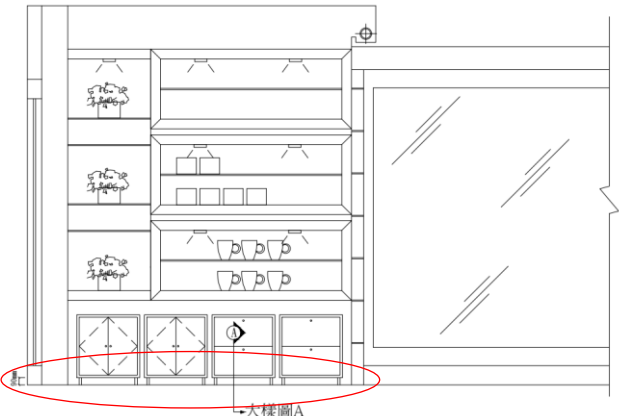
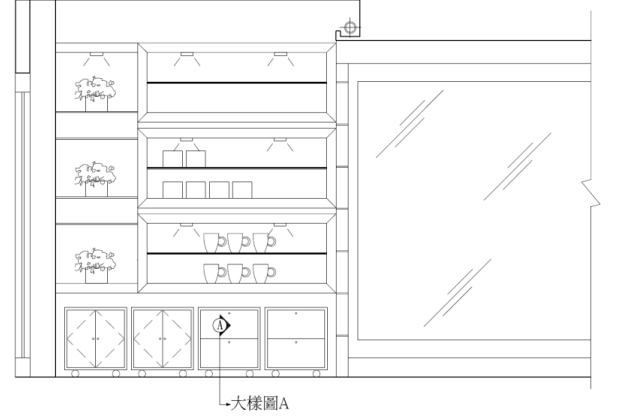
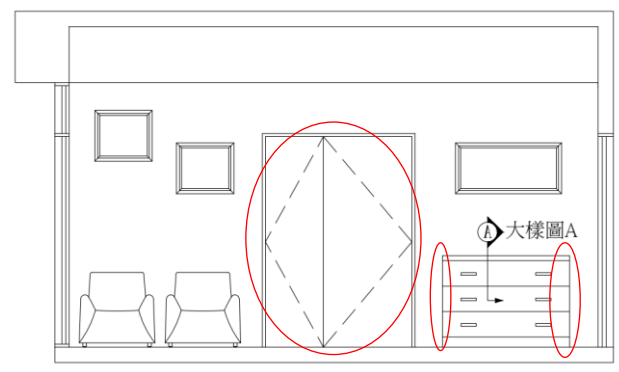
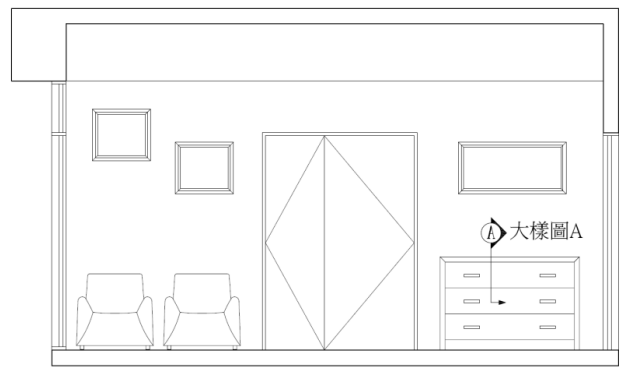
(本表僅列出修正重點，詳細內容請依公告應檢人參考資料為準)

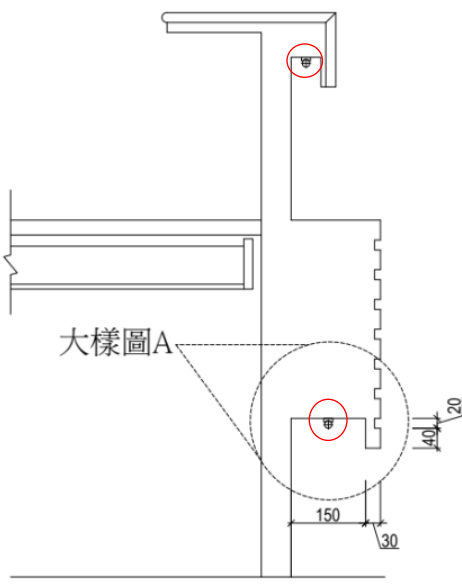
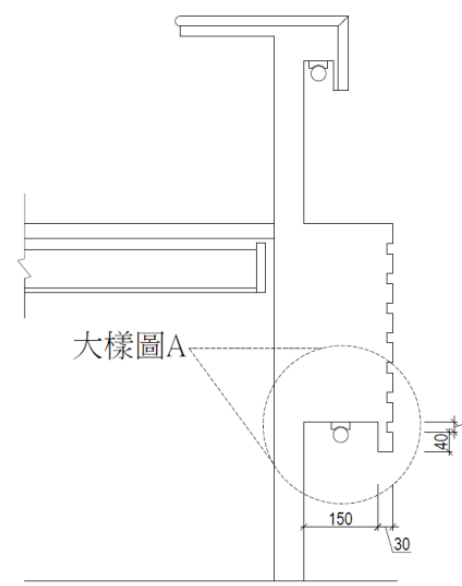
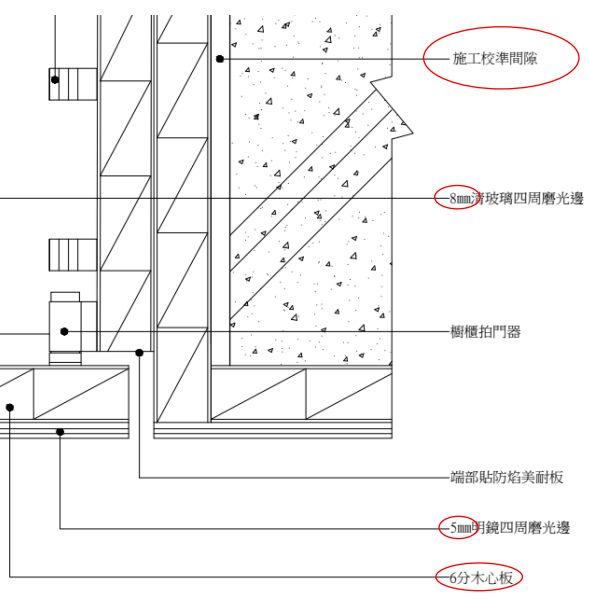
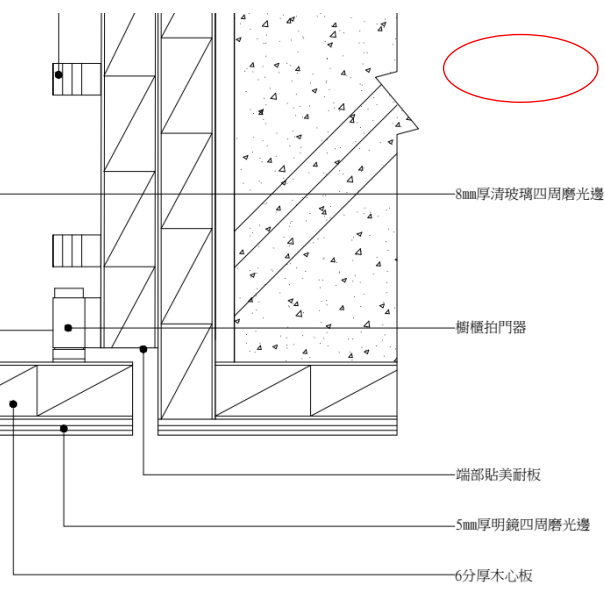
頁	修正後內容 (112/06/08)	原內容 (111/09/08)
1	<p>壹、技術士技能檢定建築物室內設計乙級術科測試應檢人須知</p> <p>四、應檢人須攜帶附有照片足資證明身分之國民身分證、護照、全民健康保險卡、駕駛執照、<b>技術士證、符合申請檢定資格之居留證或入出境許可證</b>之身分證明文件…。</p>	<p>壹、技術士技能檢定建築物室內設計乙級術科測試應檢人須知</p> <p>四、應檢人須攜帶附有照片足資證明身分之國民身分證、護照、全民健康保險卡或駕駛執照之身分證明文件…。</p>
11	<p>參、技術士技能檢定建築物室內設計乙級術科試題 (平面圖試題編號：201)</p>	<p>參、技術士技能檢定建築物室內設計乙級術科試題 (平面圖試題編號：201)</p>
12	<p>參、技術士技能檢定建築物室內設計乙級術科試題 (平面圖試題編號：202)</p>	<p>參、技術士技能檢定建築物室內設計乙級術科試題 (平面圖試題編號：202)</p>
13   14	<p>參、技術士技能檢定建築物室內設計乙級術科試題 (平面圖試題編號：203、204)</p>	<p>參、技術士技能檢定建築物室內設計乙級術科試題 (平面圖試題編號：203、204)</p>

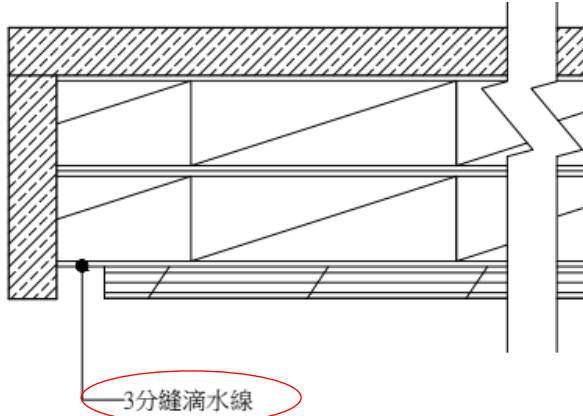
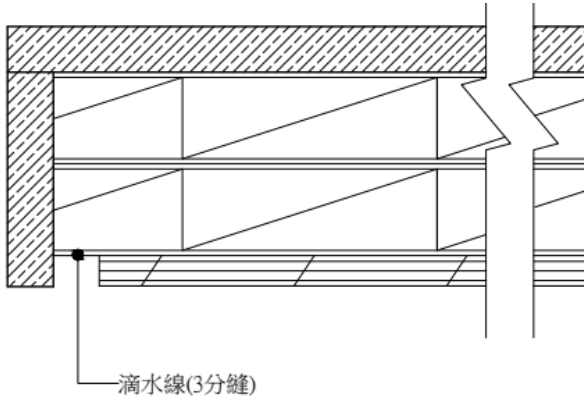
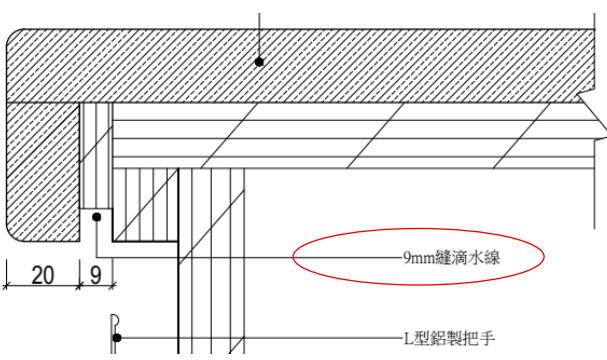
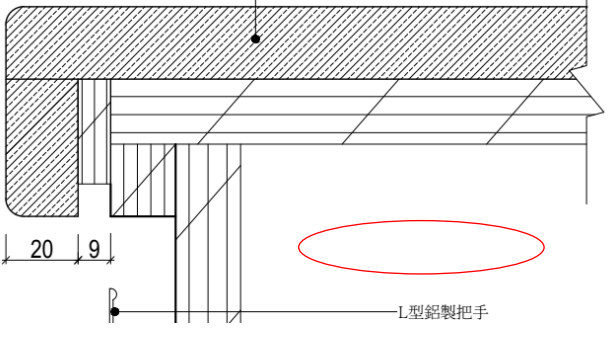
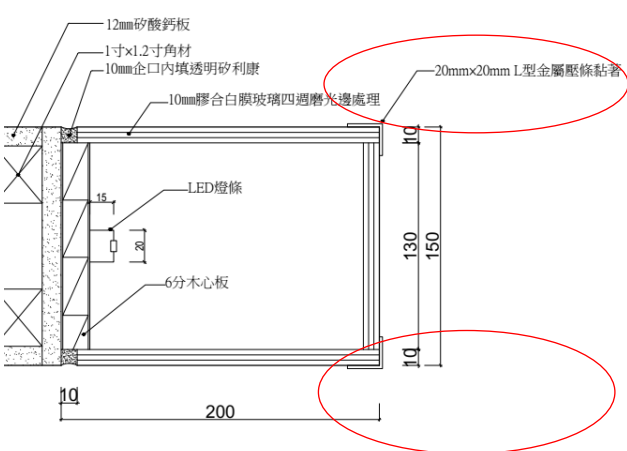
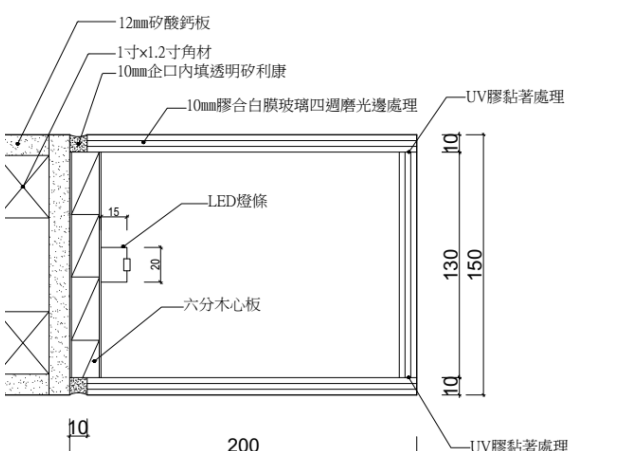
頁	修正後內容 (112/06/08)	原內容 (111/09/08)
15	<p>參、技術士技能檢定建築物室內設計乙級術科試題 (平面圖試題編號：205)</p>  <p>梁斷面示意圖</p>	<p>參、技術士技能檢定建築物室內設計乙級術科試題 (平面圖試題編號：205)</p>  <p>樑斷面示意圖</p>
16	<p>參、技術士技能檢定建築物室內設計乙級術科試題 (平面圖試題編號：206)</p>  <p>梁斷面示意圖</p>	<p>參、技術士技能檢定建築物室內設計乙級術科試題 (平面圖試題編號：206)</p>  <p>樑斷面示意圖</p>
17   21	<p>參、技術士技能檢定建築物室內設計乙級術科試題 (設計需求編號：A~E)</p> <p>項目2-空間需求(含空間應有之設備)</p> <p>c.餐廳：…搭配6人用餐之餐桌椅。</p> <p>e.衛浴空間：…主臥衛浴空間須包括洗臉台、馬桶、浴缸(或淋浴間)…。</p> <p>j.其他空間：…如儲藏室等。</p>	<p>參、技術士技能檢定建築物室內設計乙級術科試題 (設計需求編號：A~E)</p> <p>項目2-空間需求(含空間應有之設備)</p> <p>c.餐廳：…搭配餐桌椅，且可符合多人(4~8人)用餐時…。</p> <p>e.衛浴空間：…主臥衛浴空間須包括洗臉台、馬桶、浴缸或淋浴間…。</p> <p>j.其他空間：…如儲藏室、家事間…等。</p>
22	<p>參、技術士技能檢定建築物室內設計乙級術科試題 (設計需求編號：F)</p> <p>項目2-空間需求(含空間應有之設備)</p> <p>c.餐廳：…搭配6人用餐之餐桌椅。</p> <p>e.衛浴空間：…3套衛浴空間，其中公共浴室與長親房浴室空間須包括…。…主臥衛浴空間須包括洗臉台、馬桶、浴缸(或淋浴間)…。</p> <p>j.其他空間：…如儲藏室等。</p>	<p>參、技術士技能檢定建築物室內設計乙級術科試題 (設計需求編號：F)</p> <p>項目2-空間需求(含空間應有之設備)</p> <p>c.餐廳：…搭配餐桌椅，且可符合多人(4~8人)用餐時…。</p> <p>e.衛浴空間：…2套衛浴空間，其中公共浴室空間須包括…。…主臥衛浴空間須包括洗臉台、馬桶、浴缸或淋浴間…。</p> <p>j.其他空間：…如儲藏室、家事間…等。</p>

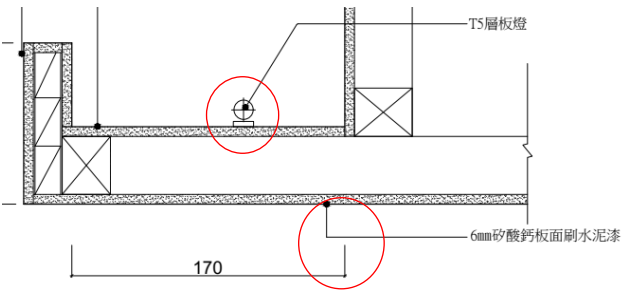
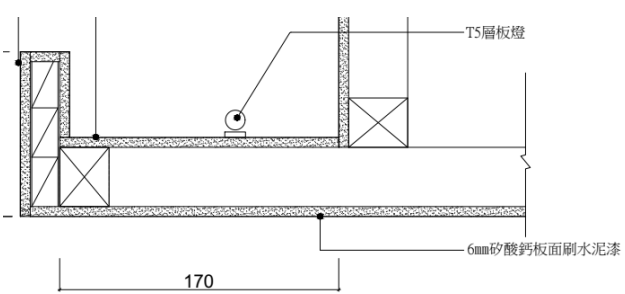
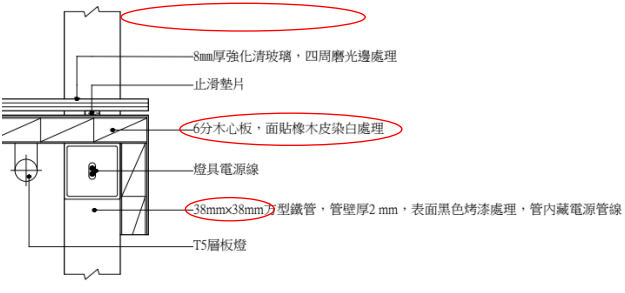
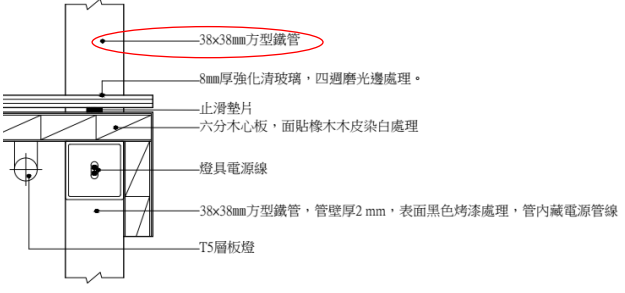
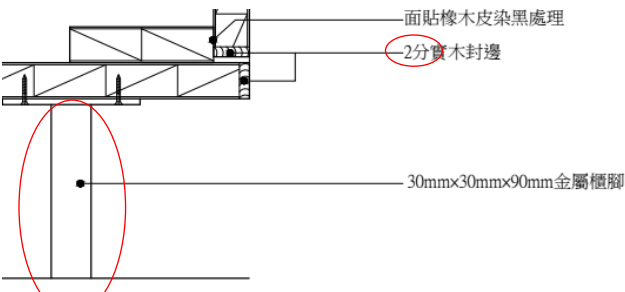
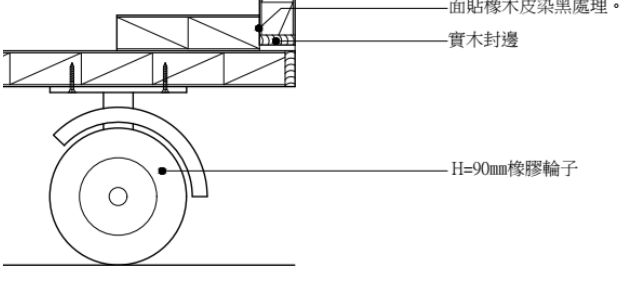
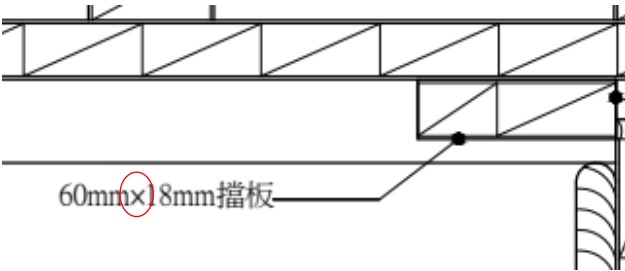
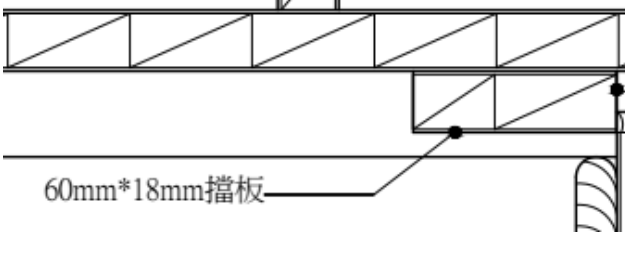
頁	修正後內容 (112/06/08)	原內容 (111/09/08)
24	<p>參、技術士技能檢定建築物室內設計乙級術科試題 (空間意象透視表現圖試題編號：207)</p> 	<p>參、技術士技能檢定建築物室內設計乙級術科試題 (空間意象透視表現圖試題編號：207)</p> 
25	<p>參、技術士技能檢定建築物室內設計乙級術科試題 (空間意象透視表現圖試題編號：207-立面圖)</p> 	<p>參、技術士技能檢定建築物室內設計乙級術科試題 (空間意象透視表現圖試題編號：207-立面圖)</p> 
36	<p>參、技術士技能檢定建築物室內設計乙級術科試題 (大樣圖試題編號：213-大樣圖A位置) 繪製條件如下：6...8mm清玻璃(四周磨光邊)...</p> 	<p>參、技術士技能檢定建築物室內設計乙級術科試題 (大樣圖試題編號：大樣圖A位置) 繪製條件如下：6...8mm厚清玻璃四周磨光邊...</p> 
37	<p>參、技術士技能檢定建築物室內設計乙級術科試題 (大樣圖試題編號：214-大樣圖A位置) 繪製條件如下：5...燈槽內部表面...</p>	<p>參、技術士技能檢定建築物室內設計乙級術科試題 (大樣圖試題編號：214-大樣圖A位置) 繪製條件如下：5...內部表面...</p>
38	<p>參、技術士技能檢定建築物室內設計乙級術科試題 (大樣圖試題編號：215-大樣圖A位置) 繪製條件如下：5...3分縫滴水線。</p>	<p>參、技術士技能檢定建築物室內設計乙級術科試題 (大樣圖試題編號：215-大樣圖A位置) 繪製條件如下：5...3分滴水線。</p>

頁	修正後內容 (112/06/08)	原內容 (111/09/08)
39	<p>參、技術士技能檢定建築物室內設計乙級術科試題 (大樣圖試題編號：216-大樣圖A位置)</p> <p>繪製條件如下：5. …9mm縫滴水線。 6. 下櫃門片…。 7. 下櫃門片及擋板面貼美耐板。</p> 	<p>參、技術士技能檢定建築物室內設計乙級術科試題 (大樣圖試題編號：216-大樣圖A位置)</p> <p>繪製條件如下：5. …9mm滴水線。 6. 下櫃門扇…。 7. 下櫃門扇表面材質自行設定。</p> 
40	<p>參、技術士技能檢定建築物室內設計乙級術科試題 (大樣圖試題編號：217-大樣圖A位置)</p> <p>「<b>廊道玻璃燈柱剖面</b>」大樣圖</p> <p>繪製條件如下：5. 玻璃燈柱…。 6. 玻璃燈柱…，轉角處並以20mm×20mmL型金屬押條黏著。</p> 	<p>參、技術士技能檢定建築物室內設計乙級術科試題 (大樣圖試題編號：217-大樣圖A位置)</p> <p>「玻璃燈箱門樑剖面」大樣圖</p> <p>繪製條件如下：5. 玻璃燈箱…。 6. 玻璃門樑…，…以UV膠黏著，接縫處藏在門樑側面。</p> 
42	<p>參、技術士技能檢定建築物室內設計乙級術科試題 (大樣圖試題編號：219-大樣圖A位置)</p> <p>繪製條件如下：4. …管壁厚2mm，…。</p>	<p>參、技術士技能檢定建築物室內設計乙級術科試題 (大樣圖試題編號：219-大樣圖A位置)</p> <p>繪製條件如下：4. …管壁2mm厚，…。</p>

頁	修正後內容 (112/06/08)	原內容 (111/09/08)
43	<p>參、技術士技能檢定建築物室內設計乙級術科試題 (大樣圖試題編號：220-大樣圖A位置) 「矮櫃側剖」大樣圖</p> <p>繪製條件如下：5.抽屜<b>面板</b>為…。 6.抽屜<b>牆板</b>採…。 7.…櫃身底部裝<b>設30mm×30 mm×90mm金屬櫃腳</b>。</p> 	<p>參、技術士技能檢定建築物室內設計乙級術科試題 (大樣圖試題編號：220-大樣圖A位置) 「活動矮櫃側剖」大樣圖</p> <p>繪製條件如下：5.抽屜外側門片為…。 6.抽屜內部結構採…。 7.…櫃身底部裝輪高90mm的橡膠輪子。</p> 
44	<p>參、技術士技能檢定建築物室內設計乙級術科試題 (大樣圖試題編號：221-大樣圖A位置)</p> <p>繪製條件如下：4.…12mm厚之實木<b>線板</b>封邊，…。 5.…6mm實木封邊，…。 6.…木心板面貼<b>木紋美耐板</b>，…。</p> 	<p>參、技術士技能檢定建築物室內設計乙級術科試題 (大樣圖試題編號：221-大樣圖A位置)</p> <p>繪製條件如下：4.…12mm厚之實木封邊，…。 5.…6mm實木<b>壓條</b>封邊，…。 6.…木心板面貼美耐板，…。</p> 
45	<p>參、技術士技能檢定建築物室內設計乙級術科試題 (大樣圖試題編號：222-大樣圖A位置)</p> <p>繪製條件如下：5.…外部面貼3mm<b>黑色</b>壓克力。 6.燈箱正面以5mm<b>乳白色</b>壓克力…。</p>	<p>參、技術士技能檢定建築物室內設計乙級術科試題 (大樣圖試題編號：222-大樣圖A位置)</p> <p>繪製條件如下：5.…外部面貼3mm<b>厚</b>黑色壓克力。 6.燈箱正面以5mm<b>厚</b>乳白色壓克力…。</p>

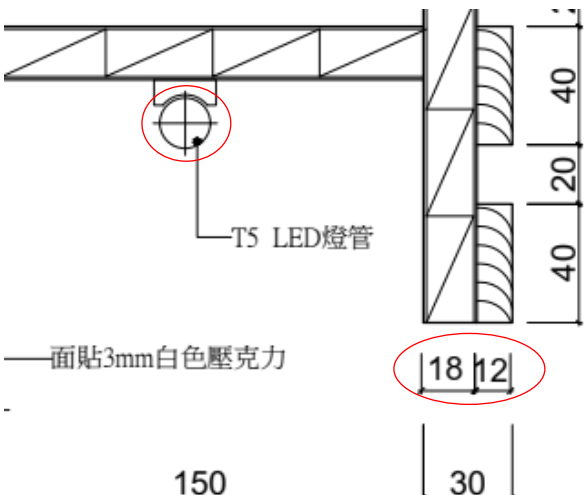
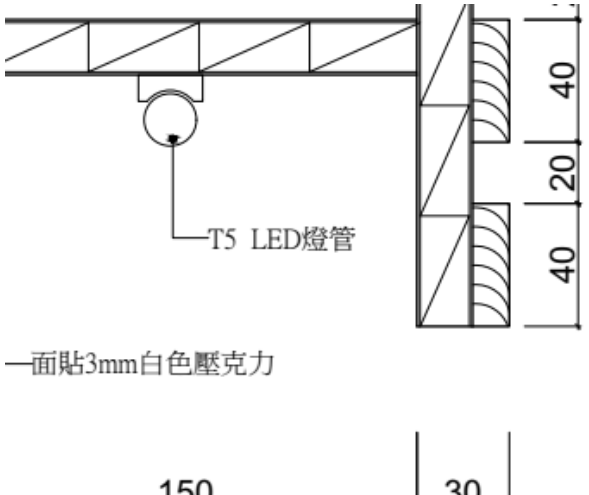
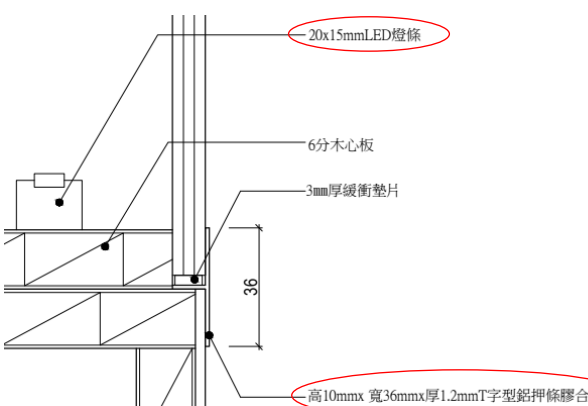
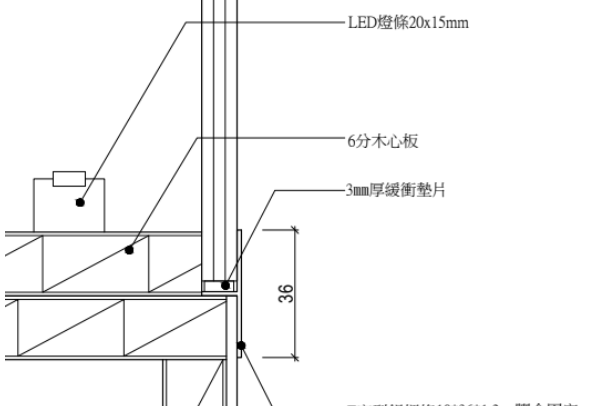
頁	修正後內容 (112/06/08)	原內容 (111/09/08)
46	<p>參、技術士技能檢定建築物室內設計乙級術科試題 (大樣圖試題編號：223-大樣圖A位置)</p> <p>繪製條件如下：2.比例尺為1/1，...。 6.3mm白色壓克力。</p> 	<p>參、技術士技能檢定建築物室內設計乙級術科試題 (大樣圖試題編號：223-大樣圖A位置)</p> <p>繪製條件如下：2.比例尺為1/2，...。 6.3mm厚白色壓克力。</p> 
47	<p>參、技術士技能檢定建築物室內設計乙級術科試題 (大樣圖試題編號：224-大樣圖A位置)</p> <p>繪製條件如下：5.燈箱材料為10mm噴砂玻璃，...。 7.以高10mm、寬36mm、厚1.2mm T字型鋁押條膠合固定，...。</p>	<p>參、技術士技能檢定建築物室內設計乙級術科試題 (大樣圖試題編號：224-大樣圖A位置)</p> <p>繪製條件如下：5.燈箱材料為10mm厚膠合白膜玻璃，...。 7.以T字型鋁押條膠合固定（規格高10mm、寬36mm、厚1.2mm），...。</p>
48	<p>參、技術士技能檢定建築物室內設計乙級術科試題 (大樣圖試題編號：213)</p> 	<p>參、技術士技能檢定建築物室內設計乙級術科試題 (大樣圖試題編號：213)</p> 

頁	修正後內容 (112/06/08)	原內容 (111/09/08)
50	<p>參、技術士技能檢定建築物室內設計乙級術科試題 (大樣圖試題編號：215)</p>  <p>3分縫滴水線</p>	<p>參、技術士技能檢定建築物室內設計乙級術科試題 (大樣圖試題編號：215)</p>  <p>滴水線(3分縫)</p>
51	<p>參、技術士技能檢定建築物室內設計乙級術科試題 (大樣圖試題編號：216)</p>  <p>9mm縫滴水線</p> <p>L型鋁製把手</p>	<p>參、技術士技能檢定建築物室內設計乙級術科試題 (大樣圖試題編號：216)</p>  <p>L型鋁製把手</p>
52	<p>參、技術士技能檢定建築物室內設計乙級術科試題 (大樣圖試題編號：217)</p>  <p>12mm矽酸鈣板</p> <p>1吋x1.2吋角材</p> <p>10mm企口內填透明矽利康</p> <p>10mm膠合白膜玻璃四週磨光邊處理</p> <p>LED燈條</p> <p>6分木心板</p> <p>20mmx20mm L型金屬壓條黏著</p> <p>UV膠黏著處理</p>	<p>參、技術士技能檢定建築物室內設計乙級術科試題 (大樣圖試題編號：217)</p>  <p>12mm矽酸鈣板</p> <p>1吋x1.2吋角材</p> <p>10mm企口內填透明矽利康</p> <p>10mm膠合白膜玻璃四週磨光邊處理</p> <p>LED燈條</p> <p>6分木心板</p> <p>UV膠黏著處理</p>

頁	修正後內容 (112/06/08)	原內容 (111/09/08)
53	<p>參、技術士技能檢定建築物室內設計乙級術科試題 (大樣圖試題編號：218)</p>  <p>TS層板燈</p> <p>6mm矽酸鈣板面刷水泥漆</p> <p>170</p>	<p>參、技術士技能檢定建築物室內設計乙級術科試題 (大樣圖試題編號：218)</p>  <p>TS層板燈</p> <p>6mm矽酸鈣板面刷水泥漆</p> <p>170</p>
54	<p>參、技術士技能檢定建築物室內設計乙級術科試題 (大樣圖試題編號：219)</p>  <p>8mm厚強化清玻璃, 四周磨光邊處理</p> <p>止滑墊片</p> <p>6分木心板, 面貼橡木皮染白處理</p> <p>燈具電源線</p> <p>38mmx38mm方型鐵管, 管壁厚2mm, 表面黑色烤漆處理, 管內藏電源管線</p> <p>TS層板燈</p>	<p>參、技術士技能檢定建築物室內設計乙級術科試題 (大樣圖試題編號：219)</p>  <p>38x38mm方型鐵管</p> <p>8mm厚強化清玻璃, 四周磨光邊處理。</p> <p>止滑墊片</p> <p>六分木心板, 面貼橡木木皮染白處理</p> <p>燈具電源線</p> <p>38x38mm方型鐵管, 管壁厚2mm, 表面黑色烤漆處理, 管內藏電源管線</p> <p>TS層板燈</p>
55	<p>參、技術士技能檢定建築物室內設計乙級術科試題 (大樣圖試題編號：220)</p>  <p>面貼橡木皮染黑處理</p> <p>2分實木封邊</p> <p>30mmx30mmx90mm金屬櫃腳</p>	<p>參、技術士技能檢定建築物室內設計乙級術科試題 (大樣圖試題編號：220)</p>  <p>面貼橡木皮染黑處理。</p> <p>實木封邊</p> <p>H=90mm橡膠輪子</p>
56	<p>參、技術士技能檢定建築物室內設計乙級術科試題 (大樣圖試題編號：221)</p>  <p>60mmx18mm擋板</p>	<p>參、技術士技能檢定建築物室內設計乙級術科試題 (大樣圖試題編號：221)</p>  <p>60mm*18mm擋板</p>



頁	修正後內容 (112/06/08)	原內容 (111/09/08)
57	<p>參、技術士技能檢定建築物室內設計乙級術科試題 (大樣圖試題編號：222)</p> <p>12500-110222大樣圖 單位：mm 比例：1/1</p> <p>面貼3mm黑色壓克力 18mm厚2mm厚黑色鍍膜鋁桿絲, 6mm半圓頭螺絲固定 5mm乳白色壓克力 6分白色波麗板 LED燈條 面貼燈箱輸出圖片</p> <p>6分白色波麗板</p> <p>面貼燈箱輸出圖片</p>	<p>參、技術士技能檢定建築物室內設計乙級術科試題 (大樣圖試題編號：222)</p> <p>12500-110222大樣圖 單位：mm 比例：1/1</p> <p>面貼3mm黑色壓克力 18mm厚2mm厚黑色鍍膜鋁桿絲, 6mm半圓頭螺絲固定 5mm乳白色壓克力 6分白色波麗板 LED燈條 面貼燈箱輸出圖片</p> <p>6分白色波麗板</p> <p>面貼燈箱輸出圖片</p>

頁	修正後內容 (112/06/08)	原內容 (111/09/08)
58	<p>參、技術士技能檢定建築物室內設計乙級術科試題 (大樣圖試題編號：223)</p>  <p>T5 LED燈管</p> <p>面貼3mm白色壓克力</p> <p>150 30</p> <p>40 20 40</p> <p>18 12</p>	<p>參、技術士技能檢定建築物室內設計乙級術科試題 (大樣圖試題編號：223)</p>  <p>T5 LED燈管</p> <p>面貼3mm白色壓克力</p> <p>150 30</p> <p>40 20 40</p>
59	<p>參、技術士技能檢定建築物室內設計乙級術科試題 (大樣圖試題編號：224)</p>  <p>20x15mm LED燈條</p> <p>6分木心板</p> <p>3mm厚緩衝墊片</p> <p>36</p> <p>高10mmx 寬36mmx厚1.2mm T字型鋁押條膠合固定</p>	<p>參、技術士技能檢定建築物室內設計乙級術科試題 (大樣圖試題編號：224)</p>  <p>LED燈條20x15mm</p> <p>6分木心板</p> <p>3mm厚緩衝墊片</p> <p>36</p> <p>T字型鋁押條10*36*1.2mm膠合固定</p>
60	<p>三、技術士技能檢定建築物室內設計乙級術科測試評審標準及評分指引</p> <p>※繪製完成之平面圖與試題圖面(包含柱、牆、陽台、管道間及門窗)任一項<b>放樣</b>尺寸誤差超過5mm者，本題零分。<b>外梁線未依試題提供平面配置圖繪製者，酌減「表現技法」1級分；惟內梁虛線得不繪製。</b></p>	<p>三、技術士技能檢定建築物室內設計乙級術科測試評審標準及評分指引</p> <p>※繪製完成之平面圖與試題圖面(包含柱、<b>梁</b>、牆、陽台、管道間及門窗)任一項尺寸誤差超過5mm者，本題零分。</p>
61	<p>評閱向度</p> <p><input type="checkbox"/>繪製完成之平面圖與試題圖面(包含柱、牆、陽台、管道間及門窗)任一項<b>放樣</b>尺寸誤差超過5mm者，本題零分。</p>	<p>評閱向度</p> <p><input type="checkbox"/>繪製完成之平面圖與試題圖面(包含柱、<b>梁</b>、牆、陽台、管道間及門窗)任一項尺寸誤差超過5mm者，本題零分。</p>
62	<p>三、技術士技能檢定建築物室內設計乙級術科測試評審標準及評分指引</p> <p>※繪製完成之天花板平面圖與試題圖面(包含柱、<b>梁</b>、牆、陽台、管道間及門窗)有任一項<b>放樣</b>尺寸誤差超</p>	<p>三、技術士技能檢定建築物室內設計乙級術科測試評審標準及評分指引</p> <p>※繪製完成之天花板平面圖與試題圖面(包含柱、<b>梁</b>、牆、陽台、管道間及門窗)有任一項尺寸誤差超</p>

頁	修正後內容 (112/06/08)	原內容 (111/09/08)
	過 5mm 者，本題零分。	過5mm者，本題零分。
63	<p><b>評閱向度</b></p> <p><input type="checkbox"/>繪製完成之天花板平面圖與試題圖面（包含柱、梁、牆、陽台、管道間及門窗）有任一項<b>放樣</b>尺寸誤差超過5mm者，本題零分。</p>	<p><b>評閱向度</b></p> <p><input type="checkbox"/>繪製完成之天花板平面圖與試題圖面（包含柱、梁、牆、陽台、管道間及門窗）有任一項尺寸誤差超過5mm者，本題零分。</p>
65	<p>三、技術士技能檢定建築物室內設計乙級術科測試評審標準及評分指引</p> <p>※完成圖面尺寸（一消點透視寬30 cm、二消點透視高20 cm×寬30 cm）不足，且誤差超過10%者，本題零分。</p> <p><input type="checkbox"/>完成圖面尺寸（一消點透視寬30 cm、二消點透視高20 cm×寬30 cm）不足，且誤差超過10%。</p>	<p>三、技術士技能檢定建築物室內設計乙級術科測試評審標準及評分指引</p> <p>（無）</p>
67	<p>四、技術士技能檢定建築物室內設計乙級術科測試評審表(上午題A卷(一))</p> <p>特殊審核意見：（請依評審標準及評分指引規定審慎評閱）</p> <p><input type="checkbox"/>平面配置圖；<input type="checkbox"/>選定單元空間天花板平面圖：繪製完成之圖面與試題圖面任一項放樣尺寸誤差超過5mm</p> <p>※外梁線未依試題規定之平面配置圖繪製者，酌減「表現技法」1 級分；惟內梁虛線得不繪製。</p>	<p>四、技術士技能檢定建築物室內設計乙級術科測試評審表(上午題A卷(一))</p> <p>特殊審核意見：</p> <p><input type="checkbox"/>平面配置圖；<input type="checkbox"/>選定單元空間天花板平面圖：繪製完成之圖面與試題圖面（包含柱、梁、牆、陽台、管道間及門窗）任一項尺寸誤差超過5mm</p>
68	<p>四、技術士技能檢定建築物室內設計乙級術科測試評審表(上午題A卷(二))</p> <p>特殊審核意見：（請依評審標準及評分指引規定審慎評閱）</p> <p><input type="checkbox"/>平面配置圖；<input type="checkbox"/>選定單元空間天花板平面圖：繪製完成之圖面與試題圖面任一項放樣尺寸誤差超過5mm</p> <p>※外梁線未依試題規定之平面配置圖繪製者，酌減「表現技法」1 級分；惟內梁虛線得不繪製。</p>	<p>四、技術士技能檢定建築物室內設計乙級術科測試評審表(上午題A卷(二))</p> <p>特殊審核意見：</p> <p><input type="checkbox"/>平面配置圖；<input type="checkbox"/>選定單元空間天花板平面圖：繪製完成之圖面與試題圖面（包含柱、梁、牆、陽台、管道間及門窗）任一項尺寸誤差超過5mm</p>
69	<p>四、技術士技能檢定建築物室內設計乙級術科測試評審表(下午題B卷)</p> <p>特殊審核意見：（請依評審標準及評分指引規定審慎評閱）</p> <p><input type="checkbox"/>空間意象透視表現圖：完成圖面尺寸不足，且誤差超過10%者</p>	<p>四、技術士技能檢定建築物室內設計乙級術科測試評審表(下午題B卷)</p> <p>特殊審核意見：</p>