

CEVNI – ENDORSEMENT TEST # 1 - FOR ICC

(CEVNI Международный сертификат компетентности IYT (Code Europeen Des Voies De Navigation Interieure) (Европейский кодекс внутренних водных путей))

ФИО кандидата _____ Паспорт или ID номер _____

Название школы _____ Номер школы _____

Ответьте на все вопросы

Время: 45 мин

Проходной балл - 12 правильных ответов


Экзамен содержит 16 вопросов. Только один вариант ответа правильный. Если вы отметите два или более вариантов ответа на один вопрос, то это будет считаться ошибкой. Внимательно прочитайте вопрос, прежде чем ответить. Использование блокнотов или справочников не допускается.

Отметки кандидата

Обведите кружком тот ответ, который вы считаете правильным.

1. Что означает этот знак?

1. Конец ограничения.
2. Водолазные работы в этом районе.
3. Вход запрещен.
4. Запретная зона.



2. Что означает этот звуковой сигнал?

1. Мои двигатели работают на задний ход.
2. Неминуемая опасность столкновения.
3. Я собираюсь повернуть налево.
4. Я собираюсь повернуть направо.



3. Что означает такой флаг на судне?

1. На судне требуется медицинская помощь.
2. Судно имеет длину менее 24 м и перевозит пассажиров.
3. Судно перевозит/загружает опасный груз.
4. Судно имеет приоритет.




4. Что означает такой знак на судне?

1. Судно буксируется.
2. Движение парусных судов запрещено.
3. Судно занимается рыбалкой.
4. Разрешено движение только парусным судам.



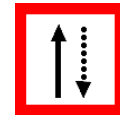
5. Что означает такой знак на судне?

1. Буксируемое судно.
2. Судно перевозит опасный груз.
3. Судно занимается ловлей рыбы.
4. Судно лишенное возможности управляться.



6. Что означает этот знак?

1. Держитесь канала вашим левым бортом.
2. Встречное движение и обгон запрещены.
3. Остерегайтесь встречного скоростного движения.
4. Держитесь канала вашим правым бортом.



7. С какого борта другого судна вы будете обгонять его на реке?


1. С того борта, где у моего судна расположена синяя фигура.
2. С того борта, где у другого судна расположена синяя фигура.
3. По левому борту другого судна.
4. По правому борту другого судна.

8. Суда, идущие вверх по течению, должны уступить место судам, идущим вниз по течению.

1. Верно.
2. Неверно.

9. Какое судно несет такие огни?

1. Буксируемая баржа.
2. Рыболовное.
3. Ограниченное в возможности маневрировать, обходить по левому борту.
4. Ограниченное в возможности маневрировать, обходить по правому борту.



10. Какой минимальный возраст рулевого допускается на внутренних водных путях?

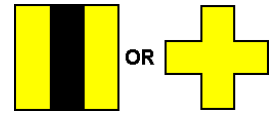
1. 21.
2. 18.
3. 16.
4. 14.

11. Что означает этот знак?



1. Остановите судно и свяжитесь с диспетчером.
2. Подать звуковой сигнал – сигнал указан на знаке.
3. Связь со встречным движением по радио.
4. Впереди зона с высоким траффиком движения.

12. Что означает этот знак?



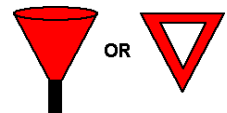
1. Паром.
2. Впереди пересечение канала.
3. Якорная зона.
4. Суда должны переправляться на другой берег здесь.

13. Что означает такой знак на судне?



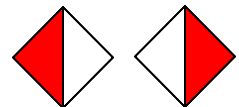
1. Буксируемое судно.
2. Паром.
3. Судно, стесненное своей осадкой.
4. Судно лишенное возможности управляться.

14. Что означает этот знак?



1. Остановитесь на пересечении двух каналов.
2. Опасность на правой стороне канала.
3. Предупреждение – Впереди паром.
4. Опасность на левой стороне канала.

15. Эти знаки означают:



1. Суда должны продолжать движение с осторожностью.
2. Проход судов между двух маркеров.
3. Проход судов между двух маркеров запрещен.
4. Проход запрещен.

16. Эти знаки означают:

- 1 Движение судов по правой стороне канала.
- 2 Конец ограничения движения.
- 3 Впереди низкий мост.
- 4 Проход запрещен, но будьте готовы начать движение.

